

版权所有
复制必究

2019 天津公务员考试模拟试卷

《行政职业能力测验》

重要提示：

为维护您的个人权益，确保公务员考试的公平公正，请您协助我们监督考试实施工作。

本场考试规定：监考老师要向本考场全体考生展示题本密封情况，并邀请2名考生代表验封签字后，方能开启试卷袋。

仅限华图教育内部教学使用！

二〇一九年

条
形
码

请将此条形码揭下，
贴在答题卡指定位置。

注意事项

一、此项测验分为五个部分，120 道题，总时限 120 分钟。各部分不分别计时，但都给出了参考时限，供答题时合理分配时间。

二、请按照要求在答题卡上填写好自己的姓名，涂写好准考证号，严禁折叠答题卡。

三、必须在答题卡上答题。在题本上答题，一律无效。

四、监考人员宣布考试开始时，方可答题，宣布考试结束时，应立即停止答题。

题本、答题卡、草稿纸一律留在桌上，待监考人员确认数量无误，允许离开后，方可离开考场。如果你违反了以上任何一项要求，都将影响你的成绩。

五、在这项测验中，可能有些试题较难，因此你不要在一道题上思考时间太久，遇到不会答的题目可先跳过去，如果有时间再去思考，否则，你可能没有时间完成后面的题目。

六、试题答错不倒扣分。

停！请不要往下翻！听候监考老师的指示。
否则，会影响你的成绩。

第一部分 常识判断

(共 20 题, 参考时限 15 分钟)

根据题目要求, 在四个选项中选出一个最恰当的答案。

请开始答题:

1. 2017 年第三届联合国环境大会上, 联合国环境规划署宣布, 中国塞罕坝林场建设者荣获:

- A. 生态先锋奖
- B. 地球卫士奖
- C. 地球医生奖
- D. 蓝色星球奖

2. 下列经济学原理与俗语对应**错误**的是:

- A. 口红效应——由俭入奢易, 由奢入俭难
- B. 偏好理论——萝卜白菜, 各有所爱
- C. 经济周期——三十年河东, 三十年河西
- D. 风险折现——十鸟在林, 不如一鸟在手

3. 下列历史典故按时间顺序排列正确的是:

①昭君出塞②负荆请罪③桐叶封弟④请君入瓮⑤三顾茅庐

- A. ③②①⑤④
- B. ②①③⑤④
- C. ②①④③⑤
- D. ③①⑤②④

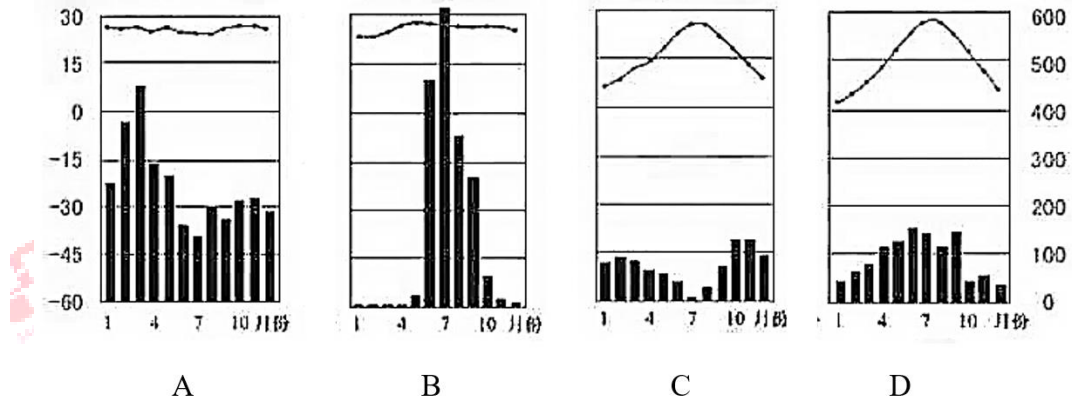
4. 下列**不属于**古代加强中央集权措施的是:

- A. 罢黜百家, 独尊儒术
- B. 租庸调制
- C. 杯酒释兵权
- D. 设立军机处

5. 下列关于天文学的说法**错误**的是:

- A. 星系是无数的恒星系、尘埃等组成的运行系统
- B. “人生不相见, 动如参与商”中参位于猎户座, 商位于天蝎座
- C. 星云的主要成分是氢和氦, 通常是恒星形成的区域
- D. 黑洞是一种内部引力使视界内的逃逸速度小于光速的天体

6. 下列四幅图中, 反映了热带季风气候特点的是:



7. 关于我国四大高原的说法**错误**的是：

- A. 青藏高原是我国太阳能最丰富的地区
- B. 内蒙古高原的额尔齐斯河是中国唯一流入北冰洋的河流
- C. “千沟万壑，支离破碎”是黄土高原的真实写照
- D. 云贵高原是世界上喀斯特地貌发育最典型的地区之一

8. 小张与单位发生劳动争议，遂向本单位劳动争议调解委员会申请调解，调解后仍未达成一致，于是小张向劳动争议委员会申请仲裁。仲裁后，小张对仲裁结果仍然不服，小张可以自收到仲裁裁决书之日起（ ）日向人民法院提起诉讼。

- A. 15
- B. 30
- C. 45
- D. 60

9. 下列情形中属于夫妻共同财产的是：

- A. 夫妻获得的工资、奖金
- B. 一方的婚前财产
- C. 遗嘱或赠与合同中确定只归夫或妻一方的财产
- D. 一方因身体受到伤害获得的医疗费、残疾人生活补助费等费用

10. 下列说法符合我国法律规定的是：

- A. 张大山春节期间带侄子去北京游玩遭遇地震，张大山需为侄子在地震中所受损害承担责任
- B. 刘大民与王大海发生争执，刘大民将王大海打晕后用斧头将王大海砍伤，刘大民需为王大海承担责任
- C. 李大力与张小米积怨已深，某天李大力见张小米远远走来欲讹诈而故意倒地，张小米需要为李大力倒地而承担责任

D. 赵大飞与韩小亮厮打一起，陈大辉见状甚觉有趣，趁乱将素不相识的赵大飞痛打一顿，陈大辉无需为殴打赵大飞所造成的损害承担责任

11. 下列诗词中描写的人物对应**错误**的是：

- A. 蓦然敛袂，却亭亭，怕是曲中犹带楚歌声——虞姬
- B. 守道还如周柱史，麀兵不羨霍嫫姚——卫青
- C. 玉颜不及寒鸦色，犹带昭阳日影来——赵飞燕
- D. 铁骑如山尚可避，飞将军来汝奈何——李广

12. 关于戏剧下列说法**错误**的是：

- A. 古希腊悲剧起源于祭祀酒神狄奥尼索斯的活动
- B. 《俄狄浦斯王》是古希腊剧作家索福克勒斯“命运悲剧”的代表作
- C. “喜剧之父”欧里庇得斯奠定了西方文学以滑稽形式表现严肃主题的传统
- D. 文艺复兴时期的剧作家莎士比亚是英国人

13. 下列名词与其所属领域对应正确的是：

- A. 戏剧：三一律
- B. 绘画：多重曝光
- C. 舞蹈：对位法
- D. 摄影：晕染

14. “自天子王侯，中国言六艺者折中於夫子，可谓至圣矣！”是司马迁对哪位思想家的评价？

- A. 老子
- B. 孔子
- C. 孟子
- D. 墨子

15. 下列天气现象形成原理与其他三项**不同**的是：

- A. 雾凇
- B. 霜
- C. 雾
- D. 雪

16. 以下有关电磁波的说法中**错误**的是：

- A. 电磁波包括无线电波、微波、红外线、X射线等
- B. 电磁波是横波
- C. 物体温度越高其发射的电磁波波长越长
- D. 电磁波具有波粒二象性

17. 下列物质的俗名和化学名对应**错误**的是：

- A. 火碱——氢氧化钠
- B. 纯碱——碳酸氢钠
- C. 熟石灰——氢氧化钙
- D. 胆矾——五水硫酸铜

18. 中国人酷爱腌制食品，关于腌菜，下列说法**错误**的是：

- A. 腌菜是利用高浓度盐液、乳酸菌发酵贮藏蔬菜
- B. 腌菜不仅口味鲜美，并且含有大量的维生素 C
- C. 腌菜中盐分过高，长期食用会影响粘膜系统
- D. 腌制的酸菜中含有较多的草酸和钙

19. 春节是中国的传统节日，这一天人们喜欢燃放烟花炮竹。下列做法正确的是：

- A. 小张将鞭炮放在了小区的排污井盖上燃放
- B. 小李点燃鞭炮后没有声响，及时跑过去查看原因
- C. 小王点燃鞭炮后距离 15 米远观看
- D. 小刘买回鞭炮怕返潮放在自家阳台上暴晒

20. 关于化学之最，下列说法正确的是：

- A. 地壳中含量最多的元素是铝
- B. 导电性最强的金属是铜
- C. 天然存在最硬的物质是金刚石
- D. 人体内含量最多的元素是碳

※※※ 第一部分结束，请继续做第二部分！ ※※※

第二部分 言语理解与表达

(共 35 题, 参考时限 35 分钟)

本部分包括表达与理解两方面的内容。请根据题目要求, 在四个选项中选出一个最恰当的答案。

请开始答题:

21. 20 世纪前半段, 中国美术“洋画运动”中的传统化形成两条途径, 尽管这两条道路的先行者们彼时掀起激烈的争论, 但毕竟_____, 他们都将写意性当作中国艺术的精神内核, 在“调和中西”的理想下探索实现。

填入划横线部分最恰当的一项是:

- A. 大同小异
- B. 殊途同归
- C. 不期而遇
- D. 不谋而合

22. 遏制异地排污, 需要提高违法成本。但末端治理的力度再大, 仍然是被动滞后的, 监管部门还须在预防性措施上多下功夫、力求突破。比如, 加大对污染源头的控制, 防止流出地监管失察甚至纵容的现象等。只有调动各个方面的环境监管力量, 从源头监控和末端治理“_____”, 多方围堵, 异地排污才会得到有效治理。

填入划横线部分最恰当的一项是:

- A. 前后夹击
- B. 腹背受敌
- C. 十面埋伏
- D. 正本清源

23. “小目标”这个词语的走红, 意思正好与本义相反, 指的是普通人难以达到的“大目标”, 甚至是一辈子_____的目标, 其中满含网民的娱乐、自嘲精神。

填入划横线部分最恰当的一项是:

- A. 难以触及
- B. 望尘莫及
- C. 无法企及
- D. 触手可及

24. 以乡规民约_____社会风气、倡导村民_____陋习, 实属必要。实践也表明, 正风俗决非“禁”“罚”一条路可走, 有“规”还得有“奖”, 有“理”更得有“术”。

依次填入划横线部分最恰当的一项是:

- A. 约束 摒弃
- B. 束缚 抛弃

C. 限制 丢弃

D. 遵守 祛除

25. 古人巧用“替身”断案，其共同特点是_____，将复杂案件简单化。可见，司法专业化、司法能力的重要。即使科技再进步，司法工作中也仍然有难以破解的难题。此时，司法能力_____。

依次填入划横线部分最恰当的一项是：

A. 驾轻就熟 不可小觑

B. 化繁为简 无关紧要

C. 举重若轻 至关重要

D. 小题大做 举足轻重

26. 贵州地区新石器时代遗存发现的并不多，研究的并不_____，存在的基础性问题也比较多。这次牛坡洞遗址发现的完整人骨，让我们向了解贵州古人类的生活靠近了一大步。通过对地层中植物、动物遗存以及人骨的初步研究，可以尝试_____出这么一幅万年前贵州地区古人类的生活图景。

依次填入划横线部分最恰当的一项是：

A. 仔细 构建

B. 深入 勾勒

C. 深远 创造

D. 深刻 描绘

27. 没想到，吉安老吏李代桃僵，保全了新娘子的颜面，让案子真相大白。新娘子得以保全颜面，归根到底是吉安老吏的经验丰富，但县官也并非无足轻重，是他_____，虚心向老吏请教，并_____，完全采纳了这一合理建议，成就了这一人性化的千古名案，令人钦佩。

依次填入划横线部分最恰当的一项是：

A. 虚怀若谷 从善如流

B. 不耻下问 求全责备

C. 不矜不伐 从谏如流

D. 平易近人 博采众长

28. 随着对健康生活方式的追求，人们对传统文化的认识、思考也趋于_____。中医药文化蕴含的思维模式、认知方式、价值取向越来越得到社会大众的理解、_____和接受，民众对中医药知识和文化产品的需求日渐增强。

依次填入划横线部分最恰当的一项是：

A. 感性 认可

B. 乐观 赞赏

C. 客观 传播

D. 理性 认同

29. 生活艰辛，内心苦闷。于是，江永的妇女们创造出了一种_____的方式。但这只是女人内心的秘密，抑或是某一种抗拒。千百年来，她们_____，秘不外传。

依次填入划横线部分最恰当的一项是：

- A. 压抑 口口相传 B. 排解 薪火相传
C. 排遣 口传心授 D. 消除 道路相告

30. 开放的故宫，注定是日渐鲜活、_____的故宫。与此前的高高在上、遮遮掩掩相比，故宫越是开放、去神秘化，越是“有血有肉”，就越能成为公众可触摸的文化源地。传统文化本来就应该有所附着、有所依凭，_____化的文物、器物、建筑、园林本身就蕴含着文化承继的“密码”。

依次填入划横线部分最恰当的一项是：

- A. 近在咫尺 具象 B. 触手可及 抽象
C. 一步之遥 形象 D. 居高临下 具体

31. 现在我国推广应用的是北斗二代卫星系统，在亚太地区内导航系统标准服务的_____精度在 10 米左右。在中国及其周边地区，它的短报文通信功能一次可以发送 120 个汉字，并可与互联网以及移动互联网进行_____。

依次填入划横线部分最恰当的一项是：

- A. 聚焦 联络 B. 跟踪 互助
C. 定位 互通 D. 识别 共享

32. 要解决这些问题，必须招募一大批懂中医、爱中医的教师，组成专职的专家队伍和师资队伍，吸纳更多的教辅编写团队，用青少年_____的漫画、小故事、歌谣等形式，使抽象枯燥的中医药知识变得通俗易懂、_____。

依次填入划横线部分最恰当的一项是：

- A. 喜闻乐见 妙趣横生 B. 津津乐道 别有风趣
C. 脍炙人口 妙不可言 D. 交口称誉 相映成趣

33. 在文物古建修复的具体工作上，罗哲文表现出了开放的思维，他既_____原则，又不_____成规。对于在社会经济发展中如何进行文物保护工作时，罗先生提出要将保护与发展协调起来、相辅相成、_____、协调发展的观念。

依次填入划横线部分最恰当的一项是：

- A. 坚持 拘泥 相得益彰 B. 坚守 局限 如影随形
C. 遵守 执着 交相辉映 D. 遵循 约束 珠联璧合

34. 元代辛文房编的《唐才子传》中说：“商隐工诗，为文瑰迈奇古，辞难事隐。”的确，晚唐诗人李商隐善于将比兴、寄托与象征_____在一起，使_____的优美物象与主观的幽深情思互相生发，形成景中有情、情中有景的动人意境，为读者留下_____的

品味空间。

依次填入划横线部分最恰当的一项是：

- A. 融汇 被动 绵绵不断 B. 结合 自然 意犹未尽
C. 汇合 本原 绵延不尽 D. 融合 客观 绵绵无尽

35. 为了_____优质生态产品和林产品供应数量、增加供给质量、降低经营成本、_____发展短板，必须通过加强林业科技创新，转方式、调结构、增效益，主动适应供给侧结构性改革需求。_____森林生态系统、湿地生态系统技术瓶颈，力争在林业科技重点领域取得重大进展。

依次填入划横线部分最恰当的一项是：

- A. 提高 填补 打破 B. 扩充 弥补 冲破
C. 丰富 补齐 突破 D. 增加 填平 解决

36. 在我国古代，检验检疫手段总体上比较落后。为了防止出售者利用消费者不知情进行欺骗，唐朝规定马牛驼骡驴等交易必须立市券，并实行“三日听悔”制度。即三天内，买方发现马牛驼骡驴有病，卖方要无条件接受退货，否则就得受到鞭杖40下。当然，买方同样不可欺诈。如果出现不诚信，把无病说成有病，也要受到同样的处罚。

这段文字主要说明了：

- A. 我国古代检验检疫的手段
B. 唐朝设立市券的重要性
C. 唐朝防止买卖欺骗的方式
D. “三日听悔”制度对买方的限制

37. 不可否认，考试成绩可以客观反映学生某个阶段的学习情况，但应该看到，每个人的能力千差万别，仅凭分数这把尺子是难以客观全面评价一个学生的。显而易见，唯分数论评价学生的做法，已然违背了科学教育观，与素质教育背道而驰。事实上，提倡了多年的素质教育之所以难以成长壮大，归根结底还是因为唯分数论没有真正寿终正寝。取消考试成绩公开排名，无疑是铲除唯分数论滋生土壤的有效突破口。尽管此举不是一劳永逸的根本办法，但它至少能对根治唯分数论的应试教育观起到“吹皱一池春水”的积极作用，其意义自不待言。

这段文字意在说明：

- A. 素质教育应因人而异，注重学生差异
B. “唯分数论”是素质教育推行的瓶颈

C. “唯分数论”与素质教育背道而驰

D. 推行素质教育的关键是破除成绩公开排名

38. 在中国传统文化中，“文人”和“民间”，一个是阳春白雪的“雅”文化，一个是下里巴人的“俗”文化。千百年来，它们在各自的群体中繁衍进化，相互交织却互无侵扰。但探寻到它们各自生成的根基就会发现，其精神的价值取向完全一致，就像人体中的动与静两组血脉，性质不同，但归属一致，共同构成了中国传统文化的整体生命。

这段文字主要讲的是“文人”与“民间”这两种传统文化：

A. 异曲同工

B. 差异悬殊

C. 缺一不可

D. 一脉相连

39. 厄尔尼诺事件是海洋和大气相互作用的结果。地球表面由 71% 的海洋和 29% 的陆地组成，海水表面温度的变化，可能会使大气环流发生变化。厄尔尼诺事件发生后，会通过热带海—气相互作用等，影响全球天气和气候。受 2014/2016 年超强厄尔尼诺事件的影响，2016 年我国有近 80% 的区域年降水量比常年偏多，有 67% 的区域降水量多于 2015 年，特别是我国北方和西部干旱、半干旱区域 2016 年降水偏多，有利于陆地植被生长。北方大部地区初春气温偏高、回暖早，初秋气温偏高、降温迟，无霜期增加，植被生长期延长，热量条件也十分有利植被生长。

关于厄尔尼诺事件，下列说法**不正确**的一项是：

A. 与海洋作用密切相关

B. 对全球气候影响恶劣

C. 有利于我国植被的生长

D. 可以增加区域年降水量

40. 意境的创造是中国艺术的独有特征，也是中国传统人文精神的一种呈现方式，它体现在中国古代文人的写意语言之中。中国传统人文精神决定了文人艺术将写意作为中国艺术的最高表达，这与西方艺术的写实性形成对照。中国人文精神形成于儒家的礼乐教化，又将道家的“天人合一”当作实现修为、存养心性的目的。逐渐地，“意”“韵”“神”“平淡”“简约”等就与艺术联系起来，并被确定为文人艺术精神与形式的原则。

对这段文字概括最准确的一项是：

A. 文艺艺术精神体现在文人的写意语言中

B. 意境创造是中国传统人文精神的呈现

C. 中国人文精神糅合了儒道文化

D. 艺术意境的创造是通过写意语言体现的

41. 多年来，关于长城及其历史的研究，中外学者已有许多重要的成果。论者或从欧

亚大陆上农耕民族与游牧民族之间资源争夺的宏观视角，或从中原王朝为“御边”而大兴土木及其后果的角度，或从讨论长城及其配套设施的营建出发，多有新见。历代也有不少诗文对死于长城修建之役的普通人表示同情，对统治者因修长城而滥用民力进行鞭挞。但是，对于长城两边的普通人怎么想，怎么做，他们对长城怎么看，关注甚少。这可能是因为材料的局限，但我认为更主要的原因在于人们更多地从国家和统治者的立场去看长城，而真正在这里世代生活的农民、士兵、牧人们却被遗忘或漠视了。

这段文字作者想表达的是：

- A. 长城历史研究忽略了对普通人的关注
- B. 长城历史研究应凸显对普通人的怜悯
- C. 长城历史研究的视角应多样化
- D. 长城历史研究不应聚焦在上层阶级

42. 古老的经典不是古董，它有强大的生命力，对于每一个时代来说，它都是鲜活的。但是必须承认，由于内容的深奥和文字的障碍，今天的大多数读者难以读懂这些经典，为此，我们应该找到一条走近经典的路径，打通古今，让经典的活水浸润今人的心田。《中华传统文化百部经典》正是一条引读者走近经典的路径，也是搭建在传统典籍与大众之间的桥梁。

承接上述文字最恰当的一项是：

- A. 《中华传统文化百部经典》的特点
- B. 《中华传统文化百部经典》的推广
- C. 让读者读懂经典、走进经典的路径
- D. 《中华传统文化百部经典》的作用

43. 2017年，艺术门类各类型作品形成多样发展的态势。电影产业一个可喜的变化是转型升级，向质量型的良性发展阶段迈进。国产警匪片将类型叙事与本土现实相结合的创作实践引人注目，《追凶者也》《暴雪将至》等质量上乘的影片集体涌现。电影产业转型升级的另一个鲜明例证便是艺术电影创作与发行机制的不断健全。随着2016年全国艺术电影放映联盟的成立，中国电影院线开始尝试具有针对性的细化分众策略，取得了良好成效。

这段文字意在说明：

- A. 艺术类作品发展态势多样
- B. 电影产业的质量转型比较成功
- C. 细化分众策略成效显著

D. 电影产业转型升级的特点

44. 克隆猴这一重大成功得益于中国在科研方面的优势，那就是跟踪、模仿和利用后发优势以及技术优势实现超越。克隆技术发展了 20 年，灵长类动物的体细胞克隆一直进展不顺利。中国科学家通过持续努力和技术攻关突破了细胞遗传物质植入、分离、被植入的卵细胞的遗传机制启动等重大难题，不能不说是一项非常重要的技术突破。但还不能像率先提出克隆理论或者将皮肤细胞分离为多能干细胞那样被称为划时代的科学成果，因为其中没有体现出足够的原创思想。

下列说法符合文意的一项是：

- A. 后发优势是实现克隆猴的主要原因
- B. 克隆猴体现了中国科研技术的优势
- C. 原创思想在科研领域必不可少
- D. 克隆猴在科研史上具有划时代的意义

45. 当光线照射一个物体时，一些光会从物体表面散射回来，但如果物体移动速度够快，且光线够强，就会发生奇怪的事情。例如，电子会剧烈摇晃，速度放慢，因为它们辐射出了太多能量，这一过程被称为“辐射反应”。科学家认为，这种反应出现在黑洞和类星体等物体周围，因此，能在实验室展示光让电子速度减慢的辐射反应，将揭示超越经典物理的动力学，并暗示量子效应的存在，有助于科学家更好地理解宇宙内某些最极端环境中发生的现象以及量子电动力学。

关于这段文字，下列说法正确的一项是：

- A. 光线足够强就会产生“辐射反应”
- B. 电子速度放慢是发生“辐射反应”的信号
- C. 只要满足条件，任何物体都会产生“辐射反应”
- D. “辐射反应”可以解释宇宙极端现象的发生

46. 游记写作在我国有着悠久的传统，上起六朝《兰亭集序》《洛阳伽蓝记》，下至明清《徐霞客游记》《登泰山记》，都是国人熟悉的经典作品。在古人的精神世界里，游记大抵不离山水之念及隐逸之思。进入 20 世纪尤其是现代白话文流行后，游记开始突破古代游侠、游仙式单一写作格局，呈现出比过去复杂多面的书写特征。今天，游记已不仅仅是一种文学体裁，也成为人们日常生活普遍的记录与分享形式。

这段文字的核心观点是：

- A. 过去的游记写作格局不够高远

B. 今天的游记写作方式是时代发展的产物

C. 游记写作的内容发生了很大变化

D. 过去的游记写作内容过于单一，远离生活

47. 19 世纪伴随民族国家兴起而产生的专业史学为民族国家疆界内多样化的民众提供了一种共同经历和集体记忆，塑造了统一的民族认同。因此，民族国家成为专业史学天然的研究单位。正因如此，民族国家史学自兴起后在历史研究的诸多范式中便占有绝对的主导地位，并长达一个世纪之久。冷战结束后，随着经济全球化的发展，人类生活发生巨大变化的同时，以民族国家为中心的史学范式也受到越来越多的挑战，全球史、跨国史等一些新的史学研究范式方兴未艾。

承接上述文字最恰当的一项是：

A. 新史学研究范式的内容和特点

B. 新史学研究范式的发展前景

C. 民族国家史学开始走向没落

D. 经济全球化背景下的史学挑战

48. ①没有诗词基础的人根本玩不转它，所以这种酒令也成了文人墨客们的最爱

②最基本的飞花令诗句中必须含有“花”字，而且对“花”字出现的位置同样有着严格的要求

③不过，它比“五魁首，六六六”之类的民间酒令高难多了

④《中国诗词大会》落幕，“飞花令”也在网上成了热搜词

⑤“飞花令”本是中国古代一种喝酒时用来罚酒助兴的酒令

⑥追根溯源，“飞花”一词出自唐代诗人韩翃《寒食》诗中“春城无处不飞花”一句

将以上几个句子进行重新排列，语序正确的一项是：

A. ⑥②⑤①③④

B. ④⑤③①⑥②

C. ③①④⑥②⑤

D. ⑤③④①②⑥

49. ①处于西亚的乌弋山离，悬泉汉简记载了敦煌传置为其使者提供传车的情况

②敦煌设有传置机构，为西域来汉的国王、贵人、使者提供饮食传车住宿，悬泉出土的汉简对此有忠实记录

③由于敦煌是西域进入汉朝的第一个郡治，也是汉王朝接受西方文化的要冲之地

④从简牍文书来看，这种中西之间的使团交往颇为频繁，规模不一，是汉代中西文明交流的主要形式

⑤从西方文明向东传播的状态来看，敦煌所处的地位非常重要

⑥从敦煌悬泉汉简的记载来看，西域重要国家如车师、孤胡，都有与汉朝往来的记载
将以上几个句子进行重新排列，语序正确的一项是：

A. ③②⑥⑤①④

B. ⑤③⑥②①④

C. ④①⑥②③⑤

D. ⑤②①③⑥④

50. 临摹经典碑帖是学习书法的基本途径，也是提高书法艺术水平的不二法门。因此，如何在“临摹”上为读者提供更大的便利则至关重要。临摹的前提是找到范本。在过去，得到一部碑帖很不容易，因此人们的眼界有限，只能见到什么学什么。现在的读者所面临的是无所适从的选择烦恼。一些民间乱写乱刻的墓志、造像慢慢被人们发掘出来，被有些人奉为圭臬，以丑为美，误入歧途而不自知。基于此，碑帖的经典性便举足轻重。所谓经典，就是具有典型的审美价值，在中国书法史上具有代表性、永恒性乃至里程碑意义的作品。

这段文字意在表明：

A. 提高书法水平必须临摹经典碑帖

B. 过去临摹碑帖不可能提高书法水平

C. 当时市场上的碑帖鱼龙混杂、名不副实

D. 临摹碑帖，经典范本的选择非常重要

51. 造纸术是中国古代四大发明之一。与其他书写材料相比，纸的表面平滑，洁白受墨，还可染色；幅面宽大，容字较多，又便于裁剪，做成各种型制；柔软耐折，可任意舒卷，便于携带与存放；寿命长，易于保存；造纸原料易寻，价格低廉；用途广泛，既可作书写、印刷之用，又可用作包装材料等。_____。

填入横线处最恰当的一项是：

A. 中国造纸术在发明之后，开始向外传播到世界各地

B. 东汉，蔡伦进行技术革新，生产出质量更好的麻纸

C. 中国人发明的造纸术促进了自身文化、教育和科技的发展

D. 这些无可比拟的优点，使得纸经久不衰，为世人所钟情

52. “人们来到城市，是为了生活；人们居住在城市，是为了生活得更好。”推进城市安全发展，应刷新传统的管理理念。有学者认为，城市公共安全应尽快从“应急管理”升级到“全面管理”。没有健全的应急管理机制，一遇突发的公共安全事件就会手忙脚乱，左支右绌。但是，仅擅长应急管理还不够，更应该在全管理上做足文章。如对重点人员密

集场所、安全风险较高的大型群众性活动，尽早开展安全风险评估，建立大客流监测预警和应急管控处置机制，将可能出现的问题萌芽消弭于无形之中，这在科技创新时代并不难做到。

这段文字主要想强调的是：

- A. 城市公共安全应健全应急管理机制
- B. 应急管理机制和“全面管理”的区别
- C. “全面管理”符合现代城市安全的发展理念
- D. 传统的城市安全管理理念已经不合时宜

53. 吃元宵、赏花灯、舞狮子、猜灯谜、放焰火……始于 2000 多年前秦朝的元宵节在长期的发展中，形成了独具特色的中国彩灯文化，“千门开锁万灯明，正月中旬动地京。三百内人连袖舞，一进天上著词声。”而“国家名片”邮票，则将这一文化元素——元宵节彩灯稳稳地定格在历史的册页上。

最适合做这段文字标题的一项是：

- A. 中国彩灯文化的元素
- B. 元宵文化的来历
- C. 元宵文化元素的内涵
- D. 邮票上的元宵文化

54. 历史的走向往往并不按统治者的意愿，而是按普通人的普通需求前行。在明朝的大部分时间里，因为惧怕蒙古的通商要求，统治者不惜动用大量人力、物力和财力修筑长城，却导致长城沿线出现了许多新的机会。我们知道，明朝的商人可以通过向边塞输送粮食或于边塞屯垦，获得买卖食盐的凭据；修造和驻守长城引发了大量的物料需求；石匠、铁匠、砖瓦匠等手艺人有了更多的机会。更重要的是，以军人及其家属为基础的聚落在长城以内逐渐扩展。人口的增加催生了新的堡城。同时，沿边的农业也获得了发展。

这段文字意在表明：

- A. 修筑长城带来了可观的商业前景
- B. 普通人的需求往往引领着历史的走向
- C. 修筑长城催生了沿边城市和农业的发展
- D. 修筑长城打破了统治者最初的政治意愿

55. 对高校智库建设方向与方式存在两种误读：或把“高校建设智库”等同于“高校变成智库”，或将“高校智库机构”与高校中教学科研等其他部分割裂看待。前者将智库母体与智库机构混为一谈，夸大了智库功能在高校整体使命中所占比重；后者为智库机构设置了“孤岛化生存”的语境，所以生出“一小批人拼命干，其他人袖手看”的尴尬与隔

阅。实际上，智库既不可能“吞没”大学的其他属性，也无法脱离高校教学科研与整体环境而健康生存。

对文段中“孤岛化生存”理解准确的一项是：

- A. “高校智库机构”占高校整体使命的比重降低
- B. “高校智库机构”已丧失了主体性地位
- C. “高校智库机构”与其他科研机构相割裂
- D. “高校智库机构”“吞没”了大学的其他属性

※※※ 第二部分结束，请继续做第三部分！ ※※※

第三部分 数量关系

(共 10 题, 参考时限 15 分钟)

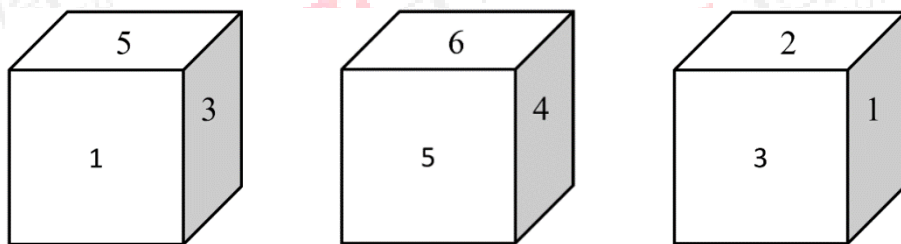
在这部分试题中, 每道试题呈现一段表述数学关系的文字, 要求你迅速、准确地计算出答案。

请开始答题:

56. 十一期间王先生赴日旅游, 计划用五天分别去东京市、大阪市、名古屋市三个城市, 已知他连续两天不在同一个城市游览。假设第一天在名古屋市, 第五天又回到名古屋市, 那么王先生有几种不同的游览方案?

- A. 2
B. 4
C. 6
D. 8

57. 有三块相同的数字积木, 摆放如下图所示, 那么相对面上的数字之和最大是多少?



- A. 7
B. 8
C. 11
D. 9

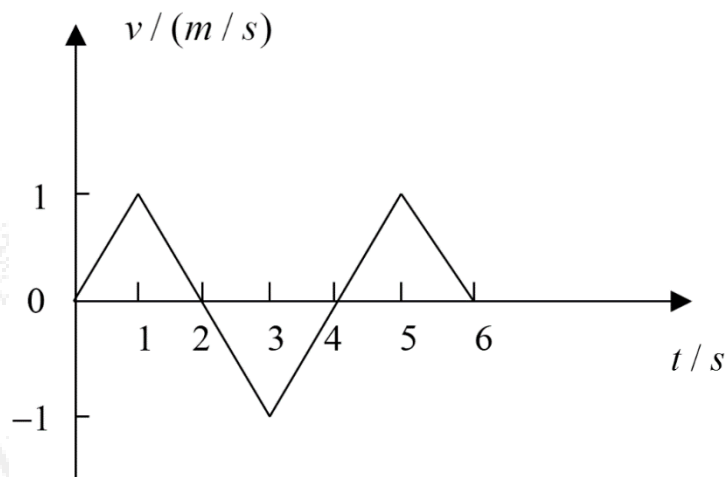
58. 某地迎春庙会有 100 盏点亮的花灯, 分别编号为 1, 2, 3, 4, 5, ..., 100。每个花灯均由拉线开关独立控制, 如果首先将编号能被 4 整除的花灯各拉一下, 接着将编号能够被 5 整除的花灯各拉一下, 问两步操作完成后亮着的花灯共有多少盏?

- A. 70
B. 75
C. 60
D. 65

59. 从分别标有 1, 2, ..., 10 的 10 张卡片中不放回地随机抽取 2 次, 每次抽取 1 张, 那么抽到两张卡片上奇偶性相同的概率是:

- A. $\frac{5}{18}$
B. $\frac{4}{9}$
C. $\frac{5}{9}$
D. $\frac{7}{9}$

60. 某物体运动的 $v-t$ 图象如图所示, 下列说法正确的是:



- A. 物体在做匀变速直线运动
- B. 物体在第 1s 末运动方向发生变化
- C. 物体在 1s 末和 3s 末处于同一位置
- D. 物体在第 6s 末返回到出发点

61. 一个盒子里装有标号 1~100 的 100 张卡片，小张从盒子里随意抽取卡片，每次抽取一张，那么小张至少要抽多少张卡片，才能保证取出的卡片中有两张标号之差为 10？

- A. 50
- B. 51
- C. 49
- D. 48

62. 在报名参加志愿活动的 5 名男教师和 6 名女教师中，选取 4 人去西部地区进行支教，要求男、女教师都有，则不同的选取方式的种数为：

- A. 310
- B. 320
- C. 330
- D. 340

63. 山东航空公司为了吸引顾客，决定暑假期间所有的航线机票一律七折，学生可在此基础上再享受七折优惠。暑假期间学生小李与妈妈用 952 元购得两张机票，则该机票最初的单价为多少元？

- A. 600
- B. 700
- C. 800
- D. 900

64. 一艘轮船以每小时 36 千米的速度笔直开向悬崖，船长鸣放汽笛短声，6 秒钟后听到回声。已知声音的速度是每秒 340 米，问听到回声时，轮船离悬崖的距离是多少米？

- A. 990
- B. 1000
- C. 1010
- D. 1020

65. 小张去商店买了 10 块相同的面包，他决定每天至少吃一块面包，直至吃完，请问共有多少种吃面包的方式？

- A. 256
- B. 128
- C. 512
- D. 1024

※※※ 第三部分结束，请继续做第四部分！ ※※※

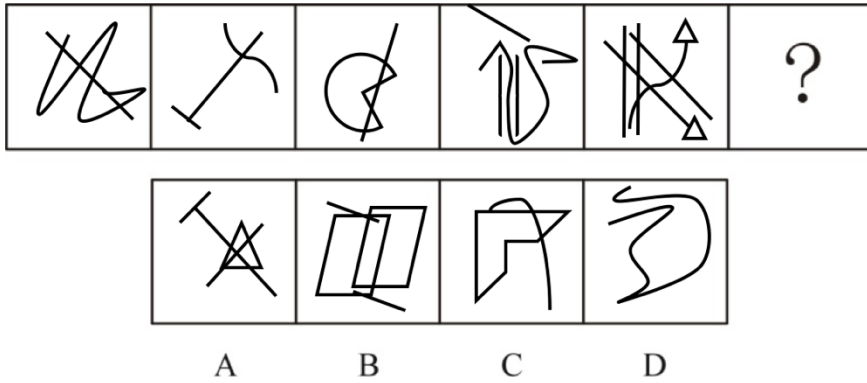
第四部分 判断推理

(共 35 题, 参考时限 35 分钟)

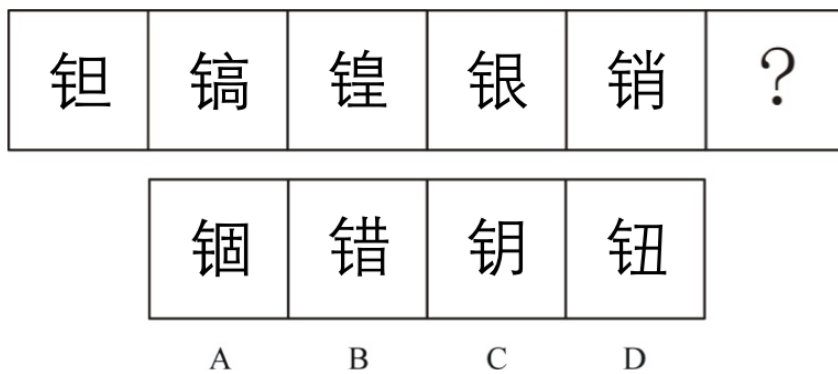
一、图形推理。请按每道题的答题要求作答。

请开始答题:

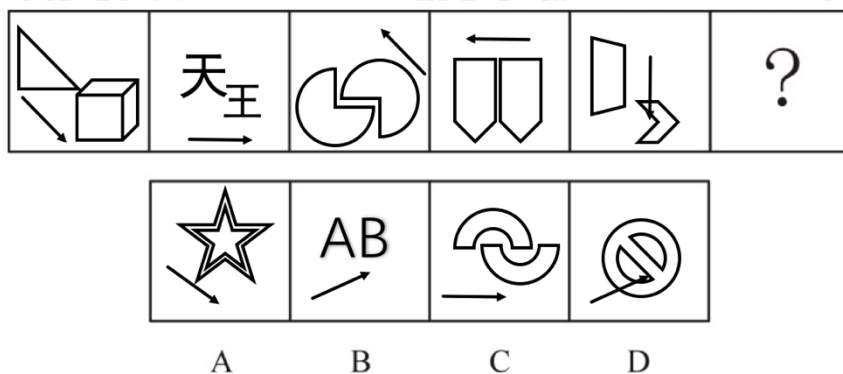
66. 从所给的四个选项中, 选择最合适的一个填入问号处, 使之呈现一定的规律性:



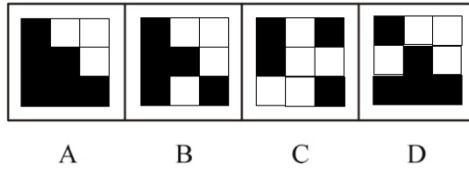

67. 从所给的四个选项中, 选择最合适的一个填入问号处, 使之呈现一定的规律性:



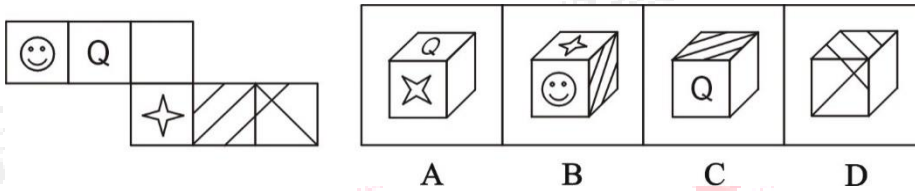
68. 从所给的四个选项中, 选择最合适的一个填入问号处, 使之呈现一定的规律性:



69. 从所给的四个选项中, 选择最合适的一个填入问号处, 使之呈现一定的规律性:



70. 左边给定的是纸盒的外表面，下面哪一项能由它折叠而成？



二、定义判断。每道题先给出定义，然后列出四种情况，要求你严格依据定义，从中选出一个最符合或最不符合该定义的答案。注意：假设这个定义是正确的，不容置疑的。

请开始答题：

71. 把物体以一定的初速度在水平方向抛出，如果物体仅受重力作用，这样的运动叫做平抛运动。平抛运动可看作水平方向的匀速直线运动以及竖直方向的自由落体运动的合运动。

根据上述定义，以下最接近平抛运动的是：

- A. 从手中抛出的篮球投入到篮筐中
- B. 从水平飞行的飞机上投出的炸弹
- C. 从桌子边缘偶然掉落在水杯
- D. 从火车站开出后逐渐提速的高铁

72. 反语，是运用跟本意相反的词语来表达此意，却含有否定、讽刺以及嘲弄的意思，是一种带有强烈感情色彩的修辞方法。根据说话者的对象不同、说话者的感情不同，反语可以分为两大类：讽刺反语和风趣反语。讽刺反语是为了揭露、批判、讽刺、嘲弄，表达贬义的反语。风趣反语是为了风趣、幽默、诙谐而说的反语，字面表达的是贬义，实际上是表达褒义。

根据上述定义，以下使用了反语的手法的是：

- A. 顿时，我的泪水像断了线的珍珠一样，夺眶而出
- B. 你们杀死一个李公朴，会有千百万个李公朴站起来
- C. 才用了三个小时就把魔方转好了，你果然很聪明
- D. 微风过处，送来缕缕清香，仿佛远处高楼上渺茫的歌声

73. 命题是指一个判断的语义，这个概念是可以被定义并观察的现象。命题不是指判断本身，而是指所表达的语义。简单命题指不包含其他命题作为其组成部分的命题，即在结构上不能再分解出其他命题的命题。所谓复合命题是指由简单命题用联结词联结而成的命题，构成复合命题的命题为支命题。

根据上述定义，以下属于复合命题的是：

- A. 这个教室一共有多少人
- B. 小猫打碎了五个花瓶
- C. 樱桃红了，而且芭蕉绿了
- D. 把门打开让新鲜空气进来

74. 数据清理是将数据库精简以除去重复记录，并使剩余部分转换成标准可接收格式的过程。数据清理从数据的准确性、完整性、一致性、惟一性、适时性、有效性几个方面来处理数据的丢失值、越界值、不一致代码、重复数据等问题。

根据上述定义，以下**不属于**数据清理的是：

- A. 手工填入数据中缺失的值
- B. 将数据转换为图表的形式表现出来
- C. 将数据中相等的记录合并为一条记录
- D. 用统计分析的方法识别可能的错误值或异常值

75. 记忆联结着人的心理活动，是人们学习、工作和生活的**基本机能**。按照是否意识到，可以将记忆分为外显记忆和内隐记忆。内隐记忆，在心理学上是指在不需要意识或有意回忆的条件下，个体的过去经验对当前任务自动产生影响的现象，又称自动的、无意识的记忆。而外显记忆则是在意识的控制下，过去的经验对当前作业产生的有意识的影响，又称受意识控制的记忆。

根据上述定义，以下属于外显记忆的是：

- A. 只要学会骑自行车以后就不会忘记怎么骑
- B. 训练过的狗能对铃声做出分泌唾液的反应
- C. 小时候因吃枣被噎之后就再也不敢吃枣了
- D. 考试时写英语作文回忆曾经学的那些单词

76. 农田水利是以农业增产为目的的水利工程措施，即通过兴建和运用各种水利工程措施，调节、改善农田水分状况和地区水利条件，提高抵御天灾的能力，促进生态环境的良性

循环，使之有利于农作物的生产。

根据上述定义，以下属于农田水利的是：

- A. 修建农田排水渠
- B. 建造大坝发电
- C. 开通运河
- D. 修建污水处理厂

77. 固定资产是指企业为生产产品、提供劳务、出租或者经营管理而持有的、使用时间超过 12 个月的，价值达到一定标准的非货币性资产，包括房屋、建筑物、机器、机械、运输工具以及其他与生产经营活动有关的设备、器具、工具等。非生产用固定资产是指不参加或不直接服务于生产经营过程的各种固定资产。

根据上述定义，下列属于非生产用固定资产的是：

- A. 办公室打印机
- B. 公司品牌
- C. 工厂内的水塔
- D. 公司现金

78. 两个人在交往时，如果首先表明自己与对方的态度和价值观相同，就会使对方感觉到你与他有更多的相似性，从而很快地缩小与你的心理距离，更愿同你接近，结成良好的人际关系。在这里，有意识、有目的地向对方所表明态度和观点如同名片一样把你介绍给对方。这就是所谓的名片效应。

根据上述定义，以下利用了名片效应原理的是：

- A. 甲乙二人素来不合，但因为最近一次甲对乙的关怀，乙觉得甲人很不错
- B. 刘某在求职的过程中表达了自己和老板相似的经历，最终获得老板认可
- C. 张某犯了一点小错误，领导几次三番地批评他，他本还愧疚后来很厌烦
- D. 赵某的妻子做菜不好吃，但他总是称赞妻子，后来妻子的厨艺越来越好

79. 对立营销，是企业的产品在推向市场时，在每个竞争阶段，均需要找出对立者。对立者可以是品牌，可以是产品，也可以是企业或者个人，根据对立者的营销策略体系，建立对立的营销策略体系来跳出同质化竞争市场，或阶段性打击竞争对手。

根据上述定义，以下采用了对立营销的是：

- A. 麦当劳以摇椅和快乐套餐等吸引孩子，汉堡王通过更大的场地和更美味的套餐来进行竞争
- B. 可口可乐是父母年轻时已经在喝的饮料，百事可乐通过“百事一代”的定位吸引更多的年轻人
- C. 宜家家居通过让顾客自己拉开抽屉，打开柜门，躺在床垫上等亲自感受来决定是否购买物品
- D. 宝洁公司的洗衣粉有强力去污但价格较高的“碧浪”，也有去污力强但价格适中的“汰渍”等产品

80. 运动性疲劳是运动员为了提高运动成绩而进行大运动量、大强度训练，超过机体承受的能力，而产生暂时的生理机能减退的现象。

根据上述定义，下列表现**不属于**运动性疲劳的是：

- A. 动作迟缓，不灵敏，动作的协调能力下降
- B. 短期内的呼吸变浅变快，心跳加快
- C. 运动之后感觉浑身轻快，反应灵活
- D. 反应迟钝，判断错误，注意力不集中

三、类比推理。每道题先给出一组相关的词，要求你在备选答案中找出一组与之在逻辑关系上最为贴近、相似或匹配的词。

请开始答题：

81. 鸡飞狗跳：人仰马翻

- A. 卧薪尝胆：一日千里
- B. 万箭穿心：破釜沉舟
- C. 鹰击长空：水漫金山
- D. 睚眦必报：字字珠玑

82. campaign：pain

- A. biology：logic
- B. minority：mirror
- C. accomplish：ash
- D. basketball：skill

83. 纯碱：苏打

- A. 烧碱：小苏打
- B. 熟石灰：消石灰
- C. 福尔马林：甲醛
- D. 甲烷：沼气

84. 立春：谷雨

- A. 芒种：立秋
- B. 立冬：寒露
- C. 清明：白露
- D. 春分：惊蛰

85. 党员：团员：中学生

- A. 劳力士：手表：怀表
- B. 运动员：博士：中国人
- C. 洗发水：沐浴液：洗衣液
- D. 发展：运动：旋转

86. 杜甫：《望岳》：会当凌绝顶，一览众山小

- A. 李清照：《浣溪沙》：无可奈何花落去，似曾相识燕归来
- B. 李白：《送杜少府之任蜀州》：海内存知己，天涯若比邻
- C. 王维：《出塞》：大漠孤烟直，长河落日圆
- D. 陆游：《游山西村》：山重水复疑无路，柳暗花明又一村

87. 方法：失败：掌握

- A. 计划：成功：精通
- B. 睡衣：丝绸：熟悉
- C. 规则：犯规：了解
- D. 失望：伤心：心情

88. 马蹄莲：茉莉花：白色

- A. 勿忘我：君子兰：蓝色
B. 山茶花：茉莉花：红色
C. 桂花：金银花：黄色
D. 曼陀罗：迷迭香：绿色
89. 电脑 对于 () 相当于 () 对于 汽油
A. 显示器；引擎
B. 电池；汽车
C. 笔记本；飞机
D. 联想；motor
90. 钻石 对于 () 相当于 () 对于 温暖
A. 闪亮；火热
B. 昂贵；友情
C. 钻戒；火焰
D. 坚硬；太阳

四、逻辑判断。每道题给出一段陈述，这段陈述被假设是正确的，不容置疑的。要求你根据这段陈述，选择一个答案。注意：正确的答案应与所给的陈述相符合，不需要任何附加说明即可以从陈述中直接推出。

请开始答题：

91. 酒类广告常会告诉人们，少喝一点酒没事，控制好饮酒量可能还对心脏有好处。

以下哪项如果为真，最能削弱上述结论？

- A. 每个人的最佳饮酒量不同，要依据个人年龄、性别和叶酸摄入量等因素决定
B. 对于那些高密度脂蛋白低、有健康的饮食和大量运动的人来说，饮酒可能有益
C. 调查显示 80% 的酒类广告都承认过度美化和夸大饮酒的益处
D. 红葡萄酒中白藜芦醇和抗氧化剂等有益成分的含量有限

92. 西雅图的超市 Amazon Go，依靠摄像头和传感器来追踪消费者从货架上拿走和放回的商品。与普通店铺最大的区别在于，Amazon Go 不设人工或任何自助结账台，而是在消费者离店后通过他们登记在系统中的信用卡进行结账。

由此可以推出：

- A. Amazon Go 超市里面没有工作人员
B. 如果一个超市有自助结账台，那它就是 Amazon Go
C. 如果消费者撕掉商品的条形码，离店后就就不用结账
D. 要想在 Amazon Go 买东西，先要有张信用卡

93. 云南西双版纳野象谷景区附近的道路上出现了一只雄性野生亚洲象。它边走边“玩”停在路边的汽车，导致 14 辆汽车不同程度损坏。为了解决大象阻碍交通运行的问题，当地政府计划在野象谷景区加高道路护栏来阻挡大象进入公路。

以下哪项如果为真，最能对上述计划构成**质疑**？

- A. 加高护栏会增加交通管理的成本
- B. 政府还在准备开一个加高护栏的市民听证会
- C. 动物保护协会强烈谴责此做法，声称护栏限制了野象自由
- D. 加高的护栏会导致司机驾驶时晕眩

94. 货币去现金化或数字化已成为不可逆转的大趋势！ATM 萎缩是趋势，但其在很长时间内不会消失。

上述结论的成立需要补充以下哪项作为前提？

- A. ATM 机器的成本在十万元左右
- B. “出门只带手机”成为越来越多人的选择
- C. ATM 业务骤降，非现金业务猛增
- D. 没有数字化能力的老人和弱势群体需要 ATM 取款

95. 现时为止，传统电动车的锂电池技术，在快充模式下平均需要 30 分钟才只能充到 80%电量，如何能缩短充电时间成为关键。东芝官方宣布已经成功研发新一代车用锂离子电池（SCiB）。该电池技术只需充电 6 分钟就能达到 90%的电量，基本与加油一样快。可见，电动汽车发展的最大瓶颈是电池技术，已经被东芝攻克。

以下哪项如果为真，最能**质疑**上述结论？

A. 据报道，新一代东芝超级锂离子电池在充放电 5000 次之后，依然能够保持 90%以上的电池容量

- B. 东芝的锂离子电池技术在零下 30℃的低温环境中也能实现快充
- C. 动力电池企业不应盲目追求充电速度，提高电池的能量密度是关键
- D. 目前新一代东芝超级锂离子电池仍然在研究测试当中，有望一年后实现商用

96. 研究人员曾对秦始皇陵园进行汞含量测试，发现在封土中心 1.2 万平方米的范围内有一个强汞异常区。封土中的汞异常是地宫大量存在的水银挥发造成的。因此，有人说秦始皇陵的地宫绝对不能挖。

要得到上述结论，需要补充的前提是：

A.参照兵马俑坑的挖掘时间，秦始皇陵园的考古工作任重道远，需要几代人，几百年坚持不懈地努力

B.考古探测初步发现，秦陵地宫距地面约 35 米，相当于 15 层左右的高楼，难以开展挖掘工作

C.挖掘出来的文物如何就地保护以及日后进行维护，考古学家们还没有非常成熟的经验和技巧

D.一旦开挖，水银可能喷薄而出，对考古人员生命安全有威胁，也可能对陵墓造成毁灭性的破坏

97. 某省羽毛球队要进行年终表彰大会，只能从甲、乙、丙、丁中选择一人。于是找到他们四人分别了解一下他们心中的人选：

甲说：甲；

乙说：甲或丙；

丙说：乙；

丁说：甲或乙。

测试结束后，只有一个的预测是正确的，预测正确的是：

A. 甲

B. 乙

C. 丙

D. 丁

98. 如果我们整天听别人对我们的议论，还去推测别人心里对于我们的想法，那么，即使最坚强的人也将不能幸免于难！其他人，只有在他们强于我们的情况下，才能容许我们在他们身边生活；如果我们超过了他们，哪怕仅仅是想要超过他们，他们就会不能容忍我们！总之，让我们以一种难得糊涂的精神和他们相处，对于他们关于我们的所有议论，赞扬，谴责，希望和期待都充耳不闻，连想也不去想。

由此可以推出：

A. 如果我们无法在小张身边活着，那么小张一定强于我们

B. 只要对小李充耳不闻，那么即使在弱也能在他身边幸免遇难

C. 小王在小陈身边生活，证明小陈容忍小王

D. 幸免于难的小陈说：只要你天天听别人对你的议论，那么你最好就别揣测别人对你的想法了，没有用的

根据所给材料，回答 99~100 题。

甲、乙、丙三人在长沙参加毕业十周年聚会中坐在一起，相谈甚欢。甲、乙、丙三人每人都只去过北京、上海、广州和深圳其中的两座城市工作。现在只知道：乙要么去广州，要么去深圳。甲和乙没有去过同一座城市。除非甲和丙都去过上海工作，否则甲就一定没去过深圳工作。乙没有去过北京。

99. 由此可以推出乙一定去过哪两座城市工作？

- A. 上海和广州
- B. 上海和深圳
- C. 广州和深圳
- D. 广州和长沙

100. 如果乙和丙去过一座相同的城市，那么以下哪个选项为真？

- A. 如果丙没去过上海，那么他一定去过北京和广州
- B. 如果丙去过北京，那么他一定去过深圳
- C. 如果这座城市是上海，那么北京就只有一人去过
- D. 如果丙没去过北京，那么他一定去过广州

※※※ 第四部分结束，请继续做第五部分！ ※※※

第五部分 资料分析

(共 20 题, 参考时限 20 分钟)

所给出的图、表、文字或综合性资料均有若干个问题要你回答。你应根据资料提供的信息进行分析、比较、计算和判断处理。

请开始答题:

一、根据以下资料, 回答 101~105 题。

2017 年全国电影总票房为 559.11 亿元, 同比增长 13.45%, 较 2016 年 3% 的票房增速大幅提速; 国产电影票房 301.04 亿元, 占票房总额的 53.84%; 票房过亿元影片 92 部, 其中国产电影 51 部; 城市院线观影人次 16.2 亿, 同比增长 18.08%。

2017 年, 全国生产电影故事片 798 部、动画电影 32 部、科教电影 68 部、纪录电影 44 部、特种电影 28 部, 总计 970 部; 国产电影海外票房和销售收入 42.53 亿元, 同比增长 11.19%; 全国新增银幕 9597 块, 银幕总数已达到 50776 块。

全年共有 13 部国产影片票房超过 5 亿元, 6 部国产影片票房超过 10 亿元; 影片《战狼 2》以 56.83 亿元票房和 1.6 亿观影人次创造了多项市场纪录, 成为国产电影的突出亮点, 《羞羞的铁拳》以 22 亿元的票房收入获年度国产电影亚军, 中国电影新力量不断成长壮大。

票房前十影片中, 国产电影与进口电影数量平分秋色。不过, 排名前十的国产电影总票房却以 124.78 亿元大幅超过进口电影的总票房 78.53 亿元。

101. 2017 年全国电影票房同比增长多少亿元?

- A. 49.3
- B. 66.3
- C. 68.8
- D. 75.2

102. 假设影片《战狼 2》的观影人次均为付费用户, 那么该影片的平均票价约为多少元?

- A. 35.5
- B. 38.2
- C. 45.5
- D. 52.3

103. 与 2016 年相比, 2017 年我国银幕总数增长:

- A. 5.3%
- B. 18.9%
- C. 21.7%
- D. 23.3%

104. 2016 年国产电影海外票房和销售收入占全国电影总票房的比重约为多少?

- A. 14.1%
- B. 7.61%
- C. 7.76%
- D. 53.8%

105. 根据上述资料, 下列说法正确的是:

- A. 2017 年全国电影总票房比两年前翻了一番

- B. 2016 年城市观影人次不足 14 万
 C. 2017 年影片《战狼 2》票房收入占全国电影总票房的比重超过一成
 D. 2017 年排名前十国产电影总票房是排名前十进口电影总票房的 2 倍

二、根据以下资料，回答 106~110 题。

2017 年全国邮政行业发展情况表

指标名称	单位	12 月份		比去年同期增长 (%)	
		累计	当月	累计	当月
一、邮政行业业务收入	亿元	6622.6	653.9	23.1	20.6
1、邮政寄递服务	亿元	353.9	31.0	14.8	18.3
2、快递业务	亿元	4957.1	519.8	24.7	20.8
二、邮政行业业务总量	亿元	9763.7	1014.1	32.0	29.7
1、邮政寄递服务	万件	2361976.5	206362.9	1.4	3.0
其中：函件	万件	314844.2	25799.0	-13.0	-4.5
包裹	万件	2658.0	278.4	-4.9	-4.8
订销报纸累计数	万份	1770567.2	150197.0	-1.6	-3.4
订销杂志累计数	万份	79177.1	6383.6	-7.0	-3.9
汇兑	万笔	3743.7	290.6	-35.5	-39.3
2、快递业务	万件	4005591.9	420037.7	28.0	23.7
其中：同城	万件	926813.3	97313.8	25.0	27.1
异地	万件	2996248.8	313511.6	28.9	22.3
国际/港澳台	万件	82529.8	9212.3	33.8	38.8

106. 2017 年邮政系统平均每月订销报纸、杂志约为多少亿份？

- A. 15.4
 B. 15.9
 C. 13.1
 D. 14.6

107. 2017 年 12 月业务量大于 1~11 月月均业务量的是：

- A. 函件
 B. 订销杂志累计数
 C. 汇兑
 D. 包裹

108. 2016 年 1~11 月业务收入由低到高排序正确的是：

- A. 邮政寄递服务-邮政行业业务-快递业务
 B. 快递业务-邮政寄递服务-邮政行业业务
 C. 邮政寄递服务-快递业务-邮政行业业务
 D. 快递业务-邮政行业业务-邮政寄递服务

109. 在同城、异地、国际/港澳台中，有几类在 2017 年 12 月的业务量占快递业务总量的比重高于上年同期水平？

- A. 0
B. 1
C. 2
D. 3

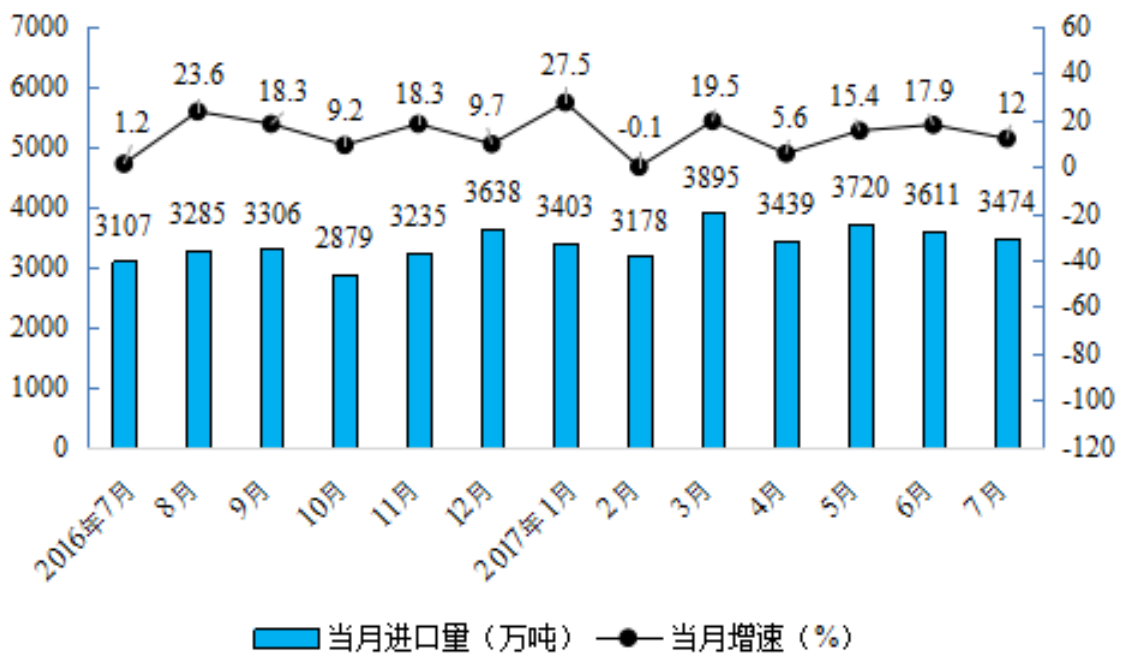
110. 能够从上述材料推出的是：

- A. 2017 年邮政行业各项业务均比上年有所上升
B. 2017 年 1~11 月，邮政行业业务总量同比增速高于 30%
C. 2017 年订销报纸业务量占邮政行业业务总量的比重超过一成
D. 2017 年全年汇兑业务的同比降幅高于 12 月份

三、根据以下资料，回答 111~115 题。

2017 年 7 月份，全国原油产量 1624.9 万吨，同比下降 2.9%，降幅比 6 月份扩大 0.6 个百分点；日均产量 52.4 万吨，比 6 月份减少 1.6 万吨。1~7 月份，原油产量 11279.4 万吨，同比下降 4.8%，降幅比 1~6 月份收窄 0.3 个百分点。

原油进口量有所回落。7 月份，进口原油 3474 万吨，同比增长 12.0%，进口量比 6 月份减少 137 万吨，增速比 6 月份回落 5.9 个百分点。1~7 月份，进口原油 24708 万吨，同比增长 13.6%，增速比 1~6 月份回落 0.2 个百分点。



2016 年 7 月~2017 年 7 月原油进口月度走势图

111. 2017 年 1~6 月全国原油产量的同比增速为：

- A. -2.3%
B. -3.5%
C. -4.5%
D. -5.1%

112. 2016年6月原油进口量在1~6月原油进口量中所占比重为:

- A. 12.5%
- B. 17.6%
- C. 21.2%
- D. 33.3%

113. 下列月份中,原油进口量环比增速最快的是:

- A. 2016年8月
- B. 2016年12月
- C. 2017年3月
- D. 2017年5月

114. 2016年8月~2017年7月,原油进口量及同比增速均高于上月的月份有几个?

- A. 4
- B. 5
- C. 6
- D. 7

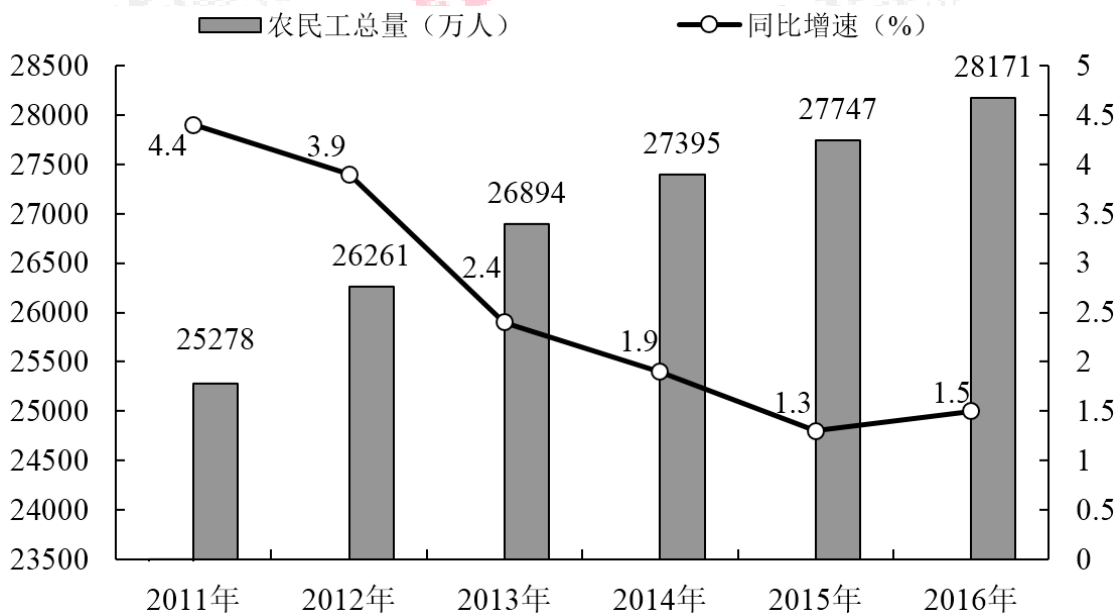
115. 能够从上述资料中推出的是:

- A. 2017年7月原油进口量比2015年7月翻了一番
- B. 2017年第一季度月均原油进口量超过3500万吨
- C. 2017年上半年原油进口量超过2.4亿吨
- D. 2016年5~6月原油进口量超过6000万吨

四、根据以下资料,回答116~120题。

2016年农民工总量达到28171万人,比上年增长424万人,增长1.5%。其中,本地农民工11237万人,比上年增长3.4%;外出农民工16934万人,比上年增长0.3%。在外出农民工中,进城农民工13585万人,比上年减少157万人,下降1.1%。

2011~2016年,外出农民工增速呈逐年回落趋势,增速分别为3.4%、3%、1.7%、1.3%、0.4%和0.3%。外出农民工占农民工总量的比重也由2011年的62.8%逐渐下降到2016年的60.1%。



2011~2016年农民工总量及增速

农民工年龄组成（单位：%）

	2012年	2013年	2014年	2015年	2016年
16~20岁	4.9	4.7	3.5	3.7	3.3
21~30岁	31.9	30.8	30.2	29.2	28.6
31~40岁	22.5	22.9	22.8	22.3	22.0
41~50岁	25.6	26.4	26.4	26.9	27.0
50岁以上	15.1	15.2	17.1	17.9	19.2

116. 2011~2016年，我国农民工总量增长最多的年份是：

- A. 2011
- B. 2012
- C. 2014
- D. 2016

117. 2012~2016年，外出农民工增速同比下降最多的是：

- A. 2012
- B. 2013
- C. 2014
- D. 2016

118. 2015年进城农民工占外出农民工的比重为：

- A. 57.2%
- B. 68.6%
- C. 72.5%
- D. 81.4%

119. 2016年50岁以上的农民工比2015年50岁以上的农民工多多少万人？

- A. 442
- B. 278
- C. 365
- D. 115

120. 根据上述资料，下列说法**不正确**的是：

- A. 2012~2016年，21~30岁农民工在农民工总量中的比重逐年下降
- B. 2016年16~20岁农民工人数多于2013年16~20岁农民工人数
- C. 2012~2016年，41~50岁农民工人数均超过了6500万人
- D. 2012~2016年，50岁以上农民工在农民工总量中的比重逐年上升

※※※

全部测验到此结束！

※※※