

成都市青羊区小学 2018-2019 学年度上期  
 三年级数学期末检测题  
 (完卷时间 90 分钟)

题号	一	二	三	四	五	总分	选做题
得分							

得分	评卷人

一、填空题。(15 分)

- 一年有 12 个月, 其中 ( ) 个大月, ( ) 个小月。
- 一个边长是 3 厘米的正方形, 周长是 ( ) 厘米。  
一个长与宽的和等于 19 厘米的长方形, 周长是 ( ) 厘米。
- 用 24 时计时法表示, 下午 2 时是 ( ) 时, 晚上 8 时是 ( ) 时。
- 中华人民共和国成立于 1949 年 10 月 1 日, 到 2019 年 10 月 1 日是 ( ) 周年。
- 一本笔记本 3.10 元, 是 ( ) 元 ( ) 角。  
一根彩带长 3.05 米, 是 3 ( ) 5 ( ) 。
- 一个长 10 厘米, 周长 26 厘米的长方形, 宽 ( ) 厘米。
- 一家商店的营业时间是上午 9 时到下午 5 时, 营业时间一共 ( ) 时。
- 把两个周长 8 厘米的正方形拼成一个长方形, 这个长方形周长是 ( ) 厘米。
- 把 “ $12+36=48$ ,  $48\div 3=16$  这两个算式, 写成一个算式。 ( ) 。

得分	评卷人

二、计算题。(36 分)

1. 口算。(6 分)

$$3 \times 12 = \quad 140 \div 7 = \quad 320 \times 3 = 45 \div 5 =$$

$$240 \div 8 = \quad 4 \times 50 = \quad 66 \div 6 = \quad 5 \times 30 =$$

$$40 \times 4 = \quad 400 \times 9 = \quad 300 \div 3 = 630 \div 9 =$$

三年级数学期末检测题第 1 页 (共 5 页)

2. 竖式计算。(15 分)

①  $238 \times 4$  ②  $53 \times 7 =$       ③  $1.8 \text{ 元} + 4.3 \text{ 元} =$   
 ④  $318 + 281 - 180 =$  ⑤  $857 - 295 - 150 =$       ⑥  $653 + 97 + 228 =$

3. 脱式计算。(15 分)

①  $(7+74) \div 9$   
 ②  $81-45 \div 5$   
 ③  $6 \times (31-23)$   
 ④  $46+4 \times 7$   
 ⑤  $(75-35) \div 8$   
 ⑥  $80 \div 4+36$

得分	评卷人

三、选择题。(把正确答案的番号填在括号里) (5 分)

- 在下面三个年份中, 是闰年的 ( ) 。  
 A. 2018 年

B. 2019 年

C. 2020 年

2. 一个笔记本的价格是 1.88 元, 这两个 8 表示()。

A. 88 分

B. 88 角

C. 88 元

3. 把一根长 12 厘米的铁丝围成一个正方形, 这个正方形的周长是()厘米。

A. 6

B. 12

C. 24

三年级数学期末检测题第 2 页(共 5 页)

4. 用“2, 3, 5”能组成()个不同的三位数。

A. 5

B. 6

C. 7

5. 一个长方形的周长是 20 厘米, 这个长方形的长和宽可能是()

A. 10 厘米和 2 厘米

B. 15 厘米和 5 厘米

C. 6 厘米和 4 厘米

得分	评卷人

#### 四、图形题。(16 分)

1. 圈一圈, 算一算。(6 分)

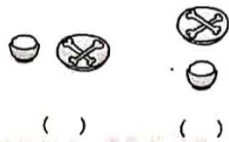

$14 \times 3 =$



$66 \div 3 =$



2. 谁看到的?把编号填进括号里。(2 分)



3. 计算下图的周长。(4 分)



4. 杨树有多少棵?(4 分)

桦树 50 棵

松树

杨树

得分	评卷人

五、解决问题。(28分)

1. 买4个笔筒和1本日记本,一共花了80元,一个日记本多少元?

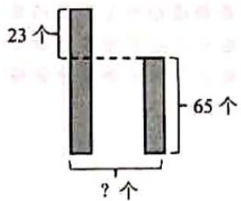


笔筒  
每个17元



日记本  
?元

2. 淘气两次跳绳,一共跳了多少个?



3. 武汉到南京大约720千米,一辆汽车9:20从武汉开出,18:20到达南京,这辆车平均每时行多少千米?

4. 笑笑从一张长25厘米,宽12厘米的彩纸上,剪下一个最大的正方形。

- (1) 剪下的最大正方形的周长是多少厘米?
- (2) 剪下最大正方形后,剩下的图形的周长是多少厘米?

三年级数学期末检测题第4页(共5页)

5. 每层能放35本书,下面的书柜一共能放多少本书?



6. 右边是淘气家的用水记录表。

10月底	11月底	12月底
196吨	226吨	261吨

淘气家11月和12月分别用水多少吨?

得分	评卷人

选做题。(20分)

1. 日历中的规律。

- (1) 圈出和是29、横着相邻的两个日期。
- (2) 圈出和是49、竖着相邻的两个日期。

星期日	星期一	星期二	星期三	星期四	星期五	星期六
				1	2	3
4	5	6	7	8	9	10
11	12	13	14	15	16	17
18	19	20	21	22	23	24
25	26	27	28	29	30	

2. 在方框中填入合适的数。

$$\begin{array}{r} 1 \square 6 \\ + 9 7 \square \\ \hline 1 \square 1 1 \end{array}$$

$$\begin{array}{r} \square 0 \square \\ - \square 6 \\ \hline 6 \end{array}$$

三年级数学期末检测题第 5 页 (共 5 页)