

2019 年河北公务员考试行测真题卷及参考答案  
( 县级 )

公考通网校

[www.chinaexam.org](http://www.chinaexam.org)



公考通 A.PP



微信公众平台

## 第一部分 常识判断

1、2019年3月4日，习近平参加全国政协十三届二次会议文化艺术界、社会科学界委员联组会，讲话时引用“大鹏之动非一羽之轻也；骐骥之速，非一足之力也”，强调实现中共十九大描绘的宏伟蓝图，必须紧紧依靠人民。“大鹏之动非一羽之轻也；骐骥之速，非一足之力也”出自：

- A. 《道德经》
- B. 《孟子》
- C. 《潜夫论》
- D. 《论语》

2、“四个全面”战略布局，确立了新的历史条件下党和国家各项工作的战略目标和战略举措，是我们党在新形势下治国理政的总方略，是事关党和国家长远发展的总战略。在“四个全面”战略布局中居于引领地位的是：

- A. 全面深化改革
- B. 全面依法治国
- C. 全面从严治党
- D. 全面建成小康社会

3、河北省委九届六次全会提出，要抓好三件大事，打好六场硬仗，实施八项战略。其中的三件大事不包括：

- A. 筹办北京冬奥会
- B. 全力实施精准脱贫
- C. 规划建设雄安新区
- D. 推进京津冀协同发展

4、下列关于自然现象的解释，正确的一项是：

- A. 冬天户外用嘴呼气冒“白气”，是气化现象
- B. 白炽灯泡用久后玻璃泡壁变黑，是凝华现象
- C. 利用干冰进行人工增雨，干冰发生的物态变化属于液化现象
- D. 冬天房顶上的积雪虽没有融化，却逐渐减少，是蒸发现象

5、中央电视台天气预报栏目说，“今天白天晴间多云，最高温度 25 摄氏度”。这里的“今天白天”所指时间段是：

- A. 6:00 到 18:00
- B. 7:00 到 19:00
- C. 8:00 到 20:00
- D. 9:00 到 21:00

6、关于京杭大运河，下列说法不正确的是

- A. 2014 年入选世界文化遗产名录
- B. 世界上里程最长、工程最大的古代运河
- C. 沟通海河、黄河、淮河、长江、钱塘江五大水系
- D. 途经今浙江、江苏、山东、河北、河南五省及天津、北京两市

7、2019 年 4 月 27 日，第二届“一带一路”国际合作高峰论坛在北京举行。这次峰会的主题是：

- A. 深化合作，共创“一带一路”新发展
- B. 推进互联互通，共创经济发展新未来
- C. 共建“一带一路”，共创美好未来
- D. 携手共进，展望未来，推动“一带一路”新发展

8、十八大以来，我国实施了多项重大改革。按照时间先后排序，正确的一项是：

- ①设立上海自贸区
- ②设立河北雄安新区
- ③实施全面两孩政策
- ④实施乡村振兴战略

- A. ①④②③
- B. ②③①④
- C. ②①③④
- D. ①③②④

9、在中国古代社会，“西席”这一称谓指的是：

- A. 客人
- B. 老师
- C. 女婿
- D. 医生

10、以下情况中，没有违反公务员法中需要任职回避规定情形的是：

- A. 小张和他的妻子在同一个厅级机关分别任不同处的处长
- B. 老李是某厅级机关处长，其女儿是该处某科室的科员
- C. 小刘是某厅级机关财务处科员，其妻小梁是该厅老干部处科员
- D. 老周是某厅副厅长，其妻老钱是该厅人事处主任科员

11、某县委办公室主任吴某，吩咐其下属孙某，利用举办会议的机会，通过虚开发票冒领会议经费 44860 元。孙某自己留下 9860 元，将其余的 35000 元交给吴某，吴某据为己有，此事被监察部门发现并移交司法机关，吴某涉嫌的罪名是

- A. 贪污罪
- B. 职务侵占罪
- C. 受贿罪
- D. 私分国有资产罪

12、下列名词与内容对应不一政的是：

- A. BRICS/金砖国家
- B. 马歇尔计划/欧洲复兴方案
- C. “一带一路”/丝绸之路经济带和海上丝绸之路
- D. 《中美上海联合公报》/中美正式建交

13、下列说法正确的是：

- A. 长白山地属暖温带的湿润地区
- B. 我国夏季气温分布的特点是：全国大多数地方普遍高温，南北方气温相差不大
- C. 农作物能够生长的时间被称为生长期，生长期一般比当地的无霜期要短十五天左右
- D. 河北的天气特点是：春季温暖，常有风沙；夏季炎热，雨量充沛；秋季凉爽，天气晴朗；冬季寒冷，有时

下雪

14、世界上蓄水量最大的淡水湖是：

- A. 贝加尔湖
- B. 里海
- C. 维多利亚湖
- D. 苏必利尔湖

15、电影《流浪地球》反映了人类生存与太阳密不可分。下列现象与太阳辐射无关的是：

- A. 火山的喷发
- B. 风的形成
- C. 煤炭的形成
- D. 植物的生长

16、一个国家的文化精华，称之为“国粹”。中国的三大国粹是：

- A. 国画、京剧和中医
- B. 儒学、国画和针灸

- C. 瓷器、书法和儒学
- D. 茶艺、昆曲和武术

17、下列诗词与所描写节令不相符的是：

- A. 东风夜放花千树，更吹落，星如雨。宝马雕车香满路，凤箫声动，玉壶光转，一夜鱼龙舞。——元宵节
- B. 十轮霜影转庭梧，此夕羁人独向隅。未必素娥无惆恨，玉蟾清冷桂花孤。——七夕节
- C. 冷食方多病，开襟一忻然。终令思故郡，烟火满晴川。杏粥犹堪食，榆羹已稍煎。唯恨乖亲燕，坐度此芳年。——寒食节
- D. 无云世界秋三五，共看蟾盘上海涯。直到天头天尽处，不曾私照一人家。——中秋节

18、关于下列体育项目，不正确的说法是：

- A. 体操比赛男子有六个单项，女子有五个单项
- B. 中国足球“要从娃娃抓起”是邓小平同志首次提出的
- C. 乒乓球混双比赛是2020年东京奥运会正式比赛项目
- D. 举重、跳水、体操、游泳项目，都是我国运动员在奥运会比赛中的优势项目

19、某局长驾驶私家车与一辆接送孩子的人力三轮车剐蹭，导致三名小学生轻微擦伤，该局长亲自将孩子们送到县医院检查治疗后，又把孩子们送到学校正常上课。事故发生时，某企业职工杨某路过并用手机录制了一段视频，视频中虽未出现该局长的画面，但在视频中插入文字“局长驾车撞上三轮车，五名孩子严重受伤，局长态度嚣张，驾车扬长而去”等严重失实信息。杨某将该视频发到朋友圈后，又被广为转发，造成了不良社会影响。对此事件，下列说法正确的是：

- A. 杨某严重扰乱社会公共秩序，由检查机关提起诉讼
- B. 杨某不遵守社会公德，由所在企业进行处理和教育
- C. 杨某违反治安管理处罚法，由公安机关予以相应处罚
- D. 杨某的行为属于严重诽谤，由法院受理并判处刑罚

20、我国到了明期已形成完备的四级科举考试制度，由低到高的排列顺序是：

- A. 院试-会试-乡试-殿试
- B. 乡试-会试-院试-殿试
- C. 乡试-会试-殿试-院试
- D. 院试-乡试-会试-殿试

## 第二部分 言语理解与表达

21、将一门技术掌握到\_\_\_\_\_绝非易事，但工匠精神的内涵远不限于此。倘若没有发自肺腑的热爱，怎会有废寝忘食的付出？没有超今冠古的追求，怎会有\_\_\_\_\_的卓越？没有物我两忘的境界，怎会有脚踏实地的淡定？

工匠精神所深藏的，有格物致知的生命哲学，也有超然达观的人生信念。

填入横线部分最恰当的一项是：

- A. 出神入化 遥遥领先
- B. 炉火纯青 出类拔萃
- C. 融会贯通 更胜一筹
- D. 尽善尽美 脱颖而出

22、每一条河流都是一曲古老的赞歌，唱出了远古文明的\_\_\_\_\_，从未看过巨浪翻滚的人，难以想象万马奔腾、\_\_\_\_\_的壮丽景象。让我们迈开脚步，打开心扉，投入大自然的怀抱。

填入横线部分最恰当的一项是：

- A. 辉煌 一泻千里
- B. 繁荣 一碧万顷
- C. 兴盛 一往无前
- D. 光芒 一望无际

23、中国人对春天有着\_\_\_\_\_的感情，春季的节日也格外多，如春节、元宵节、寒食节、清明节等。人们对春天的希望，对人生的\_\_\_\_\_全在这些岁令时节中\_\_\_\_\_地表达出来。

填入横线部分最恰当的一项是：

- A. 浓郁 遐想 酣畅淋漓
- B. 浓厚 追求 一览无余
- C. 非凡 寄语 毫无保留
- D. 深厚 畅想 淋漓尽致

24、人们所肯定和赞赏的血性，应当属于性格评价和审美取向的范畴。血性是个\_\_\_\_\_而又朴拙的词汇，本身就具有张力和亢奋色彩。因此在理解和使用上应该有所\_\_\_\_\_，否则就会混淆粗犷与\_\_\_\_\_、豪壮与莽撞、文明与野蛮、人性与兽性。

填入横线部分最恰当的一项是：

- A. 中性 限制 粗鲁
- B. 原始 界定 粗野
- C. 古老 区分 粗放
- D. 野性 取舍 粗疏

25、成熟的麦穗在阳光下低垂着头，那是在教我们\_\_\_\_\_；忙碌的蜜蜂在田野里采集花粉，那是在教我们\_\_\_\_\_；柔弱的水珠在四季轮回中穿透顽石，那是在教我们\_\_\_\_\_。

填入横线部分最恰当的一项是：

- A. 谦逊 辛劳 坚守
- B. 谦让 辛勤 坚持
- C. 谦卑 勤奋 执着
- D. 谦虚 勤劳 坚韧

26、真正的诗意，不应只是优雅时光里读书弄茶的闲情逸致，更应是纵使身处\_\_\_\_\_，依然不忘抬头看那柳梢的月、檐角的星。诗意不能带你渡过所有现实的难关，却能\_\_\_\_\_智慧，\_\_\_\_\_心灵，让平凡的生命，身在井隅，心向璀璨，追寻属于自己的不平凡。

填入横线部分最恰当的一项是：

- A. 困境 启迪 抚慰
- B. 困顿 彰显 慰藉
- C. 困惑 启发 抚恤
- D. 困难 增益 安抚

27、大部分的自然环境，若非人类加工\_\_\_\_\_，根本不适合人类生存，更谈不上美丽，更多的是荒凉与危险。就像一个看上去\_\_\_\_\_的美人，你不知道她为了保养成这样，\_\_\_\_\_了多少气力呢。

填入横线部分最恰当的一项是：

- A. 整理 天生丽质 浪费
- B. 改造 完美无瑕 花费
- C. 整修 素颜天然 耗费
- D. 修理 魅力十足 付出

28、全面依法治国，必须从我国\_\_\_\_\_出发，突出中国特色、实践特色、时代特色，既不能罔顾国情、超越阶段，也不能因循守旧、\_\_\_\_\_。

填入横线部分最恰当的一项是：

- A. 国情 冥顽不化
- B. 实际 墨守成规
- C. 现状 食古不化
- D. 现实 葑菲子立

29、紫荆花的叶子有一种韧性，无论风吹雨打，那叶子从不轻易飘落，在风雪中挺立，有着傲雪斗霜的性格，从来没有在寒冷中退缩，难道我们的学习不该有这种\_\_\_\_\_的精神吗？绿叶虽然没有紫荆花的芬芳，但却\_\_\_\_\_地为花输送养料，吸收阳光雨露，衬托那美丽的花朵，使其更加芬芳，我们做人不该有绿叶这样的奉献精神么？

填入横线部分最恰当的一项是：

- A. 坚韧不拔 默默无闻
- B. 持之以恒 心甘情愿
- C. 百折不挠 风雨无阻
- D. 坚定不移 尽心竭力

30、花开是常有的事，花开的香气更是\_\_\_\_\_。但是在这个只有我一个人的世界里，我就觉得很不自在。有花香慰我寂寥，我甚至有点因花香而\_\_\_\_\_了。

填入横线部分最恰当的一项是：

- A. 见怪不怪 单纯 迷乱
- B. 唾手可得 简单 沉迷
- C. 习以为常 平凡 陶醉
- D. 司空见惯 寻常 沉醉

31、东瓯的泥土与水色与魏晋名士的\_\_\_\_\_清俊之风最是相契。山水诗鼻祖谢灵运留给东瓯的“山水含清晖，清晖能娱人”，正暗合了“缥瓷”的\_\_\_\_\_。

填入横线部分最恰当的一项是：

- A. 孤傲 风骨
- B. 隐逸 气质
- C. 脱俗 内涵
- D. 飘逸 风格

32、所谓书卷气，是一种饱读诗书后形成的\_\_\_\_\_气质。书卷气来自读书，在幽幽书香的熏陶之下，浊俗可以变为清雅，奢华可以变为\_\_\_\_\_，促狭可以变为开阔，偏激可以变为\_\_\_\_\_。捧起书来吧，你会发现里面的风景美不胜收！

填入横线部分最恰当的一项是：

- A. 高贵 淡然 谦和
- B. 儒雅 低调 平静
- C. 高雅 淡泊 平和
- D. 文雅 质朴 温顺

33、“神舟七号”航天团队\_\_\_\_\_的团结精神，是“嫦娥”成功奔月的强大动力；他们求真务实的工作作风，让“嫦娥”的舞姿\_\_\_\_\_完美；他们“一切为了祖国，一切为了成功”的航天精神，永恒地\_\_\_\_\_在浩瀚无垠的太空。

填入横线部分最恰当的一项是：

- A. 同舟共济 精准 镌刻



- B. 众志成城 近乎 飘荡
- C. 休戚与共 典雅 刻画
- D. 同心协力 准确 凝聚

34、一湾清清的沱江水穿城而过，一条条砖红的石板街\_\_\_\_\_，一排排\_\_\_\_\_的吊脚楼屹立在沱江两岸，一道饱经风雨的古城墙守护着淳朴的湘西人民……这些，构成了这座\_\_\_\_\_而美丽动人的古城。

填入横线部分最恰当的一项是：

- A. 饱经沧桑 错落有致 历经风雨
- B. 曲折蜿蜒 饱经沧桑 淳朴厚重
- C. 纵横交错 小巧玲珑 饱经沧桑
- D. 井然有序 参差错落 古朴厚重

35、一般地说，“智慧”不同于“知识”的最大特点在于“智慧”具有原创性。“知识”要求“广”，“智慧”要求“新”。但两者又非绝对\_\_\_\_\_；“智慧”必须有“知识”作基础，反之，只死读书，而无己见，无创意，那就容易成为\_\_\_\_\_，也不算是“智慧”。

依次填入划横线部分最恰当的一项是：

- A. 对立 学究
- B. 矛盾 古董
- C. 等同 桎梏
- D. 排斥 束缚

36、在我们赖以生存的绿色星球上，\_\_\_\_\_着几块色彩斑斓的陆地，那是地球上的五大洲，在陆地之间\_\_\_\_\_着辽阔的蓝色水域，那是地球的四大洋。这里有生命存在，生物活跃在多彩的生态系统中，它们\_\_\_\_\_这个星球以绿色的情调和生命的意义。

填入横线部分最恰当的一项是：

- A. 嵌入 布满 呈献
- B. 勾画 覆盖 给予
- C. 勾勒 填充 馈赠
- D. 镶嵌 充盈 赋予

37、著名教学论专家杨启亮先生的话震撼心灵：“每每看到越来越多的学生不喜欢写字，不喜欢汉语言文学，不喜欢千古传诵的诗词歌赋，\_\_\_\_\_无知于中国传统文化，就像看到黄河断流一样，会\_\_\_\_\_感慨却欲哭无泪，这真是令人\_\_\_\_\_的语文教学的命运……”

填入横线部分最恰当的一项是：

- A. 茫然 凄然 心急

- B. 茫然 凄然 心碎  
C. 凄然 茫然 心烦  
D. 凄然 茫然 心焦

38、生命，是来自上天的馈赠。在父母\_\_\_\_\_的期盼中，我们呱呱坠地。因而，生命承载了太多希冀的目光和绵绵情谊。沐浴着老师\_\_\_\_\_般的教诲，我们逐渐成长。在生命的旅途中，尽管会遭逢坎坷或失败，但同时，我们收获更多的却是愉悦与成功。因此，我们应该善待自己的生命，要以自信、乐观、积极的人生态度来珍爱这\_\_\_\_\_的礼物。

填入横线部分最恰当的一项是：

- A. 望穿秋水 和声细语 贵重  
B. 令人神往 润物无声 厚实  
C. 望眼欲穿 春风化雨 厚重  
D. 百感交集 耳提面命 独特

39、每种植物都有自己\_\_\_\_\_的气味。植物和动物也可以利用这些气味进行复杂的\_\_\_\_\_。比如花的香气可以吸引授粉者，果实的香气可以吸引采摘者，这些都有利于种群的\_\_\_\_\_。

填入横线部分最恰当的一项是：

- A. 独特 交际 壮大  
B. 特有 对话 延续  
C. 独到 沟通 发展  
D. 特殊 交流 繁衍

40、法国巴黎圣母院日前发生大火，近百米高的尖塔烧毁坠落，举世震惊。雨果笔下“石头的交响乐”\_\_\_\_\_，人类文明的瑰宝，差点\_\_\_\_\_。

填入横线部分最恰当的一项是：

- A. 偃旗息鼓 毁于一旦  
B. 前功尽弃 烟消云散  
C. 戛然而止 付之一炬  
D. 曲终人散 黯然凋零

41、“晒”与“炫”之间并没有明确的界限，往往只是一步之遥。如果说有人晒孩子生活中的点点滴滴，比如一个可爱的动作，一句逗人发笑的话，还只是一种对孩子成长的纪念的话，那么晒孩子的成绩单、考试名次、各种竞赛奖状，就成了一种“炫”。为什么“晒娃”能够赢得祝福，而高调“炫娃”却往往让人反感呢？除了高调炫耀自己所拥有的东西会招致厌恶是大家的一种普遍心理之外，“炫娃”还会给朋友圈的亲朋好友带来很多意外的伤害。比如，你的孩子这次期末考试成绩优秀，被评为“三好学生”等等，如果你在朋友圈晒出

孩子的成绩和奖状，并且把其视为自己教育的成功，而对于朋友圈里其他人来说，可能他们的孩子考试成绩不佳，也没有得到什么表彰和奖励，你的“晒娃”就会让他们充满了挫败感。

下列表述最符合作者意图的是：

- A. 过度“晒娃”弊大于利
- B. 在朋友圈里“晒娃”就是“炫”
- C. 晒自己的娃，与其他人无关
- D. “晒娃”要注意其他人的感受

42、新媒体快速崛起，并以其快捷方便、信息海量、不受时间地点限制、受众门槛低等优势吸引了大众的眼球。传统媒体不得不重新定位自己的角色，寻求转型之路，但传统媒体的权威性不可替代。因此，二者的融合迫在眉睫。媒体融合不仅可以实现优势互补、取长补短，优化资源配置，还可以使正能量的传播方式多样化，传播效果达到最大化。

这段文字意在说明：

- A. 新媒体迅速崛起，传统媒体日渐衰落
- B. 媒体融合时代，新闻工作者需要保持个性
- C. 传统媒体要增强活力，以更好地适应新形势
- D. 媒体融合不仅势在必行，而且具有多重优势

43、考古学家戈登·柴尔德认为，我们应该像重视“工具制造”一样，重视人类“控制用火”的历史。人类漫长历史演进，无处不有“火烧过的痕迹”——火覆灭历史的信息，也产生新的信息。对这一点，木构建筑传统悠远的中国，最有痛切而真实的体会。比如中国重要建筑物上方常有“藻井”构造，其上还多用荷、莲、菱、藻等水生植物纹式作修饰，就足证我国建筑史上对预防火灾与建筑安全之间的联系，认识是相当清醒和科学的。

根据这段文字，我们可以推知：

- A. 人类“控制用火”的历史源远流长
- B. 中国是被火烧毁木结构建筑最多的国家
- C. 从“火烧过的痕迹”中可以考证历史遗存
- D. “藻井”上的水生植物纹饰用来护祐木构建筑的安全

44、我国贫困区域大都处于深山、高原、沙漠等地区，水资源缺乏、土地贫瘠、生态脆弱、灾害频繁。其主要特征：一是土地资源总量少，土地零星破碎、贫瘠，不宜农耕，耕地质量不高，产出量低。二是旱涝灾害并存、水土流失和石漠化严重，风灾、雨雪冰冻、滑坡、泥石流、农业病虫害等时有发生。三是贫困地区大多数处于生态敏感地带，易遭破坏且难于恢复。

这段文字意在说明：

- A. 我国贫困地区大都交通条件欠佳
- B. 我国贫困地区大都自然条件恶劣
- C. 我国贫困地区大都基础设施薄弱
- D. 我国贫困地区大都生态环境脆弱

45、随着信息技术和人类生产生活交汇融合，互联网快速普及，全球数据呈现爆发增长、海量集聚的特点，对经济发展、社会治理、国家管理、人民生活都产生了重大影响。世界各国都把推进经济数字化作为实现创新发展的重要动能，在前沿技术研发、数据开放共享、隐私安全保护、人才培养等方面做了前瞻性布局。

这段文字旨在说明：

- A. 安全问题将成为大数据应用的瓶颈
- B. 大数据的政策选择要考虑发展与安全
- C. 大数据应用对人们生活的影响利大于弊
- D. 世界各国都把经济数字化作为创新发展的动能

46、翻看中外思想经典，一些宗教文化中不乏“无我”“无私”“奉献”“牺牲”的提法，都有导人向善的美好意图。与此不同，习近平主席讲的“无我”是忘我，是随时牺牲一切为了人民、全心全意为人民服务的宝贵精神，表达了对人民的深厚情怀。从人民性的角度说，共产党人所讲的“无我”是远远高于宗教文化当中“牺牲”意义的，是对“无我”一词的新解、新用。

最适合做这段文字标题的是：

- A. “无我”与“忘我”
- B. “忘我”的境界
- C. “无我”的新诠释
- D. 共产党人的情怀

47、《京津冀协同发展规划纲要》明确指出：北京为全国政治中心、文化中心、国际交往中心和科技创新中心；天津为全国先进制造研发基地、北方国际航运核心区、金融创新运营示范区和改革先行示范区；河北为全国现代商贸物流重要基地、产业转型升级试验区、新型城镇化与城乡统筹示范区、京津冀生态环境支撑区。

《京津冀协同发展规划纲要》的以上内容，意在阐述：

- A. 京津冀三地的具体功能定位
- B. 京津冀三地产业应沿着不同的方向发展
- C. 顶层设计是实现京津冀一体化的重要途径
- D. 京津冀一体化的核心是疏解北京的非首都功能

48、城市首先是人的聚集，也来自人的聚集；城市的特质从来就是特定城市中人的群落性文化和精神的体现，它们是城市的活力之源，是城市的灵魂与核心。以城市主体人群的文化特质为核心的城市精神，其“现代

性”关系着城市现代化的质量。

这段文字意在说明：

- A. 城市现代化必须增强城市成员对城市文化的认知和认同
- B. 城市现代化最终落实于人的现代化、市民精神的现代化
- C. 城市精神以城市文化为基础，表现为一种价值取向，一种城市主流追求
- D. 城市建设必须体现依靠人民、尊重人民、造福人民的“以人为本”的态度

49、中外文学艺术史上的许多个案证明，一位作家、艺术家，只有立足于自己的生命体验，捕捉生命意识，又能以超越性的襟怀，以大生命意识的视野，透视人性，观照人生，体察万物，才能创作出境界最为高超，具有久远而又强劲的生命活力的作品。

这段文字中提及的“大生命意识”是指：

- A. 艺术家要加强修养，要有大格局、大智慧
- B. 拥有超人类的生命襟怀，向往人与人、人与自然之间的和谐
- C. 生命是可贵的、神圣的，人类所有正常的生命本能都应得到尊重
- D. 以政治的、道德的、法律的尺度，对笔下人物予以是非好坏的明确判定

50、从新中国成立后各个历史阶段的流行语，我们可以清晰地看到时代的镜像。“抗美援朝，大跃进，大炼钢铁，上山下乡，样板戏”等从政治、经济、文化角度反映建国初到文革结束的时代特征。“下海，商品经济，摸着石头过河，特区”等词语的出现反映了改革开放初期经济思想的大转变。进入90年代后，“ok!酷，粉丝”等外来词汇的音译或直接使用充分体现了外来文化对本土文化的影响，“郁闷，杯具，给力，蓝瘦香菇”则表达了人们复杂多元的情绪倾向。

这段文字主要说明了：

- A. 社会结构调整提供了流行语的发展空间
- B. 流行语往往是可变的，流行是短暂的，影响面是广泛的
- C. 流行语既是对真善美的追求，也是逃避和猎奇的强烈表现
- D. 流行语是时代价值观的表征，反映着社会群体的普遍心态

51、这两天，“95后说完晚安在干吗”的话题登上了微博热搜榜。网友的一致答案是：反正不是睡觉。道晚安以后，很多人只是进入了独自享受的夜生活。正如网友所说：“晚安的意思就是‘我今天打烊了’，只是不对外营业了而已，跟睡不睡觉没关系。”晚安对于年轻人来说，不再是睡前与亲友的告别，他们躲在自己的小世界里不愿进入梦乡。

这段文字意在强调：

- A. 年轻人对晚安有不同的理解
- B. 年轻人说完晚安后并未睡觉

- C. 年轻人喜欢享受宁静的夜晚
- D. 年轻人偏向用微博表达意愿

52、不能说辱骂学生的老师是好老师，但我要告诉大家，在今天的中国校园里，肯为学生着急的老师恐怕不多了。为什么呢？一方面，现有的教育机制并没有给严师提供保障。有句话说，“没有教不好的学生，只有不会教的老师”，这实际上把所有教学管理中的风险都转嫁给了老师。一旦老师严厉管教，学生出了问题，老师不管有理没理，总是遭遇舆论千夫所指。久而久之，很多老师也都感觉到多一事不如少一事。另一方面，今天的学生也真的不好“管”了。对老师有所不满，截屏上网，甚至录音录像的情况新闻里也都曝光过。你觉得严师出高徒是为学生好，学生也许想的是舒舒服服躺成人生赢家。

通过这段文字，作者最想表达的意思是：

- A. 舆论环境不利于老师对学生严格管理
- B. 学生经常利用舆论表达对老师的不满
- C. 现在的学生越来越难以严加管理
- D. 当前的舆论导向过度保护学生

53、在大家眼中“挣钱多，说话少，疯狂加班”的程序员们，终于发声，通过这场“996.ICU”运动表达了抵制姿态。“996”作为一句玩笑，迅速被互联网企业员工、即将踏入互联网行业的高校人才以及关注该领域的人们“吵”成话题，这本身就表明了问题的严重性和紧迫性。某些互联网企业如还不肯觉醒，及早调整，也许会失去更多宝贵的发展资源与进步良机。

这段文字意在强调：

- A. 加班成为程序员们无奈的选择
- B. 互联网企业员工开始抵制加班
- C. 互联网企业应高度重视加班问题
- D. “996”成为了当前的热门话题

54、把下列句子组成一段语意连贯的话，排序最恰当的是：

- ①缺少书籍的滋养，我们的精神世界会是一片荒芜和狼藉
- ②读书是门槛最低的高贵举动
- ③我们的文化也会缺乏不断向前发展的动力
- ④读书不仅仅是为了生存，更是为了充实我们的精神世界，提升我们的生命质量
- ⑤我想，这是对读书意义的深刻体悟和精辟总结
- ⑥我们的社会难以传承深邃的智慧、伟大的精神

- A. ①⑥③④②⑤
- B. ②④⑤①③⑥



C. ②⑤④①⑥③

D. ④⑤②①③⑥

55、把下列句子组成一段语意连贯的话，排序最恰当的是：

①为解决人类问题贡献了中国智慧和方案

②拓展了发展中国家走向现代化的途径

③从人类文明进程看

④给世界上那些既希望加快发展又希望保持自身独立性的国家和民族提供了全新选择

⑤意味着中国特色社会主义道路、理论、制度、文化不断发展

⑥中国特色社会主义进入新时代

A. ③⑥⑤②④①

B. ③⑥①⑤②④

C. ⑥③④②⑤①

D. ⑥③②④⑤①

#### （复合题）

据《中国青年报》报道，2018年中国社会科学院“中国大学生追踪调查（PSCUS）”研究结果近日公布。

对全国18所高校在校大学生的调查发现，大学生平均每天玩网络游戏的时间约为2小时，22.95%的大学生基本每天都玩网络游戏。游戏不只是男生的偏好，47.7%的女生表示玩网络游戏，14%的女生基本每天都玩。\_\_\_\_\_，高职院校学生玩游戏者近七成，普通本科高校玩游戏者超五成，双一流高校玩游戏者超六成。

中国新闻出版研究院近日公布的第十六次全国国民阅读调查数据显示，2018年我国成年国民人均每天手机接触时长为84.87分钟，比2017年增加4.44分钟；2018年人均每天读书时间为19.81分钟，比2017年减少0.57分钟，人均每天读报时长为9.58分钟，比2017年减少2.42分钟，人均每天阅读期刊时长为5.56分钟，比2017年减少1.32分钟；2018年人均纸质图书阅读量为4.67本，与2017年基本持平。

从以上数据可以看出，我国大学生玩游戏的时间，大致是我国成人阅读时间的6倍。大学生花这么长时间在网络游戏中，已经超出了“适当乐于其中”的范畴，显得颇不正常。提高我国大学生培养质量，需要引导大学生控制上网玩游戏的时间，培养大学生更广泛的兴趣。

大学生花这么多时间在网游之中，有多方面原因。有的大学生从小就是“宅男”“宅女”，除学习之外，休闲时间就用电子产品打发时间。以前由于学习任务重，玩游戏的时间被家长严格控制，到了大学，学习任务变得相对轻松，加之老师平时管得不严，不少学生就宅在宿舍玩游戏，甚至通宵达旦不能自拔。调查显示，31.97%受访大学生有熬夜玩游戏的经历，其中3.52%经常熬夜，28.45%偶尔熬夜。

一些大学生进大学之后，缺乏进一步努力学习的动力，感到十分迷茫，这也是玩游戏多、读书少的重要原因。而进大学后变得迷茫，又和基础教育的升学导向有关——升学导向主要以考大学作为学习的终极目标，不

少老师和家长还以为“进大学之后就轻松了”“可以好好玩了”“想玩什么就玩什么”，来激励学生在中学时苦读备考。因此，一些学生考上大学后，也就彻底“放松”下来，有人以前几乎不玩游戏，现在也天天玩游戏，仿佛要把之前的“损失”补回来。

此外，与以前中小学被老师、家长管着的学习生活不同，大学更强调学生的自主管理和自主规划。然而不少大学生不具备充分的自主管理和自主规划能力，不知道如何自主安排时间，如果周围其他同学大多以打游戏度日，他们也就“随大流”跟着玩游戏了。

针对大学生花太多时间玩游戏甚至沉迷网游的问题，我国大学也进行了治理，有的治理手段还很严厉，甚至引发了争议。比如，禁止新生配个人电脑，学生宿舍晚上10点断电断网，对大学生采取高中管理方式统一早自习、晚自习，但效果有限。鉴于此，大学首先必须从严教育管理，让大学生平时就不敢松懈。在发达国家大学留学的中国学生，大多感慨读大学特别忙、特别累，这是因为学校要求特别严。其次，要对学生进行生涯规划教育，培养本应该在基础教育阶段就培养的自主管理和自主规划能力，鼓励学生开展社团活动，进行自我教育和自我管理，在大学发展多方面的兴趣。

我国基础教育需要真正为每个学生的人生发展打好基础，不能灌输给孩子功利的读书观，不能让学生形成“不考试、不升学、派不上晋升用场，就不必读书”的偏见。建立终身学习社会，把读书作为一种生活方式，需要淡化读书的功利价值，让学生真正培养起读书的兴趣与乐趣。

56、填入文中画横线处，最恰当的一项是：

- A. 按学校进行分类
- B. 大学生的家长们可能无法想到
- C. 不同院校学生玩游戏的比例有所差异
- D. 不同层次院校学生玩游戏的比例均超过一半

57、下列表述不符合文意的一项是：

- A. 我国超过三成的大学生熬夜玩游戏
- B. 我国大学里每天玩游戏的男生比例高于女生
- C. 我国大学生玩游戏的时间远远超过成人阅读的时间
- D. 2018年我国成人每天接触手机的时间和每天阅读期刊的时间比2017年均有所增长

58、为防止大学生玩游戏，作者最可能反对的做法是：

- A. 增强社团活动对大学生的吸引力
- B. 周一到周五午夜学生宿舍断电断网
- C. 加大必修课的作业量和作业难度
- D. 引导学生们花更多的时间进行体育锻炼

59、以下哪项不是大学生玩网游的主要原因：



- A. 大学生的自主管理能力较差
- B. 从小就宅在家里用电子产品打发时间
- C. 大学普遍缺乏对学生的生涯规划教育
- D. 上高中时玩游戏的时间被家长严格控制

60、最适合做这段文字标题的是：

- A. 让读书替代游戏
- B. 游戏：大学是否应禁止
- C. 大学生为何热衷玩游戏
- D. 沉溺于游戏的当代大学生

### 第三部分 数量关系

61、三个自然数分别是一位数、两位数和三位数，其积为 3930，其和最小为多少？

- A. 144
- B. 146
- C. 148
- D. 162

62、将 300 克浓度 95%的酒精与若干浓度 60%的酒精，混合成浓度 75%的酒精，需要浓度 60%的酒精多少克？

- A. 225
- B. 240
- C. 380
- D. 400

63、甲、乙、丙三人均每隔一定时间去一次健身房锻炼。甲每隔 2 天去一次，乙每隔 4 天去一次，丙每 7 天去一次。4 月 10 日三人相遇，下一次相遇是哪天？

- A. 5 月 28 日
- B. 6 月 5 日
- C. 7 月 24 日
- D. 7 月 25 日

64、集贸市场销售苹果 5 元/个和火龙果 3 元/个，花光 61 元最多可购买这两种水果共多少个？

- A. 13
- B. 16
- C. 18
- D. 19

65、小贾骑行从起点出发向东骑行 3 公里后，折向南骑行 7 公里，又向东骑行 5 公里后，再向北骑行 1 公里。现在，小贾距离起点的直线距离是多少公里？

- A. 6
- B. 8
- C. 10
- D. 16

66、甲、乙两队单独完成某项工程分别需要 10 天、17 天。甲队与乙队按天轮流做这项工程，甲队先做，最后是哪队第几天完工？

- A. 甲队第 11 天
- B. 甲队第 13 天
- C. 乙队第 12 天
- D. 乙队第 14 天

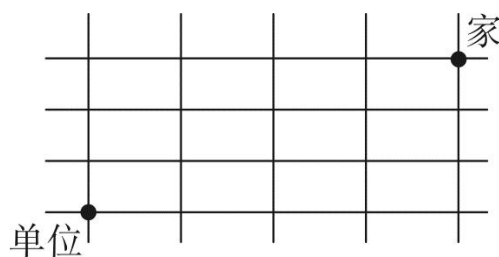
67、某新建高速公路中间隔离带绿化时，顺次种植 2 株蜀桧、3 株刺柏、5 株小叶女贞、3 株大叶黄杨，按此循环，第 2019 株树木是什么？

- A. 蜀桧
- B. 刺柏
- C. 小叶女贞
- D. 大叶黄杨

68、某班参加学科竞赛人数 40 人，其中参加数学竞赛的有 22 人，参加物理竞赛的有 27 人，参加化学竞赛的有 25 人，只参加两科竞赛的有 24 人，参加三科竞赛的有多少人？

- A. 2
- B. 3
- C. 5
- D. 7

69、小赵从家出发去单位上班要经过多经街道（如右图），假如他只能向西或向南行走。则他上班有多少种不同的走法？



- A. 6
- B. 24
- C. 32
- D. 35

70、甲乙二人沿环形跑道从同一地点同时背向开始跑步，35秒后两人相遇。已知甲跑一圈需要60秒，乙跑一圈需要多少秒？

- A. 77
- B. 84
- C. 91
- D. 96

71、某单位需要搬家，可以使用甲、乙、丙三个搬家公司。单独完成该搬家任务，甲需要3天，乙需要4天，丙需要12天；搬家费用分别为甲1000元/天，乙850元/天，丙350元/天。要求在2天内搬完，最少需要花费多少元？（搬家不足一天按一天计算）

- A. 3200
- B. 3400
- C. 3550
- D. 3700

72、某次考试小明全对的概率为80%，小宁全对的概率为70%，那么这次考试只有一人全对的概率为多少？

- A. 0.24
- B. 0.38
- C. 0.56
- D. 0.94

73、一个暗箱装有12个编号从1到12的乒乓球，甲、乙、丙三人轮流从暗箱中摸球，每人每次摸一个球且不放回。将所有球摸完后，三人所摸出的球上的编号之和相等，并且甲摸出了1号球和3号球，乙摸出了6号球和11号球。丙摸出的球编号最大为多少？

- A. 7
- B. 8
- C. 9
- D. 10

74、将1000个边长为1cm的小正方体组合成一个实心的大正方体后，将该正方体的5个面涂满色后再全部分开，那么至少有一面涂色的小正方体有多少个？

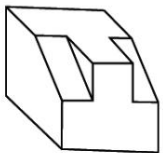
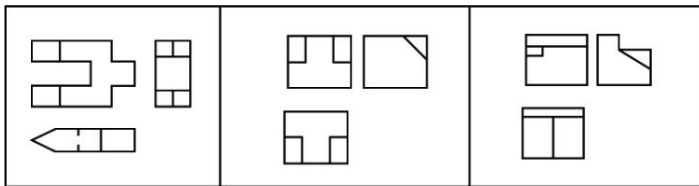
- A. 424
- B. 488
- C. 512
- D. 576

75、长、宽、高分别为 12cm、4cm、3cm 的长方体  $ABCD-A_1B_1C_1D_1$  上，有一个蚂蚁从 A 出发沿长方体表面爬行到  $C_1$  获取食物，其路程最小值是多少 cm？

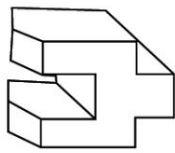
- A. 13
- B.  $\sqrt{193}$
- C.  $\sqrt{241}$
- D. 17

第四部分 判断推理

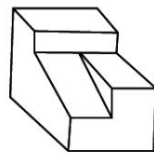
76、下面三个三视图依次与三个几何体相对应，三个几何体的正确对应顺序是：



①



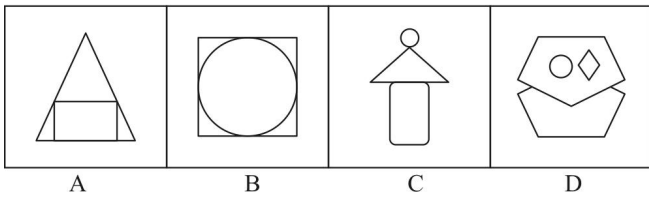
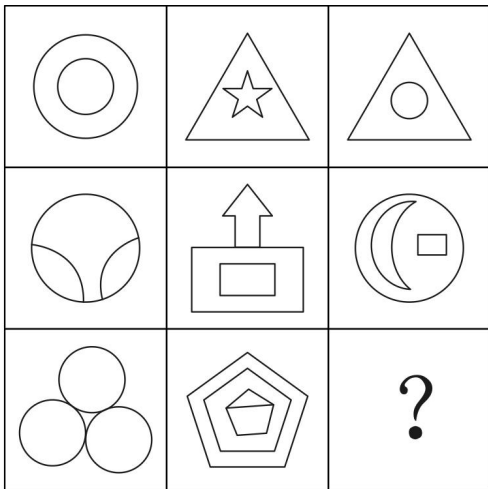
②



③

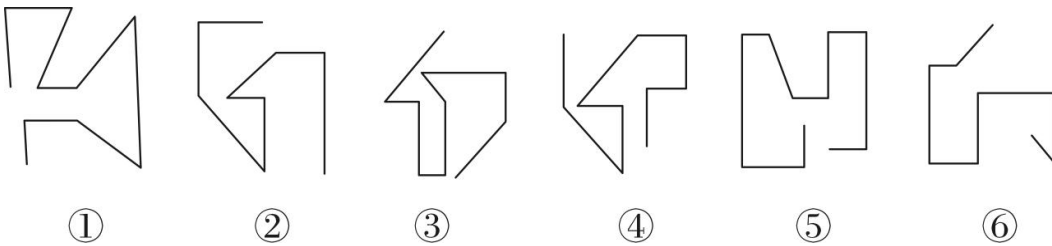
- A. ②①③
- B. ②③①
- C. ①③②
- D. ③①②

77、从所给四个选项中，选择最合适的一个填入问号处，使之符合已呈现的规律：



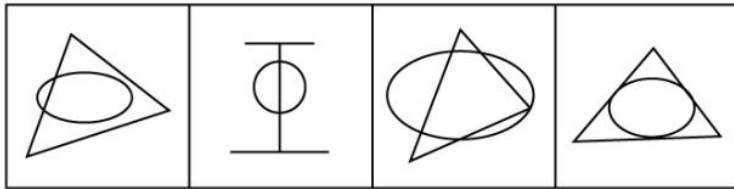
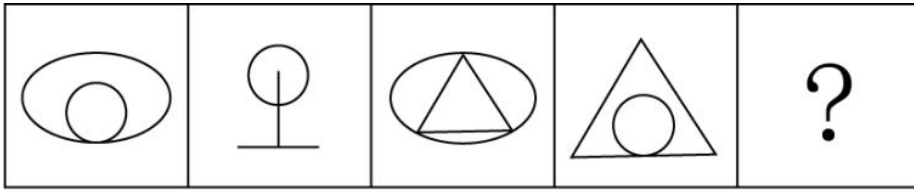
- A. 如上图所示
- B. 如上图所示
- C. 如上图所示
- D. 如上图所示

78、把下面的六个图形分为两类，使每一类都有各自的共同规律或特征，分类正确的一项是：



- A. ①②④, ③⑤⑥
- B. ①④⑤, ②③⑥
- C. ①③④, ②⑤⑥
- D. ①②⑥, ③④⑤

79、从所给的四个选项中，选择最合适的一个填入问号处，使之符合已呈现的规律性：



A B C D

- A. 如上图所示
- B. 如上图所示
- C. 如上图所示
- D. 如上图所示

80、从所给的四个选项中，选择最合适的一个填入问号处，使之呈现一定的规律性：

甘	木	右
之	宁	诅
巾	同	?



A B C D

- A. 如上图所示
- B. 如上图所示
- C. 如上图所示
- D. 如上图所示

81、对比效应是指评价一个人或一件事时，受最近接触的其他人或事的影响，导致对这个人或这件事的评价发生偏差，作出不客观的评价。

根据上述定义，下列属于对比效应的是：

- A. 受父亲的影响，小潘也认为家庭中就应该“男主外，女主内”
- B. 小张和小李同时任科长，小张认为自己靠的是能力，而小李靠的是人际关系
- C. 选购化妆品时，小丽因为售货员的形象一般就认为该品牌的化妆品较差，放弃购买
- D. 演讲比赛时，小王和小吴先后出场，如果小王表现优秀，裁判给小吴的分数会偏低

82、网络暴力是一种危害严重、影响恶劣的暴力形式，它是在网络上发表具有伤害性、侮辱性和煽动性的言语、图片、视频的行为。

根据上述定义，下列不属于网络暴力的是：

- A. 某影视网站发布大量充满暴力和血腥场景的视频
- B. 小刘给身材消瘦的同学小马起绰号“竹竿”，并在班级微信群里用“竹竿”称呼小马
- C. 小王追求某女生被拒，便用该女生头像P裸体图片发在微信朋友圈，被同学们转发
- D. 小柯因乱丢垃圾与宾馆服务员发生口角的视频被发到网上，网友对小柯进行“人肉搜索”，并将其个人隐私公布于网络

83、让渡资产使用权是指资产的所有者将资产的使用权暂时转移给他人，以取得相关收益，但不转移资产所有权的行为。

根据上述定义，下列不属于让渡资产使用权的是：

- A. 某家政公司以每月每平米 30 元的价格承包某写字楼的保洁
- B. 某城市商业银行向某公司以 6.8% 的年利率发放 2 亿元的贷款
- C. 某高校将闲置的办公楼以每年 50 万元的价格出租给某职业技能培训学校
- D. 某企业以每年五千万的价格利用自主研发的操作系统负责某市的智慧城市建设

84、口红效应是指在经济危机时消费者更愿意购买相对廉价的非必需品。经济不景气时，口红的销量反而会直线上升，这是因为在不景气的情况下，人们仍然会有强烈的消费欲望，而口红作为一种“廉价的非必需之物”，可以对消费者起到一定的“安慰”作用。

根据上述定义，下列符合口红效应的是：

- A. 张三现在收入很高，但生活简朴的他还是喜欢购买 100 元左右的衣服
- B. 李四近半年基本没有收入，但他用父母的积蓄购买了一辆 35 万元的轿车
- C. 王五还房贷压力很大，单位食堂饭菜价格较高，他经常到路边摊吃 10 元的盒饭
- D. 赵六最近业绩不好，收入较低，为释放压力，每周六晚上都喝 50 元 1 瓶的白酒半斤

85、“鱼缸法则”是指成长需要自由的空间，要使人成长的更快，就一定要给他活动的自由，而不是将他拘泥在一个小小的鱼缸中。

根据上述定义，下列符合“鱼缸法则”的是：

- A. 为吸引优秀人才，河北省持续实施“英才入冀”计划
- B. 国际贸易专业的小邓为拓展知识面，经常旁听汉语言文学的课程
- C. 某市委组织部选派一批85后优秀年轻干部担任常务副县长，让他们勇挑重担
- D. 小欧本可以留在上海，但父母以需要陪伴为名，让小欧回到县城工作

86、动物权利论认为动物与人类有平等的权利地位，两者有相同的心理特质——需求、记忆、智力等等。因此，所有动物都与人类一样享有平等的权利，这些权利是不应该被人类剥夺的。

根据上述定义，下列符合动物权利论的是：

- A. 老夏经常购买鸡胗喂养小区里的流浪猫
- B. 李大娘从来不给自家圈养的猪喂剩饭剩菜
- C. 老周认为把鸡关在笼子里大面积集中饲养是不人道的行为
- D. 老赵认为杀牛之前应先用高压电将牛瞬间电死，以减轻牛的痛苦

87、正态分布需求曲线，中间突起的部分是“头”，两边相对平缓的部分叫“尾”，集中在“头”部的是大多数需求，分布在“尾”部的是个性化、小量的需求。长尾效应是指将所有分布在“尾”部的市场累加起来就会形成一个比“头”部市场还大的市场，强调“个性化”和“小利润大市场”，即只赚每个人很少的钱，但要赚很多人的钱。

根据上述定义，下列属于长尾效应的是：

- A. 很多人不会挑选礼物，小任创办了一个挑选礼物的网站，根据不同客户的要求挑选相应的礼物，每单收取5元服务费。半年后，每月收益超十万元
- B. 年轻人网购潮愈演愈烈，老赵的服装店生意日渐萧条，转行经营生鲜产品超市。半年后，每月利润超过原来服装店
- C. 小高2010年开了一家网店，主要销售运动鞋，2017年开始帮朋友销售山区物美价廉的土特产，2018年土特产的销售额超过运动鞋
- D. 小翟经营一家美术培训学校，生源充足，半年前应广大家长的要求，新增少儿英语培训，目前英语培训收入超过了美术

88、角色紧张是指某人因为接受外界提出的不同要求而产生的冲突，导致自己承受巨大的心理压力。

根据上述定义，下列属于角色紧张的是：

- A. 五年级学生小芳期末考试成绩很差，她的父母相互指责对方没有尽职尽责，吵得不可开交。第二天冷静下来后，小芳的父母都觉得孩子成绩不好，责任主要在自己



B. 某研究所崔研究员获得了一项汽车核心技术专利，某知名汽车厂商欲高薪聘请，而研究所领导许诺为他建设国家级重点实验室，让他陷入深深的纠结之中

C. 老颜老来得子，对孩子百依百顺，结果孩子长大后骄横跋扈，一事无成，这让老颜懊悔不已

D. 老梁得知监察机关正在对自己所犯错误进行调查，到监察机关投案自首，主动交代所犯错误后，感觉压在胸口的石头终于消失了

89、健康传播是一种将医学研究成果转化为大众的健康知识，并通过大众生活态度和行为方式的改变来降低患病率和死亡率，有效提高一个社区或国家生活质量和健康水准的行为。

根据上述定义，下列不属于健康传播的是：

A. 某高中举办预防春季传染病讲座

B. 某小区进行小儿手足口病防治宣传

C. 某省级电视台播出预防白内障的药品广告

D. 某医院举办心脑血管疾病治疗技术学术会议

90、“饥饿营销”是指商品提供者有意调低产量，以期达到调控供求关系、制造供不应求“假象”、维持商品较高售价和利润率的目的。饥饿营销比较适合一些单价较高、不容易形成单个商品重复购买的行业。

根据上述定义，下列属于饥饿营销的是：

A. 某矿泉水公司宣称，由于产品供不应求，每瓶售价从2元提高到3元

B. 某户外用品公司向灾区捐赠了十万顶帐篷，提高了该公司的声誉，帐篷销量大增，供不应求

C. 某厂家推出新款汽车，售价高达百万元，消费者疯狂抢购，但厂家宣称由于配件所限无法扩大生产规模，只能限量销售

D. 近期某品牌进口轮胎滞销，经销商主动减少进口量，调高售价，销售额未出现明显下滑

91、网上购物：现金

A. 高速铁路：钢铁

B. 网络歌曲：光盘

C. 电子政务：公文

D. 电脑游戏：软件

92、打印机：扫描仪：外部设备

A. 鲸鱼：鲨鱼：鱼类

B. 火车：动车：列车

C. 阴天：下雨：天气

D. 茄子：茼蒿：蔬菜

93、法律法规：起草：颁布

- A. 新闻稿件：采访：选题
- B. 购销合同：签订：履行
- C. 自由恋爱：结婚：生子
- D. 学历学位：硕士：博士

94、猎豹：猫科：动物

- A. 西裤：裤子：服装
- B. 细菌：病毒：微生物
- C. 玛瑙：石头：宝石
- D. 助教：讲师：副教授

95、发动机：汽车

- A. 墨汁：毛笔
- B. 月光：天空
- C. 帆船：大海
- D. 翅膀：蝴蝶

96、语言：交流

- A. 颜料：绘画
- B. 衣服：装饰
- C. 电视：电影
- D. 玫瑰：爱情

97、如履薄冰：谨慎

- A. 集腋成裘：节俭
- B. 卧薪尝胆：坚持
- C. 一尘不染：干净
- D. 经天纬地：高度

98、鸡蛋：蛋糕

- A. 铅芯：铅笔
- B. 水泥：水泥路
- C. 鞋子：鞋带
- D. 榆钱：榆钱饼

99、（ ）对于小说相当于（ ）对于软件

- A. 诗歌；硬件

- B. 作家；工程师
- C. 创作；应用
- D. 素材；计算机

100、清洁工对于（ ）相当于医生对于（ ）

- A. 马路；医院
- B. 清扫车；手术台
- C. 保洁；治病
- D. 工作服；听诊器

101、对某市第二中学初中部学生的调查发现，拥有数学学习机人数最多的班也是数学成绩最好的班。因此，利用数学学习机可以提高数学成绩。

以下哪项如果为真，最能加强上述结论？

- A. 拥有数学学习机的学生学习数学的积极性和主动性明显提高
- B. 拥有数学学习机人数最多的班也是最会利用数学学习机的班
- C. 随着数学学习机性能的不断改善，对提高学生数学成绩的作用越来越明显
- D. 拥有数学学习机人数最多的班里的同学，更多地利用数学学习机学习数学

102、某村庄南北两块小麦地里，南面的地施用了生物复合肥，北面的地则没有。收割完小麦测算后发现，南面的地亩产 450 公斤，北面的地亩产 200 公斤。由此可见，施用生物复合肥是南北两块地小麦亩产差异较大的原因。

以下哪项如果为真，最能削弱上述结论？

- A. 南北两块小麦地均由老杨管理
- B. 南北两块小麦地的土壤质量不同
- C. 村南小麦地里施用的生物复合肥已过保质期
- D. 村西的小麦地里也施用了该生物复合肥，亩产只有 230 公斤

103、只要抢救及时并且方法得当，这头大象就不会死亡，但目前这头大象死亡了。

根据以上论述，下列哪项一定为真？

- A. 对这头大象的抢救不及时，但方法得当
- B. 对这头大象的抢救很及时，但方法不得当
- C. 如果对这头大象的抢救是及时的，那么大象死亡的原因肯定是方法不得当
- D. 如是这头大象的死因是抢救不及时，那么方法不得当就不会是大象的死因

104、今年4月18日，某城市日报刊发消息称，目前大部分西红柿使用催熟剂，而过量使用催熟剂会给人体带来较大危害。该消息刊发后，对该城市消费者产生的影响极其有限，几乎没有消费者想改变购买西红柿的习惯。但到了五月中旬，该城市生鲜食品超市的西红柿销量大幅度下降了。

以下哪项如果为真，能最好地解释上述现象？

- A. 4月25日，该城市的电视台也播出了这则消息
- B. 5月份时，很多消费者选择在家门口的菜摊上购买西红柿
- C. 5月份时，大部分生鲜食品超市为树立自身良好形象，不再销售西红柿
- D. 该城市周边的菜农们认为这条消息会使西红柿的销量大幅度萎缩，主动降低了产量

105、今年“五一”期间，某品牌服装店进行促销活动，根据顾客身份证上的出生年份打折，如1986年出生的，打86折，1999年及以后出生的统一打99折。该活动由于宣传到位，备货充足，顾客盈门，“五一”假期销售额同比增长40%。该服装店老板认为此次促销活动非常成功。

以下哪项如果为真，最能反驳该服装店老板的结论？

- A. 1986年到1996年出生的顾客占比超过80%
- B. 今年“五一”假期全国服装销售额同比增长45%
- C. 今年“五一”假期比去年多一天，消费者有更多的购物时间
- D. 另一个街区该品牌服装店没有促销活动，“五一”假期销售额也增长了40%

106、甲、乙、丙、丁四人的生活水平一共有三种：富裕、小康、贫困。甲和丁的生活水平一样，乙和丙的生活水平不是小康。

根据以上条件，以下哪项不可能为真？

- A. 甲是富裕
- B. 乙是贫困
- C. 乙是富裕
- D. 丁是小康

107、近三年来，某市文化产业的年利润基本稳定在两亿元左右。据估算，扣除物价上涨因素，未来几年利润总额不会随着新的文化产业场所的出现而扩大。因此，随着电影院数量的增多，KTV的收入会随之减少。

以下哪项如果为真，能对上述论证提出最大质疑？

- A. 电影院数量虽然逐渐增长，但其数量仍少于KTV
- B. 由于电影院的增多，人们花在电影院和KTV以外文化场所的消费明显减少
- C. 大部分KTV为适应新形势，重新进行装潢，树立新形象并提高服务质量
- D. 电影院的人均消费高于KTV，而且大部分人认为电影院的环境不太好，缺乏吸引力

108、如果狗患有行为焦虑症，则狗血液里镁离子的含量要高于正常狗。通过口服一种名叫因菲他命的药物，可以有效清除狗血液里的镁离子。因此，口服因菲他命可以用来治疗狗的行为焦虑症。

上述论证基于以下哪项假设？

- A. 正常狗的血液里没有镁离子
- B. 口服因菲他命对狗不会产生任何副作用
- C. 患行为焦虑症不同阶段的狗需要口服不同剂量的因菲他命
- D. 行为焦虑症不会使患病狗的血液里产生比正常狗更多的镁离子

109、所有的艺术家都懂音乐，有些懂音乐的写诗歌，你不写诗歌，所以你不是艺术家。

以下哪项的推理结构与上述推理的形式最为类似？

- A. 所有的羊都吃草，有些吃草的吃田螺，牛不吃田螺，所以牛不是羊
- B. 所有工业设计专业的学生都会画图，有些会画图的爱好书法，小明不会画图，所以小明不是工业设计的学生
- C. 所有的教授都承担过国家级课题，有些承担国家级课题的是名教授，老范是普通教授，所以老范没承担过国家级课题
- D. 所有的女士都爱美，有些爱美的还喜欢健身，小丽不喜欢健身，所以小丽不是爱美的女士

110、最近，某市城管局整理档案资料时，发现了马六的两份资料，且两份资料中的马六是同一个人。第一份资料的落款时间是1992年8月28日，是马六占道经营被处罚的记录。第二份资料是马六宣称他已经断断续续占道经营10年的声明，没有落款时间。

根据以上叙述，可以推出的是：

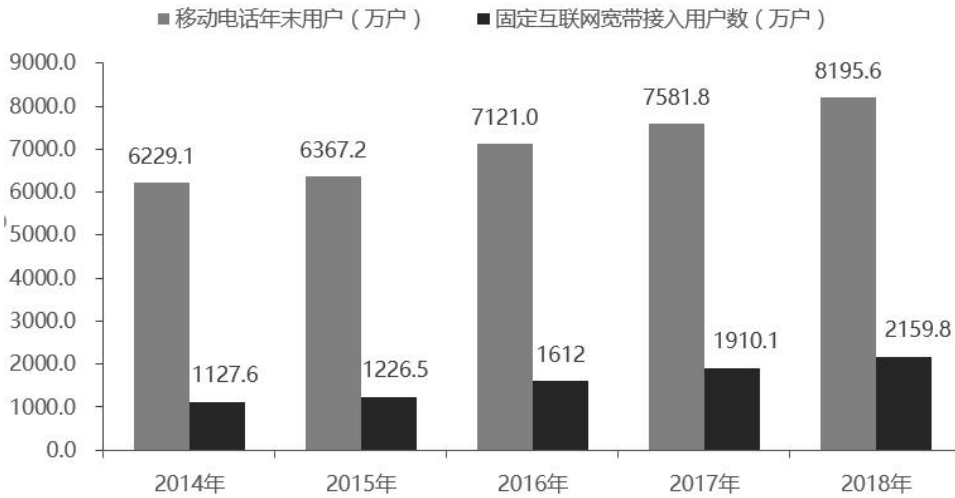
- A. 马六因为占道经营经常被处罚
- B. 第二份资料的时间早于第一份资料
- C. 第二份资料的书写时间早于2005年
- D. 马六在1982年9月份左右开始占道经营

## 第五部分 资料分析

(复合题)

2018 年末，河北省电话用户总数 8865.6 万户，其中移动电话用户 8195.6 万户。

2014-2018 年年末移动电话用户和固定互联网宽带接入用户数



111、与 2015 年相比，2018 年固定互联网宽带接入用户约增长了：

- A. 76.1%
- B. 75.9%
- C. 34.0%
- D. 13.1%

112、与 2017 年相比，2018 年移动电话用户净增数比固定互联网宽带用户净增数多多少万户？

- A. 364.1
- B. 486.7
- C. 526.8
- D. 531.0

113、2015-2018 年固定互联网宽带接入用户增长率超过 10%的年份有多少个？

- A. 1
- B. 2
- C. 3
- D. 4

114、2015-2018 年，移动电话用户增速最快的年份是：

- A. 2015 年
- B. 2016 年
- C. 2017 年
- D. 2018 年

115、能够从上述资料中推出的是：

- A. 2015-2018 年移动电话用户年净增数逐年增加
- B. 2015-2018 年固定互联网宽带接入用户年净增数逐年增加
- C. 2015-2018 年中移动电话用户数量增速超过 10% 的年份有两个
- D. 2015-2018 年移动电话用户数量同固定互联网宽带接入用户数量之比逐年降低

(复合题)

2019 年 1—2 月份, 全国规模以上工业企业实现利润总额 7080.1 亿元, 同比下降 14.0%。

**2019年1-2月份规模以上工业企业主要财务指标**

分组	营业收入		营业成本		利润总额	
	1-2月 (亿元)	同比增长 (%)	1-2月 (亿元)	同比增长 (%)	1-2月 (亿元)	同比增长 (%)
总计	147858.1	3.3	124507.6	3.9	7080.1	-14.0
其中: 采矿业	6308.4	3.8	4578.2	7.0	701.5	-12.6
制造业	129086.2	3.0	108848.0	3.6	5681.9	-15.7
电力、热力、燃气及水生产和供应业	12463.5	5.9	11081.4	5.7	696.7	0.9
其中: 国有控股企业	42275.0	0.9	34080.0	1.9	2223.7	-24.2
其中: 股份制企业	105200.6	4.9	88126.9	5.6	4936.9	-13.5
外商及港澳台商投资企业	33900.6	1.2	28783.6	-0.6	1773.7	-14.5
其中: 私营企业	43802.7	7.1	38059.4	7.4	1889.5	-5.8

注: 经济类型分组之间存在交叉, 故各经济类型企业数据之和大于总计

1-2 月份, 部分行业利润情况如下: 专用设备制造业利润总额同比增长 14.0%, 电气机械和器材制造业增长 10.9%, 电力、热力生产和供应业增长 4.2%, 非金属矿物制品业增长 3.1%, 通用设备制造业增长 0.8%, 汽车制造业下降 42.0%, 化学原料和化学制品制造业下降 27.2%, 煤炭开采和洗选业下降 23.2%, 纺织业下降 11.3%, 石油和天然气开采业下降 5.7%, 农副食品加工业下降 5.5%。

1-2 月份, 规模以上工业企业实现营业收入 14.8 万亿元, 同比增长 3.3%; 发生营业成本 12.5 万亿元, 增长 3.9%。

2 月末, 规模以上工业企业资产总计 109.7 万亿元, 同比增长 6.4%; 负债合计 62.4 万亿元, 增长 6.0%; 所有者权益合计 47.3 万亿元, 增长 7.0%; 资产负债率为 56.9%, 同比降低 0.2 个百分点。

1-2 月份, 规模以上工业企业每百元营业收入中的成本为 84.21 元, 同比增加 0.52 元; 每百元营业收入中的费用为 9.12 元, 同比增加 0.29 元。

2 月末, 规模以上工业企业每百元资产实现的营业收入为 80.9 元, 同比减少 2.4 元; 人均营业收入为 119.4 万元, 同比增加 7.6 万元; 产成品存货周转天数为 19.3 天, 同比增加 0.4 天; 应收票据及应收账款平均回收期为 57.5 天, 同比增加 4.6 天。

116、2018 年 1—2 月, 规模以上工业企业实现利润总额约为多少亿元?

- A. 6210.6
- B. 7312.8
- C. 8232.7

D. 9012.6

117、2019年1—2月规模以上工业企业中，股份制企业实现利润所占份额约为多少？

- A. 70.1%
- B. 69.7%
- C. 67.6%
- D. 31.4%

118、2019年1—2月，采矿业营业收入利润率约为多少？

- A. 11.1%
- B. 12.3%
- C. 13.2%
- D. 15.3%

119、2019年1—2月，规模以上工业企业中行业利润总额同比增长幅度从高到低，以下排列正确的是：

- A. 非金属矿物制品业 通用设备制造业 纺织业 农副食品加工业
- B. 通用设备制造业 农副食品加工业 汽车制造业 煤炭开采和洗选业
- C. 专用设备制造业 农副食品加工业 纺织业 非金属矿物制品业
- D. 专业设备制造业 非金属矿物制品业 石油和天然气开采业 纺织业

120、能够从以上资料中推出的是：

- A. 2018年2月末，规模以上工业企业资产负债率为56.9%
- B. 2019年2月，采矿业利润总额高于电力、热力、燃气及水生产和供应业
- C. 2018年2月末，规模以上工业企业每百元资产实现的营业收入为83.3元
- D. 2019年1—2月，规模以上工业企业利润总额中国有控股企业所占份额超过35%

**（复合题）**

2019年一季度，社会消费品零售总额97790亿元，同比名义增长8.3%（扣除价格因素实际增长6.9%，以下除特殊说明外均为名义增长）。其中，3月份社会消费品零售总额31726亿元，同比增长8.7%。





按经营单位所在地分，一季度城镇消费品零售额 83402 亿元，同比增长 8.2%；乡村消费品零售额 14388 亿元，增长 9.2%。其中，3 月份城镇消费品零售额 27192 亿元，同比增长 8.5%；乡村消费品零售额 4534 亿元，增长 9.4%。

按消费类型分，一季度餐饮收入 10644 亿元，同比增长 9.6%；商品零售 87146 亿元，增长 8.2%。其中，3 月份餐饮收入 3393 亿元，同比增长 9.5%；商品零售 28333 亿元，增长 8.6%。

按零售业态分，一季度限额以上零售业单位中的超市、百货店、专业店零售额同比分别增长 7.5%、0.9%、3.9%，专卖店同比下降 0.9%。

一季度，全国网上零售额 22379 亿元，同比增长 15.3%。其中，实物商品网上零售额 17772 亿元，增长 21.0%，占社会消费品零售总额的比重为 18.2%；在实物商品网上零售总额中，吃、穿和用类商品分别增长 24.6%、19.1% 和 21.3%。

2019年一季度社会消费品零售总额主要数据

指标	3月份		1-3月份	
	绝对量 (亿元)	同比增长 (%)	绝对量 (亿元)	同比增长 (%)
社会消费品零售总额	31726	8.7	97790	8.3
其中：限额以上单位消费品零售额	11953	5.1	35078	4.1
其中：实物商品网上零售额	-	-	17772	21.0
按经营地分				
城镇	27192	8.5	83402	8.2
乡村	4534	9.4	14388	9.2
按消费类型分				
餐饮收入	3393	9.5	10644	9.6
其中：限额以上单位餐饮收入	726	7.5	2226	7.9
商品零售	28333	8.6	87146	8.2
其中：限额以上单位商品零售额	11227	5.0	32852	3.8
粮油、食品类	1081	11.8	3628	10.6
烟酒类	287	9.5	1061	5.9
金银珠宝类	218	-1.2	725	2.6
日用品类	471	16.6	1410	16.1
中西药品类	502	11.8	1440	10.8
文化办公用品类	249	-4.0	692	3.8
通讯器材类	365	13.8	1093	10.0

注：1. 此表速度均为未扣除价格因素的名义增速；

2. 此表中部分数据因四舍五入的原因，存在总计与分项合计不等的情况。

121、按照 2018 年一季度价格计算 2019 年一季度社会消费品零售总额约为多少亿元？

- A. 85065
- B. 96526
- C. 99283
- D. 114000

122、下列月份中，社会消费品零售总额同比增长速度最快的是：

- A. 2018 年 4 月
- B. 2018 年 6 月
- C. 2018 年 9 月
- D. 2018 年 11 月

123、2019年3月，城镇消费品零售额比乡村消费品零售额多几倍？

- A. 3.8
- B. 4.8
- C. 5.0
- D. 6.0

124、2018年1-3月，限额以上单位烟酒类、日用品类、中西药类及通讯器材类零售总额最高的是：

- A. 烟酒类
- B. 日用品类
- C. 中西药品类
- D. 通讯器材类

125、根据以上资料，下列说法不正确的是：

- A. 2019年3月，限额以上单位文化办公用品类零售额同比下降
- B. 2019年一季度，实物商品网上零售额同比增长超过20%
- C. 2019年1-2月，限额以上单位金银珠宝类零售额同比增加
- D. 2019年一季度，限额以上零售业单位中百货店与专卖店零售额同比增长速度相同

（复合题）

2019年1-2月份，全国固定资产投资（不含农户）44849亿元，同比增长6.1%，增速比2018年全年提高0.2个百分点。其中，民间固定资产投资26963亿元，同比增长7.5%。分产业看，第一产业投资950亿元，同比增长3.7%，增速比2018年全年回落9.2个百分点；第二产业投资13864亿元，增长5.5%，增速回落0.7个百分点；第三产业投资30035亿元，增长6.5%，增速提高1个百分点。

2019年1-3月份，全国固定资产投资（不含农户）101872亿元，同比增长6.3%，增速比去年同期回落1.2个百分点。其中，民间固定资产投资61492亿元，同比增长6.4%。

分产业看，第一产业投资2408亿元，同比增长3%，增速比1-2月份回落0.7个百分点；第二产业投资33224亿元，增长4.2%，增速回落1.3个百分点；第三产业投资66240亿元，增长7.5%，增速提高1个百分点。

第二产业中，工业投资同比增长4.4%，增速比1-2月份回落1.4个百分点；其中，采矿业投资增长14.8%，增速回落26.6个百分点；制造业投资增长4.6%，增速回落1.3个百分点；电力、热力、燃气及水生产和供应业投资增长0.7%，1-2月份为下降1.4%。

第三产业中，基础设施投资（不含电力、热力、燃气及水生产和供应业）同比增长4.4%，增速比1-2月份提高0.1个百分点。其中，水利管理业投资下降5.5%，降幅扩大3.7个百分点；公共设施管理业投资下降0.6%，降幅收窄2.3个百分点；道路运输业投资增长10.5%，增速回落2.5个百分点；铁路运输业投资增长11%，增速回落11.5个百分点。

分地区看，东部地区投资同比增长 4.3%，增速比 1-2 月份提高 1 个百分点；中部地区投资增长 9.6%，增速提高 0.2 个百分点；西部地区投资增长 7.8%，增速提高 0.2 个百分点；东北地区投资增长 2.9%，增速回落 2.8 个百分点。

分登记注册类型看，内资企业投资同比增长 6.4%，增速与 1-2 月份持平；港澳台商投资增长 2.8%，增速提高 2.8 个百分点；外商投资增长 8.7%，增速提高 5.3 个百分点。

126、2018 年 1—2 月，全国固定资产投资（不含农户）约为多少万亿元？

- A. 2.51
- B. 3.87
- C. 4.23
- D. 4.79

127、2019 年 1—2 月，全国固定资产投资（不含农户）中第三产业投资所占比重约为多少？

- A. 67.0%
- B. 65.0%
- C. 33.4%
- D. 30.9%

128、2019 年 3 月民间固定资产投资额约为多少亿元？

- A. 19360
- B. 34529
- C. 36205
- D. 57022

129、2019 年 1—2 月，分地区看，投资同比增速最快的地区是哪个？

- A. 东部地区
- B. 中部地区
- C. 西部地区
- D. 东北地区

130、根据以上资料，下列说法中不正确的是：

- A. 2018 年，第一产业固定资产投资增长 12.9%
- B. 2019 年 1—3 月，采矿业投资比道路运输业基础设施投资增速快
- C. 2019 年 1—3 月，分产业看，第三产业投资同比增速最快
- D. 2019 年 1—2 月，从登记注册类型看，外商投资同比增速最快

## 参考答案

1、正确答案：C

解析

第一步，本题考查文学。

第二步，“大鹏之功，非一羽之轻也；骐骥之速，非一足之力也”出自汉代王符所著的《潜夫论·释难》。意思是：大鹏冲天飞翔，不是靠一根羽毛的轻盈；骏马急速奔跑，不是靠一只脚的力量。习近平总书记引用此典故意在表明：中国要飞得高、跑得快，就得依靠 13 亿人民的力量。

因此，选择 C 选项。

A 项：《道德经》是春秋时期老子（李耳）的哲学作品，又称《道德真经》《老子》《五千言》《老子五千文》，是道家哲学思想的重要来源。

B 项：《孟子》是战国时期孟子及其弟子万章、公孙丑等所著。书中记载有孟子及其弟子的政治、教育、哲学、伦理等思想观点和政治活动。

D 项：《论语》是孔子及其弟子的语录结集，由孔子弟子及再传弟子编写而成，至战国前期成书。全书以语录体为主，叙事体为辅，主要记录孔子及其弟子的言行，较为集中地体现了孔子的政治主张、伦理思想、道德观念及教育原则等。

2、正确答案：D

解析

第一步，本题考查时政知识。

第二步，2012 年，中国共产党召开第十八次全国代表大会，会议报告中提出到 2020 年“全面建成小康社会”的任务。为完成全面建成小康社会的目标任务，以习近平同志为核心的党中央先后提出“全面深化改革”“全面依法治国”“全面从严治党”等方略。在习近平总书记提出的“四个全面”理论框架体系中，全面建成小康社会是新时期党和国家各项工作的总目标，处于引领地位。全面建成小康社会注重的是经济、社会和公民素质的全面提升。

因此，选择 D 选项。

A 项：2013 年，十八届三中全会就全面深化改革的若干问题作出重要决定，提出全面深化改革的指导思想、目标任务、重大原则。

B 项：2014 年 10 月，十八届四中全会对全面推进依法治国作出全面的战略部署。

C 项：2014 年 10 月，习近平总书记在群众路线教育实践活动总结大会上，进一步提出全面推进从严治党的要求，并对全面推进从严治党进行了部署。

3、正确答案：B

解析

第一步，本题考查时政常识并选错误项。

第二步，河北省委九届六次全会强调，当前和今后一个时期，我省经济社会发展的基本思路是，抓好三件大事、打好六场硬仗、实施八项战略、深化九项改革。三件大事即推进京津冀协同发展、规划建设雄安新区、筹办北京冬奥会。

因此，选择 B 选项。

六场硬仗即防范化解重大风险的硬仗、精准脱贫的硬仗、污染防治的硬仗、转型升级的硬仗、补齐民生短板的硬仗、优化营商环境的硬仗。其中精准脱贫属于六场硬仗，不属于三件大事。

4、正确答案：B

解析

第一步，本题考查物理常识。

第二步，白炽灯长期使用灯泡会变黑，是固态钨附着在上面，灯泡发光时温度升高，固态钨丝升华变成气态，当灯泡熄灭时温度降低，气态钨凝华再变成固态附着在灯泡里面，使灯泡变黑。

因此，选择 B 选项。

A 项：物质从气态变为液态的过程叫液化。冬天，嘴里呼出的“白气”，是由嘴中呼出的水蒸气遇冷发生液化而形成的小水珠，属于液化现象。

C 项：干冰是固态二氧化碳，常温下会迅速由固态变为气态，属于升华现象。

D 项：物质由固态直接变成气态叫升华。冬天房顶积雪虽未融化，却逐渐减少属于升华现象。

5、正确答案：C

解析

第一步，本题考查科技常识。

第二步，“今天白天”是指上午 8：00 到晚上 20：00 这 12 个小时；“今天夜间”指 20：00 到次日早上 8：00 这 12 个小时。

因此，选择 C 选项。

6、正确答案：D

解析

第一步，本题考查地理国情并选错误项。

第二步，京杭大运河途径浙江、江苏、山东、河北四省及天津、北京两市。D 选项中京杭大运河途径河南的说法有误。

因此，选择 D 选项。

A 项：2014 年 6 月 22 日，第 38 届世界遗产大会宣布，中国大运河项目成功入选世界文化遗产名录，成为中国第 46 个世界遗产项目。

B 项：京杭大运河是世界上里程最长、工程最大的古代运河，也是最古老的运河之一，与长城、坎儿井并称为中国古代的三项伟大工程，并且使用至今，是中国古代劳动人民创造的一项伟大工程，是中国文化地位的象征之一。

C 项京杭大运河贯通海河、黄河、淮河、长江、钱塘江五大水系，全长约 1797 公里。



7、正确答案：C

解析

第一步，本题考查“一带一路”国际合作高峰论坛。

第二步，第二届“一带一路”国际合作高峰论坛，于 2019 年 4 月 25 日到 27 日在北京举行，论坛以“共建‘一带一路’、开创美好未来”为主题，核心内容是推动“一带一路”合作实现高质量发展。

因此，选择 C 选项。

“一带一路”国际合作高峰论坛是中国政府主办的高规格论坛活动，主要包括开幕式、圆桌峰会和高级别会议三个部分。第一届“一带一路”国际合作高峰论坛于 2017 年 5 月 14 日至 15 日在北京举行，29 位外国元首、政府首脑及联合国秘书长、红十字国际委员会主席等 3 位重要国际组织负责人出席高峰论坛。第一届高峰



论坛召开时，中国与与会各方达成了很多合作共识和举措，形成了 270 多项成果，截至 2019 年 1 月，已经全部按计划进度完成，其中有的成果还转入了常态化工作，将持续予以推进。

8、正确答案：D

解析

第一步，本题考查重大改革的时间排序。

第二步，①上海自贸区成立于 2013 年 9 月 29 日；②2017 年 4 月 1 日，中共中央、国务院决定在雄县、容城、安新 3 县及周边区域设立的国家级新区；③2015 年 10 月中共十八届五中全会决定：坚持计划生育的基本国策，完善人口发展战略，全面实施一对夫妇可生育两个孩子政策，积极开展应对人口老龄化行动；④乡村振兴战略是习近平同志 2017 年 10 月 18 日在党的十九大报告中提出的战略。按照实施时间的先后顺序，应为①③②④。因此，选择 D 选项。

①上海自贸区全称为中国（上海）自由贸易试验区，是中国政府设立在上海的区域性自由贸易园区，位于浦东境内，属中国自由贸易区范畴。

②雄安新区的设立，对于集中疏解北京非首都功能，探索人口经济密集地区优化开发新模式，调整优化京津冀城市布局和空间结构，培育创新驱动发展新引擎，具有重大现实意义和深远历史意义。

③二孩政策，是中国实行的一种计划生育政策，规定符合条件的夫妇允许生育“二胎”。因为是二孩政策，故第一胎为多孩时，不可生二胎。2011 年 11 月，中国各地全面实施双独二孩政策；2013 年 12 月，中国实施单独二孩政策；2015 年 10 月，中国共产党第十八届中央委员会第五次全体会议公报实施全面二孩政策。

④2017 年 12 月 29 日，中央农村工作会议首次提出走中国特色社会主义乡村振兴道路，确立了乡村振兴的总要求：产业兴旺、生态宜居、乡风文明、治理有效、生活富裕。

9、正确答案：B

解析

第一步，本题考查文化常识。

第二步，西席：即“老师”。古人除了尊称老师为“夫子”、“先生”、“恩师”外，还经常尊称为“西席”。因此，选择 B 选项。

A 项：“客官”则是旧时店家、船家等对顾客、旅客的尊称。

C 项：人们常用乘龙快婿、东床等指代女婿，另外还有金龟婿、附马等称呼。

D 项：古代多称医生为大夫或郎中。

10、正确答案：C

解析

第一步，本题考查任职回避常识。

第二步，《公务员法》第 68 条规定，公务员之间有夫妻关系、直系血亲关系、三代以内旁系血亲关系以及近姻



亲关系的，不得在同一机关担任双方直接隶属于同一领导人员的职务或者有直接上下级领导关系的职务，也不得在其中一方担任领导职务的机关从事组织、人事、纪检、监察、审计和财务工作。

因此，选择 C 选项。

A 项：根据《公务员法》第 68 条规定，小张和其妻子虽然在厅级机关分别任不同的处长，但是两个人是属于规定中的直接隶属于同一行政首长的情况，按照规定应当回避。

B 项：老李和其女儿属于直系血亲，公务员之间有直系血亲关系的，不得在有直接上下级领导关系的职位工作。老李作为其女儿的直接上级，违反了规定。

C 项：根据《公务员法》第 68 条规定，小刘和其妻子虽然是夫妻关系，但是两个人的直接隶属领导人并不是同一人。两个人同为科员，也不是直接上下级领导关系的职位。小刘虽然从事有关财务工作，但是其妻子并未担任相关的领导职务，并没有违反规定。

D 项：根据《公务员法》第 68 条规定，老周和其妻子是夫妻关系，不得在其中一方担任领导职务的机关从事组织、人事、纪检、监察、审计和财务工作。老周作为副厅长其妻子却担任该厅的人事工作，违反了规定。

11、正确答案：A

解析

第一步，本题考查刑法常识。

第二步，根据《中华人民共和国刑法》第 382 条的规定，贪污罪是指国家工作人员利用职务上的便利，侵吞、窃取、骗取或者以其他手段非法占有公共财物的行为。受国家机关、国有公司、企业、事业单位、人民团体委托管理、经营国有财产的人员，利用职务上的便利，侵吞、窃取、骗取或者以其他手段非法占有国有财物的，以贪污罪论。孙某作为县委办公室的公务员，属于国家工作人员，非法占有公共财产，属于贪污。

因此，选择 A 选项。

B 项：根据《中华人民共和国刑法》第 271 条规定，职务侵占罪是指公司、企业或者其他单位的人员，利用职务上的便利，将本单位财物非法占为己有，数额较大的行为。吴某不是公司、企业或者其他单位的人员。说法错误。

C 项：根据《中华人民共和国刑法》第 385 条的规定，受贿罪指国家工作人员利用职务上的便利，索取他人财物，或者非法收受他人财物，为他人谋取利益的行为。受贿罪侵犯了国家工作人员职务行为的廉洁性及公私财物所有权。吴某并没有索取他人财物，或者非法收受他人财物，为他人谋取利益。

D 项：根据《中华人民共和国刑法》第 396 条的规定私分国有资产罪是指国家机关、国有公司、企业、事业单位、人民团体，违反国家规定，以单位名义将国有资产集体私分给个人，数额较大的行为。吴某并没有以单位名义将国有资产集体私分给个人，而孙某属于。

12、正确答案：D

解析

第一步，本题考查时政并选错误选项。

第二步，1978年12月15日中美两国发表的《中华人民共和国和美利坚合众国关于建立外交关系的联合公报》（《中美建交公报》），1979年1月1日正式生效，中美正式建交。中美上海联合公报是1972年的，简称上海公报。

因此，选择D选项。

A项：金砖国家（BRICS），因其引用了巴西（Brazil）、俄罗斯（Russia）、印度（India）、中国（China）、和南非（South Africa）的英文首字母。由于该词与英语单词的砖（Brick）类似，因此被称为“金砖国家”。

B项：马歇尔计划，官方名称为欧洲复兴计划，是第二次世界大战结束后，美国对被战争破坏的西欧各国，进行经济援助、协助重建的计划，对欧洲国家的发展和世界政治格局产生了深远的影响。

C项：“一带一路”是“丝绸之路经济带”和“21世纪海上丝绸之路”的简称。C项表述不够严谨，但D项是知识点错误，错误明显，本题应选D项。

13、正确答案：B

解析

第一步，本题考查我国自然地理。

第二步，我国夏季气温分布的主要特点是夏季大多数地区普遍高温，南北方气温相差不大。青藏高原由于地势高，空气稀薄，是我国夏季气温最低的地方。说法正确。

因此，选择B选项。

A项：秦岭——淮河一线是我国湿润区与半湿润区界限，湿润地区和半湿润地区分别位于分界线南北两侧。长白山位于吉林省白山市东南部，在秦岭淮河以北地区，不属于湿润地区。

B项：我国夏季气温普遍高温的原因是夏季太阳直射点在北半球，我国北方正午太阳高度小，白昼长，地面获得的热量与南方相差不大；南方地区正午太阳高度较大，但白昼短，地面获得的热量比北方稍多，因此呈现出全国普遍高温的特点。

C项：生长期是指一年中植物显著可见的生长期间，也称为生季。无霜期是指一年中终霜后至初霜前没有霜出现的一整段时间。农作物的生长期与无霜期有密切关系。无霜期愈长，生长期也愈长，一般把无霜期作为喜温作物的生长期。

D项：本项中所描述的是河北的气候特点而不是天气特点。气候是长时间内气象要素和天气现象的平均或统计状态，时间尺度为月、季、年、数年到数百年以上；天气是一定区域短时段内的大气状态（如冷暖、风雨、干湿、阴晴等）及其变化的总称。本题中春季、夏季、秋季、冬季时间尺度均为“季”，是一“季”中气象要素和天气现象的平均或统计状态。

14、正确答案：A

解析

第一步，本题考查地理常识。

第二步，贝加尔湖位于俄罗斯东西伯利亚南部，是世界第一深湖、也是世界上蓄水量最大的淡水湖。湖淡水储量达到了全世界总量的五分之一。长 636 千米，平均宽 48 千米，面积为 3.15 万平方千米，由地层断裂陷落而成。

因此，选择 A 选项。

B 项：里海是咸水湖，其面积和容积都是湖泊中最大的，位于欧洲和亚洲的交界处。

C 项：维多利亚湖位于东非高原，在淡水湖中面积世界第二，蓄水量世界第七。

D 项：苏必利尔湖是北美五大湖之一，在淡水湖中面积世界第一，蓄水量世界第三。

15、正确答案：A

解析

第一步，本题考查地理常识并选错误项。

第二步，火山喷发是一种地质现象，是地壳运动的一种表现形式，也是地球内部热能在地表的一种最强烈的显示。所以火山喷发、地震等能量来源于地球内部，与太阳辐射无关。

因此，选择 A 选项。

B 项：风是太阳辐射热引起的。太阳光照射在地球表面上，使地表温度升高，地表的空气受热膨胀变轻而往上升。热空气上升后，低温的冷空气横向流入，上升的空气因逐渐冷却变重而降落，由于地表温度较高又会加热空气使之上升，这种空气的流动就产生了风。

C 项：煤炭是千百年来远古生物的死亡的残骸，腐烂之后在地面上堆积而成的一层极厚的黑色的腐化的物质，由于地壳的变动不断地埋入地下，长期与空气隔绝，并在高温高压下，经过一系列复杂的物理化学变化等因素，形成的黑色可燃沉积岩。其中这些生物体内的能量直接或间接地来自太阳辐射。

D 项：植物的生长需要光合作用，太阳辐射是植物生长必不可少的重要条件。

16、正确答案：A

解析

第一步，本题考查人文常识。

第二步，中国国粹，是指完全发源于中国，中国固有文化中的精华，中国的三大国粹是：中国京剧、中国医学和中国画。京剧，曾称平剧，中国五大戏曲剧种之一，2010 年 11 月 16 日，京剧被列入“世界非物质文化遗产代表作名录”。中国医学，又称汉医、国医，2018 年 10 月 1 日，世界卫生组织首次将中医纳入其具有全球影响力的医学纲要。中国画，又被称为丹青，是我国传统造型艺术之一。

因此，选择 A 选项。

B 项：儒学即儒家思想，它是中国影响最大的流派，也是中国古代的主流意识。针灸是中国医学的重要组成部分，在远古时代就已有发展。

C项：中国是瓷器的故乡，瓷器是中国的伟大发明创造之一。书法是中国汉字的独特传统艺术。

D项：茶艺起源于中国，但在元代以后衰落。昆曲被誉为“百戏之祖”。中国武术享誉中外，有一种说法是，中国的四大国粹是指中国武术、中国医学、中国京剧和中国书法。

17、正确答案：B

解析

第一步，本题考查人文常识并选错误项。

第二步，B项出自宋代晏殊的《中秋月》，通过诗中意象“素娥”、“玉蟾”等可得知诗句描写与嫦娥、月亮有关，进而推断出诗句应当描写的是中秋节，而非七夕节。

因此，选择B选项。

A项：出自宋代辛弃疾的《青玉案·元夕》，可从“东风夜放花千树”、“一夜鱼龙舞”中得知描写的是夜晚人潮观灯，所以对应的节日是元宵节。

C项：出自唐代韦应物的《清明日忆诸弟》，可从“冷食”推测出“寒食”，所以对应节日为寒食节。

D项：出自唐朝诗人曹松的《中秋对月》，可从“秋三五”、“蟾盘”，得知诗中描写了中秋时节和满月，所以对应的节日是中秋节。

18、正确答案：A

解析

第一步，本题考查体育常识并选错误项。

第二步，男子竞技体操项目包括有自由体操、鞍马、吊环、跳马、双杠和单杠共六个项目；女子竞技体操项目包括有跳马、高低杠、平衡木和自由体操共四个项目。

因此，选择A选项。

B项：1979年1月，邓小平在接见体委负责人时就说过：“增加‘娃娃’的事，要专门写个报告，要包括军队在内……足球不从娃娃抓起，是搞不上去的。”

C项：2020年东京奥运会，新增混双项目，增加1枚金牌，乒乓球金牌数增加为5枚，即男单、女单、男团、女团、混双。

D项：中国的传统优势项目包括射击、乒乓球、羽毛球、跳水、举重、体操、柔道和女排，此8项在雅典奥运会上收获了24枚金牌。在伦敦和里约奥运会中，孙杨一共获得了男子200米、400米和1500米自由泳金牌，成为了中国男子游泳首位奥运冠军。

19、正确答案：C

解析

第一步，本题考查行政法。

第二步，《治安管理处罚法》第25条规定，有下列行为之一的，处五日以上十日以下拘留，可以并处五百元以

下罚款；情节较轻的，处五日以下拘留或者五百元以下罚款：（一）散布谣言，谎报险情、疫情、警情或者以其他方法故意扰乱公共秩序的；……。杨某的行为造成了不良的社会影响，违反了治安管理处罚法。

因此，选择 C 选项。

A 项：《中华人民共和国刑法》第 290 条规定，聚众扰乱社会秩序罪，是指聚众扰乱社会秩序，情节严重，致工作、生产、营业、教学、科研和医疗无法进行，造成严重损失的行为。杨某行为不属于扰乱社会秩序。

B 项：严重违反社会公德的行为是指拒不承担赡养、抚养、扶养义务的；虐待、遗弃家庭成员的；包养情人等行为。杨某的行为不属于违反社会公德的行为。

D 项：《中华人民共和国刑法》第 246 条第 2 款规定，诽谤罪，是指故意捏造并散布虚构的事实，足以贬损他人人格，破坏他人名誉，情节严重的行为。诽谤行为必须是针对特定的人进行的，不一定要指名道姓，只要从诽谤的内容上知道被害人是谁，就可以构成诽谤罪。杨某并没有针对特定的人物进行诽谤行为，不构成诽谤。

20 、正确答案：D

解析

第一步，本题考查科举制度。

第二步，明朝科举考试分为童试、乡试、会试、殿试四级。

取得生员资格的入学考试叫童试，也叫小考、小试。童试包括县试、府试和院试三个阶段。院试由各省学政主持，学政又名提督学院，故称这级考试为院试。院试合格者称生员，俗称秀才。

乡试是由南、北直隶和各布政使司举行的地方考试。地点在南、北京府、布政使司驻地。每三年一次，逢子、卯、午、酉年举行，又叫乡闈。考试的试场称为贡院。考期在秋季八月，故又称秋闈。乡试考中的称举人，俗称孝廉，第一名称解元，第二名称至第十名称亚元。放榜之时，正值桂花飘香，故又称桂榜。放榜后，由巡抚主持鹿鸣宴。席间唱《鹿鸣》诗，跳魁星舞。

会试是由礼部主持的全国考试，又称礼闈。于乡试的第二年即逢丑、辰、未、戌年举行。全国举人在京师会试，考期在春季二月，故称春闈。主考官称总裁，又称座主或座师。因为当时正值阳春四月，杏花绽放，故称杏榜。

会试放榜，可谓杏榜题名，得中者就是贡士，杏榜的头名就是会元。

殿试在会试后当年举行。应试者为贡士。贡士在殿试中均不落榜，只是由皇帝重新安排名次。殿试由皇帝亲自主持，只考时务策一道。录取分三甲：一甲三名，赐进士及第，第一名称状元、鼎元，二名榜眼，三名探花，合称三鼎甲。二甲赐进士出身，三甲赐同进士出身。二、三甲第一名皆称传胪。一、二、三甲通称进士。进士榜称甲榜，或称甲科。进士榜用黄纸书写，故叫黄甲，也称金榜，中进士称金榜题名。

因此，选择 D 选项。

21 、正确答案：B

解析

第一步，分析第一空。根据“将一门技术掌握到\_\_\_\_\_绝非易事”可知，文段第一个空应该填入表示掌握技术水平高的词语。A项“出神入化”形容技艺高超达到了绝妙的境界，符合语境。B项“炉火纯青”比喻功夫达到了纯熟完美的境界，符合语境。C项“融会贯通”指把各方面的知识和道理融化汇合，得到全面透彻的理解；D项“尽善尽美”指完美到没有一点缺点。C项和D项不符合语境，同时排除。

第二步，分析第二空。A项“遥遥领先”指远远地走在最前面。B项“出类拔萃”超出同类之上。多指人的品德才能。代入“没有超今冠古的追求，怎有\_\_\_\_\_的卓越”中，表示“超今冠古的追求”让自己能够“远远地超出对手”，B项更符合语境。

因此，选择B选项。

更胜一筹：指技艺或技能超过别人，更加超过一等。脱颖而出：锥尖透过布囊显露出来，比喻本领全部显露出来。

22、正确答案：A

解析

第一步，突破口在第二空。根据“万马奔腾、\_\_\_\_\_的壮丽景象”可知，文段第二个空所填词语要和万马奔腾并列且共同修饰景象。“万马奔腾”指成千上万匹马在奔跑腾跃，形容群众性的活动声势浩大或场面热烈，在此处表示河流流动时候的壮观。A项“一泻千里”形容江河奔流直下，流得又快又远，也比喻文笔或乐曲气势奔放。也形容价格猛跌不止，置于此处，符合语境。B项“一碧万顷”指形容青绿无际，文段中并没颜色的描述，不符合语境，排除B项。C项“一往无前”意思为一直往前，无所阻挡，形容勇猛无畏地前进，至于此处，不符合语境，排除C项。D项“一望无际”指一眼望不到边，形容非常辽阔，不符合语境，排除D选项。答案锁定A项。

第二步，验证第一空。“辉煌”指光辉灿烂，“唱出了远古文明的辉煌”，呼应前文的“赞歌”，符合语境。因此，选择A选项。

繁荣：指自己的事业蓬勃发展。或者指草木茂盛，也指经济或事业蓬勃发展；经济昌盛，繁荣经济，一事物发展到顶盛的时期。兴盛：繁荣，旺盛。

23、正确答案：D

解析

第一步，分析第一空。根据“\_\_\_\_\_的感情，”可知，C项“非凡”指的是出色的或出众的，搭配“感情”不合适，排除C项。

第二步，分析第二空。根据“对春天的希望”可知，填入的词语与“希望”相近相关。“希望”指心愿、理想。B项“追求”指努力求索，放在此处不合适，排除B项。

第三步，分析第三空。填入的成语修饰“表达”，A项“酣畅淋漓”形容非常畅快、舒适，常指文章绘画，文艺作品感情饱满，笔意流畅，情感得到充分抒发，放在此处不合适，排除A项。D项“淋漓尽致”形容文章或



说话表达得非常充分、透彻，或非常痛快，符合文意。

因此，选择D选项。

浓郁：香气、色彩、气氛等浓厚。浓厚：强烈的。深厚：感情深切浓厚。遐想：悠远地思索或想象。寄语：传话给某人。一览无余：形容建筑物的结构没有曲折变化，或诗文内容平淡，没有回味。毫无保留：一点都没有剩余。畅想：无拘无束地尽情想象。

24、正确答案：B

解析

第一步，分析第一空。根据“\_\_\_\_\_而又朴拙的词汇”可知，A项“中性”一般指处于两种相对性质之间的性质，也指某些语言名词（以及代词、形容词、动词）的性质。搭配“词汇”不合适，排除A项。C项“古老”指陈旧的，时代久远的，语义不合适，排除C项。

第二步，分析第二空。“在理解和使用上应该有所\_\_\_\_\_”，横线后面的内容是解释说明的部分。根据“否则就会混淆……”可知，D项“取舍”指采取或舍弃，语义不合适，排除D项。B项“界定”指划分，放在此处正合适。答案锁定B选项。

第三步，验证第三空。“粗野”指言语、举动粗鲁无礼，符合文意。

因此，选择B选项。

原始：古老的，未经开发的。野性：不驯顺的性情，也指喜爱自然，乐居田野的性情。限制：不让超过的界限。区分：划分，区别，辨别，分辨。粗鲁：不文明。粗野：不文雅。粗放：指粗耕粗种，不追求单位面积产量，而依靠扩大耕地面积来提高产品总量的农业经营方式。粗疏：疏略；不精细。

25、正确答案：D

解析

第一步，分析第一空。该空所填词语与“成熟的麦穗在阳光下低垂着头”照应。A项“谦逊”指谦虚、不浮夸、低调、不自满；C项“谦卑”指谦虚，不自高自大；D项“谦虚”指虚心，不夸大自己的能力或价值。三者均符合语境。B项“谦让”指谦虚地礼让或退让，文中并没有“礼让”之意，排除B项。

第二步，分析第二空。该空所填词语与“忙碌的蜜蜂在田野里采集花粉”照应，要表达的是“辛勤劳动”之意。A项“辛劳”指辛苦劳作；C项“勤奋”意思是认认真真，努力干好一件事情，不怕吃苦，踏实工作；D项“勤劳”指辛勤劳作，努力生产物质财富和精神财富。三者均符合文意。

第三步，分析第三空。该空所填词语与“柔弱的水珠在四季轮回中滴穿顽石”照应，表达“滴水穿石”的韧性。A项“坚守”指坚决守卫，坚持守护，语义不符，排除A项。C项“执着”指对某一事物坚持不放，不能超脱，亦指对某种事物追求不舍。而D项“坚韧”指在遭遇身体及精神困难、压力时，坚持而不放弃的忍耐力，即面对危险与灾难时精神的坚定、坚强的忍耐力，能照应“柔弱的水珠”滴穿“顽石”的艰难，更符合文意，排除

C项。

因此，选择D选项。

辛勤：①勤劳而肯于吃苦；②殷勤，指情意恳切深厚。坚持：即意志坚强，坚韧不拔，持即持久，有耐性。

26、正确答案：A

解析

第一步，分析第一空。文段要填入的词语表示“困境”之意。A项“困境”指困难的处境；B项“困顿”指艰难窘迫；D项“困难”指处境艰难、生活穷困。三者均符合文意。C项“困惑”指感到疑难，不知所措，语义不符，排除C项。

第二步，分析第二空。该空所填词语与“智慧”搭配。A项“启迪”指开导，启发，符合文意。B项“彰显”指显赫，鲜明地显示，“彰显智慧”搭配合适，但是文段并不是要表达智慧“显示出来”的意思，排除B项。D项“增益”指增加，增添，“增益智慧”指增加智慧，符合文意。

第三步，分析第三空。A项“抚慰”指抚恤、安慰，“抚慰心灵”为常用搭配，符合文意。D项“安抚”指安慰、抚慰发怒或焦虑的人，“安抚心灵”搭配不当，排除D项。

因此，选择A选项。

启发：指开导指点或阐明事例，引起对方联想并有所领悟。慰藉：安慰、抚慰。抚恤：安抚体恤。

27、正确答案：C

解析

第一步，分析第一空。根据“大部分的自然环境，若非人类加工\_\_\_\_\_”可知，横线处需填入一个动词搭配“自然环境”。A项“整理”指整顿、收拾使有条理有秩序，不能搭配“自然环境”，排除A项。D项“修理”指对已损坏的东西给予加工，以便恢复原来的形状或作用，不能搭配“自然环境”，排除D项。

第二步，分析第二空。根据“大部分的自然环境，若非人类加工\_\_\_\_\_，根本不适合人类生存，更谈不上美丽”可知，未经人类加工的自然环境并不美丽，未经加工即纯天然，B项“完美无瑕”指完美，达到最好标准，与文意矛盾，排除B项。C项“素颜天然”指未化妆打扮，纯天然，符合文意。

第三步，验证第三空。搭配的对象是“气力”。C项“耗费气力”指使用消耗了力气，为常见搭配，符合文意。

因此，选择C选项。

天生丽质：形容女子妩媚艳丽。浪费：对人力、财物、时间等用得不当或没有节制。花费：因使用而消耗掉。魅力十足：非常有诱惑力和吸引力。付出：交出（款项、代价等）。

28、正确答案：B

解析

第一步，突破口在第二空。根据“、”可知，横线所填成语与“因循守旧”为并列关系，表意相近。“因循守旧”指的是沿袭旧规，不思革新，死守老一套，缺乏创新的精神。A项“冥顽不化”形容人非常顽固，不



通情达理，文段强调的是“全面依法治国”，而非人的特点，不符文意，排除A项。B项“墨守成规”指思想保守，守着老规矩不肯改变，与“因循守旧”表意相近，符合文意。C项“食古不化”指对所学的古代知识理解得不透，不善于按现在的情况来运用，文中并未提及“所学的古代知识”，不符文意，排除C项。D项“茕茕子立”意思是孤独无依地站着，形容孤苦伶仃，不符文意，排除D项。

第二步，验证第一空。根据后文“突出中国特色、实践特色、时代特色”可知，全面依法治国要符合中国特有的具体的情况。B项“从我国实际出发”符合文意。

因此，选择B选项。

国情：一个国家的社会性质、政治、经济、文化等方面的基本情况和特点，也特指一个国家某一时期的基本情况和特点。现状：目前的状况。现实：①客观存在的事物；②符合实际情况，真实。

29、正确答案：A

解析

第一步，分析第一空。所填词形容“这种……的精神”是指紫荆花的叶子的精神，由“韧性”“无论风吹雨打，那叶子从不轻易飘落……从没有寒冷中退缩”可知，紫荆花的叶子具有经历风雨和打击仍然勇敢坚定不退缩的精神。A项“坚韧不拔”形容意志坚定，不可动摇，符合文意。B项“持之以恒”意为长久坚持下去，不符文意，排除B项。C项“百折不挠”指无论受到多少挫折都不退缩，比喻意志坚强，品节刚毅，符合文意。D项“坚定不移”指稳定坚强，毫不动摇；不放弃，符合文意。

第二步，分析第二空。由“为花输送养料……”“衬托那美丽的花朵”以及“绿叶这样的奉献精神”可知，要填入体现绿叶无私奉献精神的词。A项“默默无闻”指做事无声无息，无人知晓，做了好事不声张，不图名利，安安心心守本分，做好自己应该做的。可以体现绿叶的奉献精神，符合文意。C项“风雨无阻”比喻做事没有阻碍，畅通无阻，不符文意，排除C项。D项“尽心竭力”指费尽心思，使出全力，形容做事十分认真，不符文意，排除D项。

因此，选择A选项。

心甘情愿：形容完全出于自愿，不是别人强求的，一点也不勉强，表示是很乐意的。

30、正确答案：D

解析

第一步，分析第一空。修饰“花开的香气”，由空前的递进关联词“更”可知，第一空要填入与“常有”意思相近程度更深的词。A项“见怪不怪”指遇见怪异现象而不惊异。不能表示比“常有”程度更深之意，排除A项。B项“唾手可得”比喻毫不费力就可以得到，不符文意，排除B项。C项“习以为常”指常做某种事情或常见某种现象，成了习惯，就觉得很平常了，符合文意。D项“司空见惯”指某事常见，不足为奇，符合文意。

第二步，分析第二空。由转折关联词“但是”可知，转折前后意思相反，即转折之前介绍“常有”，转折之后

应表示不常见之意，由空前的否定词“很不”可知，此处应填入表示常见之意的词。C项“平凡”指没有值得注意的事件；不高傲，不崇高；平常的能力和價值等意思。强调平庸、普通之意，不能体现常见之意，不符合文意，排除C项。D项“寻常”指很平常的事情，经常，平时等，符合文意。答案锁定D选项。

第三步，验证第三空。因花香而沉醉，搭配得当。

因此，选择D选项。

单纯：①简单纯一，不复杂；②单一。简单：指不复杂；头绪少；也指草率；不细致、平凡等。迷乱：①迷惑错乱；②指迷失；③使迷惑错乱。沉迷：指深深地沉溺于某事物。陶醉：忘我地沉浸在某种境界或思想活动中。沉醉：比喻深深地迷恋某种事物，沉浸在某种境界里。

31、正确答案：B

解析

第一步，分析第一空。根据后文中“清俊之风”可知，横线要表达的意思是清新俊美之风，根据选项，A项“孤傲”指高傲，超然，不符合文段含义，排除A项。根据后文中“正暗合”这个提示性信息可知，B项“隐逸”指隐遁飘逸，符合文意。C项“脱俗”指脱离庸俗，不符合文意，排除C项。D项“飘逸”指洒脱自然，不符合文意，排除D项。

第二步，验证第二空。代入B项“气质”一词，暗合了“缥瓷”的气质，搭配恰当。

因此，选择B选项。

风骨：指诗文书画雄健有力的风格、气派。也指人的品格，含有刚强的意思。内涵：即表达一个概念所反映事物的本质属性总和，也表达内在的涵养。风格：指气度、作风。

32、正确答案：C

解析

第一步，分析第一空。所谓书卷气，是一种气质，要形容气质，气质有雅俗之别而无贵贱之分，A项“高贵”，不符合文意，排除A项。

第二步，分析第二空。根据提示性信息，“浊俗可以变成清雅”两个词应是对立相反的意思，“奢华”指奢侈豪华，B项“低调”形容和缓而不张扬，不能形成相反意思，排除B项。C项“淡泊”指名利淡漠，不看重；家道清贫；恬淡寡欲，和前文形成对立含义，符合文意。D项“质朴”形容朴实不矫饰，和前文形成对立关系，符合文意。

第三步，分析第三空。“偏激”指思想、主张、言论等过火，有失公允，侧重激烈。C项“平和”指温和平静，能够形成对立关系。D项“温顺”指温和顺从，不能形成对立关系，排除D项。

因此，选择C选项。

淡然：漫不经心、毫不在意的样子。又形容淡泊名利，漠然，颜色浅淡等。谦和：谦虚和蔼。平静：平和、安静、宁静与强烈、喧嚣相反。

33 、 正确答案： A

解析

第一步，分析第一空。根据“神舟七号航天团队\_\_\_\_\_的团结精神”可知，该空搭配的是“团结精神”。C项“休戚与共”指忧喜、祸福彼此共同承担，用在这里语义较重，不符合语境，排除C项。

第二步，分析第二空。根据“让嫦娥的舞姿\_\_\_\_\_完美”可知，该空需要体现出神舟七号的团队的工作作风很严谨，B项“近乎”指接近，用在这里语义较轻，不符合文意，排除B项。

第三步，分析第三空。根据“永恒地\_\_\_\_\_在浩瀚无垠的天空”可知，该空需要体现出时间的长久性，而且后面搭配的是“浩瀚无垠的天空”。D项“凝聚”指气体由稀变浓或变成液体，与“浩瀚无垠的天空”矛盾，不符合语境，排除D项。A项“镌刻”指雕刻，符合语境。

因此，选择A选项。

同舟共济：比喻团结互助，同心协力，战胜困难。也比喻利害相同。众志成城：大家齐心协力，就像城墙一样的牢固。比喻大家团结一致，就能克服困难。同心协力：有共同的意愿和目标，大家一起出力合作。

34 、 正确答案： C

解析

第一步，突破口在第二空。“一排排”侧重于整齐，A中的“错落有致”和D项的“参差错落”往往强调不整齐，所以排除A、D两项。

第二步，分析第三空。根据“这些，构成了这座\_\_\_\_\_而美丽动人的古城”可知，该空需要体现出古城经历了很多，B项“淳朴厚重”一般形容人十分诚实，很朴素或比较老实，不符合文意，排除B项。

因此，选择C选项。

饱经沧桑：形容经历过很多世事变迁。错落有致：形容事物的布局虽然参差不齐，但却极有情趣，使人看了有好感。井然有序：整整齐齐，次序分明，条理清楚。小巧玲珑：形容小而灵巧、精致

35 、 正确答案： A

解析

第一步，分析第一空。横线前的“广”和“新”强调的是“智慧”与“知识”的不同点，转折之后，句意应为“但两者又非绝对不同”，所以此空应体现“不同”之意。C项“等同”不符合语境，排除C项。

第二步，分析第二空。所填词语与“只死读书，而无己见，无创意”相呼应。A项“学究”多指迂腐的读书人，与前文“只死读书”相呼应，符合语境。B项“古董”多指思想跟不上时代的人，与语境不符，排除B项。“只死读书，而无己见，无创意（的人）”省略了主语“人”，代入D项“束缚”后主宾搭配不当，人不能成为束缚，排除D项。

因此，选择A选项。

36 、 正确答案： D

解析

第一步，分析第一空。根据“在我们赖以生存的绿色地球上，\_\_\_\_\_着几块色彩斑斓的陆地”可知，该空填入的词搭配“陆地”且与“着”连用。A项“嵌入”一般不与“着”连用，排除A项。B项“勾画”与C项“勾勒”均侧重于用线条描画出轮廓，与“陆地”搭配不恰当，排除B项和C项。D项“镶嵌”指将一个物体嵌入另一个物体中，使二者固定，与“陆地”搭配恰当且符合此处语境，答案锁定D项。

第二步，验证第二、三空。“充盈着辽阔的蓝色水域”与“赋予这个星球以绿色的情调和生命的意义”均搭配恰当且符合语境。

因此，选择D选项。

37、正确答案：B

解析

第一步，分析第一空。根据语境可知，该空和“无知”意思相近，形容中国学生不喜欢汉语言文学，不喜欢诗词歌赋，是对中国传统文化的一种态度。C项、D项中的“凄然”的意思是凄凉悲伤，语义过重，不符合语境，排除C、D两项。

第二步，分析第三空。“这”指代前面内容，“黄河断流”“欲哭无泪”这两个词对应的应该是“心碎”，A中的“心急”侧重于“心里急躁”，不符合文意，排除A项。

因此，选择B选项。

茫然：失意的样子；模糊不清的样子。心焦：心中着急烦躁。烦急：苛细峻急。心碎：形容悲伤至极。

38、正确答案：C

解析

第一步，分析第一空。根据语境可知，该空是修饰“父母对孩子的期盼”的，应该偏积极色彩，D项“百感交集”的意思是各种感触交织在一起，形容感触很多，心情复杂，意思和感情色彩均不符合，排除；B项“令人神往”意思是使人非常向往，“使人”“令人”与前面的“父母”不搭配，可以说“这令人神往”，“令人心驰神往的地方”，此处与前后搭配不当，故排除。

第二步，分析第二空。根据语境可知此处修饰的是老师的教诲，侧重于教育，“和风细雨”侧重于做事方式和缓，不粗暴，不符合语境，排除A项。

因此，选择C选项。

春风化雨：指适宜于草木生长的风雨，比喻良好的熏陶和教育。贵重：珍贵重要。厚重：丰富而贵重；温厚稳重。

39、正确答案：D

解析

第一步，突破口在第二空。根据题目中的内容“植物与动物之间可以进行复杂的……”可知，这里强调的是植物与动物之间。A项“交际”指人与人之间的交往，不能用来指植物与动物之间，排除A项。B项“对话”侧重的是谈话，也不适合植物与动物之间，排除B项。

第二步，分析第三空。根据文段信息“花的香气可以吸引授粉者，果实的香气可以吸引采摘者”可知，植物授粉是为了繁育下一代。D项“繁衍”指繁殖衍生；使其逐渐增多、增广；使生物数量逐渐增加或增多。符合语境。而C项“发展”是事物从出生开始的一个进步变化的过程，是事物的不断更新。这里并未强调植物和动物的更新与变化，所以排除C项。

第三步，验证第一空。“特殊的气味”搭配恰当，符合语境。

因此，选择D选项。

独特：指特有的，特别的，独一无二、与众不同的。独到：在某种技艺或学识、见解方面与众不同（一般指好的）。延续：照原来样子继续下去；延长下去。交流：交流是信息互换的过程。彼此间把自己有的提供给对方。

40、正确答案：C

解析

第一步，分析第一空。根据文段的提示性信息“雨果笔下‘石头的交响乐’”可知，此处应填入一个词来搭配交响乐。A项“偃旗息鼓”原指隐蔽行军，不暴露目标。现比喻无声无息地停止运动。B项“前功尽弃”以前经过努力得到的成绩完全白费。均与“交响乐”搭配不当，排除A项和B项。C项“戛然而止”形容声音因为被打断而突然终止。此处可以搭配交响乐。D项“曲终人散”意思是万事万物都有消亡的一刻，曲子停息了。人也就都散了。这里并未说到人都离开了，且“曲”与交响乐重复，排除D项。初步锁定答案C项。

第二步，验证第二空。C项“付之一炬”指用火烧毁。符合原文中巴黎圣母院发生大火建筑物被烧毁的意思。因此，选择C选项。

毁于一旦：在一天的功夫全被毁掉。多指长期的劳动成果一下子被毁掉，含惋惜意味。烟消云散：像烟和云消散一样。比喻事物消失无余。黯然凋零：多指草木花叶零落，形容事物衰败或耗减。

41、正确答案：D

解析

第一步，分析文段。前半部分论述“晒娃”与“炫娃”的特点，然后通过设问揭示了高调炫娃给朋友圈的亲朋好友带来意外的伤害，最后通过“比如”举例论证。因此，文段结构属于“分—总—分”，强调的是高调炫娃给亲朋好友心理上带来了伤害。

第二步，对比选项。文段没有说过度“晒娃”的利，而且没有体现作者的呼吁，不属于作者的意图，排除A项；B项属于分论点的曲解，排除B项；根据文段重点，“晒娃”影响了其他人，和其他人有关，排除C项；既然

过度“晒娃”影响了其他人的心理感受，所以“晒娃”要注意其他人的感受。

因此，选择D选项。

42、正确答案：D

解析

第一步，分析文段。文段前半部分论述的是新媒体和传统媒体的优势，然后通过“因此”引导文段的重点，媒体融合大势所趋以及融合之后的积极意义。文段属于“分—总”结构，最后两句是重点。

第二步，对比选项。A项和C项没有体现新媒体与传统媒体的融合，排除；B项“新闻工作者”与文段话题主体不一致，属于无中生有，排除；D项对文段重点进行了同义替换。

因此，选择D选项。

43、正确答案：C

解析

第一步，分析文段，将选项与原文一一对应。

第二步，对比选项。A项曲解文意，原文说的是“人类漫长历史演进”，而不是“控制用火”的历史。B项“被火烧毁木结构建筑最多”属于无中生有，文段提到中国是最有痛切而真实的体会的国家，而不是被火烧毁木结构建筑最多。C项对应“火覆灭历史的信息，也产生新的信息”，符合原文。D项“用来护祐木构建筑的安全”属于无中生有，文段并没有提及“藻井”的具体作用是护祐。

因此，选择C选项。

44、正确答案：B

解析

第一步，分析文段。文段首先介绍我国贫困地区大都处于自然条件恶劣的地区，然后分别介绍这些地区的三个主要特征：一是土地资源总量少，质量不高；二是灾害频繁；三是处于生态敏感地带，易遭破坏且难恢复。文段属于“总—分”结构，主旨句是首句。

第二步，对比选项。B项是文段首句的同义替换项。A项“交通条件差”和C项“基础设施薄弱”属于无中生有，文段并没有提及。D项“生态环境脆弱”表述片面。

因此，选择B选项。

45、正确答案：D

解析

第一步，分析文段。文段首句先进行背景铺垫，阐述了一种现象，即互联网快速普及，使得全球数据爆发增长，对经济发展、社会治理等方面产生了重大的影响。紧接着提出了世界各国的做法，即把推进经济数字化作为实现创新发展的重要动能，并在各方面做了前瞻性布局。文段为“分—总”的结构，最后一句为主旨句。



第二步，对比选项。D项是文段主旨的同义替换。

因此，选择D选项。

A项、B项和C项：“安全问题成为瓶颈”“大数据的政策选择”“利大于弊”文段均未提及，属于无中生有；且偏离文段重点“世界各国把推进经济数字化作为实现创新发展的动能”。

46、正确答案：C

解析

第一步，分析文段。文段首句先引出话题“无我”，紧接着提出习近平主席对“无我”的定义，最后对习近平主席“无我”定义进一步解释说明，这一定义是对“无我”一词的新解、新用。文段为“分—总”的结构，重点介绍“无我”的新定义。

第二步，对比选项。C项是文段主旨的同义替换，适合作为文段的标题。

A项：“‘无我’与‘忘我’”是并列结构，文段重点介绍了“无我”。B项：“忘我”偏离文段重点“无我”。D项：偏离文段话题“无我”。

47、正确答案：A

解析

第一步，分析文段。文段用两个分号，并列了三个分句。都是在介绍《京津冀协同发展规划纲要》的内容。第一个分句说北京作为政治、文化、科技等中心；随后指出天津为全国先进研发基地、改革示范区等等；最后指出河北为商贸物流基地、环境支撑区等等，这些都是在说京津冀三地的定位不同。

第二步，对比选项。A项是对文段的归纳总结，符合文段意图。

因此，选择A选项。

B项、C项和D项：“沿着不同方向发展”“实现京津冀一体化的重要途径”和“京津冀一体化的核心是疏解北京的非首都功能”文段均未提及，属于无中生有。

48、正确答案：B

解析

第一步，分析文段。第一个句话说城市聚集人，体现人的精神，介绍了人在城市中作用。后文继续说以人群文化特质核心的城市精神，关系着城市的质量。其实整个文段都是围绕“人”的精神对现代化城市的重要性。

第二步，对比选项。B项是对文段的总结归纳，符合文段。

因此，选择B选项。

A项和D项：“城市文化”“以人为本”文段均未提及，属于无中生有。C项：没有体现人的重要性，主体不一致，且“表现为……”文段未提及。

49、正确答案：B

解析

第一步，定位原文。找到“大生命意义”所在，根据前后内容分析文段。结合小语境，可知，“大生命意义”应与“超越性的襟怀”表述意思相近，主要是强调，超然物外的胸怀和对世界的看法。

第二步，对比选项。A项中“加强修养”的概念在文段中并未提到，所以与“大生命意义”无关，排除A选项。C项“尊重生命”的概念文段也并未出现，排除C选项。D项“对笔下人物予以是非好坏的明确判定”，文段中并未提出相关语义，排除D选项。只有B选项符合“大生命意义”前后文内容。

因此，选择B选项。

50、正确答案：D

解析

第一步，分析文段，寻找主旨句。文段为总-分结构，主旨句为首句“从新中国成立后各个历史阶段的流行语，我们可以清晰地看到时代的镜像”，后文以不同的流行语为例进行举例论证。也就是文段的重点是介绍流行语和时代特征密切相关。

第二步，对比选项。D项是对文段主旨句的同义替换，符合作者表达主要内容。

因此，选择D选项。

A项：强调社会结构对流行语的促进作用，与原文主旨表述不符。B项：强调流行语可变、短暂，影响广泛等特征，文段主旨无关。C项：阐述流行语内容的特点，追求真善美，逃避和猎奇，与文段主旨无关。

51、正确答案：B

解析

第一步，分析文段。文段首先通过“95后说完晚安在干嘛”的微博热搜指出说完晚安跟睡不睡觉其实没关系，接下来作者阐述自己的观点，即对前文晚安微博进行总结，晚安对于年轻人来说不再是告别的方式，而是沉浸在自己的小世界里，而并没有立即睡觉。

第二步，对比选项。A项“不同的理解”文段并未涉及，属于无中生有，文段侧重的是年轻人说完晚安并没有睡觉。B项是对文段尾句的同义替换，符合作者意图。C项和D项缺少主体词“晚安”，属于非重点内容。

因此，选择B选项。

52、正确答案：A

解析

第一步，分析文段。文段首先通过转折“但是”指出当前肯为学生着急的老师不多了，接下来通过“一方面……另一方面……”分析产生这种状况的原因。一是“现有的教育机制没有给严师提供保障”；二是“今天的学生不好管”，对严师不满就有截屏上网等行为。将两方面原因进行归纳概括，即当前的舆论环境不利于老师对学生的严格管理。

第二步，对比选项。A项是对文段两方面原因的归纳概括，符合作者意图。B项只是其中一个原因，没有提到“教育机制”问题，表述片面。C项“学生难以管教”是问题本身，非重点内容，文段主要阐述的是学生难以管教



的原因。D项缺少主体词“老师”，属于非重点内容。

因此，选择A选项。

53、正确答案：C

解析

第一步，分析文段。文段前两句指出“996”运动，表达了与互联网行业相关人员的抵制心态，说明了问题的严重性和紧迫性。尾句为文段的主旨句，通过假设句式表达对策，希望互联网企业要尽快觉醒、及早调整。

第二步，对比选项。C项是对对策的同义替换，符合文段意图。

因此，选择C选项。

A项：为问题表述，偏离对策。B项：选项论述主体为“互联网企业员工”，而文段强调的是互联网企业如何做，主体错误。D项：为背景铺垫的表述，偏离对策。

54、正确答案：C

解析

第一步，对比选项，确定首句。①论述的是“缺少书籍的滋养”带来的严重后果，为读书的反面论述；④论述的是“读书不仅仅是为了……，更是为了……”，从正面论证读书的好处；②提到“读书是门槛最低的高贵举动”引出读书的话题。根据事理逻辑，应先抛出话题，再从正反面分别论述其作用，故②更适合做首句，排除A项和D项。

第二步，对比B项和C项。区别在于②后面跟④还是⑤。⑤提到“深刻体悟和精辟总结”，说明⑤前面的内容必定是深刻的、精辟直指核心的，比较②和④，②明显更简练精辟，优于④。对C项进行优先验证。先是抛出“读书”话题②，随后对②进行补充“深刻体悟和精辟总结”。之后分别从正面角度④和反面角度①⑥③论证读书的重要意义，逻辑通顺。

因此，选择C选项。

55、正确答案：A

解析

第一步，对比选项，确定首句。首句分别是③句和⑥句，③句“从人类文明进程看”从宏观处引出话题，适合做首句，⑥句“中国特色社会主义进入新时代”相较于③句更为具体，应当置于③句之后。排除C项和D项。

第二步，比较A项和B项。③⑥后面分别是⑤和①。⑥句谈到“中国特色社会主义进入新时代”，⑤句谈到“意味着中国特色社会主义道路、理论……不断发展”，⑥⑤话题衔接紧密，应当捆绑，而①句谈的是“为解决人类问题贡献了中国智慧和方案”，与⑥句话题衔接不紧密。答案锁定A项。

第三步，验证A项，语义通顺连贯。

因此，选择A选项。

56 、 正确答案： A

解析

第一步，定位文章第①段，分析横线处的上下文语境。横线位于文段中间，起到承上启下的作用。前文论述的是大学生玩网络游戏时间、比例的调查结果。接着按照性别不同指出不只是男生玩游戏，女生也玩。后文介绍了高职院校、普通本科、双一流高校玩游戏者的比例都很高。因此中间填入的语句应体现出不同类别的学校，且与前文按照性别分类照应。

第二步，对比选项。A项“按学校进行分类”符合上述语境。

因此，选择A选项。

B项：“大学生的家长们”与文段话题不一致。C项：“玩游戏的比例有所差异”与文意相悖，“近七成”“超五成”“超六成”表明玩游戏比例都很高。D项：形式上应与前文相照应，且“不同层次院校”说法错误，不同层次指的是学前教育、初等教育、中等教育、高等教育，而文段中提到的类别都属于高等教育。

57 、 正确答案： D

解析

第一步，分析文段，将选项与原文一一对应。

第二步，辨析选项。A项符合原文，对应第④段“31.97%受访大学生有熬夜玩游戏的经历”。B项符合原文，对应第①段“22.95%的大学生基本每天都玩网络游戏。游戏不只是男生的偏好，47.7%的女生表示玩网络游戏，14%的女生基本每天都玩”。C项符合原文，对应第③段“我国大学生玩游戏的时间，大致是我国成人阅读时间的6倍”。D项与原文不符，对应第②段“2018年我国成人国民人均每天手机接触时长为84.87分钟，比2017年增加4.44分钟”“人均每天阅读期刊时长为5.56分钟，比2017年减少1.32分钟”每天阅读期刊时间比2017年减少。

因此，选择D选项。

58 、 正确答案： B

解析

第一步，定位原文，防止大学生玩游戏的做法主要出现在第⑦段。根据“比如，禁止新生配个人电脑，学生宿舍晚上10点断电断网……但效果有限”可知，作者认为上述做法效果有限，可能反对上述做法。A项和D项对应“要对学生进行生涯规划教育……鼓励学生开展社团活动……在大学发展多方面的兴趣”；C项对应“大学首先必须从严教育管理……这是因为学校要求特别严”；均属于作者倡导的做法。

第二步，对比选项。B项符合题目要求。

因此，选择B选项。

59 、 正确答案： C

解析

第一步，分析文段，将选项与原文一一对应。

第二步，辨析选项。A项，符合原文，对应文章第⑥段，“……然而不少大学生不具备充分的自主管理和自主规划能力，不知道如何自主安排时间，如果周围其他同学大多以打游戏度日，他们也就‘随大流’跟着玩游戏了”。B项符合原文，对应文章第④段，“大学生花这么多时间在网游之中，有多方面原因。有的大学生从小就是‘宅男’‘宅女’，除学习之外，休闲时间就用电子产品打发时间”。D项符合原文，对应文章第④段，“以前由于学习任务重，玩游戏的时间被家长严格控制，到了大学，学习任务变得相对轻松……不少学生就宅在宿舍玩游戏，甚至通宵达旦不能自拔”。C项，无中生有。

因此，选择C选项。

60、正确答案：C

解析

第一步，分析文段。文章第①段主要针对我国大学生玩网络游戏的情况进行说明。第②段，论述的是我国成年人接触手机的时间与阅读时间的变化情况。第③段，表明我国大学生玩游戏的时间，超出了不正常的范畴。第④段、第⑤段与第⑥段都主要针对学生花费大量时间在网络游戏的原因进行介绍。第⑦段针对学生花太多时间玩游戏、沉迷游戏的治理方案进行了讨论。第⑧段强调应培养学生的阅读兴趣与乐趣。文章结构为“提出问题—分析问题—解决问题”。

第二步，辨析选项。C项是对文段主要内容的概括，适合做本文的标题。

因此，选择C选项。

A项，对策表述不全面，故选择对文段重点概括的选项。B项，文中并未体现。D项，概括不全面。

61、正确答案：A

解析

第一步，本题考查约数倍数问题，用因式分解法解题。

第二步，由三个自然数分别是一位数、两位数和三位数，其乘积为3930，将3930进行因式分解： $3930=3 \times 10 \times 131$ ，三个自然数的和为 $3+10+131=144$ ，是选项中最小的一个。

因此，选择A选项。

62、正确答案：D

解析

第一步，本题考查溶液问题，用方程法解题。

第二步，设需要浓度为60%的溶液x克，可列方程： $300 \times 95\% + 60\%x = 75\% \times (300 + x)$ ，解得 $x=400$ 。

因此，选择D选项。

63、正确答案：C

解析

第一步，本题考查星期日期问题，需要结合最小公倍数知识点解题。

第二步，每隔 2 天，每隔 4 天，相当于每 3 天，每 5 天，计算 3，5，7 的最小公倍数为 105，即 105 天后再次相遇，4 月还有 20 天，5 月有 31 天，6 月有 30 天，截止到 6 月底共计  $20+31+30=81$ （天），还差  $105-81=24$ （天），即 7 月 24 日。

因此，选择 C 选项。

64、正确答案：D

解析

第一步，本题考查基础应用题，用不定方程解题。

第二步，设购买苹果  $x$  个，购买火龙果  $y$  个。根据花光 61 元，可列不定方程： $3x+5y=61$ ，要使购买的这两种水果最多，则应该买尽量买便宜的，即使  $x$  值尽可能大，那么  $y$  值尽可能小，若  $y=1$ ， $x$  不是整数，排除，若  $y=2$ ，则  $x=17$ ，此时共买水果  $2+17=19$ （个）。

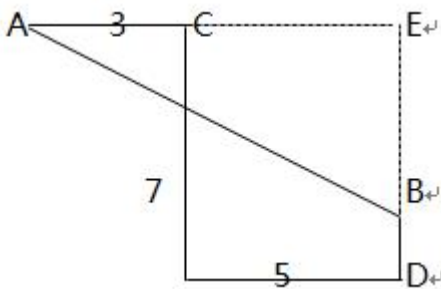
因此，选择 D 选项。

65、正确答案：C

解析

第一步，本题考查几何问题。

第二步，根据题意，可得图，A 点为起点，B 点为终点， 线段 AB 就是所求。



第三步，延长 AC 和 DB 并相交于点 E，那么，AE 为 8，BE 为 6，三角形 AEB 为直角三角形，根据勾股定理，

$$AB = \sqrt{AE^2 + BE^2} = \sqrt{6^2 + 8^2} = 10 \text{（公里）}。$$

因此，选择 C 选项。

66、正确答案：B

解析

第一步，本题考查工程问题，用赋值法解题。

第二步，赋值工作总量为 170（10 和 17 的公倍数），那么甲的效率为 17，乙的效率为 10，那么一个周期即甲乙各做一天完成  $10+17=27$ ， $170 \div 27=6 \cdots 8$ ，即需要 6 个周期，还剩 8 个工作量，6 个周期是 12 天，结束

后第 13 天该甲继续做工，甲 1 天可完成 17，那么剩下的 8，甲可在第 13 天完成。

因此，选择 B 选项。

67、正确答案：B

解析

第一步，本题考查循环周期问题。

第二步，一个循环周期为共有  $2+3+5+3=13$ （株）数目， $2019 \div 13=155 \cdots 4$ ，可得 155 个周期后还剩余 4 株树，剩余的 4 株树木为 2 株蜀桧，2 株刺柏，那么第 2019 株树木为刺柏。

因此，选择 B 选项。

68、正确答案：C

解析

第一步，本题考查容斥问题，属于三集合容斥类，用公式法解题。

第二步，设参加三科竞赛的有  $x$  人，根据三集合非标准型容斥原理公式可列方程： $40-0=22+27+25-24-2x$ ，解得  $x=5$ 。

因此，选择 C 选项。

69、正确答案：D

解析

解法一：

第一步，本题考查排列组合问题，属于其他类。

第二步，需要走过 3 段向南的道路和 4 段向西的道路，那么在共走过的 7 段中选 3 个向南的或选 4 个向西的即可，有  $C_7^3$ （或  $C_7^4$ ）=35（种）。

因此，选择 D 选项。

解法二：

第一步，本题考查排列组合问题，属于其他类，用图示法解题。

第二步，对每一段路的选择方法标数如下图所示：

					家
1	1	1	1	1	
5	4	3	2	1	
15	10	6	3	1	
35	20	10	4	1	
单位					

第三步，最终节点处数字为 35，即有 35 种不同的走法。

因此，选择 D 选项。

70、正确答案：B

解析

第一步，本题考查行程问题的环形相遇问题，用相遇公式和基本行程公式解题。

第二步，设甲、乙两人的速度为  $v_1, v_2$ ，由题意可得方程组： $S = (v_1 + v_2) \times 35$  ①； $S = v_1 \times 60$ ②；化简可

得  $v_2 = \frac{5}{7} v_1$ 。

第三步，因此乙所用时间为  $t = \frac{S}{v_2} = S \div (\frac{5}{7} v_1) = 84$  秒。

因此，选择 B 选项。

考点

数量关系

数学运算

行程问题 相遇追及类

来源

2019 年 0519 河北公务员考试《行测》真题（县级）第 70 题、2019 年 0519 河北公务员考试《行测》真题（乡镇）第 70 题

71、正确答案：A

解析

第一步，本题考查给定时间型的工程问题，用赋值法解题。

第二步，根据甲、乙、丙三人工作时间分别为 3 天、4 天和 12 天可赋值工作总量 12，可求出三人效率分别为甲=4，乙=3、丙=1，要求在两天内完成且费用最少，因此应该安排效率高且费用低的人完成，已知三人每天的费用分别为 1000 元，850 元，350 元，因此可先算每个人做每一个工作量的费用，甲为 250 元，乙为  $\frac{850}{3}$  元，丙为 350 元，因此应该让甲做两天，剩下乙和丙各一天完成。可得工作总量： $12 = 4 \times 2 + 3 \times 1 + 1 \times 1$ 。

第三步，可得总费用为  $1000 \times 2 + 850 \times 1 + 350 \times 1 = 3200$ 。

因此，选择 A 选项。

72、正确答案：B

解析

解析

第一步，本题考查概率问题中的分类分步型。

第二步，根据题意可知小明做对小宁做错的概率是  $80\% \times 30\% = 24\%$ ；小宁做对小明做错的概率是  $70\% \times 20\% = 14\%$ 。

第三步，故只一个人全对的概率为  $24\%+14\%=38\%$ 。

因此，选择 B 选项。

73 、 正确答案： C

解析

第一步， 本题考查其他杂题。

第二步， 根据题意可知 12 个球的数字之和为 78， 由于每个人摸到的四个球且编号之和相等， 则每人摸到的编号之和为 26； 甲摸到 1 号和 3 号则剩余两个只能为 10 和 12 号； 乙摸到 6 号和 11 号， 则剩余的可能的为 4 号， 5 号或者为 2 号， 7 号； 那么 9 号必为丙摸到的。 因此， 丙摸出编号最大的为 9 号。

因此， 选择 C 选项。

74 、 正确答案： A

解析

第一步， 本题考查几何问题， 属于立体几何类。

第二步， 由题意可知大正方体的边长为 10cm ( $10^3=1000$ )， 此正方体外表面 5 个面涂满色， 则被涂色小正方体侧面有  $10 \times (4 \times 10 - 4) = 360$  (个)， 底面有  $8 \times 8 = 64$  (个)， 共有  $360 + 64 = 424$  (个)。


因此， 选择 A 选项。

75 、 正确答案： B

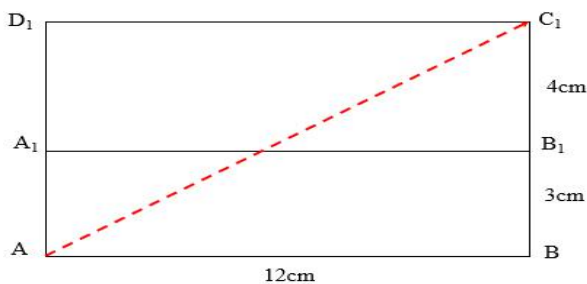
解析

第一步， 本题考查几何问题， 属于立体几何类。

第二步， 长方体如图所示：



从 A 出发爬行到  $C_1$  的最短路径如下图：



最小值为  $\sqrt{12^2 + (3 + 4)^2} = \sqrt{193}$ 。

因此，选择 B 选项。

76 、 正确答案： A

解析

第一步，明确设问内容。

匹配每一组三视图和相对应的立体图形。

第二步，根据视图特征进行匹配。

根据第一组视图可以确定：第一幅图是立体图形②的主视图，第二幅图是左视图，第三幅图是俯视图；根据第二组视图可以确定：第一幅图是立体图形①的主视图，第二幅图是左视图，第三幅图是俯视图；根据第三组视图可以确定：第一幅图是立体图形③的主视图，第二幅图是左视图，第三幅图是俯视图。

因此，选择 A 选项。

77 、 正确答案： D

解析

第一步，观察特征。

组成元素不同，优先考虑数量类或属性类。每个图形均有封闭区间，考虑数面。

第二步，九宫格，横向规律较为常见，优先考虑。

第一行中，三个图形的封闭面个数均为 2，第二行中三个图形的封闭面个数均为 3，第三行中前两个图形的封闭面个数均为 4，所以问号处的图形应包含 4 个面，排除 B、C 项；进一步观察，第一行中的三个图形分别为全曲、全直、有曲有直；第二行符合此规律，第三行前两个图形分别为全曲、全直图形，所以问号处的图形应有曲有直，只有 D 项符合。

因此，选择 D 选项。

78 、 正确答案： C

解析

第一步，观察特征。

图形都是开放的，具有线的特征，起始端直线和终止端直线具有方向性。

第二步，根据规律进行分组。

图形①③④中起始端和终止端两条直线是平行的关系，图形②⑤⑥中起始端和终止端两条直线是垂直关系，分为两组。

因此，选择 C 选项。

79 、 正确答案： A

解析



第一步，观察特征。

组成元素不同，优先考虑数量类或属性类。图形出现十字交点和多个切点，考虑数点。

第二步，一条式，从左到右找规律。

题干图形交点个数依次为 1、2、3、4、？，呈等差数列，所以“？”处应选择 5 个交点的图形，只有 A 项符合。

因此，选择 A 选项。

80 、正确答案：D

解析

第一步，观察特征。

组成元素不同，优先考虑数量类或属性类。图形均由汉字组成，考虑数笔画数。

第二步，九宫格，横向规律较为常见，优先考虑。

第一行汉字的笔画数依次为：4、4、5，和为 13；第二行汉字的笔画数依次为：3、5、7，和为 15；第三行补充问号处的汉字后，笔画数的总和应为 17，前两个汉字的笔画数依次为：3、6，所以应选择笔画数为 8 的选项，只有 D 项符合。

因此，选择 D 选项。

规律二：图形有封闭空间，考虑数面，第一行中的汉字面的个数总和为 2；第二行图形中的汉字面的个数总和为 3；第三行补充问号处的汉字后，图形面个数的总和应为 4，只有 D 项符合。

规律三：每行有相似性，整体求同，第一行均有“横”，第二行均有“点”，第三行均有“竖”（竖线的长度保持一致），只有 A 项符合。

规律比较：相比较数量类规律，求同的规律中，竖线的长度不是很清晰，所以选择 D 项。

81 、正确答案：D

解析

第一步，看提问方式，本题属于选是题。

第二步，找关键信息。

- ①评价一个人或一件事时；
- ②受最近接触的其他人或事的影响；
- ③导致评价发生偏差，做出不客观的评价。

第三步，辨析选项。

A 项：小潘受父亲的影响，不符合“受最近接触的其他人或事的影响”，不符合定义；

B 项：小张对自己和小李分别升任科长这一事件做出评价，但是并未体现出“受最近接触的其他人或事的影响”，也不清楚该评价是否发生偏差，不符合定义；

C 项：小丽因为售货员的形象对化妆品的质量做出评价，但并不清楚该评价是否发生偏差，未明确体现“导致

评价发生偏差，做出不客观的评价”，不符合定义；

D项：小王和小吴一前一后出场，符合“受最近接触的其他人或事的影响”，若王表现优秀，吴的分数就会偏低，分数的偏低体现了“导致评价发生偏差，做出不客观的评价”，符合定义。

因此，选择D选项。

82、正确答案：B

解析

第一步，看提问方式，本题属于选非题。

第二步，找关键信息。

①危害严重、影响恶劣；

②网络上发表具有伤害性、侮辱性和煽动性的言语、图片、视频的行为。

第三步，辨析选项。

A项：在网站发布大量暴力和血腥的视频，符合“网络上发表具有伤害性、侮辱性和煽动性的言语、图片、视频”，并且危害严重、影响恶劣，符合定义；

B项：给同学起外号并在班级群里用绰号称呼该同学，不符合“网络上发表具有伤害性、侮辱性和煽动性的言语、图片、视频”，而被起绰号的同学是否受到绰号的消极影响也未明确指出，没有体现出“危害严重、影响恶劣”，不符合定义；

C项：使用女生的头像P裸体图片，并在微信朋友圈转发，符合“网络上发表具有伤害性、侮辱性和煽动性的言语、图片、视频”，并且体现了“危害严重、影响恶劣”，符合定义；

D项：小柯乱丢垃圾且与他人发生口角的视频传到网络上，符合“网络上发表具有伤害性、侮辱性和煽动性的言语、图片、视频”，后面其还遭到人肉搜索，个人隐私被公布于网络，符合“危害严重、影响恶劣”，符合定义。

因此，选择B选项。

83、正确答案：A

解析

第一步，看提问方式，本题属于选非题。

第二步，找关键信息。

①资产的所有者将资产的使用权暂时转移给他人；

②以取得相关收益；

③不转移资产所有权的行为。

第三步，辨析选项。

A项：家政公司承包某写字楼的保洁，不符合“资产的所有者将资产的使用权暂时转移给他人”，不符合定义；

B项：某城市商业银行向某公司以6.8%的年利率发放2亿元的贷款，体现“资产的所有者将资产的使用权暂时转移给他人”，年利率体现了“以取得相关收益”，符合定义；

C项：某高校将办公楼租给职业培训学校，体现了“资产的所有者将资产的使用权暂时转移给他人”，租金50万体现了“以取得相关收益”，符合定义；

D项：某企业以每年五千万的价格利用自主研发的操作系统负责某市的智慧城市建设，操作系统的所有者是企业，体现“资产的所有者将资产的使用权暂时转移给他人”，每年五千万的价格体现了“以取得相关收益”，符合定义。

因此，选择A选项。

84、正确答案：D

解析

第一步，看提问方式，本题属于选是题。

第二步，找关键信息。

①经济危机时；

②消费者愿意购买相对廉价的非必需品；

③对消费者起到一定的“安慰”作用。

第三步，辨析选项。

A项：张三现在收入高，不符合“经济危机时”，购买衣服，不符合“消费者愿意购买相对廉价的非必需品”，不符合定义；

B项：李四用父母的积蓄购买了一辆35万元的轿车，不符合“消费者愿意购买相对廉价的非必需品”，不符合定义；

C项：王五因房贷压力大，经常到路边摊吃10元的盒饭，不符合“消费者愿意购买相对廉价的非必需品”，不符合定义；

D项：赵六最近业绩不好，收入较低，体现了“经济危机时”，为释放压力，每周六晚上都喝50元1瓶的白酒半斤，体现了“消费者愿意购买相对廉价的非必需品”，符合定义。

因此，选择D选项。

85、正确答案：C

解析

第一步，看提问方式，本题属于选是题。

第二步，找关键信息。

①指成长需要自由的空间；

②要使人成长的更快，就一定要给他活动的自由，而不是将他拘泥在一个小小的鱼缸中。

第三步，辨析选项。

A项：选项表述的是人才引进计划，没有体现出“要使人成长的更快，就一定要给他活动的自由，而不是将他拘泥在一个小小的鱼缸中”，不符合定义；

B项：选项表述的是小邓自身的学习态度，没有体现出“要使人成长的更快，就一定要给他活动的自由，而不是将他拘泥在一个小小的鱼缸中”，不符合定义；

C项：选项中市委组织部选派85后优秀年轻干部担任常务副县长，体现了“要使人成长的更快，就一定要给他活动的自由，而不是将他拘泥在一个小小的鱼缸中”，符合定义；

D项：选项中表述的是小欧的自我选择，没有体现出“要使人成长的更快，就一定要给他活动的自由，而不是将他拘泥在一个小小的鱼缸中”，不符合定义。

因此，选择C选项。

86、正确答案：C

解析

第一步，看提问方式，本题属于选是题。

第二步，找关键信息。

动物与人类有平等的权利地位。

第三步，辨析选项。

A项：流浪猫不具有“与人类平等的权利地位”，不符合定义；

B项：猪被圈养，说明猪不具有“与人类平等的权利地位”，不符合定义；

C项：认为把鸡关在笼子里集中饲养是不人道的，说明认为鸡“与人类有平等的权利地位”，符合定义；

D项：杀牛，说明牛不具有“与人类平等的权利地位”，不符合定义。

因此，选择C选项。

87、正确答案：C

解析

第一步，看提问方式，本题属于选是题。

第二步，找关键信息。

①分布在“尾”部的是个性化的、小量的需求；

②所有分布在“尾”部的市场累加起来就会形成一个比“头”部市场还大的市场；

③只赚每个人很少的钱，但是要赚很多人的钱。

第三步，辨析选项。

A项：小任创办了一个挑选礼物的网站，根据不同客户的要求挑选相应的礼物，属于主营业务即头部，不涉及尾部，不符合“所有分布在‘尾’部的市场累加起来就会形成一个比‘头’部市场还大的市场”，不符合定义；

B项：老赵由原来经营服装店转行经营生鲜产品超市，改变了主营业务，不涉及尾部超越了头部，不符合定义；

C项：小高主要销售运动鞋，属于主营业务即头部，帮朋友销售物美价廉的土特产属于尾部，符合“分布在‘尾’部的是个性化的、小量的需求”，且符合“只赚每个人很少的钱，但是要赚很多人的钱”，土特产的销售额超过运动鞋，符合“‘尾’部的市场累加起来比‘头’部市场还大”，符合定义；

D项：小翟经营一家美术培训学校，属于主营业务，后来应广大家长需求新增少儿英语培训，未体现“需求是个性化、小量的”，且未说明利润多少，不符合“只赚每个人很少的钱，但是要赚很多人的钱”，不符合定义。

因此，选择C选项。

88、正确答案：B

解析

第一步，看提问方式，本题属于选是题。

第二步，找关键信息。

- ①接受外界提出的不同要求而产生的冲突；
- ②导致自己承受巨大的心理压力。

第三步，辨析选项。

A项：小芳的父母相互指责对方没有尽职尽责，不符合“接受外界提出的不同要求而产生的冲突”，不符合定义；

B项：知名汽车厂欲高薪聘请，和研究所许诺为他建国家级重点实验室，属于“接受外界提出的不同要求而产生的冲突”，崔研究员陷入深深的纠结之中，属于“承受巨大的心理压力”，符合定义；

C项：老颜对孩子百依百顺，结果孩子长大后骄横跋扈，只有一种冲突，不符合“接受外界提出的不同要求而产生的冲突”，不符合定义；

D项：老梁到监察机关投案自首，主动交代所犯错误，没有体现“接受外界提出的不同要求而产生的冲突”，且感觉压在胸口石头终于消失了，不符合“导致自己承受巨大的心理压力”，不符合定义。

因此，选择B选项。

89、正确答案：D

解析

第一步，看提问方式，本题属于选非题。

第二步，找关键信息。

- ①将医学研究成果转化为大众的健康知识；
- ②通过大众生活态度和行为方式的改变来降低患病率和死亡率；
- ③有效提高一个社区或国家生活质量或健康水准。

第三步，辨析选项。

A项：某高中举办预防春季传染病讲座，是将“医学研究成果转化为大众的健康知识”，能够“降低患病率和死亡率”，提高该校健康水准，符合定义；

B项：某社区进行小儿手足口病防治宣传，是将“医学研究成果转化为大众的健康知识”，能够“降低患病率和死亡率”，提高该社区健康水准，符合定义；

C项：某省级电视台播出预防白内障的药品广告，是将“医学研究成果转化为大众的健康知识”，能够“降低患病率和死亡率”，提高该省健康水准，符合定义；

D项：某医院举办心脑血管疾病治疗技术学术会议，是针对于医院内部的学术交流，不符合“将医学研究成果转化为大众的健康知识”，不符合定义。

因此，选择D选项。

90、正确答案：C

解析

第一步，看提问方式，本题属于选是题。

第二步，找关键信息。

①商品提供者有意调低产量；

②以期达到控制供求关系、制造供不应求“假象”、维持商品较高售价和利润的目的；

③比较适合单价较高、不易形成单个商品重复购买的行业。

第三步，辨析选项。

A项：某矿泉水公司宣称产品供不应求，售价提高，未体现“商品提供者有意调低产量”，并且矿泉水也不属于“单价较高、不易形成单个商品重复购买”，不符合定义；

B项：某户外用品公司向灾区捐赠十万顶帐篷后提高名誉，销量大增，未体现“商品提供者有意调低产量，以期达到控制供求关系、制造供不应求假象、维持商品较高售价和利润的目的”，不符合定义；

C项：某厂家推出新款汽车，但宣称配件所限无法大规模生产，只能限量销售，符合“商品提供者有意调低产量，控制供求关系”，且汽车属于“单价较高、不易形成单个商品重复购买”，符合定义；

D项：某品牌进口轮胎滞销，经销商主动减少进口量，不符合“商品提供者有意调低产量”，不符合定义。

因此，选择C选项。

91、正确答案：B

解析

第一步，确定题干逻辑关系。

“网上购物”使用网银支付，即“网上购物”不需要使用“现金”，二者属于对应关系。

第二步，辨析选项。

A项：“高速铁路”与“钢铁”属于原材料的对应关系，排除；

B项：“网络歌曲”泛指的是传播在网络上的歌曲，即“网络歌曲”不需要“光盘”，二者属于对应关系，与题干逻辑关系一致，符合；

C项：“电子政务”是指国家机关在政务活动中，全面应用现代信息技术、网络技术以及办公自动化技术等进行办公、管理和为社会提供公共服务的一种全新的管理模式，与“公文”不存在逻辑关系，排除；

D项：“电脑游戏”的安装离不开“软件”，二者对应方式与题干不一致，排除。

因此，选择B选项。

网上购物，就是通过互联网检索商品信息，并通过电子订购单发出购物请求，然后填上私人支票帐号或信用卡的号码，厂商通过邮购的方式发货，或是通过快递公司送货上门。

92、正确答案：D

解析

第一步，确定题干逻辑关系。

“打印机”和“扫描仪”是两种不同的“外部设备”，二者属于并列关系，二者与“外部设备”属于包容关系中的种属关系。

第二步，辨析选项。

A项：“鲸鱼”是哺乳动物，“鲨鱼”是鱼类，二者不属于同一层级下的反对关系，排除；

B项：“动车”是“火车”的一种，二者属于包容关系中的种属关系，排除；

C项：“下雨”是一种自然现象，而非“天气”，排除；

D项：“茄子”和“茼蒿”是两种不同的“蔬菜”，二者属于并列关系，二者与“蔬菜”属于包容关系中的种属关系，与题干逻辑关系一致，符合。

因此，选择D选项。

天气是指某一个地区距离地表较近的大气层在短时间内的具体状态。而天气现象则是指发生在大气中的各种自然现象，即某瞬时内大气中各种气象要素（如气温、气压、湿度、风、云、雾、雨、闪、雪、霜、雷、雹、霾等）空间分布的综合表现。

93、正确答案：B

解析

第一步，确定题干逻辑关系。

“起草”与“法律法规”属于动宾关系，“颁布”与“法律法规”属于动宾关系，并且先“起草”然后“颁布”，属于时间顺承的对应关系。

第二步，辨析选项。

A项：“新闻稿件”是“采访”之后写作而成的成果，二者不属于动宾关系，且“选题”应该在“采访”之前，时间顺序与题干不一致，排除；



B项：“签订”与“购销合同”属于动宾关系，“履行”与“购销合同”属于动宾关系，并且先“签订”然后“履行”，属于时间顺承的对应关系，与题干逻辑关系一致，符合；

C项：“自由恋爱”“结婚”与“生子”是三个不同的时间阶段，三者属于并列关系，排除；

D项：“硕士”与“博士”属于研究生“学位”，二者与“学位”属于包容关系中的种属关系，排除。

因此，选择B选项。

94、正确答案：A

解析

第一步，确定题干逻辑关系。

“猎豹”属于“猫科”，二者属于包容关系中的种属关系，“猫科”是“动物”的一种，二者属于包容关系中的种属关系。

第二步，辨析选项。

A项：“西裤”是“裤子”的一种，二者属于包容关系中的种属关系，“裤子”是“服装”的一种，二者属于包容关系中的种属关系，与题干逻辑关系一致，符合；

B项：“微生物”包括“细菌”、“病毒”、真菌以及一些小型的原生生物、显微藻类等在内的一大类生物群体，“细菌”与“病毒”属于并列关系，二者与“微生物”属于包容关系中的种属关系，排除；

C项：“玛瑙”是“石头”的一种，“宝石”是“石头”的一种，二者顺序与题干顺序不一致，排除；

D项：“助教”是大学教师职称的最低等级，教师职称等级由低到高依次是“助教”、“讲师”、“副教授”、教授，三者属于并列关系，且层层递进，排除。

因此，选择A选项。

95、正确答案：D

解析

第一步，确定题干逻辑关系。

“发动机”是“汽车”的组成部分，二者属于包容关系中的组成关系。

第二步，辨析选项。

A项：“墨汁”与“毛笔”是配套使用的，二者属于配套使用的对应关系，排除；

B项：“月光”是月亮的光线，是由太阳光照到月球上反射出来的，与“天空”没有明显逻辑关系，排除；

C项：“帆船”在“大海”上航行，二者属于对应关系，排除；

D项：“翅膀”是“蝴蝶”的组成部分，二者属于包容关系中的组成关系，与题干逻辑关系一致，符合。

因此，选择D选项。

96、正确答案：A

解析



第一步，确定题干逻辑关系。

“语言”的功能是“交流”，并且“交流”是“语言”的主要功能，二者属于功能对应关系。

第二步，辨析选项。

A项：“颜料”的功能是“绘画”，并且“绘画”是“颜料”的主要功能，二者属于功能对应关系，与题干逻辑关系一致，符合；

B项：“衣服”可以用于“装饰”，但“装饰”不是“衣服”的主要功能，“衣服”的主要功能是遮体，排除；

C项：可以在“电视”上播放“电影”，“电视”是“电影”的载体，二者属于载体对应关系，排除；

D项：“玫瑰”可以象征“爱情”，二者属于象征关系，排除。

因此，选择A选项。

97、正确答案：C

解析

第一步，确定题干逻辑关系。

“如履薄冰”是指像走在薄冰上一样，比喻行事极为谨慎，存有戒心，与“谨慎”属于近义关系。

第二步，辨析选项。

A项：“集腋成裘”比喻珍贵美好的事物积少成多，与“节俭”不属于近义关系，排除；

B项：“卧薪尝胆”形容一个人忍辱负重，发愤图强，最终苦尽甘来，与“坚持”不属于近义关系，排除；

C项：“一尘不染”形容清洁、干净，与“干净”属于近义关系，与题干逻辑关系一致，符合；

D项：“经天纬地”形容有治理天下的经世之才，与“高度”不属于近义关系，排除。

因此，选择C选项。

98、正确答案：D

解析

第一步，确定题干逻辑关系。

“鸡蛋”是制作“蛋糕”的原材料，二者属于原材料与成品的对应关系，且制作“蛋糕”的过程中，除了“鸡蛋”还使用了其他的原材料，“鸡蛋”不是“蛋糕”的唯一原材料。

第二步，辨析选项。

A项：“铅芯”是“铅笔”的组成部分，二者属于包容关系中的组成关系，排除；

B项：“水泥”是修“水泥路”的原材料，二者属于原材料与成品的对应关系，但修“水泥路”只应用了“水泥”一种原材料，排除；

C项：“鞋带”是“鞋子”的组成部分，二者属于包容关系中的组成关系，排除；

D项：“榆钱”是制作“榆钱饼”的原材料，二者属于原材料与成品的对应关系，且“榆钱”不是“榆钱饼”

的唯一原材料，与题干逻辑关系一致，符合。

因此，选择D选项。

本题也可以从“蛋糕”和“榆钱饼”都是食品的角度考虑，选择D选项。

99、正确答案：C

解析

分别将选项代入题干，确定逻辑关系。

A项：“诗歌”与“小说”都是文学体裁，除此之外文学体裁还包括散文、剧本等，二者属于并列关系中的反对关系，“软件”和“硬件”属于并列关系中的矛盾关系，前后逻辑关系不一致，排除；

B项：“作家”创作“小说”，二者属于主宾关系，“工程师”指在工程学其中一个范畴持有专业性学位或相关工作经验的人士，不是具体职业，编写“软件”的应为程序员，“工程师”和“软件”搭配不当，前后逻辑关系不一致，排除；

C项：“创作”与“小说”属于动宾关系，“应用”与“软件”属于动宾关系，前后逻辑关系一致，符合；

D项：“素材”经过提炼、加工和改造，可以写入“小说”中，二者属于对应关系，“软件”指一系列按照特定顺序组织的“计算机”数据和指令的集合，二者属于包容关系中的组成关系，前后逻辑关系不一致，排除。

因此，选择C选项。

100、正确答案：C

解析

分别将选项代入题干，确定逻辑关系。

A项：“清洁工”清洁“马路”，二者属于职业与工作对象的对应关系，“医生”在“医院”工作，“医院”是“医生”工作的场所，二者属于场所对应关系，前后逻辑关系不一致，排除；

B项：“清洁工”与“清扫车”功能都是清洁，“清扫车”也可以作为“清洁工”工作的工具，二者属于对应关系，“医生”在“手术台”上进行手术，二者属于地点对应关系，前后对应方式不一致，排除；

C项：“清洁工”的主要工作内容是“保洁”，二者属于职业与工作内容的对应关系，“医生”的主要工作内容是“治病”，二者属于职业与工作内容的对应关系，前后逻辑关系一致，符合；

D项：“清洁工”工作要穿“工作服”，二者属于职业和职业装的对应关系，“医生”工作时要用到“听诊器”，“听诊器”是“医生”诊断时使用的工具，二者属于工具对应关系，前后逻辑关系不一致，排除。

因此，选择C选项。

101、正确答案：C

解析

第一步，确定题型。

根据提问方式中的“加强”，确定为加强论证。

第二步，找论点和论据。

论点：利用数学学习机可以提高数学成绩。

论据：调查发现，拥有数学学习机人数最多的班也是数学成绩最好的班。

第三步，辨析选项。

A项：不明确项。论点说的是学习机与成绩之间关系，该项说的是学习机能够提高积极性，但提高积极性后能否提高数学成绩并不明确，不具有加强作用。

B项：不明确项。该项说的是拥有学习机的人数与学习机使用水平之间关系，但最会利用数学机能否提高数学成绩并不明确，不具有加强作用。

C项：加强论点。该项表明学习机能够提高数学成绩，与论点的表述一致，具有加强作用。

D项：不明确项。该项只是提到拥有学习机人数多的班里的同学会更多地利用学习机，但并未提及是否有利于提高成绩，不具有加强作用。

因此，选择C选项。

102、正确答案：B

解析

第一步，确定题型。

根据提问方式中的“削弱”，确定为削弱论证。

第二步，找论点和论据。

论点：施用生物复合肥是南北两块地小麦亩产差异较大的原因。

论据：南面施生物复合肥，北面没施生物复合肥，结果南面产量高。

第三步，辨析选项。

A项：增加论据。该项指出两块地都由老杨管理，属于在对比试验中控制变量，具有加强作用。

B项：增加反向论据。土壤质量不同，说明存在其他变量干扰，故无法确定究竟是土壤不同还是施肥不同导致的亩产不同，从而无法必然得出论点，具有削弱作用。

C项：不明确项。无法确定过了保质期的肥料是否会发挥功效，表述不明确，不具有削弱作用。

D项：无关选项。论点讨论的是南北两块地小麦亩产差异较大的原因，而该项是讲村西的小麦，论题不一致，排除。

因此，选择B选项。

103、正确答案：C

解析

第一步，确定题型。

题干具有逻辑关联词，确定为翻译推理。

第二步，翻译题干，进行推理。

①抢救及时且方法得当→不会死亡

题干给出的确定条件为“这头大象死亡了”，是对①的“否后”，根据“否后必否前”可得： $\neg$ （抢救及时且方法得当）；

再根据“德摩根定律”可得：抢救不及时或方法不得当。

第三步，辨析选项。

A项：根据“或关系”特性，“抢救不及时且方法得当”无法从结论必然推出，排除。

B项：根据“或关系”特性，“抢救及时且方法得当”无法从结论必然推出，排除。

C项：该项翻译为：抢救及时→ $\neg$ 方法得当，上述结论根据“否定肯定式”可得出该项，当选。

D项：该项翻译为： $\neg$ 抢救及时→ $\neg$ 方法不得当，该项先肯定上述结论其中一支，根据“或关系”特性，得不出必然结论，排除。

因此，选择C选项。

104、正确答案：C

解析

第一步，确定题型。

根据提问方式中的“解释”，确定为原因解释。

第二步，分析题干。

现象：西红柿添加催熟剂对该市消费者影响很小，但是五月份的西红柿销量却大幅度下降。

第三步，辨析选项。

A项：该项只是指出电台也播放了这个消息，但并未提及对销售量的影响，故不能说明为什么西红柿销量大幅下降，无法解释；

B项：很多消费者在家门口买西红柿，并不是所有消费者都在门口买，故无法必然说明生鲜超市的西红柿销量下降，无法解释；

C项：五月份大多数商家停止销售，停止销售必然会导致销量的下降，可以解释；

D项：“周边城市”的菜农降低了产量，并不必然会影响该城市生鲜超市的销量，因为存在着从其他城市进货的可能，无法解释。

因此，选择C选项。

105、正确答案：C

解析

第一步，确定题型。

根据提问方式中的“反驳”，确定为削弱论证。

第二步，找论点和论据。

论点：此次促销活动很成功。

论据：该促销活动由于宣传到位，备货充足，顾客盈门，“五一”假期销售额同比增长 40%。

第三步，辨析选项。

A 项：无关选项。题干论证比较的是“五一”期间，该店销售“同比”增长了多少，与 1986 年到 1996 年出生的顾客占比无关，论题不一致，排除。

B 项：不明确项。该项给出的是“全国”服装销售额同比增长的数据，但是全国的服装销售额增长了 45%，不代表每一家店都增长了 45%，可能有高有低；同时题干比较的是该店的销售额“同比”增长情况，而非与其他服装店的比较，故无法明确说明该促销活动是否有效，不具有削弱作用。

C 项：增加反向论据。该项指出今年“五一”假期比去年多一天，说明今年销售额的计算周期是“四天”，而去年销售额的计算周期是“三天”，故题干所得出“同比”增长数据的计算方法不严谨，具有削弱作用。

D 项：不明确项。该项指出“另一街区”该品牌的销售情况，虽然该店没有促销活动也有销售量的增加，但是无法确定该店销售额增加是否受地理位置等其他因素的影响，不具有削弱作用。

因此，选择 C 选项。

106 、正确答案：A

解析

第一步，确定题型。

题干具有信息匹配特征，确定为分析推理。

第二步，分析条件，进行推理。

题干中给出已知条件为：

- ①三种生活水平：富裕、小康、贫困；
- ②甲和丁生活水平一样；
- ③乙和丙的生活水平不是小康。

可以代入 ABCD 项验证是否符合已知条件要求。

代入 A 项，根据条件②，可知丁也是富裕，再结合条件③可知，没有人是小康，不符合条件①三种生活水平的要求，不可能成立，当选；

代入 B 项，乙为贫困，当丙为富裕，甲和丁为小康时，符合已知条件要求，排除；

代入 C 项，乙为富裕，当丙为贫困，甲和丁为小康时，符合已知条件要求，排除；

代入 D 项，丁是小康，根据条件②，可知甲也是小康，第一种可能，当乙为贫困，丙为富裕时，符合已知条件要求，第二种可能，当乙为富裕，丙为贫困，仍符合已知条件要求，排除。

因此，选择 A 选项。

107 、正确答案：D

解析

第一步，确定题型。

根据提问方式中的“质疑”，确定为削弱论证。

第二步，找论点和论据。

论点：随着电影院数量的增加，KTV 的收入会随之减少。

论据：扣除物价上涨因素，未来几年利润总额不会随着新的文化产业场所的出现而扩大。

第三步，辨析选项。

A 项：无关选项，该项描述的是电影院和 KTV 的数量问题，并未提及到论点所描述的收入问题，论题不一致，不具有削弱作用。

B 项：无关选项。该项描述的是电影院增多，对电影院和 KTV 以外文化场所的收入影响，但并不清楚对 KTV 收入的影响，论题不一致，不具有削弱作用。

C 项：无关选项。该项描述的是 KTV 的环境以及服务质量，与论点中的电影院的数量对 KTV 的收入的影响无关，论题不一致，不具有削弱作用。

D 项：增加反向论据。指出电影院人均消费高但环境却不好，对大部分人来说缺乏吸引力，所以电影院数量上的增加并不会影响 KTV 的收入，具有削弱作用。

因此，选择 D 选项。

108 、正确答案：D

解析

第一步，确定题型。

根据提问方式中的“假设”，确定为加强论证。

第二步，找论点和论据。

论点：口服因菲他命可以用来治疗狗的行为焦虑症。

论据：如果狗患有行为焦虑症，则狗血液里镁离子的含量要高于正常狗。通过口服一种名叫因菲他命的药物，可以有效清除狗血液里的镁离子。

第三步，辨析选项。

A 项：无关选项。论点研究口服因菲他命和治疗狗行为焦虑症的关系，和正常狗血液是否有镁离子无关，不具有加强作用。

B 项：无关选项。论点研究口服因菲他命和治疗狗行为焦虑症的关系，和因菲他命是否有副作用无关，不具有加强作用。

C 项：无关选项。论点研究口服因菲他命和治疗狗行为焦虑症的关系，和狗口服因菲他命的剂量无关，不具有

加强作用。

D项：肯定前提。题干中隐含的条件是因为狗血液中镁离子含量高所以患行为焦虑症，D项说法与题干隐含条件一致，具有加强作用。

因此，选择D选项。

109、正确答案：A

解析

第一步，确定题型。

根据提问方式中的“推理形式最为类似”，确定为平行结构。

第二步，分析题干中论证结构。

题干论证结构为：所有A都是B，有些B是C，D不是C，所以D不是A。

第三步，辨析选项。

A项：该项结构为：所有A都是B，有些B是C，D不是C，所以D不是A，和题干一致，正确；

B项：该项结构为：所有A都是B，有些B是C，D不是B，所以D不是A，和题干不一致，排除；

C项：该项结构为：所有A都是B，有些B是C，D不是C，所以D不是B，和题干不一致，排除；

D项：该项结构为：所有A都是B，有些B是C，D不是C，所以D不是B的A，和题干不一致，排除。

因此，选择A选项。

110、正确答案：C

解析

第一步，确定题型。

根据提问方式及题干特征，确定为归纳推理。

第二步，辨析选项。

A项：题干中只提到了两份关于马六的资料，所以不能必然推出马六“经常被处罚”，排除；

B项：题干中提到第二份资料“没有落款时间”，所以不能必然推出第二份资料的时间早于第一份，排除；

C项：若假设第一份资料的落款时间1992年是马六的第一次占道经营，结合第二份资料中的“占道经营10年”可推出第二份资料的时间为2002年，可以推出；

D项：根据题干内容无法确定第二份资料的具体落款时间，进而1992年可能是马六的第一次占道经营，这种情况下无法推出该项，排除。

因此，选择C选项。

111、正确答案：A

解析



第一步，本题考查增长率计算问题。

第二步，定位柱状图，2018年固定互联网接入用户数为2159.8万户，2015年为1226.5万户。

第三步，根据公式，增长率=（现期量-基期量）/基期量，观察选项，出现了较为接近的选项（A、B），应精

确计算，代入数据可得  $\frac{2159.8 - 1226.5}{1226.5} = \frac{933.3}{1226.5}$ ，直除首两位商76。

因此，选择A选项。

有小数点的选项，若取整处理后的结果一样，则是较为接近的选项，需要精确计算。本题，若看错年份（看成2018年比2017年），易错选D选项。

112、正确答案：A

解析

第一步，本题考查增长量计算中的已知现期量与基期量。

第二步，定位柱状图，2018年固定互联网接入用户数为2159.8万户，2017年为1910.1万户。2018年移动电话用户为8195.6万户，2017年为7581.8万户。

第三步，根据增长量=现期量-基期量，则有（8195.6-7581.8）-（2159.8-1910.1）减法计算，材料与选项精确度一致，考虑尾数法，尾数为8-7=1，以1结尾。

因此，选择A选项。

113、正确答案：C

解析

第一步，本题考查增长率计算比较。

第二步，定位柱状图，“2014—2018年固定宽带接入用户分别为1127.6万户、1226.5万户、1612万户、1910.1万户、2159.8万户”。

第三步，根据增长率=（现期量/基期量）-1，要想使增长率>10%，只需现期量>基期量×1.1即可。单位相同，数据位数较多，将数据截位舍相同处理，代入数据可得：2015年，123<113×1.1=124.3，不符合；2016年，161>123×1.1=135.3，符合；2017年，191>161×1.1=177.1，符合；2018年，216>191×1.1=210.1，符合。共有2016年、2017年、2018年3个年份符合要求。

因此，选择C选项。

114、正确答案：B

解析

第一步，本题考查增长率计算比较中的增量替代。

第二步，定位柱状图，“2014—2018年移动电话用户分别为6229.1万户、6367.2万户、7121.0万户、7581.8万户、8195.6万户”。

第三步，根据增长率=（现期量-基期量）/基期量，各年份基期量差别不大，可以用增长量替代增长率进行比较。

数据位数较多，将数据截位舍相同处理，则各年份增长量分别为：2015年， $637-623=14$ ；2016年， $712-637=75$ ；2017年， $758-712=46$ ；2018年， $820-758=62$ 。2016年的增长量最大，且其基期量相对而言较小，故2016年增长率最高。

因此，选择B选项。

115、正确答案：D

解析

第一步，本题考查综合分析问题，且需选出正确的一项。

第二步，A选项，增长量做差比较。定位柱状图中“移动电话用户数”。根据增长量=现期量-基期量，减法计算，考虑截位舍相同，则各年份增长量分别为：2015年， $637-623=14$ ；2016年， $712-637=75$ ；2017年， $758-712=46$ ，2017年的增长量低于2016年（也可以直接观察柱状图，可看出2017年的增长量低于2016年），未实现逐年增加，错误。

B选项，增长量做差比较。定位柱状图中“固定互联网宽带用户数”。根据增长量=现期量-基期量，减法计算，考虑截位舍相同，则各年份增长量分别为：2015年， $123-113=10$ ；2016年， $161-123=38$ ；2017年， $191-161=30$ ，2017年的增长量低于2016年，未实现逐年增加，错误。

C选项，增长率计算比较。定位柱状图中“移动电话用户数”。根据增长率=(现期量/基期量)-1，增长率>10%，则现期量>基期量×(1+10%)，数据位数较多，将数据截位舍相同处理，代入数据可得：2015年， $637 < 623 \times 1.1 = 685.3$ ；2016年， $712 > 637 \times 1.1 = 700.7$ ；2017年， $758 < 712 \times 1.1 = 783.2$ ；2018年， $820 < 758 \times 1.1 = 833.8$ ，仅2016年这一个年份，增长率会超过10%，错误。

D选项，现期比值比较。定位柱状图。数据位数较多，将数据截位舍相同处理，代入数据可得2015—2018年移

动电话用户数同固定互联网宽带用户数之比分别为：2015年  $\frac{637}{123} = 5^+$ 、2016年  $\frac{712}{161} = 4^+$ 、2017年  $\frac{758}{191} \approx 4$ 、2018年  $\frac{820}{216} = 4^-$ ，逐年降低，正确。

因此，选择D选项。

116、正确答案：C

解析

第一步，本题考查基期量计算。

第二步，定位第一段文字材料，“2019年1—2月，全国规模以上工业实现利润总额7080.1亿元，同比下降14%”。

第三步，根据基期量=现期量/(1+增长率)，选项出现了首位不同的情况，则分子取整，分母从左向右截取前

两位，代入数据可得，2018年1—2月，规模以上工业企业实现利润总额约为  $\frac{7080}{1-14\%} = \frac{7080}{0.86}$ ，直除首位商8。

因此，选择C选项。

117、正确答案：B

解析

第一步，本题考查现期比重的计算中的求比重。

第二步，定位表格材料，“2019年1—2月，股份制企业实现利润为4936.9亿元，规模以上工业企业利润为7080.1亿元”。

第三步，根据比重=部分量/整体量，选项出现了较为接近的情况（A、B），应精确计算，2019年1—2月规模

以上工业企业中，股份制企业实现利润所占份额约为  $\frac{4936.9}{7080.1}$ ，直除首两位商69。

因此，选择B选项。

有小数点的选项，若取整处理后的结果一样，则是较为接近的选项，需要精确计算。

118、正确答案：A

解析

第一步，本题考查现期利润率计算。

第二步，定位表格，“2019年1—2月采矿业利润总额为701.5亿元，营业收入总额为6308.4亿元”。

第三步，根据利润率=利润/收入，选项出现了首位相同，第二位不同的情况，将分子取整，分母从左向右截取

前三位，代入数据可得  $\frac{702}{631}$ ，直除首两位商11。

因此，选择A选项。

资料分析中利润率=利润/收入；数量关系中利润率=利润/成本。

119、正确答案：D

解析

第一步，本题考查增长率读数比较。

第二步，定位文字材料第二段，“2019年1—2月，专用设备制造业利润总额同比增长14.0%……农副产品加工业下降5.5%”。

第三步，增长幅度，即为增长率，需要看正负。各行业增幅的大小关系如下：汽车行业的增幅（-42%）最低，一旦出现，必排最后，排除B选项；非金属矿物制品业（3.1%）>农副食品加工业（-5.5%）>纺织业（-11.3%），排除A、C选项。

因此，选择D选项。

120、正确答案：C

解析

第一步，本题考查综合分析问题，且需选出正确的一项。

第二步，A选项，和差计算。定位文字材料第四段，“2019年2月末，规模以上工业企业资产负债率为56.9%，

同比降低 0.2 个百分点。故 2018 年 2 月末，规模以上工业企业资产负债率为  $56.9\%+0.2\%=57.1\%$ ，错误。

B 选项，直接读数。定位全部材料，材料未给出 2019 年 2 月采矿业利润总额和电力、热力、燃气及水生产和供应业的任何数值，也未给出关联数据，不能判定两者大小，错误。

C 选项，基期量计算。定位文字材料最后一段，“2019 年 2 月末，规模以上工业企业每百元资产实现的营业收入为 80.9 元，同比减少 2.4 元”，根据基期量=现期量-增长量，可得 2018 年 2 月末规模以上工业企业每百元资产实现的营业收入为  $80.9 - (-2.4) = 80.9 + 2.4 = 83.3$ （元），正确。

D 选项，现期比重计算。定位表格材料中“国有控股企业”所在行及第一段文字材料，“2019 年 1—2 月份，全国规模以上工业企业利润总额为 7080.1 亿元”，“2019 年 1—2 月，国有控股企业利润总额为 2223.7 亿元”，根据比重=部分量/整体量，无对照数据，则分子分母取整即可，代入数据可得 2019 年 1—2 月，规模以上工业

企业利润总额中国有控股企业所占份额约为  $\frac{2224}{7080} \approx 31\% < 35\%$ ，错误。

因此，选择 C 选项。

121、正确答案：B

解析

第一步，本题考查其他计算问题。

第二步，定位文字材料第一段，“2019 年一季度，社会消费品零售总额 97790 亿元，同比名义增长 8.3%（扣除价格因素实际增长 6.9%）。”

第三步，由  $1 + \text{实际增长率} = (1 + \text{名义增长率}) \times (1 + \text{CPI 增长率})$ ，CPI 为消费价格指数，若按照 2018 年一季度价格计算，即考虑消费价格对其影响，结合基期量=现期量/（1+增长率），故所求 2019 年一季度社会

消费品零售总额为  $\frac{97790}{1 + 8.3\%} \times (1 + 6.9\%)$ ，略小于 97790 亿元，仅 B 选项符合。

因此，选择 B 选项。

122、正确答案：A

解析

第一步，本题考查简单计算中直接读数。

第二步，定位折线图材料，材料给出了 2018 年 3 月-2019 年 3 月社会消费品零售总额分月同比增长速度。

第三步，从图中读出 2018 年 4 月为 9.4%，2018 年 6 月为 9.0%，2018 年 9 月为 9.2%，2018 年 11 月为 8.1%。

最快的为 2018 年 4 月。

因此，选择 A 选项。

123、正确答案：C

解析

第一步，本题考查增长率计算问题。

第二步，定位文字材料第二段，“其中，3月份城镇消费品零售总额27192亿元，同比增长8.5%；乡村消费品零售总额4534亿元，增长9.4%。”

第三步，根据增长率=（现期量-基期量）/基期量，观察选项首位数字各不相同，分母从左向右截取前两位，

$$\frac{272 - 45}{45} = \frac{227}{45}$$

分子减法计算，考虑截位舍相同，可得  $\frac{227}{45}$ ，直除首位商5。

因此，选择C选项。

124、正确答案：C

解析

第一步，本题考查基期量比较问题。

第二步，定位表格数据，材料中给出了2019年1~3月的限额以上单位商品零售额的现期量和增长率。

第三步，根据公式：基期量=现期量/（1+增长率），代入数据，烟酒类： $\frac{1061}{1+5.9\%}$ ，日用品类： $\frac{1440}{1+10.8\%}$ ，中西药品类： $\frac{1093}{1+10\%}$ ，先根据分数性质，“分子大，分母小的分数大”，可推出中西药品类大于日用品类，排除日用品类，而通讯器材类和中西药品类的分母基本一致，而中西药品的现期量大于通讯器材类，排除通讯器材类，剩下烟酒类和中西药品类，利用直除法，烟酒类为  $\frac{1061}{1+5.9\%} \approx 1000$ ，

中西药品类为  $\frac{1440}{1+10.8\%} \approx 1300$ ，很明显中西药品类最大。

因此，选择C选项。

125、正确答案：D

解析

第一步，本题考查综合分析问题，且需选出错误的一项。

第二步，A选项，直接读数，定位表格材料，得出“文化办公用品类零售额”的同比增长率为-4.0%，同比下降，正确。

B选项，直接读数，定位表格材料，得出“实物商品网上零售额”的同比增长率为21%，超过20%，正确。

C选项，混合增长率，定位表格材料，根据表格第一横行给定的时间为“2019年3月份”和“2019年1-3月份”，可知求“2019年1-2月份”的增长率为混合增长率。定位表格材料，可以读出3月份的增长率为-1.2%，1-3月份的增长率为2.6%，根据结论“大小居中”，可知1-2月的增长率大于2.6%，增长率大于零同比增加，正确。

D选项，直接读数，定位第四段文字材料，百货店的增长速度为0.9%，专卖店的增长速度为-0.9%，一正一负，错误。

因此，选择D选项。

126、正确答案：C

解析

第一步，本题考查基期量计算问题。

第二步，定位第一段文字材料“2019年1—2月份，全国固定资产投资（不含农户）44849亿元，同比增长6.1%”。

第三步，根据基期量=现期量/（1+增长率），单位换算仅影响最终结果量级情况，而选项量级一致，故无需考

考虑单位换算，观察选项出现了首位相同但第二位不同的情况，分母从左向右截取前三位直除，可得 $\frac{44849}{1.06}$ ，直除首两位商42。

因此，选择C选项。

127、正确答案：A

解析

第一步，本题考查现期比重计算中求比重问题。

第二步，定位第一段文字材料“2019年1—2月份，全国固定资产投资（不含农户）44849亿元，同比增长6.1%……

第三产业投资30035亿元，增长6.5%”。

第三步，根据比重=部分量/整体量，观察选项出现了首位相同第二位不同的情况，分母从左向右截取前三位直

除可得 $\frac{30035}{448}$ ，直除首两位商67。

因此，选择A选项。

128、正确答案：B

解析

第一步，本题考查简单计算问题中和差类。

第二步，定位前两段文字材料“2019年1—2月份，民间固定资产投资26963亿元，2019年1—3月份，民间固定资产投资61492亿元”。

第三步，2019年3月=2019年1—3月-2019年1—2月，可得61492-26963，选项精确度与材料数据一致，考虑尾数法，2-3，以9结尾，仅B选项符合。

因此，选择B选项。

129、正确答案：B

解析

第一步，本题考查和差比较问题。

第二步，定位倒数第二段文字材料“2019年1—3月份，东部地区投资同比增长4.3%，增速比1—2月份提高1个百分点；中部地区投资增长9.6%，增速提高0.2个百分点；西部地区投资增长7.8%，增速提高0.2个百分点；东北地区投资增长2.9%，增速回落2.8个百分点”。

第三步，则可得2019年1—2月份东部地区投资同比增速为4.3%-1%=3.3%，中部地区9.6%-0.2%=9.4%，西部

地区  $7.8\% - 0.2\% = 7.6\%$ ，东北地区  $2.9\% + 2.8\% = 5.7\%$ ，则增速最快的为中部地区。

因此，选择 B 选项。

130、正确答案：D

解析

第一步，本题考查综合分析问题，且需选出错误的一项。

第二步，A 选项，增长率计算，定位文字段落第一段，“第一产业投资 950 亿元，同比增长 3.7%，增速比 2018 年全年回落 9.2 个百分点”，求 2018 年增长率，代入数据得  $3.7\% + 9.2\% = 12.9\%$ ，正确。

B 选项，直接读数进行比较，定位文字段落第四段和第五段，“其中，采矿业投资增长 14.8%”“道路运输业投资增长 10.5%”，数据直接进行比较  $14.8\% > 10.5\%$ ，所以采矿业投资比道路运输业投资增速快，正确。

C 选项，直接读数进行比较，定位文字段落第三段，“分产业看，第一产业投资 2408 亿元，同比增长 3%···第二产业投资 33224 亿元，增长 4.2%···第三产业投资 66240 亿元，增长 7.5%”，数据直接进行比较  $7.5\% > 4.2\% > 3\%$ ，所以第三产业投资同比增速最快，正确。

D 选项，增长率计算比较，定位文字段落最后一段，“分登记注册类型看，内资企业投资同比增长 6.4%，增速与 1-2 月份持平；港澳台商投资增长 2.8%，增速提高 2.8 个百分点；外商投资增长 8.7%，增速提高 5.3 个百分点”，求 2019 年 1-2 月增长率，代入数据得，内资企业：6.4%；港澳台商： $2.8\% - 2.8\% = 0\%$ ；外商： $8.7\% - 5.3\% = 3.4\%$ ，由于  $3.4\% < 6.4\%$ ，所以外商投资  $<$  内资企业投资，错误。

因此，选择 D 选项。





美好的事情即将发生...

something wonderful is about to happen



公考通