

2017 安徽省中小学教师招聘考试真题及答案-小学信息技术

一、单选题（共 30 小题，每题 2 分）

1. 电脑关机后，下列存储设备中信息会丢失的是（ B ）



2. 3D 打印技术是以软件建模为基础，运用粉末状金属或塑料等可粘合材料打印物体，其打印物体的方式是（ D ）

A. 一次成型 B. 自上而下 C. 由外向内 D. 逐层打印

3. 在超市购物时，收银员的条码扫描仪“扫”一下，电脑上就显示出价格。“扫”商品的过程属于（ C ）

A. 加工信息 B. 发布信息 C. 获取信息 D. 交流信

智能停车系统利用摄像头识别驶入汽车牌，并报出车牌号，这种识别技术属于（ A ）

A. 光学字符识别 B. 语音识别 C. 虚拟现实 D. 机器翻译

5. 制作一个声控灯，实现白天不亮、晚上有声音的功能。不需要用的部件是（ C ）

A. 声音传感器 B. 光感传感器 C. 超声波传感器 D. 灯泡

6. 将网页中一段文字保存到 Word 文档中，要复制该段文字，应该先（ B ）

A. 粘贴文字 B. 选中文字 C. 保存文件 D. 打印网页

7. 张丽打开安徽基础教育资源网，选择“教学资源”—“信息技术学科”—“小学”—“第五册”，找到所需资源。这种做法属于网络信息检索方法中的（ D ）

A. 直接访问网页 B. 使用搜索引擎 C. 查询在线数据库 D. 主题目录检索

8. 网上能搜索到很多“虚拟现实”的相关文档，要筛选出最有价值的信息应该关注①该文档发表的网站是否权威②字数最多的文档③该文档的发表时间、作者④该文档是否需要付费阅读（ C ）

A. ②③ B. ①④ C. ①③ D. ②④

9. 以下不属于视频文件的是①MP3②MP4③GIF④WMA⑤WMV（ B ）

A. ①②③ B. ①③④ C. ②③④ D. ③④⑤

10. 下列软件中不能制作微课的是（ A ）

A. Photoshop B. PowerPoint2016 C. 屏幕录像专家 D. Camtasia Studio

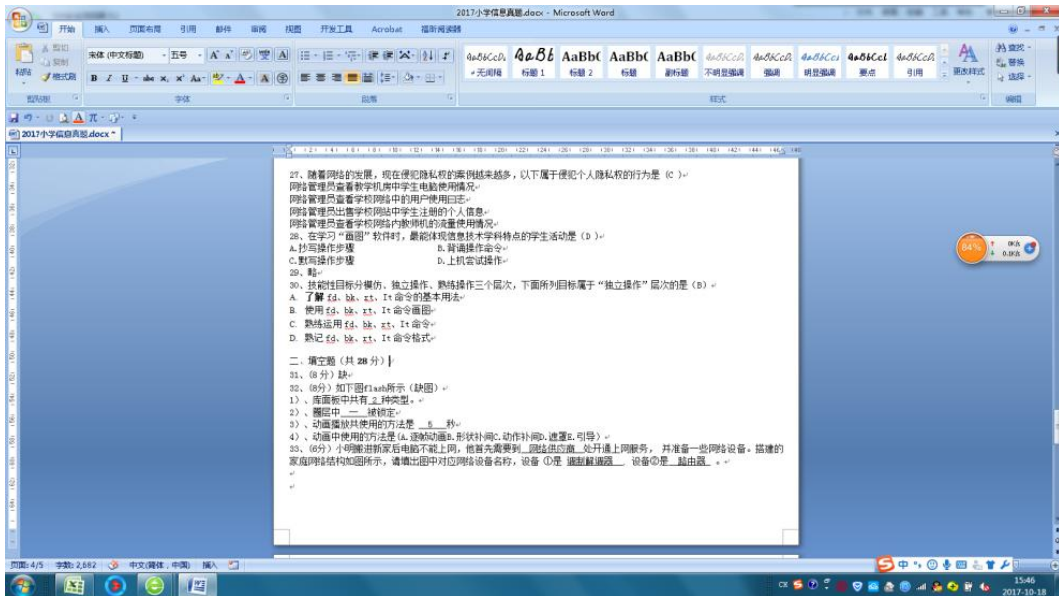
11. 在 Word 编辑状态下，选中一行文字后，按 Delete 键删除，该行文字（ D ）

A. 不能被删除 B. 被删除且不能恢复

C. 被删除到回收站 D. 被删除且可以恢复

12. 如图所示，在 Word 文档中，鼠标指针在文本选定区左侧空白处，此时快速单击三次鼠标，将选中（ D ）

A. 一段文本 B. 一句文本 C. 一行文本 D. 整篇文档



- 13、QQ 软件不能实现的功能是 (B)
 A. 语音通话 B. 声音编辑
 C. 视频聊天 D. 文件分享
- 14、李老师准备制作学校网站, 按照制作流程, 先设计网站结构, 下一步应该做的是 (C)
 A. 发布网站 B. 编辑网站 C. 收集与加工所需素材 D. 预览网页
- 15、王老师想加入信息技术教师 QQ 群, 不能实现的方式是 (A)
 A. 通过查找微信号申请加入 B. 通过群主邀请加入
 C. 通过已加入群的其他教师邀请加入 D. 通过查找群号加入
- 16、在 PPT2003 中, 进行如下操作, 那结果为 (C)



- A. “矩形 3”在“椭圆 4”前出现
 B. “矩形 3”在“椭圆 4”后出现
 C. “矩形 3”和“椭圆 4”同时出现
 D. “矩形 3”和“椭圆 4”没有动画
- 17、在图中, 单击文本框可以打开相应的页面, 属于 (A)
 A. 超链接 B. 幻灯片切换 C. 版式 D. 放映
- 18、对于一般计算机用户来说, 维护信息安全最重要是养成良好的使用习惯, 以下可能威胁信息安全的是 (A)
 A. 随意安装软件 B. 进行系统更新 C. 经常备份数据 D. 设置开机密码

19、在 Photoshop 中，以下说法正确的是（ D ）



- A. 图层移到下一层
- B. 在文字图层下创建新的图层
- C. 图层移到上一层
- D. 在文字图层上创建新的图层

20、在以下“我的资料库”中，错误的是（ B ）缺图

- A. 素材文件下有 3 个文件夹
- B. 网络资料中共有 8 个文件夹
- C. 打开文件夹可以找到相应内容
- D. “+”表示还有子文件夹或子文件

21、破解密码程序最常用的方法，是按照一定的规则生成所有密码去尝试，直到得出正确密码为止，该程序使用的算法是（ A ）

- A. 穷举法
- B. 分治法
- C. 递归法
- D. 解析法

22、在如图的 flash 中，图层个数和关键帧分别为（ C ）缺图

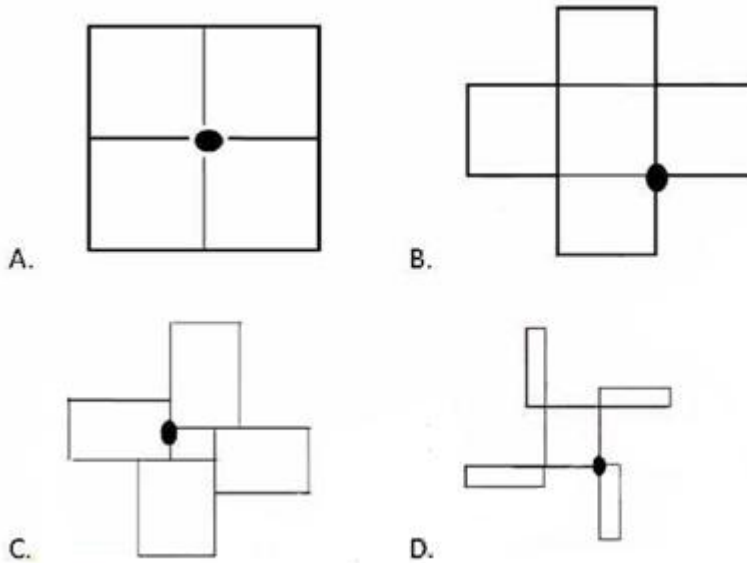
- A. 1 4
- B. 1 8
- C. 2 4
- D. 2 8

23、电脑发生故障，进行如图所示的操作，最有可能接触的故障是（ A ）

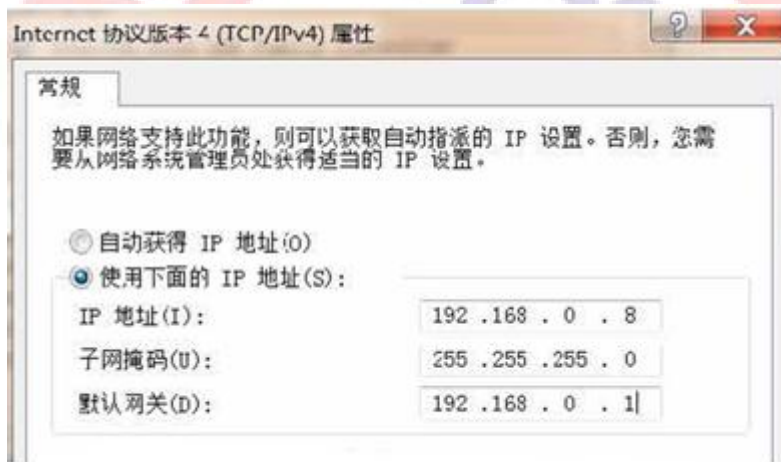


A. 蓝屏 B. 连不上网 C. 显示器颜色暗 D. 硬件有异响

24、在 LOGO 中, CS REPEAT 4[FD 100 RT90]BK30 LT90],画出的图为 (C)



25、电脑因 TCP/IP 属性设置错误导致无法上网,同一局域网内能正常上网电脑的设置如图所示,则故障电脑的 IP 地址、子网掩码、网关应修改为 (D)



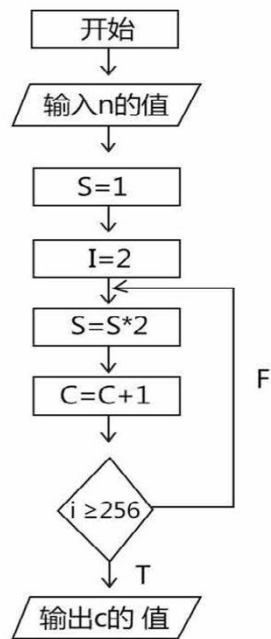
A. 192.168.0.8 255.255.255.0 192.168.0.2

B. 192.168.0.8 255.255.255.1 192.168.0.1

C. 192.168.0.9 255.255.255.0 192.168.0.2

D. 192.168.0.9 255.255.255.0 192.168.0.1

26、VB 程序中如下所示, s 和 c 的初始值为 1/0, 最终 c 的结果为 (C)



- A. 6 B. 7 C. 8 D. 9

27、随着网络的发展，现在侵犯隐私权的案例越来越多，以下属于侵犯个人隐私权的行为是 (C)

- 网络管理员查看教学机房中学生电脑使用情况
- 网络管理员查看学校网络中的用户使用日志
- 网络管理员出售学校网站中学生注册的个人信息
- 网络管理员查看学校网络内教师机的流量使用情况

28、在学习“画图”软件时，最能体现信息技术学科特点的学生活动是 (D)

- A. 抄写操作步骤
- B. 背诵操作命令
- C. 默写操作步骤
- D. 上机尝试操作

29、略

30、技能性目标分模仿、独立操作、熟练操作三个层次，下面所列目标属于“独立操作”层次的是 (B)

- A. 了解 fd、bk、rt、It 命令的基本用法
- B. 使用 fd、bk、rt、It 命令画图
- C. 熟练运用 fd、bk、rt、It 命令
- D. 熟记 fd、bk、rt、It 命令格式

二、填空题 (共 28 分)

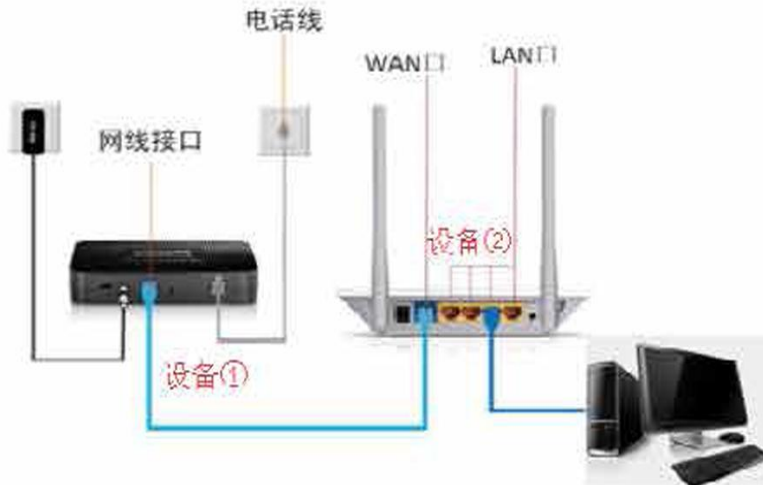
31、(8分) 缺

32、(8分) 如下图 flash 所示 (缺图)

- 1)、库面板中共有 2 种类型。
- 2)、圈层中 一 被锁定
- 3)、动画播放共使用的方法是 5 秒

4)、动画中使用的方法是(A. 逐帧动画 B. 形状补间 C. 动作补间 D. 遮罩 E. 引导)

33、(6分)小明搬进新家后电脑不能上网,他首先需要到网络供应商处开通上网服务,并准备一些网络设备。搭建的家庭网络结构如图所示,请填出图中对应网络设备名称,设备①是调制解调器,设备②是路由器。



34、(6分)微课和常见一对多的课堂教学不同,主要是模拟一对一的教学情境。在较短短(填“长”或“短”的时间内只讲授一个知识点。

三、简答题(共4小题,每题4分,共16分)

35、老师上课用投影仪时发现投影图像模糊不清,至少写出两种可能原因和相应解决办法。

36、无

37、下图是两位学生的多媒体作品,请以老师的角度进行评析。

38、现行小学信息技术教材第7册第11课《飞信联系你我他》中,介绍了飞信软件的注册和使用方法。飞信是一款即时通讯软件,但现在使用者极少。至少写出两种处理本课案例的方法。

四、案例分析题(共16分)

39、张老师对美化班级课程表选择“先学后教”的教学方法,在上课之前,张老师完成了微课,自主学习任务单和进阶练习,根据材料一、二回答问题。

材料一:在编辑好的“美化班级课程表”后,为了使课程表表现得更加清晰,对课表再次进行美化,设置表格文字的字体格式;修饰表格的边框线;进行底纹填充效果。

材料二:

一、学习指南:

1、本课选自小学信息技术第四册第一单元第3课

2、完成目标:(明确学生学习任务)

3、学习建议

二、学习任务

1、设置字体格式:完成表格中文字格式的设置

2、_____ ,

3、_____ , _____

请回答:

1、根据材料内容,将横线填完整

2、根据材料一,确定被借壳的难点并说明理由

3、学生学完微课,张老师在课前对学生进行了测试,请根据结果说明如何组织教学

4、有人认为，学生根据任务进行学习，学习就是学生的事，不是老师的事。说说你的看法。

