

2019 年国家公务员考试行测真题（地市）


查看完整版请关注微信公众号（kdspx100）

回复“2019 国考行测地市级答案”

第四部分 判断推理

本部分包括图形推理、定义判断、类比推理与逻辑判断四种类型的试题。

71 从所给的四个选项中，选择最合适的一个填入问号处，使之呈现一定的规律性：



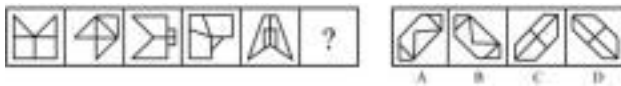
A.A

B.B

C.C

D.D

72 从所给的四个选项中，选择最合适的一个填入问号处，使之呈现一定的规律性：



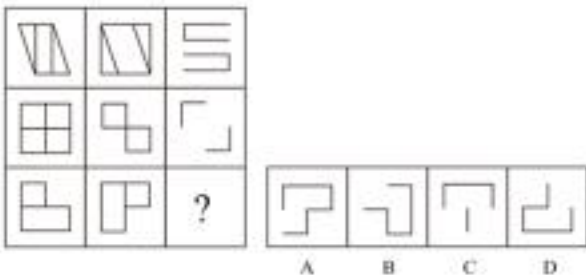
A.A

B.B

C.C

D.D

73 从所给的四个选项中，选择最合适的一个填入问号处，使之呈现一定的规律性：



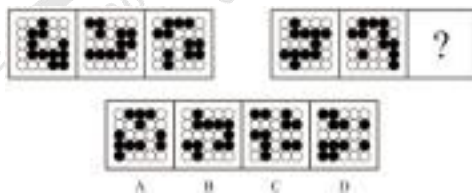
A.A

B.B

C.C

D.D

74 从所给的四个选项中，选择最合适的一个填入问号处，使之呈现一定的规律性：



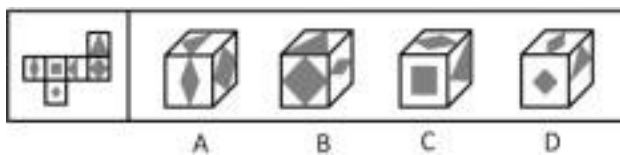
A.A

B.B

C.C

D.D

75 左边给定的是正方体的外表面展开图，下面哪一项能由它折叠而成？



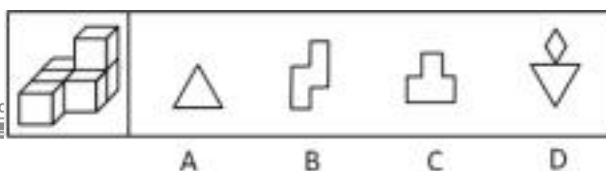
A.A

B.B

C.C

D.D

76 左图为 6 个相同小正方体组合成的多面体，将其从任一面剖开，以下哪一项不可能是该多面体的截面？



A

B

C

D

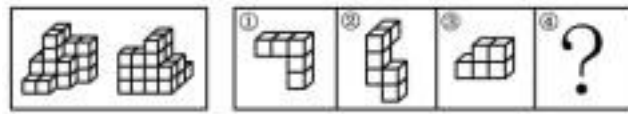
A.A

B.B

C.C

D.D

77 下图为同样大小的正方体堆叠而成的多面



④共 4 个多面

体的组合，问下列哪一项能填入问号处？



A

B

C

D

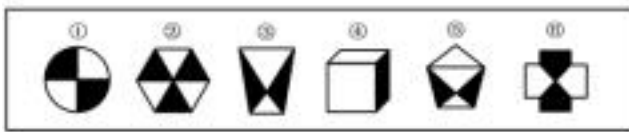
A.A

B.B

C.C

D.D

78 把下面的六个图形分为两类，使每一类图形都有各自共同特征或规律，分类正确的一项是：



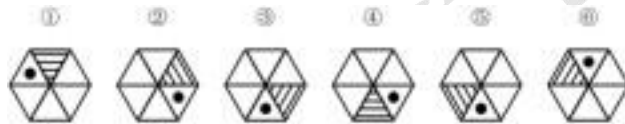
A.①②③, ④⑤⑥

B.①②⑥, ③④⑤

C.①④⑥, ②③⑤

D.①③④, ②⑤⑥

79 把下面的六个图形分为两类，使每一类图形都有各自共同特征或规律，分类正确的一项是：



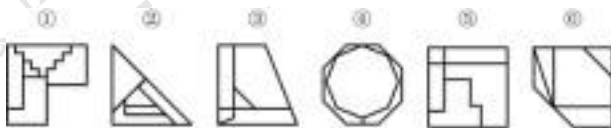
A.①④⑤, ②③⑥

B.①②⑤, ③④⑥

C.①④⑥, ②③⑤

D.①③④, ②⑤⑥

80 把下面的六个图形分为两类，使每一类图形都有各自共同特征或规律，分类正确的一项是：



A.①③④, ②⑤⑥

B.①②⑥, ③④⑤

C.①③⑤, ②④⑥

D.①④⑥, ②③⑤

81 定律假说是对一类事物或现象的性质或发生原因作出推测性解释，得出一个可能具有普遍性意义的规律性命题，从而试图建立、发展或补充科学理论。

根据上述定义，下列属于定律假说的是：

- A.老师向学生们解释潮汐现象产生的原因是海水在引力作用下出现的周期性运动
- B.某单位仓库被盗，由于未发现破坏性进入的痕迹，侦查人员认为内部人员作案的可能性极大
- C.牛顿根据苹果掉落现象发现了万有引力定律
- D.有研究人员指出，由基因导致的疾病可能都是由于基因突变引起的

82 严格指示词是指一个语言表达式所具有的如下性质：它所指示的对象不会随着该表达式被使用的具体情境而发生改变。这些情境通常包括表达式的使用主体、表达式被使用的时间、地点、世界状态等等。

根据上述定义，下列属于严格指示词的是：

- A.现任联合国秘书长
- B.世界上身高最高的人
- C.最小的素数
- D.经常坐在教室第一排正中间的同学

83 同病异治是指中医对相同疾病采取不同的治法，达到治病求本的治疗效果；异病同治是指不同的疾病在发展过程中出现性质相同的症状，因而可以采用同样的中医治疗方法。



根据上述定义，下列属于异病同治的是：

E. 久痢脱肛和胃下垂，均为中气下陷之证，可用升提中气之法治疗

外感风热，内有蕴热的表里俱实之证，宜解表和攻里之药同时并用

F. 麻疹初期疹未出透，治疗宜宣肺透疹；中期肺热明显，治疗宜清热解毒

G. 风热感冒宜用辛凉解表法治疗，风寒感冒宜用辛温解表法治疗

84 物候现象是生物随着气候一年四季的周期性变化而发生的相应季节性变化的现象。影响物候现象的因素主要包括海拔的差异、经度的差异、纬度的差异和时间的差异。

下列诗句反映的物候现象受到海拔差异影响的是：

A. 日出江花红胜火，春来江水绿如蓝

B. 竹外桃花三两枝，春江水暖鸭先知

C. 人间四月芳菲尽，山寺桃花始盛开

D. 羌笛何须怨杨柳，春风不度玉门关

85 公平世界谬误是指人们倾向于认为我们生活的世界是公平的，一个人获得成就，是因为他肯定做对了什么，所以这份成就就是他应得的；一个人遭遇不幸，他自己也有责任，甚至是咎由自取。

根据上述定义，下列**没有**反映公平世界谬误的是：

A. 一分耕耘，一分收获

B. 谋事在人，成事在天

C. 可怜之人必有可恨之处

D. 天网恢恢，疏而不漏

86 按照先后顺序排列的两个数字或者字母称为序对，如 2a、e3、dm 等等，序对中的第一个数字或者字母称为前项，第二个称为后项。函项指的是由若干序对构成的一个有限序列，其中每个序对的前项都是字母，后项都是数字，并且对于任一序对，如果前项相同，则后项必定相同。

根据上述定义，下列哪项属于函项？

A. p3、c4、d6、p6、m8

B. b3、5a、8n、p1、66

C. f4、h4、gm、y2、x2

D. a3、b5、d6、p1、e3

87 诉前财产保全是指利害关系人因情况紧急，若不立即申请财产保全将会使其合法权益受到难以弥补的损害，起诉前向人民法院申请，由人民法院采取的一种财产保全措施。

根据上述定义，下列**不属于**诉前财产保全的是：

H. 工厂甲向信用社乙贷款 500 万元，甲无法按期归还。乙随即起诉，审理期间得知甲已将设备转卖，遂请求法院查封甲正在出售的大楼

I. 甲与乙签订购销合同，甲给乙 200 万元预付款后，发现乙有欺诈行为，无力履行合同，遂请求人民法院冻结 200 万元预付款

J. 银行甲与公司乙签订协议，甲向乙提供 5000 万元贷款，分 3 期还清，第一笔到期时乙无力归还，甲向法院申请查封乙的财产

K. 甲欠乙 10 万元，乙多次找甲还钱未果，得知甲有一辆轿车，乙向法院申请将甲的轿车予以查封，再将甲告上法庭

88 员工帮助计划是由企业为员工设置的一套长期的、系统的福利项目，通过专业人员对员工及其直系亲属提供专业指导和咨询，旨在帮助解决员工及其家庭成员的各种心理和行为问题，提高员工在企业中的工作绩效。根据上述定义，下列属于员工帮助计划的是：

L. 项目经理小祁的父亲最近去世了，小祁很悲痛，工作效率受到很大影响，总经理特批了一笔慰问款

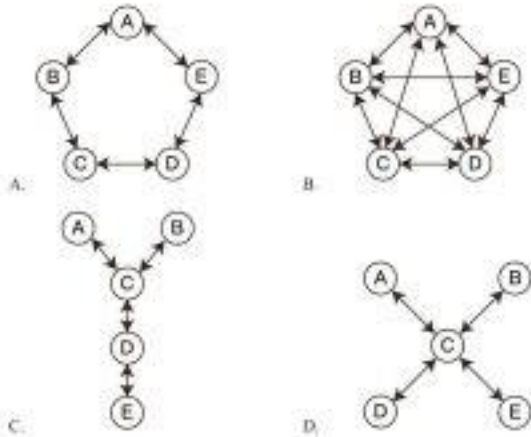
M. 司机小方驾车外出工作期间交通肇事致人死亡，公司聘请律师为小方做从轻处罚的辩护，最终小方获刑三年

N. 会计师老王的儿子没有考上大学，老王夫妇很烦恼，互相指责。在公司心理专员的指导下，老王改善了与妻子的沟通方式，情绪逐渐好转

O. 职员小欣情绪低落，有自杀的念头，经医院诊断为重度抑郁症，需住院治疗。公司启动援助机制，为小欣支付了住院费用

89 沟通网络是信息沟通的结构形式。常见的沟通网络有四种形式：在轮式网络中，一个下级同时与多个主管联系，但主管之间没有沟通的情形。在 Y 式网络中，第二级有两个上级与之联系，第三级与一个或更多下级发生联系。在环式网络中，每个成员仅与相邻者联系，而不能与更远的成员进行沟通。在全通道式网络中，所有成员间充分进行沟通，所有成员的地位是平等的，无核心人物。

根据上述定义，下列图形反映了轮式网络特点的是：



A.A

B.B

C.C

D.D

90 变文和连文是古汉语中常用的修辞方法。变文是指为了避重而在相临近的句子中采用同义词来表达相同的意义。连文是指本来要表达甲，而连带说到乙，使两个相关联的词连在一起，但突出表达其中一个词的意义。根据上述定义，下列使用了连文这一修辞方法的是：

- P. 《史记·淮阴侯列传》：“置之死地而后生，置之亡地而后存。”
- Q. 《易经·系辞上传》：“鼓之以雷霆，润之以风雨。”
- R. 诸葛亮《出师表》：“受任于败军之际，奉命于危难之间。”
- S. 贾谊《过秦论》：“南取汉中，西举巴蜀，东割膏腴之地，北收要害之郡。”

91 分母：除数

- A. 内角：外角
- B. 加减法：乘除法
- C. 横坐标：纵坐标
- D. 百分比：百分率

92 直线交叉：直线不平行

- A. $x > 1; x^2 >$
- B. 100
- C. 沸腾
- D. O_3 : 臭氧
- E. : 圆面积 π

93 刻舟：求剑

- A. 里应：外合
- B. 掩耳：盗铃
- C. 打草：惊蛇
- D. 指桑：骂槐

94 马蹄莲：蟹爪兰

- A. 牵牛花：美人蕉
- B. 卷心菜：夜来香
- C. 灯笼椒：金针菇
- D. 佛手柑：含羞草

95 金库：现钞：保管

- A. 网球场：球迷：观看
- B. 电缆车：景区：观光
- C. 录音棚：专辑：播放
- D. 美术馆：字画：陈列

96 山洪：村民：士兵

- A. 狂风：雷电：灯塔
- B. 事故：伤员：医生
- C. 海啸：船舶：渔民
- D. 婚礼：新人：主持

97 病毒：传染病：流行性

- A. 毒驾：车祸：危害性
- B. 市场：交易：自发性



- C.噪声：听力损伤：普遍性
D.甜食：肥胖症：突发性
- 98.微量元素：稀有金属：铜
A.木本植物：草本植物：松树
B.海洋动物：哺乳动物：北极熊
C.内陆湖：淡水湖：青海湖
D.节肢动物：两栖动物：鳄鱼
- 99.莲蓬对于（ ）相当于（ ）对于葛根
A.荷叶；葛藤
B.荷花；葛粉
C.喜爱；纠缠
D.荷塘；山岗
- 100.立案对于（ ）相当于（ ）对于判决
A.起诉；服刑
B.审理；质证
C.犯罪；调解
D.罚款；执行
- 101.一般来说，塑料极难被分解，即使是较小的碎片也很难被生态系统降解，因此它造成的环境破坏十分严重。近期科学家发现，一种被称为蜡虫的昆虫能够降解聚乙烯，而且速度极快。如果使用生物技术复制蜡虫降解聚乙烯，将能够帮助我们有效清理垃圾填埋场和海洋中累积的塑料垃圾。
以下哪项如果为真，**不能**支持上述结论？
A.世界各地的塑料垃圾的主要成分是聚乙烯
B.蜡虫的确能够破坏聚乙烯塑料的高分子链
C.聚乙烯被蜡虫降解后的物质对环境的影响尚不明确
D.现有科技手段能够将蜡虫降解聚乙烯的酶纯化出来
- 102.所有的幼儿园都面临同一个问题：就是对于那些在幼儿园放学之后不能及时来接孩子的家长，幼儿园老师除了等待别无他法，因此许多幼儿园都向晚接孩子的家长收取费用。然而，有调查显示，收取费用后晚接孩子的家长数量并未因此减少，反而增加了。
以下哪项如果为真，最能解释上述调查结果？
A.收费标准太低，对原本经常晚来接孩子的家长没有太大的约束力
B.有个别家长对收费行为不满，有时会故意以晚接孩子的行为来抗议
C.有些家长因工作忙碌，常常不能及时来接孩子
D.收费后，更多的家长认为即使晚来接孩子也不必愧疚，只要付费即可
- 103.应激本身没有致痛能力，但是流行病学调查发现，长期应激与疼痛慢性化的发生正相关，即长期处于巨大压力下的人群，其疼痛症状更易迁延，进而发展为慢性疼痛。
以下哪项如果为真，最能支持上述调查结果？
A.具有焦虑倾向的人，其应激水平往往较高，疼痛慢性化的发生率也会更高
B.长期应激可影响内分泌系统，使人的疼痛抑制系统的功能被削弱
C.吸烟使人体内分泌系统发生紊乱，对疼痛感知的影响与应激相似
D.如果能有效缓解应激，保持心态平和，疼痛慢性化的发生率将会降低50%
- 104.自从前年甲航运公司实行了经理任期目标责任制之后，公司的经济效益也随之逐年上升。可见，只有实行经理任期目标责任制，才能使甲公司经济效益稳步增长。
以下哪项如果为真，最能削弱上述论证？
A.近两年国家经济发展速度较快，航运行业的整体形势大好
B.没实行任期目标责任制的乙航运公司，近两年的经济效益也稳步增长
C.前年甲公司开始实行职工薪酬管理制度改革，极大地调动了公司员工的积极性
D.如果甲航运公司没有实行任期目标责任制，近两年的经济效益会增长得更快
- 105.所有的地震都是以P波开始的，这些P波移动快速，使地面发生上下震动，造成的破坏较小。下一个是S波，它的移动很慢，使地面前后、左右晃动，破坏性极大。早期预警系统通过测量P波沿地面移动的情况，来预测S波所造成的影响，然后发出警报。然而，从事此类系统工作的科学家们发现，事实上人们并没有多少时





间为大地震做好准备。

要得到上述结论，需要补充的最重要前提是：

- A. 地球上每年大约发生 500 多万次地震，绝大多数的地震人们根本感觉不到
- B. 根据历年大地震的记载，强震大多在夜里瞬间发生，无法在短时间内组织有效的防御行动
- C. 地震越大，P 波与 S 波之间的间隔越短，留给人们预警的时间不多
- D. 发生较大地震时，人们先感到上下颠簸，而后才有很强的水平晃动，这种晃动是由 S 波造成的



考德上公培
www.kds100.com





考德上公培
www.kds100.com

育才为国 德者为上



考德上公培
www.kds100.com

