

成都市青羊区小学 2017—2018 学年度上期  
一年级数学期末检测题

题号	一	二	三	四	五	六	总分	选作题
得分								

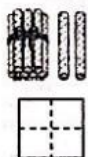
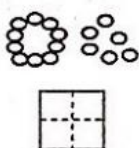
一、口算。（15分，每小题0.5分）（5分钟内完成）

7+2=	8+4=	18-3=	4+5=	12+5=
5+8=	9-4=	11+2=	9-2=	4+9=
9-9=	7+5=	10-4=	7+8=	4-0=
17-4=	10-8=	5+6=	12-1=	10+6=
8+6=	9+4=	7-5=	16-4=	3+4=
2+9=	6+7=	8+2=	3+9=	5+7=

二、我会填。（30分，1-5小题每空1分，6、7小题4分，8题6分）

1. 看图写数。

1. 看图写数。



2. 5个一和1个十组成（ ），2个十是（ ）。

3. 17的个位上是（ ），十位上是（ ）。

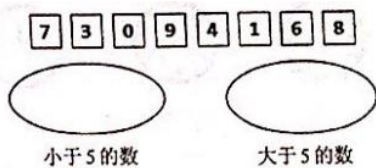
4. 想一想，填一填。

	12	13		15	
--	----	----	--	----	--

18	16		12		
----	----	--	----	--	--

5. 在 中，从左数起第（ ）个是圆柱，从左数起第三个是（ ）。

6. 分一分。（4分）



小于5的数      大于5的数

7. 比一比，画一画。（4分，每小题2分）

画□，使□比△多2个。    △△△△    \_\_\_\_\_


画○使○比 少4个。    \_\_\_\_\_

8. 按要求填数。（6分）

7和5在最上面一行，7在5的右面。


6和2在最下面一行，6的左边是2。

8在2和5的中间，8的右面是4。



三、我会看。(14分)


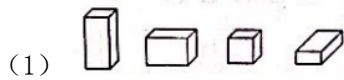
1. 在最长的下面画√，在最短的下面画○。(3分)



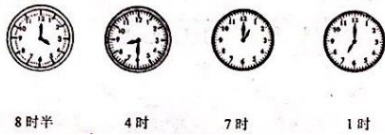
2. 在最重的旁边画√，在最轻的旁边画○。(3分)



3. 圈出不是同一类的那一个。(4分)



4. 连一连。(4分)



四、我会算。(4分)

1. 用“凑十法”计算。(4分)

$$9 + 7 = \square$$

$$9 + 7 = \square$$

2. 按规律写算式。(6分)


(1)  $10-4=$        $10-5=$        $10-6=$       \_\_\_\_\_ - \_\_\_\_\_ = \_\_\_\_\_

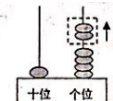
(2)  $6+5=$        $7+5=$        $8+5=$       \_\_\_\_\_ + \_\_\_\_\_ = \_\_\_\_\_


3. 在○里填上“>”“<”或“=”。(4分)


$15 \bigcirc 12$        $4+11 \bigcirc 11$        $5+8 \bigcirc 8+5$        $10-3 \bigcirc 10+3$


五、我会写。(15分，每小题3分)



2.   $\square - \square = \square$

3.   $\square \square \square \square = \square$

4.   $\square \square \square = \square$

5.   $\square \square \square \square = \square$

六、我会解。(12分, 每题4分)

1. 丽丽看书, 上午看了8页, 下午和上午看的同样多。丽丽这一天一共看了多少页书?

$\square \square = \square$


答: 丽丽这一天一共看了\_\_\_\_\_页书。

2. 车上原来有9人, 到站后有2人下车, 又有7人上车, 现在车上有多少人?

$\square \square \square = \square$

答: 现在车上有\_\_\_\_\_人。

3. 我们一共有10个同学。



小明前面有3人, 小明的后面有几人?

算式: \_\_\_\_\_

答: 小明后面有 \_\_\_\_\_

算式: \_\_\_\_\_

答: 小明后面有\_\_\_\_\_人。

【选做题】20分。

2. 把2、3、4、5分别填入□中。

1.  $\begin{cases} 14 - \text{草莓} = 8 \\ \text{菠萝} + \text{草莓} = 13 \end{cases}$

$\text{草莓} = \square$       $\text{菠萝} = \square$

2. 把2、3、4、5分别填入□中。

$\square + \square - \square = \square$

$\square + \square - \square = \square$