


2019年北京市东城区初三期末历史逐题解析

一、**选择题**（本大题共 30 小题，每小题 1.5 分，共 45 分。在每小题所列的四个选型中，只有一项符合题目要求）

1.参观博物馆是我们学习历史的重要途径。下图是某同学在国家博物馆看到的展品。据此判断，当时生活在这里的远古人类

<p>鹿角铲</p> <p>距今约 1.4 万年</p> <p>1975 年贵州省兴义县猫猫洞出土。它是用截断的鹿角制成。</p> <p>先在截断鹿角的一端刮出一个约 45 度的刃口，再加以磨制。</p>	
--	---

- A. 已掌握磨制技术
- C. 从事渔猎活动

- B. 能够制造瓷器
- D. 会使用牛耕地

【答案】A

【解析】本题考查祖国境内的原始人类相关知识点。所给图片为磨制石器鹿角铲。

A. 本选项为已掌握磨制技术，与题意相符，故正确；

B. 本选项原始瓷器出现在商代，与材料时间不符，故错误；

C. 本选项中从事渔猎活动与材料信息无关，故错误；

D. 本选项牛耕出现在春秋战国时期，时间不符，故错误。

2.考古学家在商朝的多处遗址中，发现青铜器铸造作坊中有较细的分工，有世代从事生产、擅长专精技艺的工匠；生产规模大、技艺水平

高；司（后）母戊鼎是典型代表。据材料推断，商朝能够铸造出司（后）母戊鼎的条件有

- ①分工细致
 - ②技艺精湛
 - ③原料丰富
 - ④规模宏大
- A. ①②③ B. ①②④
- C. ①③④ D. ②③④

【答案】B

【解析】本题考查中国古代青铜器相关知识点。依据材料，总结司母戊鼎的铸造条件。

①项，与材料中“青铜器铸造作坊中有较细的分工”相符，故正确；

②项，与材料中“有世代生产、擅长专精技艺的工匠”相符，故正确；

③项，“原料丰富”在材料中并未体现，故错误；

④项，与材料中“生产规模大，技艺水平高”相符，故正确。

综上，B选项正确。

3.中国古代有这样一位君主，他“南取百越之地……使蒙恬北筑长城而守藩篱（指边界、屏障）……废先王之道，焚百家之言”，他是

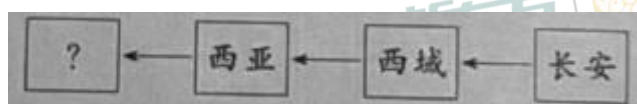
- A.秦孝公
- B.秦穆公
- C.秦始皇
- D.汉武帝

【答案】C

【解析】本题考查秦朝相关知识点。根据材料“南取百越”“使蒙恬

北筑长城”、“废先王之道，焚百家之言”结合所学可知，他是秦朝的第一代君主秦始皇，选项 C 符合题意；选项 ABD 与题干内容不符，故选 C。

4.某同学在复习汉代丝绸之路时，绘制了下列示意图，其中“？”应填写



A. 欧洲

B. 南亚

C. 中亚

D. 东非

【答案】A

【解析】本题考查汉代丝绸之路的相关知识。图片信息为汉代丝绸之路路线图。从长安通过河西走廊，今新疆地区，运往西亚，再转运到欧洲，又把西域各国的奇珍异宝输入中国内地。故？处应填写欧洲。选项 A 符合题意；选项 BCD 与题干内容不符，故选 A。

5.右图是 2018 北京国际设计周的作品“承包你一年的糕”（局部）之一，据此推断，与该创意设计主题有关的是

A. 农历与农业

B. 粮票与生活

C. “二十四节气”

D. 糕点文化



【答案】C

【解析】本题考查中国古代历法的相关知识。根据图片信息“立春”、“雨水”、“惊蛰”、“立夏”、“小满”、“芒种”、“立秋”、“处暑”、“白

露”可知该糕点主题为“二十四节气”历法相关。选项 C 符合题意；选项 ABD 与题干内容不符，故选 C。

6.唐代大诗人李白有诗曰：“二龙争战决雌雄，赤壁楼船扫地空。烈火张天照云海，周瑜于此破曹公。”诗中所描述的历史事件的影响是

- A.为曹操统一北方奠定基础
- B.为三国鼎立形成奠定基础
- C.三国鼎立的局面正式形成
- D.最终结束三国鼎立的局面

【答案】B

【解析】本题考查三国时期的相关知识点。根据“赤壁”“周瑜于此破黄盖”可知该历史事件为赤壁之战。

- A.曹操统一北方奠定基础的是官渡之战，故错误；
- B.赤壁之战为三国鼎立奠定基础，故正确；
- C.220 年曹丕自称皇帝，国号魏；221 年刘备在成都称帝，国号汉，史称蜀；222 年孙权称王，国号吴，三国鼎立局面正式形成。故错误；
- D.280 年西晋军队灭掉吴国，结束了分裂局面，赤壁之战无关，故错误。

7.东汉末年书法成为一门艺术。到魏晋南北朝时期，隶书、草书、楷书和行书等各种书体均已完备。东晋有一位大书法家博采众长，诸体兼精，后人尊称他为“书圣”。他是

- A.钟繇
- B.王羲之

C.王献之

D.柳公权

【答案】B

【解析】本题考查魏晋南北朝文化的相关知识点。东晋的王羲之，集书法之大成，他的代表作《兰亭序》，有天下第一行书“的美誉。王羲之被后人称为“书圣”。选项C符合题意；选项ABD与题干内容不符，故选C。

8.如果你去广州、泉州、徐州等地旅游，会发现这些城市都有“状元街”。下列制度与“状元”有关的是

A.禅让制

B.分封制

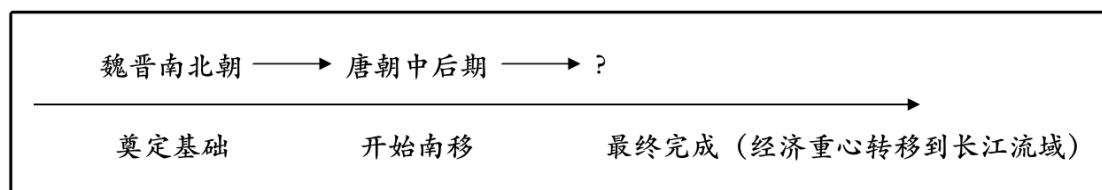
C.三省六部制

D.科举制

【答案】D

【解析】本题考查中国古代科举制的相关知识点。科举制隋朝创立，唐朝完善，常设的考试科目很多，以进士、明经两科最重要。进士科考第一名的，称为状元。选项D符合题意；选项ABC与题干内容不符，故选D。

9.某同学在学习“中国古代经济重心南移”主题时，制作了如下示意图，其中“？”应填写



A.北宋

B.南宋

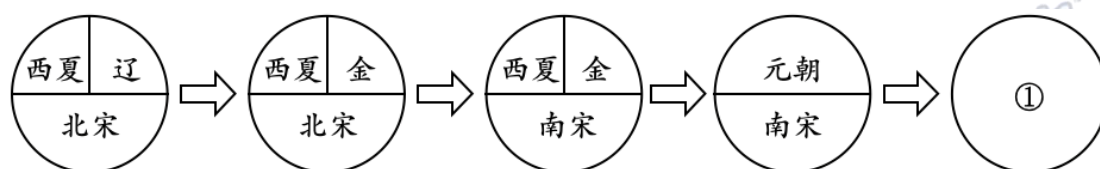
C.明朝

D.清朝

【答案】B

【解析】本题考查中国古代经济重心南移相关知识点。魏晋南北朝时期奠定了经济南移的基础，从唐朝后期开始经济重心南移，到南宋最终完成。选项 B 符合题意；选项 ACD 与题干内容不符，故选 B。

10. 与下列示意图中①所代表的朝代相关的史实为



A. 杯酒释兵权

B. 签订“澶渊之盟”

C. 设宣政院管辖西藏

D. 最早发行纸币

【答案】C

【解析】本题元朝的相关知识点。根据表中朝代图结合所学可知①为元朝。

A. 本选项杯酒释兵权为北宋时期宋太祖赵匡胤收将领兵权的事件，与①时间不符，故错误；

B. 本选项签订“澶渊之盟”的是北宋和辽，与①时间不符，故错误；

C. 本选项元朝设置宣政院管辖西藏事务，故正确；

D. 本选项北宋的交子为最早发行的纸币，与①时间不符，故错误。

11. 下列一组漫画描绘了我国古代臣子上朝礼仪的变化：由宋以前的坐到宋太祖以后的站，到了明代只能是跪着说话了。君臣关系的这种变化，反映了中国古代中央政治制度演变的重要特点是



- A.君主专制不断加强
- B.中央加强对地方管理
- C.内阁取代了丞相
- D.丞相制度废除的结果

【答案】A

【解析】本题考查中国封建社会君主专制相关知识点，所给图片为大臣从“坐”到“站”再到“跪”这一过程。

A.大臣从“坐”到“站”再到“跪”这一过程，反映了大臣地位的不断下降，君主专制不断加强，故正确；

B.图片中反映君臣关系，并未体现地方与中央的关系，故错误；

C.内阁制度相关信息并未在材料中体现，与题意无关，故错误；

D.丞相制度废除并未在材料中体现，与题意无关，故错误。

12.戚继光抗倭和郑成功收复台湾的共同之处是

- A.加强了明朝的对外交往
- B.打破了清朝的闭关锁国
- C.抗击了西方列强的侵略
- D.维护了祖国的海疆安全

【答案】D

【解析】本题考查明朝的对外关系相关知识点。

A.本选项对外交往并未在材料中体现，故错误；

B.本选项打破了清朝的闭关锁国与材料体现时间不符，戚继光抗倭与郑和下西洋都发生在明朝，故错误；

C.本选项倭寇为来自日本的海盗，不属于西方列强，故错误；

D.本选项戚继光肃清了东南沿海的倭寇，郑成功赶走荷兰殖民者收复台湾，都属于维护祖国海疆安全的内容，故正确。

13.2019 年是虎门销烟 180 周年纪念。当时领导这场运动的是民族英雄

A.林则徐

B.关天培

C.左宗棠

D.郑成功

【答案】A

【解析】本题考查鸦片战争相关知识点。依据所学可知，1839 年，林则徐下令将缴获的鸦片在虎门海滩当众销毁。选项 A 符合题意；选项 BCD 与题干内容不符，故选 A。

14.从 2016 年起，每年的 10 月 18 日圆明园遗址公园都免费开放，这是为了让人们铭记 1860 年 10 月 18 日圆明园惨遭侵略者劫掠的历史。

当年劫掠圆明园的侵略者是

A.英俄联军

B.英美联军

C.英法联军



D.法俄联军

【答案】C

【解析】本题考查第二次鸦片战争相关知识点，所给图片为圆明园遗址。1860年10月，英法联军对北京西郊的皇家园林圆明园进行了大肆抢劫，之后又放火烧毁。选项C符合题意；选项ABD与题干内容不符，故选C。

15. 下列关于 19 世纪 60 年代—90 年代洋务运动的评价，正确的是

- ①引进了西方先进的科学技术
- ②是一次成功的封建统治者的自救运动
- ③迈出了中国近代化的第一步
- ④客观上促进中国民族资本主义产生和发展

A. ①②③

B. ①②④


C. ①③④

D. ②③④

【答案】C

【解析】本题考查洋务运动相关知识点。依据所学可知，洋务运动是中国历史上第一次近代化运动。经过 30 多年的建设，中国近代化的军事工业、民用企业、交通运输等逐渐发展起来，在客观上促进了中国民族资本主义的产生和发展。但由于洋务运动的根本目的是维护和巩固清政府的统治，再加上其内部的腐朽和外国势力的挤压，它没有使中国走上富强的道路，故这是一次失败的封建统治者的自救运动。所以①③④表述均正确，②表述错误，故选C。

16. 下图为 19 世纪末出现的报刊，他们宣传的主要观点应该为



A. 变法图强

B. 三民主义

C. 民主与科学

D. 新三民主义

【答案】A

【解析】本题考查戊戌变法相关知识点。所给图片为《时务报》、《知新报》、《国闻报》的报纸页面。依据所学可知，梁启超、康有为等人公车上书，拉开了变法维新运动的序幕，后创办《时务报》、《知新报》、《国闻报》等报刊宣传变法，推动了维新变法思想的广泛传播。选项 A 符合题意；选项 BCD 与题干内容不符，故选 A。

17. 这一运动具有强烈的反帝爱国思想，也存在盲目的排外思想和行为。它所展现的中国人民不畏强暴的牺牲精神，使外国列强认识到，任何国家“皆无此脑力与兵力可以统治此天下生灵四分之一”。该材料评价的“运动”是

A. 禁烟运动

B. 太平天国运动

C. 洋务运动

D. 义和团运动

【答案】D

【解析】本题考查义和团运动相关知识点。依据所学可知，义和团运动以“扶清灭洋”为口号，是一场具有强烈反帝爱国思想，也存在盲目排外行为的运动。选项 D 符合题意；因为 A 选项禁烟运动林

则徐主张“师夷长技以制夷”，B 选项太平天国运动的《资政新篇》和 C 选项的洋务运动都有学习西方技术；所以选项 ABC 与题干内容不符，故选 D。

18.1904 年 8 月孙中山在一篇文章中提到，满清王朝可以比作一座即将倒塌的房屋，整个结构已从根本上彻底腐朽了。最终推翻清王朝统治的是

A. 戊戌变法

B. 辛亥革命

C. 护国运动

D. 新文化运动

【答案】B

【解析】本题考查辛亥革命相关知识点。依据所学可知，辛亥革命推翻了封建王朝的反动统治，宣告了中国两千多年君主专制制度的终结。选项 B 符合题意；选项 ACD 与题干内容不符，故选 B。

19.1919 年 5 月 5 日，马克思诞辰 101 周年纪念日的时候，李大钊在某杂志上创办了“马克思研究”号宣传、介绍马克思主义。“某杂志”最有可能是当时的

A. 《海国图志》

B. 《申报》

C. 《新青年》

D. 《民报》

【答案】C

【解析】本题考查新文化运动相关知识点。

A. 本选项《海国图志》是一部介绍西方地理历史知识的综合性图书，提出了“师夷长技以制夷”的中心思想，与题干中“宣传、介绍马克思主义”不符，故错误；

B.本选项《申报》于1872年在上海创办，主要报道各地发生的重大事件，分析国内外时局，与题干中“宣传、介绍马克思主义”不符，故错误；

C.本选项《新青年》是新文化运动的重要阵地，后期传播马克思主义，启发中国先进的知识分子，与题干中“宣传、介绍马克思主义”相符，故正确；

D.本选项《民报》是中国同盟会的机关报，在《民报》的发刊词中阐述了同盟会的政治纲领即“三民主义”，与题干中“宣传、介绍马克思主义”不符，故错误。

20.革命家董必武1961年在一首感怀诗中写道：“四十年前会上逢，南湖泛舟语从容……”董必武咏怀的这一事件的历史意义是

A.在中国社会掀起一股思想解放潮流

B.使中国革命的面貌焕然一新

C.标志着中国新民主主义革命的开端

D.最终实现了国共第一次合作

【答案】B

【解析】本题考查中国共产党诞生相关知识点。依据材料“1916年”“四十年前”“南湖泛舟”可知这一历史事件为中国共产党的成立。中国共产党的诞生，是中国历史上开天辟地的大事，自从有了中国共产党，中国革命的面貌就焕然一新了。选项B符合题意；选项ACD与题干内容不符，故选B。

21.2017年上映的电影《建军大业》讲述了一群19世纪末到20世纪

之交的“90后”和“00后”的青年人在民族面临危机之时的奋起反抗。下列事件在影片中你能看到的是

- A.二次革命
- B.五四运动
- C.南昌起义
- D.三大战役

【答案】C

【解析】本题考查共产党建军相关知识。根据电影名称《建军大业》可知，该事件为南昌起义。

A.本选项二次革命是孙中山领导的维护民主共和的运动，与建军无关，故错误；

B.本选项五四运动爆发于1919年5月4日是新民主主义革命的开端，但与建立军队无直接关系，故错误。

C.本选项南昌起义的时间为1927年8月1日，打响了武装反抗国民党统治的第一枪，是创建人民军队的开始，故正确；

D.本选项三大战役并不是共产党建军的开始，故错误。

22.历史小组同学准备制作一期学习抗战精神的板报，其中一个板块的主题是“抗日誓词”，他们抄录的这些誓词表现出的精神有

郝梦龄(国民革命军第九军军长):此次战争为民族存亡之战争,我死国活,我活国死。
杨靖宇(抗联英雄):在侵略者面前低头,就不配做中国人!
朱自清(清华大学教授):文化人应该挺身而出,加入保卫祖国的阵营。

- ①誓死抗争
 - ②英勇不屈
 - ③众志成城
 - ④国际主义
- A.①②③
- B.②③④

C. ①②④

D. ①③④

【答案】A

【解析】本题考查抗日战争的相关知识点。通过材料中的誓词“我死国活，我活国死”可以看出郝梦龄誓死抗争的爱国主义精神，“在侵略者面前低头就不配做中国人！”可以看出杨靖宇英勇不屈的精神，“文化人应该挺身起来，加入保卫祖国的阵营。”可以看出朱自清现身号召文化人应该万众一心，众志成城地抵抗侵略者的精神。

综上①②③符合题意；④与题干内容不符，故选 A。

23. 国家公祭日是国家为了纪念曾经发生过的重大民族灾难而设立的国家纪念活动。2014 年国家决定，将每年的 12 月 13 日设立为国家公祭日，纪念 30 多万死难同胞。与该公祭日直接相关的历史事件是

A. 旅顺大屠杀

B. 九一八事变

C. 七七事变

D. 南京大屠杀

【答案】D

【解析】本题考查抗日战争时期南京大屠杀的相关知识点。根据“12 月 13 日”“纪念 30 多万死难同胞”可知该历史事件为南京大屠杀。

综上选项 D 符合题意；选项 ABC 与题干内容不符，故选 D。

24. 东交民巷使馆区，记载着几十年来中国人的屈辱历史。1949 年 2 月 3 日人民解放军从永定门入城，过前门后，队伍进入东交民巷。随着中国人民解放军的阔步通过，宣告了一个时代的终结。与材料描述相关的事件是

A. 五四运动

B. 一二·九运动

C.北平和谈

D.北平和平解放

【答案】D

【解析】本题考查新民主主义革命的相关知识点。

A.本选项五四运动的时间为1919年5月4日，与题干时间不符，故错误；

B.本选项一二·九运动的时间为1935年12月9日，与题干时间不符，故错误；

C.本选项北平和谈的时间为1949年4月，与题干时间不符，故错误；

D.本选项北平和平解放时间为1949年1月，与题干中时间及“人民解放军……时代的终结”相符，故正确。

25.2019年10月1日，将迎来中华人民共和国70周年华诞。70年前新中国的诞生

①开创了我国历史的新纪元

②标志着中国开始进入社会主义阶段

③为实现国家繁荣富强奠定基础

④基本完成争取民族独立、人民解放的任务

A.①②③

B.①②④

C.①③④

D.②③④

【答案】C

【解析】本题考查的知识点为新中国成立的意義。结合所学可知，新中国的成立开创了我国历史的新纪元；使中国成为了一个独立自主的

国家，为实现国家繁荣富强奠定了基础，基本上完成中国争取民族独立、人民解放的任务。新中国成立后，中国的国家性质发生了改变，由原来的半殖民地半封建国家，变成了新民主主义国家。

①③④项的表述与新中国成立意义相符，故正确；

②项，标志着中国开始进入社会主义初级阶段的事件是三大改造的基本完成，不是新中国的成立，故错误。

综上，本题正确答案为 C。

26. 许多歌曲的创作都离不开它所处的时代，“人民战士驱虎豹，舍生忘死保和平”是创作于 20 世纪 60 年代的电影《英雄儿女》中的一句歌词。据此判断它反映的史实是

A. 抗日战争

B. 淮海战役

C. 渡江战役

D. 抗美援朝

【答案】D

【解析】本题考查抗美援朝相关知识点。依据材料歌曲创作于 20 世纪 60 年代，歌词中“驱虎豹”“保和平”可知这一历史事件为抗美援朝，选项 D 符合题意；选项 ABC 与题干内容不符，故选 D。

27. “工匠精神”是时代的需要，也是一种文化的传承；是一种情怀、一种执着、一份坚守、一份责任。在我们身边，匠人无处不在。下列人物中发扬工匠精神，成为石油工人楷模的是

A. 邓稼先

B. 焦裕禄

C. 王进喜

D. 袁隆平

【答案】C

【解析】本题考查艰辛探索与建设成就相关知识点。依据所学可知，大庆石油工人王进喜被誉为“铁人”，以他为代表的艰苦创业、拼搏奉献的精神，被誉为“铁人精神”。选项 C 符合题意；选项 ABD 与题干内容不符，故选 C。

28.右图为 20 世纪 70 年代初的一张珍贵的新闻照片《乔的笑》。照片中大笑的是当时中国的外交部长乔冠华，拍摄地点在联合国的大厅。乔冠华之所以会由衷的开心大笑，是因为当时



- A.中美关系正常化
- B.中国恢复联合国合法席位
- C.中日关系正常化
- D.中国加入世界贸易组织

【答案】B

【解析】本题考查国防建设与外交成就相关知识点。依据所学可知，1971 年在第 26 届联合国大会上，恢复中华人民共和国在联合国的一切合法席位。选项 B 符合题意；选项 ACD 与题干内容不符，故选 B。

29.2018 年 10 月 23 日上午 10 时，习近平出席港珠澳大桥开通仪式并宣布正式开通。这一历时 9 年的艰苦建设，不仅展现出“中国智慧”和“中国力量”，更宣示了中国坚定不移推进改革开放的决心和信心；同时也是某一制度下的重大成果。“某一制度”指的是

- A.和平建国方针
- B.政治协商
- C.民族区域自治
- D. “一国两制”

【答案】D

【解析】本题考查民族团结与祖国统一相关知识点。依据所学可知，邓小平从维护祖国和中华民族根本利益出发。针对台湾问题创造性地提出了“一国两制”的伟大构想，该构想在香港、澳门问题上得到了实践。选项 D 符合题意；选项 ABC 与题干内容不符，故选 D。

30.2007 年他荣获“感动中国年度人物”，颁奖词中这样写道：“在他心里，国为重，家为轻，科学最重，名利最轻。五年归国路，十年两弹成。开创祖国航天，他是先行人……”。他就是“中国航天之父”

- A.钱伟长
- B.钱学森
- C.屠呦呦
- D.袁隆平

【答案】B

【解析】本题考查科技文化成就相关知识点。依据材料“五年归国路”“十年两弹成”“中国航天之父”可知该人物是钱学森。选项 B 符合题意；选项 ACD 与题干内容不符，故选 B。

二、材料分析题（31 题 8 分，32 题 11 分，33 题 13 分，34 题 13 分，共 45 分）

31.（8 分）春秋战国时期社会处于动荡与巨变之中，兼并战争、制度变革和思想学术的繁荣，成为这一时期的主要特征。

材料一：



古书上记载，春秋时期，人们已经用铁农具来耕种土地。在湖南、河南、江苏等地的春秋墓葬中，发掘出一批铁农具。此外，至迟在春秋末年，人们已经使用牛来耕地。

（齐国）一女必有一针一刀……耕者必有一耒一耜一铤（古代一种大锄）。

（1）从上述材料所呈现的这些现象中你获取了哪些信息？（2分）

【答案】农业上使用铁农具和牛耕，这一时期农业生产力水平得到提高。

【解析】本题主要考查的知识点为春秋战国时期经济的发展，考查学生的图文分析及提炼历史信息的能力。材料一中的图文体现了春秋战国时期铁犁牛耕的出现、发展以及生产工具的进步，学生在回答该题时，围绕着材料一中呈现的现象提取历史信息作答即可。

材料二：七国乃是以春秋时代许多战争而产生的集权国家，已不是原来的封建诸侯国。这些集权国家的政权在官僚士大夫之手而不在封建贵族之手。一些国君意识到，要想比对手在王位上坐得更久，就不能让地方封建领主继续分享他的权威。领地不能再作为封邑在亲属和公子之间进行分封。春秋末年，普遍的做法是任命地方官员来管理各个地区。许倬云（历史学家）先生将这种国家称之为“新型国家”。

（2）依据材料二，借助表格内容提示，概括战国“新型国家”的主要特征。（2分）

时期 内容	春秋及以前	战国
治理国家	分权治理	①
官员产生	贵族世袭	②
地方管理	分封诸侯	③设置郡县

【答案】①实行集权统治②任命官员。

【解析】本题主要考查的知识点为战国时期国家所呈现的新特点，考查学生材料分析、概括能力。从材料中“这些集权国家……。领地不能再作为……进行分封”可知，战国“新型国家”在治理国家上不再分权治理，它们更加重视对地方的控制及中央集权的强化；从材料中“春秋末年，……任命地方官来管理各个地区”可知，战国“新型国家”在官员产生方式上是任命官员，而不再是贵族世袭。

材料三：先秦时期，儒家思想孕育了我国传统文化中的政治理想和道德准则；道家学说构成了两千多年传统思想的哲学基础；法家思想中的变革精神，成为历代进步思想家、政治家改革图治的理论武器。

材料四：先秦诸子百家的部分主张
 老子认为“道”是天地万物的来源，其思想包含了朴素辩证法思想；
 孔子：思想核心是“仁”，即“仁者爱人”；提出为政以德；
 孟子：提出“仁政”道德标准；提出“舍生取义”的思想；
 庄子：主张人应该顺应自然的本性；
 韩非：主张建立中央集权制度，倡导变法革新的思想。

(3) 参照示例，先从材料三中选取任意一个观点（道家除外），然后

从材料四中选择对应的史实加以印证。（3分）

学派	观点	史实
示例： 道家	道家学说构成了两千多年传统思想的哲学基础	“道”是天地万物的来源，包含了朴素辩证法思想

【答案】观点和史实对应即可得分；不对应不得分。

示例：学派：儒家。观点：儒家思想孕育了我国传统文化中的道德准则。史实：孔子提出“仁”，即“仁者爱人”；孟子提出“舍生取义”。

【解析】本题主要考查的知识点为先秦时期的思想，考查学生观点提炼及印证能力。本题学生只需要在材料三中提炼出一个除道家外的观点，再结合所学，在材料四中找到对应学派代表人物的思想主张进行印证即可。

（4）从材料四中选取一个主张，谈谈对今天有什么借鉴？（1分）

【答案】开放性试题，言之有理即可得分。

【解析】本题主要考查学生的表达能力。该题是一道开放性题目，学生只需选取一个主张，谈一谈该主张对当今社会发展的一些借鉴意义，言之有理即可。

32.（11分）公园是同学们喜欢去的公共文化场所之一。随着时代的变迁，公园被赋予越来越多的内涵。

材料一：随着经济、社会的变迁，公共园林缘起于唐宋，但规模和影响有限。我国古代的传统园林以皇家园林、私家园林为主体，多为城市里的特权阶层服务，除了部分依托“城邑近郊山水形胜之处，

建置亭桥台榭”而发展形成的公共园林外，缺少真正意义上为普通大众服务的“公园”。

(1) 依据材料一结合所学知识，说出公共园林缘起于唐宋的原因。

(2分)

【答案】唐代经济繁荣；宋代商品经济发展（都市生活丰富）。

【解析】本题主要考查唐宋时期经济、城市的发展，考查学生材料分析、概括能力。根据材料“随着……，但规模和影响有限。”可知，公共园林缘起于唐宋与当时的经济、城市发展有关。该题，学生结合所学，从“唐宋经济、城市发展”角度作答即可。

材料二：五口通商以后，新式的工商交通事业得以迅猛发展。……都市公众娱游休息的需要日益突出。于是一种耗资较少，更加世俗化、平民化的近代“公园”，应运而生。……辟荒地或旧有自然风景点，建为新园，这是近代城市公园的一大来源。此类公园有北京的中央公园，上海最早的正式公园——外滩公园（1866年）等。另一主要来源是众多旧时私家园林逐渐向商业性或兼具商业性园林的转化，此类公园如苏州的拙政园、上海早年的张园等。据记载，张园约建于19世纪中叶，公开开放后，成为市民的主要游览休息之地，设有戏班、书场等，“内有茶点，以饷游人。凡座椅，无不依照西式”。

(2) 以下表述是从上面材料中得出的，请在相应的括号内划

“√”；违背了以上材料所表达的意思，请在括号内划“×”；上述材料没有涉及，请在括号内划“○”（5分）

- ①西方文化对中国近代“公园”这一新兴公共文化事业有影响。 ()
- ②近代“公园”的特点是公园建设耗资较少，世俗化、平民 ()
- ③洋务运动以后，都市公众娱游休息需要日益突出。 ()
- ④北京的皇家园林和私家园林数目最多。 ()
- ⑤近代“公园”的一个来源为旧时私家园林向商业性或兼具商业性园林的转化。 ()

【答案】① (√) ② (√) ③ (×) ④ (0) ⑤ (√)

【解析】本题考查孩子们材料分析、概括能力。学生在回答该题时，通过对材料的分析概括，按照题目要求将可从材料中获取的表述划“√”；将与材料相悖的表述划“×”；将材料中未提及的表述划“0”即可。根据材料“五口通商以后，……应运而生。”可知，①②为“√”；根据材料“据记载，……，成为市民的主要游览休息之地”并结合所学“洋务运动时间为19世纪60年代到19世纪90年代”可知，③为“×”；④材料未提及，故为“0”；根据材料“另一主要来源是众多旧时私家园林逐渐向商业性或兼具商业性园林的转化”可知，⑤为“√”。

材料三：新中国成立以来，特别是改革开放和进入新世纪以来，城市公园建设获得了极大的发展；……成为城市宜居、宜业、宜游的重要空间载体。习近平总书记曾提出：“一个城市的预期就是整个城市就是一个大公园，老百姓走出来就像在自己家里的花园一样。”



东城区打造城市森林公园，
图为新中街城市森林公园。
园内各种植被等营造出一幅
高低错落、缤纷多彩的“森
林”景致。



西城区打造居民身边的
“口袋公园”（指规模很小
的城市开放空间）。图为
大红罗厂口袋公园。

(3) 结合以上所有材料，纵观历史的发展潮流，公园这个公共文化场所就服务群体来说有什么变化？（2分）

【答案】从为特殊社会阶层服务转向为人民群众服务。

【解析】本题考查学生材料分析、概括能力。学生在回答该题时要注意以下几个点，一要结合“以上所有材料”，即材料一、二、三；二要“纵观历史的发展潮流”，结合历史发展潮流进行作答；三要阐述“服务群体”变化。学生在回答时，要注意以上三点，分析材料作答即可。

(4) 请为你居住环境的公园化建设提出一条合理化建议。（2分）

【答案】开放性试题，言之有理即可得分。

【解析】该题是一道开放性题目，考查学生的表达及知识运用能力。学生在回答该题时，围绕“公园化建设”从优化公园环境，完善公园设施等角度作答，言之有理即可。

33. (13 分) 2018 年 11 月 13 日, “伟大的变革——庆祝改革开放 40 周年大型展览” 在国家博物馆开幕。展览不仅是对往昔成果的展示, 更是对未来方向的昭示。

材料一: 40 年前的冬天, 在安徽凤阳县小岗村, 一双双手突破命运的禁锢。当时的生产队队长联合同村农民干了一件惊天动地的大事, 18 位农民坚定地按下红手印, 拉开了中国农村改革的大幕, 成为中国改革的标志。

(1) 小岗村的村民们做了什么惊天动地的大事? 它体现了怎样的精神? (3 分)

【答案】率先在农村实行“包干到户”(包产到户, 自负盈亏)。

精神: 敢为人先; 勇于革新; 自力更生等。

【解析】本题主要考查经济体制改革中家庭联产承包责任制的相关知识。依据材料中“18 位农民坚定地按下红手印”并结合所学知识作答即可, 所体现的精神可从创新、开放等角度入手回答。

材料二: 下表为国家围绕“农业、农村、农民”颁布的一些政策或措施。

①	2005 年 12 月, 十届全国人大常委会第十九次会议通过决定, 自 2006 年 1 月 1 日起废止《农业税条例》。(农业税: 国家对一切从事农业生产、有农业收入的单位和个人征收的一种税)
②	2007 年国家全面推行农村学校义务教育免除学杂费政策。
③	2018 年经党中央批准、国务院批复自 2018 年起, 将每年秋分日设立为“中国农民丰收节”。

(2) 从材料二中选取一项政策或措施(写序号), 谈谈该项政策或措施的意义? (3 分)

【答案】开放性试题，政策或措施 1 分，意义 2 分。

【解析】本题主要考查中国特色社会主义建设的相关知识，分析材料表格中的政策和措施，选取其中一项并结合所学作答，可从惠农政策、保障未成年人教育等角度出发，注意结合政策或措施，言之成理。

材料三：这是一张让习近平总书记凝神观看、驻足良久的图片：《邓小平给深圳、珠海、厦门题词》。“把经济特区办得更快些更好些。”是邓小平给厦门的题词。这让 1985 年去厦门工作的习近平倍感时间紧迫，他指出，“经济特区的任务就是改革，经济特区应改革而生，我们要承担起这个责任”。



材料四：我国内地将初级产品拿到特区，根据外销需要“梳妆打扮”，增值出口。在特区进行市场经济的“实验”，取得经验后在全国推广。


(3) 根据材料三、四并结合所学知识，分析经济特区在改革开放中发挥的作用。(2 分。回答出一点即可)

【答案】作用：特区是我国对外开放的重要“窗口”，推动了社会生产力的发展；为特区和内地走向国际市场发挥了积极作用；是中国社会主义市场经济的试验田，为市场经济体制改革提供了经验，为全国

改革开放和社会主义现代化建设作出重大贡献。（回答出任意一点即可得2分）

【解析】本题主要考查改革开放中对外开放的相关知识。结合所给的两则材料可知“经济特区的任务就是改革，经济特区应改革而生”、“在特区进行市场经济的‘实验’，取得经验后在全国推广”，依据材料并结合史实，从窗口示范、开拓进取等角度作答，注意结合所学，言之成理。

材料五：以下图片出自国博展览。从左至右：“蛟龙号”深海探测装备模型、“天宫二号”空间实验室透视模型、“中国天眼”500米口径面射电望远镜模型。




(4) 请给材料五概括一个主题。(1分)

【答案】主题：科技大发展或科技成就。

【解析】本题考查新时期国防建设与科学技术的相关知识。结合材料中图片及文字表述可知，三幅图片分别是：“蛟龙号”深海探测装备模型、“天宫二号”空间实验室透视模型、“中国天眼”500米口径球面射电望远镜模型，结合所学可从新时期科学技术的进步等角度概括回答。

材料六：年夜饭是中国人全年吃得“最长”的一顿饭，是中国人最为看重的家庭宴会。上世纪六七十年代，由于物资匮乏，吃得“一清（水清）二白（指仅仅是大白菜）”，年夜饭是一年中最丰盛

的一顿。年夜饭进入八十年代，肉、蛋、禽等渐渐丰富。九十年代，海外食品引进国内，菜肴也变得丰富多样。进入二十一世纪，西式、农家乐、拼桌……年夜饭的吃法花样不断翻新。“过去就是包个饺子，你看现在这菜，有鱼有虾，越来越精致！”



(5) 透过年夜饭的变迁，你感受到了国家的哪些变化？（2分）

【答案】变化：年夜饭从满足温饱到丰盛美味，再到追求营养健康。从物资匮乏到商品供应丰富等。（不必拘泥答案，言之有理即可得分。回答出一点即可得2分）

【解析】本题主要考查新时期社会生活变迁的相关知识。结合材料中“吃法花样不断翻新”、“越来越精致”、“海外食品引进国内”等角度，从民生、社会变迁、生活情况等方面入手，结合史实作答。



“总结好改革开放经验和启示，不仅是对40年艰辛探索的和实践的最好庆祝，而且能为新时代推进中国特色社会主义伟大事业提供强大动力。”“人民对美好生活的向往，就是我们的奋斗目标。”

(6) 结合以上所有材料，面对祖国日新月异的发展变化，请在留言簿上写下你对祖国的美好祝愿。（2分。30字以内）

【答案】开放性试题，价值观正确即可得2分。

【解析】本题主要考查中国特色社会主义建设的相关知识。注意要结合上述所有材料并依照所学知识，史论结合的从国防、综合国力、社会生活等方面写出对祖国的美好祝愿，注意紧扣发展变化的主题，内容积极、向上。

34. (13分) 2014年6月，京杭大运河和隋唐大运河、浙东大运河一起作为中国大运河列入《世界遗产名录》。某校同学利用假期以“话说运河往昔”为主题开展了考察活动。

【路线规划】

材料一：隋朝统一后，为了沟通南北，加强对全国的控制，开通了一条纵贯南北的大运河；元朝时，由于隋唐旧运河已不能适应运输的需要，着手陆续修凿大运河；最终从杭州到大都（今北京）的南北大运河完全畅通。左图：《隋朝大运河》示意图、右图：《元朝京杭大运河》示意图。



(1) 将《隋朝大运河》示意图中的序号①②③相应历史地名填写在答题卡上。(3分)

【答案】①涿郡 ②洛阳 ③余杭。

【解析】本题主要考查隋朝开通大运河的相关知识。根据材料和所给图片，结合所学可知，大运河以洛阳为中心，北抵涿郡、南至余杭，连接了海河、黄河等五大水系，分析材料图片后可知①应为涿郡、②应为洛阳、③应为余杭。

(2) 观察两幅地图，元朝运河与隋朝运河比较，有什么变化？这种变化有什么作用？（2分）

【答案】变化：大运河由弯变直。

作用：缩短了南北水运的路程；节省时间、提高效率等。（回答出任意一点即可得 1 分）

【解析】本题主要考查大运河的相关知识及图片材料的分析对比能力。观察两幅图片并根据材料可知，元朝时隋唐旧运河已不能适应运输的需要，朝廷开始着手陆续修凿大运河，可以看出隋唐和元朝两代运河河道有过变更，从变化及作用的角度，结合史实进行作答即可。

【文献研究】

材料二：据史志记载，通济渠，俗称汴河，开挖于隋炀帝大业元年（605 年）。北宋建都东京（今开封）就依靠这条运河运输江南的粮食和各种贡品。汴河作为东京城内主要漕运系统，每年大量的货物、客商从此入京。自周世宗年间造十三间楼（为巨商贮存货物场所），许多交易场所沿汴河而建。北宋画家张择端《清明上河图》便对汴河沿岸繁华热闹的商业景象有所描绘；汴河商船络绎不绝，沿岸商楼林立，酒肆、食店、摊贩分布于两岸

(3) 材料二反映出汴河对北宋东京商业繁荣有什么作用？（2分）

【实地考察】

实地考察的同学们发现，现在运河两岸的许多城市，如淮安、扬州、杭州，乃至北方的徐州、济宁、天津、北京等，在明清时期已经是富庶的城市和市镇了。

【答案】东京城内的商业活动依靠汴河，许多交易场所沿汴河而建、各地货物沿汴河运输到东京城等。（不必拘泥答案，言之有理即可得2分）

【解析】本题主要考查宋代经济发展的相关知识。依据材料中“汴河作为东京城内主要漕运系统，每年大量的货物、客商从此入京。”、“许多交易场所沿汴河而建……沿岸商楼林立，酒肆、食店、摊贩分布于两岸”可知宋代东京城商业的繁荣与汴河息息相关，结合所学知识，可从交通、运输等角度作答。

材料三：

序号	名称	特色
①	杭州	大运河南部起点；繁荣的经济大都市，丝织业中心。
②	扬州	漕运、盐运的重要枢纽和仓储中心。
③	淮安	集黄河、淮河、运河水运水利中心为一体，号称“运河之都”。
④	济宁	为大运河中枢，明末被称为当地“南北咽喉”，为商业繁盛的城市。
⑤	天津	兼具海运和运河之利，不仅成为运河交通枢纽，还

		发展为北方的商业重镇。
⑥	通州	大运河北部的关键端点，京城漕运码头，成为北京粮食及其他物资仓储与供应中心。
⑦	北京	大运河北部终点，天下物资、粮食、商船尽集于此地。



(4) 在下表中任选一个运河对城市发展影响的关键词，运用上表中的两则资料（只填序号，所有序号可以重复使用），说明该资料与关键词的关系。（4分）

关键词	序号	说明
示例： 集散中心	⑥	通州是大运河北部的关键端点，明清时期京城漕运码头，因此成为北京粮食及其他物资仓储与供应中心。
	⑦	北京是大运河北部终点，明清时期天下物资、粮食、商船集于此地，北京成为重要的集散中心。
交通枢纽		

商业中心		

【答案】

⑤	天津因为兼具了海运和运河的便利，成为北方运河交通的枢纽
④	济宁因为位于大运河的中枢，成为南北交通的咽喉地带

【解析】本题主要考查运河对城市发展影响的相关知识。结合材料给出的两个表格，在第二个表格中任选一个关键词，匹配第一个表格中给出的资料，选择两则来说明资料与关键词的关系，注意结合史实，序号可以重复使用。

【成果运用】

2017年2月，习近平总书记视察北京大运河森林公园时强调，保护大运河是运河沿线所有地区共同的责任。随后做出重要批示，要求“保护好、传承好、利用好”这一历史文化资源。

(5) 请你为保护大运河设计一条宣传语。(2分)

【答案】开放性试题，言之有理即可得分。

【解析】本题主要考查大运河的相关知识及知识运用能力，结合材料中“保护好、传承好、利用好”等语句，从保护、传承、大运河的历史文化价值等角度入手设计宣传语，注意紧扣主题，字数不宜过多。