

2017~2018学年北京东城区初二上学期期末历史试卷


选择题

1. 英国著名香港史专家安德葛在《香港史》中写道：“（林则徐的禁烟计划）以果断及迅雷不及掩耳之势出击，使得英国人出乎意料，（他们）完全没有想到林则徐会以果断、活力和对中国利益的献身精神来付诸行动。”下列属于林则徐“付诸行动”的是

- ①缉拿烟贩
- ②禁止中英贸易
- ③率军坚守定海
- ④虎门销烟

- A. ①②
- B. ③④
- C. ②④
- D. ①④

2. 历史遗迹是我们了解历史的重要途径之一。下面遗迹见证的中国近代史上的历史事件是



- A. 英军攻陷广州
 - B. 英法联军火烧圆明园
 - C. 日军在旅顺疯狂大屠杀
 - D. 八国联军进攻天津
3. “治国之道，在乎自强。而审时度势，则自强以练兵为要，练兵又以制器为先。”在近代中国，将这一认识付诸实践的是
- A. 洋务运动
 - B. 义和团运动
 - C. 新文化运动
 - D. 五四运动

4. 2015年，“丹东一号”清代沉船水下考古调查项目入选年度中国十大考古新发现。水下考古发现大量遗物，证明这艘沉船是在黄海海战中沉没的北洋水师致远舰。在这次海战中牺牲的“致远”舰管带是
- A. 丁汝昌
 - B. 林永升
 - C. 邓世昌
 - D. 左宝贵
5. 1900年一位日本记者目睹了侵略军入侵北京并进行疯狂烧杀抢劫后写下了这段话：“北京之惨状，已臻其极。前门外大栅栏及东交民巷西什库等处，只是残砖破壁……独各国之兵士，恃威横行……惨风凄雨，流血斑地，尸骨委于鹰犬，万骨枯而何人凭吊。”这段令人惨不忍睹的描写记录的历史事件是
- A. 鸦片战争
 - B. 第二次鸦片战争
 - C. 八国联军侵华战争
 - D. 七七事变
6. 晚清状元实业家张謇历经艰辛创办了大生纱厂。该厂的创办体现当时的社会热潮是
- A. 变法图强
 - B. 民主共和
 - C. 民主科学
 - D. 实业救国
7. 1876年，上海某著名的中文报纸描述了中国人见到火车的情景：“沿途的农民看到火车冒着烟驰过，而且车上满载了衣着华丽的人，没有不‘诧为奇观’的。他们都把手里的活停下来，呆呆地盯着火车看。”此报道很可能出自
- A. 《民报》
 - B. 《海国图志》
 - C. 《申报》
 - D. 《新青年》
8. 在北京东城区五四大街上有一座具有光荣革命传统的近代建筑——新文化运动纪念馆。我们纪念新文化运动是因为它大力提倡
- A. 自强、求富
 - B. 民主、科学
 - C. 自由、平等
 - D. 民族、民权

9. 在北京东城区沙滩后街，保存有中国近代第一所由国家建立的最高学府的旧址，它是
- A. 北洋水师学堂
B. 燕京大学
C. 京师同文馆
D. 京师大学堂
10. “我们学界今天排队游行，到各公使馆去，要求各国出来维持公理。务望全国工商界，一律起来，设法开国民大会，外争国权，内除国贼。中国存亡，就在此举了！”据此判断材料指的是
- A. 新文化运动
B. 五四运动
C. 一二·九运动
D. 西安事变
11. 这是一首诞生于20世纪中国的歌曲，它唱响了那个时代的主旋律。那时，一队队官兵高唱着这首战歌，奔赴的是



- A. 武昌起义前线
B. 北伐前线
C. 抗日前线
D. 渡江战役前线
12. 某校准备利用社会实践活动组织学生“重走长征路”，请你为他们设计一条适合的路线
- A. 瑞金—遵义—吴起镇—会宁
B. 上海—瑞金—遵义—会宁
C. 上海—瑞金—遵义—吴起镇
D. 井冈山—瑞金—遵义—会宁
13. 美国记者埃德加·斯诺在《我在旧中国十三年》一书中有段文字描述了1935年底的一件大事：“中国正在苏醒过来。在几天的时间里，青年团体在天津、上海、汉口、广州等所有大城市，像雨后春笋般产生，游行示威开始席卷全国”，他的这一记录见证的是
- A. 五四运动

- B. 九一八事变
- C. 一二·九运动
- D. 西安事变

14. 下图为1936年12月13日《申报》在第三版显著位置以大字号刊登的新闻，据此推断该报纸报道的“重大事变（变）”指的是

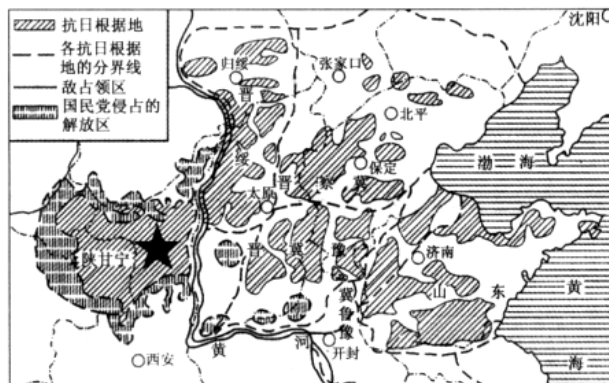


- A. 九一八事变
- B. 西安事变
- C. 七七事变
- D. 华北事变

15. 2014年2月，十二届全国人大常委会第七次会议通过审议，将每年12月13日定为国家公祭日，纪念30多万死难同胞。与该公祭日直接相关的历史事件是

- A. 九一八事变
- B. 七七事变
- C. 南京大屠杀
- D. 台儿庄战役

16. 下图是一张《华北敌后抗日根据地形势示意图》。图中五角星所在的地点是



- A. 抗战期间中共中央所在地
- B. 中国第一个农村革命根据地所在地
- C. 红军长征三军胜利会师地

D. 中国战区日本无条件投降签字仪式地

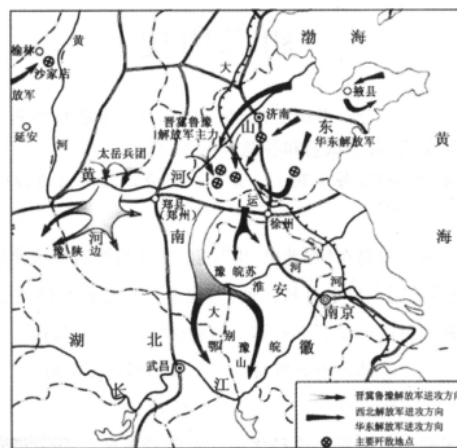
17. 台湾自古是中国的领土。回顾历史，甲午战争中被日寇侵占的台湾及其包括钓鱼岛在内的附属岛屿、澎湖列岛回到祖国怀抱是在

- A. 北伐胜利时
- B. 抗战开始时
- C. 抗战胜利后
- D. 新中国成立时

18. 1945年8月民主人士柳亚子先生曾赠毛泽东诗云：“阔别羊城（今广州）十九秋，重逢握手喜渝州（今重庆），弥天大勇诚能格，遍地劳民战尚休。”下列事件中体现毛泽东“弥天大勇”的是

- A. 西安事变
- B. 抗日战争
- C. 重庆谈判
- D. 渡江战役

19. 观察、运用地图是我们学习历史的重要途径之一。观察下侧地图，据此判断，我们从中可以了解的是



- A. 农村革命根据地的建立
- B. 中国工农红军的长征
- C. 敌后抗日根据地的开辟
- D. 刘邓大军千里跃进大别山

20. 北京是一座历史文化名城。1949年，北京的城市及众多的文物古迹完好无损地保存下来，北京城人民的生命财产也免遭战火破坏和损伤，这主要得益于

- A. 东北全境解放
- B. 北平和平解放
- C. 淮海战役胜利

D. 渡江战役胜利

21. 对联是中国传统文化瑰宝，同时也折射了社会生活，有着鲜明的时代特色。下列对联反映新中国成立的是

- A. 斧头开辟新世界，镰刀割断旧乾坤
- B. 万里河山归人民，五亿群众庆新生
- C. 食堂巧煮千家饭，公社饱暖万人心
- D. 学习文化赶先进，提高技术超英美

22. 1949年10月1日在北京天安门广场举行的开国大典宣告了新中国的诞生，新中国诞生的历史意义是

- ①开创中国历史新纪元
- ②标志着中国开始进入社会主义
- ③为实现国家的繁荣富强奠定了基础
- ④基本完成争取民族独立、人民解放的任务

- A. ①③④
- B. ①②④
- C. ②③④
- D. ①②③

23. 在李老师的收藏中有这样四本连环画，它们都反映了某一时期涌现出的英雄人物，这一时期指的是



- A. 抗日战争时期
- B. 解放战争时期
- C. 抗美援朝时期
- D. “文化大革命”时期

24. 建国初期，毛泽东曾这样描述我国的工业发展水平：“现在我们能造什么？能造桌子椅子，能造茶碗茶壶，能种粮食，还能磨成面粉，还能造纸，但是，一辆汽车、一架飞机、一辆坦克、一辆拖拉机都不能造。”为转变这一局面，我国“一五”计划的重点是

- A. 集中主要力量发展重工业
- B. 大力发展农业和轻工业
- C. 加速实现手工业的合作化


D. 逐步改造资本主义工商业

25. 观察下图，这是1956年某工厂的开工纪念章，据此判断这个工厂是



- A. 长春第一汽车制造厂
- B. 重庆长安汽车制造厂
- C. 湖北第二汽车制造厂
- D. 北京汽车制造厂

26. 创建于清康熙八年（1669年）的北京同仁堂是中药行业著名老字号。1954年同仁堂响应国家号召，顺利实现了公私合营。公私合营出现在



- A. 土地改革运动时期
- B. “三大改造”时期
- C. 人民公社化运动时期
- D. “文化大革命”时期

27. 新中国成立后，我国政府为保障少数民族地区的发展而实行的基本政治制度是

- A. 政治协商制度
- B. 人民代表大会制度
- C. 社会保障制度
- D. 民族区域自治制度

28. 下图是一位北京老人在展示自己从1953年起几十年收藏的历届选民证。一张张选民证见证了



- A. 新中国民主政治的发展
 B. 社会主义宪法得以实施
 C. 社会主义制度得到确立
 D. 政治协商制度得到完善
29. 在“文化大革命”中，我国国民经济虽然遭受到巨大损失，但仍然取得了一些科技成就。下列成就属于这一时期的是
- ①成功爆炸第一颗氢弹
 ②成功发射第一颗人造地球卫星
 ③完成人工合成结晶牛胰岛素
 ④世界上首次培育成功强优势的籼型杂交水稻
- A. ①②③
 B. ②③④
 C. ①②④
 D. ①③④
30. “魂飞万里，盼归来，此水此山此地。百姓谁不爱好官？把泪焦桐（泡桐）成雨。生也沙丘，死也沙丘，父老生死系。”这是时任中共福州市委书记的习近平于1990年所作的一首词节选。这首词颂扬的人物是
- A. 雷锋
 B. 邓稼先
 C. 王进喜
 D. 焦裕禄

材料题

31. 19世纪中期，英法等西方列强接连发动了侵略中国的战争，中华民族危机日益深重。

材料

朱英在《中国近代史十五讲》一书中指出：鸦片战争后签订的条约，打破了以往清帝国的“天朝”体制，开始形成不对等的中外关系，中国逐渐进入条约时代。这些条约为西方在中国的掠夺，披上了“合法外衣”。……在条约体制下，中国主权不再完整、独立，这给中国带来诸多严重的灾难。

(1)

从上述材料中选取一个观点，可以是“不对等的中外关系”、“中国主权不再完整、独立”等，也可以自己选取观点，然后依据下列条约内容加以说明。

条约	《南京条约》	《马关条约》	《辛丑条约》
内容	①割让香港岛； ②赔偿英国2100万银元； ③开放广州、福州、厦门、宁波、上海为通商口岸； ④英国商人进出口货物缴纳的税款，中国须同英国商定。	①割辽东半岛、台湾全岛及所有附属各岛屿、澎湖列岛给日本； （后三国干涉还辽） ②赔偿日本军费2亿两白银； ③开放沙市、重庆、苏州、杭州为通商口岸； ④允许日本在通商口岸开设工厂等。	①赔偿西方列强4.5亿两白银，以中国海关等税收作担保； ②严禁中国人民参加反帝活动； ③清政府拆毁大沽炮台，列强派兵驻扎北京到山海关铁路沿线要地； ④划定北京东交民巷为使馆界，各国驻兵保护，不准中国人居住； ⑤改总理衙门为外务部，班列六部之前。

(2) 随着列强侵略的加剧，中国人民奋起反抗。请你说一说19世纪中期到20世纪初中国人民进行了哪些抗争？这些抗争起到了什么作用？（任举2例即可）

32. 某校开展“找寻‘活着’的历史”的实践探究活动，请你也参与到活动中来吧。

【第一组：探寻名人故居】

近代史上的许多风云人物都在北京城留下了他们的足迹，也留下了可供后人缅怀、凭吊的故居。下图分别为谭嗣同、梁启超、康有为在北京的故居。



西城区北半截胡同41号



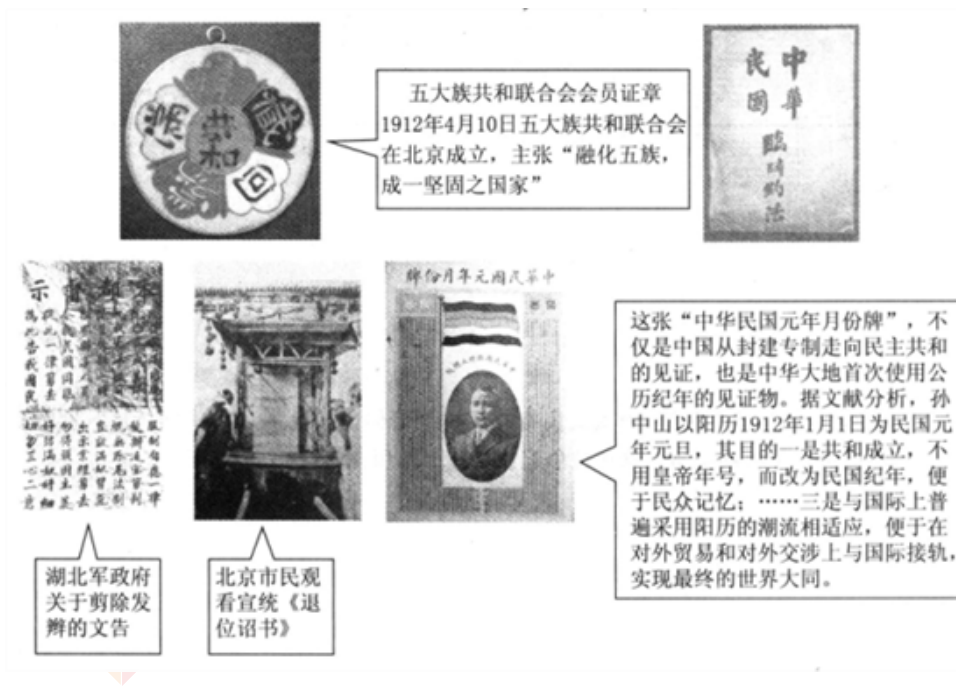
东城区北沟沿胡同23号



东城区米市胡同43号

【第二组：辛亥革命文物】

每一件文物都是“活着”的历史，都在讲述着过去不为人知的往事。



【第三组：口述历史】

每个人都是历史的当事者，亦都是历史的见证者。通过对他们亲见亲历的口述史调查，不仅可以留下相关的珍贵资料，还可以帮助我们加深对中国社会变迁的认识。阅读下列胡适的《胡适口述自传》节选材料：

白话是活的语言，文言是半死的语言，我主张废除死的古典语文，改取活的语体语文，不但用这种老百姓的语言、街坊的语言作为教育工具，并且用它来做文学媒介的改革……凡文言文之所长，白话皆有之。而白话之所长，则文言文未必能及之。……文言的文字可读而听不懂；白话的文字既可读、可说又听得懂。凡演说、讲学、笔记，文言决不能应用。今日所需，乃是一种可读、可听、可歌、可讲、可记的言语。要读书不须口译，演说无须笔译；要施诸讲台舞台而皆可；诵之村妇孺皆可懂。不如此者，非活的言语也，决不能成吾国之国语也；半死的文字决不能产生第一流的文学也。

(1) 请你选择上述名人故居中的1个或者多个，设计一个考察活动计划提供给小组讨论。

要求：总文字量50—150字左右。

(2) 观察题中一组与辛亥革命有关的文物图片。请你借助这些文物并结合所学谈谈你是如何认识辛亥革命影响的？

(3) 新文化运动期间，胡适主张文学改良，后陈独秀将其提升到“文学革命”层面。通过胡适的口述材料，请你概括“文学革命”的主要内容，并结合所学说说这一内容在当时起了什么作用。

33. 2017年10月31日习近平在瞻仰中共一大会址时强调：铭记党的奋斗历程，时刻不忘初心，担当党的崇高使命，矢志永远奋斗。下面就请同学们一起回顾中国共产党在新民主主义革命时期的革命与探索。

材料

毛泽东大事年表

1923年	6月加入国民党
1924年	1月，参加中国国民党一大，被选为候补中央执行委员
	2月，任国民党上海执行部委员、组织秘书等职
1925年	10月，在广州任国民党中央宣传部代理部长
	12月，主编国民党中央宣传部刊物《政治周报》
1926年	1月，参加中国国民党二大

	5—9月，主持第六届农民运动讲习所，任所长；在武汉创办国民党中央农民运动讲习所
1927年	在武汉参加国民党二届二中全会

(1) 下图是“习近平等在南湖边瞻仰红船”。请你说说该船所见证的大事及此事的历史意义。



(2) 通过阅读共产党员毛泽东在1923—1927年的大事年表，你发现了一个什么问题？为什么会出现这个问题？

(3) 请你选取下列任意一张展览中的图片，为其撰写解说词（100字左右）。



图1 朱德使用过的德国造毛瑟 M1896 式手枪，枪身上刻有“南昌暴动纪念”等字



图2 井冈山会师



图3 红军过草地时的雕像

34. 从1931年的九一八事变开始，到1945年8月，中华民族经过14年的浴血奋战，终于赢得了抗日战争的胜利。历史地图是帮助我们了解这段历史的重要辅助材料。

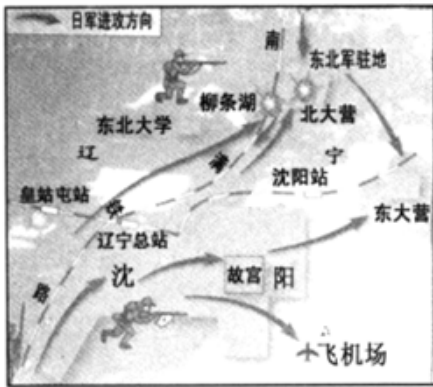


图 A

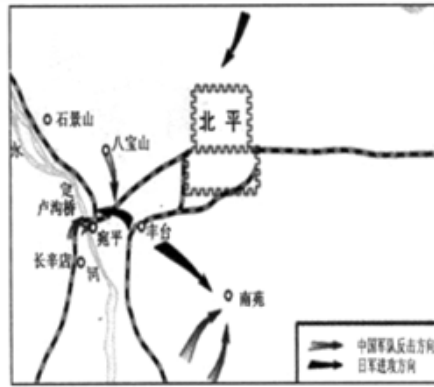


图 B



图 C(1940年8—12月)

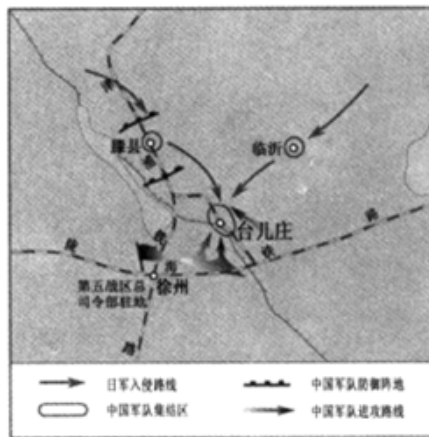



图 D

材料二

实物资料是历史的记录和见证。中国人民抗日战争作为一场史无前例的宏大民族解放战争，产生了大量实物和史料，这些实物资料是抗战历史的宝贵见证。



- (1) 观察上述四幅地图并为其中的任意两幅地图配上标题和相关的说明文字。
- (2) 观察上述图片结合所学，概括抗日战争取得胜利的原因。
- (3) 2017年是全面抗战爆发80周年，请你设计一枚纪念章并对图案进行简要说明。要求：形式不限，主题鲜明，观点正确。