

2018 山西中考思想品德试卷解析


第 I 卷 选择题（共 36 分）

1. 按照党的十九大报告，中国共产党人的初心和使命是下列哪一项？
- A 为中国人民谋幸福，为中华民族谋复兴
 - B 决胜全面建成小康社会，夺取新时代中国特色社会主义伟大胜利
 - C 实现推进现代化建设、完成祖国统一、维护世界和平与促进共同发展
 - D 为把我国建设成为富强民主文明和谐美丽的社会主义现代化强国而奋斗

答案：A

解析：中国共产党人的初心和使命是为中国人民谋幸福，为中华民族谋复兴；B 选项为十九大报告的主题；C 选项为三大历史任务；D 选项为十九大提出的新的社会主义现代化奋斗目标。

2. 除“宪法宣誓”外，下列哪一组图片内容反映的是今年全国“两会”？



- A. ①④⑤ B. ②③⑤ C. ①③⑥ D. ②④⑥

答案：B

解析：①为中国共产党第十九次全国代表大会，为党代会不属于两会；②为 26 个部委具体内容，是今年两会的重要内容之一；③第五次修宪投票现场，修宪是两会的重要内容；④《慈善法》在中华人民共和国第十二届全国人民代表大会第四次会议通过，并非今年两会内容；⑤国家监察机关是两会修宪新增的国家机构；⑥为国家科学技术奖励大会，不属于两会内容。正确答案为 B。

3. 这学期初三的小新同学出现下列心理现象，你认为其中哪一项的说法正确呢？

- A { 开学第一天就被老师批评，于是闷闷不乐，用手
机听听音乐调节一下，就感觉心情好多了。 } 这是理智控制法
- B { 有一段时间，总不愿意与大家交往，几乎要把自
己封闭起来，像个闷葫芦似的。 } 这是自闭症
- C { 父母说什么都听不进去，烦得很，总想与他们
对着干，他们说东偏向西。 } 这是逆反心理
- D { 市里模拟考试，刚进考场就感到头昏心慌，反应
迟钝，觉得自己考不好，而且越想思绪越乱。 } 这是学习压力

答案：C


解析：A 项听音乐调节属于注意力转移法；B 选项为闭锁心理；C 选项为逆反心理；D 选项为考试焦虑。正确答案为 C。

4.

法律也可以这样学

下列有关法律常识的四种判断逐项深入，你认为其中哪一组正确？

- ①什么是行政违法？小郑认为下列四个案例中 C 属于行政违法。



②小郑要举报此案的违法者，就向下列部门中的 C 打电话。



③想了解有关此案——行政违法的更多知识，在书店下列书籍中，他选择购买 a



④通过阅读相关法律书籍，小郑知道该案违法者会被关到下列部门中的 C 处。



- A.①② B.②③ C.③④ D.①④

答案：D

解析：①a 拦路抢劫属于刑事违法；b 捡到名牌手表不还属于民事违法；c 电影院打架属于行政违法；d 搜身不属于行政违法；②举报应向公安部门举报，为 b 图；③想要了解行政违法有关知识需要购买《中华人民共和国治安管理处罚法》为 d 图，a 图为刑法，b 为民法，c 为消费者权益保护法；④行政违法会受到行政处罚拘留，因此会被拘留所拘留，为 c 图。因此①④正确，选项为 D。

5.今年 3 月 1 日，《太原市文明行为促进条例》出台，第十二条规定主要讲公民应当遵守公共秩序。小兰同学观察到下列行为，你认为其中哪一组直接违反该条规定？

- ①后排一位男生听课边喝饮料，或偷偷玩手机，或趴在桌子上睡觉
- ②某同学穿着拖鞋去食堂，并蹲在座位上吃饭，刚吃几口就将大半碗饭菜都倒掉了
- ③每到夏日晚上，楼下人行道就摆开几家大排档，开着高分贝音箱，吵嚷到半夜
- ④邻居蒋叔叔喜欢发“猎奇”的微信，诸如“鸡蛋造假”等，常常搞得人们很紧张
- ⑤初夏不少人在风景优美的河畔野饮，结束后留下遍地塑料袋、饮料瓶等垃圾

- A.①② B.②⑤ C.③④ D.①④

答案：C

解析：①为不热爱学习的表现，并非涉及公共秩序；②属于浪费粮食；③④为扰乱公共秩序；⑤属于破坏环境的表现。因此答案为 C。

6. 下列照片所反映的内容，哪一组能体现我国的基层群众自治制度呢？



- A.①②④ B.③⑤⑥ C.②④⑤ D.①③⑥

答案 A

解析：我国基层自治组织有村委会、居委会、职工代表大会。①图为居委会换届选举；②图为职工代表大会；③图为人大代表投票；④图为村委会换届选举；⑤图为选学生会干部；⑥图为某县青年团代表大会。因此①②④入选。

7. 下列是有关法律基本概念的理解, 你认为其中正确的一项是
- A. “法律是由国家制定或认可的”, 此处的“国家”是指全国人大与国务院
- B. 法律与道德都是一种特殊的行为规范, 并且都是靠外在的强制力来保障实施的
- C. 刑法、环保法、义务教育法都是基本法律, 基本法律与普通法律现有 240 多部
- D. 罚金与罚款分属刑事违法和行政违法的处罚手段; 管制、拘役则属于刑罚主刑

答案: D

解析: A 选项中的“国家”是指立法机关, 从狭义指即全国人大及其常务委员会, A 错误; 法律是一种特殊行为规范, 法律靠外在强制力保障实施, 而道德是靠内在约束, B 错误; 《刑法》属于基本法律, 而环保法, 《义务教育法》则属于普通法律, C 错误。故正确答案为 D。

8. 繁忙的刘老板

下面是刘老板一天的行为, 你认为其中涉及到政治权利的有

上午: ①发表自己的文章 ②向监察委举报违规行为 ③新手机有问题去找消协

下午: ④去税务局交税 ⑤拒绝向商家提供手机号 ⑥参加公益植树

晚上: ⑦参加大数据培训 ⑧扶行动不便的老人上楼梯⑨就中美关系谈自己看法

- A. ①②⑨
- B. ③⑤⑦
- C. ④⑥⑧
- D. ①④⑤

答案: A

解析: 发表自己的文章属于政治自由里的出版权, ①正确。向监察委举报违规行为属于行使监督权, ②正确。就中美关系谈自己的看法, 属于政治自由里面的言论自由。故正确答案为 A。

9. 小店区李叔叔到“太重”路过下列单位, 其中分别属于“国家机构”与“国企”的是

- ①太原小店区人民政府一→②小店区政协一→③小店区某街道办某居委会一→④中国移动某营业厅一→⑤蓝月亮家具店一→⑥山西省高级人民法院一→⑦刘大妈削面馆一→⑧太原市教育局一→⑨麦当劳一→⑩“太重”(太原重工, 也制造航天产品)

- A. ①②⑧/④⑤ B. ②③⑥/⑤⑨ C. ③⑥⑧/⑦⑩ D. ①⑥⑧/④⑩

答案: D

解析: 人民政府属于行政机关, 属于国家机构, ①正确; 政协不属于国家机构, 街道办居委会也不属于国家机构, ②③错误; 中国移动属于国有企业, ④正确; 蓝月亮家具店属于私企, ⑤错误; 山西省高级人民法院是审判机关, 属于国家机构, ⑥正确; 刘大妈削面馆属于个体。太原市教育局属于政府机关, 也属于国家机构, ⑧正确; 麦当劳属于外企, ⑨错误; 太重属于国有企业, ⑩正确。故正确答案为 D。

10. 板报组喊你了

你看出该班本期板报的主题了吗? 请你从下列新闻中选一组填到“?”处



- ①你知道世界技能大赛吗? 职业技术领域的“奥运会”。近日, 山西数所职业技术学院精心选拔选手, 准备参加 2021 年即将在上海举办的第 46 届世界技能大赛

- ②山西以煤炭著称，可如今风能发电机在晋北的山区林立，蓝色太阳能板则随处可见，将一座座山丘几乎整体覆盖。据报道，目前山西清洁能源已占全部发电量的 10%。
- ③深贵州大山口径达 500 米的世界最大射电望远镜，月前发现多颗脉冲星信号。
- ④2017 年 9 月国家公园建设方案正式公布，首批共 10 个，包括湖北神农架、甘肃祁连山等。它以大面积保护自然生态系统为目的，与统的森林公园还有区别。
- ⑤人工智能应用、无人机展示、初机器人表演、3D 打印、科学仪器体验……5 月 19 日，“2018 年山西省科技活动周”全面启动，7 个重点实验室向公众开放。
- A. ①②
B. ②④
C. ③⑤
D. ①③

答案：B

解析：根据问号处一栏内容，可以得出此处应该填的新闻主题为生态环境类主题。②选项的新能源以及④选项中的自然生态系统都符合主题。而①③⑤选项都与技术发明，科技创新有关，与题意不符。故正确答案为 B。

11. 今年修宪举世瞩目，几位初中生有如下讨论，你认为其中说法正确的一组是()
- 甲：这次修宪是中共中央先提出建议，然后由全国人大常委会正式提交有关议案
- 乙：是这样，这次距离第四次修宪已经 16 年了，修改了 26 条；五次共修订 52 条
- 丙：“科学发展观、习近平新时代中国特色社会主义思想”这次也被写进宪法了
- 丁：“国家机构”增加两节，现行宪法变成 148 条，不过宪法的核心内容还是第二章
- A 甲和丁 B. 甲和丙 C. 乙和丙 D. 乙和丁

答案：B

解析：距离第四次修宪是 14 年，修改了 21 条，乙观点错误；国家机构新增一节为监察委员会，现行宪法由原来的 138 条变为了 143 条，丁观点错误；甲丙正确且符合题意。故正确答案为 B。

12. 先判定下列漫画中哪两幅寓意一样，再判定与哪一幅所反映的教育行为有直接关联



- A. ④⑥—① B. ①②—③ C. ②④—⑥ D. ③⑤—②

答案：C

解析：②④都反映的是公民思想道德素质有待加强，而这一现象与家庭不合理的教育行为有直接关联。故正确答案为 C。

第 II 卷 非选择题 (共 39 分)

二、简答题

13、(1) 基础知识填空：(每小题 1 分，共 5 分)

- ①个子猛长、胡须出现等均属于青春期的_____
- ②中华传统文化的特点是_____
- ③两岸关系和平发展的政治基础是_____
- ④我国基本经济制度的表述中，体现中国特色社会主义的是_____
- ⑤四十年前，拉开我国改革开放序幕的标志性历史事件是_____

(2) 这 5 幅图片中的民族，你都认识吗?(每小题 1 分，共 2 分)

- ①图片中属于我国自治区并与山西距离最远的少数民族是_____ (填字母)



- ②今年修宪后，我国的社会主义民族关系被确立为_____

答案：

(1) ①生理变化(或：“身体变化”)；②源远流长、博大精深；③坚持一个中国原则；④多种所有制经济共同发展；⑤党的十一届三中全会召开(或：“十一届三中全会”) (2) ①b ②平等团结互助和谐

解析：本题考查青春期的生理变化、中华传统文化的特点、两岸关系和平发展的政治基础、基本经济制度、改革开放、少数民族状况等相关知识，难度较低，属于基础题型。

14、右边是某教材插图，尽管是漫画，却有值得探究之处。(2 分)



(1) 小朱认为该漫画是刑事法庭，你的看法呢?(1 分)

(2) 如果从法律专业角度看，这幅漫画该如何修改?(1 分)

答案：(1)是刑事法庭。因为：①受审者穿囚服；②身后站法警；③站在法庭中间低头接受宣判。(2)①审判长两边应各有一名审判员，并均有专设座位；②刑事法庭两边分别为公诉方(检察院及被告辩护人)与原告席(原告及其辩护人)；③刑事法庭中间为被告席，通常还设置有围栏，身后站法警；④刑事法庭现场还应有书记员席，包括证人席等。

解析：本题考查刑事法庭和民事法庭的区别，属于法律的相关知识，切口较小。(1) 被告在法官的对面是刑事法庭，原告和被告在法官两边的是民事法庭。(2) 刑事法庭审判长两边应有审判员、法庭两边分别为公诉方与原告席、刑事法庭中间为被告席、刑事法庭现场还应有书记员席，包括证人席。

15、 他们“开”人代会了！

今年春，模拟完联合国活动后，省城一所初中又模拟召开县人民代表大会。参加该活动的初三年级 4 个班，共 220 人，全体思品教师 4 人，其中一位是回族。另外，2 名外籍英语教师对此也感兴趣，主动提出参加。

根据上述材料，回答下列问题：(5 分)

(1) 布置人大会场，主席台背后应该悬挂下列图标中的哪一个?(1 分)



答：_____ (填写序号即可)

(2) 小宇同学说：“这是县人大会议，人大的四大职权都要体现。比如，先安排听取县政府工作报告，还要安排选举县长、县委书记等议程。”

小宇这段话有两处错误，你看得出来吗?(2 分)

(3) 小赵扮演的县人民法院院长做法院工作报告，其投票结果如右图，请你据此判定该县法院工作报告是否



通过?(1 分)

(4) 假如真实选举县人大代表时，该校上述哪些人员能得到选民证?(1 分)

答案：(1)④ (2) ①县人大没有立法权，实有监督权、任免权、重大事项决定权等三种职权；②县委书记不是人大选举产生。 (3) 通过。因为赞成票 114 票超过半数。(4) 4 名思品教师。

解析：(1)人大会场应悬挂国徽，故选④；(2) ①立法机关有全国、省、部分市人大及常委会，县人大没有立法权；县委书记在党代会上产生，不在人大会上；(3) 法院工作报告需超过半数才能通过；(4) 选民必须是年满 18 周岁、没有被剥夺政治权利的我国公民，材料中只有 4 名思品教师符合条件。本题考查人大的相关知识，难度适中，结合材料作答即可。

16. 山西的初中生小华颇有文学造诣，对粗制滥造的抗日神剧不满，可当地生动的抗战故事很多；于是，他据此写出一部电视剧本，难免存在瑕疵。下面是其中片段

《八路军总部在哪里》(片段)

1939 年腊八节下午。太行山一个山村外。

“小老弟，八路军总部的在哪里?我的叔叔在总部当官，我的逃难的来投奔他。我们都是福建井冈山人，我的叔叔民国十五年就当红军。来，咱坐下聊。”

眼前这位外乡人，一副当地农民打扮。铁蛋眨巴眨巴眼睛，没说什么。村里是来了一队八路，给老百姓挑水扫院，可弄不清是不是八路军总部的。外乡人坐在路旁，边四周打量边说，我喜欢中国的传统文化，而且山西的昆曲比东北的二人转好听。天生我才必有用，王勃的这句诗把做人要诚实的道理说透了，大大的经典!”铁蛋听得一头雾水，不过他好奇地发现对方穿的鞋是斜纹橡胶底，口音也怪怪的。

天空飘起雪花，外乡人告别远去。这时，铁蛋突然觉得此人可疑：日本特务!

他赶紧回村报告，几位八路军战士立刻跟他去追，部分群众闻讯也主动加入。前面山坡上有一眼废弃的窑洞，天快黑了，此人会不会在这里过夜?窑洞门才被推开，一群野鸽腾空飞出。“不用搜查了，快追!”铁蛋高声喊。

山里披层雪，童话世界似的。追到一个岔路口，眼前两条路都有脚印，此人会走哪条?

铁蛋迅速做出判断，追了两顿饭功夫，果然，前方出现外乡人的背影……，
此时雪停天晴，夜空中，一轮圆月在薄云后时隐时现。

根据该剧本片断，请你回答下列问题：(6分)

- (1)剧中人物对话及其剧本本身均有错误，请你指出其中的5处。(2分)
- (2)铁蛋认为此人是“日本特务”的依据是什么?(1分)
- (3)铁蛋为什么认为不必要搜查破窑洞呢?(1分)
- (4)追到岔路口(如右图所示)，你认为铁蛋做出的正确判断是走哪条路?(1分)
- (5)该班语文老师看完剧本后大加赞赏，并提出两个问题：①请说出主人公身上值得你点赞的一点；②八路军总部究竟在哪里?(请任选其中一个作答,1分)

答案：

(1) ①“井冈山”在江西，不在福建；②红军在民国十七年(1928年)创建，民国十五年(1926年)还没有红军；③“昆曲”主要为江苏一带的地方剧种，不是山西的剧种(山西的剧种应为“晋剧”等)；④“天生我材必有用”不是王勃写的，是李白写的；⑤“天生我材必有用”意思不是“诚实”，而是“自信乐观”；⑥“腊八节”为农历十二月初八；初八是看不到“圆月”的，应为半个月亮(或：上弦月)。

(2) 口音怪怪的”，包括语言表达有日语痕迹；②穿橡胶底鞋不符合那时当地农民的身份(农民当时穿的是自制布底鞋)；③带有警觉心理四处打量，有异于常人的防范和侦察之嫌。

(3) 因为“野鸽腾空飞出”，说明窑洞中无人。

(4) 王村；因王村方向有斜纹脚印。

(5) 选择①的答案：**a.**从保守秘密并及时为八路军通风报信等情节，可以看出主人公对日本侵略者的憎恨，具有朴素而坚定的民族情感和爱国情怀，包括粗浅的文化认同感。**b.**主动引路并追赶敌特等，反映出主人公拥护八路军，有自觉倾向革命的阶级情感。**c.**从面对陌生的外乡人“没有说什么”等细节，表现出主人公沉着稳重的性格。**d.**敏锐意识到敌特以及准确判定斜纹脚印方向等细节，反映出主人公机智勇敢，聪慧过人，特别是推理判断能力出众。

选择②的答案：八路军总部就在人民群众中(或：“人民群众的心里”)。

解析：本题综合考查学生的阅读能力、课外知识积累、判断推理能力等，能力要求较高，需要学生平时注意积累，扩大阅读量。

17. 嗨！你“创新”了吗？

突破思维定势是创新的基本原则。比如，我国古代有一道经典的作业：将“深山藏古寺”这句诗用画画出来。结果，多数学生画的都是山林后露出寺庙的一角；只有一位学生画的是——山间小路上，一位挑着水的小和尚正往密林深处走…

显然准确反映该句诗意的是后者。静心想想，请从下列两道题中选作一道：(2分)

选作题1 这同样是我国古代的一道作业：请你将诗句“踏春归来马蹄香”画出来。

答案：所画马蹄粘着花瓣，周围有蜜蜂或蝴蝶飞舞。(可以画；或用简洁的语言表述也可)

解析：本题考查中学生核心素养当中的“实践创新”，需要学生发挥想象力和创新能力作答。

选作题2 假如《山西日报》现在要为“晋芳”牌洗涤剂设计广告，要求做整版。如果你接受了该设计任务，你的带有鲜明创意的大致设计构想是什么？

答案：整个版面有意设计成空白，只在最下边写一行通常字号字体的“晋芳”牌名称及其生产厂家、厂址、联系方式等。(可以画；或用简洁的语言表述也可)

解析：本题考查学生创新能力，自主设计一则广告版面即可。

三、分析说明题(从下列两道题中选作1道，5分)

选作题1

加油，《加油，向未来》

材料1：中国古代科技成就世界瞩目，尤其“四大发明”。可科学家的地位却远不及帝王将相，或文人墨客。

《史记》中有刺客列传，但难觅科学家踪影。

材料2：央视播放《中国诗词大会》《朗读者》等节目，几乎全民关注，播一个火一个；可大型科普节目《加油，向未来》等同样精心打造，却反映平淡。

如何看待这种科普类节目被普遍冷落的现象？

答案：这种现象发人深思，确实需要引起大家乃至有关方面的关注。

①显然，这种现象的出现与节目制作本身关系不大，而是与普遍缺乏崇尚科学的社会氛围有关。实际上，中国自古重人文、轻科学，这从科学家的历史地位即可看出，包括长达千年的科举制度理科整体缺位，科技发明甚至被视作“雕虫小技”。即便“四大发明”也多为应用技术层面，原创性的科学理论及重大发现较为少见。(2分)

②这种传统文化的力量是隐性的，却也是巨大的，央视节目的冷热对比就是明证。更令人忧虑的是，由此产生的负面影响同样巨大，最突出的就是科技创新至今底气不足，诺奖数量与大国地位不符；同时，由此导致的社会问题也比比皆是，直接阻碍现代公民社会建设的顺利推进。(2分)

③所以，我们呼吁国家加大教改与宣传的力度，让全民的科学素养尽快饱满起来，为创新驱动发展战略的进一步落实打好社会基础。比如，教育部在小学增设科学课程等举措就值得点赞。(1分)

解析：该题选取近年来比较热门的央视一系列文化类和科学类节目做对比，要求大家不仅要热爱中华优秀传统文化，树立高度的文化自信和文化自觉，也要培养自己的科学精神，目的是更好提升自己全面素质。

选做题 2

这张照片，在微信上盛传

你能看懂这张照片吗？此为某名校每天都会出现的“常态”场景：学生连等待课间操的两三分钟都在专注地看书背诵……近日，这张照片在朋友圈被集体围观，尽管该校考试成绩傲视全国，但此照所反映的这种学习状态，还是引发激烈争议。

假如你也在这个朋友圈，你的看法是什么呢？

参考答案 1 刚看到这张照片，我就被这种学习状态深深打动，我要向他们学习。

①你想，连等上课间操的那点零星时间都不浪费，并且大家都是这样的忘我专注，能想见他们平时是怎样的勤奋刻苦了。这不仅能将碎片化时间充分利用，积少成多，迅速助推成绩的提高；同时，有利于良好学习习惯的培养，有助于积极进取、踏实认真、吃苦耐劳、公平竞争等浓厚学习氛围的形成，催人奋进，令人鼓舞。而且，由此培养的坚强意志等优秀品质，或许比成绩提高更重要。不吃苦中苦，何以考高分？该校能成为名校最直观的解释就在这里。(3分)

②更令人深思的是，每天都是如此“常态”，仅仅是校方的管理在起作用？我觉得没有共同的远大理想做强大的内在支撑，也是不可想象的。这也正是新时代对青年一代的殷切期望，更是大国崛起的呼唤与自

信。(2分)

参考答案2 看到这张照片，我的第一反应是：这样的教育变态了吧。

首先，做什么事情都要张弛有度，安排上操或课间休息是为了确保随后上课的良好状态，现在却要用来看书背诵，是否违背教育规律乃至常识？而且，就那两三分钟，实际效果令人怀疑；尤其是在阳光下看书，长期以往视力和身心健康是否会受影响？更令人担心的是，长年累月置身于这样紧张压抑的氛围之中，学生的心理健康与精神状态是否容易出现异常，甚至造成大面积的厌学现象？这实际上也是过度教育的集中反映，是以挤占学生的思考时间包括应有的自由为代价的。(2分)

其次，连等上操那点时间都不放过，可以推断该校是舍不得在课外活动、社会实践等方面多花时间的；应试教育“重共性、轻个性”的弊端有可能因此被放大，素质教育将会更加边缘化。这与国家的教育方针是背道而驰的，也是对学生某种权利的一种漠视。(2分)

再次，最关键的是这样培养出的学生，容易出现高分低能倾向，更谈不上动手实践能力及创新意识的培养，与核心素养的要求格格不入。某种程度说，这才是教育资源的最大浪费——希望微信上以后再没有这样的照片可流传。(1分)

参考答案3 对于这种学习状态，我认为有利有弊。

(将“参考答案1”与“参考答案2”按辩证思维有机组合即可)

参考答案4 这种学习态度是该肯定还是否定，其实不重要；重要的是，我们需要冷静地思考：为什么会出现这种古今中外都算奇葩的教育现象？(1分)

①学生甘愿接受这种受虐式的教育，就是为了在愈演愈烈的应试大战中胜出，考取一所理想大学，这个诉求无可非议。关键是校方该如何科学掌控这种强大的利益冲动与诉求，也就是说要采取“绿色”的教育方式；因为人才培养更要谈“可持续发展”，不能被所谓的“办学质量”等功利目的所绑架，不择手段，竭泽而渔，有意无意将学生打造成只知分数的考试机器。(2分)

②然而，矛盾的是，这种应试教育的典型做法，本来明显违背教育规律，应该受到排斥；但在现实中却屡屡奏效，收获满满，使校方及其学生成为最大的受益者。同时，这种做法目前明显有效仿蔓延之势。因此，这就不是某一个学校的问题了，而是考试评价等国家相关制度层面应该理性反思，或者说急需加大综合改革力度了。否则，这种状态会在更大范围内成为“常态”。(2分)

解析：该题设问依旧考察大家普遍关注的“应试教育”，考生可以从“利”与“弊”任选一个自己支持的角度分析，也可以采用辩证思维，综合分析。参考答案中第四种回答，上升到对我们国家教育制度改革的思考，能力要求较高。

四、实践探究题(共12分)

19. 一道特殊的寒假作业

教育部《中小学综合实践活动课程指导纲要》出台后，山西某初中积极落实，诸如布置假期作业：开展实地社会调查。今年正月十四，该校一个学习小组来到大树李村，调查当地贫困现状。该村地处吕梁山深处，传统文化基本得以保存。去年随着山西“黄河1号”旅游公路修通，该村开始搞原生态乡村旅游，老外都慕名而来。

假如你也是他们小组的成员，请你帮小王完成下列一天的任务。

(1)刚进村就遇到两位蓝眼高鼻的外国人，小王用英语问他们国籍，其中一位用手指自己的手表，又指挎包上的军刀图案；另一位举起刚买的风车玩具使劲吹。

据此，你能帮小王判断出他俩分别是哪一个国家的？说出一位即可。(1分)

答：前者为瑞士；后者为荷兰。

解析：考查学生的综合素养。手表、军刀是瑞士的标志，风车是荷兰的标志。

(2)在农家乐吃草饭时，老板说：“我的菜我亲自种，放心！20亩呢。”同来的小何问：“那老板自己种这20亩地的收入属于按劳分配吧。”你认为呢？(1分)

答：按劳分配与多种生产要素分配并存（“按劳分配与生产要素相结合”“混合收入”）。

解析：考查分配制度相关内容。老板自己种地属于按劳分配与多种生产要素分配并存。

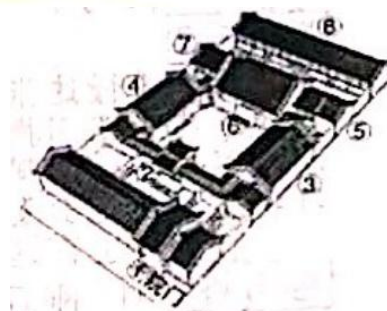
(3)老板说，他要扩大蔬菜产量，想从邻居家“流转30亩土地搞观光农业。(2分)

①小何立刻问小王：“土地流转，什么是土地流转？”(1分)

答：指土地承包者将自己土地的经营权(使用权)以一定的费用转让(转租、转包、流转)给种粮大户或经营者，使之形成规模化生产，以提高土地的利用率。

解析：考查土地流转的概念。

②老板则有点焦急：俺打算把这30亩地建成现代化玻璃大棚，投资很大，需要贷款；可不知道今后国家对农民的土地政策有啥变化？”(1分)



小王手绘的四合院图

答：第二轮土地承包到期后再延长三十年。

解析：考查土地政策。习近平总书记在十九大报告中提出要“实施乡村振兴战略”，并明确：“保持土地承包关系稳定并长久不变，第二轮土地承包到期后再延长30年。”

(4) 村里有一座老旧四合院，村委要将它开发成代表传统文化旅游景点。小王会美术，爬到高处，先画一幅铅笔画。(任选一道作答，1分)

选做题1

刚进院门一位建筑工就问：“堂上扔着一幅木质楹联，你们过去看看，写的啥？”小王想，“堂”在哪个位置？楹联又该挂在哪里？(“堂”的位置写图中序号；“楹联”所挂位置用文字表述)

答：⑥；“楹联”为堂前正中一对廊柱上所挂的对联。

解析：考查学生综合能力。古代建筑通常是堂室结构，前堂后室。楹联，亦称“楹帖”、“对子”、“对联”。书法艺术的一种幅式。由上、下联组合，是悬挂或粘贴在壁、柱上的联语。


选做题2

由于年久失修，院里地破破烂不堪，工程队准备全部换成大理石的，并在院里安装古代宫灯造型的路灯，电线铺在大理石地砖下。你认同这样的修缮吗？

答：不认同。大理石地砖与宫灯破坏了北方民间传统建筑的风格；应坚持修复文物古迹“修旧如旧”的原则，即可以换新、维修，但应力求保持原貌。

解析：考查学生综合能力，可从多方面作答。

(5) 下午又遇见两位香港中学生，他们用手机拍了许多照片，部分如下：他们似乎对什么都好奇，用不太标准的普通话提出下列前两个问题：(4分)



①他们指着上述带“e”图标的照片问：“这些照片内容的名称是什么？”(2分)

答：a 划早船；b 褐马鸡；d 年画；e 金钱豹。

解析：考查学生综合能力以及课外积累。

②他们又问：“那大树字村委会要接受当地乡政府的领导吗？”(1分)

答：不接受乡政府的领导；应为指导、帮助、支持的关系。

解析：考查村委会和乡政府的关系，村委会是基层群众自治组织，与乡政府是指导、帮助、支持的关系。

③对其中一幅照片，小王惊讶地问：“这张你们拍不下吧？是哪一幅呢？”(1分)

答：e；因为：一是手机无变焦功能，不可能远距离拍摄，否则会遭受野生金钱豹的攻击；二是野生金钱豹远离村庄，不可能在此见到。(填写字母，并说明理由)

解析：考查学生综合分析能力。

(6) 返回时，见村委主任被记者采访：“如今乡村振兴，衣农村大有作为，但俺们急需人才。这不俺村粉条很畅销，可前天发现假冒俺村的粉条也卖得火，怎办？”(1分)

答：尽快到当地的工商管理部门注册商标。

解析：考查学生维权的内容与意识。

(7) 活动结束后，小王感慨颇多，写总结时意义和问题都要有，请你帮他各说一条。(2分)

答：意义：①使我们对国家的教改有更深入的理解，并在多个层面进行了综合探索；②使我们有机会接触到鲜活的农村现实生活，培养了大家的亲社会行为；③通过一天的调查活动，大家的团队合作、表达交流、组织协调等多方面的锻炼与提高；④将课本知识与社会实践有机结合起来，活学活用，学以致用；⑤进一步了解了山西农村的风土民情，增强了热爱家乡的情感；⑥直接触摸到了十九大后基层农村的最新变化，感受到新时代带来的新气象；⑦拓宽了视野，增长了见识，尤其是增强了对中外文化的了解与体验，包括与世界文明对话的意识。

问题：①一整天的实践活动，明显偏离了本次调查“当地贫困现状”的活动主题；

②整个调查活动过程存在随意性，看不出应有的活动安排与计划；等等。

解析：考查学生实践探究题的意义及发现问题的能力，结合材料以及十几情况，分别作答即可，可从多角度分析回答。