

# 2017 年安徽省公务员考试全真模拟题

## 《行政职业能力测验》试卷

准考证号：\_\_\_\_\_

姓名：\_\_\_\_\_

编著：华图教育安徽分校教研中心行测教研室



## 说 明

这项测验共有五个部分，110 道题，总时限为 120 分钟。各部分不分别计时，但都给出了参考时限，供你参考以分配时间。

请在机读答题卡上严格按照要求填写好自己的姓名、报考部门，涂写准考证号。

请仔细阅读下面的注意事项，这对你获得成功非常重要：

1. 题目应在答题卡上作答，不要在题本上作任何记号。
2. 监考人员宣布考试开始时，你才可以开始答题。
3. 监考人员宣布考试结束时，你应立即放下铅笔，将试题本、答案卡和草稿纸都留在桌上，然后离开。

如果你违反了以上任何一项要求，都将影响你的成绩。

4. 在这项测验中，可能有一些试题较难，因此你不要在一道题上思考时间太久，遇到不会答的题目，可先跳过去，如果有时间再去思考。否则，你可能没有时间完成后面的题目。

5. 试题答错不倒扣分。

6. 特别提醒你注意，涂写答案时一定要认准题号。严禁折叠答题卡！

停！请不要往下翻！听候监考老师的指示。否则，会影响你的成绩。

## 第一部分 常识判断

(共 20 题, 参考时限 15 分钟)

1. 下列文化常识表述错误的是 ( )
  - A. 骆宾王是初唐四杰代表人物之一
  - B. 历史上第一部词典是《尔雅》
  - C. 新中国第一位获得“人民艺术家”称号的作家是茅盾
  - D. 叶圣陶是我国第一位开拓“童话园地”的作家
2. 下列外来作物传入中国的时间错误的是 ( )
  - A. 明朝开始栽培野生草莓, 但直到清朝中期, 才从英、法等国引进良种
  - B. 在汉朝, 中国新疆已经开始栽培无花果, 明朝时传入中国内地
  - C. 黄瓜又叫胡瓜, 西汉时张骞出使西域归来时从伊朗带入中国的
  - D. 西瓜原产地在非洲南部, 唐初传入中国新疆地区, 五代、宋辽时期传入中国内地
3. 以往过年贴春联经常发现“六畜兴旺”这样的标语, 以下不属于我们常说的六畜的是什  
么? ( )
  - A. 猫
  - B. 马
  - C. 牛
  - D. 狗
4. 关于我国城市名称由来不正确的是 ( )
  - A. 重庆(渝)古称“巴”, 重庆之名因南宋光宗赵敦先封恭王, 后登帝位, 遂将恭州升为重  
庆府, 取“双重喜庆”之意
  - B. 合肥是以河得名, 其本意是淝水与施水相会的意思, 合肥城在这两水相结合地点附近, 所  
以置县后便以此命名了
  - C. 乌兰浩特, 蒙语“红色之城”的意思, “浩特”即“城市”
  - D. 咸阳, 因咸阳位于“九峻山北, 渭水南, 山水俱阳”, 故名咸阳
5. 我国宪法规定, 上海市的建制及区域划分分别是由谁批准的 ( )
  - A. 全国人大, 全国人大
  - B. 全国人大常委会, 全国人大常委会

- C. 全国人大，国务院
- D. 全国人大常委会，国务院
6. 2016年5月1日开始，中国全面推开了营改增试点，至此，营业税彻底退出历史舞台，增值税制度将更加规范。以下不是营改增后积极影响的是（ ）
- A. 减轻了企业的赋税压力
- B. 利于深化供给结构性改革
- C. 增强企业在国际市场竞争力
- D. 促进了产业和消费的升级
7. 下列关于中国古人类的说法正确的是（ ）
- A. 北京人可以使用骨针缝制衣服，有审美意识
- B. 元谋人遗址在我国北方地区
- C. 河套人比许家窑人晚
- D. 山顶洞人只会使用天然火
8. 下面的历史人物与其所对应的战役错误的是（ ）
- A. 谢安：巨鹿之战
- B. 白起：长平之战
- C. 袁绍：官渡之战
- D. 孙臧：桂陵之战
9. 下列关于我国建国以来的外交情况，说法错误的是（ ）
- A. 中日建交早于中美建交
- B. 2001年，中、巴、哈、吉、塔和乌兹别克斯坦六国元首，在上海签署了《“上海合作组织”成立宣言》
- C. 2001年11月，在卡塔尔多哈举行的世界贸易组织第四次部长级会议上，审议通过了中国加入这个组织的决定
- D. 2016年二十国集团（G20）峰会将首次在中国举行
10. 下列图标所代表的经济组织按成立时间先后顺序排列正确的是（ ）





- B. 北京的观众可以在8月6日早上7点在家观看里约奥运会的开幕式直播
- C. 符拉迪沃斯托克的居民观看日出的时候莫斯科的居民正在欣赏同一天的日落
- D. 伦敦敲响平安夜钟声时纽约已经开始了圣诞节
18. 有氧运动是指人体在氧气充分供应的情况下进行的体育锻炼，它的特点是强度低，有节奏，持续时间较长。下列不属于有氧运动的是（ ）
- A. 游泳  
B. 瑜伽  
C. 举重  
D. 慢跑
19. 2016年4月26日习近平在合肥考察了中国科技大学、中科大先进技术研究院时指出，要做到“两学一做”。“两学一做”，基础在学，首先要学好党章。党章是党的根本大法，是全面从严治党的总依据和总遵循，也是全体党员言行的总规矩和总遵循。下列说法错误的是（ ）
- A. 中共七大将毛泽东思想作为党的指导思想写入党章
- B. 十三大提出了关于社会主义初级阶段的理论
- C. 十五大提出了建设社会主义市场经济体制并将邓小平理论写入党章
- D. 十七大将科学发展观写入党章
20. 韩国历史上：第一位在青瓦台长大的总统，第一位女总统，第一个被弹劾下台的总统。“青瓦台的女儿”一路起伏，成为“青瓦台的女主”，最终又黯然离场。11岁到26岁，朴槿惠一直住在青瓦台，她名字中的“槿”是韩国的国花，代表“国家”。以下选项中国家与国花对应的一组是：（ ）
- A. 中国 牡丹      B. 美国 红玫瑰      C. 意大利 雏菊      D. 日本 樱花





应对，是一种战战兢兢、\_\_\_\_\_的谨慎态度。

填入横线处恰当的词语是（ ）

- A. 验证 如履薄冰                      B. 论证 筚路蓝缕  
C. 考证 举步维艰                      D. 证实 防微杜渐

25. 作风有所好转，“四风”问题有所收敛，但树倒根存。现在，广大干部群众最担心的是问题反弹、雨过地皮湿、活动一阵风，最盼望的是形成常态化、常保持长效。我们要\_\_\_\_\_忧患意识，以\_\_\_\_\_、驰而不息的决心和毅力，把作风建设不断引向深入，把目前作风转变的好势头保持下去，使作风建设要求真正落地生根。

填入横线处最恰当的一项是（ ）

- A. 增加 孜孜不倦  
B. 增强 锲而不舍  
C. 强化 百折不挠  
D. 加强 兢兢业业

26. 当一个日子被赋予了新的内涵，时间就有了新的意义。10月17日，我国设立首个扶贫日。这个日子表明了中国\_\_\_\_\_向贫困宣战的决心，体现了\_\_\_\_\_啃下“硬骨头”的意志。这一天也是国际\_\_\_\_\_贫困日，中国设立扶贫日也是响应联合国决议的具体行动。

填入横线处最恰当的一项是（ ）

- A. 毫无保留 跃跃欲试 消灭  
B. 斩钉截铁 摩拳擦掌 破除  
C. 不遗余力 一鼓作气 消除  
D. 义不容辞 趁热打铁 铲除

27. 天价烟的回潮亦是一个明确的信号，提醒我们在反腐败、反“四风”的道路上不能有丝毫\_\_\_\_\_，不能有片刻放松。近些年来，随着中央对“四风”问题的高度重视和坚决惩治，不良风气已经得到明显\_\_\_\_\_。

填入画横线部分最适当的是（ ）

- A. 懈怠 遏制  
B. 懈怠 遏止  
C. 怠慢 遏制  
D. 怠慢 遏止

28. 私家车跑专车算不算黑车? 交通部部长今天明确, 虽违法, 但未来可让它有合法出路。对于广受欢迎却也屡遭\_\_\_\_的专车, 及时用新制度加以规范, 这既是对民意的回应, 也是一种法治思维。在多方博弈的背景下, 城市交通治理的头绪还有待理清, 但这种审慎而开放的态度, 值得未来的改革更多借鉴。

填入横线处恰当的词语是 ( )

- A. 怀疑
- B. 质疑
- C. 置疑
- D. 质询

29. 历史昭示我们, 一个民族的崛起或\_\_\_\_, 常常以民族文化的复兴和民族精神的崛起为先导。一个民族的\_\_\_\_或覆灭, 往往以民族文化的颓废和民族精神的萎靡为\_\_\_\_。

填入横线处恰当的词语是 ( )

- A. 复兴 衰落 先兆
- B. 光复 衰败 先导
- C. 振兴 衰亡 征兆
- D. 兴盛 没落 预兆

30. 我们身处诗词的国度, 在灿若星河的名篇佳作中, 可以寻到自己的来路, 探出未来的方向。只有将诗词的熏陶融汇到国民教育的各个环节, 将优秀传统文化的元素与社会生产生活深度融合, 这些流传千年的优秀精神财富才能摆脱\_\_\_\_的命运, 真正活起来、传下去。

填入横线处最恰当的一项是 ( )

- A. 唾手可得
- B. 昙花一现
- C. 万古长青
- D. 首当其冲

31. 虽说实体店远不会消亡, 但由于零售商正面临为消费者提供个性化、数据驱动的服务与体验的压力, 实体店正在发生变化, 这种变化不仅仅发生在产品的类别上, 更是发生在平台上。事实是, 消费者已经不需要在实体店进行购买行为了, 这改变了门店的战略目的, 在门店购物要么和在网上一样便宜和方便, 要么就必须提供娱乐消遣。

这段文字意在强调 ( )

- A. 实体店要应时而变创造出顾客愿意为之消费的体验
- B. 实体店不会消亡
- C. 消费者已经不需要在实体店购物了
- D. 在实体店购物和在网上一样便宜、方便

32. 帕金森氏症是一种慢性退化性中枢神经系统疾病，病人的动作功能和语言技能逐渐退化，身体会不自觉地抖动，走路姿态僵硬，说话含混不清，严重者甚至连从椅子上站起来都很费劲。这种病的直接原因是负责分泌多巴胺的脑细胞逐渐坏死，产生不了足够多的多巴胺，而大脑需要多巴胺来指挥肌肉活动。缺乏多巴胺会导致各种运动障碍，甚至还会因为肠道蠕动不力而便秘。

这段文字主要说明了（ ）

- A. 帕金森病人的动作功能及语言技能退化
- B. 帕金森氏症的症状及发病原因
- C. 多巴胺可以指挥肌肉活动
- D. 缺少多巴胺会导致帕金森氏症

33. 互联网时代，人人都有“麦克风”，网络平台成了社会生态与公民心态的“放大器”。截至2016年6月，我国网民规模达7.1亿，超过半数中国人通过手机等移动通讯工具接入互联网。面对这样的现实，愿意上网的官员越来越多，但真正能驾驭网络的仍然十分有限。一些官员在网上一开口，很容易就掉入了祸从口出、惹是生非的“怪圈”。

这段文字意在说明（ ）

- A. 目前我国网民人数越来越多
- B. 官员在网络平台中要做到“敢发声，有态度，讲策略”
- C. 网民对官员的要求比较高
- D. 官员在网上发声容易招致非议

34. 法国《费加罗报》报道称，全球气温升高，受害最严重的往往是弱势群体和贫困社区。在国家层面也是一样，发达国家拥有足够的财力物力应对气候变化，而非洲一些国家则没有能力独自应对。联合国政府间气候变化专门委员会此前发布的报告显示，今年以来，厄尔尼诺事件导致南部非洲遭遇严重旱情，1400万人面临粮食危机。根据联合国环境计划署发布的一份报告，到2050年，非洲需要500亿美元资金用于应对气候变化。在过去20年间，非洲年平均气温升高2摄氏度，对于该地区农业生产、食品安全、医疗卫生和饮用水供应构成了极大挑战。

这段文字意在强调（ ）

- A. 气温升高对对弱势群体和贫困社区的影响最大
- B. 非洲国家没有能力应对气候变化

- C. 气温升高对非洲的很多领域都构成了挑战
- D. 世界各国需要通过协作采取切实有力的措施应对气候变暖

35. 无论是北京奥运会，还是里约奥运会，华天都是中国体育代表团在马术项目上唯一的参赛选手。而以一己之力填补中国马术运动的空白，华天一路走来并不轻松。中英混血的华天放弃了英国国籍加入了中国国籍才获得了代表中国队参加奥运会的资格；作为国际历史悠久、国内开展有限的马术项目，华天及其团队尝试在奥运赛场展示中国马术，注定意味着更多艰难、更多投入：马匹购置自然是一笔较大费用，维系在欧洲等地的日常训练费用更是花销不菲。

这段文字主要传递的信息是（ ）

- A. 华天是中国体育代表团在马术项目上唯一的参赛选手
- B. 马术项目花费很大
- C. 华天凭一己之力填补中国马术运动的空白并不轻松
- D. 马术项目在中国开展有限、在国际历史悠久

36. 时至今日，编制管理成为一块“绊脚石”，阻碍着医疗界人才的自由流动，妨碍符合行业特点的医务人员薪酬制度形成，不利于医疗资源的优化配置，公立医院难以探索建立科学合理的管理体制，服务质量得不到保障，看病难看病贵顽疾久治不愈。

这段文字意在说明（ ）

- A. 看病难看病贵问题得不到解决
- B. 现阶段的公立医院遇到许多问题
- C. 编制管理不利于医疗界人才的自由流动
- D. 公立医院改革要取消编制优化配置医疗资源

37. ①从这个意义上讲，教育者无法再简单命令或要求青年学生收听收看单向度传播的信息内容

②其中一大挑战，就是人人可以通过手机等移动互联网终端选择、接受和发布自己感兴趣的信息

③这对高校网络思想政治工作者提出了更高要求

④多宣扬这些人和事，青年学生愿意看、能还原、有参照，思想政治教育就能收到事半功倍的效果

⑤同时，也要善于把身边的小人物、微事件讲鲜活，使其可亲可信、可知可感

⑥为此，既要把先进人物、典型事件讲真切

⑦在这个移动互联的时代，高校思想政治工作面临诸多挑战

将以上 7 个句子重新排列，语序正确的是( )

A. ⑦①⑥④②③⑤

B. ②③⑦①⑤⑥④

C. ⑦②①③⑥⑤④

D. ②⑤③⑥①④⑦

38. ①望子成龙心切，我们各自带上几千块钱的现金半夜动身前往

②继续上山来到了最顶峰，导游又介绍说，在这里一定要为孩子打表升疏，这是此行的最后一件必做的事了

③在我们当地，有一种说法，去某寺庙拜一棵歪脖子树，可保佑孩子高考超常发挥

④带上一些拜佛供品一路上山拜佛，每走几步就有一个功德箱置于石阶路旁

⑤我们往上走到观音殿前，导游建议我们要为南海观音请上供果

⑥半夜 11:30 出发，凌晨会到达寺庙

⑦带着疲累，我们两手空空下山，这次拜佛总共花去人民币 5000 多元

下列排序最恰当的一项( )

A. ③①⑥④⑤②⑦

B. ③④⑥②⑦⑤①

C. ①⑥⑤④②⑦③

D. ①③⑦②⑤④⑥

39. 随着信息技术的发展，手机的功能越来越强大，不仅为人们的生活提供了更大的方便和更多的乐趣，也颠覆着人们的生活和行为习惯。对于许多人来说，手机不单纯是一种工具，更成了生活的伴侣。到处都是手机控，随处可见低头族，每人都有朋友圈，成为生活的常态。可是，再大的“红包”也大不过亲情，再鲜的“鸡汤”也不如家里的热茶，再好的“段子”也抵不过孩子的童真，再搞笑的“视频”也比不过身边的笑容。因此\_\_\_\_\_。

填入划横线部分最恰当的一项是( )

A. 我们应该多花点时间陪伴家人

B. 手机带给我们的影响是弊大于利的

C. 我们应该尝试着远离手机生活

D. 不要让手机成为你的伴侣，不要让流量冲淡了你的亲情

40. 人可以用肉眼看见木头的纹理，但从另一方面看过去，桌子却是光滑的。如果通过显微镜，就会看到粗糙不平的丘陵深谷，以及肉眼所不能看见的各式各样的差异。用一架倍数更高的显微镜看，就会又有所改变了。

对文段理解不正确的一项是（ ）

- A. 我们直接看到的只不过是一种现象。
- B. 凭借不同的观察方式会看到不同的现象。
- C. 事物实在的形状不只是肉眼看到的那样。
- D. 我们没有办法看清事物的真正形状。

41. 孟买佛学院是印度最著名的佛学院之一。在它的正门旁边开了一个小门，门高 1.5 米，宽 40 厘米。一个成年人进去，不仅要侧身，而且还得弯腰，否则就是碰了壁也无法入内。所有新来的学生，都会由他的老师带领着来到这个小门前，弯腰进出一次。老师教育大家说：大门当然进出方便，但是很多时候，我们要进入的地方没有很宽阔的大门，或者，有的大门不是随便可以进入的。这个时候，只有学会了弯腰侧身、暂时放下尊贵和体面的人才能进入，否则你只能被挡在门外。这是佛家的哲理，其实也是人生的哲学。

以下那句话与文段蕴含的是同一哲理（ ）

- A. 低调做人，是一种智慧
- B. 成熟的稻谷懂得弯腰
- C. 欲成事者必须严以律己
- D. 适应环境比改变环境更重要

42. 我们最循循善诱的老师是孔子。《论语》里孔子的话，都因人而发，从来不用教条，但是他有一条很重要的教训。他的弟子，怕老师的教训久而失传，在《大学》里记下老师二百零五字的教训。其中最根本的一句是：“自天子以至于庶人，壹是皆以修身为本。”

作者接下来可能谈论的是（ ）

- A. 《大学》里记下的二百零五字的教训
- B. 《论语》是如何表现出孔子的循循善诱的
- C. 孔子告诫我们修身的重要性
- D. 孔子的教训依然有其现实意义

43. 胡润研究院近日发布的“2017 社会大学英雄榜”显示，登上胡润百富榜的 2000 多位资

产达 20 亿及以上的企业家中，有一半人没有全日制本科或研究生学历。胡润表示：“按照社会标准，这些人或许最不可能成功，但他们成功了。通过做这个报告，让我学到了‘英雄不问出处’这句话。”老实说，上述登上胡润百富榜的半数富豪没有高学历的情形，并不能推演出“读书无用论”。其中关键在于富豪和学历之间没有必然的因果关系。这情形如同许多大作家也没有高学历一样。

适合做以上文字标题的是（ ）

- A. 富豪低学历”推演不出“读书无用论
- B. 富豪和学历之间没有必然的因果关系
- C. “2017 社会大学英雄榜”的启示
- D. 成功与学历

44. “蛟龙”号使我国成为继美国、法国、俄罗斯、日本之后世界上第五个掌握大深度载人深潜技术的国家。2012 年 6 月 27 日，“蛟龙”号在马里亚纳海沟开展了 7000 米级载人深潜实验，下潜到 7062 米深度，创造了国际上同类作业型载人潜水器下潜深度的最高纪录。此次海试进行了海水矿物取样、标志物布放、高清摄录、高精度海底地形测量等深海调查作业，并首次获取了这一海域 7000 米深度的动物影像和样本。2013 年，“蛟龙”号转入试验性应用，并首次搭载科学家下潜，取得了大量宝贵样品，标志着我国已经具备了进行深海实地科学考察和研究的能力。2014~2015 年，“蛟龙”号在印度洋下潜。2016 年 5 月，“蛟龙”号在西北太平洋雅浦海沟进行科学应用下潜，并开展了超过 1 公里远的近底航行。

根据“材料一”，下列对“蛟龙”号价值的理解，不正确的一项是（ ）

- A. 使我国跻身世界掌握大深度载人深潜技术的少数国家之列
- B. 使我国首次获取了 7000 米深海的动物影像和样本
- C. 使我国具备了进行深海实地科学考察和研究的能力
- D. 使我国深海潜水器研发能力和水平全面领先其他发达国家

45. 克里米亚半岛半位于乌克兰的最高部，南临黑海，东扼亚速海，仅在北部有狭长地带与乌克兰大陆相连，东部与俄罗斯相邻，克里米亚自古就有“黑海门户”之称，对于俄罗斯来说，几百年来，黑海都是其通向地中海的重要通道，通过克里米亚可以遏制与之隔海相望的土耳其，染指东南欧门户巴尔干，南下地中海、印度洋。

这段文字主要说明了（ ）

- A. 克里米亚半岛是黑海门户

B. 克里米亚半岛对俄罗斯的重要作用

C. 克里米亚半岛的地理位置

D. 克里米亚半岛的区域优势

46. 小药丸牵连千家万户的身体健康，不容轻视、不可小觑。去年，30%—40%的药价高回扣，揭开了药价虚高的“冰山一角”，令人震惊。然而，药品背后的“价格黑幕”是久治不愈的顽疾，要从市场到机制、从生产到流通、从企业到医院等全链条环节“祛虚症”。

这段文字主要表达的意思是（ ）

A. 药价虚高现象被揭穿

B. 药品背后的“价格黑幕”是久治不愈的顽疾

C. 要从市场等各个环节去治理药品背后的“价格黑幕”

D. 小药丸的价格黑幕现象不容轻视

47. 如今，无论是大城市还是小乡村，“老人家长”并不少见。小区花园里，他们推着婴儿车三三两两聚在一起，交流带孩子心得；幼儿园、中小学门口，他们簇拥在接孩子的人群中，呼唤孙儿名字。这种祖辈与孙辈一起生活，并承担抚养教育孙辈的主要责任甚至全部责任的家庭教育模式正是“隔代抚养”。祖辈们在生活上对孩子的照顾可谓无微不至，但老人对孩子的过度溺爱也是年轻父母最为头疼的事。有教育专家表示，通过大量调研发现，在我国70%的“隔代抚养”都不成功，老人对于孩子的生理保育多于培养教育，使一些孩子形成了骄横、任性的性格，长此以往，被溺爱长大的孩子对父母的管教抵抗，并与之疏远，出现“老子”管不了“儿子”的尴尬局面。

这段文字主要想表达的意思是（ ）

A. 隔代抚养的弊端

B. 溺爱对孩子的成长会造成不良影响

C. 不应该让祖辈抚养孙辈

D. 父母应加强对于孩子的生理保育

48. 今天的文化建设，需要多一些“历史耐心”。让今天的文化成为明天的传统，这是必须的胸襟和气度。面对市场经济大潮，面对网络世界的洪流，要耐得住寂寞、稳得住心神，不为一时之利而动摇、不为一时之誉而急躁。如果没有“板凳坐得十年冷”的文化定力，没有“语不惊人死不休”的文化追求，怎么能沉淀出新的经典，让后人如我们今天吟咏唐宋名篇一样，沉醉于我们的创造？如果不能向炫富竞奢的浮夸说“不”、向低俗媚俗的炒作说“不”、



向见利忘义的陋行说“不”，又如何打开我们的精神世界，涵养出让一个国家、一个民族魂有定所、行有依归的核心价值？丢掉了深刻的思考、放弃了社会的责任、丧失了自己的个性，即便收获盆满钵满，也终究是一阵风就能吹走。

这段文字说明了（ ）

- A. 文化建设需要有一定的文化追求
- B. 文化建设需打开我们的精神世界，涵养国家
- C. 文化建设应承担社会责任，不能丧失个性
- D. 当今的文化建设需要多一些“历史耐心”

49. 不独丽江，云南旅游市场诸多乱象，决非一日之寒。坑蒙拐骗、以假乱真、欺行霸市、杀鸡取卵……云南旅游业存在的顽疾，气得省长都“放狠话”要查。云南再也经不起那么多“宰客”“坑人”的“差评”。可以预料，云南旅游市场将迎来一场“暴风骤雨”。但一阵风的整治并非对症的“良方”，云南迫切需要在法治的轨道上来场全面彻底的“大手术”。

这段文字意在强调（ ）

- A. 云南旅游市场目前存在各种乱象
- B. 云南旅游市场将对症下药，确保得到有效整改
- C. 游客对云南旅游持差评态度
- D. 如果再去云南旅游，游客一定会更放心、更舒心、更开心

50. 其实，“远离”花炮，就可以“净化”空气。从这个微行动中，每一个人都可以感觉到个体的力量、都可以感受到环境的变化与改善。在这个意义上讲，雾霾，是目前需要面对的一个现实存在。但是，作为一个个体也可以有自己的积极作为：远离烟花、绿色出行、善待环境，甚至积极、主动地参与环境保护。为了共同的城市、为了我们每一个人，让我们继续远离烟花爆竹，“净”候春暖花开。

这段文字意在强调（ ）

- A. 应该远离烟花这一传统习俗
- B. 雾霾是我们现在需要面对的现实
- C. 人们应积极主动地参与环境保护
- D. 政府应制定相关政策保护环境

## 第三部分 数量关系

(共10题, 参考时限15分钟)

在这部分试题中, 每道试题呈现一段表述数学关系的文字, 要求你迅速、准确地计算出答案。

请开始答题:

51. 某项工程, 甲单独做需 15 天完成, 乙单独做需 12 天完成。现在两人合作, 但中间甲休息了 4 天, 乙也休息了若干天, 最后该工程用 9 天完成。则乙休息的天数是 ( ) ?

- A. 1  
B. 2  
C. 3  
D. 4

52. 为了解网民使用社交媒体分享信息的习惯, 对 1000 名受访者进行网络调查。调查结果显示, 使用微信的有 632 人, 使用微博的有 391 人, 使用社交网站的有 286 人, 使用两种方式的有 198 人, 使用三种方式的有 86 人。则受访者中三种方式都不使用的有多少人? ( )

- A. 53  
B. 61  
C. 72  
D. 104

53. 有一家三口父亲、母亲和儿子。2007 年父亲年龄是儿子的 6 倍, 8 年后一家三口的年龄和正好是 100, 且此时母亲年龄正好是儿子的 3 倍。那么哪一年, 父亲年龄正好是儿子年龄的整数倍? ( )

- A. 2020 年  
B. 2018 年  
C. 2017 年  
D. 2016 年

54. 某产品的利润率为 10%, 由于物价等因素的影响, 该产品的生产成本上涨了 12%, 为了使得该产品现在的利润不低于原来利润的 90%, 则需要原售价的基础上提价多少才能满足要求? ( )

- A. 11%  
B. 10%  
C. 9%  
D. 8%

55. 6 个空瓶可以换 1 瓶啤酒, 小王一个夏天喝了 121 瓶啤酒, 其中有一些是用喝剩下来的空瓶换的, 那么他至少要买啤酒 ( ) 瓶。

- A. 102  
B. 100  
C. 101  
D. 103

56. 某单位举办象棋比赛, 规则为胜一场得 3 分, 负一场倒扣 1 分, 平一场不得分。一轮比

赛中参赛人员共 100 人，两两配对后进行比赛，所有人的总得分为 96 分，问该轮比赛中平局有多少场？（ ）

- A. 4  
B. 3  
C. 2  
D. 1

57. 8 个人排成前后两排，每排 4 人，其中甲在前排，乙丙在后排且相邻，问共有多少种不同的排法？（ ）

- A. 2880  
B. 1440  
C. 960  
D. 720

58. 把 16 个完全相同的球放入编号分别为 1, 2, 3, 4 的四个盒子中，要求每个盒子中的球数不小于其编号数，问有多少种不同的方法？（ ）

- A. 15  
B. 60  
C. 72  
D. 84

59. 某科室有 9 人，其中男员工比女员工多 1 人，现要从 9 人中选取 5 人参加培训，那么抽取的 5 人中男员工人数不低于女员工的概率为多大？（ ）

- A.  $\frac{9}{14}$   
B.  $\frac{2}{63}$   
C.  $\frac{1}{63}$   
D.  $\frac{5}{126}$

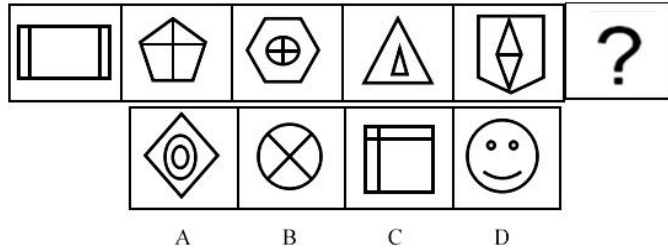
60. 甲驾车从 A 地去 B 地办事，行驶 1 小时，走了总路程的十分之一。甲发现如果按照这个速度驾车会赶不及，因此驾车速度增加了 20 公里/小时，又行驶了 45 分钟之后，距离 B 地还有  $\frac{4}{5}$  的路程。问 A、B 之间的距离是多少公里？（ ）

- A. 500  
B. 600  
C. 700  
D. 800

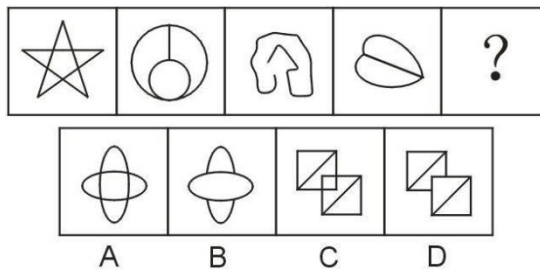
## 第四部分 判断推理

(共 35 题, 参考时限 35 分钟)


61. 从所给的四个选项中, 选择最合适的一个填入问号处, 使之呈现一定的规律性:



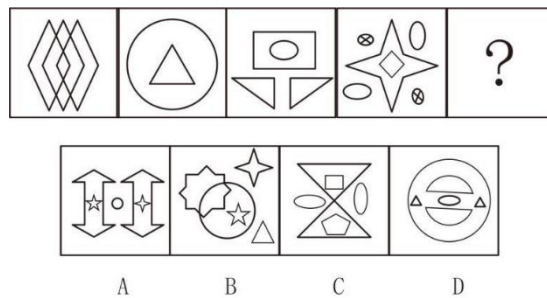
62. 从所给的四个选项中, 选择最合适的一个填入问号处, 使之呈现一定的规律性:



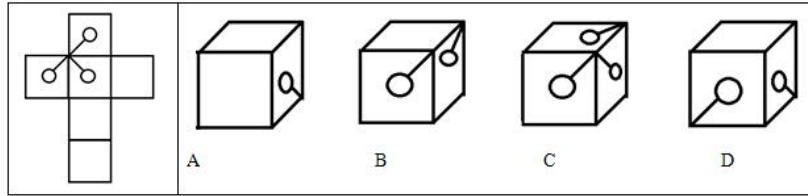
63. 从所给的四个选项中, 选择最合适的一个填入问号处, 使之呈现一定的规律性:



64. 从所给的四个选项中, 选择最合适的一个填入问号处, 使之呈现一定的规律性:



65. 以下是给定纸盒的外表面, 下列哪一项能由他折叠而成?



二、定义判断。每道题先给出定义，然后列出四种情况，要求你严格根据定义，从中选出一个最符合或最不符合该定义的答案。注意：假设这个定义是正确的，不容置疑的。

请开始答题：

66. 代币管理制就是用某种东西或标记来替代实物或权利，当期望行为出现时即给予一定数量的“标记”加以强化，期望行为坚持一段时间后再将“标记”按事前编制的激励系统转换成物质奖励。根据上述定义，下列选项不属于代币管理制的是：

- A. 幼儿园老师经常用小星星贴纸来鼓励表现好的孩子
- B. 某企业按员工每月接受表扬的次数，确定当月奖金
- C. 游戏规定优胜者可获得奖券，积累奖券可换取奖品
- D. 顾客在商场购物获得积分，年底用积分兑换打折卡

67. 社会学想象力：是一种特有的心智素质，它思考人们实际上需要的是什么以及人们感到自己所需要的是什么，它能帮助人们运用所了解的情况发展理性，以清醒地总结世界上正在进行和将要发生的事情。社会学的想象力是一种心智品质，这种品质可帮助他们利用信息增进理性，从而使他们看清世事，以及或许就发生在他们之间的事情的清晰全貌。社会学的想象力主张通过个人置身于所处时代及社会中，才能理解自己的经历并把握自己的命运。

根据上述定义，下列最不符合社会学想象力特征的是：

- A. 喝咖啡时，认为喝咖啡象征着一天工作的开始
- B. 喝咖啡时，认为咖啡代表是一种商品
- C. 喝咖啡时，认为咖啡会有政治问题
- D. 喝咖啡时，想起以前的恋人

68. 符号互动论，一种主张从人们互动着的个体的日常自然环境去研究人类群体生活的理论派别，又称象征相互作用论或符号互动主义。

根据上述定义，下列不属于符号互动论的是：

- A. 自我是在与他人的互动过程中逐渐获得的
- B. 把社会当作镜子，从中认识自我
- C. 小刘喜欢交朋友，总是主动与人搭讪

D. 打人耳光在不同的文化背景下意义是不一样的

69. 选民是指根据法律规定，享有选举权和被选举权的并被列入选民名单和持有选民证件的公民。

根据上述定义，下列可能属于选民的是：

- A. 17 岁的服装店店员张某
- B. 监狱服刑的政治犯王某
- C. 理发店的张师傅
- D. 因为某种原因没有选民证的何某

70. 感觉是指人脑对直接作用于感觉器官的客观事物的个别属性的反映。感觉是一种最简单的心理现象，是认识的起点。可以说感觉是一切知识和经验的基础，是人正常心理活动的必要条件。从感觉器官的角度来划分，分外部感觉和内部感觉。外部感觉是指感受外部刺激，反映外部事物个别属性的感觉；内部感觉是指感受内部刺激，反映机体内部变化的感觉。

下列不属于外部感觉的是：

- A. 视觉
- B. 听觉
- C. 味觉
- D. 运动觉

71. 舌尖现象是指熟悉的内容到了舌尖，只差一点，就是无法忆起。这种现象是由于大脑对记忆内容的暂时性抑制所造成的，这种抑制来自于多方面，比如对有关事物的其他部分特征的回忆掩盖了所要回忆的那部分特征，又比如回忆时的情境因素以及自身情绪因素的干扰等等，而消除了抑制，如经他人提示、离开回忆困难时的情境、消除紧张情绪等，舌尖现象往往就会消失。心理学上称这种特殊现象为记忆的“舌尖现象”。

下列不属于舌尖现象的是：

- A. 考试时，考生看到熟悉的题目绞尽脑汁也想不出学过的公式
- B. 戏剧演员在陌生的舞台上突然忘词
- C. 校庆时，小王遇到曾经暗恋的对象，但怎么也叫不出她的名字
- D. 小李晚上做了个噩梦，早上起来仍感觉很害怕，却记不得梦境的内容

72. 条件反射又称信号反射，是后天经过学习才能得到的反射，即所谓有意识学习得来的知识、技能、经验等。按大脑皮层的功能可以分为第一信号系统活动和第二信号系统活动。第

一信号系统是指用具体事物作为条件刺激而建立的条件反射系统；第二信号系统是指抽象的刺激，例如用语词作为条件刺激而建立的条件反射系统。

下列不属于第二信号系统的是：

- A. 谈虎色变
- B. 望梅止渴
- C. 望梅生津
- D. 红绿灯

73. 晕轮效应，又称“光环效应”，是指在人际相互作用过程中形成的一种夸大的社会印象，正如日、月的光辉，在云雾的作用下扩大到四周，形成一种光环作用。当认知者对一个人的某种特征形成好的印象后，他还倾向于据此推论该人其他方面的特征。本质上是一种以偏概全的认知上的偏误。

下列涉及晕轮效应的是：

- A. 我们对偶像明星在媒体上曝出的丑闻感到很惊讶
- B. 多年不见的朋友，在自己的脑海中的印象最深的，其实就是临别时的情景
- C. 孙权和刘备认为“浓眉掀鼻，黑面短髯”的庞统这样面貌丑陋之人不会有什么才能
- D. 人们一般认为工人豪爽，农民质朴，军人雷厉风行，知识分子文质彬彬，商人较为精明

74. 自然界有这样一种现象：当一株植物单独生长时，显得矮小、单调，而与众多同类植物一起生长时，则根深叶茂，生机盎然。人们把植物界中这种相互影响、相互促进的现象，称之为“共生效应”。事实上，我们人类群体中也存在“共生效应”。

下列运用了共生效应的是：

- A. 犀牛与犀牛鸟
- B. 入学摸底考试之后，学校把成绩排名靠前的学生挑出来组成了重点班
- C. 三人行，必有我师
- D. 三个臭皮匠赛过诸葛亮

75. 疑病观念是超价观念，是在一定现实基础上形成的，患者坚信不疑的错误观念。疑病妄想是内容荒谬的，患者坚信不疑的思维。

根据上述定义，下列哪项属于疑病观念？

- A. 王某见友人死于心肌梗塞，之后对自身轻微胸痛过分关注

- B. 林某认为自己是林黛玉的转世，早晚有一天也会抑郁而终  
C. 李某近半年以来感觉尿少、尿频，去医院检查，确诊患上了慢性肾炎  
D. 蒋某总觉得自己身体大不如前，所以近期开始定时晨练

三、类比推理。共 10 题，每道题先给出一组相关的词，要求你在备选答案中找出一组与之在逻辑关系上最为贴近、相似或匹配的词。

请开始答题：

76. 杨万里：《小池》

- A. 姜夔：《夜雨寄北》  
B. 杜甫：《行路难》  
C. 王安石：《泊船瓜洲》  
D. 苏轼：《念奴娇》

77. 夸父追日：女娲补天

- A. 开天辟地：愚公移山  
B. 精卫填海：农夫与蛇  
C. 牛郎织女：盘古开天  
D. 哪吒闹海：嫦娥奔月

78. 懊恼：捶胸顿足

- A. 高兴：眉飞色舞  
B. 悲伤：垂头丧气  
C. 失望：大喜过望  
D. 生气：撕心裂肺

79. 微信：电脑

- A. 股票：深交所  
B. 对讲机：公安系统  
C. 蓝牙：笔记本  
D. siri：iPhone4S

80. 立春：雨水：节气

- A. 跑步：竞走：体育运动  
B. 结婚：离婚：法律行为  
C. 欠债：借款：还款  
D. 暴雨：气象灾害：房屋倒塌

81. ( ) 对于 海啸 相当于 寒潮 对于 ( )

- A. 海洋 陆地  
B. 地震 霜冻  
C. 台风 浓雾  
D. 风暴潮 沙尘暴

82. 白天：黑夜：昼夜

- A. 春天：秋天：四季  
B. 暖流：寒流：洋流  
C. 阴：阳：五行  
D. 平原：地形：高原

83. 城管：警察：制服

- A. 鲤鱼：鳄鱼：动物  
B. 韩剧：美剧：电视剧  
C. 牛郎：织女：七夕  
D. 歌手：演员：明星





D. 二氧化钛进入大气层，后果未知，可能会整体上破坏大气层结构

88. 一个地区的经济发展需要满足三个条件：一是创新思维，二是区位优势，三是制度保障。目前东北三个条件全部满足。因此，有人认为东北的经济一定会发展起来。

下列哪一个选项在论证方式上与题干相同？

A. 任何未经秦始皇帝陵博物院授权使用秦始皇帝陵博物院、秦始皇兵马俑博物馆名称、注册商标的等行为，均构成侵权。某景区未经批准使用了秦始皇兵马俑博物馆名称，所以某景区构成了侵权

B. 如果回到了家乡，就应该好好享受春节期间在家的时光。甲在春节期间加班工作，所以他没办法享受春节在家的时光

C. 如果政府继续实施限购限贷的房地产政策，那么房价就会降低。目前某地房价降低了，所以某地一定实施了限购限贷的房地产政策

D. 只有雾霾指数达到红色预警，各中小学、幼儿园才能停课。某地当天的雾霾指数未达到红色预警，所以某地当天各中小学、幼儿园不能停课

89. 港媒称，马来西亚航空公司 MH370 客机失踪超过两年，至今仍然下落不明。美国女记者内格罗尼（Christine Negroni）日前推出新书，为客机失踪提供一个惊人的新理论，指可能是机长沙阿于飞行途中如厕，造成客机出现爆炸性失压，成为飞机失事的关键。

以上哪项如果为真，最能削弱女记者的观点？

A. 机长不仅中途去了厕所，而且还补充了一些食物和水分

B. 即使机长于飞行途中如厕，还有副机长来驾驶飞机，飞机也不会出事故

C. 机长如厕时，产生的废弃物导致飞机“爆炸性失压”

D. 在机长如厕的同时，驾驶舱的氧气系统亦出现问题造成副机长身体不适

90. 近年来，伴随互联网产业的迅猛发展，网络直播平台风生水起，只需一台电脑和一个账号，人人都可变成“直播车”，网络直播成了当下最热的创业“风口”。虽然网络直播平台因其即时直播、互动性强等特点备受年轻人喜爱，但粗口乱飞、网络主播衣着暴露等问题也频频发生。一些直播内容游走于法律与道德的边界。因此，很多专家建议要尽快出台网络直播相关法律。以下哪项最能加强上述结论？

A. 网络直播非常受年轻人欢迎，因此国家需大力发展网络直播

B. 网络直播平台已经出台了相关行业规范，对于网络平台的规范已经足够了

C. 网络平台光靠法律规范是不行的，还需要网红们的自律

D. 网络平台出现了很多违法直播行为，出台相关法律势在必行

一个柜台出售大、中、小三种型号的衬衫，每种衬衫只有红、黄、蓝三种颜色。小张在

这一柜台买了三件衬衫。型号和颜色相同的衬衫称为一样的衬衫；小张买的衬衫都不一样，并且没有都买大号和小号的衬衫，即如果买了大号，则没买小号。该柜台小号红衬衫和大号蓝衬衫断货。

91. 以下哪项一定为假？

- A. 小张买的衬衫中，2 件是小号，2 件是红色
- B. 小张买的衬衫中，2 件是中号，2 件是红色
- C. 小张买的衬衫中，2 件是大号，2 件是红色
- D. 小张买的衬衫中，2 件是小号，1 件是黄色，1 件是蓝色

92. 如果小张买了 1 件小号蓝衬衫，以下哪项一定为假？

- A. 小张买了 2 件蓝衬衫
- B. 小张买了 2 件红衬衫
- C. 小张买了 2 件黄衬衫
- D. 小张买了 2 件小号衬衫

93. 如果小张没买中号黄衬衫，以下哪项一定为真？

- A. 小张买了中号红衬衫或小号蓝衬衫
- B. 小张买了中号红衬衫或中号蓝衬衫
- C. 小张买了大号红衬衫或小号蓝衬衫
- D. 小张买了大号红衬衫或中号红衬衫

94. 在汉语和英语中，“塔”的发音是一样的，这是英语借用了汉语；“幽默”的发音也是一样的，这是汉语借用了英语。而在英语和姆巴拉拉语中，“狗”的发音也是一样的，但可以肯定，使用这两种语言的人交往只是近两个世纪的事，而姆巴拉拉语（包括“狗”的发音）的历史，几乎和英语一样古老。另外，这两种语言，属于完全不同的语系，没有任何亲缘关系。因此，不同的语言中出现意义和发音相同的词，并不一定是由于语言的相互借用，或是由于语言的亲缘关系所致。

以上论述必须假设以下哪项？

- A. 汉语和英语中，意义和发音相同的词都是相互借用的结果
- B. 除了英语和姆巴拉拉语以外，还有多种语言对“狗”有相同的发音
- C. 没有第三种语言从英语或姆巴拉拉语中借用“狗”一词
- D. 如果两种不同语系的语言中有的词发音相同，则使用这两种语言的人一定在某个时期

彼此接触过

95. 近年来, 某国家高等教育的学费急剧上涨, 其增长率几乎达到通货膨胀率的两倍。2010—2015 年中等家庭的收入提高了 82%, 而公立大学的学费的涨幅比家庭收入的涨幅几乎大了 3 倍, 私立院校的学费在家庭收入中所占的比例几乎是 2010 年的 2 倍。高等教育的费用已经令中产阶级家庭苦恼不堪。

以下除哪项外都进一步支持了上文的观点?

- A. 尽管 2010-2015 年间消费价格指数缓慢增长了 79%, 公立四年制大学的学费上涨了 244%
- B. 私立学校的学费上涨比公立学校慢, 从 2010 年到 2015 年上涨了 229%
- C. 政府对私立学校每个学生的补贴在学校收入中的比例在过去 5 年下降了 12%, 而同一时期, 学费在学校收入中所占比例上升了 8%
- D. 高教市场已开始显露竞争迹象, 几家学校已通过缩短攻读学位时间的办法来间接地降低学习费用

## 第五部分 资料分析

(共15题, 参考时限20分钟)

所给出的图、表、文字或综合性资料均有若干个问题要你回答。你应根据资料提供的信息进行分析、比较、计算和判断处理。

请开始答题:

一、根据以下资料, 回答 96-100 题。

2016 年 1-6 月我国全社会客货运输情况

指标	6月	同比增长(%)	1-6月累计	同比增长(%)
货运量合计(亿吨)	36.54	4.7	197.41	3.1
铁路(亿吨)	2.57	-6.3	15.75	-7.5
公路(亿吨)	28.47	6.0	151.94	4.4
水运(亿吨)	5.49	2.1	29.68	1.3
民航(亿吨)	53.61	8.0	313.27	4.0
货物周转量(亿吨公里)	15026.78	5.4	83417.87	0.6
铁路(亿吨公里)	1805.89	-4.9	11148.97	-7.5
公路(亿吨公里)	5198.67	6.2	27825.56	3.8
水运(亿吨公里)	8004.00	7.0	44338.99	0.2
民航(亿吨公里)	18.22	9.3	104.35	6.1
客运量合计(亿人)	15.06	-3.8	94.48	-2.7
铁路(亿人)	2.32	12.7	13.65	12.2
公路(亿人)	12.12	-6.9	77.23	-5.3
水运(亿人)	0.23	0.0	1.28	-0.6
民航(亿人)	0.38	12.5	2.32	10.8
旅客周转量合计(亿人公里)	2447.07	4.5	15319.73	3.6
铁路(亿人公里)	993.99	7.2	6180.70	6.0
公路(亿人公里)	791.78	-6.1	5135.89	-5.8
水运(亿人公里)	5.90	-2.1	32.71	-4.8
民航(亿人公里)	655.40	15.8	3970.43	14.5
沿海规模以上港口货物吞吐	6.80	0.0	40.09	1.7



增速(8.2%)。对照十二五规划要求的城镇人均可支配收入、农村居民纯收入目标增速8.5%和9%，而Z省2011-2013年年均增速分别为7.9%和8.8%，要如期完成十二五规划，后两年年均实际增速必须为9.3%，即高于2013年的2.2和1.2个百分点，也高于十二五规划前三年实际增速的1.4和0.5个百分点，实现目标难度加大。

101. 2012年Z省城乡居民收入实际增速相比( )。
- A. 高0.4个百分点  
B. 低0.4个百分点  
C. 高0.4%  
D. 低0.4%
102. 2013年下列省份城乡收入之比差距排序正确的是( )。
- A. 江苏>广东>山东  
B. 广东>福建>重庆  
C. 福建>江苏>北京  
D. 山东<全国<河南
103. 2011年Z省农村居民人均纯收入增速为( )。
- A. 8.5%  
B. 8.8%  
C. 9.5%  
D. 10.2%
104. 扣除价格因素影响，2013年Z省城镇居民人均可支配收入较上年增加( )。
- A. 2000元  
B. 2500元  
C. 3000元  
D. 3500元
105. 根据材料，以下说法一定正确的是( )。
- A. 到十二五末期，Z省城镇人均可支配收入、农村居民纯收入目标增速无法达到预期目标  
B. 2013年全国城乡收入差距最小的是天津  
C. 北京、上海城镇居民可支配收入和农村收入之比均高于全国平均水平  
D. 2013年我国城乡居民收入差距绝对值约为18000元

**三、根据以下资料，回答106~110题。**

2013年我国城乡居民收入继续增加。全年农村居民人均纯收入8896元，比上年增长12.4%，扣除价格因素，实际增长9.3%；农村居民人均纯收入中位数为7907元，增长12.7%。城镇居民人均可支配收入26955元，比上年增长9.7%，扣除价格因素，实际增长7.0%；城镇居民人均可支配收入中位数为24200元，增长10.1%。

**图1 2009-2013年农村居民人均纯收入**

