

2018 年吉林省公务员考试模拟试卷（乙级）

《行政职业能力测验》

第一部分 常识判断

（共 20 题，参考时限 15 分钟）

常识判断部分主要考查考生的基本常识和基本经验。根据题目的要求，在四个选项中选出一个正确的答案。

请开始答题：

1. 2017 年 11 月 21 日，我国用长征六号运载火箭，成功发射（ ）视频 04、05、06 星，将增强星座观测能力，更好地促进遥感行业应用。

- A. 吉林一号 B. 吉林二号 C. 蛟龙一号 D. 东方红一号

2. 国务院日前同意自 2018 年起，将每年（ ）设立为“中国医师节”。

- A. 5 月 10 日 B. 8 月 19 日 C. 9 月 20 日 D. 10 月 16 日

3. 日前，国内顶距最长、断面最宽矩形管廊顶管工程在（ ）贯通。至此，这一被业内誉为“中国第一项”的顶管工程所有施工瓶颈成功攻克。

- A. 杭州 B. 广州 C. 苏州 D. 深圳

4. 下列被誉为细胞内供应能量的“动力工厂”的是（ ）。

- A. 线粒体 B. 叶绿体 C. 内质网 D. 核糖体

5. 下列关于晨昏线说法错误的是（ ）。

- A. 晨昏线平分地球，是过球心的平面与地球表面相交的大圆，永远平分赤道
B. 晨昏线所在平面始终与太阳光线垂直
C. 在二至日时，与经线圈重合
D. 晨线与昏线拐点处为 0 时或 12 时

6. 已由中华人民共和国第十二届全国人民代表大会常务委员会第三十次会议于 2017 年 11 月 4 日通过的《中华人民共和国刑法修正案（十）》，没有对下列哪项（ ）做相应修改。

- A. 国旗 B. 国徽 C. 国歌 D. 首都

7. 下列各项能够被核算在国内生产总值中的是（ ）。

- A. 拍卖《蒙娜丽莎》画像取得的收入 B. 理发店理发师为客人烫头发取得的收入
C. 出售二手房取得的收入 D. 出售股票取得的收入

8. 下列哪项（ ）不属于我国政府宏观调控的手段。

- A. 市场手段 B. 法律手段 C. 经济手段 D. 计划指导

9. 下列经济学名词与其含义对应正确的是（ ）。

- A. CPI——衡量消费者偏好 B. 恩格尔系数——衡量收入分配差距
C. 剩余价值率——资本家剥削工人的程度 D. GDP 平减指数——国民经济增长速度

10. 下列不属于“三百千”的著作是（ ）。
- A.《百家姓》 B.《三字经》 C.《千家诗》 D.《千字文》
11. 北宋初期是我国书院教育的高峰期，下列哪项不是“宋初四大书院”（ ）。
- A.岳麓书院 B.石鼓书院 C.白鹿洞书院 D.嵩阳书院
12. 下列历史事件中出现的口号按照时间先后顺序排列依次是（ ）。
- ①民主共和 ②自强求富 ③外争国权，内惩国贼 ④民主科学
- A. ①②③④ B. ②①③④ C. ①③④② D. ③①④②
13. 下列著名建筑与国家英国、法国、德国、意大利和美国对应正确的是（ ）。
- A. 圣保罗大教堂、凡尔赛宫、无忧宫、比萨斜塔、金门桥
B. 卢浮宫、巴黎圣母院、米兰大教堂、科洛塞竞技场、帝国大厦
C. 哈佛大学、米拉公寓、科隆大教堂、圣马可广场、自由女神像
D. 大本钟、巴士底狱遗址、宙斯神殿遗址、五角大楼、华盛顿独立纪念碑
14. 下列关于外国文学著作及其作者对应错误的一项是（ ）。
- A.《格列佛游记》——斯威夫特 B.《雾都孤儿》——狄更斯
C.《战争与和平》——列夫·托尔斯泰 D.《静静的顿河》——巴金
15. 下列古代代称和别称对应错误的一项是（ ）。
- A. 汗青——史书或完成的著作 B. 梨园——唱戏的地方
C. 吴钩——宝剑 D. 杏坛——医道
16. 下列不属于“四大民间传说”的是（ ）。
- A.《白蛇传》 B.《牛郎织女》 C.《女娲补天》 D.《孟姜女》
17. 下列诗句与人物对应错误的是（ ）。
- A. 已知天下三分鼎，犹竭人谋就出师。——诸葛亮
B. 刚正不阿，留得正气冲霄汉；幽愁发愤，著成信史照尘寰。——司马光
C. 犹留正气参天地，永剩丹心照古今。——文天祥
D. 四面湖山归眼底，万家忧乐在心头。——范仲淹
18. 下列不属于我国选举制度基本原则的是（ ）。
- A. 普遍性原则 B. 平等原则 C. 直接和间接选举并用原则 D. 公开投票原则
19. 下列哪种情形不用负刑事责任（ ）。
- A. 张某，13 周岁，将邻居家柴火垛点着致使邻居烧伤
B. 李某，14 周岁，携带匕首夺走路过一女士的铂金项链
C. 王某，15 周岁，强奸幼女
D. 薛某，16 周岁，将爆炸装置携带至火车站将其引爆
20. 下列不属于未成年人的法定监护人的是（ ）。
- A. 未成年人的父母 B. 未成年人的祖父母外祖父母
C. 未成年人父母所在单位 D. 居委会、村委会

※※※ 第一部分结束，请继续做第二部分！ ※※※

第二部分 言语理解与表达

(共 30 题, 参考时限 30 分钟)

本部分包括三种类型的试题:

一、选词填空: 共 10 题。请根据题意, 从所给的词语中选出最恰当的词语填入空格内, 从而使句子的意思表达的最准确。

请开始答题:

21. 语言是文化的一个重要组成部分, 因此重视汉语的教育与推广是传承和传播汉文化的关键。优良的汉语教育有助于维系_____, 传播优秀的中华优秀传统文化, 对于和谐社会建设也同样具有不可_____的作用。

填入划横线处最恰当的一项是 ()。

A. 民族风俗 低估 B. 民族情感 轻视 C. 文化认同 替代 D. 文化精神 缺少

22. 互联网的便捷与迅速让很多健康小贴士省略了科学求证过程, _____发布了出去。但是互联网的这种特性也可以让其成为传播正确、有效、科学的渠道。互联网自己也有_____功能, 可以缩短不科学言论的传播周期。

填入划横线处最恰当的一项是 ()。

A. 直接 自净 B. 随意 反省 C. 广泛 修正 D. 轻松 过滤

23. 对于研究学问, 我们应该要对所提出的问题, 先是_____地搜集相关材料, 之后_____地分析论证, 在论证的基础上进行总结, 最后才能得到最深刻的认识。

填入划横线处最恰当的一项是 ()。

A. 谨慎 抽丝剥茧 B. 全面 独出心裁 C. 广泛 条分缕析 D. 仔细 分门别类

24. 优秀的音乐制作文化可以_____正能量的时代精神, 然而过度的以钱为_____的音乐制作, 不仅不利于提升国民素养, 更严重的是, _____的是文化事业的健康发展。

依次填入句中划线处最恰当的一组词语是 ()。

A. 构筑 导向 戕害 B. 建筑 指导 侵害
C. 营筑 指标 妨害 D. 创造 趋向 祸害

25. (1) 小战士在_____的马棚里照顾白天受惊的那匹马。

(2) 路在自己脚下, 不要太在意其他人对于自己走路状态的_____, 否则你走不快。

(3) 那个最熟悉的路灯, 淡化在_____的夜色中。

依次填入句中划线处最恰当的一组词语是 ()。

A. 阴暗 评价 无尽 B. 昏暗 批评 无垠
C. 阴暗 批评 无尽 D. 昏暗 评价 无垠

26.填入下列横线处的词语，最恰当的是（ ）。

在创新的过程中，只要是合法合规、能创造效益、能推动创新发展，都是我们能够使用的方法，均应该_____、大胆使用。

- A.不遗余力 B.不拘一格 C.不落窠臼 D.不折不扣

27.以反腐为题材的电视剧《人民的名义》播出后，取得了很高的收视率，同时也收获了观众的一致好评，最主要的是因为这部剧所选取的题材令人_____。

依次填入句中划线处最恰当的一组词语是（ ）。

- A.侧目 B.瞩目 C.瞠目 D.刮目

28.依次填入下面文字横线处的词语，最恰当的是（ ）。

现实证明，我国优秀的传统文化并没有因为改革开放而异化或者_____，相反，我们能够看到文化力量在经济发展中愈发的_____，并且成为我国的重要实力之一。

- A.衰退 显现 B.衰退 凸显 C.式微 显现 D.式微 凸显

29.依次填入下面文字横线处的词语，最恰当的是（ ）。

当下，电信诈骗者可谓是_____，使得人民群众_____。因此，政府加大宣传是解决这一问题_____的关键。

- A.殚精竭虑 防不胜防 迫不及待 B.殚精竭虑 谈虎色变 迫不及待
C.挖空心思 防不胜防 刻不容缓 D.挖空心思 谈虎色变 刻不容缓

30.“问题”学生的“问题”并不是与生俱来的，性格有_____，可能是受不当的教育和不良环境的影响。只要_____，这些“问题”学生的“问题”都能迎刃而解。

依次填入下面文字横线处的词语，最恰当的一组是（ ）。

- A.缺陷 合理引导 B.偏差 认真教导
C.缺陷 教育得当 D.偏差 循循善诱

二、阅读理解：共 20 题。请根据题目要求，在四个选项中选出一个最恰当的答案。

请开始答题：

31.“双 11”映照社会运行机制的“健康度”，也度量着治理体系和治理能力现代化的水位。消费者翘首以待，_____；商家扩大促销时段，灵活安排预售分流压力；快递公司纷纷“招兵买马”，投入智能设备提高效能；多部门整治市场乱象，及时发布消费警示。

填入横线部分最恰当的一项是（ ）。

- A.简化自身销售体系 B.采用多种渠道来获取同行业的市场信息
C.利用广告价格竞争来获取消费者信任 D.提前将心仪产品加入“购物车”

32.从人之常情来讲，孩童时期、青春期或者说越是年轻时期形成的友谊，尽管不一定都靠得住，但它们靠得住的概率的确更大。尤其对于相对上流阶层的子弟来说，更是如此。因为，他们之间的交往更多的是共赢，而不是中层的攀比，以及下层的倾轧和嫉妒。

这段文字旨在说明（ ）。

- A.对于相对上流阶层的子弟来说，年轻时形成的友谊靠得住的概率更大
- B.相对上流阶层的子弟之间的交往更多的是共赢
- C.孩童时期形成的友谊靠得住的概率最大
- D.孩童时期的友谊对于以后孩子的性格塑造起着关键作用

33.精准扶贫好比“改大水漫灌为滴灌，搞测土配方施肥”，让弱苗、病苗也能丰产。

然而，“贫有百样，困有千种”，如果头脑发热，工作不深不细，不做长远打算就上马扶贫项目，难以调动群众的积极性，还容易导致资源浪费，增加贫困群众负担。正是出于这种考虑，云南省委主要领导近期在扶贫调研中强调：“脱贫攻坚不能头脑发热脱离实际建新房，特别要坚决防止贫困户因此大量举债，造成新的贫困。”

文段中的“这种考虑”指代的是（ ）。

- A.精准扶贫好比“改大水漫灌为滴灌，搞测土配方施肥”，让弱苗、病苗也能丰产
- B.脱贫攻坚不能头脑发热脱离实际建新房
- C.脱贫攻坚要坚决防止贫困户因此大量举债，造成新的贫困
- D.头脑发热，工作不深不细，不做长远打算就上马扶贫项目

34.emoji、表情包俨然成为年轻人的一种新语言。对此，很多人持积极的态度，认为表情包极大丰富了叙事的功能。但也有人持不同意见。表情包重度依赖者就曾这样反躬自省，正因为对表情包太依赖了，我们所有的情绪，开心、亢奋、激动、愤怒、绝望、无助、失望、恐惧都用表情包替代了，以至于我们越来越不会说话了。

作者对于表情包的态度是（ ）。

- A.肯定
- B.否定
- C.肯中有否
- D.作者未作出评价

35.即使不从事经营活动，不正当的竞争也会损害消费者的权益。张金平指出，新法将让市场竞争行为更加规范、更有秩序，普通人在市场中购买商品、享受服务时能够更加放心、更加省心。比如，通过加强对混淆行为、虚假宣传和有奖销售的打击，可以进一步防止人们买到假货，少花冤枉钱；通过增设互联网不正当竞争条款，能让消费者获得更好的互联网体验和更多的选择。

对上述文段的概括最准确的一项是（ ）。

- A.新法将让市场竞争行为更加规范、更有秩序
- B.即使不从事经营活动，不正当的竞争也会损害消费者的权益
- C.增设互联网不正当竞争条款，能让消费者获得更好的互联网体验
- D.美国和德国采纳了消费者集体诉讼，对于不诚信的经营者具有震慑作用

36.代表“诗和远方”的旅行，日渐成为中国人的新生活时尚。许多人都将“努力工作→财务自由→环游世界”设定为自己人生的“三步走”战略规划，旅行似乎已经成为社会成功人士的“标配”。然而对大多数人来说，旅行的意义不仅在于可以通过“逛吃逛吃”让自己得到休闲娱乐，更重要的是还可以让自己那停止更新很长时间的朋友圈突然间“复活”，拍照—挑选—修图—晒图，一张自然的“照片”经过无数道工序打磨之后配上地理定位，完成了“旅游打卡”，也生成了一个“高格调”的朋友圈。

这段文字旨在说明：()。

- A.旅行似乎已经成为社会成功人士的“标配”
- B.旅行的意义在于可以让自己停止更新的朋友圈突然复活
- C.代表“诗和远方”的旅行，日渐成为中国人的新生活时尚
- D.旅行的意义在于可以通过“逛吃逛吃”让自己得到休闲娱乐

37.“第四次单身潮”自新千禧年以来一直弥漫至今。类似2·14、5·20、“七夕”、“双十一”这样的“情人节”越来越多，但无法“脱单”的年轻人在中国也越来越多。

有一部人在求爱大作战中是因对方的高物质要求而被阻挡在“围城”门外；还有一部分人无法“脱单”则是被一种看起来虚无缥缈的东西——“爱的感觉”所牵绊，“爱的感觉”表面上是婚恋过程中一种纯粹的精神感受，实际上却是“格调”所代表的各种社会稀缺资源堆积起来的综合观感。

对这段文字概括最准确的一项是()。

- A.无法“脱单”的年轻人在中国也越来越多
- B.“爱的感觉”实际上是“格调”所代表的各种社会稀缺资源堆积起来
- C.一部人在求爱大作战中是因对方的高物质要求而被阻挡在“围城”门外
- D.一部分人无法“脱单”则是被“爱的感觉”所牵绊

38.在智能时代，今天80%以上的岗位都或许不存在了。但是，围绕人类基本需求的行业都不会消失。只是人在这些行业中的作用不再是一般性劳动，而是创意创造性工作。也就是说，每个行业只需要极少数顶尖的人才。这样的人才不光要“专”还必须“通”。就是像蜜蜂一般，博采众花而专注于酿蜜。

这段文字意在表达：()。

- A.人在行业中进行着创意创造性工作
- B.每个行业只需要极少数顶尖的人才
- C.在智能时代，今天80%以上的岗位都或许不存在了
- D.蜜蜂博采众花而专注于酿蜜

39.在战后的剑桥大学里，科学家们一边品尝美味佳肴，一边唇枪舌剑。图灵和维特根斯坦分别作为辩论主题的正方和反方，前者坚信人脑只是一个复杂的计算系统，技术的发展终将使机器模拟人脑思维成为可能；而后者坚持认为人类思维活动极其复杂，人类思维和语言都带有明显的社会性，不可能为人类之外的任何东西所理解。

对上述文字理解最准确的一项是()。

- A.维特根斯坦坚信技术的发展终将使机器模拟人脑思维成为可能
- B.图灵认为人类思维和语言都带有明显的社会性
- C.图灵和维特根斯坦分别作为辩论主题的正方和反方
- D.在战后的牛津大学里，科学家们一边品尝美味佳肴，一边唇枪舌剑

40.“赛博朋克”(Cyberpunk)发轫于上世纪80年代，得益于侦探小说、黑色电影和后现代主义哲学，和以往的“太空歌剧”拉大时空的尺度不同，前者更多关注资本的全球化、政府的腐败以及阶级的分化。它的定义是：科幻小说的一个分支，以计算机或信息技术为主题，表现社会秩序高度管控下薄弱环节的突破。

下列选项与作者原意相符的一项是（ ）。

- A. “赛博朋克”得益于侦探小说、黑色电影
- B. 以往的“太空歌剧”更多关注资本的全球化、政府的腐败以及阶级的分化
- C. “赛博朋克”以计算机或信息技术为主题
- D. “赛博朋克”起源于上世纪 90 年代

41. ①其实，婚姻固然要谈感情，但也是一次资产的大重组

②因为股价暴跌，那只是浮亏，没有变成真正的亏损，而止损抛售，则亏损马上变成现实了。这就是“损失厌恶”

③简单来说，就是人们担心“损失”变成真的，所以不愿意它发生，希望推迟或者阻止它的发生。但是，最后它依然会发生

④一个简单的例子是，股民总是舍不得止损，越亏越多，输得精光。为什么

⑤关于“恐婚”，首先，你必须弄清行为金融学的一个概念——损失厌恶（Loss aversion），这个概念我之前的文章中已经提到过很多次

⑥幸运的人，通过重组会资产增值，而倒霉的人，资产会减记

对以上 6 个句子排序正确的一项是（ ）。

- A. ⑤③④②①⑥
- B. ⑤③②④①⑥
- C. ①④⑤③②⑥
- D. ①④⑤②③⑥

42. ①一档《辉煌中国》电视纪录片，让“厉害了，我的国”成了不少人的口头禅。“砥砺奋进的五年”大型成就展，让人流连忘返，引来无数点赞。由此不禁想到国运这个话题

②这就是人心，就是民心，就是国运兴盛的折射

③今年 3 月，世界知名咨询公司益普索集团发布了对 25 个国家 1.8 万人的调查报告，数据显示中国人对未来最乐观

④大家拧成一股绳，心往一处想、劲往一处使，爱这个国家，愿为这个国家撸起袖子加油干

⑤今天的中国，人们为改革发展而欢呼，为反腐成绩而叫好，为科技进步而击掌

⑥国之运在民之心

对以上 6 个句子排序正确的一项是（ ）。

- A. ②①⑥④③⑤
- B. ②⑥④①③⑤
- C. ①③⑥⑤④②
- D. ①⑥③⑤④②

43. 让每一位老人都能老有所养、老有所依、老有所乐、老有所安，这种愿景如今已逐渐成为现实。养老保险覆盖超过 9 亿人，覆盖率超过 90%，世界上最大的社会保障安全网已梁柱稳立；基本养老保险水平与年俱增，养老保险制度并轨改革破冰前行；老年人权益保障法等新修订的法律法规，也为实现“儿女常回家看看”开辟了绿色通道。“独生子女护理假”已经在多个省区市从立法走向实践。家庭医生签约服务让众多老年人拥有了“健康守门人”，家庭医生签约服务已经覆盖了 4.3 亿人。

下列说法正确的一项是（ ）。

- A. 养老保险覆盖超过 10 亿人，覆盖率超过 90%
- B. 世界上最大的社会保障安全网仍未梁柱稳立
- C. “独生子女护理假”已经在多个省区市从立法走向实践
- D. 家庭医生签约服务已经覆盖了远不止 4.3 亿人

44.当前，住房租赁市场发展势头良好，但仍然松懈不得。一方面，大规模人口迁移的内驱动力没有削弱，让新市民住有所居，仍然是亟待解决的民生课题。另一方面，一些城市住房供给“重售轻租”的积弊仍然存在，住房租赁市场发育不充分、租赁关系不稳定、管理不规范、权益不清晰，买房成了新市民增加安全感、融入感、成功感的“华山一条路”。正因如此，培养住房租赁市场，加快建立多主体供给、多渠道保障、租购并举的住房制度是满足人民美好生活需要的民生工程，更是提高城市化质量的战略布局。

这段文字意在表明：（ ）。

- A.租赁市场要加快建立多主体供给、多渠道保障、租购并举的住房制度
- B.让新市民住有所居，仍然是亟待解决的民生课题
- C.一些城市住房供给“重售轻租”的积弊仍然存在
- D.租赁市场将会成为满足人民美好生活需要的民生工程

45.我们的存在方式正变得非常矛盾——_____。真正的矛盾之处在于，这种空前的孤立状态是一种后天状态，在先天上，人有社会结合的本能。

填入横线部分最恰当的一项是（ ）。

- A.你明明喜欢一件事情，却偏偏做了领悟一件事情
- B.这种矛盾对人们的日常生活产生了深刻的影响
- C.许多关键性的问题都出现在这个矛盾上
- D.无论你周围有多少人，你都像是孤身一人，身处旷野

阅读文章，回答 46-50 题

请开始答题：

这几天，“追逐藏羚羊”成为舆论焦点。“两辆外地牌号越野车在西藏追逐碾压藏羚羊”的消息一经爆出，就引来众怒；随后，警方控制了涉事 7 人并给予总计 105000 元的处罚。由此，事件暂告一段落，讨论还在继续。

_____。有人说，惩罚过轻；有人说，处罚过重。利弊之间的讨论不时地穿插其中，虽然认识各异，但是人们在这件事中也看到了保护野生动物的紧迫性和重要性。法律的归法律，依法处罚需要被尊重，同时更应该深思：如何看待“自然”？怎样做好“保护”？

近些年，亲近自然成了多数人的出行选择，但对自然的认识和敬畏显然还不够。就像“藏羚羊事件”中，开车追藏羚羊不过是想离它们更近一些、感受更强一些、拍照更酷一些，这代表了很多人的想法，只是自然生态本身并非“情愿”。理由很简单：一方面，藏羚羊被誉为“高原精灵”，天性胆小，作为珍稀野生动物，应该不被过度侵扰；另一方面，藏羚羊的栖息地多数位于相对脆弱的自然带，人类活动尤其是旅客过度介入，很容易造成破坏。从这个意义上说，亲近自然不意味着“过分追逐”，与自然的距离需要根据其承载能力来定，而非个人的好恶。

“大自然从来不欺骗我们，欺骗我们的永远是我们自己。”既然向往大自然，就应该悉心待之、用心待之、耐心待之。不能揣着明白装糊涂，毕竟国家早已严禁游客与珍稀濒危野生动物的近距离接触；也不能打着无知的幌子，事后的解释和悔意对造成伤害的自然生态也是无益。真正热爱自然的人，都会像保护眼睛和对待生命一样来保护自然、保护生态环境。

做好“保护”应该成为最大的启示。回顾过去的五年，生态文明建设提到了前所未有的战略高度，_____是水、地、林、草、山还是划定生态功能区，不管是治理污染还是修复生态，哪里可以开发、哪里应该保护，都变得异常清晰。五年来，生态文明建设顶层设计性质的“四梁八柱”日益完善，中国参与国际治理的“绿色贡献”_____，推进绿色生产方式和生活方式逐渐深入人心，“保护”与“建设”在生态环境领域从来没有停止过，也不应该有休止符。实际上，每个人的作为关乎了自然生态的品质，“美丽中国”需要众人齐心才能建设好，保护藏羚羊如此，珍惜每一滴水、每一寸土何尝不是如此？

“我们在生态环境方面欠账太多了，如果不从现在起就把这项工作紧紧抓起来，将来会付出更大的代价。”习近平总书记的谆谆告诫犹在耳畔。藏羚羊终究要在自然保护区内享受属于野生动物的那份自由，游客也不必炫耀自己的车技，当我们都把保护自然内化于心、外化于行时，才能绘好一幅绿水青山、江山如画的生态画卷。

46.填入第五段横线处最恰当的一项是（ ）

- A.即使 有目共睹 B.即使 任重道远 C.无论 有目共睹 D.无论 任重道远

47.填入第二段中最恰当的一句是（ ）

- A.对于自然，时刻应有一颗敬畏的心
B.因不当行为对藏羚羊造成了伤害，处罚在所难免
C.法律，是制止该行为的有力武器
D.保护藏羚羊是重中之重

48.下列说法错误的一项是（ ）

- A.我们在生态环境方面欠账太多了 B.亲近自然将成为多数人的出行选择
C.“美丽中国”需要众人齐心才能建设好 D.依法处罚需要被尊重

49.作者的主要观点是（ ）

- A.面对环境我们不应该选择沉默 B.法律是惩罚环境破坏行为的利器
C.追逐藏羚羊事件引人深思 D.保护环境需要每个人的“心动”和行动

50.第三自然段中加点的“这个意义”指的是（ ）

- A.亲近自然成了多数人的出行选择 B.自然生态本身并非“情愿”的理由
C.对自然的认识和敬畏显然还不够 D.向往大自然，就应该悉心待之

※※※ 第二部分结束，请继续做第三部分！※※※

第三部分 判断推理

(共 30 题, 参考时限 25 分钟)

本部分包括五种类型的试题:

一、图形推理: 共 5 题。请按每道题的答题要求作答。

请开始答题:

51. 从所给出的四个选项中, 选择最合适的一项填入问号, 使之呈现一定的规律性


()。



A B C D

52. 从所给出的四个选项中, 选择最合适的一项填入问号, 使之呈现一定的规律性

()。



A B C D

53. 把下面的六个图分成两类, 使每一类图形都有各自的共同特征或规律, 分类正确的一项是 ()。



①

②

③

④

⑤

⑥


A. ①②③; ④⑤⑥

B. ①④⑥; ②③⑤

C. ①③④; ②⑤⑥

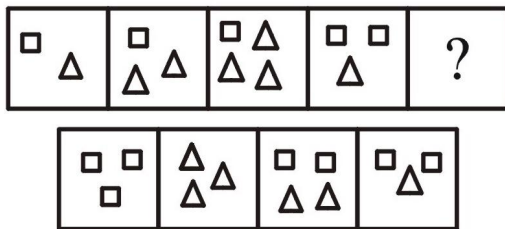
D. ①③⑤; ②④⑥

54. 从所给出的四个选项中，选择最合适的一项填入问号，使之呈现一定的规律性（ ）。



A B C D

55. 从所给出的四个选项中，选择最合适的一项填入问号，使之呈现一定的规律性（ ）。



A B C D

二、类比推理：共 5 题。每道题先给出一组相关的词，要求你在备选答案中找出一组与之在逻辑关系上最为贴近、相似或匹配的词。

请开始答题：

56. 大学：校长（ ）

- A. 公安局：警察
- C. 网咖：网管

- B. 法院：院长
- D. 消防队：交警

57. 莲花：纯洁：心灵（ ）

- A. 紫色：神秘：颜色
- C. 梅花：孤傲：品质

- B. 荷花：和睦：多子
- D. 绿灯：通行：信息

58. 冰箱对于（ ）相当于（ ）对于电风扇

- A. 冰柜 空调
- C. 家用电器 取暖器

- B. 保鲜 取暖
- D. 厨房 客厅

59. 功率：瓦特（ ）

- A. 电流强度：伏特
- C. 声波：卢比

- B. 品脱：体积
- D. 压强：帕斯卡

60.销售：批发：零售（ ）

A.招聘：培训：上岗

B.考试：笔试：面试

C.传销：直销：营销

D.自由行：穷游：跟团行

三、定义判断：共 5 题。每道题先给出定义，然后列出四种情况，要求你严格依据题目要求作答。注意：假设这个定义是正确的，不容置疑的。

请开始答题：

61.教育储蓄：是指个人为其子女接受非义务教育指九年义务教育之外的全日制高中和中专、大专和大学本科、硕士和博士研究生积蓄资金，每月固定存额，到期支取本息的一种定期储蓄。三个学习阶段可分别享受一次 2 万元教育储蓄的免税优惠。最低起存金额为 50 元，本金合计最高限额为 2 万元。存期分为一年、三年、六年。下列属于教育储蓄的是（ ）。

A.李某夫妇为其子女存的 1 万元的用于小学阶段的课后补习的费用

B.某企业为该地贫困学子定期资助的教育经费

C.小刘的母亲为其每月固定存入 1000 元，共计 1.5 万元用于小刘大学阶段的教育费用

D.国家对于贫困学子每年发放的贫困助学金

62.羊群效应：是指一群羊当中，头羊往哪里走，后面的羊就跟着往哪里走。羊群效应的出现一般在一个竞争激烈的行业上有一个领先者占据了主要的注意力，那么整个羊群就会不断摹仿这个领头羊的一举一动，领头羊到哪里去“吃草”，其他的羊也去哪里“吃草”下列不属于羊群效应的是（ ）。

A.当有一个人白天在大街上跑，结果大家也跟着跑，除了第一个人，大家都不知道奔跑的理由

B.在各大城市限制汽车消费的大背景下，不少消费者看到周围的朋友蠢蠢欲动，自己也按耐不住，导致一家多人摇号、未做好购车准备等问题层出不穷

C.在大学期间学生们经常是按照老师所讲的内容进行知识的总结和梳理，来应对测评考试

D.在资本市场上，某个有经验的投资者的投资方向会引起其他同类投资者的行动，在他买入时买入，在他卖出时卖出

63.网络暴力是行为主体的网络行为对当事人造成实质性伤害的网络失范现象。根据上述定义，下列选项属于网络暴力的是（ ）。

A.某非法传销团伙借助网络发展下线

B.某足球俱乐部球迷建立网站，丰富娱乐活动

C.某艺人喜欢在微博上爆料，提高自己微博的访问量

D.某选秀选手隐私在网上被曝光后，宣布放弃晋级机会

64.网络语言：是指产生并运用于网络的语言。网络语言是从网络中产生或应用于网络交流的一种语言，包括中英文字母、标点、符号、拼音、图标的文字等多种组合。部分网络语言并不符合我们现代汉语的语法规定，因此不具备教学意义，不引进教学领域。根据上述定义，下列不属于网络语言的是（ ）。

- A.QQ 聊天中经常用的“恐龙、美眉、囧男、东东”等词语
- B.BBS 里经常会出现的“潜水、楼主”等词语
- C.为了调动聊天时的气氛所产生的“酱紫啊！”等谐音语气词
- D.逻辑学当中的联言命题、假言命题等词语

65.海底地震:是地下岩石突然断裂而发生的急剧运动。下列选项中不属于由海底地震带来的危害的是（ ）。

- A.海啸
- B.地面裂缝
- C.气候干旱
- D.地面坍塌和喷水冒砂

四、逻辑推理：共 10 题。每道题给出一段陈述，这段陈述被假设是正确的，不容置疑的。要求你根据这段陈述选择一个答案。注意：正确的答案应与所给的陈述相符合，不需要任何附加说明，即可从陈述中直接推出。

请开始答题：

66.现在有甲、乙、丙三人，他们分别来自于中国、德国、法国。已知：丙的年龄比法国人的年龄大；甲的年龄和德国人的年龄不相同；德国人的年龄比乙的年龄小。

根据以上条件，下列对甲、乙、丙三人的身份判断正确的是（ ）

- A.甲是中国人，乙是法国人，丙是德国人
- B.甲是法国人，乙是中国人，丙是德国人
- C.甲是法国人，乙是德国人，丙是中国人
- D.甲是中国人，乙是德国人，丙是法国人

67.某教育局共有包括局长在内的 40 名员工，关于这 40 名员工，有以下三个判定，并且只有一个是真的：I 有人是博士毕业；II 有人不是博士毕业；III 局长不是博士毕业。

根据以上事实，下列哪项为真（ ）。

- A.40 名员工都是博士毕业
- B.40 名员工都不是博士毕业
- C.只有一人是博士毕业
- D.只有一人不是博士毕业

68.美国哈佛大学一项最新研究发现，不饱和脂肪对人体健康益处颇多，适当增加摄入量可有效降低死亡。和坚持摄入饱和脂肪的研究对象相比，食用不饱和脂肪的群体整体死亡率显著降低。

由此可以推出：（ ）。

- A.膳食中饱和脂肪含量高的人群癌症率较高
- B.摄入饱和脂肪的人群比摄入不饱和脂肪的人群死亡率高
- C.不饱和脂肪摄入较多的人群患癌症的概率较小
- D.饱和脂肪摄入者比不饱和脂肪摄入者不健康

69.甲、乙、丙、丁是来自不同国家的斯诺克运动员。已知，只有乙和丙会英语，能够说德语的运动员世界排名最高，甲只说法语但其世界排名次于丙，但甲的世界排名在四人中不是最差。

由此可知：()。

- A.球员甲成绩排名第三
- B.球员乙成绩排名第一
- C.球员丙成绩排名第四
- D.球员丁成绩排名第二

70.公司业务高峰期结束，领导和员工一起讨论旅游的事情。领导说：“今年业绩较好，我提议出省旅游，去云南或者上海”。员工一说：“我听说上海东方明珠特别值得看，我想去看看”。员工二说：“上海我以前去过了，我想去云南看看”。员工三说：“我觉得还是好好在家休息吧，大家都累了”。

如果最终有三个人的想法都落空了，最终公司去哪里了？()

- A.云南 B.上海 C.云南和上海 D.哪里都没去

71.在北京某大学运动会的赛事安排中，有四位运动员分别是甲、乙、丙、丁，四人参加的项目有跳高、乒乓球、排球。其中：

- I、参加跳高的只有丁。
- II、乙不和甲参加同一种项目。
- III、甲和另外某人参加同一种项目。
- IV、丙不参加乒乓球比赛。
- V、每人只参加一种项目。

从以上条件可以推出参加排球的是：()。

- A.丁
- B.乙
- C.甲和丙
- D.不确定

72.在中国经济转型升级、欧债危机复苏乏力的关键节点，李克强对俄罗斯的访问，或将开启两国经贸合作“升级版”的新征程。虽然中俄市场容量并不对称，但中国进口产品历来以精密仪器、机械等技术设备为主，俄罗斯同时为中国引进欧洲技术的最大来源国的合作特征，使两国经贸发展前景广阔。

根据这段文字，可以得出()。

- A.俄罗斯是全球工业的佼佼者
- B.此次对俄罗斯访问或将带动双边贸易上的双提升
- C.目前中俄双方已互为彼此在全球的最大贸易合作伙伴
- D.中国已成为俄罗斯的最大投资国

73.十九大报告提出“改革生态环境监管体系”。这几年，我们对生态环境的保护力度越来越大，对于破坏生态的处罚力度也越来越大。比如，甘肃祁连山环境破坏事件，就处

罚了很多人，力度很大。近期，中央环保的督察组到各个地方去督察，环保督察组所到之处，环境如果有问题的、做得不够好的，其压力一定很大。现在对各个地方环境考评往往依据2015年的环境状况。相比2015年，环境是改善了还是破坏了？这些评估手段对各级领导干部所起的作用越来越大。所以，综合十九大报告提出的理念和各方面的举措，生态文明建设一定会力度越来越大，效果越来越明显。我们一定能够在不太长的时间内真正达到建设美丽中国的目标。

以下选项中最能支持上述论证的是（ ）。

- A. 十九大提出的“改革生态环境监管体系”是民心所向
- B. 十九大中提出的问题，究竟对于环境是改善或是破坏，目前尚无定论
- C. 对于十九大中提出的问题，究竟何时落实尚不清楚
- D. 生态文明建设已经达到了新的高度，美丽中国已经近在咫尺

74. 广东省各级纪检监察机关将认真学习贯彻党的十九大精神，以更加强烈的使命担当忠诚履行党章赋予的监督执纪问责职责，高度重视人民群众对党员干部的监督，凡是群众反映强烈的问题都要严肃认真对待，凡是损害群众利益的行为都要坚决纠正。要进一步完善信访举报工作体制机制，不断畅通信访举报渠道，提升信访举报宣传质效，鼓励群众实名举报，引导群众理性、准确举报，着力营造良好有序的信访举报环境，推动全面从严治党向纵深发展，推动建设风清气正的政治生态。

由此可以推出（ ）。

- A. 凡是要坚决纠正的都是损害群众利益的行为
- B. 凡是要严肃认真对待的都是群众反应强烈的问题
- C. 只有良好有序的信访举报环境才能推动全面从严治党向纵深发展
- D. 有些需要严肃认真对待的问题是群众反应强烈的问题

75. 喝酸奶中的益生菌话题一直备受关注，近期全国营养科学大会的一篇学术讨论更为这个话题点了一把火，对立两方立场分明，支持方认为服用酸奶对人体益处大，反对方则认为服用酸奶并不能直接增加体内益生菌的含量。

以下哪项如果正确，最能削弱支持方的观点？（ ）

- A. 益生菌是人类日常饮食中常见的蛋白质之一
- B. 动物喝酸奶的实验证明其的确有效
- C. 摄入的益生菌与人体内的益生菌看似相似，实则大相径庭，人体内的益生菌是细胞合成的，与喝酸奶几乎无关
- D. 口服益生菌保健已经流行多年，喝酸奶的人很多

五、事件排序：共 5 题。每道题先给出五个事件。每个事件是以简短语句表达的，接着给出事件的四种假定发生顺序，请你选择其中最符合逻辑的一种排列顺序。

请开始答题：

76. 下列排序正确的是（ ）。

- (1) 积累素材时期
- (2) 写作时期
- (3) 构思或酝酿作品时期
- (4) 投稿审核时期
- (5) 出版发行时期

A. 1-4-2-3-5 B. 1-3-2-5-4 C. 3-1-2-5-4 D. 3-1-2-4-5

77. 下列排序正确的是（ ）。

- (1) 一只乌鸦坐在树上，整天无所事事
- (2) 兔子学乌鸦坐在树下休息
- (3) 兔子很羡慕乌鸦的悠闲
- (4) 狐狸跳向兔子，并把它给吃了
- (5) 突然，一只狐狸出现了

A. 1-3-2-4-5 B. 1-3-2-5-4 C. 3-2-1-5-4 D. 3-1-2-4-5

78. 下列排序正确的是（ ）。

- (1) 用筛子筛成细末
- (2) 茶饼放在火上烤炙，去掉水份
- (3) 放到开水中去煮
- (4) 用茶碾将茶饼碾碎成为粉末状态
- (5) 三沸后，茶汤舀进碗里饮用

A. 2-4-5-3-1 B. 2-4-1-3-5 C. 3-2-1-5-4 D. 3-1-2-4-5

79. 下列排序正确的是（ ）。

- (1) 发现屏幕内有水珠
- (2) 手机焕然一新
- (3) 手机不小心掉进水中
- (4) 去手机维修处修理
- (5) 捞出手机

A. 2-3-5-1-4 B. 2-4-1-3-5 C. 3-5-1-4-2 D. 3-1-2-4-5

80. 下列排序正确的是（ ）。

- (1) 计划年假一周安排
- (2) 决定去旅游
- (3) 获得休息批准
- (4) 出发去沙巴岛度假
- (5) 打算休年假

A. 1-3-5-2-4 B. 1-4-2-3-5 C. 5-3-1-4-2 D. 5-3-1-2-4

※※※ 第三部分结束，请继续做第四部分！※※※

第四部分 数量关系与资料分析

(共 20 题, 参考时限 20 分钟)

本部分包括两种类型的试题:

一、数量关系: 共 10 题。请你仔细观察数字规律及文字表达, 从四个选项中选出你认为最合理的一项来填补空缺, 或者充分利用所给条件, 寻找解决问题的捷径。

请开始答题:

81. 15, 9, 25, 16, 35, 25, 45, ()

A. 55 B. 36 C. 49 D. 38

82. 1, 22, 44, 69, 99, 136, ()

A. 196 B. 203 C. 175 D. 182

83. 4.01, 6.04, 10.07, 14.10, ()

A. 22.13 B. 24.13 C. 22.17 D. 24.17

84. 72, 36, 12, 3, $\frac{3}{5}$, ()

A. $\frac{1}{6}$ B. $\frac{1}{9}$ C. $\frac{1}{10}$ D. $\frac{2}{13}$

85. 2.5, 11, 45, 181, 725, ()

A. 2857 B. 2901 C. 2641 D. 2769

86. 甲、乙两人在长 90 米的泳池内游泳, 分别在游泳池的两端同时出发, 9 分钟时两人第四次相遇。已知甲每分钟比乙每秒钟多行 10 米, 则甲的速度是 () 米/分钟。

A. 50 米/分钟 B. 45 米/分钟 C. 40 米/分钟 D. 35 米/分钟

87. 一项工程, 甲、乙合作需要 42 小时, 甲、丙合作需要 35 小时, 乙、丙合作需要 30 小时, 甲、乙、丙三人共同完成该工程需 ()。

A. $23\frac{1}{2}$ 天 B. $23\frac{1}{3}$ 天 C. $24\frac{1}{2}$ 天 D. $24\frac{1}{3}$ 天

88. 以下哪个数字右边三位数是左边两位数的 7 倍, 且能够被 4 整数 ()。

A. 24168 B. 23161 C. 25175 D. 26184

89. 把 38 枚棋子放在 8 个不同的盒子中, 要求每个盒子都有棋子并且每个盒子装的棋子各不相同, 那么棋子最多的那个盒子最多有 () 个棋子。

A. 8 B. 9 C. 10 D. 11

90. 五年级共有 6 个班级, 其中一班 32 人, 二班 25 人, 三班 41 人, 四班 38 人, 五班 29 人, 六班 35 人, 若从中选出 2 人去参加演讲比赛, 这两个人都是二班的概率是 ()。

A. $\frac{1}{199}$ B. $\frac{2}{199}$ C. $\frac{3}{199}$ D. $\frac{4}{199}$

二、资料分析: 共 10 题。你应根据资料提供的信息进行分析、比较、计算、处理。
请开始答题:

根据下面资料回答 91-95 题。

2016 年 1-12 月累计，全国一般公共预算收入 159552 亿元，比上年增长 4.5%。其中，中央一般公共预算收入 72357 亿元，同比增长 4.7%；地方一般公共预算本级收入 87195 亿元，同比增长 4.2%。全国一般公共预算收入中的税收收入 130354 亿元，同比增长 4.3%；非税收入 29198 亿元，同比增长 5%。2016 年，国内增值税 40712 亿元，同比增长 30.9%，其中改征增值税增长 2.7 倍；营业税 11502 亿元，同比下降 40.4%。

考虑收入在税种间转移因素，将改征增值税与营业税合并计算，2016 年 1-12 月累计增长 5.4%，其中，1-5 月增长 36.6%；6-12 月下降 16.9%，主要受全面推开营改增试点的政策性减收影响。国内消费税 10217 亿元，同比下降 3.1%。主要受卷烟、成品油产销量下滑的影响。企业所得税 28850 亿元，同比增长 6.3%。其中，金融业企业所得税 8802 亿元，增长 2.7%；工业企业所得税 7329 亿元，下降 1.3%；房地产企业所得税 3641 亿元，增长 26.8%。

2016 年 1-12 月累计，全国一般公共预算支出 187841 亿元。分中央和地方看，中央一般公共预算本级支出 27404 亿元，同比增长 7.3%；地方财政用地方本级收入、中央税收返还和转移支付资金等安排的支出 160437 亿元，同比增长 6.2%。

2016 年，从主要支出项目情况看：教育支出 28056 亿元，增长 6.8%；科学技术支出 6568 亿元，增长 12%；文化体育与传媒支出 3165 亿元，增长 2.9%；社会保障和就业支出 21548 亿元，增长 13.3%；医疗卫生与计划生育支出 13154 亿元，增长 10%；城乡社区支出 18605 亿元，增长 17.1%；农林水支出 18442 亿元，增长 5.9%；住房保障支出 6682 亿元，增长 4.3%；债务付息支出 4991 亿元，增长 40.6%。

91.2015 年国内消费税为（ ）亿元。

- A.8737 B.9486 C.10543 D.10103

92.2016 年金融业企业所得税占企业所得税的比重为（ ）。

- A. 0.29 B. 0.31 C. 0.42 D. 0.48

93.2016 年，全国一般公共预算支出比上年增长（ ）。

- A. 7.8% B. 6.9% C. 6.4% D. 5.1%

94.2016 年，从主要支出项目情况看，以下哪类支出的同比增速最快（ ）。

- A.文化体育与传媒支出 B.社会保障和就业支出
C.医疗卫生与计划生育支出 D.城乡社区支出

95. 根据材料，以下说法正确的是（ ）。

- A. 2016 年非税收入增长 2108 亿元 B. 2015 年营业税 21096.8 亿元
C.2016 年国内消费税增速主要受粮油产销量下滑的影响
D.2016 年科学技术支出增长 704 亿元

根据下面资料回答 96-100 题：

2016 年 12 月份，社会消费品零售总额 31757 亿元，同比名义增长 10.9%。其中，限额以上单位消费品零售额 16945 亿元，增长 9.8%。2016 年全年，社会消费品零售总额 332316 亿元，比上年增长 10.4%。其中，限额以上单位消费品零售额 154286 亿元，增长 8.1%。

按经营单位所在地分，12 月份，城镇消费品零售额 27233 亿元，同比增长 10.9%；乡村消费品零售额 4524 亿元，增长 11.2%。2016 年全年，城镇消费品零售额 285814 亿元，比上年增长 10.4%；乡村消费品零售额 46503 亿元，增长 10.9%。

在商品零售中，12 月份，限额以上单位商品零售 15999 亿元，同比增长 10.0%。2016

年全年，限额以上单位商品零售 145073 亿元，比上年增长 8.3%。

2016 年全年，全国网上零售额 51556 亿元，比上年增长 26.2%。其中，实物商品网上零售额 41944 亿元，增长 25.6%；在实物商品网上零售额中，吃、穿和用类商品分别增长 28.5%、18.1%和 28.8%。

2016 年 12 月份商品零售总额主要数据				
指标	12 月		1-12 月	
	绝对量 (亿元)	同比增长 (%)	绝对量 (亿元)	同比增长 (%)
商品零售	28405	10.9	296518	10.4
其中：限额以上单位商品零售	15999	10.0	145073	8.3
粮油、食品类	1586	8.6	15055	10.9
饮料类	224	8.8	2175	10.5
烟酒类	465	11.0	4300	9.3
服装鞋帽、针纺织品	1629	7.1	14433	7.0
化妆品	227	11.0	2222	8.3
金银珠宝	323	4.8	2996	0.0
日用品	589	13.9	5467	11.4
家用电器和音像器材	979	9.5	9004	8.7
中西药品	857	9.1	8460	12.0
文化办公用品	379	15.3	3306	11.2
家具	300	9.9	2781	12.7
通讯器材	384	8.0	3894	11.9
石油及制品	1801	7.1	18697	1.2
汽车	4873	14.4	40372	10.1
建筑及装潢材料	392	10.2	3372	14.0

96. 2016 年 12 月份，社会消费品零售总额（ ）全年的平均水平。
 A. 低于 B. 等于 C. 高于 D. 不能确定
97. 2015 年乡村消费品零售额为（ ）亿元。
 A. 62198 B. 51365 C. 41932 D. 39803
98. 2016 年全年，实物商品网上零售额占社会消费品零售总额的比重为（ ）。
 A. 9.8% B. 12.6% C. 15.9% D. 19.6%
99. 2016 年 12 月，汽车零售额增长了（ ）亿元。
 A. 513 亿元 B. 586 亿元 C. 613 亿元 D. 709 亿元
100. 根据材料，以下说法正确的是（ ）。
 A. 2016 年 1-11 月份，社会消费品零售总额比上年增长 11%
 B. 2016 年限额以上单位商品零售增长了 16352 亿元
 C. 2016 年商品零售中增速最快的是家具
 D. 2016 年 12 月中西药品零售额超过全年的平均水平

※※※

全部测验到此结束！

※※※