



2018 工商银行春季校园招聘考试试卷

英语能力测试（题量 25 限时 15 分钟）

英语能力-选词填空（共 10 个小题）

1.The demand () will cause an incredible expansion of country.

- A. for housing
- B. to be housed
- C. for being housed
- D. to house

2.(), this simple gesture means five different things in five different Mediterranean countries.

- A. Because it seems astonishing that
- B. Astonishing though it may seem
- C. You will be astonished by
- D. Astonished is what it was

3.In the west of China, people plant row of trees to prevent the wind () the earth away.

- A. blowing
- B. to blow
- C. blows
- D. blew

4.She could have done just as well as you, () the chance.

- A. give
- B. giving
- C. to give
- D. given

5.Large number of state-run preschools were expediently closed down during the 1990s economic reform and in their stead, a variety of for-profit private preschools sprung () across



the country.

- A. by
- B. out
- C. in
- D. up

6. Henry's business is much worse than before, therefore, he has to () the expense of his corporation.

- A. cut into
- B. cut in
- C. cut down
- D. cut off

7. () his help, I passed this exam in the end.

- A. Setting down
- B. On all counts
- C. Thanks to
- D. Drawing up

8. As they had run out of sugar, they used honey as a(n) () for it.

- A. exchange
- B. assistance
- C. substitute
- D. preference

9. The company's production has been put on the right ().

- A. orbit
- B. course
- C. route
- D. track

10. In many parts of the country winter refuse to () its icy grip.

- A. unlock
- B. release

- C. unite
- D. free

英语能力-阅读理解（共 15 个小题）

Passage 1

American Airlines chairman and chief executive officer Gerard Arpey said Thursday that he is taking “personal responsibility” for the bad maintenance that has forced the carrier to cancel 3,000 flights this week for aircraft inspections.

MD-80s sat on the sidelines at Dallas/Fort Worth international Airport on Thursday, when American Airlines canceled more than 930 flights as inspections continued. The Fort Worth-based carrier has canceled 570 flights scheduled today.

“I run the company,” Mr.Arpey told reporters at an afternoon news conference, “so if there is any blame to be had, it is my fault, and I take full responsibility for this.”

American canceled more than 930 flights Thursday as its mechanics, quality assurance inspectors and engineers worked to ensure that the carrier’s fleet of 300 MD-80 jets would meet Federal Aviation Administration (FAA) regulations.

The Fort Worth-based carrier canceled 570 flights for today as well, and expects the disruptions to continue into the weekend, although an airline spokesman said Saturday’s cancellations should be fewer than today’s.

On Tuesday, American grounded its fleet of aging MD-80s, which have an average age of more than 18 years and include some past their 25th birthday, to redo checks of the wiring harnesses in the right wheel well of the jets-only two weeks after it had performed the same inspections.

The FAA has said in recent days that its enforcement hasn’t changed or become stricter. But Senator Kay Bailey Hutchison said airlines have told her they have noticed a difference.

“The standard is now being very, very rigidly enforced and leeway is being taken away.” Ms.Hutchison said: “I can’t say if it’s good or bad. But I know that it’s changed”

Today, the U.S. has five to eight aviation fatalities per 100 million people who fly each year, during the mid-1990s, it was about 45 deaths per 100 million people flown.



11. What situation is being reported in the passage?
- A. American Airlines is trying to meet the FAA regulations
 - B. American Airlines is canceling 570 flights today
 - C. American Airlines is blaming its CEO Gerard Arpey
 - D. American Airlines is making internal inspections
12. According to the passage, American Airlines ().
- A. is going to have a new chairman and CEO
 - B. only operates from Dallas/Fort Worth International Airport
 - C. is an airline that has 3000 MD-80 airplanes
 - D. is a company that is headquartered in Fort Worth, Dallas
13. The American Airlines has ().
- A. 570 airplanes
 - B. 930 different planes
 - C. 300 MD-80s
 - D. 3000 flights
14. The FAA and Senator Kay Balley Hutchison seem to disagree on ().
- A. the usefulness of the FAA regulations for airlines
 - B. whether the FAA standard is being taken away
 - C. whether FAA is enforcing its regulations too strictly
 - D. the total number of flights of American Airlines
15. The ultimate problem that prompted the grounding of the American Airlines fleet is that ().
- A. it has not done any inspections before
 - B. its airplanes are far too old to fly any more
 - C. it has not met the FAA maintenance standard
 - D. the fatality rate has doubled on the last 15 years

Passage 2

Elizabeth Btackwell was born in England in 1821, and moved to New York City when she was ten years old. One day she decided that she wanted to become a doctor. That was nearly



impossible for a woman in the middle of the nineteenth century. After writing many letters asking for admission (录取) to medical schools, she was finally accepted by a doctor in Philadelphia. She was so determined that she taught school and gave music lessons to get money for the cost of schooling.

In 1849, after graduation from medical school, she decided to further her education in Paris. She wanted to be a surgeon, but a serious eye problem forced her to give up the idea.

Upon returning to the United states, she found it difficult to start her own practice because she was a woman. By 1857 Elizabeth and her sister, also a doctor, along with another woman doctor, managed to open a new hospital, the first for women and children besides being the first woman physician and founding her own hospital, she also set up the first medical school for women.

16. Why couldn't Elizabeth Blackwell realize her dream of becoming a surgeon?

- A. A serious eye problem stopped her
- B. She decided to further her education in Paris
- C. It was difficult for her to start a practice in the United States
- D. She couldn't get admitted to medical school

17. What main obstacle (障碍) almost destroyed Elizabeth's chances for becoming for a doctor?

- A. She couldn't graduate from medical school
- B. She wrote too many letters
- C. She couldn't set up her hospital
- D. She was a woman

18. How many years passed between her graduation from medical school and the opening of her hospital?

- A. Nineteen years
- B. Ten years
- C. Thirty-six years
- D. Eight years

19. According to the passage, all of the following are "firsts" in the life of Elizabeth

Blacekwell, except that she ().

- A. and several other women founded the first hospital for women and children
- B. was the first woman doctor
- C. set up the first medical school for woman
- D. became the first woman physician

20.Elizabeth Blackwll spent most of her life in ().

- A. the United States
- B. Paris
- C. New York City
- D. England

Passage 3

Packing tips

- Mark your bags with a brightly colored string or ribbon to assist you in identifying your bag quickly carousel.

- For security reasons, ensure you pack your bags yourself and do not at any time leave them unattended. Never carry a package or baggage for someone else unless you have completely checked the contents.

- Never wrap or package gifts; security personnel may need to inspect them.

- Keep medication and fragile items in your carry-on baggage. Keep all medication in its original, labelled container and carry the physician's prescription with you.

- When you check your bags, make sure you get the correct number of luggage claim stubs and that each one is marked with the correct city name of your destination on your luggage tags.

- Malaysia Airlines advises that the following items may not be included in your baggage and liability is limited under the applicable international Convention for your damage or loss.

- cash, negotiable bonds, dee, etc

- jewelry, antiques or similar valuable items

- any item of a fragile or brittle nature (e.g. glassware)

- electrical/electronic items (e.g. computer, camera, mobile phone, audio equipment)

- food or any perishable item

-any item that has insufficient packaging (e.g. surfboard, bicycle, musical instrument)

21. According to the packing tips, what should you do in order to identify your luggage more quickly?

- A. Rush out to the baggage carousel
- B. Use a grey suitcase
- C. Head to the Lost & Found
- D. Mark with a brightly colored string

22. Which of the following items may NOT be included in your baggage advised by Malaysia Airlines?

- A. Papers
- B. Cash
- C. Plastic bottle
- D. Clothes

Passage 4

October 20, 2013

Mr. Eng Tan
10010 George Ave.
New York

Dear Mr. Chen,

As the president, I am proud to announce that this Friday marks the 50th anniversary of long and successful company. This, of course, calls for a night of celebration. And for this reason, we have reserved the Grand Hall at the Garden Hotel this Friday at 6 p.m. for a night of fine dining and dancing.

On this special evening, the food will be superb. I have had a chance to dine at the hotel several times in the past in other functions, and it was the food that convinced me to hold our event here. I am quite certain that all of our staff will share my

feeling. Anyhow, I am looking forward to this Friday when all of our staff can let loose and have some fun.

Therefore, this is a letter to officially invite you and your spouse or significant other to join us on this memorable evening.

Please let us know if you can't attend.

Yours Sincerely,

Jeff Connelly

23.What is the main purpose of this letter?

- A. To invite the staff to an upcoming event
- B. To welcome the newest staff to the company
- C. To notify the employees of a yearly meeting
- D. To provide information about the company's product

24.Which of the following will be part of the event?

- A. Product Release
- B. Dancing
- C. Presentations
- D. Discussions

25.According to Mr.Connelly, what led him to hold the event there?

- A. He was impressed with its menu
- B. The hotel is located close to the company
- C. He has special ties with the hotel staff
- D. It has become a tradition of the company



基础知识测试（题量 51 限时 30 分钟）

基础知识-时事政治（共 15 个小题）

1.当地时间 3 月 26 日下午，（ ）宣布外交抵制即将在俄罗斯举办的 2018 年世界杯。

- A.波兰
- B.丹麦
- C.冰岛
- D.瑞典

2.4 月 10 日，习近平主席在博鳌亚洲论坛开幕式演讲中指出：中国开放的大门不会关闭，只会越开越大。在扩大开放方面，中国将采取以下重大措施：（ ）。

- A.大幅度放宽市场准入
- B.创造更有吸引力的投资环境
- C.加强知识产权保护
- D.主动扩大进口

3.2018 年 4 月 2 日，“天宫一号”目标飞行器已再入大气层，再入落区位于南太平洋中部区域，绝大部分器件在再入大气层过程中烧蚀销毁。对此，下列说法不正确的是（ ）。

- A.天宫一号是中国首个目标飞行器和空间实验室，属于无人航天器
- B.天宫一号发射标志着中国迈入中国航天“三步走”战略的第二步第二阶段
- C.2011 年天宫一号与神舟八号配合圆满完成首次空间自主交会对接
- D.天宫一号是中国第一个目标飞行器，于 2011 在酒泉卫星发射中心发射

4.2018 年《政府工作报告》中提到“过去五年，中国特色大国外交全面推进”，具体体现在（ ）。

- A.成功举办首届“一带一路”国际合作高峰论坛
- B.习近平主席等国家领导人出访多国，出席联合国系列峰会、气候变化大会、世界经济论坛、东亚合作领导人系列会议

- C.二十国集团领导人杭州峰会
- D.亚太经济合作组织领导人非正式会议

5.我国自主研发的新一代喷气式大型客机 C919 在上海浦东机场首飞成功，这标志着中



国成为世界上少数几个拥有研发制造大型客机能力的国家之一。打破了少数制造商长期形成的高度垄断，在潜力巨大的民航客机市场占据了一席之地。

关于 C919，下列说法不正确的是（ ）。

- A.C919 不论是外形还是内部布局，都是中国自己设计完成的
- B.C919 是我国首款具有自主知识产权的大型喷气式民用飞机
- C.标志着中国将跻身少数能够自主制造大型客机的国家行列
- D.生产制造 C919 零件虽然耗时长，但都是国内自主研发制造

6.“坚守金融本源，把服务实体经济作为经营的根本”是中国工商银行 2017 年经营情况的主要特点之一，其具体表现在（ ）。

- A.主动对接“十三五”规划、“四大板块”“三个支撑带”及雄安新区建设
- B.全年境内分行实际新投放人民币贷款 2.3 万亿元，非信贷融资增量超过万亿元
- C.金融精准扶贫贷款余额 1270 亿元，涉农贷款余额近 1.9 万亿元
- D.全年清收处置不良贷款 1927 亿元，处置回收率持续提升

7.截至 2017 年末，中国工商银行（ ）手机银行客户达到 2.8 亿客户，（ ）即时通信平台客户达到 1.14 亿客户，（ ）电商平台交易额达到 1.03 亿万元。

- A.“融 e 购”“融 e 行”“融 e 联”
- B.“融 e 联”“融 e 行”“融 e 购”
- C.“融 e 行”“融 e 联”“融 e 购”
- D.“融 e 行”“融 e 购”“融 e 联”

8.2017 年，中国工商银行深化实施（ ）战略。全年个人客户净增近 3000 万，资产管理业务收入增长 8.6%，完成投资项目近 1500 个。

- A.大零售、大公司、大投行
- B.大公司、大资管、大机构
- C.大零售、大资管、大投行
- D.大公司、大资管、大投行

9.截至 2018 年 3 月，中国工商银行已成为全球网络覆盖最广的中资金融机构，境外网络遍及全球（ ）国家和地区，其中“一带一路”沿线（ ）个国家，境外机构总数达（ ）家。

- A.65，40，539



B.50, 30, 489

C.45, 20, 419

D.40, 15, 399

10.2017年，中国工商银行利润稳增长，实现净利润（ ）亿元（人民币），比上年增长（ ），保持全球银行业最好水平。

A.2875, 3%

B.4924, 3%

C.4924, 9.1%

D.2875, 9.1%

11.4月2日，中兴通讯官方宣布，与中国移动广东公司合作，在广州成功打通基于3GPP R15标准的国内第一个5G电话，正式开通端到端5G商用系统规模外场站点。

关于5G，下列说法不正确的是（ ）。

A.5G是让用户始终处于联网状态

B.5G指的是第五代移动通信技术

C.5G是4G技术的延伸和升级版

D.5G比4G网络传输速度快2倍

12.中共中央总书记、国家主席、中央军委主席习近平在出席十三届全国人大一次会议解放军和武警部队代表团全体会议时强调，实施（ ）战略是构建一体化国家战略体系和能力的必然选择，也是实现党在新时代的强军目标的必然选择。

A.军民共同发展

B.军民融合前进

C.军民共同前进

D.军民融合发展

13.国家统计局公布的国民经济运行数据显示，2017年，我国以（ ）为主线，推动结构优化、动力转换和质量提升，国民经济稳中向好、好于预期，中国经济正在迈向高质量发展阶段。

A.深入体制改革

B.深化结构性改革

C.经济改革



D.供给侧结构性改革

14.针对美国决定对进口（ ）产品采取限制措施，商务部有关负责人3月9日发表谈话称，美方这一措施是以安全为名，行贸易保护之实。

A.钢铁和铝

B.汽车

C.手机

D.矿产

15.曾经，中国古代四大发明极大推动了世界科技和文明的进步，让国人引以为傲。2017年5月，来自“一带一路”沿线的20国青年评选出了中国的“新四大发明”，这“新四大发明”指得是（ ）。

A.高铁、支付宝、杂交水稻、共享单车

B.高铁、支付宝、共享单车、网购

C.高铁、网购、人工合成牛胰岛素、汉字激光照排

D.杂交水稻、复方蒿甲醚、人工合成牛胰岛素、汉字激光照排

基础知识-专业知识（共36个小题）

16.张某驾车与李某发生碰撞，交警赶到现场后用数码相机拍摄了碰撞情况，后李某提起诉讼，要求张某赔偿损失，并向法院提交了一张光盘，内附交警拍摄的照片。该照片属于下列哪一种证据？（ ）

A.鉴定意见

B.书证

C.勘验笔录

D.电子数据

17.《证券法》第八条规定：“对规定在国家对证券发行、交易活动实行集中统一监督管理的前提下，依法设立证券业协会，实行自律性管理。”关于该条规定体现的证券法基本原则，下列哪一选项是正确的？（ ）

A.集中监管与行业自律相结合原则

B.平等、自愿、有偿、诚信原则

C.“三公原则”



D.保护投资者合法权益的原则

18.法律格言云：“不确定性在法律中受到非难，但极度的确定性反而有损确定性。”

对此，下列哪项说法不正确？（ ）

A.借助法律推理和法律解释，可提高法律的确定性

B.通过法律原则、概括条款，可增强法律的适应性

C.在法律允许有内容本身不确定，而是可以援引其他相关内容规定的规范

D.凡规定义务的，即属于极度确定的，凡规定权利的，即属于不确定的

19.关于合同的成立，下列哪一项是错误的？（ ）

A.合同自承诺生效时成立

B.采用合同书形式订立的合同，自双方当事人签字或者盖章时成立

C.未订立书面合同，当事人一方已履行主要义务但对方拒绝接受的，该合同依然成立

D.当事人采用信件形式订立合同，要求签订确认时，合同成立

20.根据我国《公司法》第 89 条规定，发行股份的股款缴足后，必须经依法设立的验资机构验资并出具证明。发起人应当自股款缴足之日起（ ）内主持召开公司创立大会。

A.十五日

B.三十日

C.十日

D.七日

21.第十三届全国人民代表大会第一次会议，2018 年 3 月 11 日表决通过了宪法修正案，确立了（ ）作为国家机构的宪法地位。这是以习近平同志为核心的党中央作出的重大决策部署，体现了党的主张和人民意志，为深化国家监察体制改革、强化党和国家自我监督提供了根本法保障。

A.督察委员会

B.监管委员会

C.监督委员会

D.监察委员会

22.纳米技术是用（ ）制造物质的科学技术。

A.单个原子、分子

B.分子的粒子性



C.原子分解性

D.分子的变异性

23.管理信息系统包括：信息的采集、信息的传递、信息的储存、（ ）、信息的维护和信息的使用六个方面。

A.信息的核查

B.信息的加工

C.信息的校验

D.信息的管理

24.信息安全的威胁不包括（ ）。

A.窃听

B.特洛伊木马

C.人员不慎

D.授权访问

25.人工智能的核心是（ ），是使计算机具有智能的根本途径，其应用遍及人工智能的各个领域，它主要使用归纳、综合而不是演绎。

A.模式识别

B.机器学习

C.神经网络

D.专家系统

26.据新华社报道，截至 2017 年底，部署在国家超级计算机天津中心的中国首台（ ）亿次超级计算机“天河一号”，每天在线任务量已经超过 1400 个，服务用户数量超过 1600 家，正处于饱和运行状态，这是欧美国家级超算都很难达到的规模。

A.十万

B.百万

C.千万

D.万万

27.云计算是基于互联网的相关服务的增加、使用和交付模式，通常涉及通过互联网来提供动态易扩散且经常是虚拟化的资源。下列关于云计算特点说法错误的是（ ）。

A.规模超大

- B.可靠性较高
- C.潜在的威胁性
- D.价格昂贵

28.与机器相比，大脑容量对思维有一定的限制作用。人类最多只能同时集中处理 3-4 件事情，而机器的处理能力是人类的几千倍。除了速度，在金融领域的其他方面，机器也将比人类表现得更好。以下属于机器学习的优势的有（ ）。

- (1) 可靠性
 - (2) 速度
 - (3) 安全
 - (4) 精度
- A. (1) (2) (3)
 - B. (2) (3) (4)
 - C. (1) (2) (3) (4)
 - D. (1) (3) (4)

29.根据个人投资者提供的风险承受水平、收益目标以及风格偏好等要求，运用一系列智能算法及投资组合优化等理论模型，为用户提供最终的投资参考，并对市场的动态对资产配置再平衡提供建议。这种新型的理财方式被称为（ ）。

- A.智能投顾
- B.机器人投资
- C.技术理财
- D.数据理财

30.2017 年 10 月 9 日，诺贝尔经济学奖授予美国经济学家理查德·塞勒。加登福斯介绍说，塞勒是将心理学与经济学相结合进行研究的先行者，他重点分析了有限理性，社会偏好和自制力缺乏三种心理活动的经济后果。理查德·塞勒的研究领域是（ ）。

- A.社会心理学
- B.微观经济学
- C.宏观经济学
- D.行为经济学

31.在我国的金融机构体系中，（ ）是主体。



- A. 保险公司
- B. 证券机构
- C. 商业银行
- D. 政策性银行

32. 在货币发行的《区块链：定义未来金融与经济新格局》一书中，将区块链分为三种类型，其中，仅仅使用区块链的总账技术进行记账，可以是一个公司，也可以是个人，独享该区块链的写入权限，本链与其他的分布式存储方案没有太大区别，这种区块链被称为（ ）。

- A. 公有区块链
- B. 联合区块链
- C. 私有区块链
- D. 行业区块链

33. 由经济中的内生变量引起，为适应某些现有产品或整个经济的开支的实际增加或预期增加而发生的投资，称为（ ）。

- A. 自发投资
- B. 自主投资
- C. 引致投资
- D. 重置投资

34. 十九大报告提出，今后三年要重点抓好决胜全面建成小康社会的三大攻坚战。其中，打好防范化解重大风险攻坚战，重点是防控（ ），坚决打击违法违规金融活动，加强薄弱环节监管制度建设。

- A. 货币风险
- B. 金融风险
- C. 市场风险
- D. 经济风险

35. 区块链作为一块新型的经济领域，受到了广泛的关注和追捧。以下哪一项并不是区块链的特征？（ ）

- A. 匿名性
- B. 广泛性



C.开放性

D.去中心化

36.在今年，党的十九大报告提出，“在中高端消费、创新引领、绿色低碳、共享经济、现代供应链、人力资本服务等领域培育新增长点、形成新动能”，并明确了6个新经济点。以下属于新增长点之一的是（ ）。

A.共享经济

B.无现金支付

C.市场经济

D.旅游经济

37.在今年的两会中，易纲表示，今年政府工作报告中讲的是广义货币 M2 和社会融资规模要合理增长。没有讲数量和指标，这也是一个新的变化。其中，M2 代表的意思是（ ）。

A.狭义货币

B.虚拟货币

C.广义货币

D.准货币

38.FinTech 是信息化时代的一个新的概念，即金融科技。随着人工智能、大数据等新技术的发展，金融业正被迅猛改变。以下哪一项技术，不是 FinTech 概念的技术之一？（ ）

A.智能投顾

B.机器学习

C.区块链

D.网上银行

39.我国社会主义市场经济不断走向成熟的重要标志之一是建立和完善（ ）。

A.个人信用体系

B.社会信用体系

C.企业信用体系

D.行业信用体系

40.机器学习已经开始被运用到金融领域的各个方面。根据客户的国籍、职业、薪酬、经验、行业、信用记录等信息来确定客户的基本情况，甚至是在向客户提供任何服务之前就进行此类评定。这种行为被称为（ ）。



A.风险评估

B.信贷评估

C.信息收集

D.信用评价

41.十九大召开以来，金融领域最受关注的莫过于十九大报告为中国金融市场发展指明了方向。以下哪一项，是十九大报告中对于深化金融体制改革的阐述之一？（ ）

A.三去一降一补

B.积极的财政政策和适度宽松的货币政策

C.增强金融服务实体经济能力

D.兼并--优势互补，提升行业集中度

42.根据《中华人民共和国商业银行法》规定，商业银行实行自主经营、自担风险、自负盈亏、自我约束。下列选项中，不属于商业银行经营原则的是（ ）。

A.安全性

B.流动性

C.效益性

D.独立性

43.银行业务创新的根本目的不包括（ ）。

A.创造出更多、更新的金融产品

B.更好的满足金融消费者和投资者日益增长的需求

C.直接拓宽业务领域

D.银行利润的最大化

44.根据《审计署关于内部审计工作的规定》，中国内部审计的对象不包含（ ）。

A.所属单位财务管理的咨询服务

B.本单位注册资金的验证

C.所属单位的会计账目

D.本部门的会计账目

45.《企业财务通则》规定，投资者的财务管理职责中，对经营者实施（ ）。

A.财务督导和财务指导

B.财务检查和财务分析



C.财务监督和财务考核

D.财务监察和财务控制

46.以文字和金额同时描述某一项交易或事项，使其金额反映在报表的合计数中的会计程序，称为（ ）。

A.报告

B.确认

C.计量

D.记录

47.会计计量属性是指会计对货币要素进行计量时的标准。以取得资产时实际发生的成本作为资产入账价值，称为（ ）。

A.可变现净值

B.重置成本

C.现值

D.历史成本

48.3月26日，中国（ ）期货登陆上海国际能源交易中心。这是我国第一个允许境外投资者直接参与的期货品种，中国用实际行动践行金融领域扩大开放的承诺。

A.天然气

B.原油

C.液化气

D.煤炭

49.在沟通过程中，最初发信者直接将信息同步辐射式发送到最终受信者，将这种沟通称为（ ）。

A.权威沟通

B.控制沟通

C.轮式沟通

D.辐射沟通

50.为贯彻落实国务院深化（ ）改革的决策部署，进一步方便纳税人办理税收业务，优化税收营商环境，按照《国家税务总局关于进一步深化税务系统（ ）改革 优化税收营商环境的若干意见》（税总发[2017]101号）的总体安排，税务局编制了《办税事项“最多跑一



次”清单》（以下简称《清单》），并予以发布。公告自 2018 年 4 月 1 日起施行。

- A.新枢纽
- B.放管服
- C.多快好
- D.减免省

51.在《上市公司发行可转换公司债券实施办法》中，规定了中国证监会不予核准其发行申请的情形，以下选项不符合规定的是（ ）。

- A.信息披露存在虚假记载、误导性陈述或重大遗漏的
- B.最近一次募集资金被擅自改变用途而未按规定加以纠正的
- C.最近一年内存在重大违法违规行为的
- D.成长性差，存在重大风险隐患的

综合能力测试（题量 70 限时 75 分钟）

综合能力-言语理解（共 10 个小题）

1.将以下 7 个句子重新排列组合：

- (1) 从超市买回一盘配好的菜，回到家直接下滑。
- (2) 自动炒菜机价格从 200 多元到 2000 多元不等。
- (3) 不用挥舞锅铲，也不用忍受烟熏。
- (4) 所谓的懒人机，其实是一台模拟人工烹饪的全自动机器，只要将准备好的主料、配料、作料全部一次性投入，设定程序后，就能自动烹饪。
- (5) 选择懒人机的用户，大多都是城市白领一族。
- (6) 5 分钟后，一盘色香味俱全的菜，就自动“炒”好了。
- (7) 他们平时工作忙，压力大，在外面吃饭又担心卫生问题，所以选择将做饭的差事交给机器。

排列组合最连贯的是（ ）。

- A.1-3-6-2-5-4-7
- B.1-3-6-4-2-5-7
- C.5-7-1-6-3-4-2



D.2-1-3-4-6-5-7

2.下列各句中无语病，句意明确的是（ ）。

A.由于该路段是我市第一座真正的下穿式立体交通系统，因此市民要特别注意该路段的交通标识，以便在该路段顺利通行。

B.根据无量山断裂带历史上记载的6级地震情况显示，这一区域在发生6级地震后，都有5级余震发生，最大强余震一般在3天内发生，百分之八十的情况是这样的，此次地震发生后，未来三天仍然需要注意防止5至6级地震的再次发生。

C.陕西检查组将于本月中旬前后来到郑州，展开商品房销售价格行为联合交叉检查。

D.因为工程项目施工周期相对较长，因而工程采购这一问题是一个漫长而复杂的过程，采购材料的送货批次、送货时间等都需要和工程进度计划协同进行，往往计划没有变化快，不可预见性的事情时有发生。

3.美国宇航局设计的新型空间飞船动力系统来源于斯特林发动机技术，该发动机发明于19世纪，采用了气体受热膨胀到降温压缩的原理进行对外做功，推动活塞运动。航天工程师们在新型引擎的开发上也使用了相同的原理，将1963年由洛斯阿拉莫斯国家实验室开发的“热管技术”进行技术创新，将其作为航天动力引擎的一部分。

这段文字主要告诉我们，新型空间飞船动力系统（ ）。

A.采用19世纪发动机技术

B.使用19世纪的发动机

C.使用新的航天动力引擎

D.于1963年由洛斯阿拉莫斯国家实验室开发

4.依次填入下列各句括号内的词语，与句意最贴切的一组是（ ）。

(1)这部电影从表演到音乐再到美术，都相当精良。尤其是电影里的金黄麦浪，视觉冲击力很强，充分（ ）出北方大地的美。

(2)高教授新著的这部围绕中华民族近代革命的历史著作最重要的启示实际上是告诉读者用怎样的（ ）对中华民族与东亚其他民族之间的关系、过去以及未来。

A.展现 心态

B.展现 姿态

C.展示 姿态

D.展示 心态



5.将以下 5 个句子重新排列组合：

(1) 农耕时代日出而作、日落而息的生活方式受到根本冲击。

(2) 不能否认电视对丰富人们的业余文化生活和娱乐消遣做出的贡献。

(3) 同样不能否认，电视在做出贡献的同时，也无情地掠夺了很多人的业余时间，使他们自觉不自觉地成为电视的奴隶。

(4) 电视的发明，极大地改变了人类生活。

(5) 一部分人放下青灯黄卷，坐到电视机前，另一部分人减少睡眠，成为电视粉丝。

排列组合最连贯的是（ ）。

A.1-5-2-3-4

B.4-1-5-2-3

C.1-5-4-2-3

D.4-5-1-3-2

6.可替换括号中词语的是（ ）。

这场演出得到了广大观众的好评，同时也见证了一个新时代的到来——流行音乐和行为艺术从未如此（珠联璧合）。

A.各得其宜

B.相互映衬

C.相辅相成

D.相得益彰

7.可替换括号中词语的是（ ）。

经济快速发展的背后（积聚）了太多的隐患，如不及时治理，会对未来的发展产生极大的负面影响。

A.集合

B.聚合

C.蕴积

D.集聚

8.下列各句中，没有语病且语意正确的一项是（ ）。

A.他的精神品质鼓动着一代又一代的中国人前进。

B.某市实施并制定新一轮房地产策略，以刺激低迷的楼市。



C.衡量旅游热衷度，除了人数这个标准之外，消费也是一项指数。

D.通过阅读这本小说，认识到最美好的生活是生活在爱中，小说的结局给女主人公安排的就是这样一种生活。

9.《全球创新指数》报告显示，2017年中国创新指数世界排名较5年前提高12位，再次成为中等收入经济体的_____。移动支付迅速普及，共享单车开始进入欧美，媒体融合走在世界前列，人工智能飞速前进——持续不断的新动能，_____中国一步步从“赶超”走向“引领”。

填入划横线处最恰当的一项是（ ）。

- A.领头羊 推动
- B.拓荒者 鞭策
- C.领导者 鼓励
- D.佼佼者 督促

10.升华法是一种心理困境自救法，它要求个体把负性心理激起的能量引导到对社会、对己都有利的方面，下列选项中不属于升华法的是（ ）。

- A.匡衡家境贫寒，于是凿壁借光，最终成为大学问家
- B.张骞出使西域，千辛万苦，完成使命，开通了丝绸之路
- C.居里夫人顶住丈夫去世的痛苦独自提取了镭
- D.司马迁命运坎坷进而编写《史记》

综合能力-数字运算（共15个小题）

11.一项工程，甲单独需要16天完成，乙单独需要10天完成，现在按照甲挖一天，乙代替甲挖两天，然后甲在代替乙挖一天……如此循环往复，要完成这项工程需要（ ）天。

- A.14
- B.13
- C.12
- D.11

12.甲要阅读一份产品技术材料，第一天已读的页数与未读的页数比是2:3，第二天读了21页后，已读页数同未读页数的比变为3:1。那么这份材料共有（ ）页。

- A.53



B.60

C.84

D.105

13.甲乙两名学生在 400 米的跑道上分别以各自速度匀速跑步，当两人都顺时针跑步时每 100 秒相遇一次，当两人中一位顺时针、一位逆时针绕跑道跑步时，每 20 秒相遇一次。那么，速度较快的学生的速度为（ ）米/秒。

A.10

B.12

C.9

D.8

14.从 1、3、4、6、9、12、12 中任意取出两个数相乘，得到的大小不等的积有（ ）个。

A.21

B.14

C.18

D.15

15.AB 两地位于一个周长 300 公里的环形公路上，货车甲和货车乙同时从同一点同向行驶，已知甲的时速是 60 公里，乙的时速 40 公里，那么，甲乙再次相遇时甲跑了（ ）圈。

A.6

B.8

C.3

D.5

16.国庆期间，某商场搞促销，每个人只能参与一次抽奖活动，已知抽奖规则为：某盒子里有编号为 6 的球 3 个，编号为 7 的球 6 个，编号为 8 的球 4 个，编号为 9 的球 5 个，每次可以从中拿出 2 个球，且拿出球中最小的编号为购物可以享受的优惠折数，则抽取一次可以享受的最高优惠的机会为（ ）。

A.16/51

B.17/26

C.15/16



D.13/48

17.妈妈今年 50 岁，女儿几年后年龄的两倍比妈妈到时候年龄的两倍小 60 岁，那么女儿今年（ ）岁。

A.22

B.21

C.23

D.20

18.某服装厂计划生产一批服装，日产该款型 150 套，按日期进度期限内只能完成订货的 90%；现进行技术改进，每天可生产 200 套，这样不仅比规定时间少用 1 天，还能够多生产 25 套，订做的服装是（ ）套。

A.1000

B.1125

C.1250

D.1500

19.有大、小两种车型，其中大车可乘坐 13 人，小车可乘坐 7 人，现有 73 个人，要同时出行。为了使每一辆车均满员，那么需要安排（ ）。

A.大车 2 辆，小车 7 辆

B.大车 4 辆，小车 3 辆

C.大车 3 辆，小车 6 辆

D.大车 1 辆，小车 8 辆

20.同底同高的三角形中，面积最大的是（ ）。

A.一样大。

B.正三角形

C.等腰三角形

D.直角三角形

21.【补】A 和 B 两个码头分别位于一条河的上游和下游，甲船从 A 码头到 B 码头需要 4 天，从 B 码头返回 A 码头需要 6 天，乙船在静水中的速度是甲船的一半。问乙船从 B 码头到 A 码头需要多少天（ ）。

A.6



B.7

C.12

D.16

22.【补】一串数字共 15 个，前 10 个的平均数是 23，后 10 个的平均数是 36，中间 5 个的平均数是 26，这 15 个数字的平均数是多少（ ）。

A.33

B.31.5

C.30

D.29

23.下列选项中一定能同时被 2，3，4，5 整除的数是（ ）。(其中 X 是小于 10 的自然数，Y 是 0)

A.XY6X3YXY

B.7XX1YXYY

C.2XX6YYXY

D.X1X5YXYY

24.地质工程专业有女生 9 人，比男生少 82 人，女生占全专业人数的比例是（ ）。

A.0.09

B.0.9%

C.0.09%

D.0.9

25.弹球从 100m 高处做初速度为 0 的自由落体运动，每次着地后再回到原高度的一半再自由下落。当球第 10 次着地时移动路程约为（ ）m。

A.300


B.200

C.100


D.50

综合能力-逻辑推理（共 20 个小题）

26.从不同的角度看下面的物体，不可能出现的平面图形是（ ）。



27.请在以下图形中仔细观察、寻找规律，并选出你认为最合适的选项 ()。



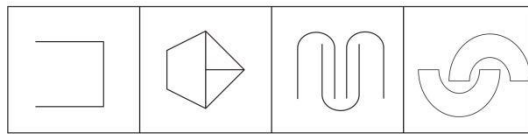

28.17, 10, 12, 3, 14, ()

- A.9
- B.-4
- C.3
- D.-6

29.23, 31, 37, 27, 34, 32, ()

- A.33
- B.30.5
- C.37.5
- D.16

30.【补】请从所给的四个选项中，选择最合适的一个填入问号处，使之呈现一定的规律性 ()。




A B C D

31.某公司部门经理查证宣传品问题的原因，员工甲说：“宣传品的责任在于市场部语言表述不周。”员工乙说：“制作部粗心大意把宣传品制作错了，责任不在市场部。”员工丙说：“如果宣传品的问题是市场部造成的，那么，制作部也有一定的责任。”员工丁说：“问题是由市场部造成的，制作部并没有违反规定，不应该承担责任。”甲乙丙丁四人中只有一人为真，则四人中，表述为真的是（ ）。

- A.丙
- B.乙
- C.丁
- D.甲

32.下面立方体展开后是（ ）。



33.如果刘敏能留校当大学老师，那么她一定出国留学过。

上述论断可以基于以下前提做出，除了（ ）。

- A.如果留校当大学老师，必须要求出国留学过



B.如果没有留过学，则不能留校当大学老师

C.如果没能留校当大学老师，那一定没有出国留学过

D.只有出国留学，才能留校当大学老师

34.张、王、李、赵四名员工针对周末加班一事发表了以下言论：

张：最近工作太多，周末所有人都加班；

王：肯定得有人来加班，要不工作完不成；

李：我家里有事，我不加班；

赵：工作也不是太多，不用所有人都来加班；

如果四个人中只有一个人的陈述属实，那么可以断定的是（ ）。

A.李说的属实，王加班

B.王说的属实，李加班

C.赵说的属实，李加班

D.张说的属实，李加班

35.今年大蒜销量好，收购价格相比去年猛涨3倍。然而，某一大蒜产地农民今年的收入较去年没有明显的上涨。导致上述现象产生可能是以下原因，除了（ ）。

A.该产地农民由于去年销量不好，今年没有种植大蒜

B.由于去年销量不好，该产地农民大量减少了大蒜的种植量

C.该产地农民除了大蒜的收入外，其他农作物收入较去年明显亏损

D.该产地农民将大蒜全部转卖给了收购点的中间商

36.《人民日报》刊发一篇评论文章，称04年以来149起因扶人引发纠纷的案件中“冒充好人的撞人者32例，诬陷扶人者84例”。所以（ ）。

A.并非所有摔倒的人都不能扶

B.诬陷扶人者的最终都会查出真相

C.所有的撞人者撞人后都冒充好人

D.因扶人引发纠纷的案件共149起

37.某一天黄爸爸回家，发现家中花瓶打碎了。于是问四个儿子黄飞鸿，黄飞煌，黄飞兰，黄飞虎是谁干的。黄飞鸿说：不是我打碎；黄飞兰说：是黄飞煌打碎的；黄飞煌说：是黄飞虎打碎的；黄飞虎说：不是我打碎的。如果四个孩子中只有一个人说了真话，则下列哪一项为真？（ ）

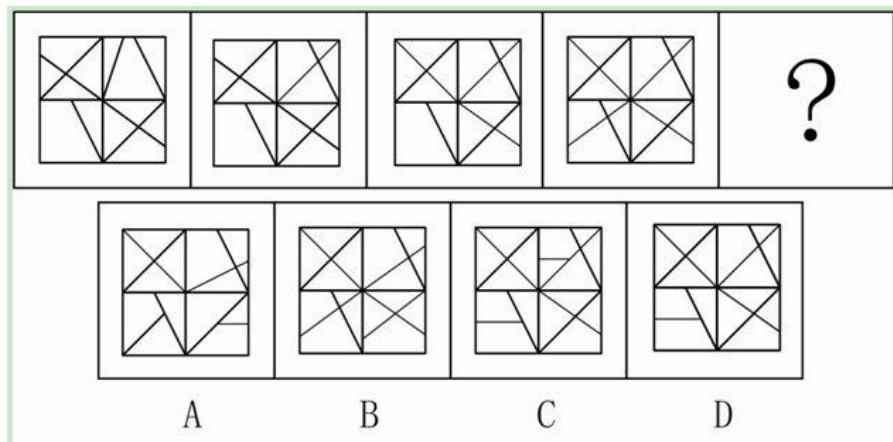
- A.黄飞兰说了假话，是黄飞兰打碎的
- B.黄飞煌说了真话，是黄飞虎打碎的
- C.黄飞鸿说了假话，是黄飞鸿打碎的
- D.黄飞鸿说了真话，是黄飞煌打碎的

38.在一次象棋比赛中，张世杰每走一步棋都要将棋子重重拍在棋盘上，声响巨大，干扰了比赛，因此裁判对其发出违规警告。张世杰反驳说，拍棋子是他多年来下棋的习惯动作，并不是故意干扰比赛，因此并不能算作违规。

以下哪一项能支持张世杰的反驳？（ ）

- A.在此次比赛中，对方选手经常击掌大笑，笑声巨大
- B.在此次比赛中，对方选手并没有对张世杰拍棋子提出反对和抗议
- C.在比赛中，只有故意行为才能算做干扰比赛违规行为
- D.以往有很多棋手都有下棋陋习，并没有算作干扰比赛违规

39.【补】请从所给的四个选项中，选择最合适的一个填入问号处，使之呈现一定的规律性（ ）。



40.某公安总队有 30 名干警。

- (1) 有些人是部队转业人员；
- (2) 总队领导不是部队专业人员；
- (3) 有些人不是部队转业人员。

上述三个判断中只有一个是真的。

以下哪项可以推出该单位部队转业人员的人数？（ ）

- A.只有一个人是部队转业人员
- B.30 人都不是部队转业人员



C.30 人都是部队转业人员

D.只有一个人不是部队转业人员

41.华山论剑之前，黄药师、欧阳锋、段智兴、洪七公、王重阳五人对武功名次进行猜测。黄药师说：“欧阳锋第一，段智兴第五。”欧阳锋说：“洪七公第五，王重阳第四。”段智兴说：“黄药师第一，洪七公第四。”洪七公说：“段智兴第一，欧阳峰第二。”王重阳说：“黄药师第三，洪七公第四。”已知本次论剑没有并列名次，并且每个名次都有人猜对了，则（ ）。

A.洪七公第一，段智兴第二，欧阳峰第三，王重阳第四，黄药师第五

B.欧阳锋第一，黄药师第二，段智兴第三，洪七公第四，王重阳第五

C.段智兴第一，欧阳锋第二，黄药师第三，王重阳第四，洪七公第五

D.段智兴第一，洪七公第二，黄药师第三，王重阳第四，欧阳锋第五

42.7, 11, 19, 29, 49, ()

A.81

B.69

C.77

D.79

43.唐三藏、孙悟空、猪悟能、沙悟净四人分别要去甲乙丙丁四个单位办证。已知甲单位周一不能接待，乙单位周三不接待，丙单位周四不接待，丁单位只有周二、四、六有人。周日四个单位都不办公。一天，他们议论起来哪天去办事。唐三藏说：“你们可别像我前天那样，在人家不接待的日子去。”孙悟空说：“我今天必须去，明天人家就不接待了。”猪悟能说：“我和猴哥正好相反，今天不能去，明天去。”沙悟净说：“我从今天起，连着四天去，哪天都行，哈哈。”则今天周几？（ ）

A.周四

B.周三

C.周二

D.周一

44.棉花极容易感染一种霉菌，从而使得棉桃凋落，从而减产。经过研究发现，把从霉菌中提取的基因植入易受感染的棉花基因内，可以使得该种棉花产生抗体，不易感染霉菌，从而大大降低棉桃的凋零率。



以下哪项为真，则最能削弱上述结论？（ ）

- A.实验证明，通过霉菌抗体的变异，棉花抵抗其他病毒的能力也得到了增强
- B.实验证明，植物通过基因变异后形成的抗霉菌能力可以传递给后代
- C.实验证明，转基因的棉花在抗病能力上优于未转基因的棉花，但其植株较大，水肥的消耗量大
- D.实验证明，如果在一块地上先种植抗霉菌较强的棉花，收获后再种植抗霉菌较弱的棉花，该棉花的产量会比平均产量高出很多

45. “我家狗狗并非既会握手又会捡球”

根据以上表述，下列哪项断定必然为真？（ ）

- A.我家狗狗既不会握手，也不会捡球
- B.如果我家狗狗不会握手，那么它一定会捡球
- C.如果我家狗狗会捡球，那么它一定不会握手
- D.我家狗狗会握手，但不会捡球

综合能力-思维策略（共 15 个小题）

46. $\frac{1}{1+\sqrt{3}} + \frac{1}{\sqrt{2}+\sqrt{4}} + \frac{1}{\sqrt{3}+\sqrt{5}} + \frac{1}{\sqrt{4}+\sqrt{6}} + \frac{1}{\sqrt{5}+\sqrt{7}} + \dots + \frac{1}{\sqrt{22}+\sqrt{24}} + \frac{1}{\sqrt{23}+\sqrt{25}} =$ （ ）

A. $1+\sqrt{2}$

B. $2+\sqrt{6}-\frac{\sqrt{2}}{2}$

C. $1+\sqrt{6}+\frac{\sqrt{2}}{2}$

D. $\frac{\sqrt{3}}{3}$

47.有一个四位数可以同时被 3，4，6 整除，且被这三个整除除尽时所得的三个商的和为 5643，这四位数中四个数字之和是（ ）。

- A.20
- B.19
- C.18
- D.16

48.A 接了一项工程，完成后可获得 9600 元并配送一台平板，A 因工作调整只完成 7/12

的工程，领取了 5100 元以及一台平板，这台平板值多少元？（ ）

- A.400
- B.800
- C.1200
- D.1600

49.改动算式“ $33+3+3-3=37$ ”中任何一个数字或符号，可以使等式成立，则以下改动不能使等式成立的是（ ）。

- A.33 中的个位数
- B.7
- C.+
- D.-

50. $2014+2014+2014+4024=$ （ ）

- A.10074
- B.10066
- C.10056
- D.10070

51. $1+4+9+16+25+36+49+\dots+400=$ （ ）

- A.2620
- B.2870
- C.2760
- D.2950

52.足球每块五边形的皮都与六边形的皮相连，而每个六边形的皮与三个五边形的皮和三个六边形的皮相连，一只足球需要用 32 块黑色、白色两种色的皮子交错缝制而成，已知缝制用的黑皮子是正六边形，白皮子是正五边形，该足球一共用的黑皮子和白皮子各是（ ）块。

- A.黑皮子 12 块，白皮子 20 块
- B.黑皮子 16 块，白皮子 16 块
- C.黑皮子 20 块，白皮子 12 块
- D.黑皮子 10 块，白皮子 22 块



53.小虎和小玉各有一些玻璃珠，小虎说：“你玻璃珠的个数比我少 $\frac{1}{4}$ ”，小玉说：“你要是能给我你的 $\frac{1}{6}$ ，我就比你多了 2 个了。”小虎原有玻璃球多少个？（ ）

- A.8
- B.12
- C.24
- D.48

54. $9876543.21+1234567.89+3546238.41+6274254.32=$ （ ）

- A.21034521.83
- B.22376782.83
- C.20931603.83
- D.19834782.83

55.有一个洒水车，每小时都会漏掉相同容积的水，如果用这个洒水车匀速冲洗 6Km 马路，4 小时即可用完水，如果匀速冲洗 4Km 马路，5 小时即可用完水，在 1 个小时内，这个洒水车漏掉的水可匀速冲洗多长的马路？（ ）

- A.6Km
- B.5Km
- C.8Km
- D.4Km

56.将 24 颗棋子排列成 6 列，每列 5 颗棋子，则可以摆成什么形状？（ ）

- A.五边形
- B.正方形
- C.六边形
- D.三角形

57.冲洗照片后，1 张照片需要 2 只夹子风干，2 张照片需要 3 只夹子风干，6 张照片至少需要用多少只夹子？（ ）

- A.10
- B.9
- C.8
- D.7



58.某部门将 21000 元考核奖金分给 5 名员工，每名员工都能分到奖金，且每人分到的奖金数目按照考核成绩的不同而各不相同，考核成绩最高的员工，至少能分到（ ）元。

（每人分到的奖金数为精确到千位的整数）

- A.7000
- B.6200
- C.8000
- D.6000

59.江边仅有一只船，每次只能载 5 人，现有 41 人需要过江，从起点到对岸需要 10 分钟，则一共需要多长时间？（ ）

- A.190 分钟
- B.200 分钟
- C.210 分钟
- D.220 分钟

60.往花瓶里面放入花朵，花瓶里的花朵数量每分钟增加一倍，6 分钟后花瓶装满了，那么，几分钟的时候有半瓶花？（ ）

- A.4
- B.5
- C.3
- D.6

综合能力-资料分析（共 10 个小题）

一、“国家治理”通常指“治国理政”，即治理国家和处理政务。具体指在中国特色社会主义道路的既定方向上，在中国特色社会主义理论的话语语境和话语系统中，在中国特色社会主义制度的完善和发展的改革意义上，中国共产领导人民科学、民主、依法、有效地治国理政。“政府治理”通常包含三方面的内容：一是政府通过对自身的内部管理，优化政府自身的治理优化，就是要建设法治政府与服务型政府。二是政府作为市场经济中“有形之手”，通过转变政府职能、健全宏观调控对市场经济健康运行，更好地发挥政府作用，进行经济和市场治理活动。十八届三中全会《决定》提出，“科学的宏观调控，有效的政府治理，是发挥社会主义市场经济体制优势的内在要求。”三是政府作为社会管理主体，在党委领导、政



府负责、社会协同、公众参与和法治保障的基本格局下，对社会公共事务进行的管理活动。

“社会治理”是指在执政党领导下，由政府组织主导，吸纳社会组织等多方面治理主体参与，对社会公共事务进行的治理活动；是“以实现和维护群众权利为核心，发挥多元治理主体的作用，针对国家治理中的社会问题，完善社会福利、保障改善民生，化解社会矛盾，促进社会公平，推动社会有序和谐发展的过程”。十八届三中全会的《决定》在全面深化改革的意义上进一步指出，我国的社会治理主要关节点在于“四个坚持”，即“坚持系统治理，加强党委领导，发挥政府主导作用，鼓励和支持社会各方面参与，实现政府治理和社会调节、居民自治良性互动；坚持依法治理，加强法治保障，运用法治思维和法治方式化解社会矛盾；坚持综合治理，强化道德约束，规范社会行为，调节利益关系综合服务管理平台，及时反映和协调人民群众各方面各层次利益诉求”。

“社区治理”是治理理论在社区领域的实际运用，它是指对社区范围内公共事务所进行的治理。社区治理是社区范围内的政府、非政府组织机构，依据正式的法律、法规以及非正式社区规范、公约、约定等，通过协商谈判、协调互动、协同行动等对涉及社区共同利益的公共事务进行有效管理，从而增强社区凝力，增进社区成员社会福利，推进社区发展进步的过程。

在我国政治话语权和语境下，国家治理、政府治理、社会治理和社区治理在本质上具有一致性，这就是中国共产党领导人民进行的治国理政。国家治理与政府治理、社会治理、社区治理之间的关系，是包含与被包含的关系，同时又存在一定程度的交集关系。比如，从广义上讲，国家治理几乎等同于社会治理，社会主义国家的治理几乎等同于社会主义社会的治理。从狭义上讲，国家治理是整个国家的治理，而社会治理只是社会领域的治理。为此，国家治理不仅包含社会治理，而且规定和引领社会治理，而社会治理则在社会领域实现国家治理的要求和价值取向，体现国家治理的状况和水平。

61.按照“政府治理”的定义，下列中不属于政府治理的举措和行为是（ ）。

- A.管理社会公共事务
- B.增进社区成员福利
- C.建设服务型政府
- D.宏观经济调控

62.下列选项中对于社会治理的认识，最准确的是（ ）。

- A.我国的社会治理前提，是要始终坚持共产党的领导

B.社会治理针对国家治理中的社会问题，坚持社会多元力量的主导地位

C.政府治理、社会治理和社区治理的内容是一致的

D.社会治理规定和引领着国家治理的实现

63.下列关于社区治理的认识中，不恰当的是（ ）。

A.社区治理包含于国家治理之中

B.社区治理的手段既包括协商谈判，也包括协同行动

C.社区治理既需要正式制度安排，也依赖非正式制度安排

D.社区治理的主体既包括各级政府，也包括非政府组织机构

64.下列选项中，不属于我国社会治理关键环节的是（ ）。

A.系统性治理

B.法治化治理

C.源头性治理

D.社会化治理

65.根据文章内容，不能得出以下结论（ ）。

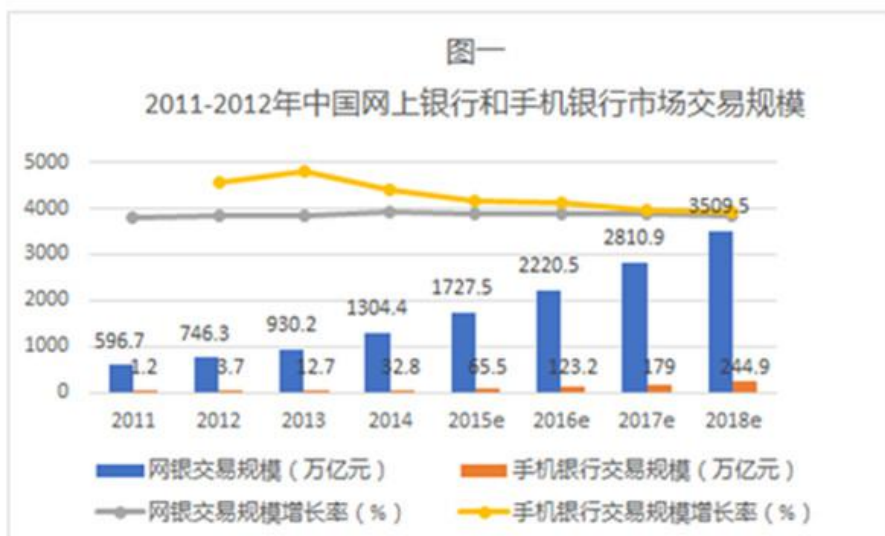
A.政府治理的主体包括党要、政府、社会、公众

B.政府治理包括了对市场经济秩序的管理与协调

C.社会治理在一定程度上体现着国家治理的状况和水平

D.网格化管理等工具是社区治理的重要手段之一

二、根据以下图表资料，回答问题。



注：2015年以后的数据为预测值

图二

中国电子支付产业核心参与方



66.下列主体中，在我国电子支付产业中负有监管职责的部门是（ ）。

- A.中国人民银行
- B.中国银行
- C.中国电信
- D.中国银联

67.根据材料相关信息，下列各年中，我国网银交易规则增量最大的是（ ）。

- A.2015年（预测值）
- B.2014年
- C.2013年
- D.2012年

68.根据材料相关信息，2018年我国手机银行渠道占网银交易规模比例与2011年手机银行渠道占网银交易规模比例相比，约相当于后者的（ ）。

- A.210.2倍
- B.34.7倍
- C.6.5倍
- D.3.5倍

69.根据材料中的相关信息，下列关于我国网络银行，手机银行发展的相关看法中，不

正确的是（ ）。

- A.2016 年我国手机银行和网络银行交易规模之和约为 2350 亿元
- B.我国手机银行和网络银行的市场交易总规模在 2013 年以后每年增速不低于 25%
- C.2012-2018 年我国手机银行市场交易规模增速始终高于网络银行交易规模增速
- D.2013 年以来我国手机银行交易规模增速逐年下滑

70.根据材料内容，不能得出以下结论（ ）。

- A.通讯运营商是我国电子支付产业的重要组成部分
- B.网络银行和手机银行共同组成了电子支付产业
- C.我国手机银行交易规模在 2014 年实现了 3 年增长近 30 倍的惊人速度
- D.我国电子支付产业中包括线上、线下两类不同的渠道



关注公众号获取最新消息！



群名称:2019贵州金融招考群
群号:133079383

扫码加群获取真题答案解析！