

## 2018 年陕西农信社真题

### 第一单元 能力测试（题量 70 限时 70 分钟）

#### ◆ 能力测试-言语理解（共 20 个小题）

1.在人类文明史上，古埃及人和两河流域的苏美尔人，都曾创造过古老的文字。然而，随着时间的流逝，这些文字早已消亡。时至今日，\_\_\_\_\_的古老文字，唯有中国人创立的汉字。作为伟大的汉文化的载体和媒介，汉字依然\_\_\_\_\_，堪称当今世界上最有生命力的文字之一。

依次填入画横线部分最恰当的一项是（ ）。

- A.硕果仅存 长盛不衰
- B.凤毛麟角 源远流长
- C.出类拔萃 博大精深
- D.鹤立鸡群 方兴未艾

【答案】A。观察第一个空，由文段中“早已消亡”和“唯有”提示性信息可知，古老文字只有中国人创立的汉字留下来，A项“硕果仅存”比喻由于时间的推移，留存下来仅存的人或事物，可以与之前信息相对应。B项“凤毛麟角”比喻珍贵而稀少的人或物，不与文段中“唯一性”对应。C项“出类拔萃”和D项“鹤立鸡群”多形容人的优秀，不能用来修饰汉字。故排除B、C、D。代入验证第二个空，“长盛不衰”指长时间保持旺盛的势头，与文段“最有生命力”相对应。故本题答案为A。

2.暗物质是最大的谜团之一，不过一旦天文学家接受其存在，很多其他宇宙难题便可\_\_\_\_\_。例如，暗物质似乎能解释为何银河系的盘状结构边缘存在如此大的扭曲。虽然围绕银河系运行的星系会对银河系产生扰动，但如果没有暗物质的放大作用，它们微弱的引力效应对银河系也是\_\_\_\_\_。

依次填入画横线部分最恰当的一项是（ ）。

- A.举一反三 望尘莫及
- B.迎刃而解 鞭长莫及
- C.拨云见日 爱莫能助
- D.昭然若揭 无能为力

【答案】B。根据语境，第一个空要填的词语说明“宇宙难题”得到解决，B项“迎刃而解”比喻处理事情、解决问题很顺利，搭配得当。A项“举一反三”指触类旁通，与文意

不符合。C项“拨云见日”形容消除困惑，思想豁然开朗，不能与“难题”搭配。D项“昭然若揭”形容真相全部暴露，一切都明明白白，与“难题”搭配不当，排除A、C、D。“鞭长莫及”指力量达不到，代入第二个空，与文段中“微弱的引力效应”相对应。故答案为B。

3.天池经历了漫长的无名时期，后来伴随着天池传说的兴起，天池也开始\_\_\_\_\_。谈到天池传说，还有一个缘由：人们面对神奇的山水之境时，总爱把神灵的光环罩在山水的头上，使山水之景与神灵之气\_\_\_\_\_，即所谓“山不在高，有仙则名”。

依次填入画横线部分最恰当的一项是（ ）。

- A.声名鹊起 相得益彰
- B.门庭若市 相映成趣
- C.脱颖而出 相濡以沫
- D.广为人知 相视莫逆

【答案】A。观察第一个空，由文段的“天池经历了漫长的无名时期”“天池传说的兴起”可知，天池的名气越来越大。A项“声名鹊起”形容名声突然大振，知名度迅速提高，强调从不出名到出名这一过程；D项“广为人知”意为流传很广，二者均符合文意。B项“门庭若市”形容热闹，C项“脱颖而出”比喻人的本领全部显露，这两个成语不符合语境，B、C项排除。第二空是形容山水之景与神灵之气两者之间的关系，由“山不在高，有仙则名”可知，神灵之气使山水之景变得更加美好，A项“相得益彰”体现了这一含义，D项“相视莫逆”形容友谊深厚，主语为人，不能为物，排除。故答案为A。

4.尽管古人对日食怀有恐惧感，认为日食是“天狗吃太阳”，但是鉴于太阳对于人类的重要作用，人们必须采取\_\_\_\_\_的措施加以拯救，如用锣鼓和鞭炮的声音来驱赶“恶狗”。尽管现在听起来\_\_\_\_\_，不过这类故事却使观赏日食变得神秘而有趣。

依次填入画横线部分最恰当的一项是（ ）。

- A.行之有效 急于求成
- B.大张旗鼓 啼笑皆非
- C.力所能及 匪夷所思
- D.恰如其分 不可理喻

【答案】C。本题突破口在第二空，由“锣鼓和鞭炮的声音驱赶‘恶狗’”这一行为和“不过……变得神秘而有趣”可知，“驱赶‘恶狗’”的行为让现代人不解。“急于求成”意思是急着要取得成功，“不可理喻”形容人不讲常理，通常形容人，这两个成语与“听起来”搭配不当，故排除A、D。观察第一空，根据语境，“用锣鼓和鞭炮驱赶天狗是当时人们能够

想到且唯一能够做到的拯救太阳的具体措施”，C项“力所能及”符合语境，B项“大张旗鼓”形容进攻的声势和规模很大，与语境不符，排除B。故本题答案选C。

5.一方面，社会对带薪休假制度热切欢迎，而且对于落实和执行不力可谓\_\_\_\_\_；但另一方面，具体到实际维权行动中，对不落实带薪休假者，即便在劳动争议案件中，也很少有人提及，而因此直接举报者更是\_\_\_\_\_。

依次填入画横线部分最恰当的一项是（ ）。

- A.嗤之以鼻 门可罗雀
- B.冷嘲热讽 寡不敌众
- C.口诛笔伐 寥寥无几
- D.疾言厉色 势单力薄

【答案】C。可先从第二空入手，根据“也很少有人提及，而因此直接举报者更是……”可知，第二空谈的是数量少，而且要比“很少”程度更重。C项“寥寥无几”形容非常稀少，没有几个，符合语境。A项“门可罗雀”形容十分冷落，宾客稀少，B项“寡不敌众”指人少的敌不过人多的，D项“势单力薄”强调的是孤立无援，这三个成语都不符合语境。故A、B、D排除。验证第一空，“口诛笔伐”指从口头和书面上对坏人和坏事进行揭露和声讨，填入第一个空语义符合，故答案为C。

6.当前，对于大部分消费者来说，智能化家居产品既熟悉又陌生，很多人的概念还停留在电动窗帘或别墅防盗系统。从技术层面来说，一键控制、远程遥控、感应人体、自动开启这些电影里才出现的产品如今并非“高科技”，但由于价格昂贵等原因，智能家居并未普及。

根据这段文字，以下说法正确的是（ ）。

- A.智能化已成为家居业未来的发展方向
- B.目前技术上实现智能家居已无障碍
- C.普及智能家居必须降低生产成本
- D.智能家居的概念模糊影响其普及程度

【答案】B。对比选项和原文。A项“智能化已成为家居业未来的发展方向”无中生有，排除A。文段第二句说“智能家居……如今并非‘高科技’”，表明智能家居在技术上已经能够实现了，所以B项“目前技术上实现智能家居已无障碍”符合原文，故B项正确。文段强调“智能家居未普及”在于“价格昂贵等原因”，也就是说，一方面是“价格昂贵”；另一方面为“其他原因”，且“价格昂贵”与“降低生产成本”是两个概念，“价格”不仅包含生产成本，还受其他要素影响，如销售成本等。故C项将“智能家居未普及”归咎于“生

产成本高”是不符合文意的，排除 C。通过最后一句话“由于价格昂贵等原因，智能家居并未普及”可知，智能家居没有普及是由于价格昂贵等原因，而不是概念模糊的原因，排除 D。故本题答案为 B。

7.由于冰河期消失、气候转暖，中石器时代的绘画由洞窟转移到露天岩壁。随着人们狩猎工具的进步，对大自然征服力的增强，动物形象在绘画中逐渐减少并失去原始的野性，而人类活动开始成为绘画描绘的主要对象。岩画主要分布在北欧和西班牙的拉文特地区。它们以人类狩猎为主要情节，以表现人物、动物的运动和速度为特点，把运动中的形象表现成剪影效果或带状样式，以拉长的四肢和夸张的动作强调动势，表现狩猎场面中的紧张和活力。构图具有浓厚的情节性和生活气息，但忽略细节刻画，用色单纯。

根据这段文字，关于中石器时代的岩画，以下说法正确的是（ ）。

- A.风格细腻而精致
- B.多表现动物野性
- C.表现了人类生活
- D.色彩鲜艳、丰富

【答案】C。对比选项和原文。文段结尾的“忽略细节刻画”说明 A 项中的“风格细腻”错误。文段第二句“动物形象在绘画中逐渐减少并失去原始的野性……”，B 项“多表现动物野性”与之相矛盾，B 项错误。文段最后一句“用色单纯”，D 项“色彩鲜艳、丰富”与之相悖，D 项错误。文段开始说了中石器时代的绘画由洞窟转移到露天岩壁，紧接着说人类活动开始成为绘画描绘的主要对象，第四句说以人类狩猎为主要情节，以表现人物、动物的运动和速度为特点，这些都说明中石器时代的岩画是表现人类生活，因此本题答案为 C 项。

8.英国科学家宣称，已找到了一种替代全球定位系统(GPS)的方法，而无需借助任何空间技术。研究发现，激光能够限制并冷却放置于真空条件下的原子，将温度降至绝对零度以上的百万分之一度。在这样的温度下，原子对地球的磁性和重力领域的变化极度敏感。研究者利用这些成果，可以在一台小型装置上限制原子，研究它们的流动，从而定位其运动，并准确查明它们的所在位置。此时，其踪迹定位工作会交由一个仅有 1 米长的装置来完成。关键在于如何把它打造成微缩装置，以便将其安装在智能手机之中。

这段文字主要介绍的是（ ）。

- A.智能手机应用程序的革新
- B.激光在科技创新中的新用途
- C.新定位系统在前沿领域的应用

D.利用原子进行定位的原理

【答案】D。通读全文，文段中“科学家宣称”是观点，说的是“已找到了一种替代全球定位系统（GPS）的方法”。之后的研究发现是解释说明，说的是利用原子在特定温度下对地球的磁性和重力领域的变化极度敏感的成果，在一台小型装置上限制原子研究其流动进而进行定位的原理。可以看出文段的主体词是“定位”和“原子”，对比选项，可知D项正确。

9.“据理力争”不是最佳的表达方式，太用力、太急切地想说明道理，反而少了从容淡定。它反映出“力争”者的不够自信，也表明他对听众辨别事理能力的低估。

以下与作者表述的观点最接近的是（ ）。

- A.有理不在声高
- B.公道自在人心
- C.此时无声胜有声
- D.针尖不必对麦芒

【答案】A。通读全文，第一句可以看出“据理力争”指的是用力、急切地说明道理。第二句解释了这种表达方式不好，是因为它反映出“力争”者的不够自信和对听众辨别能力的低估。可以判断本文是一个“提出观点—解释说明”的结构，观点重在强调不要“据理力争”，不要太用力、太急切地说明道理，要保持从容淡定。对比选项，可知A选项“有理不在声高”符合文段语义。

10.我国古代对于公文的保密最早可以追溯到夏朝。据史书记载，太史令将“图法”（即国家的重要典志、档案）“宫藏”；商朝时，设立了守藏史这一官职，专门负责保管政府公务文书和典册；周朝继承了商朝的传统，将文书正本收藏于天府——我国历史上最早的中央档案机构。到了秦朝时，在文书上玺印封缄，在传递过程中使用“封泥”已是一种普遍的做法。到了东汉时期，办公文件保密用的“封泥”竟然成为把守关隘的比喻词。《后汉书·隗嚣传》记载（ ）。“（王）元请以一丸泥为大王东封函谷关，此万世一时也。”说明守关如封泥，应小心翼翼，不得有一丝疏漏。

这段文字主要介绍的是（ ）。

- A.历代公文的保密方法
- B.“封泥”一词的演变过程
- C.档案储存方法的演变
- D.史书对文书保存方法的记载



---

【答案】A。通读全文，第一句提出了“我国古代对于公文的保密最早可以追溯到夏朝”，后面叙述商、周、秦、东汉等朝代公文是如何保密的。文段是并列结构，进行全面概括，全文讲的都是公文的保密。对比选项，可知此题应选择 A 选项。

11. 痴呆是一种以认知功能缺损为核心症状的获得性智能损害综合征，其智能损害的程度足以干扰社会或职业功能，是慢性进展性的疾病，损害的范围涉及记忆、行为、人格、判断、注意力、视空间技能、语言、逻辑推理等多种高级神经功能。据统计，痴呆已成为仅次于心血管病、癌症和脑卒中的第四大杀手，严重威胁老年人身体健康和生活质量。年龄，是老年性痴呆的重要危险因素，一般认为，60 岁以上的人群中，每增加 5 岁，痴呆的患病率将增加 1 倍。随着老年人口的不断增加，老年痴呆将成为我国一个严重的公共卫生问题。

根据这段文字，以下说法正确的是（ ）。

- A. 老年性痴呆有时会突然发病
- B. 痴呆发病率与受教育程度有关
- C. 痴呆患者的基本生活能力可以改善
- D. 我国老年痴呆患者的人数将不断上升

【答案】D。对比选项和原文。文段第一句中说“是慢性进展性的疾病”，与 A 项的“突然发病”意思不一致，A 项错误。B 项说与受教育程度有关，教育程度在文中未提及，属于无中生有，B 项错误。文段第二句说“严重威胁老年人身体健康和生活质量”，并没有提痴呆患者的基本生活能力问题，C 项错误。D 项对应结尾“随着老年人口的不断增加，老年痴呆将成为我国一个严重的公共卫生问题”，故本题答案为 D。

12. 有了社会契约，人们失去的是其自然的自由，以及他们愿意拿什么就拿什么的绝对的权利；通过社会契约，他们得到的是文明的自由以及对自己所拥有的财物的法定权。在权衡利弊的时候，如果要避免出现错误，我们必须清楚地辨明什么是自然的自由以及什么是文明的自由——自然的自由只受到个人实际力量的控制，而文明的自由却受到公众意志的限制。步入文明社会，人类获得了道德自由，仅这一点就使人类成了自身的主宰。

根据上述文字，下列说法正确的是（ ）。

- A. 社会契约规定了自然的自由和文明的自由各自的界限
- B. 社会契约强调的是有约束而非完全的自由
- C. 人们只有服从社会契约才能获得文明的自由
- D. 社会契约赋予人们文明的自由，限制自然的自由

---

【答案】B。阅读全文，文中没有提到社会契约规定了两种自由的界限，A项属于无中生有，错误。C项“只有……才……”这个必要条件在文段中未提及，C项错误。D项中的“限制自然的自由”与原文“失去的是自然的自由”说法不一致，D项错误。第一句说“有了社会契约，人们失去的是其自然的自由，……通过社会契约，他们得到的是文明的自由……”“文明的自由却受到公众意志的限制”，可以看出社会契约强调的是有约束的而非完全的自由，B项正确。故答案为B。

13.现代化学与炼金（炼丹）的相同点是从分子层面创造新事物，至于创造新元素其实是核物理学家的任务，由他们拿一些回旋加速器把新元素轰出来然后再填到元素周期表中作为化学家的胜利果实。古典炼金术实际上已经有了元素、原子这样的理念，但并不具备理性思维，例如中世纪的欧洲人认为，轻、重、干、湿是基本的物理性质，干而轻的是火，干而重的是土，湿而轻的是气，湿而重的是水，因此，任何物质均是由水、火、土、气这四种基本元素按不同比例合成的结果，这与目前可知世界的观念显然不同，而同时期其他文明中对物质本质的认识同样也是介于神秘与理性之间。

接下来最可能讲的是（ ）。

- A.现代化学理性思维的起点
- B.物理学家如何创造新元素
- C.古典炼金术对欧洲文明的影响
- D.可知世界中关于元素的各种观念

【答案】A。看文段尾句。文段尾句说的是“古典炼金术实际上已经有了元素、原子这样的理念，但并不具备理性思维”，后边通过“例如”、“因此”引出的内容都是在拿“中世纪欧洲人的观点”对前面进行解释，而最后一个分句“同时期其他文明……”也是拿“中世纪其他文明的观点”来进一步解释“这些文明也不具备理性思维”。因此，尾句中前半句“古典炼金术实际上已经有了元素、原子这样的理念，但并不具备理性思维”才是重点内容。根据尾句重点谈论的话题，即“古典炼金术……不具备理性思维”，观察选项，只有A项谈到了“理性思维”，故答案为A。

14.下列各句中，没有语病、句意明确的一句是（ ）。

A.记者就甘肃14名婴儿因食用三鹿奶粉致肾病联系了三鹿集团，想确认三鹿奶粉是否真的存在质量问题和对婴儿可能因为食用该奶粉而患肾病的情况是否知情。

B.对企业来说，现在可能要做的是整顿，以度过当前的危机，让消费者重建对产品的信任。我想，这个过程是艰巨而漫长的。

C.在太空行走中，翟志刚身着中国制造的“飞天”航天服价值 3000 万人民币，成功地使自己免受太空极端温度和辐射的伤害。

D.他的创作在时代旋律与艺术创新、历史潮流与个人价值、讴歌真善美与冷静审视社会上，有着非凡的糅合能力。这是谢晋电影受到广大人民群众欢迎的根本原因。

【答案】D。A 成分残缺，在“可能致肾病”后加“的问题”；B“过程”与“艰巨”搭配不当；C 结构混乱，应把“3000 万人民币”提到“‘飞天’航天服”之前且再加“的”字。因此，本题答案为 D 选项。

15.下列各句中，没有语病的一项是（ ）。

A.国际问题观察家和政治分析家认为，贝·布托之死将对巴基斯坦国内和国际局势产生深远影响，首先是加深国内政治危机。

B.12 月 10 日，俄罗斯总统普京表示，他和第一副总理德米特里·梅德韦杰夫一起共事已经有 17 年了，平时接触很多，将全力支持他竞选总统。

C.我国首次月球探测工程获得成功，这是中华民族为人类和平开发利用外层空间作出的又一重大贡献，是我国推进自主创新、建设创新型国家取得的又一标志性成果，是中华民族在攀登世界科技高峰征上实现的又一历史性跨越。

D.构建和谐社会是一股春风，但她的风力远远不能让普天庶民温暖；坚持科学发展是一柱阳光，但她的照射远远没有让神州大地覆盖。

【答案】A。B 项赘余，“一起”和“共事”重复；且最后一句表意不清。C 项语序不当，“是中华民族为人类和平开发……”一句应放在最后。D 项“让神州大地覆盖”应改为“覆盖神州大地。”因此，本题答案为 A 选项。

16.①连残荷也消逝的无影无踪

②池塘里的荷叶虽然仍然是绿油油一片

③好像是一下子从夏天转入秋天

④但是看来变成残荷之日也不会太远了

⑤再过一两个月，池水一结冰

⑥连日来，天气突然变寒

对上述语句排序正确的一项是（ ）。

A.⑤①②⑥③④

B.⑥③②④⑤①

C.②⑥③④⑤①



D.⑥⑤①③②④

【答案】B。确定首句，⑤中有“再过一两个月”是补充类论述，不适合做首句，因此排除A项。⑥句是背景铺垫，更适合做首句，所以排除C项。观察各句，比较④①两句，④说“变成残荷之日也不会太远了”，①说“连残荷也将消逝得无影无踪”，从逻辑关系上看④应在①之前。因此，本题答案为B选项。

17.①事实上，在耕田之外也几乎没有其他的选择

②同样地，生活上的大小事情，除了可以遵循风俗习惯之外，也有宗亲长老按祖训家法裁夺

③在传统的农业社会里，绝大多数的人以农业为生

④在某一层意义上来说，一个人几乎没有什么机会要他自己做决定，在少数需要他自己做决定的时候，也有现成的规矩习惯等等可以作为参考

⑤农作上的点点滴滴，除了靠自己经年累月的积累，也由宗亲长老口耳相传

⑥这些经验、规矩、风俗、习惯、祖训、家法，可以说涵盖了一个人生老病死、婚丧嫁娶的每一个环节

将以上6个句子重新排列，语序正确的是（ ）。

A.①③⑤④②⑥

B.③①⑤②⑥④

C.①③⑤②⑥④

D.③①⑤④②⑥

【答案】B。分析首尾句①中“事实上”与第三句话都适合做首句，但是第一句讲农业，同时出现“也”字表示补充，第三句话讲中国传统农业社会，从语句含义的范围上讲，三句肯定在一句的前面，排除A、C两项；②中“同样地”与⑤相连，围绕“宗亲长老”展开，因此⑤②捆绑，⑥中“这些经验”既有农作经验又有生活经验，是对⑤②的总结，放在⑤②之后。故正确答案为B。

18.①无论从事什么职业，处于什么岗位

②思维能力在人的成功过程中起着举足轻重的作用

③著名科学家霍金说过（ ）。有一个聪明的大脑，你会比别人更接近成功

④没有思维活动的参与，人类的任何发明创造都是根本不可能完成的

⑤都是快速走向成功的有利资本

⑥拥有较高的智商、活跃的思维

上述句子按语序排列组合最连贯的一项是（ ）。

- A.②①⑥⑤④③
- B.②⑥①⑤③④
- C.③②④①⑥⑤
- D.③④⑥①⑤②

【答案】C。首先观察首句，可知②③为首句，两句中③是引用，②为观点，一般情况下引用放在句首，暂时排除 A、B 两项；再看②与④，很明显这两句都是在说“思维“的问题，两句应该是连接在一起的。故正确答案为 C。

- 19.①它们没有超过一千年的家谱  
②金鱼是世界上养殖最普遍的宠物鱼类  
③不过有一件事是可以确定的  
④却没有多少证据证实它们是什么时候被驯养的  
⑤只有少数几个国家还没有引进  
⑥尽管我们知道金鱼原产于中国

将以上 6 个句子重新排列，语序正确的是（ ）。

- A.②⑤③①⑥④
- B.②⑤③⑥④①
- C.②⑤⑥④③①
- D.⑥④③①②⑤

【答案】C。从选项入手。首先判断首句，②句是对文段的论述对象“金鱼”总括性的介绍，⑥句是具体介绍金鱼的原产地，故②句应为首句，排除 D 项。由“尽管……却……”的关联词语可知，⑥④应紧密相连，且顺序为⑥在④之前。④句的“没有多少证据证实它们是什么时候被驯养的”意为金鱼的驯养时间不确定，③句以“不过”开头，说明有一件事情是可以确定的，故③应紧接④后，表示虽然金鱼的具体驯养时间不确定，但是大概的范围不会超过一千年，据此排除 A、B 两项。故正确答案为 C。

- 20.①为了储存足够的水分，多肉植物的根、茎、叶部进化成富有大量浆液的组织  
②多肉植物来自高山、沙漠等气候干燥的环境  
③不用太多浇水和打理，它们就能存活  
④以帮助它们在干旱恶劣的气候环境中得以生存  
⑤因此，它们非常适合室内种植

⑥它们有特别的代谢方式，它们会在夜间吸收 CO<sub>2</sub>，产生苹果酸，白天放出 CO<sub>2</sub>，进行光合作用

将以上 6 个句子重新排列，语序正确的一项是（ ）。

- A. ②①④③⑥⑤
- B. ②③①④⑥⑤
- C. ①④⑥②③⑤
- D. ①⑥②③⑤④

【答案】A。结合选项，可以先看首句，比较①和②，都在讲多肉植物，但是②明显是先讲其背景，因此更适合作首句。排除 C 项和 D 项。再观察①③④之间的关系，①和④之间，“为了……以……”构成明显的目的句式，③是这个目的的结果。故正确答案为 A。

#### ◆ 能力测试-数学运算（共 10 个小题）

1.  $1.15+195+1995+19995+199995+1999995=$ （ ）

- A. 2222350
- B. 2222190
- C. 2222280
- D. 2222950

【答案】B。原式= $(20-5)+(200-5)+(2000-5)+(20000-5)+(200000-5)+(2000000-5)$   
 $=2222220-30=2222190$ 。B 选项正确，A、C、D 选项错误，故本题应选 B。

2.  $2016 \times 20152015 - 2014 \times 20162016 =$ （ ）

- A. 20132013
- B. 20142014
- C. 20162015
- D. 20162016

【答案】D。尾数法， $0-4=6$ ，D 选项正确，A、B、C 选项错误，故本题应选 D。

3.  $\frac{1995 \times 1996 - 2}{1995 + 1994 \times 1996 - 1} =$ （ ）

- A.  $\frac{1995}{1996}$
- B. 1
- C.  $\frac{1996}{1995}$

---

D.  $\frac{1994}{1995 \times 1996}$

【答案】B。分子可以化为  $(1994+1) \times 1996 - 2 = 1994 \times 1996 + (1996 - 2) = 1994 \times 1997$ ；分母可化为  $(1995 - 1) + 1994 \times 1996 = 1994 \times (1 + 1996) = 1994 \times 1997$ 。分子分母相等，可化为 1。

B 选项正确，A、C、D 选项错误，故本题应选 B。

4. 某成衣厂对 9 名缝纫工进行技术评比，9 名工人的得分正好成等差数列，9 人的平均得分是 86 分，前 5 名工人的得分之和是 460 分，那么前 7 名工人的得分之和是多少？（ ）

A. 602

B. 623

C. 627

D. 631

【答案】B。由等差数列中位数，可知第五名得分为 86 分，第三名得分为  $460/5=92$  分，因此第四名的得分为  $(92+86)/2=89$  分，前七名的总分为  $89 \times 7=623$  分，B 选项符合题意。

A、C、D 选项错误，故本题应选 B。

5. 一批武警战士平均分成若干小组值勤。如果每 4 人一组，恰好余 1 人；如果每 5 人一组，恰好也余 1 人；如果每 6 人一组，恰好还是余 1 人。这批武警战士至少有（ ）人。

A. 121

B. 101

C. 81

D. 61

【答案】D。余数是 1，说明人数-1 是 4、5、6 的公倍数，求最少，则为最小公倍数 60， $60+1=61$ 。D 选项正确，A、B、C 选项错误，故本题应选 D。

6. 某医院有一氧气罐匀速漏气，该氧气罐充满后同时供 40 人吸氧，60 分钟后氧气耗尽，再次充满该氧气罐同时供 60 个人吸氧，则 45 分钟后氧气耗尽。问如果该氧气罐充满后无人吸氧，氧气耗尽需要多长时间？（ ）

A. 一个半小时

B. 两个小时

C. 两个半小时

D. 三个小时

---

【答案】D。设原有氧气量为  $y$ ，漏气  $x$ ，则  $y = (40+x) \times 60 = (60+x) \times 45$ ，解得  $x=20$ ， $y=3600$ ；因此若静待消耗，则需要  $3600/20=180$  分钟，D 选项符合题意。A、B、C 选项错误，故本题应选 D。

7. 会计师甲乙两人同时做一份报表需 10 小时完成，在共同工作 4 小时后，甲因故离开，乙单独又做 18 小时，问甲单独几小时完成？（ ）

- A.30
- B.40
- C.20
- D.15

【答案】D。由题干，甲乙共同需 10 小时完成的工作在 4 小时后，即剩余两人合作 6 小时完成的工作量，乙单独 18 小时完成，说明甲乙的效率之比为 2:1，赋值甲效率=2，乙效率=1，总量为 30，则甲单独  $30 \div 2=15$  小时完成，D 选项符合题意。A、B、C 选项错误，故本题应选 D。

8. 某种商品由于进货价降低了 15%，超市仍按之前的售价销售，使得利润率提高了 21%。那么该商品现在的利润率为（ ）。

- A.20%
- B.30%
- C.40%
- D.45%

【答案】C。由于成本的降低,造成售价的 15%变成了新的利润,使利润率提高了 21% 即售价的 15%相当于新成本的 21% 可以知道售价是新成本的  $21\% \div 15\% = 140\%$  那么现在的利润率就是  $140\% - 100\% = 40\%$ 。C 选项正确，A、B、D 选项错误。故本题答案为 C。

9. 某家具店购进 100 套桌椅，每套进价 200 元，按期望获利 50% 定价出售，卖掉 60 套桌椅后，店主为了提前收回资金，打折出售余下的桌椅，售完全部桌椅后，实际利润比期望利润低了 18%，余下的桌椅是打几折出售的？（ ）

- A.七五折
- B.八二折
- C.八五折
- D.九五折



【答案】C。定价为  $200 \times (1+50\%) = 300$  元，设余下的桌椅的折扣为  $x$ ，根据利润低了 18%，可列式为  $60 \times (300-200) + 40 \times (300x-200) = 100 \times 100 \times (1-18\%)$ ，解得  $x=0.85$ ，C 选项正确，A、B、D 选项错误，故本题答案为 C。

10. 从钟表的 12 点整开始，时针与分针的第一次垂直与再一次重叠中间相隔的时间约？

( )

A. 43 分钟

B. 45 分钟

C. 49 分钟

D. 61 分钟

【答案】C。可以把时钟问题看作是变形的追及问题。从分针和时针第一次垂直到再次重合，分针比时针多走了  $270^\circ$ ，而分针每分钟比时针多走  $5.5^\circ$ 。根据追及问题公式，追及的时间为  $270 \div 5.5 \approx 49$  (分钟)，C 选项符合题意。A、B、D 选项错误。故本题应选 C。

### ◆ 能力测试-逻辑推理 (共 15 个小题)

1. 从所给四个选项中，选择最合适的一个填入问号处，使之呈现一定规律性 ( )。

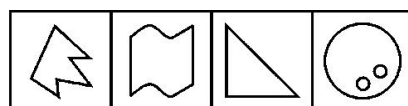
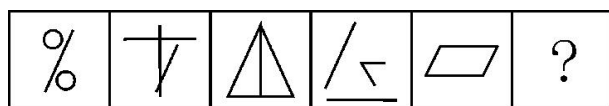
72	345	645	280	188	?
----	-----	-----	-----	-----	---

898	91	751	209
-----	----	-----	-----

A B C D

【答案】A。数量类，面的个数分别是 0、1、2、3、4、？，因此？处的图形应当有 5 个面，A 项 5 个面，B 项 1 个面，C 项 0 个面，D 项 2 个面，故本题答案为 A。

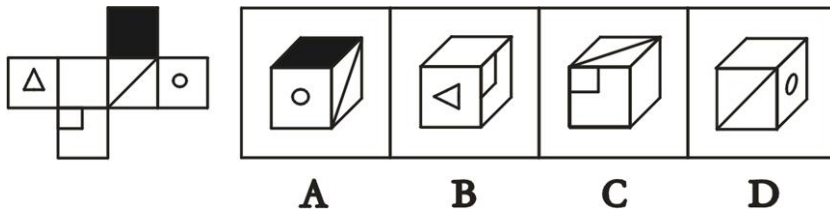
2. 从所给的四个选项中，选择最合适的一个填入问号处，使之呈现一定的规律性 ( )。



A B C D

【答案】A。观察可知，每个图形中都含有公共元素，即“/”。所以选 A 项。之所以不选 C 项，是因为 C 项中的是“\”，不符合要求，故排除。

3. 左边给定的是正方体的外表面展开图，下面哪一项能由它折叠而成？ ( )



【答案】B。空间重构类，A项，圆形面和斜线面的位置错误，排除；B项正确；C项，空白面和斜线面位置错误，排除；D项圆形面和空白面是相对面，不能同时出现，排除；故本题答案选B项。

4.安泰效应是说：安泰是古希腊神话中的大力神，他力大无穷，无往不胜。因为他只要靠在大地上，就能从大地母亲那里汲取无穷的力量。他的对手发现了这个秘密，便诱使他离开地面，在空中杀死了他。因此，要学会依靠大家、依靠集体。

以下哪项不符合安泰效应？（ ）

- A.众人划桨开大船
- B.独木不成林
- C.柳暗花明又一村
- D.孤掌难鸣

【答案】C。安泰效应是说要依靠集体的力量，C项是说峰回路转，与集体力量无关，A、B、D都是说要依靠集体的力量；因此，本题答案为C选项。

5.城市群是城市发展到成熟阶段的最高空间组织形式，是指在特定地域范围内，以1个以上特大城市为核心，由至少3个以上大城市为构成单元，依托发达的交通通信等基础设施网络所形成的空间组织紧凑、经济联系紧密、并最终实现高度同城化和高度一体化的城市群体。

根据上述定义，下列选项不涉及城市群的是（ ）。

A.2004年3月，温家宝总理在政府工作报告中，首次明确提出促进中部地区崛起的计划。促进中部地区崛起，是从我国现代化建设全局出发作出的又一重大决策

B.长三角城市群在上海市和江苏、浙江、安徽三省部分城市范围内，由上海为核心、联系紧密的多个城市组成，主要分布于国家“两横三纵”城市化格局的优化开发和重点开发区域

C.京津冀都市圈是以北京、天津两座直辖市以及河北省的石家庄、保定等为中心的区域。该区域是中国的政治、文化中心，也是中国北方经济的重要核心区

D.日本太平洋沿岸城市群是日本经济最发达的地带，包含了以东京、大阪、名古屋为核心的三个城市圈，分布着全日本 80%以上的金融、教育、出版、信息和研究开发机构

【答案】A。根据定义，城市群是以城市为中心而形成的城市群体，A 项中中部地区主要指河南、湖北、湖南、安徽、江西、山西六个相邻省份，不是城市。B 项是以上海为核心的城市群、C 项是以北京天津为核心的城市群、D 项是以东京、大阪、名古屋为核心的城市群，因此选择 A。

6.某单位工会的 4 名成员梁倩、李明、张旭和王伟围坐在一张方桌前（每边各坐一人）讨论年底的福利发放问题，4 人的学历各不相同，每个人的职业是博士、硕士、本科、高中中的一种，已知：梁倩是硕士，他坐在李明的左手边，张旭坐在博士的右手边，坐在李明对面的王伟不是高中学历。根据以上信息，可以得出以下哪项？（ ）

- A.梁倩是博士生，王伟是研究生
- B.梁倩是硕士生，张旭是高中生
- C.李明是高中生，张旭是本科生
- D.张旭是硕士生，王伟是博士生

【答案】B。既然是个方桌，每边一人，所以不管怎么转，左右、对面的相对位置不会变化。将题干的信息带入到方桌中，我们得到：



对比选项，选择 B 项，故本题正确答案为 B 项。

7.市场监督管理局对辖区餐馆进行了卫生突击检查，四个工作人员有如下结论：甲：所有餐馆都没有通过检查。乙：金梅大酒店卫生不达标。丙：辖区餐馆并非都不达标。丁：有的餐馆卫生不达标。如果四个人中只有一人断定属实，那么以下哪项是真的？（ ）

- A.丁断定属实，金梅大酒店卫生达标
- B.丁断定属实，但金梅大酒店卫生达标
- C.丙断定属实，金梅大酒店卫生不达标
- D.丙断定属实，但金梅大酒店卫生达标

【答案】D。真假推理题型，解题思路为：找关系，看其余。丙的话意思是：有的餐馆卫生合格，因此甲和丙的判断是一对矛盾关系，真话就在甲和丙之间，乙和丁的话就是假话，

---

乙的话是假的，真的是“金梅酒店卫生达标”，丁的话是假的，真的是“所有餐馆卫生都达标”。带回到甲和丙之间，我们得到甲是假的、丙是真的。结合选项，我们选择 D 项，故本题答案为 D。

8.过去三年中世界胡椒处于相对短缺状态，产量一直低于销售量，价格也飞涨直至与可可相当。有分析人士认为是由于近几年南美气候恶劣，同时又有许多原先种植胡椒的农民改种价值更高的可可导致。有人得出结论由于胡椒价格上涨，之前改种可可的人会重新改种可可。

以下选项中，最能够削弱分析人士观点的是（ ）。

- A.过去三年中世界胡椒消费量高得非同寻常
- B.气候一旦回转正常，南美胡椒产量又会回升
- C.南美并不是世界胡椒的主产地，产出占总产出的比例较少
- D.由于胡椒价格暴涨，过去三年种植胡椒的农民获利之大是前所未有的

【答案】C。论证类题型，论点为：南美气候和改种的双重原因导致世界胡椒短缺；C 项说明南美在世界胡椒产量中占比较少，不具有代表性，无法由南美的情况推出世界胡椒短缺的原因，故可以削弱；A 项提及的消费量、B 项提及的未来产量均与价格无关，D 项只提到农民获利大，没有提到胡椒价格上涨的原因，均不能削弱；因此本题选择 C 项。

9.据医学资料记载，全球癌症的发病率 20 世纪下半叶比上半叶增长了近 10 倍，成为威胁人类生命的第一杀手。这说明，20 世纪下半叶以高科技为标志的经济迅猛发展所造成的全球性生态失衡是诱发癌症的重要原因。

以下各项如果是真的，都能削弱上述论证，除了（ ）。

- A.人类的平均寿命，20 世纪初约为 30 岁，20 世纪中叶约为 40 岁，目前约为 65 岁，癌症高发病的发达国家的人均寿命普遍超过 70 岁
- B.20 世纪上半叶，人类经历了两次世界大战，大量的青壮年死于战争；而 20 世纪下半叶，世界基本处于和平发展时期
- C.高科技极大地提高了人类治疗癌症的能力，有效地延长着癌症病人的生命时间
- D.从世界范围来看，医学资料的覆盖面和保存完好率，20 世纪上半叶大约分别只有 20 世纪下半叶的 50%和 70%

【答案】C。论证类题目，论点是：全球性生态失衡是诱发癌症的重要原因，论据是：全球癌症的发病率 20 世纪下半叶比上半叶增长了近 10 倍。A 项说明上世纪上半页人的平均寿命较低，很多人的癌症还没有发病。B 想说明世界大战使得大量青壮年死掉，死因是战争。

D 项说明上半页医学资料保存不完好，导致数据不准确。A、B、D 都是另有他因的削弱。C 项说的是高科技可以延长癌症患者的生命，和是否是癌症的诱因无关。故本题答案选 C。

10. 李克强总理强调，只有增加“中国制造”有效供给满足消费升级需求，才能够促进消费品标准和质量提升。除非倒逼装备制造业升级，否则“中国制造”根本就是空谈。

由此可以推出（ ）。

A. 时代在进步，中国百姓的消费需求越来越多元化

B. 现在不倒逼装备制造业升级，就不能完成“中国制造”

C. 促进消费品标准和质量提升，是完成“中国制造”的前提

D. 想要倒逼装备制造业升级，必须增加有效供给，发力高端制造业

【答案】B。翻译推理题型，先翻译后推理，由题干可知：促进标准提升→中国制造→倒逼升级。A 项题干未提及，无法推出。B 项属于否后必否前的逆否定理，正确。C 项翻译为中国制造→促进标准提升，属于肯后错误。D 项增加供给、发力高端制造业题干未提及，无法推出。因此选择 B 项。

11. 243, -9, 234, -18, ( ), -36, 180

A. 216

B. 225

C. 207

D. 198

【答案】A。根据题干分析，数列的规律为  $243-9=234$ ,  $234-18=( )$ ,  $( )-36=180$ ，由第二个等式可得括号中的数字为 216，通过第三个等式验证也成立。A 选项正确，B、C、D 选项错误。故本题答案为 A。

12. 3, 7, 16, 107, ( )

A. 1704

B. 1707

C. 1086

D. 1072

【答案】B。根据题干分析，数列前 2 项之积减 5 等于后一项， $3 \times 7 - 5 = 16$ ,  $7 \times 16 - 5 = 107$ ，因此括号中应为  $16 \times 107 - 5 = 1707$ ，B 选项正确，A、C、D 选项错误。故 B 为正确选项。

13. 20, 22, 25, 30, 37, ( )

A. 48



B.49

C.55

D.81

【答案】A。根据题干分析，数列做差，二级数列为2，3，5，7，为质数数列，下一个为11，因此，括号中应为 $37+11=48$ 。A选项正确，B、C、D选项错误。故本题答案为A。

14.1, 0, 1, 1, 2, ( ), 5

A.5

B.4

C.3

D.6

【答案】C。观察题干可发现： $1+0=1$ ， $0+1=1$ ， $1+1=2$ ，即前面2项之和等于后面一项，因此括号中应为 $1+2=3$ ，C选项正确，A、B、D选项错误。故本题答案为C。

15.-2, 1, 31, 70, 112, ( )

A.154

B.155

C.256

D.280

【答案】B。根据题干分析，数列做差，二级数列为3，30，39，42，再做差，3级数列为27，9，3，为等比数列，下一个为1，因此，2级数列的下一项为 $42+1=43$ ，括号中应为 $112+43=155$ 。B选项正确，A、C、D选项错误。故本题答案为B。

#### ◆ 能力测试-思维策略（共10个小题）

1.小王步行的速度比跑步慢50%，跑步的速度比骑车慢50%。如果他骑车从A城去B城，再步行返回A城共需要2小时。小王跑步从A城到B城需要（ ）分钟。

A.45

B.48

C.56

D.60

【答案】B。赋值步行的速度为1，则跑步和骑车的速度分别为2、4。从A城去B城，再返回，平均速度为 $\frac{2*1*4}{1+4}=1.6$ ，所以A城去B城的路程为 $1.6 \times 60=96$ 。则跑步从A城

去B城时间为 $96/2=48$ 分钟，B选项符合题意。A、C、D选项错误，故本题应选B。

2.某学校准备重新粉刷国旗的旗台，该旗台由两个正方体上下叠加而成，边长分别为1米和2米。问需要粉刷的面积为（ ）。

A.30 平方米

B.29 平方米

C.26 平方米

D.24 平方米

【答案】D。由题意，所需粉刷面积为大小正方体的各5个面再减去两者相叠部分的面积： $5 \times 2 \times 2 + 5 \times 1 \times 1 - 1 = 24$ （平方米）。D选项正确，A、B、C选项错误。故本题答案为D。

3.有一根长240米的绳子，从某一端开始每隔4米做一个记号，每隔6米做一个记号，然后将标有记号的地方剪断，则绳子共剪成（ ）段。

A.40

B.60

C.80

D.81

【答案】C。根据题意有，每隔4米做一个记号，共有 $240/4-1=59$ 个记号，每隔6米做一个记号，共有 $240/6-1=39$ 个记号，由于在4、6的公倍数12米处有重复标记记号，会有 $240/12-1=19$ 个记号重合，所以标记记号共有 $59+39-19=79$ 个记号，形成 $79+1=80$ 段。C选项正确，A、B、D选项错误。故本题答案为C。

4.甲、乙两种笔的单价分别为7元、3元，某小学用60元钱买这两种笔作为学科竞赛一、二等奖奖品，钱恰好用完，则这两种笔最多可买的支数是（ ）。

A.12

B.13

C.16

D.18

【答案】C。设购买甲、乙两种笔的数量分别为  $x$ ,  $y$ , 则  $7x+3y=60$ 。3 $y$ 、60 均能被 3 整除, 因此  $x$  应该是 3 的倍数;  $x$ 、 $y$  均为整数可知  $x$  只能取 3、6。总费用一定的前提下, 要使得购买数量尽可能多, 则购买单价应该尽量低, 故尽量少买甲种笔, 即  $x$  应尽量小, 因此  $x=3$ 、 $y=13$ , 即最多可买  $3+13=16$  支, C 选项符合题意。A、B、D 选项错误, 故本题应选 C。

5. 某四位数, 各位数字之和等于 34, 符合该条件的四位数共有多少个? ( )

A. 8

B. 10

C. 12

D. 16

【答案】B。四位数 ABCD 满足:  $A+B+C+D=34$ , 则平均值  $=34/4=8.5$ , 所以: 至少有 2 个数字是 9,  $34-9-9=16$ , 则另外两个数字是 9、7 或者 8、8; (1) 如果是 9、9、9、7, 则这样的四位数有 4 个 (7 放在不同的位置), 7999、9799、9979、9997; (2) 如果是 9、9、8、8, 则这样的四位数有 6 个: 8899、8989、8998、9889、9898、9988, 总共有 10 个这样的四位数。B 选项符合题意。A、C、D 选项错误, 故本题应选 B。

6. 下列算式中 (好事好+要做好=要做好事) 不同的汉字代表不同的数字, 如要是使算式成立, 则“事”代表的数字可能是 ( )。

A. 4

B. 6

C. 8

D. 9

【答案】C。根据题干分析, 利用代入排除和尾数法进行求解, A 项, 尾数好+好=好事, 推出好=2, 事=4, 要=5, 做=8, 式子不成立, A 项错误, 同理可推导 B、D 项错误, C 项, 好=9, 事=8, 做=0, 要=1 符合上式, C 选项符合题意。A、B、D 选项错误, 故本题应选 C。

7.  $1997+2002+1999+2003+1991+2005$  的值是 ( )。

A. 11996

B. 11997

C. 11998

D. 11999

---

【答案】B。采用尾数法进行判断，值的尾数为  $7+2+9+3+1+5=27$ ，即尾数是 7，B 选项符合题意，A、C、D 选项错误，故本题正确答案为 B 选项。

8.0、1、3、4、7 五个数字组成的五位数（数字不允许重复使用）中大于 20000 的有多少个？（ ）

A.32

B.36

C.72

D.120

【答案】C。题干要求这个数字要大于 20000 第一位只能选择 3，4，7 中的一种，有 3 种情况，剩余四个数字有  $A_4^4$  种，一共有  $3 \times A_4^4 = 72$  种，C 项正确，A、B、D 选项错误，故本题正确答案为 C 选项。

9.将一根绳子连续对折三次，然后每隔一定长度剪一刀，共剪 6 刀。这样操作后，原来的绳子被剪成了（ ）段。

A.18

B.42

C.49

D.52

【答案】C。根据题意，对折三次以后，剪 6 刀，第一刀和最后一刀包含对折部分，形成一个 4 段和一个 5 段，中间剪 4 刀形成 5 个部分，每个部分包含 8 段，故本题答案应为  $5 \times 8 + 4 + 5 = 49$ （段）。C 选项符合题意，A、B、D 选项错误，故本题正确答案为 C 选项。

10.某人搬运 2000 只易碎物品，每只运费为 3 角。如果损坏一只不但不给运费，还要赔偿 5 角，结果共得 560 元，那么她损坏了（ ）只。

A.80

B.70

C.60

D.50

【答案】D。根据题意，设损坏了 X 个，则  $(2000-X) \times 0.3 - 0.5X = 560$ ，解得  $X=50$ 。D 选项符合题意，A、B、C 选项错误，故本题正确答案为 D 选项。

### ◆ 能力测试-资料分析（共 15 个小题）

一.根据以下材料，回答问题。

2012年末，中国大陆总人口135404万人，全年出生人口1635万人，死亡人口966万人。从性别结构看，男性人口69395万人，同比增加327万人，女性人口66009万人，同比增加342万人；从城乡结构看，城镇人口71182万人，同比增加2103万人；乡村人口64222万人，同比减少1434万人。

2012年末全国就业人员76704万人，比上年末增加284万人；其中城镇就业人员37102万人，比上年末增加1188万人，乡村就业人员39602万人。

2012年末，0~14岁(含不满15周岁)人口22287万人，占总人口的16.5%；15~69岁(含不满60周岁)劳动年龄人口93727万人，占总人口的69.2%；60周岁及以上人口19390万人，占总人口的14.3%。

2012年全国农民工总量26261万人，比上年增加983万人，增长3.9%；其中本地农民工9925万人，增长5.4%；外出农民工16336万人，增长3.0%。

1.2012年，中国大陆1~14岁(含不满15周岁)的人口数量为( )。

- A.20652万人
- B.23922万人
- C.22287万人
- D.1635万人

【答案】A。由“2012年末，0~14岁(含不满15周岁)人口22287万人”、“全年出生人口1635万人”可知，2012年，中国大陆1~14岁(含不满15周岁)的人口数量为 $22287 - 1635 = 20652$ (万人)。A选项符合题意，B、C、D选项错误，故本题正确答案为A选项。

2.相较于2011年，2012年的乡村就业人员( )。

- A.减少904万人
- B.增加904万人
- C.增加1472万人
- D.减少1472万人

【答案】A。由资料第二段可知，2012年末全国就业人员比上年末增加284万人，其中，城镇就业人员比上年末增加1188万人，由这两个数据的大小可见，全国就业人员总增加数小于城镇人员就业增加数，可知乡村就业人员的数量是减少的。故2012年的乡村就业人员比上年末减少 $1188 - 284 = 904$ (万人)。A选项符合题意，B、C、D选项错误，故本题正确答案为A选项。



3.2012年中国男性人口、女性人口、城镇人口的同比增长率按大小顺序正确的是( )。

- A.城镇人口>女性人口>男性人口
- B.城镇人口>男性人口>女性人口
- C.女性人口>男性人口>城镇人口
- D.女性人口>城镇人口>男性人口

【答案】A。由资料第一段可知，2012年男性人口同比增长率为 $\frac{327}{69395-327}=\frac{327}{69068}$ ，2012年女性人口同比增长率为 $\frac{342}{66009-342}=\frac{342}{65667}$ ，2012年城镇人口的同比增长率为 $\frac{2103}{71182-2103}=\frac{2103}{69079}$ ，先比较前两个分数，第一个分数的分子小而分母大，所以2012年男性人口同比增长率<2012年女性人口同比增长率。再比较 $\frac{342}{65667}$ 与 $\frac{2103}{69079}$ 的大小，2103是342的6倍多，但是69079与65667之间的差别没有那么大，故 $\frac{342}{65667}<\frac{2103}{69079}$ 。故增长率大小的排列顺序是：城镇人口>女性人口>男性人口。A选项符合题意，B、C、D选项错误，故本题正确答案为A选项。

4.根据上述资料，可以推出的是( )。

- A.2012年城镇男性人口数量大于城镇女性人口数量
- B.2012年本地农民工的增加量小于外出农民工的增加量
- C.在不存在人口跨境流动的前提下，2026年中国大陆人口15~59岁(含不满60周岁)人数最多比2012年多22287万人
- D.2012年乡村人口转移进城市变成城镇人口的数量最多不超过1434万人

【答案】C。

A项，资料中只给出了城镇人口与乡村人口、男性人口与女性人口的数据，并未给出城镇男性人口与城镇女性人口的相关数据，故A项无法推出；

B项，由资料第四段可知，2012年本地农民工的增加量为 $\frac{9925}{1+5.4\%}\times 5.4\%\approx\frac{9925}{1+\frac{1}{18}}\times\frac{1}{18}=\frac{9925}{19}=500^+$ ，2012年外出农民工的增加量为 $\frac{16336}{1+3.0\%}\times 3.0\%\approx\frac{16336}{1+\frac{1}{33}}\times\frac{1}{33}=\frac{16336}{34}=500^-$ ，所以

2012年本地农民工增加量>2012年外出农民工增加量，B项错误；

C 项, 在不存在人口跨境流动的前提下, 到 2026 年, 2012 年末在 0~14 岁(含不满 15 周岁)的人口进入 15~59 岁(含不满 60 周岁)这一年龄段, 所以这一年龄段的人口最多增加 22287 万人, C 项正确;

D 项, 资料中仅指出 2012 年乡村人口同比减少 1434 万人, 但这并不能说明 2012 年乡村人口转移进城市变成城镇人口的数量最多不超过 1434 万人, D 项错误。

C 选项符合题意, A、B、D 选项错误, 故本题正确答案为 C 选项。

5.2011 年中国大陆总人口是 ( )。

- A.133769 万人
- B.136370 万人
- C.134735 万人
- D.136103 万人

【答案】C。由资料第一句话“2012 年末, 中国大陆总人口 135404 万人, 全年出生人口 1635 万人, 死亡人口 966 万人”可知, 2011 年中国大陆总人口为  $135404 - (1635 - 966) = 134735$ (万人)。C 选项符合题意, A、B、D 选项错误, 故本题正确答案为 C 选项。

二.根据以下资料, 回答以下问题。

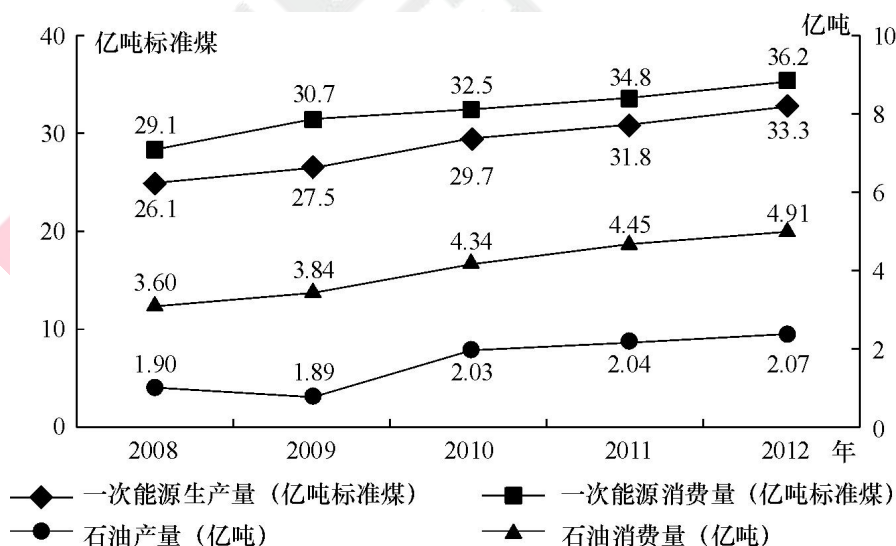


图 1 2008—2012 年全国一次能源、石油生产量与消费量的情况

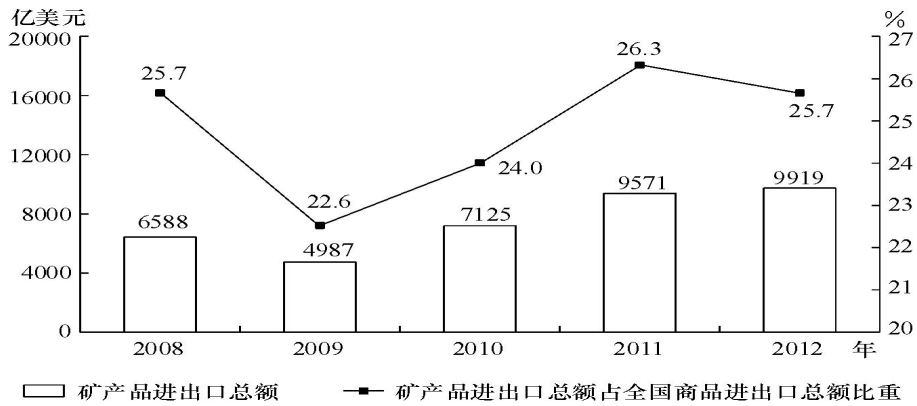


图2 2008—2012年全国矿产品进出口情况

6.2009—2012年间一次能源生产量增速最快的一年是( )。

- A.2009年
- B.2010年
- C.2011年
- D.2012年

【答案】B。比较增长率的大小，可以用-1，四个选项可以都不减1，分别是

$\frac{27.5}{26.1}$ 、 $\frac{29.7}{27.5}$ 、 $\frac{31.8}{29.7}$ 、 $\frac{33.3}{31.8}$ ，直除法，首几位分别是105、108、107、105，可知增长率最大

的是第二个。B选项符合题意。A、C、D选项错误，故本题应选B。

7.图中一次能源消费量与生产量差值最大的一年，该差值为多少亿吨标准煤( )。

- A.2.9
- B.3.0
- C.3.1
- D.3.2

【答案】D。先计算各个年份的一次能源消费量与生产量差值，分别是：2008年：29.1-26.1=3.0(亿吨标准煤)；2009年：30.7-27.5=3.2(亿吨标准煤)；2010年：32.5-29.7=2.8(亿吨标准煤)；2011年：34.8-31.8=3.0(亿吨标准煤)；2012年：36.2-33.3=2.9(亿吨标准煤)。可见差值最大的是3.2，D选项符合题意。A、B、C选项错误，故本题应选D。

8.2009—2012年间全国商品进出口总额最高年份，矿产品进出口总额比上年( )。

- A.上升了348亿美元
- B.下降了1601亿美元
- C.上升了2138亿美元

D.上升了 2446 亿美元

【答案】A。首要任务是确定哪年的全国商品进出口总额最高，根据题中的矿产品进出口总额占全国商品进出口总额比重，可知 2009-2012 年全国商品进出口总额分别是

$\frac{4987}{22.6\%}$ 、 $\frac{7125}{24.0\%}$ 、 $\frac{9571}{26.3\%}$ 、 $\frac{9919}{25.7\%}$ ，根据放缩法和直除法就可以得出最后一个 2012 年全国

商品进出口总额最高。2012 年矿产品进出口总额与 2011 年的值相比上升了  $9919-9571=348$  (亿美元)。A 选项符合题意，B、C、D 选项错误，故本题正确答案为 A 选项。

9.2008—2012 年间，全国石油消费量超过全国石油产量 2 倍的年份有几个 ( )。

A.2

B.3

C.4

D.5

【答案】C。2008-2012 年的全国石油消费量分别是 3.60、3.84、4.34、4.45、4.91 亿吨，2008-2012 年的全国石油产量分别是 1.90、1.89、2.03、2.04、2.07 亿吨。通过估算可知 2009 年、2010 年、2011 年、2012 年这四年的全国石油消费量超过全国石油产量 2 倍。C 选项符合题意，A、B、D 选项错误，故本题正确答案为 C 选项。

10.关于 2009—2012 年全国矿产品贸易和能源生产、消费，能够从上述资料中推出的是 ( )。

A.石油产量年均增速超过一次能源生产量

B.矿产品进出口总额占全国商品进出口总额比重逐年递增

C.矿产品进出口总额最低的年份，一次能源消费同比增量也最低

D.平均每年一次能源生产量超过 30 亿吨标准煤

【答案】D。

A 选项，比较石油产量年均增速和一次能源生产量的年均增速，可直接比较  $\frac{2.07}{1.90}$ 、 $\frac{33.3}{26.1}$ ，

直除可知一次能源生产量的年均增速更大些，A 选项错误。

B 选项，矿产品进出口总额占全国商品进出口总额比重可直接从材料中读数，可知 2009 年和 2012 年该比重是下降的，B 选项错误。

C 选项，矿产品进出口总额最低的年份是 2009 年，而 2009 年的一次能源消费同比增量是  $30.7-29.1=1.6$  (亿吨标准煤)，同时 2010 年一次能源消费同比增量是  $32.5-30.7=1.8$  (亿

吨标准煤)，2011年一次能源消费同比增量是  $34.8-32.5=2.3$ （亿吨标准煤），2012年一次能源消费同比增量是  $36.2-34.8=1.4$ （亿吨标准煤），可见一次能源消费同比增量最低的年份是2012年，不是2009年，C选项错误。

D选项，从图就可看出2009—2012年平均每年一次能源生产量为  $\frac{27.5+29.7+31.8+33.3}{4}=30.575$ （亿吨标准煤），超过30亿吨标准煤，D选项正确。

D选项符合题意。A、B、C选项错误，故本题应选D。

三.根据以下材料，回答问题。

2008年7月商品零售价格指数表（上年同月=100）

		全国	城市	农村
商品零售价格总指数		106.8	106.5	107.5
分类 指数	食品	114.5	115	113.4
	饮料、烟酒	103.6	103.9	103.1
	服装、鞋帽	98.3	97.9	99.3
	纺织品	100.6	100.3	101
	家用电器及音像器材	97.1	96.5	98.5
	文化办公用品	96.9	96	99.3
	日用品	104	103.9	104.3
	体育娱乐用品	98	96.9	100.4
	交通、通信用品	93.6	93.1	95.1
	家具	102.9	102.9	102.8
	化妆品	100.6	100.6	100.7
	金银珠宝	124.2	124	124.9
	中西药品及医疗保健用品	102.7	102.7	102.7
	书报杂志及电子出版物	101.1	101.5	100.4
	燃料	124.5	122	130.5
建筑材料及五金电料	110.7	109.9	112.2	

11.2008年7月城市商品价格较上年同月上漲幅度最大的是（ ）。



- A.食品
- B.燃料
- C.日用品
- D.金银珠宝

【答案】D。根据所给资料，第二列数字最大的即为城市商品价格较上年同月上漲幅度最大的，可定位到是金银珠宝，D选项正确，A、B、C选项错误。故本题答案为D。

12.较上年同期，2008年7月城市跟农村商品价格漲幅相差最小的商品是（ ）。

- A.化妆品
- B.服装、鞋帽
- C.建筑材料及五金电料
- D.书报杂志及电子出版物

【答案】A。根据所给资料，根据城市和农村价格指数计算，化妆品漲幅差是0.1；服装、鞋帽漲幅差是1.4；建筑材料及五金电料的漲幅差是2.3；书报杂志及电子出版物的漲幅差是1.1。因此，A选项正确，B、C、D选项错误。故本题答案为A。

13.2008年7月农村各类商品零售价格与上年同月相比上漲的有（ ）。

- A.11种
- B.12种
- C.13种
- D.14种

【答案】B。根据所给资料，上漲的即是数字大于100的，由材料可得共有12种，B选项正确，A、C、D选项错误。故本题答案为B。

14.2008年7月较上年同月漲幅最大的是（ ）。

- A.全国燃料
- B.城市食品
- C.农村体育娱乐用品
- D.全国书报杂志及电子出版物

【答案】A。根据所给资料，全国燃料：124.5；城市食品：115；农村体育娱乐用品：100.4；全国书报杂志及电子出版物：101.1。因此，漲幅最大的是全国燃料，A选项正确，B、C、D选项错误。故本题答案为A。

15.下列关于2008年7月商品价格的描述正确的是（ ）。

- A. 饮料、烟酒在城市的價格更高
- B. 燃料價格漲幅對商品零售價格整體上漲的貢獻最大
- C. 只有體育娛樂用品的價格走勢在城鄉是相反的
- D. 城市中西藥品及醫療保健用品漲幅最接近全國商品零售價格平均漲幅

【答案】C。

A 項，飲料、烟酒在城市的漲幅更高，價格信息沒有提供，不一定是價格更高，故 A 錯誤；

B 項，需要考慮燃料增長的絕對量，選項片面，故 B 錯誤；

C 項，城鄉一增一減，只有體育娛樂符合，故 C 正確；

D 項，比如城市紡織品價格漲幅 100.3，更接近全國商品零售價格平均漲幅，故 D 錯誤。

綜上，C 選項正確，A、B、D 選項錯誤。故本題答案為 C。

## 第二單元 專業知識測試（題量 55 限時 40 分鐘）

### ◆ 專業知識測試-經濟金融法律（共 47 個小題）

1. 建立國家反洗錢數據庫，妥善保存金融機構提交的大額交易和可疑交易報告信息是（ ）的職責之一。

- A. 中國銀行業監督管理委員會
- B. 所有商業銀行
- C. 中國銀行業協會
- D. 中國反洗錢監測分析中心

【答案】D。根據《金融機構反洗錢規定》，中國人民銀行設立中國反洗錢監測分析中心，依法履行下列職責：接收並分析人民幣、外幣大額交易和可疑交易報告；建立國家反洗錢數據庫，妥善保存金融機構提交的大額交易和可疑交易報告信息；按照規定向中國人民銀行報告分析結果；要求金融機構及時補正人民幣、外幣大額交易和可疑交易報告；經中國人民銀行批准，與境外有關機構交換信息、資料；中國人民銀行規定的其他職責。A、B、C 選項錯誤，所以答案選 D。

2. 下列有關票據權利的表述，哪一項是不正確的（ ）。

- A. 持票人行使權力，應當按照法定程序在票據上簽章並出示票據

B. 票据权利是专指持票人向票据债务人请求支付票据金额的权利，包括付款请求权和追索权

C. 持票人丙对汇票承兑人乙的数据权利，自票据到期日起 2 年内不行使而消灭

D. 持票人丁对汇票出票人甲的数据权利，自出票日起 6 个月内不行使而消灭

【答案】D。根据《票据法》第十七条的规定，票据权利在下列期限内不行使而消灭：

(1) 持票人对票据的出票人和承兑人的权利，自票据到期日起二年。见票即付的汇票、本票，自出票日起二年；(2) 持票人对支票出票人的权利，自出票日起六个月。故 D 正确，其余三项错误，所以答案选 D。

3. 根据《合同法》的规定，下列各项不属于无效合同的是 ( )。

A. 因重大误解订立的合同

B. 以合法形式掩盖非法目的的合同

C. 以欺诈手段订立的合同，损害国家利益

D. 损害社会公共利益的合同

【答案】A。因重大误解订立的合同属于可撤销的合同。故 A 项不属于；根据《合同法》的规定，合同无效的情形有：①一方以欺诈、胁迫的手段订立合同，损害国家利益；②恶意串通，损害国家、集体或者第三人利益；③以合法形式掩盖非法目的；④损害社会公共利益；⑤违反法律、行政法规的强制性规定。故 BCD 属于无效合同，所以答案选 A。

4. 银监会可以对违法经营、经营管理不善造成严重后果的银行业金融机构予以撤销。撤销是指监管部门对经其批准设立的具有法人资格的金融机构依法采取的 ( ) 的行政强制措施。

A. 停止其营业

B. 限制其所有业务

C. 终止其法人资格

D. 没收其所有资产

【答案】C。撤销是指“终止其法人资格”。而“停止其营业”、“限制其所有业务”和“没收其所有资产”均不能使该金融机构丧失法人资格，故 A、B、D 选项错误。所以答案选 C。

5. 人民法院因审理案件，需要向银行查询企业的存款资料时，查询人不得 ( )。

A. 借走资料原件

B. 抄录资料原件

C. 复印资料原件

D.对资料原件照相

【答案】A。《关于查询、冻结、扣划企业事业单位、机关、团体银行存款的通知》规定，查询人不得借走原件，需要的资料可以抄录、复制或照相，并经银行盖章。B、C、D不选，所以答案选A。

6.乙公司是甲公司的子公司，乙公司对负债500余万元无力偿还，而该债务是公司决策、指示下以乙公司的名义进行贸易造成的，对此债务的责任，以下说法正确的是（ ）。

A.乙公司应承担全部责任

B.甲公司应承担全部责任

C.甲公司应承担主要责任

D.甲公司应承担次要责任

【答案】A。本题考查的是公司法律制度。子公司具有法人资格，依法独立承担民事责任。本题中乙公司作为甲公司的子公司，是独立的法人，独立承担民事责任。B、C、D不选，所以答案选A。

7.下列关于债券的说法中错误的是（ ）。

A.债券代表所有权关系

B.债券代表债权债务关系

C.债券持有者是债权人

D.债券发行人到期需偿还本金和利息

【答案】A。债券是指政府、金融机构、工商企业等金融市场主体为筹集资金而向投资者发行的、承诺按一定的期限和利率水平支付利息并按约定期限偿还本金的债权、债务凭证，代表的是一种债权债务关系，所以A项的说法是错误的，B项正确；债券持有人是债权人，发行者是债务人，所以C项是正确的；债券到期需要还本付息，D项正确。故本题应选A项。

8.存款是银行最主要的（ ）。

A.投资业务

B.风险暴露

C.资金用途

D.资金来源

---

【答案】D。存款是银行最主要的资金来源非资金运用，所以 D 项是正确的。存款是银行对存款人的负债而非投资业务，故 A 选项错误；银行最主要的风险暴露和资金用途是贷款，因此 B、C 项说法错误。故本题应选 D 项。

9.在基础货币一定的条件下，货币乘数越大，则货币供应量（ ）。

- A.越多
- B.越少
- C.不变
- D.不确定

【答案】A。根据题干，货币供应量=基础货币\*货币乘数，在基础货币一定的情况下，货币乘数越大，货币供应量就越多，可知 A 项正确，BCD 项错误。故本题应选 A 项。

10.下列不属于消费信用范畴的有（ ）。

- A.企业将商品赊卖给个人
- B.个人获得住房贷款
- C.个人持信用卡到指定商店购物
- D.个人借款从事经营活动

【答案】D。消费信用是为消费者提供的，用于满足其消费需求的一种信用形式。ABC 均为消费信用；D 是为了经营活动，不是消费信用。故本题应选 D。

11.以下属于市场风险的是（ ）。

- A.某企业计算机房因洪水损毁
- B.某企业因汇率变化导致出口结汇减少
- C.某企业因产品设计脱离市场，导致新产品销路不畅
- D.某企业在贷款到期时未能从银行如愿续贷

【答案】B。此题考查的是金融风险。市场风险指因市场价格的不利变动而使银行表内和表外业务发生损失的风险。包括利率风险、汇率风险、股票价格风险、商品价格风险四大类。汇率变化导致出口结汇减少属于市场风险中的汇率风险，所以 B 选项是正确的。A 和 C 选项指运营风险，D 选项指财务风险。故本题应选 B 项。

12.假设某商业银行的五级贷款分类情况为：正常类贷款 210 亿元，关注类贷款 60 亿元，次级类贷款 15 亿元，可疑类贷款 9 亿元，损失类贷款 6 亿元，则该商业银行的不良贷款率为（ ）。

- A.5%

B.10%

C.2%

D.30%

【答案】B。此题考查的是商业银行资产业务。根据贷款的五级分类法不良贷款包括次级、可疑和损失贷款，不良贷款率=(次级+可疑+损失)/贷款总额=(15+9+6)/(210+60+15+9+6)=10%，所以 B 项是正确的，排除 ACD。故本题应选 B 项。

13.中央银行提高法定存款准备金率时，市场的反应通常是（ ）。

A.商业银行可用资金增多，贷款下降，导致货币供应量减少

B.商业银行可用资金减少，贷款上升，导致货币供应量增多

C.商业银行可用资金减少，贷款下降，导致货币供应量减少

D.商业银行可用资金增多，贷款上升，导致货币供应量增多

【答案】C。根据题干，央行提高法定存款准备金率是紧缩性的货币政策，导致商业银行可贷资金减少，贷款利率上升，贷款下降，货币供应量减少，可知 C 项正确。商业银行可贷资金减少，所以 A 项是错误的；贷款下降，货币供给量减少，排除 B 项；商业银行可带资金减少，货币供应量减少，排除 D 项。故本题应选 C 项。

14.下列不属于信用卡消费特点的是（ ）。

A.具有无抵押无担保性质

B.循环信用额度

C.通常是短期、小额、无指定用途的信用

D.不能办理通存通兑、代收代付、额度提现业务

【答案】D。信用卡消费信贷具体的特点：循环信用额度，具有无抵押无担保贷款性质，一般有最低还款额要求，通常是短期、小额、无指定用途的信用，信用卡除具有信用借款外，还有存取现金、转账、支付结算、代收代付、通存通兑、额度提现、网上购物等功能。所以 D 项“不能办理通存通兑、代收代付、额度提现业务”的说法是错误的，ABC 的说法完全符合信用卡的特点。故本题应选 D 项。

15.一张差半年到期的面额为 2000 元票据，到银行得利 1900 元贴现金额，则年贴现率为（ ）。

A.5%

B.10%

C.2.56%



D.5.12%

【答案】B。此题考查的是商业银行票据贴现。题目信息票据贴现利息=2000-1900=100，贴现利息=面额\*年贴现率\*未到期天数，即  $100=2000*年贴现率*0.5$ ，得到贴现率=10%，所以 B 项是正确的，排除 ACD。故本题应选 B 项。

16.中央银行的目标不包括（ ）。

- A.保持货币币值的稳定，并以此促进经济增长
- B.加强金融监管，防范金融风险
- C.积极培育和规范金融市场
- D.强化中央银行的地位和作用

【答案】A。中央银行的目标是：加强金融监管，防范金融风险，积极培育和规范金融市场，强化中央银行的地位和作用，所以目标不包括“保持货币币值的稳定，并以此促进经济增长”，因此 A 项是符合题干要求的，BCD 选项均属于中央银行的目标。故本题应选 A 项。

17.非银行金融机构是随着金融资产多元化、金融业务专业化而产生的，以下除（ ）都为非银行金融机构

- A.金融资产管理公司
- B.信托投资公司
- C.财务公司
- D.租赁公司

【答案】D。非银行金融机构即经银监会批准设立的信托公司、金融资产管理公司、企业集团财务公司、金融租赁公司、汽车金融公司、货币经纪公司、境外非银行金融机构驻华代表处等机构，所以 ABC 项均属于非银行业金融机构。租赁公司范围太广，可以包括金融类，也可涵盖非金融类，所以除 D 项。故本题应选 D 项。

18.小李向银行申请了个人住房贷款，根据合同采取等额本息还款法，若月利率为 1%，贷款本金为 50 万元，还款期限为 30 年，则每月还款额为（ ）。

- A.4143 元
- B.5143 元
- C.4743 元
- D.5743 元

---

【答案】B。本题考查的是商业银行资产业务。每月还款额=贷款本金×[月利率×(1+月利率)<sup>还款月数</sup>]÷[(1+月利率)<sup>还款月数</sup>-1]=5143元。正确答案为B。

19.当社会总需求大于总供给，经济增长过热时，中央银行采取紧缩性货币政策，其主要措施不包括（ ）。

- A.提高法定准备金
- B.提高贴现率
- C.在金融市场上购买政府债券
- D.在金融市场上抛售政府债券

【答案】C。紧张性的货币政策，即要减少货币供给量。央行提高法定存款准备金率，提高再贴现率以及抛售政府债券都能减少货币供应量，所以ABD符合题干采取紧缩性货币政策；购买政府债券即央行需要向市场投放基础货币，会增加货币供给量，所以排除C项。故本题应选C项。

20.在中央银行资产负债表中，属于负债项目的是（ ）。

- A.财政部门的借款
- B.中央银行发行债券
- C.外汇储备
- D.待收款项和固定资产

【答案】B。此题考查的是中央银行的资产和负债业务。中央银行发行债券要获取资金，属于资金来源的渠道之一，所以是负债业务，B项是正确的。ACD选项属于资产业务，故本题应选B项。

21.甲公司同意乙公司以分期付款的方式偿还所欠贷款，这种信用属于（ ）。

- A.直接信用
- B.国家信用
- C.银行信用
- D.消费信用

【答案】A。商业信用是企业之间相互提供的与商品交易直接联系的信用，如赊销赊购商品、预付货款、分散付款、延期付款、经销、代销等形式，属于直接信用，所以A项是正确的。国家信用一方必须是政府或政府相关部门，所以B项是错误的；银行信用必须涉及到金融机构，所以排除C项；消费信用是用于消费，排除D项。故本题应选A项。

---

22. ( ) 是指单位类客户在存入款项时不约定存期，支取时需提前通知银行，并约定支取存款日期和金额方能支取的存款类型。

- A. 单位活期存款
- B. 单位定期存款
- C. 单位通知存款
- D. 单位协定存款

【答案】C。本题考查的是商业银行负债业务。单位通知存款是指单位类客户在存入款项时不约定存期，支取时需提前通知银行，并约定支取存款日期和金额方能支取的存款类型。A 项单位活期存款是指单位类客户在商业银行开立结算账户，办理不规定存期、可随时转账、存取的存款类型。B 项单位定期存款是由存款单位约定期限，到期支付本息的一种存款。单位定期存款的支取不需要提前通知银行。D 项单位协定存款指单位类客户通过与商业银行签订合同的形式约定合同期限、确定结算账户需要保留的基本存款额度，对超过基本存款额度的存款按中国人民银行规定的上浮利率计息、对基本存款额度按活期存款利率计息。

23. 我国商业银行的担保贷款不包括？ ( )

- A. 保证贷款
- B. 抵押贷款
- C. 质押贷款
- D. 信用贷款

【答案】D。商业银行的贷款按有无担保分为信用担保和担保贷款，其中担保贷款包括保证、抵押和质押三种，所以 ABC 项符合，排除。故本题应选 D 项。

24. 一国某一年的国际收支总额大于零，那么该年该国的国际储备将 ( )。

- A. 增加
- B. 减少
- C. 不变
- D. 不确定

【答案】A。此题考查的是国际储备。国际收支总额大于零，意味着收入大于支出，出现国际收支盈余，那么超额的外汇供给将通过商业银行出售给中央银行，导致中央银行国际储备的增加，所以 A 项是正确的，排除 BCD 项。故答案选择 A 项。

25. 商品 A 价格上升导致商品 B 需求曲线右移，则商品 A 和 B ( )。

- A. 互为替代品

- B.互为互补品
- C.既不是替代品又不是互补品
- D.可能是替代品或者互补品

【答案】A。相关商品的价格变化会影响商品的需求曲线的移动。商品 A 的价格上升导致其替代品 B 的需求增加，从而使得商品 B 的需求曲线右移。所以 B，C，D 选项错误，所以答案选 A。

26.边际效用为 0 时，总效用（ ）。

- A.最小
- B.最大
- C.等于 0
- D.不确定

【答案】B。该题主要考察总效用与边际效用之间的关系，即总效用最大时，边际效用为零。A，C，D 选项错误，所以答案选 B。

27.下列关于等产量曲线说法正确的是（ ）。

- A.等产量曲线有且只有一条
- B.离原点越远产量不断减少
- C.存在交叉的情况
- D.凸向原点

【答案】D。题目考察等产量曲线特征。等产量曲线有无数条，所以 A 错；且离原点越远表示投入的生产要素规模不断扩大，技术水平不变条件下，产量越大，所以 B 错；曲线之间不存在交叉情形，所以 C 错；由于边际替代率递减规律，使得曲线凸向原点，且斜率为负值，所以答案选 D。

28.货币政策工具通过调控货币供给量的增加和减少，影响银行规模和结构的变化，从而对实际经济产生影响属于货币政策传导机制的（ ）渠道。

- A.利率
- B.信贷
- C.资产价格
- D.汇率

【答案】B。信贷渠道是指货币政策工具通过调控货币供给量的增加和减少，影响到银行规模和结构的变化，从而对实际经济产生影响。当中央银行采取紧缩性货币政策时，银行

体系的准备金减少，银行的可贷资金减少，贷款随之下降。依赖银行贷款的企业不得不减少投资支出，最终是产出下降，反之则作用相反。故本题应选 B 项。

29.某企业有房屋、设备等固定资产 1000 万元，折旧率 6%；银行长期贷款 100 万元，年利率 5%；生产工人工资总额 120 万元；管理人员工资 10 万元；原料、材料、动力费用 1500 万元。则其总固定成本为（ ）。

- A.60
- B.75
- C.1000
- D.1100

【答案】B。在给定的条件下，由于固定资产并非一次消耗，长期贷款利息短期不变，管理人员相对稳定，企业每年的固定投入是折旧费、利息和管理人员工资， $1000 \times 6\% + 100 \times 5\% + 10$ ，共计 75 万元。A，C，D 选项错误，所以答案选 B。

30.石油、通讯行业最接近以下哪种市场（ ）。

- A.完全竞争
- B.垄断竞争
- C.寡头垄断
- D.完全垄断

【答案】C。本题考察各种市场的代表行业。石油、通讯行业在整个市场中仅有为数不多的几家供应商，属于寡头垄断市场。完全竞争市场有许多买者和卖者，所以 A 错，垄断竞争市场的厂商也比较多，所以 B 错，完全垄断市场中有且只有一家厂商，所以 D 错，所以答案选 C。

31.与一般的供给曲线不同，劳动供给曲线具有一个鲜明的特点，即它具有一段“向后弯曲”的部分。当工资较低时，随着工资的上升，消费者为较高的工资吸引将（ ）闲暇，增加劳动供给量。在这个阶段，劳动供给曲线向（ ）倾斜。

- A.减少，右上方
- B.减少，左上方
- C.增加，右上方
- D.增加，左上方

【答案】A。与一般的供给曲线不同，劳动供给曲线具有一个鲜明的特点，即它具有一段“向后弯曲”的部分。当工资较低时，随着工资的上升，消费者为较高的工资吸引将减少闲

---

暇，增加劳动供给量。在这个阶段，劳动供给曲线向右上方倾斜。所以 A 对，B 错。当工资达到一定程度时，随着工资的上升，消费者为不会被较高的工资吸引，将增加闲暇，减少劳动供给量。在这个阶段，劳动供给曲线向左上方倾斜。所以 C，D 错误，所以答案选 A。

32.最需要进行广告宣传的市场是（ ）。

- A.完全竞争市场
- B.垄断市场
- C.垄断竞争市场
- D.寡头市场

【答案】C。本题考查的是不完全竞争市场。垄断竞争市场是一种既垄断又竞争，既不是完全垄断又不是完全竞争的市场，是同类但不同质的市场，垄断竞争厂商为了增强其产品的竞争力，获得超额利润，就有必要进行广告宣传。所以，最需要进行广告宣传的市场是垄断竞争市场。C 项正确；A 选项，完全竞争市场的特征是，市场上有众多厂商，产品是同质的，每个厂商都是市场价格的被动接受者，所以完全竞争市场没有超额利润，他们没有动力花钱去打广告，排除；B、D 两项，寡头、垄断市场中的厂商有极强的市场控制力，他们可以联合起来控制价格，所以他们花钱打广告的动力不足，排除。本题正确答案为 C。

33.关于生产的外部经济的说法，正确的是（ ）。

- A.生产者的社会效益等于私人成本
- B.生产者的社会成本等于私人成本
- C.生产者的私人成本小于社会成本
- D.生产者的私人收益小于社会收益

【答案】D。本题考查的是市场失灵的主要原因和对策。出现生产的外部经济时，生产者的私人成本大于社会成本，生产者的私人收益小于社会收益。出现生产的外部不经济时，生产者的私人成本小于社会成本，生产者的私人收益大于社会收益。故本题正确答案选择 D 项。

34.金融市场的参与者通过买卖金融资产转移或者接受风险，利用组合投资可以分散投资于单一金融资产所面临的非系统风险，这属于金融市场的（ ）功能。

- A.货币资金融通
- B.风险分散与风险管理
- C.资源配置
- D.经济调节



---

【答案】B。在金融市场中，利用组合投资分散非系统性风险，属于金融市场的风险分散于风险管理的功能，所以 B 项的说法是正确。货币资金融通功能是指为资金不足方提供筹资机会，为资金富余方提供投资机会，所以排除 A 项；资源配置功能是指促使货币资金流向最有发展潜力、能为投资者带来最大利益的地区、部门和企业，所以排除 C 项；经济调节功能是指借助货币的供应量的变化、货币的流动和配置影响经济，所以排除 D 项。故本题应选 B 项。

35.下列选项属于表外业务的是（ ）。

- A.贷款
- B.贷款承诺
- C.定期存款
- D.储蓄

【答案】B。此题考查的是商业银行的业务。贷款承诺属于商业银行的表外业务，所以 B 项是正确的。贷款是商业银行资产业务，排除 A 项；定期存款是商业银行负债业务，排除 C 项；储蓄是商业银行负债业务，所以排除 D 项。故本题应选 B 项。

36.下列不属于货币市场的是（ ）。

- A.银行同业拆借市场
- B.贴现市场
- C.短期债券市场
- D.债券市场

【答案】D。此题考查的是货币市场。货币市场是短期资金融通市场，主要包括商业票据、国库券、银行承兑汇票、可转让大额定期存单、回购协议等，不包括债券市场，实际上债券市场属于资本市场，所以 D 项是错误的；ABC 项均属于资本市场，故本题应选 D 项。

37.下列各项不属于市场预期理论的观点的是（ ）。

- A.利率期限结构完全取决于对未来即期利率的市场预期
- B.如果预期未来即期利率下降，则利率期限结构呈下降趋势
- C.投资者并不认为长期债券是短期债券的理想替代物
- D.市场参与者会按照他们的利率预期从债券市场的一个偿还期部分自由地转移到另一个偿还期部分

【答案】C。市场预期理论，又称“无偏预期”理论，认为利率期限结构完全取决于对未来即期利率的市场预期。如果预期未来即期利率上升，则利率期限结构呈上升趋势；如果预

期未来即期利率下降，则利率期限结构呈下降趋势。“投资者并不认为长期债券是短期债券的理想替代物”是流动性偏好理论的观点。因此 C 选项错误。AB 选项都为市场预期理论的观点。D 选项市场预期理论和流动性偏好理论都假设市场参与者会按照他们的利率预期从债券市场的一个偿还期部分自由地转移到另一个偿还期部分，而不受任何阻碍。

38.若某日外汇市场上 A 银行报价如下：美元/日元：119.73/120.13，欧元/美元：1.1938/1.1970。Z 先生要向 A 银行购入 1 欧元，要支付多少日元（ ）。

- A.142.9337
- B.143.7956
- C.100.0251
- D.100.6282

【答案】B。从外汇报价可以看到 1 欧元=1.1970 美元=1.1970\*120.13=143.7956 日元。因此正确答案为 B 项。

39.商业银行风险管理不包括（ ）。

- A.市场风险
- B.经营风险
- C.信用风险
- D.流动性风险

【答案】B。商业银行风险管理包括流动性风险、信用风险、市场风险和操作风险，经营风险指企业由于经营不善带来的亏损、破产等风险，不属于商业银行中的风险管理内容。因此正确答案为 B 项。

40.大额可转让定期存单的利率（ ）。

- A.浮动利率
- B.固定利率
- C.有限制的浮动利率
- D.有浮动，也有固定

【答案】D。大额可转让定期存单的利率有固定也有浮动。故本题应选 D 项。

41.存款准备金分为法定存款准备金和超额存款准备金。法定存款准备金是金融机构按照其存款的一定比例向中央银行缴存的存款。这个比例通常是由（ ）决定，称为法定存款准备金率。

- A.国务院

- B. 人民政府
- C. 中央银行
- D. 金融当局

【答案】C。商业银行按照其存款的一定比例向中央银行缴存的存款，这个比例是有中央银行决定的，被称为法定存款准备金率。因此正确答案为C项。

42. 下列不属于大额可转让定期存单特点的是（ ）。

- A. 不记名转让流通
- B. 必须到期方可提取本息
- C. 期限短，一般在一年以内
- D. 进入市场的主体有严格的限制

【答案】D。特点包括流动性较高，有一个活跃的二级市场；不记名转让流通；金额固定起点较高；必须到期方可提取本息；期限短，一般在一年以内；利率有固定，也有浮动；而D选项属于同业拆借市场的特点。故本题应选D项。

43. 在利率的风险结构这一定义中，风险不包括（ ）。

- A. 违约风险
- B. 交易风险
- C. 流动性风险
- D. 税收风险

【答案】B。利率风险结构包括：违约风险、流动性风险和税收差异因素。违约风险是指当债券到期时，债券发行人无力或不愿意兑现债券本息而给投资者带来损失的可能性。流动性资产是指能够迅速和低成本地转换为现实购买力的资产。流动性越高的资产，人们对其的需求越旺。税收因素是指一国的税法规定对于某些债券与其他债券不同。例如，很多国家发行的国债都不用缴纳利息所得税，这样使得国债的税前收益率与税后收益率是一样的。由于不同债券的税收政策不一样导致投资者根据自己的资产组合配置不同的债券。A、C和D都包括，排除。故本题应选B项。

44. 下列投资渠道中，安全性最高的是（ ）。

- A. 储蓄存款
- B. 股票投资
- C. 投资基金
- D. 期货投资

---

【答案】A。储蓄存款风险最小，安全性最高，A 当选；B、C 和 D 都属于有较高风险的投资渠道，排除。正确答案为 A。

45.利息与活期储蓄相比有一定优越性，但可以随时支取的人民币储蓄存款是（ ）。

- A.定期储蓄
- B.定活两便储蓄
- C.零存整取储蓄
- D.教育储蓄

【答案】B。定活两便指客户在存款开户时不必约定存期，银行根据客户存款的实际存期按规定计息，可随时支取的一种个人存款种类。正确答案为 B。

46.在兑换残缺污损人民币时，对于能辨别面额，票面残余四分之三以上，图案、文字能按原样连接的钞票，其兑换比例为（ ）。

- A.原面额全额兑换
- B.原面额四分之三
- C.原面额二分之一
- D.原而额四分之一

【答案】A。能辨别面额，票面剩余四分之三（含四分之三）以上，其图案、文字能按原样连接的残缺、污损人民币，金融机构应向持有人按原面额全额兑换。所以本题答案选 A。

47.以下关于我国国家金库（简称国库）的说法，错误的是（ ）。

- A.国库是中国人民银行储藏金银财宝的仓库
- B.国库是办理财政资金收支和存款的专门机构
- C.原则上一级财政设立一级国库
- D.我国法律规定由中国人民银行经理国库

【答案】A。解析：中国中央国库业务由中国人民银行经理。国库是负责办理国家财政预算资金的收入和支出的机构。国家的全部预算收入都由国库收纳入库，一切预算支出都由国库拨付。县级以上各级预算必须设立国库，具备条件的乡、民族乡、镇也应当设立国库。原则上一级财政设立一级国库。所以本题答案选 A。

### ◆ 专业知识测试-会计（共 8 个小题）

1.商业银行的所有者权益不包括（ ）。

- A.实收资本

- B.资本公积
- C.盈余公积
- D.长期股权投资

【答案】D。此题考查所有者权益内容。D 选项是资产。所有者权益主要包括：A 实收资本（或股本）、B 资本公积、C 盈余公积、和未分配利润。故本题应选 D 项。

2. 结算账户中，不能提取现金的账户是（ ）。

- A.基本存款账户
- B.一般存款账户
- C.临时存款账户
- D.专用存款账户

【答案】B。此题考查银行结算账户。一般存款账户用于办理存款人借款转存、借款归还和其他结算的资金收付。该账户可以办理现金缴存，但不得办理现金支取。ACD 都可以支取现金。故本题应选 B 项。

3. 如果财务报告能够满足（ ）的会计信息需求，通常情况下也可以满足其他使用者的大部分信息需求。

- A.债权人
- B.政府及有关部门
- C.投资者
- D.社会公众

【答案】C。此题考查会计信息使用对象。由于投资者是企业资本的主要提供者，如果财务报告能够满足这一群体的会计信息需求，通常情况下也可以满足 ABD 其他使用者的大部分信息需求。故本题应选 C 项。

4. 流动资产和流动负债的比值被称为（ ）。

- A.流动比率
- B.速动比率
- C.净利率
- D.资产负债比率

【答案】A。此题考查流动比率公式。流动比率=流动资产/流动负债。B 速动比率=速动资产/流动负债，C 净利率与资产负债无关，D 资产负债比率=负债/资产。故本题应选 A 项。

5. 下列各项中，不属于企业流动负债的是（ ）。

- 
- A.预收购货单位的款项
  - B.预付采购材料款
  - C.应付采购商品货款
  - D.购买材料开出的商业承兑汇票

【答案】B。此题考查流动负债定义运用。流动负债是指预计在一个正常的营业周期中清偿，或者主要为交易目的而持有，或者自资产负债表日起一年内(含一年)到期予以清偿，或者企业无权自主地将清偿推迟至资产负债表日后一年以上的负债。资产负债表中列示的流动负债项目通常包括：短期借款、应付票据、应付账款、预收款项、应付职工薪酬、应交税费、应付利息、应付股利、其他应付款、一年内到期的非流动负债等。选项 A，计入预收账款；选项 B，计入预付账款，属于资产类科目；选项 C，计入应付账款；选项 D，计入应付票据。故本题应选 B 项。

- 6.下列各项中，影响利润表中“营业利润”项目的是（ ）。
- A.盘亏固定资产净损失
  - B.计提固定资产减值准备
  - C.发生的所得税费用
  - D.转让无形资产的净收益

【答案】B。此题考查营业利润构成。计提固定资产减值准备计入资产减值损失，影响营业利润，选项 B 正确。盘亏固定资产净损失计入营业外支出，影响利润总额，不影响营业利润，选项 A 错误；发生的所得税费用影响净利润，不影响营业利润，选项 C 错误；转让无形资产的净收益计入营业外收入，影响利润总额，不影响营业利润，选项 D 错误。故本题应选 B 项。

7.某企业 2009 年 3 月发生了如下经济业务：①预付下季度房租 20000 元；②收到 3 月份销售商品货款 25000 元，款项已存入银行；③购买 1000 元的办公用品；④预收购货方定金 12000 元，货物尚未发送。以权责发生制为计算基础时，3 月份的收支净额为（ ）元。

- A.24000
- B.16000
- C.4000
- D.36000

【答案】A。此题考查会计核算基础。 $25000-1000=24000$ 。权责发生制下只关注权利义务什么时候发生，只有②③符合，与①④无关。故本题应选 A 项。



8.下列项目中，不属于会计核算方法的是（ ）。

- A.复式记账
- B.成本计算
- C.财产清查
- D.编制财务预算

【答案】D。此题考查会计核算方法。会计核算的基本方法包括设置会计科目和账户、A 复式记账、填制和审核会计凭证、登记账簿、B 成本计算、C 财产清查制财务报表七种方法，D 编制财务预算属于管理会计的范畴，不包括在会计核算的方法中。故本题应选 D 项。

### 第三单元 英语（题量 15 限时 15 分钟）

#### ◆ 英语-单选题（共 10 个小题）

1. The （ ） tough training given by our company creates strong and able sales representatives who perform well above others in the same field.

- A.indifferently
- B.presumable
- C.completely
- D.unbearably

【答案】D。词义辨析题。我们公司组织的难以忍受的高强度培训培养出能干的销售代表，能和 tough 搭配的副词，选择 unbearably，难以忍受地。Indifferently，冷淡地，漠不关心地；presumable，可能有的，可推测的；completely，完全地，彻底地。故本题正确答案按选择 D 项。

2. I extend my sincere （ ） to the family and friends of John Miller, who has suddenly left us at the age of 54.

- A.appreciation
- B.description
- C.condolences
- D.charges

【答案】C。词义辨析题。John Miller 忽然辞世，我对他的家人和朋友致以诚挚的哀悼。Condolence 哀悼。Appreciation 感激；description 描述；charge，费用，控告。故本题正确答

案按选择 C 项。

3. The special deal offered by our supplier will last only for a ( ) time.

A.limited

B.minor

C.partial

D.lower

【答案】A。词义辨析题。limited, 有限的。Minor, 次要的; partial 局部的, 不公平的; lower 下游的, 下等的。故本题正确答案按选择 A 项。

4. He threw away all the ( ) cigarettes, ( ) to give up smoking for the sake of his health.

A.remained; determining

B.leaving; determined

C.remaining; determined

D.left; determining

【答案】C。考查非谓语动词。remaining 留下的, 剩下的, 作定语时要前置, left 剩下的, 要后置, 所以剩下的香烟应表达为 remaining cigarettes, 短语: be determined to do, 决定做某事, 在这里 determined 作状语。故本题正确答案按选择 C 项。

5. — He is considered ( ) for London.

— Yes, I'm considering ( ) there as well.

A.leaving; going

B.to leave; to go

C.to have left; going

D.having left; to go

【答案】C。考查固定搭配。第一空考查词组: be considered to have done 被认为已经做了什么, 第二空考查 consider doing 考虑做..., 句意: --他被认为已经去了伦敦。--是的, 我在考虑也去那里。故本题正确答案按选择 C 项。

6. Our team enjoyed a 10-game winning streak at the start of this season, ( ) our position as the top team in baseball

A.reconfirms

B.reconfirmed

---

C.reconfirming

D.be reconfirmed

【答案】C。考查非谓语动词。空格及后面是状语，现在分词体现动作的持续性，选择C。在本赛季初，我们的球队赢得了10连胜，重新确认了我们作为棒球顶级球队的位置。

7. The new, expensive software was purchased to help keep better ( ) of the clients we have here at our company.

A.records

B.states

C.points

D.marks

【答案】A。词义辨析题。record表示记录。新的昂贵的软件被购买来帮助保存我们公司的客户的更好的记录。State州，声明；point要点，得分；mark，标志。故本题正确答案按选择A项。

8. The automobile parts we requested for our customer got here on ( ) .

A.authority

B.condition

C.schedule

D.appointment

【答案】C。词义辨析题。on schedule表示按时。我们要求的客户的汽车零件按预定时间到了。Authority权威；condition条件环境；appointment任命，约定。故本题正确答案按选择C项。

9. The advertisements printed in this magazine do not ( ) imply endorsement by the management.

A.highly

B.barely

C.gradually

D.necessarily

【答案】D。词义辨析题。necessarily，必然地，必定。印在这本杂志上的广告不一定是经营者的认可。Endorsement认可，代言，背书。Highly，非常，高度地；barely仅仅，几乎不；gradually，逐步地，渐渐地。故本题正确答案按选择D项。

---

10. The new sports complex will accommodate an Olympic-sized swimming pool and other (     ) , including a fitness center and a spa, to name just a few.

- A. facilities
- B. categories
- C. qualities
- D. supplies

【答案】A。词义辨析题。swimming pool、fitness center、spa 都是设施设备，所以选择 A。新的体育场馆将容纳一个奥运大小的游泳池和其他设施，包括一个健身中心和一个水疗中心。B 意为：种类，C 质量，D 供给。故本题正确答案按选择 A 项。

### ◆ 英语-阅读题（共 5 个小题）

#### PASSAGE 1

How far would you be willing to go to satisfy your need to know? Far enough to find out your possibility of dying from a terrible disease? These days that's more than an academic question, as Tracy Smith reports in our Cover Story.

There are now more than a thousand genetic tests, for everything from baldness to breast cancer, and the list is growing. Question is do you really want to know what might eventually kill you? For instance, Nobel Prize-winning scientist James Watson, one of the first people to map their entire genetic makeup, is said to have asked not to be told if he were at a higher risk for Alzheimer's (老年痴呆症).

"If I tell you that you have an increased risk of getting a terrible disease, that could weigh on your mind and make you anxious, through which you see the rest of your life as you wait for that disease to hit you. It could really mess you up." Said Dr. Robert Green, a Harvard geneticist. "Every ache and pain," Smith suggested, could be understood as "the beginning of the end." "That's right. If you ever worried you were at risk for Alzheimer's disease, then every time you can't find your car in the parking lot, you think the disease has started."

Dr. Green has been thinking about this issue for years. He led a study of people who wanted to know if they were at a higher genetic risk for Alzheimer's. It was thought that people who got bad news would, for lack of a better medical term, freak out. But Green and his team found that there was "no significant difference" between how people handled good news and possibly the

---

worst news of their lives. In fact, most people think they can handle it. People who ask for the information usually can handle the information, good or bad, said Green.

11. The first paragraph is meant to ( ).

- A. ask some questions
- B. introduce the topic
- C. satisfy readers' curiosity
- D. describe an academic fact

【答案】B。意图题。从第一段可知作者提出了两个问题，引出话题：人们愿不愿意知道自己得了病，故本题正确答案按选择 B 项。

12. Which of the following is true of James Watson? ( ).

- A. He is strongly in favor of the present genetic tests.
- B. He is more likely to suffer from Alzheimer's disease.
- C. He believes genetic mapping can help cure any disease.
- D. He doesn't want to know his chance of getting a disease.

【答案】D。细节理解题。根据第二段 Nobel Prize-winning scientist James Watson, one of the first people to map their entire genetic makeup, is said to have asked not to be told if he were at a higher risk for Alzheimer' (老年痴呆症)，可知 James Watson 不想得知得病的机会，故本题正确答案按选择 D 项。

13. According to Paragraphs 3 and 4, if a person is at a higher genetic risk, it is ( ).

- A. advisable not to let him know
- B. impossible to hide his disease
- C. better to inform him immediately
- D. necessary to remove his anxiety

【答案】A。细节理解题。根据第三段的 “If I tell you that you have an increased risk of getting a terrible disease, that could weigh on your mind and make you anxious, through which you see the rest of your life as you wait for that disease to hit you. It could really mess you up.” 可知如果人们知道可能得什么病，会有思想负担，所以最好不要告诉他们，故本题正确答案按选择 A 项。

---

If you want to stay young, sit down and have a good think. This is the research finding of a team of Japanese doctors, who say that most of our brains are not getting enough exercise—and as a result, we are aging unnecessarily soon.

Professor Taiju Matsuzawa wanted to find out why otherwise healthy farmers in northern Japan appeared to be losing their ability to think and reason at a relatively early age, and how the process of aging could be slowed down.

With a team of colleagues at Tokyo National University, he set about measuring brain volumes of a thousand people of different ages and varying occupations.

Computer technology enabled the researchers to obtain precise measurements of the volume of the front and side sections of the brain, which relate to intellect (智能) and emotion, and determine the human character. (The rear section of the brain, which controls functions like eating and breathing, does not contract with age, and one can continue living without intellectual or emotional faculties.)

Contraction of front and side parts—as cells die off—was observed in some subjects in their thirties, but it was still not evident in some sixty- and seventy-year-olds.

Matsuzawa concluded from his tests that there is a simple remedy to the contraction normally associated with age—using the head. The findings show in general terms that contraction of the brain begins sooner in people in the country than in the towns. Those least at risk, says Matsuzawa, are lawyers, followed by university professors and doctors. White collar workers doing routine work in government offices are, however, as likely to have shrinking brains as the farm worker, bus driver and shop assistant. Matsuzawa's findings show that thinking can prevent the brain from shrinking. Blood must circulate properly in the head to supply the fresh oxygen the brain cells need. "The best way to maintain good blood circulation is through using the brain," he says, "Think hard and engage in conversation. Don't rely on pocket calculators."

14. The team of doctors wanted to find out ( ).

- A. why certain people age sooner than others
- B. how to make people live longer
- C. the size of certain people's brains
- D. which people are most intelligent

【答案】A。细节理解题。由第二段“Professor Taiju Matsuzawa wanted to find out why



---

otherwise healthy farmers in northern Japan appeared to be losing their ability to think and reason at a relatively early age, and how the process of ageing could be slowed down.”可知医生们想要研究出为什么一些人比其他人老得更快。故本题正确答案按选择 A 项。

15. On what are their research findings based? (     ) .

- A. survey of farmers in northern Japan.
- B. Tests performed on a thousand old people.
- C. The study of brain volumes of different people
- D. The latest development of computer technology.

【答案】C。细节理解题。由“he set about measuring brain volumes of a thousand people of different ages and varying occupations.” 故本题正确答案按选择 C 项。



华图教育  
HUATU.COM