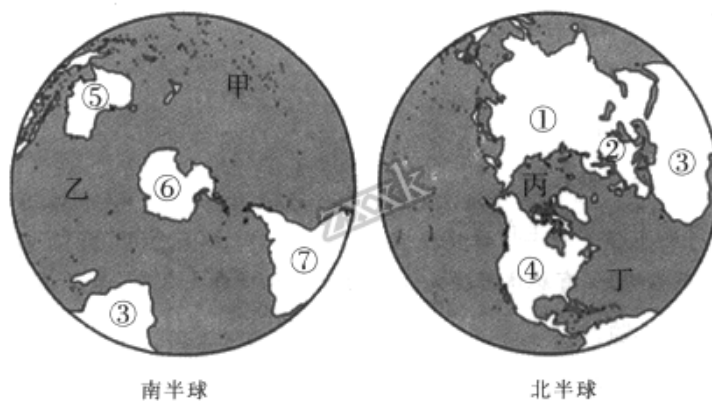


2017~2018学年北京东城区初二上学期期末地理试卷

选择题

1. 下图为南、北半球世界海陆分布示意图，据此回答问题。



(1) 世界上海洋和陆地分布的特点是

- A. 南半球陆地比海洋面积大
- B. 北半球陆地比海洋面积大
- C. 海洋和陆地面积的比约为7:3
- D. 陆地与海洋面积比约为7:3

(2) 图中，①④分别代表的大洲是

- A. 非洲、欧洲
- B. 欧洲、南美洲
- C. 亚洲、北美洲
- D. 大洋洲、南极洲

(3) 图中，赤道穿过的大洲有

- A. ①③
- B. ②④
- C. ⑤⑥
- D. ②⑦

(4) 图中，大洲界线巴拿马运河位于

- A. ①④之间
- B. ①③之间
- C. ④⑦之间
- D. ⑥⑦之间

(5) 图中，甲所位于的大洋是

- A. 太平洋
- B. 北冰洋
- C. 印度洋
- D. 大西洋

(6) 图中，北部主要位于热带地区的大洋是

- A. 甲
- B. 乙
- C. 丙
- D. 丁

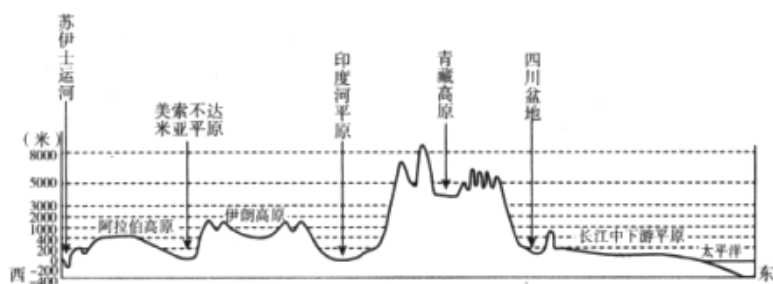
(7) 图中，属于丁大洋的地理特征是

- A. 北部海岸线平直
- B. 南部海岸线曲折
- C. 南北呈“S”形
- D. 西邻非洲东海岸

(8) 图中，常年冰层覆盖的大洋是

- A. 甲
- B. 乙
- C. 丙
- D. 丁

2. 下图为某大洲沿30°N的地理事物分布图，据此回答问题。



(1) 图中所示地区的地势特征是

- A. 地势中间高，南北低
- B. 地势中部高，东西低
- C. 西高东低，呈阶梯状
- D. 高原为主，地形单一

(2) 图中以苏伊士运河为界，分隔了亚洲与

- A. 非洲
- B. 欧洲

C. 大洋洲

D. 南美洲

(3) 图中青藏高原的喜马拉雅山脉地区发现许多古海洋生物化石，如三叶虫、鹦鹉螺、珊瑚等。据此可以推断

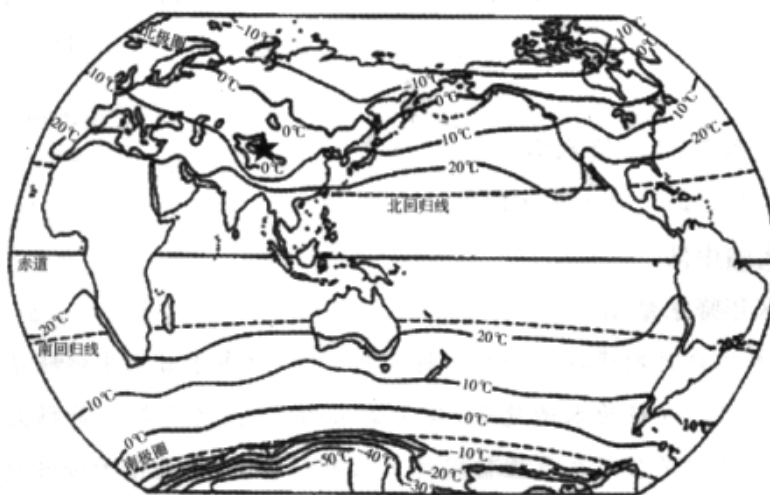
A. 古海洋的海平面较高，后来发生了海退

B. 喜马拉雅山脉地区发生过强烈的地壳抬升

C. 人类曾捕捞大量海洋生物带到这里

D. 这些海洋生物曾经适应在陆地上生活

3. 下图为世界年平均气温分布图，据此回答问题。



(1) 世界气温分布的基本规律是

A. 中纬地区，等温线北半球较南半球平直

B. 同纬度地区，陆地气温均高于海洋

C. 高纬地区，等温线南半球较北半球稀疏

D. 世界年平均气温大体呈低纬向高纬递减

(2) 年平均气温在 20°C 以上的地区主要分布于

A. 亚洲、非洲

B. 南北回归线之间

C. 亚洲、北美洲

D. 中纬度地区

(3) 图中★所示位置气温明显低于同纬度地区，主要影响因素是

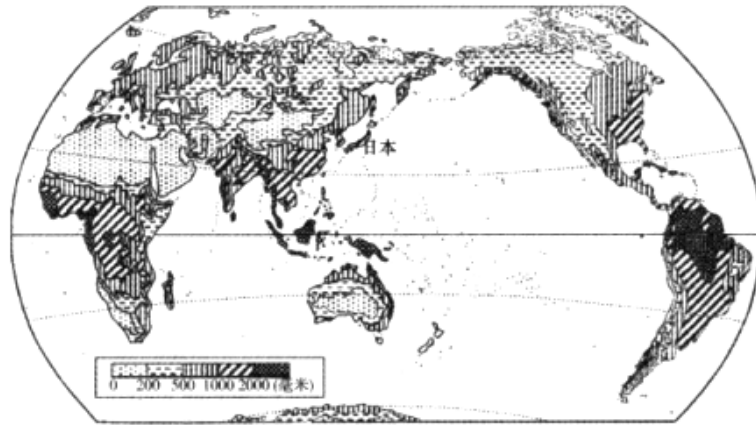
A. 纬度位置

B. 海陆分布

C. 河流因素

D. 地形状况

4. 下图为世界年降水量分布图，据图回答问题。



(1) 世界年降水量分布的基本规律是

- ①两极地区降水量多
 - ②赤道地区降水量多
 - ③北回归线附近的大陆东岸降水量较多
 - ④北回归线附近大陆西岸降水量较多
 - ⑤中纬度沿海地区降水量较内陆地区多
- A. ①②③
B. ②③⑤
C. ③④⑤
D. ①④⑤

(2) 下列叙述正确的是

- A. 亚洲中部较东部、南部降水多
- B. 赤道附近的非洲地区降水东多西少
- C. 澳大利亚大陆中部降水少
- D. 南北极地区年降水量相当

5. 合掌造是日本江户时期遗存至今的一种民居形式，分布于日本中部岐阜县境内，1995年被列为世界文化遗产。房屋为木造建筑，其房梁东西走向，使房屋能获得充足的采光量，减小风力。最大特色是以多层茅草覆盖坚固的正三角形屋顶，且屋顶十分陡峭，如同双手合十一般，故称“合掌造”。下图为日本合掌屋景观图，据图回答问题。



(1) 图中所示地区的聚落类型是

- A. 以捕鱼为主的渔村

- B. 以农耕为主的山村
- C. 以旅游为主的城市
- D. 以工业为主的城市

(2) 合掌造的建筑特点是为了适应当地

- A. 夏季酷热
- B. 昼夜温差大
- C. 冬季豪雪
- D. 降水季节变化大

(3) 作为世界文化遗产，保护合掌造民居的意义是

- A. 促进当地旅游产业的发展
- B. 提升当地城市化发展水平
- C. 增加该区域的外汇收入
- D. 保护地方文化中人类的生存智慧

6. 世界人口分布不均，但有规律可循。表1为世界人口垂直分布，表2为世界人口纬度分布。据表，回答问题。

表 1

海拔(米)	占世界人口的比例(%)
0—200	56.5
200—500	24.0
500—1000	11.6
1000—1500	4.4
1500—2000	2.3
2000—2500	1.2

表 2

纬度范围	占世界人口的比例(%)
90° N—60° N	0.4
60° N—40° N	30.0
40° N—20° N	49.4
20° N—0°	10.4
0° —20° S	6.1
20° S—40° S	3.5
40° S—90° S	0.2

(1) 根据人口分布在不同海拔地区的情况推断，世界人口分布最多的地形类型是

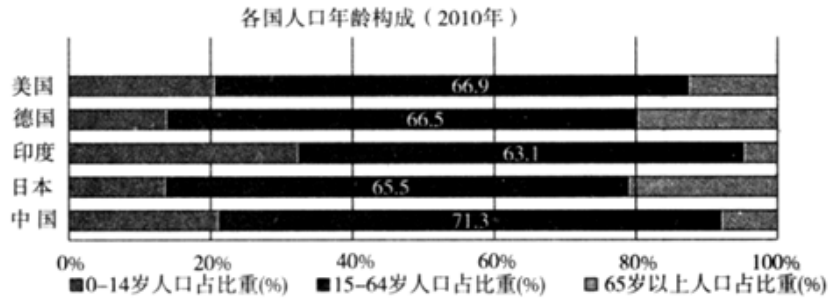
- A. 山地
- B. 丘陵
- C. 平原

D. 高原

(2) 根据人口纬度分布推断,世界人口稠密区是

- A. 北半球高纬度地区
- B. 北半球中低纬度地区
- C. 南半球高纬度地区
- D. 南半球中低纬度地区

7. 人口抚养比是非劳动年龄(0—14岁和65岁以上)人口数与劳动年龄(15—64岁)人口数的比值。又可分为少儿人口抚养比(0—14岁人口与15—64岁人口的比值)和老年人口抚养比(65岁以上人口与15—64岁人口的比值)。图为世界部分国家人口年龄构成图。据此回答问题。



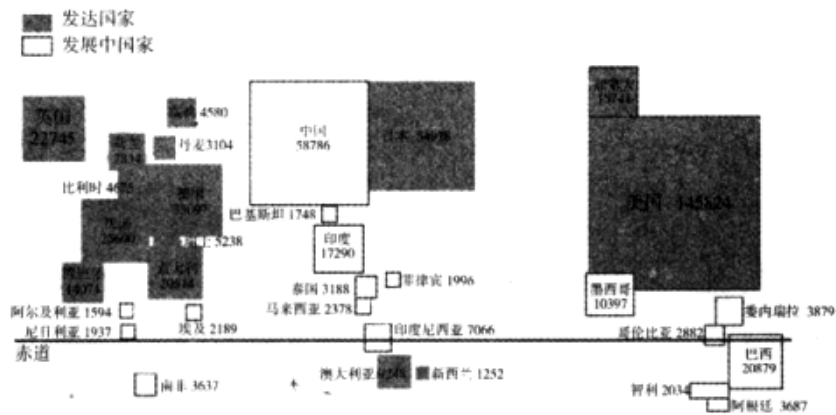
(1) 据图可知,2010年

- A. 中国少儿抚养比较印度高
- B. 日本老年抚养比较中国低
- C. 德国劳动力较中国充足
- D. 美国人口抚养比较中国高

(2) 预计到2050年中国人口抚养比将超过60%,其所带来的直接影响有

- A. 养老压力增大
- B. 住房更加紧张
- C. 劳动力较充足
- D. 医疗投入减少

8. 下图为2010年世界部分国家国内生产总值(亿美元),据此回答问题。



(1) 图中发达国家数量最密集的区域是

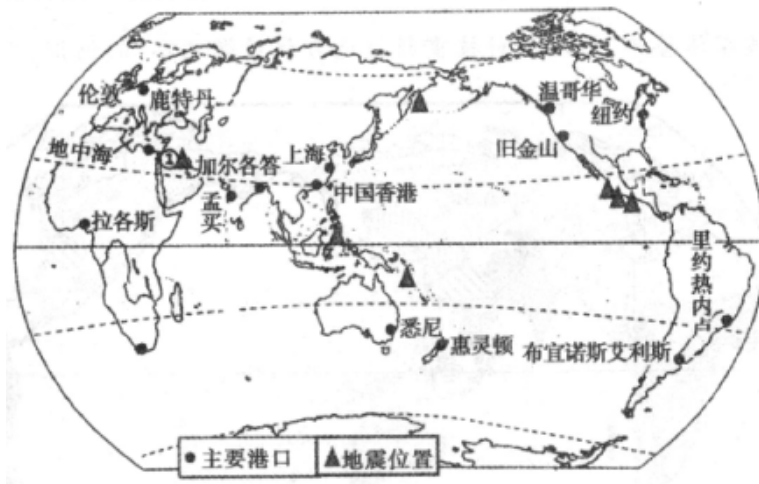
- A. 东亚
- B. 欧洲西部
- C. 北非
- D. 西亚

(2) 下列叙述正确的是

- A. 发达国家国内生产总值前三位的依次是美国、德国、日本
- B. 发展中国家国内生产总值前三位的依次是中国、印度、巴西
- C. 2010年中国国内生产总值超过英、德之和
- D. 澳大利亚是南半球国内生产总值最小的国家

材料题

9. 下图是世界主要港口分布图和2017年1月至11月发生7.0级以上地震地区的分布图和板块构造示意图。读图回答问题。



(1) 图中世界港口多分布于 _____ 纬度地区。旧金山是 _____ 洲的港口，位于大洲 _____ 岸。

(2) 从上海起航的轮船3月到达悉尼时，当地的季节是 _____。

(3) 据图可知，孟买港位于 _____ 板块，纽约位于 _____ 板块。

(4) ①运河沟通了红海和地中海，据图9可以看出地中海将不断 _____。（扩大或者缩小），判断理由是 _____。

(5) 据图可知,关于2017年1到11月间7.0级以上地震分布与原因叙述正确的是_____。

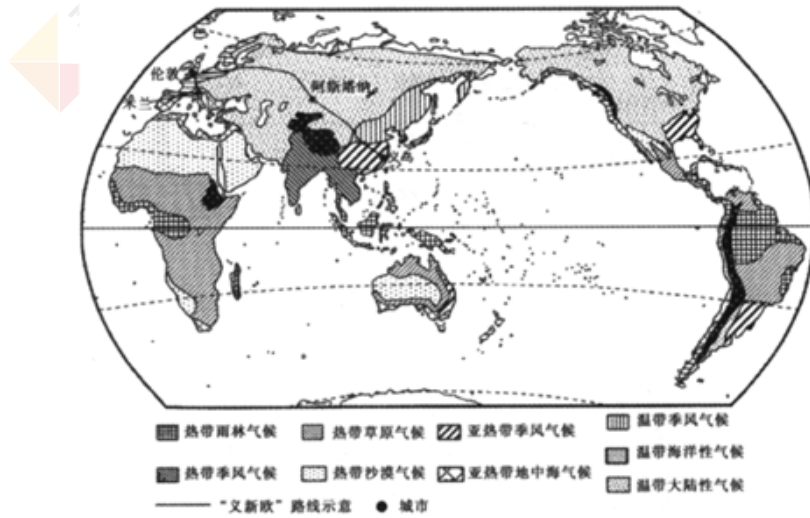
- A. 多位于地中海—喜马拉雅火山地震带、处于板块交界处地壳稳定
- B. 多位于环太平洋火山地震带、处于板块内部地壳稳定
- C. 多位于地中海—喜马拉雅火山地震带、处于板块内部地壳活跃
- D. 多位于环太平洋火山地震带、处于板块交界处地壳运动活跃

(6) 据图,说明伦敦很少发生地震的原因是_____。

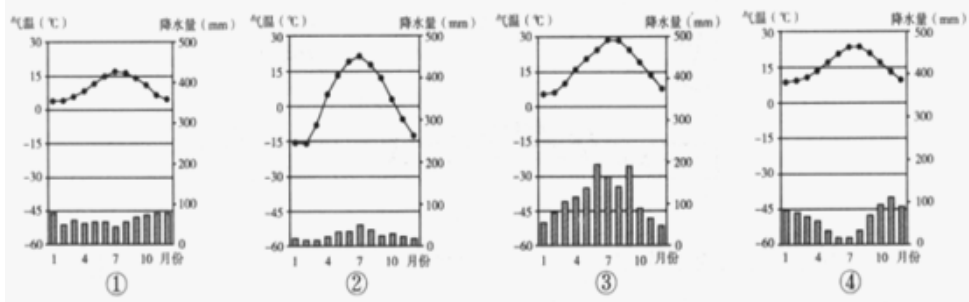
10. 阅读图文资料,回答问题。

“义新欧”班列是服务于“一带一路”战略的中国到欧洲的国际铁路班列的简称。它的起点是我国浙江省义乌市,到2017年1月已能直通英国伦敦。首列从中国到英国的列车被媒体誉为“用现代科技重新打通古代丝绸之路”的例证。

世界主要气候类型分布图及“义新欧”路线示意图



图中的四个城市气候资料



(1) “义新欧”班列途经义乌、阿斯塔纳、伦敦和米兰四个城市。图11中,①对应的城市是_____,②对应的城市是_____。

(2) 从海陆位置来看,图中①表示的气候类型主要分布在大陆_____(东岸/西岸),②表示的气候类型主要分布在_____(内陆/沿海)地区。

(3) 图中四个城市中气温年较差最大的是_____(答序号),其影响因素是_____。年降水量最多的是_____(答序号),该城市夏季的气候特征为_____。

(4) 某同学查资料时,看到一则关于④城市冬季发生洪水的报道。你认为这则报道可信吗?_____,理由是_____。

11. 阅读图文资料，回答问题。

2016年1月19日至23日，国家主席习近平对沙特阿拉伯、埃及、伊朗三国进行国事访问，并访问阿盟总部。



阿盟成员国示意图



沙特阿拉伯国旗

- (1) 阿盟成员国以 _____ 人种为主。撒哈拉沙漠以南非洲主要以 _____ 人种为主。
- (2) 从沙特阿拉伯国旗可以看出，_____ 语是该国通行的语言。该国人民主要信仰 _____ 教。在图中该国最可能见到的宗教建筑形式是 _____ 。



A



B



C

- (3) 图中属于沙特阿拉伯传统服饰的是 _____ 。从适应地理环境的角度评价，沙特传统服饰的优势是 _____ 。



A



B



C



D

- (4) 伊朗地处西亚，地区冲突不断，在协调地区冲突中发挥重要作用的国际组织是 _____ 。

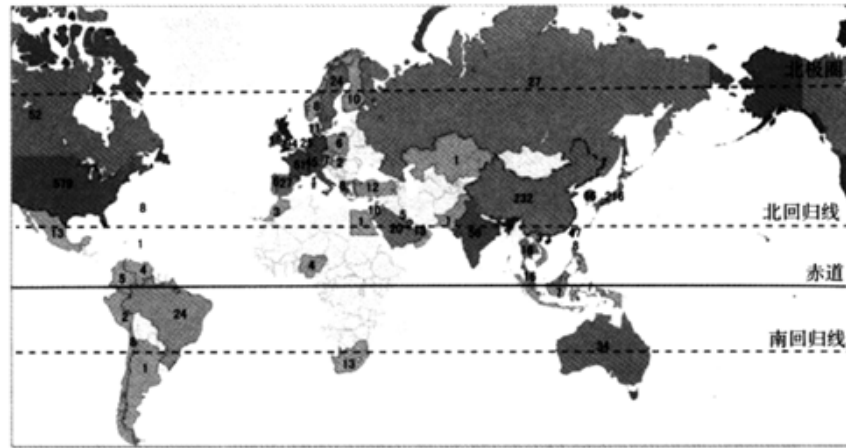
- A. 联合国 B. 世界贸易组织
C. 国际奥委会 D. 国际货币基金组织

- (5) 从经济发展水平看，三国均属于 _____ ，因此中国和他们之间的合作称为 _____ 。

12. 阅读图文资料，回答问题。

《福布斯》是一本美国商业杂志，以发表金融、工业、投资和营销等主题的原创文章著称。2015年《福布斯》根据营收、利润、资产和市值这四大指标评选出全球规模最大、最有实力的2000家企业。

图为2015年世界2000强企业数量分布示意图（单位：个）



- (1) 世界2000强企业主要分布在_____ (南/北) 半球, 可见世界经济发展_____ (均衡/不均衡)。
- (2) 据图可知, 世界2000强企业数量居前三位的国家依次是(从高到低排列)_____、_____、_____。
- (3) 据图推知, 经济发展均衡的大洲是_____, 经济发展最落后的大洲是_____。
- (4) 任何国家要在世界上生存和发展, 都必须与其他国家合作。列举国家间进行经济合作的主要方式_____、_____、_____。(至少三项)

13. 阅读图文资料, 回答问题。

大自然为人类提供生活和生产的基本物质来源。在社会经济迅猛发展的时代, 随着资源需求的不断增长, 理解人类是否生活在地球可承载的限度之内, 变得愈加重要。

资料1

生态足迹是人类为满足自身需求(例如: 获取资源、消纳废弃物)而利用的所有具有生态生产能力的土地和水域的空间面积总和, 包括耕地、草地、建设用地、渔业用地、林木产品生产所需的林地, 以及吸收海洋无法吸收的二氧化碳排放所需的林地。生态足迹用“全球公顷”为单位表达。

资料2

自20世纪70年代以来, 全球进入生态超载状态, 人类的生态足迹超过了地球生态系统的承载能力。目前生态超载情况已经达到了需要大约1.5个地球, 才能满足人类需求的地步。自然可以承受短期的环境超载, 但如果长期如此, 会带来严重生态环境问题。

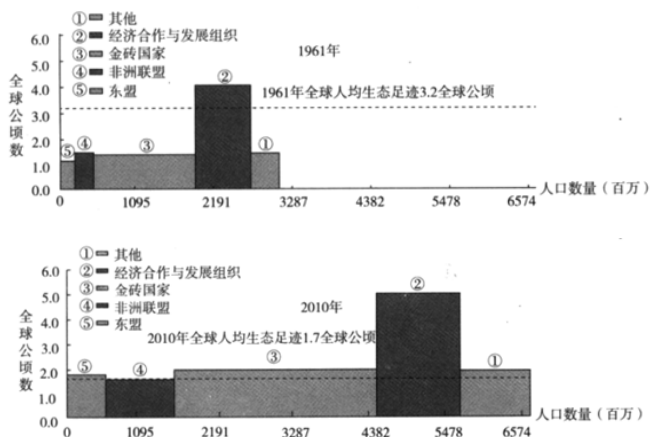
资料3

经济区域与其主要成员国

经济区域名称	主要成员
经济合作与发展组织	加拿大、美国及欧洲经济合作组织的成员国等共 20 个国家
金砖国家	俄罗斯、中国、巴西、印度、南非
东南亚国家联盟(简称: 东盟)	马来西亚、印度尼西亚、泰国、菲律宾、新加坡、文莱、越南、老挝、缅甸、柬埔寨
非洲联盟	非洲 54 个国家

资料4

下图分别为1961年与2010年不同经济区域的生态足迹(虚线为世界平均水平)



- (1) 依据资料，世界人均生态足迹是世界生态足迹与 _____ 的比值，可以反映世界人均的资源消耗水平。
- (2) 据图可知，与1961年相比，到2010年世界人口总量大约增长了 _____ 百万人，人均生态足迹减少了 _____ 全球公顷。其中人口增长幅度最大的经济区域是 _____，人均资源消费水平始终最高的经济区域是 _____。（以上两空填写经济区域名称）
- (3) 总体而言，全球生态资源消耗总量呈 _____（增加 / 减少）趋势，由此可能引发 _____、 _____ 等问题。
- (4) 为了保护生态环境，请你从学生自身的角度出发，提出两点建议 _____。