

版权所有

复制必究

2018 年度中央机关及其直属机构考试录用公务员

《行测》模考试卷（二）

重要提示：

为维护您的个人权益，确保公务员考试的公平公正，请您协助我们监督考试实施工作。

本场考试规定：监考老师要向本考场全体考生展示题本密封情况，并邀请 2 名考生代表验封签字后，方能开启试卷袋。

仅限华图教育内部教学使用！

二〇一七年

条
形
码

请将此条形码揭下，
贴在答题卡指定位置。

准考证号

姓名

注意事项

一、此项测验分为五个部分，135 道题，总时限 120 分钟。各部分不分别计时，但都给出了参考时限，供答题时合理分配时间。

二、请按照要求在答题卡上填写好自己的姓名，涂写好准考证号，严禁折叠答题卡。

三、必须在答题卡上答题；在题本上答题，一律无效。

四、监考人员宣布考试开始时，方可答题，宣布考试结束时，应立即停止答题。

题本、答题卡，草稿纸一律留在桌上，待监考人员确认数量无误，允许离开后，方可离开考场。如果你违反了以上任何一项要求，都将影响你的成绩。

五、在这项测验中，可能有些试题较难，因此你不要在一道题上思考时间太久，遇到不会答的题目可先跳过去，如果有时间再去思考，否则，你可能没有时间完成后面的题目。

六、试题答错不倒扣分。

停！请不要往下翻！听候监考老师的指示。

否则，会影响你的成绩。

第一部分 常识判断

(共 20 题, 参考时限 15 分钟)

根据题目要求, 在四个选项中选出一个最恰当的答案。

请开始答题:

1. 每年 6 月 5 日是“世界环境日”, 2017 年我国设定的主题是:

- A. 绿水青山就是金山银山
- B. 改善环境质量推动绿色发展
- C. 践行绿色生活
- D. 向污染宣战

2. 2017 年 3 月 31 日国务院批复成立的七个自贸区不包括:

- A. 辽宁
- B. 江苏
- C. 河南
- D. 陕西

3. 下列历史事件说法正确的是:

- A. “九一八事变”发生于 1931 年 9 月 18 日, 是日本在东北蓄意制造并发动的侵略战争
- B. “华北事变”是指继“七七事变”之后, 日本侵略军蚕食华北地区的一系列事件的统称
- C. “西安事变”是 1935 年 12 月 12 日张学良和杨虎城为逼蒋抗日, 在西安发动的“兵谏”
- D. “七七事变”发生于 1937 年 7 月 7 日夜, 是日军全面侵华战争的开端, 中国抗战的起点

4. 下列图片所反应的工艺出现时间最早的是:



①



②



③



④

A. ①

B. ②

C.③

D.④

5.关于宪法下列选项说法正确的是：

A.宪法是国家的根本大法，适用于本国人民，是特定社会政治经济和思想文化条件综合作用的产物

B.绝大多数国家以一部统一的法典形式规定国家的根本制度、根本任务、基本制度和基本原则

C.宪法可以是成文的，也可以是不成文的，美国是世界上最早的宪法国家

D.宪法惯例存在于不成文宪法国家，成文宪法国家中没有宪法惯例

6.甲和乙在同一个工厂上班，两人因工作产生矛盾，甲对乙记恨在心，遂想报复乙。甲到市场上购买菜刀，准备下班之后教训乙。甲在尾随乙的过程中，被警觉的乙发现并报警，后被警察抓获。甲的行为属于：

A.犯罪预备

B.犯罪中止

C.犯罪未遂

D.犯罪既遂

7.关于四大名著，下列说法错误的是：

A.《西游记》是中国古代第一部浪漫主义章回体长篇神魔小说

B.《红楼梦》是中国历史上最早用白话文写成的章回小说

C.《三国演义》以《三国志》为蓝本，是中国第一部长篇章回体历史演义小说

D.《水浒传》是一部以描写古代农民起义为题材的长篇小说，版本众多，流传极广

8.唐朝有很多著名诗人，下列诗句与作者对应正确的一项是：

A.野旷天低树，江清月近人——孟郊

B.葡萄美酒夜光杯，欲饮琵琶马上催——李白

C.南朝四百八十寺，多少楼台烟雨中——杜牧

D.白云一片去悠悠，青枫浦上不胜愁——王维

9.下列历史事件排序正确的是：

A.杯酒释兵权——焚书坑儒——设军机处

B.昭君出塞——玄奘取经——郑和下西洋

C.孝文帝改革——王安石变法——庆历新政

D.光武中兴——文景之治——贞观盛世

10.下列史书与成书朝代对应正确的是：

A.《汉书》——西汉

B.《后汉书》——东汉

C.《资治通鉴》——北宋

D.《三国志》——东晋

11.有一种钱币从汉朝开始使用，同时也是中国钱币史上使用时间最长的金属货币，这种钱币是：

A.刀币

B.环钱

C.交子

D.五铢钱

12.书法是我国汉字特有的一种传统艺术，下列有关书法艺术表述错误的一项是：

A.隶书，书写效果略微宽扁，横画长而直画短，讲究“蚕头燕尾”

B.草书特点是结构简省、笔画连绵，形成于唐代

C.行书在隶书的基础上发展而来，是介于楷书、草书之间的一种字体

D.楷书也叫真书、正书，从隶书演变而来，更趋简化，横平竖直

13.下列关于我国省份的表述错误的是：

A.陕西有“古代历史的博物馆”之称，是古代秦国所在地，简称“秦”或“陕”

B.青海是我国唯一以湖泊而得名的省，省会是西宁

C.广西壮族自治区与缅甸、老挝、越南相邻，简称“桂”

D.河南是中国古代“九州”中的“豫州”，简称“豫”

14.二十四节气是指中国农历中表示季节变迁的二十四个特定节令，下列关于二十四节气表述正确的一项是：

- A.根据地球在赤道面上的位置变化制定而成
- B.在商周时期，二十四节气已经完全确立下来，开始指导农事活动
- C.汉武帝时期，二十四节气被编入《太初历》，明确了其在历法上的地位
- D.2017年二十四节气被正式列入联合国教科文组织人类非物质文化遗产名录

15.下列与“老当益壮，宁移白首之心；穷且益坚，不坠青云之志”出自同一诗人的是：

- A.海内存知己，天涯若比邻
- B.无边落木萧萧下，不尽长江滚滚来
- C.黑云压城城欲摧，甲光向日金鳞开
- D.最是一年春好处，绝胜烟柳满皇都

16.下列关于核辐射的说法错误的是：

- A.核辐射通常称之为放射性，并不存在于所有的物质之中
- B.核辐射可以使物质引起电离或激发，也称为电离辐射
- C.核爆炸释放出巨大的能量是因为发生了链式反应
- D.核辐射主要是 α 、 β 、 γ 三种射线， γ 射线主要从人体外部对人体造成损害

17.下列现象与其物理原理对应错误的是：

- A.湿衣服会干——水的蒸发
- B.烧水水会开——水的沸腾
- C.冬天水会结冰——水的凝固
- D.冬天冰冻的衣服会干——水的汽化

18.冬天的时候，道路两旁的树干通常被刷成白色，这是因为：

- A.看上去树木整齐又漂亮，增加视觉美感
- B.创建文明、卫生城市的要求与规定
- C.杀死害虫、细菌，从而使树木更好的生长
- D.维护市容市貌，体现本地的文化素养高

19.五岳是对我国五大名山的总称，下列关于五岳的说法正确的是：

- A.五岳一般是指东岳泰山、西岳华山、南岳黄山、北岳恒山和中岳嵩山
- B.五岳中海拔最高的是东岳泰山，海拔 2154 米
- C.“五岳归来不看山，黄山归来不看岳”是沈括对黄山的赞誉
- D.五岳中的东、西、北、中四岳都位于黄河流域

20.潜艇是一个国家现代化工业水平和国防实力的象征，下列关于潜艇的说法错误的是：

- A.潜艇按艇体结构可分为双壳潜艇、一壳半潜艇和单壳潜艇
- B.潜艇按体积可分为大型、中型或小型和水下自动机械装置等
- C.潜射反舰导弹是现代潜艇主战装备之一，用于攻击各种水面目标
- D.第二次世界大战后，潜艇广泛运用，在多国海军中担任重要位置

※※※第一部分结束，请继续做第二部分！※※※

第二部分 言语理解与表达

(共 40 题, 参考时限 35 分钟)

本部分包括表达与理解两方面的内容。请根据题目要求, 在四个选项中选出一个最恰当的答案。

请开始答题:

21. 今年 5 月在萨格勒布举行的第 49 届世乒赛上, 我国运动员们_____, 囊括了五项冠军。那一刻, 台下掌声经久不息, 国人的热情高涨。这意味着我们向世界展示了宝贵的奥运精神和中国自信!

填入划线部分正确的一项是:

- A. 所向无敌
B. 不可一世
C. 万夫不当
D. 攻其不备

22. 毫无疑问, 上海投放的 100 把共享雨伞全部丢失, 这明显是人为借走不还所致。与此前共享单车被占为己有一样, 共享雨伞在试运营阶段就遭遇_____。只是, 共享雨伞丢失并不是_____国民素质高低的尺子。

填入横线处最恰当的一项是:

- A. 反戈一击 丈量
B. 一蹶不振 考评
C. 落井下石 判断
D. 当头一棒 衡量

23. 网络终究是一个虚拟世界。对朋友圈的使用, 不能偏离其私人属性, 在朋友圈里点赞, 应把握有限、有度、有用的原则。正确的“点赞”, 是在合乎语境的情况下, 通过“点赞”这一社交符号来_____双方交流和情感沟通。同时, 相关部门和微信平台应加强监管, 努力扫除盲点, 不给虚假宣传、广告推广者_____, 避免虚假承诺、玩文字游戏等乱象。如此, 才能让点赞有意义, 大家也能活得更真诚、更轻松。

填入横线处最恰当的一项是:

- A. 加速 星火燎原
B. 加强 滥竽充数
C. 促进 可乘之机
D. 推进 千载难逢

24. 在能源领域, 核电产业一直备受关注。借助于核电专项的支持, 压水堆重大专项示范工程 CAP1400 实现了_____, 其安全性和经济性均实现了“青出于蓝而胜于蓝”, 使我国核电产业链摆脱了受制于人的局面。

填入横线处最恰当的一项是:

- A. 自主化
B. 产业化
C. 规范化
D. 跨越化

25. 司法公开、释法说理, 是司法机关回应社会关注的正确方式。面对汹涌舆情, 司法机关既不能_____、漠不关心, 也不能为其左右、_____。如何做到公开和公正? 离不开推进以审判为中心的诉讼制度改革。坚持实事求是, 坚守法治定力, 重视舆论而不为舆论干扰, 才能真正维护和提高司法公信力。

填入横线处最恰当的一项是:

- A. 视而不见 众说纷纭
B. 充耳不闻 人云亦云
C. 熟视无睹 固步自封
D. 心不在焉 拾人牙慧

26. 成都是一座拥有 2300 多年建城史的历史文化名城, 在长期的建设发展中, 孕育积淀出思想开明、生活乐观、悠长厚重、独具魅力的天府文化特质。我们要传承历史文化, 弘扬现代文明, 用新发展理念凝聚城市精神, _____文化建设方向, 让天府文化成为_____成都魅力的一面旗帜。

填入横线处最恰当的一项是:

- A.指引 体现
B.引领 彰显
C.带领 彰显
D.引导 体现

27.里耶古街的建筑风格以当地土家族建筑为主调，同时又_____了赣、苏、皖、浙以及西洋等的建筑风格，形成了独有的多元特色。2002年，里耶出土3.7万余枚秦简，一时轰动中外。秦简内容_____，涵括户口、土地开垦、物产、田租赋税、劳役徭役等相关政令和文书，甚至包括了迄今为止最早的乘法口诀表，“北有西安兵马俑，南有里耶秦简牍”的说法由此流传。

填入横线处最恰当的一项是：

- A.综合 无所不包
B.融汇 无与伦比
C.融合 包罗万象
D.融会 引人入胜

28.说起环保，谈到绿色，人人赞同；一到行动，有些人却_____。强有力的环保风暴，充分显示了党中央“像保护眼睛一样保护生态环境，像对待生命一样对待生态环境”的坚强决心，也_____出一些地方和企业环境保护“说起来重要、喊起来响亮、做起来挂空挡”的尴尬。

填入横线处最恰当的一项是：

- A.避而远之 映照
B.退避三舍 观照
C.委屈求全 映照
D.望而却步 观照

29.无论是哈佛中国论坛，还是哈佛中国课，“走红”的关键在于始终_____中国，方便人们从古老的东方智慧、现代的商业创新中_____营养。这或许有助于看清这个复杂而又多变的世界，真正抓住属于自己的发展机遇。

填入横线处最恰当的一项是：

- A.关注 吸收
B.凝聚 摄取
C.聚焦 汲取
D.凸显 攫取

30.帮助贫困群众摆脱“懒汉思想”，需创新帮扶工作方法。调研发现，一些帮扶干部遇到挫折，容易打退堂鼓，为如期完成帮扶任务，不惜_____、包办代劳。要想贫困群众跳脱“等靠要”，其经验就是依靠群众，这样才能把思想扶贫工作做得_____。

填入横线处最恰当的一项是：

- A.牝鸡司晨 有条不紊
B.李代桃僵 风生水起
C.事必躬亲 有板有眼
D.越俎代庖 有声有色

31.今天，改革已进入攻坚期，进入深水期，需要解决的问题都是难啃的“硬骨头”，如果不解放思想，不拿出胆魄，就有可能_____。要拿出“第一个吃螃蟹”的勇气，敢为天下先，大胆地探索实践，改革创新；拿出“明知山有虎，偏向虎山行”的勇气，越是矛盾多、难题大，越要与时俱进，攻坚克难；拿出“壮士断腕”的勇气，敢于改自己的_____思想，革自己的“小辫子”。

填入横线处最恰当的一项是：

- A.前功尽弃 陈旧
B.前功尽弃 陈腐
C.雷大雨小 陈旧
D.雷大雨小 陈腐

32.古代文官们都是读书明理之人，他们也具有无背于圣贤之道的_____感。这种爱好幽默的情趣，尤其在他们谈论揶揄鸿胪寺礼官时表现无遗。他们所谓“无哭王唱，姜辣李苦”，对于这几位赞礼官古怪的声调作了很准确的描写。虽然行礼时候，他们个个_____，散班之后却总是有很多令人捧腹的故事在他们中间流传，譬如说礼官自己忘了转弯，唱转而不转，武臣不等赞礼官唱疏而先行下跪等等。

填入横线处最恰当的一项是：

- A.戏谑 正襟危坐
B.敬畏 表情肃穆

C.幽默 一本正经 D.庄重 全神贯注

33.沈颢寿，福州市人。其金石书画，真草篆隶_____兼通，尤以颜、褚二体为最，书法功力深厚。作品多次参加全国性和国际性展览，备受_____。

填入横线处最恰当的一项是：

A.熟悉 推崇 B.熟悉 尊宠
C.熟习 推崇 D.熟习 尊宠

34.面对指责自己的锦旗，作何选择，_____着不同的逻辑。针锋相对，以儆效尤，也许_____；放下身段，以理解求和解，则是另一种怀柔的方式。从网友投票看，后者显然更孚人心。当执法人员节制手中权力，展现宽容襟怀时，收获的将是更多认同。

填入横线处最恰当的一项是：

A.昭示 立竿见影 B.晓示 弄巧成拙
C.启示 吹糠见米 D.揭示 着手成春

35.文化创新，既是在交流的过程中传播，也是在_____的基础上发展。原材料成本高企，落后的作坊式生产，曾让印度东部的蜡像雕刻行业_____。对于传统手工艺而言，若能搭上产业转型升级的快车，_____沉睡的文化资源，根据市场需求构建文创产业价值链，重放异彩并非难事。

填入横线处最恰当的一项是：

A.继承 步履维艰 唤起 B.比较 难以为继 唤醒
C.继承 难以为继 唤醒 D.比较 步履维艰 唤起

36._____天府文化，扬城市之韵。成都，既有传统文化的优雅从容，又有现代文明的前卫时尚；既有崇尚创新的基因，又有_____的气度。要深度发掘地域文化特质，从市民丰富多彩的生产生活实践中汲取营养，推动天府文化创造性转化、创新性发展，彰显继往开来、_____的时代风尚，发展“创新创造、优雅时尚、乐观包容、友善公益”的天府文化，让人文成都别样精彩。

填入横线处最恰当的一项是：

A.培育 海纳百川 与时俱进 B.孕育 包罗万象 推陈出新
C.涵养 兼容并蓄 革故鼎新 D.传承 含垢纳污 激浊扬清

37.好的教育，应该让孩子们_____自己的天性、_____心中的好奇、_____童年的意义。教育最主要的目的，其实是引燃孩子们持续一生的学习热情，而不是让他们为了某些现实的利益压抑自己追求快乐的冲动。

填入横线处最恰当的一项是：

A.释放 发现 还原 B.释放 探索 还原
C.激发 探索 回归 D.激发 发现 回归

38.安然于无闻，执着于真知。工匠精神，既是一种_____本心、求精求新的态度，又是一个人的_____和整个社会的沉淀。为每份设计_____情感，为创造而快乐、为专注而感动，未来某一天，当我们面对“中国智造”时就可以自豪地说：“瞧，那是我设计的！”

填入横线处最恰当的一项是：

A.呵护 沉积 赐予 B.坚守 沉潜 赋予
C.恪守 沉积 寄予 D.笃守 沉潜 授予

39.以高铁为镜，我们涵养精益求精的大国工匠精神。_____，中国制造面临过这样的尴尬：号称是世界工厂、制造大国，老百姓却_____，去国外抢购保温杯、电饭煲、马桶盖等普通日用品。中国铁路_____的过程，为中国制造突围提供了有益借鉴。以前是“分到分不用争，寸到寸不过问”，而如今检验标准精确到了0.01毫米。

填入横线处最恰当的一项是：

- A.毋庸置疑 好高骛远 破茧成蝶 B.毋庸讳言 小题大做 脱胎换骨
C.毋庸讳言 舍近求远 凤凰涅槃 D.毋庸置疑 舍本逐末 欲火重生

40.茨威格于1881年出生在维也纳。世纪之交的维也纳，是世界知名的文化大都会。欧洲各民族文化在这里渗透交融，艺术和文学因此呈现出花团锦簇、_____的多元景观。茨威格在这样的环境中_____，_____地爱上了文学。他16岁就开始在文学杂志上发表诗歌，之后一发不可收拾，最终成为二战之前欧洲最成功的作家之一。

填入横线处最恰当的一项是：

- A.琳琅满目 耳濡目染 如痴如狂 B.一枝独秀 耳濡目染 如梦初醒
C.五彩缤纷 潜移默化 神魂颠倒 D.五花八门 潜移默化 如痴如醉

41.我国提交的TD—LTE—Advanced被国际电联确定为两大主流4G国际标准之一，国产申威中央处理器成功运用于“神威·太湖之光”超级计算机，第四代高温气冷堆核电技术保持国际领先……作为迄今为止我国最重大的战略性科技任务，十年来重大专项坚持“自主创新、重点跨越、支撑发展、引领未来”的指导方针，紧紧围绕国家战略目标，凝聚科技界、产业界的优势力量集中攻关，攻克了一批关键核心技术，产出了一大批标志性成果，充分彰显了自主创新的中国力量。

最适合上述文字标题的一项是：

- A.自主创新彰显中国力量
B.重大专项助力中国科技
C.中国科技取得瞩目成果
D.科学家们砥砺前行

42.没有人能轻易概括出科学的全貌，但这并不意味着科学看不见、摸不着。零距离触摸磁悬浮“轨道”，体验虚拟现实中的“驭火术”，通过跳舞的沙画直观感受纳米材料的神奇……科研机构设立公众开放日的目的，就是要让更多的人领略科学的奥妙。有科普工作者总结，“能让孩子动手玩一下的，就尽可能不去播放一些所谓的科普视频”。好的科普作品，永远不会缺乏观众。激发公众对科学奥秘探索的兴趣，我们的创新能力才会拔节升高。

这段文字的意图是：

- A.科研机构开放日的必要性
B.科学的魅力是可以把握的
C.科普作品好是吸引观众的关键
D.激发公众对科学奥秘的兴趣是眼下科普工作的重点

43.我们曾引以为傲的“中国制造”并没有想象中强大。有的制造业不禁自嘲：“辛辛苦苦一辈子，不如在资本市场讲个小故事！”虚拟经济的膨胀，产业资本避重就轻，拼命想挤进与土地、资金等关键要素最近的领域，被冷落的制造业面临“空心化”之危。

作者接下来可能谈论的是：

- A.“中国制造”的表面化繁荣
B.制造业从业者无力走出当前困境
C.制造业面临的危机
D.资本市场的发展现状

44.提供保障性安居工程用地，应对房价过快上涨，城市总体规划实施等，都需要一定的土地储备作保障。土地储备制度，有利于保证土地利用总体规划和城市总体规划实施，促进土地节约集约利用，提高土地利用效率。2015年以前，地方土地储备资金的来源贷款为主。新预算法实施后，银行贷款这条路就行不通了。新预算法规定，地方政府举借债务只有一条路，就是发行地方政府债券。除此以外，其他任何方式举债都不可以。这等于把“旁门左道”都堵死了，只开了一扇正门。这意味着，地方政府的土地储备融资需求，也应通过发

行地方政府债券的方式解决。

这段文字作者主要想说明的是：

- A.土地储备制度可解决城市发展中的一系列问题
- B.我国土地储备资金的来源发生了转变
- C.发行专项债券是地方政府举借债务的唯一途径
- D.以往地方政府举借债务的方式出现了弊端

45.中国企业特变电工的研发团队从关键技术研究、装备研制、工程集成设计等方面进行全面深入地研究、分析、论证，成功研制出了世界首个特高压柔性直流输电换流阀，开启了直流输电的新时代。换流阀是柔性直流输电的心脏，是直流电和交流电相互转换的桥梁，在柔性直流主设备中技术含量最高、挑战最大。据介绍，该产品可以解决现有新能源电力无法远距离、大规模外送，仅能依靠与火电打捆外送或就地近距离消纳的瓶颈问题，将有效推动新能源电力的大规模使用。

根据上述文字，下列说法错误的一项是：

- A.我国在柔性直流换流阀技术领域已处于领先地位
- B.现有新能源电力因其无法远距离、大规模外送等瓶颈无法大规模使用
- C.换流阀新技术将解决现有新能源电力面临的问题
- D.换流阀成为制约柔性直流输电技术的关键

46.有个太太多年来不断抱怨对面的太太很懒惰：“那个女人的衣服永远洗不干净，看，她晾在外院子里的衣服，总是有斑点，我真的不知道，她怎么连洗衣服都洗成那个样子……”直到有一天，有个明察秋毫的朋友到她家，才发现不是对面的太太衣服洗不干净。细心的朋友拿了一块抹布，把这个太太的窗户上的灰渍抹掉，说：“看，这不就干净了吗？”

这则故事的寓意是告诉我们要：

- A.宽以待人
- B.反躬自省
- C.实事求是
- D.不耻下问

47.进入 21 世纪以来，非洲积极推进工业化，谋求自主可持续发展，快速发展势头锐不可当。以曼德拉先生当初的眼光看，当前的非洲“正站立在非洲世纪的破晓时分”。在此背景下，各国发展对非关系，应更多思考如何让自身政策与非洲的切实需求相匹配，发自内心地看好非洲发展前景，通过合作实现共赢。中非关系实践的丰硕成果，恰恰印证了这个道理。

这段文字主要说明了：

- A.中非合作加速推进，吸引世界目光
- B.在对非问题上，中非关系值得各国借鉴
- C.非洲工业化发展取得显著成绩
- D.合作共赢是中非关系取得成果的关键

48.今年 4 月以来，成都、重庆、昆明等地机场连续出现多起无人机“黑飞”，影响了民航客机正常起降，引发广泛关注。据统计，今年 4 月份全国航班正常率同比下降 3.13 个百分点，其中无人机干扰民航客机是重要原因之一。无人机消费市场的迅速发展，给传统空域管理体系带来了极大挑战。一些无人机使用者对“机场净空区”等航空法律规则意识淡薄，导致了“黑飞”和“扰航”事件频频发生。同时，由于无人机通常由非金属材料制作，目标小，低空、慢速飞行，导致传统雷达无法有效探测，且监管涉及多个环节与部门，存在管控难、防范难、取证难、处置难等问题。

对这段文字概括最准确的一项是：

- A.无人机使用者的航空规则意识亟待提升

- B.传统空域管理体系与无人机发展产生了矛盾
- C.无人机消费市场的发展需要进行一定程度的遏制
- D.无人机的特性决定了目前航空监管的局限性

49.华盛顿大学宣布，他们发明了一种高科技电子手套。美国残疾人培训研究所所长琳·维诺波尔说，这种手套可以在聋人父母与正常孩子之间、正常父母与聋人孩子之间进行沟通。维诺波尔特别感兴趣的是，这一装置可以将手语翻译成西班牙语和英语，这会给移民家庭带来很大帮助。此外，它还有其他多种用途，如用在战争中，美国军方正在开发一种与此类似的技术，以帮助士兵在战场上进行“默默的沟通”。

从文段中我们可以得出“高科技电子手套”的作用是：

- A.帮助聋人与外界沟通
- B.用于作战时士兵间的沟通
- C.可以帮助人们实现特殊情况下的沟通
- D.实现多种外语的相互转化

50.在英国亚皮丹博物馆，有两幅藏画引人注目。一幅是人体骨骼图，一幅是人体血液循环图。这是当年一个名叫约翰·詹姆斯·麦克劳德的小学生的作品。上小学时，麦克劳德想亲眼看看狗的内脏，于是和几个同学偷偷套住一只狗进行宰杀，却不知这狗是校长家的。校长很恼火，但他的处罚是要麦克劳德画一幅人体骨骼图和一幅血液循环图。麦克劳德知错认错，非常认真地完成两幅图，得到了原谅。此后，他致力于解剖学研究，终成著名解剖学家。

这段文字意在说明：

- A.尊重孩子才是正确的选项
- B.孩子丰满的心灵离不开自由生长
- C.孩子对未知世界的好奇心与探索精神，值得呵护
- D.每个孩子都渴望被尊重

51.在科学界，“鬼稻”叫杂草稻，并被定性为田间的恶性杂草。在田间，杂草稻是一枚可以“打满分”的“潜伏者”，它与正常的栽培水稻争阳光、争水、争养分，严重影响着水稻产量与品质。而且，它们的米粒口感坚硬粗糙，如果收割时混入了这样的“假”米，农民就卖不出好价钱。目前，杂草稻已成为全球稻田的疾患，在东南亚、南美洲等稻区大面积分布，我国江苏、广东、辽宁和宁夏等地已经大面积发生“污染”，已成为我国稻田杂草中除稗草外最严重的杂草之一。在江苏，它们的比例占到10%—20%。灾害严重的稻田甚至大面积绝收，“这时候科学家必须得出手了”。

根据上述文字，下列说法正确的一项是：

- A.“鬼稻”因其潜伏隐秘而得名
- B.“鬼稻”对水稻的产量和质量产生影响，导致农民收入降低
- C.“鬼稻”已成为世界公害，对我国影响尤为严重
- D.科技将成为消灭“鬼稻”的最后杀手锏

52.经济体制改革是全面深化改革的重点，核心问题是处理好政府和市场的关系，使市场在资源配置中起决定性作用和更好地发挥政府作用。当前，我国经济发展还存在市场体系不完善、市场规则不健全、市场秩序不规范、市场竞争不充分等问题。要更好地发挥政府作用，就要加强市场体系建设，进一步完善社会主义市场经济体制，在保证市场发挥决定性作用的前提下，管好那些市场管不了或管不好的事情。

这段文字主要阐释了：

- A.政府和市场的关系是经济体制改革的重点
- B.市场规则不健全是经济体制改革的出发点
- C.市场不能代替政府在资源配置中的作用

D.如何更好地发挥政府在经济体制改革中的作用

53.精准扶贫的方法要因地制宜，信息传播的方式也要因人而异。这五年来，脱贫攻坚工作的一个特点，就是在政策信息传播方面比以往更加精心和贴心。有的地方专门发布一张“脱贫攻坚政策宣传明白纸”，将扶贫政策、流程手续、补助标准等条分缕析；有的地方设立“脱贫攻坚工具箱”，不仅记录了帮扶责任书等信息，还放置了扶贫手册、政策问答等致富经，让人一目了然。脱贫是一项系统工程，任何一个步骤都马虎不得。让老百姓做扶贫政策的明白人，算好明白账，才能将政策的甘霖洒入基层的土壤，开出共同富裕的花朵。

这段文字意在说明：

- A.政策传达要精心贴心
- B.如何让群众明白扶贫政策
- C.脱贫是系统工程，任重道远
- D.精准扶贫的方法很重要

54.美国太空探索技术公司（SpaceX）用“猎鹰9”火箭发射“龙”货运飞船，第十一次为国际空间站送去补给和实验设备。其中，备受瞩目的是一项中国自主研发的科学实验——空间环境下在PCR反应中DNA错配规律研究的科学载荷，该载荷将在空间辐射及微重力环境下，在轨开展抗体编码基因的突变规律研究。研发团队采用技术手段突破了在太空变温条件下实现基因扩增的技术难题。这一创举，一方面标志着我国自主研发科学实验首次登上国际空间站，另一方面，也标志着中美空间科学合作取得了“零”的突破。

根据上述文字，下列说法正确的一项是：

- A.“猎鹰9”火箭的作用是为国际空间站送去补给和实验设备
- B.在变温条件下，基因扩增无法实现
- C.我国自主研发科学实验取得了技术上的突破
- D.以往中美科学合作一直处于空白状态

55.每个人都有自己的“青春胎记”。回首过去，文学是我最深的青春记忆。学生时代简单而美好，只有两个字：读书。我学的是中文专业，不看书怎么行呢？导师的督促，更让我感到时间的紧迫。哪怕是吃饭的碎片时间，我也愿意用来品读一首小词；哪怕是在宿舍和教学楼之间穿行的短暂片刻，我也愿意用来回味一段经典。慢慢地，这成为一种习惯，不管有没有人催，只要一天不读书，就像没过日子一样，心中总是空落落的。

对文中出现的“青春胎记”理解正确的一项是：

- A.青春时代的文学滋养
- B.青春时期一份不悔初衷的执著和坚定
- C.不因坎坷而畏惧，不因困难而停步的追求
- D.专业和导师给自己留下的青春积淀

56.对下列句子进行重新排序，最恰当的一项是：

①驻藏大臣张荫棠入藏时曾带入各种花籽，唯有一种花籽长出来呈八瓣形，且耐寒，花瓣美丽，颜色各异

②“张大人”花，学名叫波斯菊，属菊花科，花朵呈菊花状，别名大波斯菊。

③当时，西藏通晓汉语的人很少，而会说“张大人”这一词汇的藏族同胞却大有人在。

④关于“张大人”花的花名由来，藏族作家阿来这样描述

⑤西藏处于高寒地区，在拉萨，原本极少有树木花卉，且品种单一

⑥一时间，拉萨家家户户争相播种，只知道是驻藏大臣带入西藏，因此起名为“张大人”相传至今

- A.④②⑤①③⑥
- C.⑤③①⑥②④

- B.②④⑤①⑥③
- D.②④①⑤③⑥

57.对下列句子进行重新排序，最恰当的一项是：

①青少年近视发病情况正在逐年恶化，青少年近视发病率已经高居世界第一位
②到时候，在航空航天、精密制造、军事等领域，符合视力要求的劳动力都可能面临较大缺口

- ③我国卫生与健康政策对视觉健康的保障也比较薄弱
④在当下中国，人们对视觉健康危机可能严重低估了
⑤假如没有有效的政策干预，到2020年，我国近视患病人口有可能高达7亿人
⑥与严重的视觉健康危机不对称的，是与国民视觉健康相关的研究十分缺乏

- A.①⑤②⑥③④
B.⑤②③⑥①④
C.④①⑤②⑥③
D.⑥③④⑤②①

58.WiFi路由器有辐射，晚上睡觉一定要关？当然，不关路由器，副作用的确很大！比如说很多人晚上会失眠，早上起不了床，头还有点晕……原因肯定是：信号太好，所以你老拿着手机，睡不着，也动得少！其实，WiFi路由器是无辜的，因为WiFi路由器产生的辐射是“非电离辐射”，而且辐射剂量非常低，几乎可以忽略。根据权威机构的规定，人体不同身体部位接受辐射的安全暴露限值是不高于1.6W/kg。研究发现，WiFi信号对人的头部造成的“辐射值”仅有0.0057W/kg，比限定的安全值低了280多倍！

文段想表达的意思是：

- A.WiFi信号对人的头部造成的辐射严重
B.晚上睡前尽量少玩手机
C.不关路由器对人体伤害非常大
D.控制不住玩手机是很多人失眠、头晕的罪魁祸首

59.据记载，孔子带弟子去泰山，在一个村口被小孩子挡住去路。赶车的子路与小孩争执起来，双方都指责对方“不懂礼貌”。当孔子下车询问时，小孩指着不远处自己用泥巴筑造的一座“城池”说：“前面有一座城池，是车子绕着城走呢，还是城为车子让路呢？”孔子深受触动，真诚地向小孩道歉，并让子路小心驾车绕过了“城池”。_____。它也许有形，比如小孩创造的作品，虽然只有数尺见方，但庄严的城楼、整齐的布局，闪耀着丰富的想象力；它也可以无形，深藏于心，却孕育着无数奇思妙想。

填入横线处最恰当的一项是：

- A.其实，每个孩子心中都有一座“城池”
B.孩子对未知世界的好奇心与探索精神，尤其值得呵护
C.事实上，尊重孩子心中的“城池”，才是正确的选项
D.尊重孩子的思维，呵护他们的好奇心和想象力，他们的人生可以过得精彩

60.朴实无华，明白晓畅，乃是一篇好文章的头一个，也是最基本的要求。关于这一点，老一辈的文学大家们曾经反复强调过。梁启超要算是文章高手了。梁启超创造了一种“新文体”。这种“新文体”不拘一格，俚语、韵语乃至外国语法均可入文，_____。梁启超说：“为什么要作文章？为的是作给人看。尤其是历史的文章，为的是作给人看。”文章写得让人看不懂，读来犹如雾里看花，这不但表明作者心目中没有读者，而且也失去了作文章的本意。

填入横线处最恰当的一句是：

- A.给读者带来了诘屈聱牙、不知所云的感受
B.但前提是必须“平易畅达”、“条理明晰”
C.梁启超强调好文章要做到“词达”
D.“文学革命”倡导者胡适对梁启超文章大力推崇

※※※第二部分结束，请继续做第三部分！※※※

第三部分 数量关系

(共 15 题, 参考时限 15 分钟)

在这部分试题中, 每道试题呈现一段表述数学关系的文字, 要求你迅速、准确地计算出答案。

请开始答题:

61. 一件刺绣由甲、乙、丙三人共同完成需要 10 天, 乙的工作效率是甲的 2 倍, 丙 2 天的工作量与乙 3 天的工作量相当。三人同时工作 5 天后, 丙有事离开, 当完成剩余作品 20% 时, 甲又被调走, 为了保证按照原计划工期完成 (原计划 10 天完成), 乙的工作效率需提高多少?

- A. 100%
- B. 200%
- C. 300%
- D. 400%

62. 10 位游客坐高铁从 A 市去往 B 市, 总费用为 3600 元。该班列车有商务座, 一等座和二等座三种选择, 价位分别是 500 元, 300 元, 100 元。则买商务座的人数最多比买一等座的人数多多少?

- A. 5
- B. 4
- C. 2
- D. 1

63. 某班有 4 名党员和 3 名入党积极分子, 现在要从其中选 3 人, 要求至少有 1 名党员和 1 名积极分子, 则不同的选法共有多少种?

- A. 30
- B. 48
- C. 56
- D. 60

64. 有四双完全相同的鞋, 现从中随机抽取三次, 每次抽取两只, 不放回, 连续抽中三双的概率是多少?

- A. $\frac{1}{24}$
- B. $\frac{6}{35}$
- C. $\frac{8}{35}$
- D. $\frac{5}{24}$

65. 为了倡导节约能源, 某市规定居民用电价格为: 每户每月不超过 50 度的部分按 0.5 元/度收取; 超过 50 度不超过 100 度的部分按 1 元/度收取; 超过 100 度的部分按 2 元/度收取。居民老王两个月缴纳电费 410 元, 且其中一个月用电量不能超过另一个月的 3 倍, 则老王家这两个月用电总量最少可能为多少度?

- A. 300
- B. 320
- C. 340
- D. 360

66. 周长相等的正方形和正六边形空地内, 要种植数量相等的花草, 则正方形与正六边形空地单位面积种植花草数量的比值是多少?

- A. 4: 9
- B. 9: 4
- C. $\sqrt{3}: 2$
- D. $2: \sqrt{3}$

67. 一瓶 100 克浓度为 60% 的酒精溶液, 倒出 $\frac{1}{4}$, 然后倒入等量的蒸馏水, 混合均匀后再将此溶液倒出 $\frac{1}{5}$, 又倒入等量的蒸馏水, 然后将此溶液与 400 克 40% 的酒精溶液混合。则混合后的酒精浓度是多少?

- A. 36%
- B. 39.2%

C. 45%

D. 49.6%

68. 三个人小宇，小文，小月每过一段时间都会去同一个敬老院看望孤寡老人，小宇每隔 4 天去一次，小文每隔 5 天去一次，小月每 6 天去一次，三人在 2016 年 1 月 15 日同时出现在敬老院，则下次同时出现是几月几日？

A. 3 月 15 日

B. 2 月 14 日

C. 3 月 16 日

D. 2 月 15 日

69. 小张、小王二人从 A、B 两地同时出发以各自固定的速度相向而行不断往返于两地之间。两人第一次相遇地点距离 A 地 35 千米，相遇后两人继续前行，两人第二次相遇地点距离 B 地 25 千米。那么两人第三次相遇的地点是？

A. 距离 A 地 25 千米处

B. 距离 A 地 15 千米处

C. 距离 B 地 15 千米处

D. 距离 B 地 25 千米处

70. 某天中午 11:30，王先生出发去家附近的市图书馆读书，在读书之前，他发现挂钟的时针与分针在一条直线上，奇妙的是，当他读完书之后，时针与分针也恰好在同一条直线上。读书期间，他共听到挂钟敲响三次（每逢整点、半点敲一次钟），则他读书的总时间是多少分钟？

A. 130

B. $130\frac{10}{11}$

C. 65

D. $65\frac{5}{11}$

71. 5 对夫妇参加一个宴会。某个时刻，除了张先生之外的所有人，他们的握手次数均不相同。则此时张太太握手多少次？（任意两人不重复握手、夫妻不握手）

A. 0

B. 1

C. 4

D. 7

72. 将一根 8 米长的绳子，对折两次之后从正中间剪断，然后再选出任意几段拼接起来，问可以拼接成多少种长度不同的绳子（接头处损失的长度忽略不计）？

A. 5

B. 6

C. 7

D. 8

73. 某城市出租车的收费标准为 3 公里以内起步价为 10 元，超过 3 公里的部分，每多 1 公里，多收 2 元。现在有甲乙二人乘坐出租车，甲行驶的公里数是乙的 2 倍，他们一共花了 50 元。问甲一共花了多少钱？

A. 18

B. 32

C. 20

D. 30

74. 环形跑道长 400 米，哥哥和弟弟从早上 6:00 在跑道的同一起点开始跑步。若两人背向而跑，在 6:10 时第 3 次相遇；若两人同向而跑，哥哥将在 7:00 的时候第 6 次追上弟弟。问哥哥跑一圈需要多长时间？

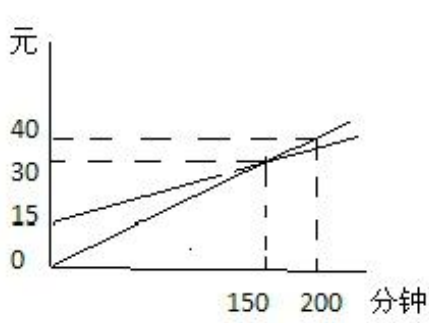
A. 5 分钟

B. 10 分钟

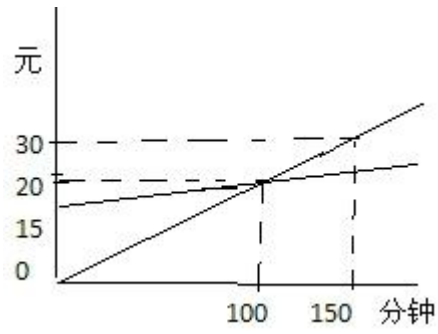
C. 15 分钟

D. 20 分钟

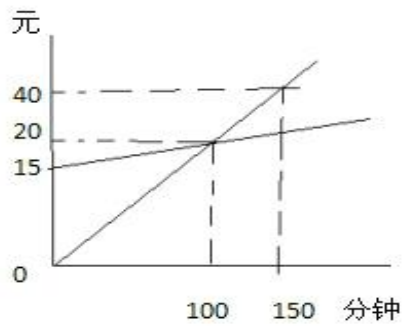
75. 电信公司推出两种电话收费方案，第一种月租 15 元，通话每分钟 0.1 元；第二种无月租，通话每分钟 0.2 元，下列哪个图像能表示这两种收费方案的关系？



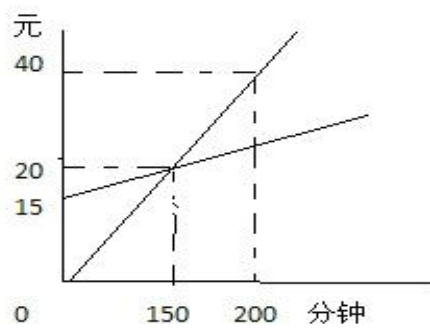
A.



B.



C.



D.

※※※第三部分结束，请继续做第四部分！※※※

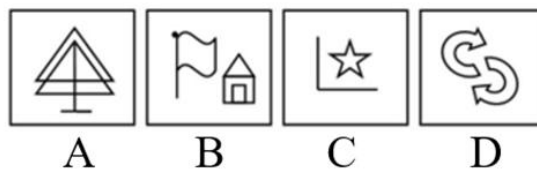

第四部分 判断推理

(共 40 题，参考时限 35 分钟)

一、图形推理，请按照每道题的答题要求作答。

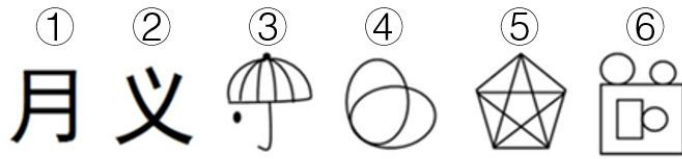
请开始答题：

76. 从所给的四个选项中，选择最合适的一个填入问号处，使之呈现一定的规律性：



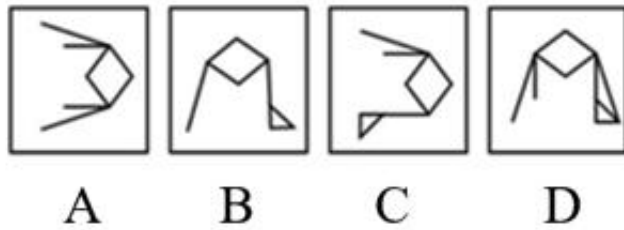
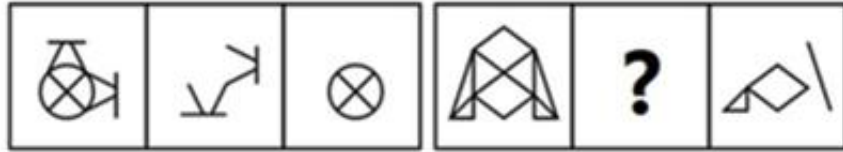
77. 把下面的六个图形分为两类，使每一类图形都有各自的共同特征或规律，分类正确的

一项是:

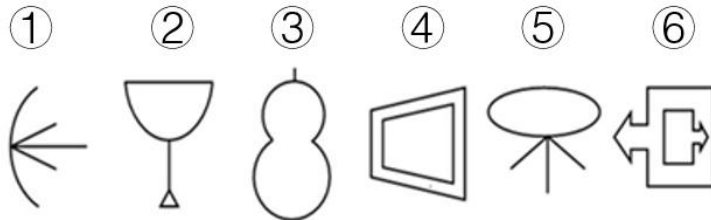


- A. ①③④, ②⑤⑥ B. ①②③, ④⑤⑥
 C. ①④⑤, ②③⑥ D. ①②⑥, ③④⑤

78.从所给的四个选项中, 选择最合适的一个填入问号处, 使之呈现一定的规律

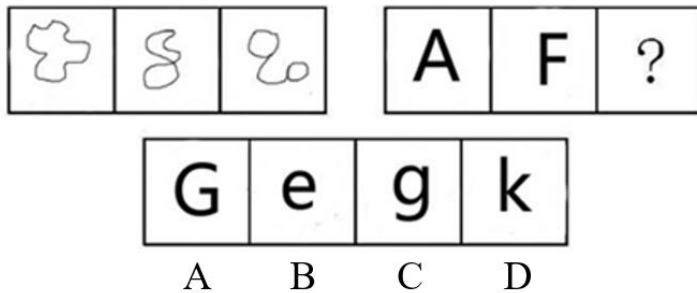


79.把下面的六个图形分为两类, 使每一类图形都有各自的共同特征或规律, 分类正确的一项是:



- A. ①③④, ②⑤⑥ B. ①②③, ④⑤⑥
 C. ①④⑥, ②③⑤ D. ①②⑥, ③④⑤

80.从所给的四个选项中, 选择最合适的一个填入问号处, 使之呈现一定的规律性:



81.从所给的四个选项中, 选择最合适的一个填入问号处, 使之呈现一定的规律性:



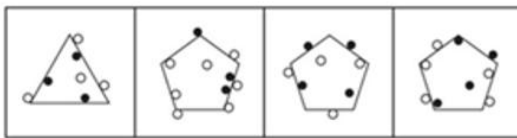
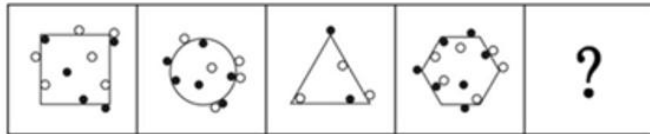
A B C D

82.从所给的四个选项中，选择最合适的一个填入问号处，使之呈现一定的规律性：



A B C D

83.从所给的四个选项中，选择最合适的一个填入问号处，使之呈现一定的规律性：



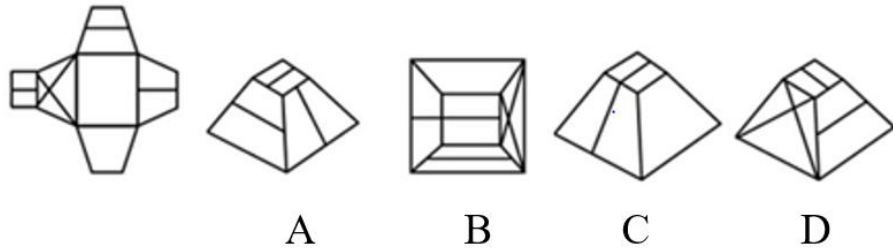
A B C D

84.从所给的四个选项中，选择最合适的一个填入问号处，使之呈现一定的规律性：



A B C D

85.左边给定的是纸盒的外表面，下列哪一项能由它折叠而成：



二、定义判断。每道题先给出定义，然后列出四种情况，要求你严格依据定义，从中选出一个最符合或最不符合该定义的答案。注意：假设这个定义是正确的，不容置疑的。

请开始答题：

86.冷暴力是暴力的一种，其表现形式多为冷淡、轻视、放任、疏远和漠不关心，致使他人精神上和心理上受到侵犯和伤害。冷暴力主要有两种情况：一是家庭暴力，多指夫妻双方产生矛盾时，漠不关心对方，将语言交流降到最低限制，停止或者敷衍性生活。二是职场冷暴力，是指上司或者群体用非暴力的方式刺激对方，致使一方或者多方心灵受到严重伤害的行为，比如让人长期饱受讥讽，漠视甚至于停止日常工作等刺激。

下列属于冷暴力的是：

- A.张方由于身体原因，工作常常请假，做事也消极懈怠，经理就逐渐减少了张方的工作量，把他的工作转交给其他同事
- B.公司安排陈丽出国出差半个月，由于国外通讯费昂贵，陈丽都没有打电话给丈夫，回来后丈夫指责陈丽对家庭漠不关心
- C.李平在办公室抱怨工作繁重，被领导听见了，后来领导经常当众嘲笑李平工作能力差，单位的工作也很少安排给李平，交代工作也让别人代转
- D.林如下班回到家，丈夫和公公婆婆在家里有说有笑，看到林如推门进来，他们便戛然而止

87.歧义句是在理解上会产生两种可能但在当时语境中只利用其中一种含义的句子。换句话说，就是可以这样理解也可以那样理解的句子，但不确定究竟在表达哪种意思。也就是语言文字的意义不明确，有两种或几种可能的解释。

根据上述定义，以下不会产生歧义的是：

- A.放弃美丽的女人让人心碎
- B.学校领导对他的批评是有充分思想准备的
- C.他抛下工作和妹妹到公园玩
- D.并非所有的劳动模范都不是党员

88.内在经济是指一个厂商在生产规模扩大时自身内部所引起的收益增加。

根据上述定义，下列属于内在经济的是：

- A.某饲料生产商由于扩张引进了一批先进设备，提高了生产效率，销售量比往年扩大了两倍
- B.国家对陶瓷出口行业实施优惠政策，降低了关税，一些陶瓷企业由于成本的降低，出口量不断增加
- C.由于煤炭存储量的减少，一些煤炭企业提高了价格来获得更多利润
- D.目前的手机生产行业发展迅速，规模不断扩大，竞争也非常激烈，一些技术落后的厂商逐渐地被淘汰

89.一个人的人格分为很多种，其中强迫型人格是指过于要求严格和完美，具有强烈的自制心理和自控行为的一种人格。

以下属于强迫型人格的是：

- A. 小张十分害羞，不敢参加社交活动，担心自己的言行受人讥笑
- B. 小陈是公司的财务，工作非常认真，每一个细小的差错都会被她发现
- C. 小邓认为自己非常完美，经常在朋友面前夸耀自己的才能
- D. 小王十分注意自己的行为是否得当，往往用十全十美的高标准要求自己，追求完美，同时又墨守成规

90. 生态学中两种不同种类的生物为了占据同一生态位产生了多种的关系，其中一种是侵害，指的是一种生物受益而另一种生物遭受损害。

以下属于侵害的是：

- A. 池塘中如果蝌蚪的密度过大，蝌蚪会分泌一种毒物，限制其他蝌蚪的生长发育，甚至增加其死亡率
- B. 为了保护当地生态，德国政府开始大规模捕杀从中国引入的大闸蟹，防止大闸蟹在德国水域泛滥成灾
- C. 经常会有一些寄生虫和蚊虫吸食犀牛的血液，有一种鸟会飞到犀牛背上，为犀牛啄食这些害虫
- D. 菟丝子常常攀附在豆科植物上，从接触宿主的部位伸出尖刺，戳入宿主直达韧皮部，吸取养分以维生

91. 自我知觉是社会知觉的一种形式，它是个体对自己的认识，以自我为认识的对象，也是指一个人通过对自己行为的观察而对自己心态状态的认识。

以下属于自我知觉的是：

- A. 敏而好学，不耻下问
- B. 三人行必有我师
- C. 吾日三省吾身
- D. 玉不琢，不成器；人不学，不知道

92. 心本管理就是指管理的关键是抓住人的心，让员工自觉自发地参与管理，并积极主动工作，以达成管理目标。心本管理的特点是攻心为上，假如你要用一个人的“手”，必须要用他整个的“人”；假如你要用他整个的“人”，你必须影响他整个的“心”。“治人者必先治己，治己必先治心；争天下者必先争人，争人者必先争心。”

根据上述定义，下列属于心本管理的是：

- A. 甲公司通过严格的管理制度让员工完成工作
- B. 乙公司通过奖励等制度调动员工的积极性创造新业绩
- C. 丙公司领导有很强的影响力，员工都死心塌地地跟着他干
- D. 丁公司工作人员彼此平等，有问题都一起讨论解决

93. 从众是指个体在群体的压力下，被迫遵从群体中多数人的思想和行为的过程。

下列属于从众的是：

- A. 办公室的同事最近都热衷于团购，小方在大家的影响下也开始团购一些生活用品
- B. 小张高考后想报考传媒专业，但是家人一致反对，在巨大的压力下，小张只好放弃了自己的想法
- C. 研究生毕业后，小丁很希望能够继续读博，但是身边的朋友却一致反对。最后小丁在导师的鼓励下成功考取了本校的博士

D. 王灵非常不喜欢吃西餐，但是男朋友一定要带她去本市最好的西餐厅，迫于无奈，王灵就一起去吃了一次西餐

94. 抑郁症又称抑郁障碍，以显著而持久的心境低落为主要临床特征，是心境障碍的主要类型。临床可见心境低落与其处境不相称，情绪的消沉可以从闷闷不乐到悲痛欲绝，自卑抑

郁，甚至悲观厌世，可有自杀企图或行为；甚至发生木僵；部分病例有明显的焦虑和运动性激越；严重者可出现幻觉、妄想等精神病性症状。

以下属于抑郁症的是哪一项：

- A. 小张期末考试成绩不理想，为此闷闷不乐了几天
- B. 范进中举后变得疯疯癫癫
- C. 周某由于投资失败，晚上经常失眠，白天也很少与人交谈
- D. 小李3岁不会开口说话，也不与其他小朋友交流

95. 双声叠韵是汉语的一种声韵现象。在对联和诗歌中比较常见，恰当地使用双声叠韵会增强联语的音乐美。一个双音节词中，两个字的汉语拼音的声母相同，就是双声，也就是同声母的字，可以构成双声。汉语拼音的韵母与用此韵母拼音所得的字，就是叠韵，也就是同韵母的字可以构成叠韵。

根据上述定义，下列诗句中用到双声叠韵的是：

- A. 乘风破浪会有时，直挂云帆济沧海
- B. 别有幽愁暗恨生，此时无声胜有声
- C. 力拔山兮气盖世，时不利兮骓不逝
- D. 田园寥落干戈后，骨肉流离道路中

三、类比推理。每道题先给出一组相关的词，要求你在备选答案中找出一组与之在逻辑关系上最为贴近，相似或匹配的词。

请开始答题：

96. 帽子：弁帽

- A. 衣服：贝雷帽
- B. 装束：缙绅
- C. 缝掖：衣裳
- D. 六畜：牛

97. 桌子：家具：木材

- A. 种子：水稻：粮食
- B. 石灰石：材料：石灰
- C. 黄梅雨：天气：黄梅
- D. 白干：酒：高粱

98. 水滴：石穿

- A. 花好：月圆
- B. 唇亡：齿寒
- C. 阳春：白雪
- D. 因地：制宜

99. 瞎子逛大街，看不见人：目中无人

- A. 强人所难：赶鸭子上架
- B. 照葫芦画瓢：照猫画虎
- C. 鸡蛋里挑骨头：弄巧成拙
- D. 屋漏偏逢连夜雨：每况愈下

100. 轻蔑：语气

- A. 调动：氛围
- B. 茂盛：青春
- C. 积极：思想
- D. 凛冽：深秋

101. 学科：物理：化学

- A. 眼镜：镜片：镜框
- B. 家具：茶几：抽屉
- C. 台灯：灯泡：灯罩
- D. 桥梁：浮桥：栈桥

102. 煽动对于（ ）相当于（ ）对于抱负

- A. 鼓舞；野心
- B. 唆使；自信
- C. 情绪；远大
- D. 志向；教唆

103. 上元：乞巧：重九

- A. 夜半：鸡鸣：日出
- B. 总角：而立：及笄
- C. 尺牍：桂宫：杜康
- D. 诗仙：诗圣：诗豪

104. 满腹经纶对于（ ）相当于（ ）对于经典

- A.知识；经久不衰
B.才学；历久弥新
C.才能；源远流长
D.本领；家喻户晓

105.需求：产量

- A.成本：价格
B.时间：速度
C.灯光：黑暗
D.压强：质量

四、逻辑判断。每道题给出一段陈述，这段陈述被假设是正确的，不容置疑的。要求你根据这段陈述，选择一个答案。注意：正确的答案应与所给的陈述相符合，不需要任何附加说明即可以从陈述中直接推出。

请开始答题：

106.凉拌西红柿是一道大家都非常喜欢的家常菜，不仅因为它烹饪简单，而且由于简单的烹饪手法保留了大量的维生素 C 和膳食纤维，对人体颇有好处。但是在做凉拌西红柿这道菜的时候，大家都会拌上白糖，因此糖尿病患者是不适合吃这道菜的。

以下哪项如果为真，最能支持上述结论：

- A.西红柿中已经含有一定量的糖，再加上白糖会让这道菜总含糖量升高
B.用甘而平和的蜂蜜来替代白糖也可以做成这道菜
C.白糖是纯能量食物，在体内会很快转变成葡萄糖，会造成糖尿病患者体内血糖升高
D.很多糖尿病患者都不会去吃含糖量高的食物

107.小王只有完成领导分配的 A 任务，才能休年假。如果不休年假，那么他将接受领导分配的 B 任务。如果他没有完成 A 任务，那么他就不会获得 B 任务。

根据上述信息，可以推出：

- A.领导会给小王分配 B 任务
B.小王将会完成 A 任务
C.小王会休年假
D.小王做完 B 任务后，会休年假

108.研究显示，芒果是预防皱纹的最佳水果，因为含有丰富的β-胡萝卜素和独一无二的酶，能激发肌肤细胞活力，促进废气物排出，有助于保持原蛋白弹性，有效延缓皱纹出现。

由此可以推出：

- A.胡萝卜也可以预防皱纹
B.β-胡萝卜素是防止衰老的必备元素
C.其他水果预防皱纹的效果不如芒果
D.β-胡萝卜素和酶的结合能够让芒果激发细胞活力

109.2015 年北京市公务员招考中专门新增了五个残疾人职位，但是只有三个职位有人缴费成功，北京市政协、北京市人力资源和社会保障局的两个为残疾人设置的职位却无人缴费成功。

以下各项如果为真，不能解释上述现象原因的是：

- A.很多残疾人都不清楚此次招考的信息
B.此次招考报名时间持续五天
C.此次招考是网络报名，很多残疾人不清楚如何上网操作
D.五个残疾人岗位对报考者的学历要求本科或硕士，但是残疾人的学历普遍不高

110.为了保障 APEC 会议期间的空气质量，环境保护部门多路督察组对北京某地的工厂进行了检查，其中合茂工厂遭受了处罚。在违规原因还未公示的时候，群众纷纷进行了猜测。

小李说：“合茂工厂遭受处罚的原因是违规排放废气。”

小王说：“如果合茂工厂遭受处罚是由于违规排放废气，那么肯定也是由于违规排放废水。”

小杨说：“合茂工厂遭受处罚是因为违规排放了废水，并不是违规排放废气。”

小张说：“遭受处罚的原因是违规排放废气，而不是违规排放废水。”

如果上述四人的断定中只有一个人认为真，那么以下谁的猜测可能为真：

- A. 小李
- B. 小杨
- C. 小王
- D. 小张

111. 福州地铁修建过程中，一号线屏山站工地内发掘出了大量的古代建筑遗物。考古工作人员认为这些建筑遗物显示出了浓厚的闽越族特色，从而认定该地区是 2000 多年前闽越王城的宫殿遗址的一部分。

以下各项如果为真，最能支持以上观点的是：

- A. 该遗址不同年代的土层很明显，每个土层都埋有与其年代特征符合的文物
- B. 该遗址发现的一块红色筒瓦重达一斤重，布满细密花纹，现代人建房用的瓦片只有它的 1/3 大
- C. 之前在附近地区发现的闽越国宫殿遗址中，出土过一样的建筑遗物
- D. 该遗址发现了很多典型的汉代黑色带水纹的陶片，陶片上的水波纹是闽越王族特有的

112. 不可能小王和小李最多一个人参加旅游团。

下列哪项最准确地表达了上述断定：

- A. 小王参加了，小李没参加
- B. 小王和小李都参加了
- C. 小王没参加，小李参加了
- D. 小王和小李至少一个人没参加

113. S 市某大型商场这个月的销售额明显不如去年同期，负责人认为是商场前的道路在修建地铁导致人流量下降。

以下各项如果为真，不能削弱以上观点的是：

- A. 地铁的修建时间是从前年开始的
- B. S 市最近经济很不景气，通货膨胀非常严重
- C. S 市其他的商场这个月都在打折促销
- D. 地铁的修建工作要持续到明年年底

114. 老李得了重病，张医生说：“除非中医无法治疗，我们才会用西医的疗法。”王医生说：“中医的治疗太慢了，如果不及时采用西医的疗法，老李病情会加重。”

根据张医生和王医生的说法，以下哪项是不正确的：

- A. 如果用西医的疗法，那么就不会使用中医的疗法
- B. 中医可以治愈老李的病情，只不过需要更长的时间
- C. 如果用中医的疗法慢慢治疗的话，老李的病情就会加重
- D. 老李病情好转，说明医生使用了西医的疗法

115. 植入式广告是随着电影、电视、游戏等的发展而兴起的一种广告形式，它是指在影视剧情、游戏中可以插入商家的产品或者服务，以达到潜移默化的宣传效果。由于受众对广告有天生的抵触心理，把商品融入这些娱乐方式的作法往往比硬性推销的效果好得多。

如果以下为真，最能削弱上述观点的是：

- A. 上座率在 70% 以上的影片才能吸引植入式广告商的赞助
- B. 植入式广告的出现往往与影视剧的剧情相吻合，从而让广告印象深入人心
- C. 现在很多电影中的植入式广告太多，反而引起了很多观众的反感心理
- D. 影片如果有植入式广告的话，就会降低影片的艺术价值

※※※第四部分结束，请继续做第五部分！※※※

第五部分 资料分析

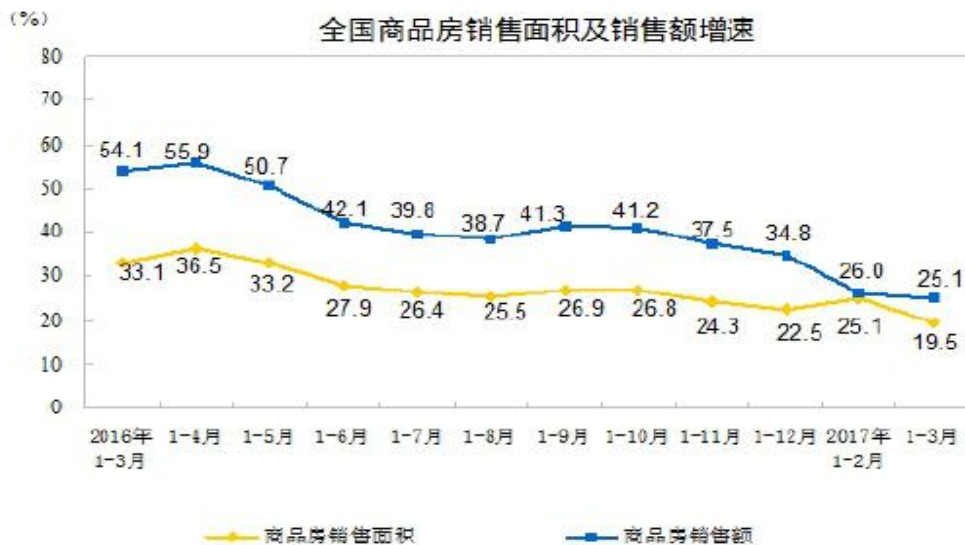
(共 20 题, 参考时限 20 分钟)

所给出的图、表、文字或综合性资料均有若干问题要你回答。你应根据资料提供的信息进行分析、比较、计算和判断处理。

请开始答题:

一、根据以下资料, 回答第 116~120 题。

2017 年 1~3 月份, 商品房销售面积 29035 万平方米, 同比增长 19.5%, 增速比 1~2 月份回落 5.6 个百分点。其中, 住宅销售面积增长 16.9%, 办公楼销售面积增长 52.9%, 商业营业用房销售面积增长 35.6%。商品房销售额 23182 亿元, 增长 25.1%, 增速回落 0.9 个百分点。其中, 住宅销售额增长 20.2%, 办公楼销售额增长 67.9%, 商业营业用房销售额增 49.3%。



1~3 月份, 东部地区商品房销售面积 13968 万平方米, 同比增长 13.4%, 增速比 1~2 月份回落 2.5 个百分点; 销售额 14600 亿元, 增长 18.7%, 增速提高 3 个百分点。中部地区商品房销售面积 7592 万平方米, 增长 26.3%, 增速回落 6.7 个百分点; 销售额 4372 亿元, 增长 37.0%, 增速回落 7.1 个百分点。西部地区商品房销售面积 7476 万平方米, 增长 25.1%, 增速回落 11.1 个百分点; 销售额 4211 亿元, 增长 38.9%, 增速回落 10.6 个百分点。

3 月末, 商品房待售面积 68810 万平方米, 比 2 月末减少 1745 万平方米。其中, 住宅待售面积减少 1643 万平方米, 办公楼待售面积增加 3 万平方米, 商业营业用房待售面积减少 84 万平方米。

116. 2015 年 1~3 月份, 商品房销售面积约为多少万平方米?

- A. 24300
B. 18200
C. 21800
D. 19500

117. 2017 年 1~3 月份各类商品房销售面积与销售额的增速从快到慢排序正确的是:

- A. 商品房销售面积、办公楼销售面积、商业营业用房销售面积、住宅销售面积
B. 商业营业用房销售面积、商品房销售面积、办公楼销售面积、住宅销售面积
C. 办公楼销售额、住宅销售额、商品房销售额、商业营业用房销售额
D. 办公楼销售额、商业营业用房销售额、商品房销售额、住宅销售额

118. 2017 年 1~3 月份, 中部地区商品房销售额占商品房销售额的比重约为:

- A. 15.1%
B. 26.1%

C. 18.9% D. 32.7%

119. 2017年3月份商品房待售面积环比增长:

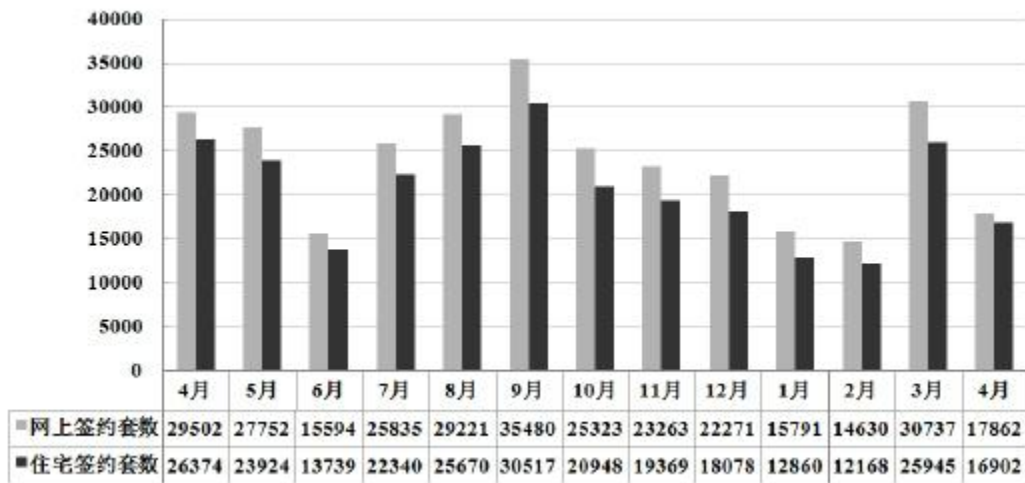
A. -2.47% B. -2.27%
C. -2.54% D. -2.60%

120. 能够从上述资料中推出的是:

A. 2017年1~2月份, 商品房销售面积增速为13.9%
B. 2017年1~3月份, 东部地区销售额所占比重低于上年水平
C. 2016年1~5月份商品房销售额增速比2016年1~4月份低了3.3个百分点
D. 2016年全年商品房销售面积增长率为34.8%

二、根据以下材料, 回答121~125题。

根据北京市住建委官网公布数据, 2017年4月份, 北京二手房网签17862套, 网签建筑面积1607075.13平方米, 二手房挂牌均价63581元/m², 其中二手住宅网签16902套, 网签建筑面积1538545.76平方米。



全市16个区县, 各区县4月网签量较3月均有不同程度的减少。朝阳区网签量4729套, 占全市网签量的四分之一, 位列区县网签量排名首位, 其次是海淀区、丰台区, 4月网签量分别是1955套、1840套。

全市17862套网签房源中, 5057套在建筑面积60平以下; 4237套在60~80平; 3950套在80~100平; 1741套在100~120平; 1108套在120~140平; 1769套在140平以上。

121. 2017年4月, 北京市平均每套二手住宅网签建筑面积折合约多少平方米?

A. 78.64 B. 82.50
C. 89.97 D. 91.03

122. 以下月份二手住宅签约量环比增速从大到小排列正确的是:

A. 2016年7月>2016年9月>2016年12月>2017年3月
B. 2016年7月>2017年3月>2016年9月>2016年12月
C. 2017年3月>2016年7月>2016年9月>2016年12月
D. 2017年3月>2016年7月>2016年12月>2016年9月

123. 2017年4月, 北京市二手房网签量排名前三名的区域的网签量约占全市网签量的:

A. 31% B. 48%
C. 56% D. 62%

124. 老贾准备房款500万计划在西城区全款买一套二手房, 发现西城区房屋均价是全市均价的两倍, 那么他在西城区能买网签房源中按成交套数排名第几位的户型?

- A. 1
C. 3
B. 2
D. 4

125. 根据材料，以下说法错误的是：

- A. 2017年4月份北京市网签二手房中，除住宅外其它类别占比不超过一成。
B. 2017年一季度北京市网签二手住宅房套数环比增加。
C. 2016年4月到2017年4月，二手房网签套数与二手住宅网签套数变化趋势完全一致。
D. 在4月份成交量中，60平以下的户型套数超过所有100平以上的户型套数之和。

三、根据以下材料，回答126~130题。

2016年全年粮食种植面积11303万公顷，比上年减少31万公顷。其中，小麦种植面积2419万公顷，增加5万公顷；稻谷种植面积3016万公顷，减少5万公顷；玉米种植面积3676万公顷，减少136万公顷。棉花种植面积338万公顷，减少42万公顷。油料种植面积1412万公顷，增加9万公顷。糖料种植面积168万公顷，减少6万公顷。

2016年全年粮食产量61624万吨，减产0.83%。其中，夏粮产量13920万吨，减产1.2%；早稻产量3278万吨，减产2.7%；秋粮产量44426万吨，减产0.6%。全年谷物产量56517万吨，比上年减产1.2%。其中，稻谷产量20693万吨，减产0.6%；小麦产量12885万吨，减产1.0%；玉米产量21955万吨，减产2.3%。

全年棉花产量534万吨，比上年减产4.6%。油料产量3613万吨，增产2.2%。糖料产量12299万吨，减产1.6%。茶叶产量241万吨，增产7.4%。

全年肉类总产量8540万吨，比上年下降1.0%。其中，猪肉产量5299万吨，下降3.4%；牛肉产量717万吨，增长2.4%；羊肉产量459万吨，增长4.2%；禽肉产量1888万吨，增长3.4%。禽蛋产量3095万吨，增长3.2%。牛奶产量3602万吨，下降4.1%。年末生猪存栏43504万头，下降3.6%；生猪出栏68502万头，下降3.3%。

全年水产品产量6900万吨。其中，养殖水产品产量5156万吨，增长4.4%；捕捞水产品产量1744万吨，下降1.0%。

126. 2016年全年粮食种植面积的增速为：

- A. -0.27%
C. -0.34%
B. -2.7%
D. -3.4%

127. 2016年全年粮食的减产量为多少万吨？

- A. 497
C. 4740
B. 518
D. 5477

128. 以下四种农作物，2016年与上一年相比，哪一种农作物的减产最多？

- A. 夏粮
C. 稻谷
B. 秋粮
D. 小麦

129. 2016年水产品产量与上一年相比上涨了：

- A. 5.4%
C. 1.7%
B. 1%
D. 3%

130. 下列能够从上述材料推出的是：

- A. 2016年棉花产量的增速比糖料产量的增速高3个百分点
B. 2015年棉花产量约为510万吨
C. 2016年全年粮食的单位面积的产量与上年相比约下降0.58%
D. 2015年养殖水产品的产量低于捕捞水产品

四、根据以下材料，回答131-135题。

2015年，我国共有48条院线。2013~2015年，排名前十位院线市场份额逐年下降，由69.1%下降到66.2%。排名第一的万达院线经营效率最高，结合万达院线的资产联结经营模

式和会员制度来看，资产联结模式院线对管理体制的优化有利于经营效率的提高。

2013年~2015年国内前十大院线票房收入及在全国票房占比（单位：亿元、%）

序号	2013年			2014年			2015年		
	院线	票房	占比	院线	票房	占比	院线	票房	占比
1	万达	31.6	14.70%	万达	42.1	14.30%	万达	59.8	13.6%
2	上海联合	18.8	8.70%	中影星美	24.5	8.30%	中影星美	37.4	8.50%
3	中影星美	18.4	8.50%	广东大地	23.5	8.00%	广东大地	35	7.90%
4	广东大地	15.9	7.40%	上海联合	22.7	7.70%	上海联合	30.7	7.00%
5	中影南方 新干线	15.4	7.20%	广州金逸 珠江	20.8	7.10%	中影南方 新干线	29.7	6.70%
6	广州金逸 珠江	15.4	7.2%	中影南方 新干线	19.8	6.70%	广州金逸 珠江	28.9	6.60%
7	浙江时代	9.1	4.20%	浙江时代	11.9	4.10%	中影数字	21.1	4.80%
8	北京新影 联	8.8	4.10%	中影数字	11	3.80%	浙江横店	19.8	4.50%
9	浙江横店	7.8	3.60%	浙江横店	10.6	3.60%	浙江时代	15.6	3.50%
10	中影数字	7.5	3.50%	北京新影 联	10.2	3.50%	江苏幸福 海蓝	13.6	3.10%

131. 2015年平均每个前十院线所获得的票房约是全国院线平均水平的几倍？

- A. 2
B. 3
C. 4
D. 5

132. 与上年相比，2015年全国票房收入同比增速最接近：

- A. 30%
B. 40%
C. 50%
D. 60%

133. 2014年、2015年前十大院线中，票房收入同比增速均高于全国票房同比增速的有几个院线？

- A. 0
B. 1
C. 2
D. 3

134. 2014年前十大院线票房收入占全国比重约为：

- A. 70.1%
B. 68.5%
C. 67.1%
D. 65.4%

135. 能够从上述资料中推出的是：

- A. 2013年前十院线中，排名前三位院线收入之和超过后7位总和
B. 2013~2015年，排名前两位院线的票房比重差距在逐年缩小
C. 2013~2015年前十院线中票房收入增长最快的是浙江横店
D. 2015年北京新影联票房占全国票房收入比重较上年下降至少0.4个百分点

※※※全部测验到此结束！※※※