

2018 军队文职招录考试公共科目试题及解析

(考生回忆版)

1. (单选题) 首次招录聘用到科级副职以下或者专业技术十一级以下岗位文职人员的最高年龄是 ()。

- A.45 岁
- B.40 岁
- C.35 岁
- D.30 岁

【答案】 C

【解析】 本题属于军队常识题目。

依据《中国人民解放军文职人员条例》第十七条，文职人员首次招录聘用的最高年龄分别为：

- (一) 局级副职以上或者专业技术七级以上岗位的，50 周岁；
- (二) 处级正职至科级正职或者专业技术八级至专业技术十级岗位的，45 周岁；
- (三) 科级副职以下或者专业技术十一级以下岗位的，35 周岁。

因此，选择 C 选项。

【拓展】 可空

【标签】 可空

【知识点】 国防和军队-军队常识-中国人民解放军文职人员制度

【难度】 中等

2. (单选题) 生产、销售伪劣产品罪的主观方面是 ()。

- A.故意
- B.直接故意
- C.间接故意
- D.故意，且具有非法牟利的目的

【答案】 D

【解析】 本题属于刑法题目。

根据《中华人民共和国刑法》第一百四十条规定，生产、销售伪劣产品罪，是指生产者、销售者在产品中掺杂、掺假，以假充真，以次充好或者以不合格产品冒充合格产品，销售金额达 5 万元以上的行为。该罪的构成要件为：

(一) 犯罪客体是国家对普通产品质量的管理制度。普通产品是指除刑法另有规定的药品、食品、医用器材、涉及人身和财产安全的电器等产品，农药、兽药、化肥、种子、化妆品等产品以外的产品。

(二) 客观方面表现为生产者、销售者违反国家的产品质量管理法律、法规，生产、销售伪劣产品的行为。

(三) 犯罪主体是个人和单位，表现为产品的生产者和销售者两类人。

(四) 犯罪主观方面表现为故意，一般具有非法牟利的目的。

因此，选择 D 选项。

【拓展】 可空

【标签】 可空

【知识点】 法律-刑法-刑法分则

【难度】 中等

3. (单选题) 我国自行研制生产的第一艘核潜艇命名为 ()。

A. “长征” 一号

B. “长城” 一号

C. “巨浪” 一号

D. “共青团” 号

【答案】 A

【解析】 本题属于科技常识题目。

A 项，1970 年 12 月 26 日，中国的第一艘攻击型核潜艇建造完毕下水。1974 年“八一建军节”，经过连续试验后，中央军委将这第一艘核潜艇命名为“长征一号”，正式编入海军战斗序列。故 A 正确，当选。

B 项，在大同市，全长 250 公里的“长城”一号旅游公路正在抓紧建设，这条风景优美的景观路、展示地方特色的文化路，为塞北的雄关要塞和古老乡村带来了新的希望和活力。故 B 错误，排除。

C 项，“巨浪”一号是中国第一型固体战略弹道导弹、第一型潜射导弹，它是在东风-21 地地中程弹道导弹基础上发展而成功的潜射型战略导弹，装备于中国核潜艇。它的成功标志着中国成为世界上第五个拥有潜艇水下发射核导弹能力的国家，具备了二次核打击能力。

D 项，“共青团（员）”号核潜艇是原苏联海军的第三代核潜艇，舷号 K-278。1978 年至 1983 年在北德文斯克建造，于 1983 年下水，1984 年 1 月正式服役于苏联海军。

因此，选择 A 选项。

【拓展】 可空

【标签】 可空

【知识点】 人文科技-科技-其他

【难度】 中等

4. (单选题) 马克思把商品转换成货币称为“商品的惊险的跳跃”，“这个跳跃如果不成熟，坏的不是商品，但一定是商品占有者”。这是因为，只有商品变为货币，()。

- A. 货币才能转化为资本
- B. 价值才能转化为使用价值
- C. 抽象劳动才能转化为具体劳动
- D. 私人劳动才能转化为社会劳动

【答案】 D

【解析】 本题属于马克思主义政治经济学题目。

在以货币为媒介交换的过程中，商品—货币—商品，商品生产者只有顺利实现商品到货币的跳跃，把商品换成可以和其他一切商品相交换的货币，商品生产者才能生存下去。即通过商品交换，使用价值才能转化为价值，具体劳动才能转化为抽象劳动，私人劳动才能转化为社会劳动。

因此，选择 D 选项。

【拓展】 可空

【标签】 可空

【知识点】 经济-马克思主义政治经济学-商品与货币

【难度】 中等

5. (单选题) 社会主义核心价值观对公民个人层面的要求是()。

- A. 富强、民主、文明、和谐
- B. 爱国、敬业、诚信、友善
- C. 自由、平等、公正、法治
- D. 爱国、守法、明礼、诚信

【答案】 B

【解析】 本题属于道德常识题目。

党的十八大提出，倡导富强、民主、文明、和谐，倡导自由、平等、公正、法治，倡导爱国、敬业、诚信、友善，积极培育和践行社会主义核心价值观。其中，富

强、民主、文明、和谐是国家层面的价值目标，自由、平等、公正、法治是社会层面的价值取向，爱国、敬业、诚信、友善是公民个人层面的价值准则，这 24 个字是社会主义核心价值观的基本内容。

A 项，富强、民主、文明、和谐是国家层面的价值目标。故 A 错误，排除。

B 项，爱国、敬业、诚信、友善是公民个人层面的价值准则，故 B 正确，当选。

C 项，自由、平等、公正、法治是社会层面的价值取向，故 C 错误，排除。

D 项，中共中央颁布的《公民道德建设实施纲要》当中，把公民基本道德规范集中概括为二十字：“爱国守法，明礼诚信，团结友善，勤俭自强，敬业奉献。故 D 错误，排除。

因此，选择 B 选项。

【拓展】 可空

【标签】 可空

【知识点】 政治-道德-社会主义核心价值观

【难度】 中等

6. (单选题) 毛泽东对实事求是的科学含义作马克思主义的界定并将它提到党性高度的著作是 ()。

A. 《反对本本主义》

B. 《改造我们的学习》

C. 《反对党八股》

D. 《整顿党的作风》

【答案】 B

【解析】 本题属于毛泽东思想常识题目。

A 项，《反对本本主义》是毛泽东 1930 年 5 月为反对当时中国工农红军中的教条主义思想而写的关于调查研究问题的重要著作。在这篇著作中，作者从认识论高度第一次鲜明地提出“没有调查，就没有发言权”，“中国革命斗争的胜利要靠中国同志了解中国情况”等著名论断；与题意无关，排除。

B 项，《改造我们的学习》是 1941 年毛泽东创作的议论文。该篇文章对实事求是的科学含义作了马克思主义的界定。“实事”就是客观存在着的一切事物，“是”就是客观事物的外部联系，即规律性，“求”就是我们去研究。我们要从国内外、省内外、县内外、区内外、区内外、区内外、区外外的实际情况出发，从其中引出其固有的而不是臆造的规律性，即找出周围事变的内部联系，作为我们行动的向导。

C 项，《反对党八股》是毛泽东于 1942 年 2 月 8 日在延安干部会上的讲演，这

篇文章着重谈的是关于改进“文风”的问题。不符合题意，排除。

D项,《整顿党的文风》是毛泽东1942年2月1日在中国共产党中央党校开学典礼上的演说。是延安整风运动的基本学习文献之一。该文依据矛盾的同一性与斗争性互相关系的原理,揭示和阐明了党内团结与斗争的辩证关系。不符合题意,排除。

因此,选择B选项。

【拓展】 可空

【标签】 可空

【知识点】 政治-毛泽东思想-毛泽东思想概述

【难度】 中等

7.(单选题) 文职人员因私出境,按照() 有关规定执行。

A.国家

B.中央军委

C.国家和军队

D.本级单位

【答案】 C

【解析】 本题属于军队常识题目

《中国人民解放军文职人员条例》第四十条第二款规定,文职人员因私出境,按照国家和军队有关规定执行。

【拓展】 可空

【标签】 可空

【知识点】 国防和军队-军队知识-中国人民解放军文职人员制度

【难度】 中等

8.(单选题)()是引领发展的第一动力,是建设现代化经济体系的战略支撑。

A.改革

B.开放

C.生产

D.创新

【答案】 D

【解析】 本题属于时事政治题目

党的十九大报告指出:“创新是引领发展的第一动力,是建设现代化经济体系的

战略支撑”。因此，选 D 选项。

【拓展】可空

【标签】可空

【知识点】政治-时事政治-党政专题

【难度】中等

9. (单选题) 根据我国法律规定,发明专利权的保护期限是 ()。

A.30 年

B.20 年

C.15 年

D.10 年

【答案】B

【解析】本题属于民法题目

《专利法》第四十二条规定,发明专利权的期限为二十年,实用新型专利权和外观设计专利权的期限为十年,均自申请日起计算。

因此,选 B 选项。

【拓展】可空

【标签】可空

【知识点】法律-民法-知识产权

【难度】中等

10. (单选题) () 不是 PM2.5 的主要来源。

A.汽车尾气

B.水面蒸发

C.工业废气

D.家用燃煤废气

【答案】B

【解析】本题属于生活常识题目。

PM2.5 一般指细颗粒物,是直径小于等于 2.5 微米的颗粒物,它能较长时间悬浮于空气中,在空气中含量浓度越高,就代表空气污染越严重。其来源主要有自然源和人为源两种:1.自然源包括土壤扬尘、海盐、植物花粉、孢子、细菌等。2.人为源包括固定源和流动源。固定源包括各种燃料燃烧源,如发电、冶金、石油、化学、纺织印染等各种工业过程、供热、烹调过程中燃煤与燃气或燃油排放

的烟尘。流动源主要是各类交通工具在运行过程中使用燃料时向大气中排放的尾气。

A项、C项、D项都是PM2.5的主要来源，不符合题意，排除。

B项，不是PM2.5的主要来源，符合题意，当选。

因此，选B项。

【拓展】可空

【标签】可空

【知识点】人文科技-生活常识-生活常识

【难度】中等

11. (单选题) “真理之川从他的错误之沟渠中流过”，这说明，()。

A.真理与谬误相互区别

B.真理与谬误相互融合

C.真理与谬误相比较而存在

D.真理以谬误为基础而存在

【答案】C

【解析】本题属于马克思主义哲学题目。

真理是指人们对客观事物及其规律的正确反映。谬误是指人们对客观事物及其规律的错误反映。

A项，“真理于谬误相互区别”强调真理、谬误矛盾关系中的斗争性，而题目材料“真理之川从他的错误之沟渠中通过”强调二者相比较而存在。故错误，排除。

B项，真理和谬误都是对客观事物及其规律的反映，但是真理和谬误是有质的不同的，不能说二者是相互融合的，题干材料也没未反映二者融合。故错误，排除。

C项，“真理之川从他的错误之沟渠中通过”出自于泰戈尔，这句话的意思是真理是从错误即谬误中不断的发展产生的，真理与谬误之间相比较而存在，强调二者矛盾的同一性。故正确，当选。

D项，“真理以谬误为基础而存在”说法错误，真理和谬误都是对观事物及其规律的反映，只是真理是对客观事物及其规律的正确反映，谬误是对客观事物及其规律的错误反映，不能说真理以谬误为基础。

因此，选择C选项。

【拓展】可空

【标签】可空

【知识点】政治-马克思主义哲学-认识论

【难度】中等

12. (单选题) () 首次提出“使市场在资源配置中起决定性作用和更好发挥政府作用”这一重大理论观点，

- A. 党的十八大
- B. 党的十八届二中全会
- C. 党的十八届三中全会
- D. 党的十九大

【答案】C

【解析】本题属于时事政治题目。

A 项，2012 年党的十八大明确了科学发展观是党必须长期坚持的指导思想，并写入党章；制定了坚持走中国特色社会主义政治发展道路和推进政治体制改革前进方向；提出了全面建成小康社会目标；回答了坚定不移走中国特色社会主义道路政策立，错误，排除。

B 项，2013 年党的十八届二中全会通过了《国务院机构改革和职能转变方案》，错误，排除。

C 项，2013 年十八届三中全会中指出，经济体制改革是全面深化改革的重点，核心问题是处理好政府和市场的关系，使市场在资源配置中起决定性作用和更好发挥政府作用。正确，当选。

D 项，2017 年党的十九大明确了中国特色社会主义进入了新时代，指出我国社会主要矛盾已经转化为人民日益增长的美好生活需要和不平衡不充分的发展之间的矛盾。错误，排除。

因此，选择 C 选项。

【拓展】可空

【标签】可空

【知识点】政治-时事政治-党政专题

【难度】中等

13. (单选题) 衡量社会生产力发展水平的主要标志是 ()。

- A. 劳动资料
- B. 生产工具
- C. 劳动对象
- D. 生产的产品

【答案】B

【解析】本题属于马克思主义哲学题目。

A项，劳动资料是劳动过程中所运用的物质资料或物质条件，是劳动者和劳动对象之间的媒介。其中最重要的是生产工具，错误，排除。

B项，生产工具即劳动工具，是人们在生产过程中用来直接对劳动对象进行加工的物件，衡量社会生产力发展水平的主要标志，正确，当选。

C项，马克思主义认为，一切自然物质都是可能的劳动对象，其中引入生产的部分则是现实的劳动对象。现实的劳动对象还包括生产深度加工的对象。劳动对象是现实生产的必要前提，它从一个侧面反映和体现了生产力的发展水平。错误，排除。

D项，生产的产品是能够供给市场，被人们使用和消费，并能满足人们某种需求的物品，它是生产的结果，并不能反映生产力发展的水平。错误，排除。

因此，选择B选项。

【拓展】可空

【标签】可空

【知识点】政治-马克思主义哲学-历史唯物主义

【难度】中等

14. (单选题) 级差地租产生的原因是 ()。

A.不同土地所有者拥有的土地的数量不同

B.土地的有限性

C.不同地块的肥沃程度不同和地理位置不同

D.土地的经营权垄断

【答案】D

【解析】本题属于马克思主义政治经济学。

级差地租指的是经营较优土地的农业资本家获得的，并最终归土地所有者占有的超额利润，其来源是产品个别生产价格与社会生产价格的差额。因为这种地租与土地等级相联系，故称为级差地租。级差地租产生的原因是农业中存在土地的资本主义的经营垄断，级差地租的实质是农业工人创造的归土地所有者占有的一部分剩余价值。因此，选择D选项。

【拓展】可空

【标签】可空

【知识点】经济-马克思主义政治经济学-资本

【难度】中等

15. (单选题) 文职人员除接受岗前培训、在岗培训、专业培训和任务培训外, 还应该接受()。

- A. 学历教育
- B. 参谋业务训练
- C. 军事职业教育
- D. 作战指挥训练

【答案】C

【解析】本题属于军队常识。

根据 2017 年施行的《中国人民解放军文职人员条例》第二十三条规定, 文职人员的培训, 分为岗前培训、在岗培训、专业培训和任务培训。文职人员应当接受军事职业教育。因此, 选择 C 选项。

【拓展】可空

【标签】可空

【知识点】国防和军队-军队常识-中国人民解放军文职人员制度

【难度】中等

16. (单选题) 20 世纪改变人类生产方式和生活方式的高新技术不包括()。

- A. 电子计算机
- B. 遗传工程
- C. 相对论
- D. 航天技术

【答案】C

【解析】本题属于科技题目。

A 项, 电子计算机通称电脑, 是计算机用途和数量都较广的一种, 是现代的一种利用电子技术和相关原理根据一系列指令来对数据进行处理机器。第一台电脑是 1946 年 2 月 15 日在美国宾夕法尼亚大学诞生的 ENIAC 通用电子计算机。

20 世纪 70 年代, 因为集成电路技术的引入极大地降低了计算机生产成本, 计算机开始走向千家万户, 改变了人类生产方式和生活方式。故属于, 排除。

B 项, 基因工程是在分子生物学和分子遗传学综合发展基础上于 20 世纪 70 年代诞生的一门崭新的生物技术科学。在农牧业、食品工业、医学等领域都有广泛的应用, 从诞生之日起就改变着人类生产方式和生活方式。故属于, 排除。

C项,相对论是20世纪初爱因斯坦提出的关于时空和引力的理论。它是一种科学理论,而不是高新技术。故不属于,当选。

D项,航天技术又称空间技术,是20世纪兴起和快速发展的现代科学技术,是一项探索、开发和利用太空以及地球以外天体的综合性工程技术。故属于,排除。

因此,选择C选项。

【拓展】可空

【标签】可空

【知识点】人文科技-科技-科技常识

【难度】中等

17.(单选题)首先提出日心说的古希腊天文学家是()。

A.阿里斯塔克

B.哥白尼

C.亚里士多德

D.欧多克斯

【答案】A

【解析】本题属于科技题目。

A项,阿里斯塔克是古希腊第一个著名天文学家,是历史上最早提出日心说的人,也是最早测定太阳和月球对地球距离的近似比值的人。故正确,当选。

B项,哥白尼是文艺复兴时期的波兰天文学家,通常认为完整的日心说宇宙模型是他提出的。哥白尼凭借在《天体运行论》中提出的“日心说”成为西方近代早期“日心说”的重要复兴者,但不是第一个提出“日心说”的人。故错误,排除。

C项,亚里士多德是古希腊著名的哲学家、科学家,主张“地心说”。他认为运行的天体是物质的实体,地球是球形的,是宇宙的中心。故错误,排除。

D项,欧多克斯是古希腊著名的天文学家,最早提出了“地心说”。故错误,排除。

因此,选择A选项。

【拓展】可空

【标签】可空

【知识点】人文科技-科技-科技史

【难度】中等

18. (单选题) 习近平总书记在党的十九大报告中指出：“()是坚持党的领导人、人民当家做主、依法治国有机统一的根本政治制度安排，必须长期坚持、不断完善。”

- A.人民代表大会制度
- B.基层群众自治制度
- C.政治协商制度
- D.民族区域自治制度

【答案】A

【解析】本题属于时事政治。

习近平总书记在党的十九大报告中指出：“人民代表大会制度是坚持党的领导、人民当家作主、依法治国有机统一的根本政治制度安排，必须长期坚持、不断完善。”这一重要论断，不仅深刻阐述了党的领导与人民当家作主、依法治国的有机统一关系，也深刻揭示了坚持党的领导与完善人民代表大会制度的相互作用，必须把加强党的领导与支持和保证人民通过人民代表大会行使国家权力统一起来。因此，选择A选项。

【拓展】可空

【标签】可空

【知识点】政治-时事政治-党政专题

【难度】中等

19. (单选题) 甲是精神病患者，一日突然手持匕首追杀乙，将其逼至一房屋角落，乙在无处可逃的情况下，顺手将桌上的花瓶扔向甲，致使甲右眼失明。乙的行为构成()。

- A.紧急避险
- B.防卫过当
- C.正当防卫
- D.犯罪行为

【答案】C

【解析】本题属于刑法题目。

A项，紧急避险，又称“紧急避难”，是指为了使公共利益、本人或者他人的人身和其他权利免受正在发生的危险，不得已而采取的损害另一较小的合法权益，以保护较大的合法权益的行为。

B项，防卫过当，是指防卫行为明显超过必要限度造成重大损害的应当负刑事责

任的犯罪行为。

C项,正当防卫,指对正在进行不法侵害行为的人,而采取的制止不法侵害的行为,对不法侵害人造成一定限度损害的,属于正当防卫,不负刑事责任。

D项,犯罪行为是犯罪人所实施的违反刑法规定构成犯罪的行为。

题干中乙因保护自己的生命安全致使甲右眼失明,不涉及损害另一较小一方的合法利益,且没有超过必要限度,属于正当防卫。

因此,选择C选项。

【拓展】 可空

【标签】 可空

【知识点】 法律-刑法-犯罪概述

【难度】 中等

20.(单选题)四书五经的内容是明代科举考试规定的命题范围。其中,五经指的是()。

A.《诗经》《尚书》《礼记》《易经》《春秋》

B.《论语》《孟子》《大学》《易经》《中庸》

C.《诗经》《礼记》《论语》《春秋》《三字经》

D.《易经》《礼记》《诗经》《论语》《中庸》

【答案】 A

【解析】 本题属于人文历史题目

四书五经中四书指的是《大学》、《中庸》、《论语》、《孟子》,五经指《诗经》、《尚书》、《礼记》、《周易》、《春秋》五部。

【拓展】 可空

【标签】 可空

【知识点】 人文科技-人文历史-文学常识

【难度】 中等

21.(单选题)11岁男孩小明的父亲作为小明的代理人为小明买了一架钢琴,这在民法上称为()。

A.法定代理

B.委托代理

C.指定代理

D.授权代理

【答案】A

【解析】本题属于民法常识题目。

A项，依据《民法总则》第一百六十三条，代理包括委托代理和法定代理。法定代理是代理人根据法律直接规定的代理权而进行的代理。父母代理未成年的子女参加经济活动，就属于法定代理。故A正确，当选。

B项，委托代理，又称意定代理，即代理人依照被代理人授权进行的代理。不符合题意，排除。

C项，指定代理，是指根据法院或指定单位的指定而产生代理权的代理。通常适用于两种情况：(1)在民事诉讼中，当事人系无民事行为能力或限制民事行为能力人，而又没有法定代理人的；(2)法定代理人之间互相推诿代理责任的，由法院指定其中一人为代理人。不符合题意，排除。

D项，在委托代理中，代理权限有一般代理和特别授权代理两种。不符合题意，排除。

因此，选择A选项。

【拓展】可空

【标签】可空

【知识点】法律-民法-代理

【难度】中等

22. (单选题) 下列说法错误的是()。

A.陶渊明，东晋著名诗人，代表作《桃花源记》

B.鲁迅，原名周树人，是我国现代伟大的无产阶级文学家、思想家、革命家

C.《诗经》是我国最早的一部诗歌总集，收录了从西周到春秋时期的305篇诗歌

D.司马迁，东汉著名史学家、文学家，代表作是《史记》

【答案】D

【解析】本题属于人文历史题目。

A项，陶渊明，东晋末至南朝宋初期伟大的诗人、辞赋家。代表作《归田园居》、《桃花源记》、《五柳先生传》、《饮酒》等。A项正确，排除。

B项，鲁迅，原名周樟寿，后改名周树人，著名文学家、思想家、革命家，五四新文化运动的重要参与者，中国现代文学的奠基人。B项正确，排除。

C项，《诗经》是中国古代诗歌开端，最早的一部诗歌总集，收集了西周初年至春秋中叶的诗歌，共305篇。C项正确，排除。

D项，司马迁，西汉史学家、散文家，被后世尊称为史迁、太史公、历史之父。他以其“究天人之际，通古今之变，成一家之言”的史识创作了中国第一部纪传体通史《史记》，被鲁迅誉为“史家之绝唱，无韵之离骚”。D项错误，司马迁并非东汉时期史学家。

因此，选择D选项。

【拓展】 可空

【标签】 可空

【知识点】 人文科技-人文历史-文学常识

【难度】 中等

23. (单选题) 货币转化为资本的前提条件是 ()。

- A.生产资料可以买卖
- B.货币是一般等价物
- C.货币是社会财富的一般代表
- D.劳动力成为商品

【答案】 D

【解析】 本题属于马克思主义政治经济学题目。

资本是能带来剩余价值的价值附着物。货币不是生来就是资本，当它能带来剩余价值时才成为资本。剩余价值的产生，是因为劳动力成为了一种特殊的商品，不仅能创造自身价值，还能创造比自身价值更大的使用价值。资本家的货币只有购买劳动力进行交换才能带来剩余价值，从而转化为资本。所以，劳动力成为商品是货币转化为资本的前提条件。

因此，选择D选项。

【拓展】 可空

【标签】 可空

【知识点】 经济-马克思主义政治经济学-商品与货币

【难度】 中等

24. (单选题) 我军建军的时间是 ()。

- A.1921年
- B.1949年
- C.1927年
- D.1945年

【答案】C

【解析】本题属于中共党史题目

我军建军的时间是1927年，1927年8月1日南昌起义打响了武装反抗国民党反动派的第一枪，揭开了中国共产党独立领导武装斗争和创建革命军队的序幕。

【拓展】可空

【标签】可空

【知识点】政治-中共党史-中共党史

【难度】中等

25. (单选题) 被誉为中国现代毕昇的科学家是 ()。

A.王选

B.彭桓武

C.朱光亚

D.李四光

【答案】A

【解析】本题考查时事政治题目

王选是当代中国印刷业革命的先行者，计算机汉字激光照排技术创始人，被誉为中国现代毕昇。故正确，当选。

彭桓武长期从事理论物理的基础与应用研究，对中国第一代原子弹和氢弹的研究和理论设计作出了重要贡献。1999年被授予“两弹一星”功勋奖章。故错误，排除。

朱光亚，中国核科学事业的主要开拓者之一，“两弹一星功勋奖章”获得者，入选“感动中国”2011年度人物。故错误，排除。

D项，李四光，中国地质力学的创立者、中国现代地球科学和地质工作的主要领导人和奠基人之一。故错误，排除。

【拓展】可空

【标签】可空

【知识点】政治-时事政治-时事热点

【难度】中等

26. (单选题) 关于法的认识，正确的是 ()。

A.可以调整人与人之间的一切关系

B.好的法律文件必然会导致公正的法律后果

- C.法是唯一统治工具
D.法与现实生活总有一定程度的不适应

【答案】D

【解析】本题属于法理学题目。

A项,法是体现统治阶级意志的由国家制定或认可并以国家强制力保证实施的规范体系,是调整人与人之间的社会关系的行为规范。一般来说,调整人与人之间关系的,有道德规范、宗教规范、纪律规范和法律规范等。因此,法并不是调整人与人之间的一切关系,故错误,排除。

B项,好的法律文件仅仅是公正司法的一个前提,但是法律后果是否公正,不仅需要好的法律文件,更重要的是执法机关和司法机关要严格执法、公正司法。所以B选项的说法过于绝对,故错误,排除。

C项,法是统治阶级统治工具的其中一种,“唯一”说法过于绝对,故错误,排除。

D项,法律具有局限性,法律具有保守的倾向,具有不能适时应变的弊端,法律无法穷尽一切可能发生或者存在的社会现象,总会存在遗漏,因此,法总会与现实生活出现一定程度的不适应,故正确,当选。

因此,选择D选项。

【拓展】可空

【标签】可空

【知识点】法律-法理学-法理学的基本概念

【难度】中等

27.(单选题)党的十九大报告指出:发展是解决我国一切问题的基础和关键,发展必须是科学发展,必须坚定不移贯彻()的发展理念。

- A.创造、协调、绿色、开放、共享
B.创新、统筹、绿色、开放、共享
C.创新、统筹、生态、开放、共享
D.创新、协调、绿色、开放、共享

【答案】D

【解析】本题属于时事政治题目。

党的十九大报告指出:发展是解决我国一切问题的基础和关键,发展必须是科学发展,必须坚定不移贯彻创新、协调、绿色、开放、共享的五大发展理念。

因此,选择D选项。

【拓展】 可空

【标签】 可空

【知识点】 政治-时事政治-党政专题

【难度】 中等

28. (单选题) 黄埔军校是 1924 年由 () 在广州创办的。

A. 中国共产党

B. 中国国民党

C. 中华革命党

D. 俄共(布)

【答案】 B

【解析】 本题属于人文历史题目。

黄埔军校是 1924 年 ~ 1930 年国民党在广东广州黄埔区长洲岛兴办的一所军校，校址原为清朝陆军小学和海军学校校舍。当时校名：“中国国民党陆军军官学校”。

因此，选择 B 选项。

【拓展】 可空

【标签】 可空

【知识点】 人文科技-人文历史-中国历史

【难度】 中等

29. (单选题) 决定我国现阶段多种所有制形式并存的根本原因是 ()。

A. 社会生产力的多层次性

B. 产品经济的存在

C. 物质利益的差别

D. 劳动就业的需要

【答案】 A

【解析】 本题属于社会主义市场经济体制题目。

根据马克思主义哲学的观点，生产力决定生产关系。公有制为主体、多种所有制经济共同发展的基本经济制度，符合社会主义的本质要求，适应社会主义初级阶段生产力发展不平衡、多层次的状况。实践证明，它有利于促进生产力的发展、有利于增强综合国力、有利于提高人民生活水平。必须坚持和完善这一基本经济制度，毫不动摇地巩固和发展公有制经济，毫不动摇地鼓励、支持、引导非公有制经济发展，形成各种所有制经济平等竞争、相互促进的新格局。BCD 与题目

无关，排除。

因此，选择 A 选项。

【拓展】 可空

【标签】 可空

【知识点】 经济-社会主义市场经济体制-社会主义市场经济

【难度】 中等

30. (单选题) 在商品价值的形成过程中，抽象劳动 ()。

A.转移了生产资料价值

B.转移了劳动力价值

C.创造了新的价值

D.创造了新的使用价值

【答案】 C

【解析】 本题属于马克思主义政治经济学题目。

具体劳动和抽象劳动是生产商品劳动的两个方面，具体劳动创造使用价值，抽象劳动形成价值。在具体劳动创造使用价值的同时抽象劳动形成了价值，形成价值的抽象劳动的支出必须借助于创造使用价值的具体劳动。ABD 不符合题意。

因此，选择 C 选项。

【拓展】 可空

【标签】 可空

【知识点】 经济-马克思主义政治经济学-商品与货币

【难度】 中等

31. (单选题) 中华人民共和国历史上的第一部宪法是 ()。

A.五四宪法

B.共同纲领

C.七五宪法

D.七八宪法

【答案】 A

【解析】 本题属于宪法题目。

A 项，中华人民共和国第一部宪法于 1954 年 9 月 20 日经第一届全国人民代表大会第一次会议全票通过。因其在 1954 年颁布，故称其为“五四宪法”。故正确，当选。

B项,1949年9月29日,中国人民政治协商会议第一届全体会议选举了中央人民政府委员会,宣告了中华人民共和国的成立,并且通过了起临时宪法作用的《中国人民政治协商会议共同纲领》。故错误,排除。

C项,七五宪法,指1975年1月17日第四届全国人民代表大会第一次会议通过了修改后新的《中华人民共和国宪法》。故错误,排除。

D项,1978年3月5日,第五届全国人民代表大会第一次会议通过了经重新修改制定的《中华人民共和国宪法》。这是中华人民共和国的第三部宪法(因其在1978年颁布,故称其为“七八宪法”)。故错误,排除。

因此,选则A选项。

【拓展】 可空

【标签】 可空

【知识点】 法律-宪法-宪法基本理论

【难度】 中等

32.(单选题)马克思主义政治经济学的理论十分丰富,其中()是理解马克思主义政治经济学的枢纽

A.商品二因素理论

B.劳动二重性学说

C.剩余价值理论

D.唯物史观

【答案】 B

【解析】 本题属于马克思主义政治经济学题目。

马克思创立了劳动二重性学说,揭示了价值的源泉,揭示了商品价值体现着商品生产者之间相互交换劳动的关系,从而为剩余价值理论等其他理论奠定了基础。资本主义生产的实质、资本主义生产方式的历史过渡性的揭示,都离不开马克思所阐述的劳动二重性学说的理论基础。ACD不符合题意。

因此,选择B选项。

【拓展】 可空

【标签】 可空

【知识点】 经济-马克思主义政治经济学-商品与货币

【难度】 中等

33.(单选题)某资本家100万元办厂,其中固定资本50万元,购买劳动力的

流动资本 25 万元，平均每次投资获得利润为 25 万，那么，该资本家每次投资的资本有机构成和剩余价值率分别为（ ）。

- A.4 : 1 ; 25%
- B.3 : 1 ; 50%
- C.4 : 1 ; 200%
- D.3 : 1 ; 100%

【答案】 D

【解析】 本题属于马克思主义政治经济学题目。

马克思把由资本技术构成决定并能反映技术构成变化的资本价值构成，叫做资本的有机构成，资本有机构成的公式是 C（不变资本）: V（可变资本）。

资本的划分标准如下：

按照生产资料在剩余价值生产中的作用划分	生产资本的各种要素	按照生产资本的价值周转方式划分
不变资本	劳动资料	固定资本
	劳动对象	
可变资本	劳动力	流动资本

本题中，用于购买劳动力的资本是 25 万，也就是可变资本 V 是 25 万，总资本投入 100 万，去掉 25 万可变资本，剩下的不变资本 C 是 75 万，所以资本的有机构成=C:V=3:1。

剩余价值率，是在资本主义条件下，是工人受资本家剥削程度的表现。用公式表示： $m' = m/v$ 。在该公式中， m' 为剩余价值率， m 为剩余价值（根据马克思的理论，剩余价值是指剥削劳动者所生产的新价值中的利润）， v 为可变资本。故本题中的剩余价值率等于剩余价值即投资利润除以可变资本再乘以 100%=25 万/25 万*100%=100%。

所以本题选择 D 选项。

【拓展】 可空

【标签】 可空

【知识点】 经济-马克思主义政治经济学-资本

【难度】 中等

34. (单选题) 毛泽东思想被确立为中国共产党的指导思想是在党的（ ）。

- A.一大

- B.七大
- C.三大
- D.六大

【答案】 B

【解析】 本题属于毛泽东思想题目。

A 项错误，中国共产党第一次全国代表大会召开于 1921 年，大会的中心议题是正式建立中国共产党，选举党的领导机构，此时毛泽东思想还在萌芽中。

B 项正确，中国共产党第七次全国代表大会于 1945 年在延安杨家岭中央大礼堂召开。毛泽东《论联合政府》的政治报告是这次大会的中心议题。大会通过了刘少奇修改党章的报告及新党章。新党章明确规定：中国共产党，以马克思列宁主义的理论与中国革命实践之统一的思想——毛泽东思想，作为自己一切工作的指针。七大确立毛泽东思想为党的指导思想，从而使全党有了在思想上工作上取得一致的牢固的理论基础。

C 项错误，中国共产党第三次全国代表大会于 1923 年在广州召开。这次大会的中心议题是讨论全体共产党员加入国民党，建立国共合作统一战线的问题。

D 项错误，中国共产党第六次全国代表大会于 1928 年在苏联莫斯科近郊召开。此次大会总结大革命失败以来的经验教训，分析中国社会性质和革命性质，制定党在新时期的路线、方针和政策，统一全党思想，发展革命力量。

故本题选择 B 选项。

【拓展】 可空

【标签】 可空

【知识点】 政治-毛泽东思想-毛泽东思想概述

【难度】 中等

35. (单选题) 南沙群岛自古以来就是中国领土，中国人早在 () 时期就发现该群岛。

- A.隋朝
- B.西汉
- C.晋朝
- D.东汉

【答案】 B

【解析】 本题属于人文历史题目。

根据历史记载，秦始皇一统天下，把全国分为 36 郡，其中在岭南地区设置了南

海郡、桂林郡和象郡。这三郡所辖之地，大都濒临今南海的北部和西部海域，也就是东沙群岛和西沙群岛海域。

公元前 111 年，汉武帝派伏波将军路博德、楼船将军杨仆平定南粤之后，在今海南省设立了儋耳、朱崖两郡，南沙群岛出现在中原王朝视线中。在出土于长沙的马王堆汉墓的文物资料中，南海海域被第一次标注在汉代地形图上。

A 项错误，隋代之前已经发现了南沙群岛，《隋书》记载，公元 607 年至 610 年，隋炀帝派常骏、王君政出使赤土国（今马来半岛泰国东南一带），航程经西沙群岛的“焦石山”和南沙群岛西侧。

B 项正确，西汉时代明确出现发现南沙群岛的记载。

C 项错误，晋代之前已经发现了南沙群岛，西晋时，裴渊《广州记》记载了南海的全日潮和半日潮。东晋时，南海郡太守鲍靓定期巡视南海和南海诸岛。

D 项错误，东汉之前的西汉已经发现南沙群岛，东汉建武十八年（公元 42 年），伏波将军马援南征时曾至“千里长沙”，即今日西沙群岛。

故本题选择 B 选项。

【拓展】可空

【标签】可空

【知识点】政治-人文历史-中国历史

【难度】中等

36.(单选题)机密级军事秘密泄露后,会使国防和军队的安全与利益遭受()。

A.严重的损害

B.一定的损害

C.特别严重的相害

D.无法弥补的损害

【答案】A

【解析】本题属于军队常识题目。

《中国人民解放军保密条例》第九条规定，军事秘密分为绝密、机密、秘密三个等级。“绝密”是最重要的军事秘密，泄露会使国防和军队的安全与利益遭受特别严重的损害。“机密”是重要的军事秘密，泄露会使国防和军队的安全与利益遭受严重的损害。“秘密”是一般的军事秘密，泄露会使国防和军队的安全与利益遭受损害。

因此，选择 A 选项。

【拓展】

【标签】

【知识点】国防和军队-军队常识-军队安全保密

【难度】中等

37. (单选题) 秦始皇“焚书坑儒”的根本目的在于()。

- A.加强君主专制统治
- B.压制知识分子
- C.区别对待古代文化
- D.促进社会经济发展

【答案】A

【解析】本题属于人文历史。

A项：“焚书坑儒”是秦始皇为了统一思想，加强君主专制统治而进行的。儒家是尊古的，而秦始皇统一中国是新事务，他采取的措施也都是新措施，这些东西都与儒家理念相悖，而当时六国贵族，也借着儒家的“克己复礼”妄图恢复周朝的分封制，从而取得失去的权势。所以，对于刚刚统一的秦朝来说，统一思想就是维护大一统的关键措施。因此，秦始皇开展了一场统一思想的文化运动，手段虽然激烈，但客观效果明显。故正确，当选。

B项：压制知识分子只是表象，根本目的是加强君主专制统治。故错误，排除。

C项：区别对待古代文化只是表象，根本目的是加强君主专制统治。故错误，排除。

D项：“焚书坑儒”后，思想得到统一，客观上也起到了促进社会发展的作用。但是其根本目的是加强君主专制统治。故错误，排除。

因此，选择A选项。

【拓展】

【标签】

【知识点】人文科技-人文历史-中国历史

【难度】中等

38. (单选题) 决定商品价值量的是()。

- A.简单劳动
- B.社会必要劳动时间
- C.商品的使用价值
- D.商品的价格

【答案】B

【解析】本题属于马克思主义政治经济学。

A项：简单劳动是“复杂劳动”的对称。在一定的社会条件下不需要经过特别的专门训练，每个普通劳动者都能从事的劳动。不能决定商品价值量。故错误，排除。

B项：由马克思主义政治经济学内容可知：决定商品价值量的是社会必要劳动时间。故正确，当选。

C项：使用价值，是一切商品都具有的共同属性之一。任何物品要想成为商品都必须具有可供人类使用的价值。使用价值是物品的自然属性，不能决定商品价值量。故错误，排除。

D项：价格是围绕价值上下波动的，有价值量和供求关系共同决定，而不是决定商品的价值量。故错误，排除。

因此，选择B选项。

【拓展】

【标签】

【知识点】经济-马克思主义政治经济学-价值规律

【难度】中等

39. (单选题) 我国历史上的第一部兵书是 ()。

A. 《孙子兵法》

B. 《武经总要》

C. 《武经七书》

D. 《六韬》

【答案】A

【解析】本题属于中国历史

A项：《孙子兵法》又称《孙武兵法》《吴孙子兵法》《孙子兵书》《孙武兵书》等，创作与春秋时期，是中国现存最早的兵书，也是世界上最早的军事著作，被誉为“兵学圣典”。共有六千字左右，一共十三篇。故正确，当选。

B项：《武经总要》是北宋官修的一部军事著作，作者为宋仁宗时的文臣曾公亮和丁度。两人奉皇帝之命用了五年的时间编成。故错误，排除。

C项：《武经七书》是北宋朝廷作为官书颁行的兵法丛书，是中国古代第一部军事教科书。故错误，排除。

D项：《六韬》又称《太公六韬》《太公兵法》，是中国古代先秦时期著名的黄老

道家典籍《太公》的兵法部分。故错误，排除。

因此，选择 A 选项。

【拓展】

【标签】

【知识点】人文科技-人文历史-中国历史

【难度】中等

40. (单选题) 根据我国法律规定,不属于中央军事委员会职权的是 ()。

A.决定战争状态的宣布

B.统一指挥全国武装力量

C.制定军事法规

D.决定军队体制编制

【答案】 A

【解析】 本题属于国防常识题目。

A 项：《中华人民共和国宪法》第六十二条规定，全国人民代表大会行使下列职权：……（十五）决定战争和和平的问题……所以决定战争状态的宣布应为全国人大的职权，并非中央军事委员会的职权。故错误，当选。

《中华人民共和国国防法》第十三条规定，中央军事委员会领导全国武装力量，行使下列职权：（一）统一指挥全国武装力量；（二）决定军事战略和武装力量的作战方针；（三）领导和管理中国人民解放军的建设，制定规划、计划并组织实施；（四）向全国人民代表大会或者全国人民代表大会常务委员会提出议案；（五）根据宪法和法律，制定军事法规，发布决定和命令；（六）决定中国人民解放军的体制和编制，规定总部以及军区、军兵种和其他军区级单位的任务和职责；（七）依照法律、军事法规的规定，任免、培训、考核和奖惩武装力量成员；（八）批准武装力量的武器装备体制和武器装备发展规划、计划，协同国务院领导和管理国防科研生产；（九）会同国务院管理国防经费和国防资产；（十）法律规定的其他职权。

B 项：符合《国防法》第十三条中第一项规定。故正确，排除。

C 项：符合《国防法》第十三条中第五项规定。故正确，排除。

D 项：符合《国防法》第十三条中第六项规定。故正确，排除。

因此，选择 A 选项。

【拓展】

【标签】

【知识点】国防和军队-国防常识-国防法

【难度】中等

41. (单选题) 依法不能取得著作权的作品是 ()。

- A. 工程设计
- B. 地图
- C. 历法
- D. 口头作品

【答案】C

【解析】本题属于民法题目。

《中华人民共和国著作权法》第三条规定,本法所称的作品,包括以下列形式创作的文学、艺术和自然科学、社会科学、工程技术等作品:(一)文字作品;(二)口述作品;(三)音乐、戏剧、曲艺、舞蹈、杂技艺术作品;(四)美术、建筑作品;(五)摄影作品;(六)电影作品和以类似摄制电影的方法创作的作品;(七)工程设计图、产品设计图、地图、示意图等图形作品和模型作品;(八)计算机软件;(九)法律、行政法规规定的其他作品。

A项,工程设计符合《著作权法》第三条第七项规定。故正确,排除。

B项,地图符合《著作权法》第三条第七项规定。故正确,排除。

C项,《著作权法》第五条规定,本法不适用于:(一)法律、法规,国家机关的决议、决定、命令和其他具有立法、行政、司法性质的文件,及其官方正式译文;(二)时事新闻;(三)历法、通用数表、通用表格和公式。所以历法不能取得著作权。故错误,当选。

D项,口头作品符合《著作权法》第三条第七项规定。故正确,排除。

因此,选择C选项。

【拓展】

【标签】

【知识点】法律-民法-(其他)民法

【难度】中等

42. (单选题) 随着私家车的大量增加,停车难的困境日益显现。针对这一情况,某市规定闹市路边车位25元/时而地下车库车位5元/时,有效地缓解了停车的状况。在这一过程中,经济杠杆能够发生作用的根本原因是 ()。

- A. 经济手段是以政府强制力为后盾的

- B.经济手段能够弥补市场调节的缺陷
- C.经济手段直接关系着市场主体的利益
- D.经济手段能够抑制经济发展中的波动

【答案】 C

【解析】 本题属于社会主义市场经济体制题目。

A项,行政手段是以政府强制力为后盾,而不是经济手段。故错误,排除。

B项,经济手段能够调节市场,但是不能完全弥补市场缺陷,这里夸大了经济手段的作用,同时也不是根本原因。故错误,排除。

C项,经济杠杆之所以能够发挥调节作用,其根本原因是因为经济手段直接关系着市场主体的利益,通过利益的分配和调整使人们在活动中做出一定的经济行为,从而对资源进行配置。故正确,当选。

D项,经济手段能够起到调节作用,但“抑制经济发展中的波动”说法夸大了经济手段的作用,同时也不是根本原因。故错误,排除。

因此,选择 C 选项。

【拓展】

【标签】

【知识点】 经济-社会主义市场经济体制-社会主义市场经济

【难度】 中等

43. (单选题) 道德认识、道德情感和道德意志一旦变个人行动的指南和原则,则称为()。

- A.道德品质
- B.道德习惯
- C.道德信念
- D.道德理念

【答案】 C

【解析】 本题属于道德题目。

道德信念就是人们通过对社会道德规范的认识和了解,在自身强烈的道德情感驱动下,对履行某种社会道德义务产生的强烈的责任感。道德认识、道德情感和道德意志一旦变个人行动的指南和原则,则称为道德信念。

因此,选择 C 选项。

【拓展】 可空

【标签】 可空

【知识点】政治-道德-道德概述

【难度】中等

44. (单选题) 国家直接用于防务和国防建设的财产,属于()。

- A.国防资产
- B.国有资产
- C.军产
- D.国防经费

【答案】A

【解析】本题属于国防常识

A项,国防资产是国家用于国防目的的财和物及由此而引起的各项权利的总和,是国有资产的重要组成部分。故正确,当选。

B项,国有资产,是指属于国家所有的一切财产和财产权利的总和,是国家所有权的客体。范围比国防资产大,国防资产已包含,故错误,排除。

C项,军产是指中国人民解放军部队所有的房产。包括由国家划拨的房产、利用军费开支或军队自筹资金购建的房产。故错误,排除。

D项,国防经费是指为保障国家生存与发展安全的专项费用,即国家为防备和抵抗侵略,制止武装颠覆,保卫国家的主权、统一、领土完整和安全所进行的军事活动,以及与军事有关的政治、经济、外交、科技、教育等方面活动的费用,一般是国家财政拨款。是专项费用,不是财产。故错误,排除。

【拓展】可空

【标签】可空

【知识点】法律-国防常识-国防概述

【难度】中等

45. (单选题) 二进制数 1001001 转换成十进制数是()。

- A.83
- B.73
- C.63
- D.53

【答案】B

【解析】本题属于科技题目。

二进制怎么转化成十进制转换 需要将二进制把各个位数拆开乘以 2 的(位数-1)

次幂，依次类推。

因此，二进制数 1001001 转化为十进制

$$=1*2^6+0*2^5+0*2^4+1*2^3+0*2^2+0*2^1+1*2^0$$

最终答案为 73。

因此，选择 B 选项。

【拓展】 可空

【标签】 可空

【知识点】 人文科技-科技-计算机网络

【难度】 中等

46. (单选题) 用人单位不能单方面解除劳动合同的情形是 ()。

A.劳动者在试用期间被证明不符合录用条件

B.劳动者严重违反用人单位的规章制度

C.劳动者不能胜任工作

D.劳动者存在双重劳动关系，对本单位工作造成严重影响

【答案】 C

【解析】 本题属于其他法律题目。

根据《劳动合同法》第三十九条：劳动者有下列情形之一的，用人单位可以解除劳动合同：(一)在试用期间被证明不符合录用条件的；(二)严重违反用人单位的规章制度的；(三)严重失职，营私舞弊，给用人单位造成重大损害的；(四)劳动者同时与其他用人单位建立劳动关系，对完成本单位的工作任务造成严重影响，或者经用人单位提出，拒不改正的；(五)因本法第二十六条第一款第一项规定的情形致使劳动合同无效的；(六)被依法追究刑事责任的。

ABD 项均属于用人单位可以单方面解除劳动合同的情形。C 项，属于《劳动合同法》第四十条第二款规定的情形：劳动者不能胜任工作，经过培训或者调整工作岗位，仍不能胜任工作的，用人单位提前三十日以书面形式通知劳动者本人或者额外支付劳动者一个月工资后，可以解除劳动合同。

因此，选择 C 选项。

【拓展】 可空

【标签】 可空

【知识点】 法律-其他法律-其他（法律）

【难度】 中等

47. (单选题) 关于计算机病毒防范措施, 错误的是 ()。

- A. 安装专业的病毒软件
- B. 及时安装操作系统最新补丁
- C. 关闭有线网卡改用无线网卡访问网络
- D. 关闭 FTP 客户端等辅助服务

【答案】 C

【解析】 本题属于科技题目。

C 项, 有线网卡与无线网卡只是在网络连接的形式上有所差别, 在网络连接的内容上并无差异。选择无线网卡连接到网络并不会防止计算机病毒的感染。C 项说法错误。

因此, 选择 C 选项。

【拓展】 可空

【标签】 可空

【知识点】 人文科技-科技-计算机网络

【难度】 中等

48. (单选题) 马克思根据人的发展状况把人类历史划分为三大形态, 它们是 ()。

- A. 自然经济社会、商品经社会、时间经济社会
- B. 人的依赖性社会、物的依赖性社会、人的自由全面发展社会
- C. 原始公有制社会、私有制社会、共产主义公有制社会
- D. 农业社会、工业社会、信息社会

【答案】 B

【解析】 本题属于马克思主义哲学题目。

马克思在《政治经济学批判 (1857—1858 年草稿) 》中对人类社会发展的三大社会形态进行概括, 即: “人的依赖关系 (起初完全是自然发生的), 是最初的社会形态, 在这种形态下, 人的生产能力只是在狭窄的范围内和孤立的地点上发展着。以物的依赖性为基础的人的独立性, 是第二大形态, 在这种形态下, 才形成普遍的社会物质交换, 全面的关系, 多方面的需求以及全面的能力的体系。建立在个人全面发展和他们共同的社会生产能力成为他们的社会财富这一基础上的自由个性, 是第三个阶段。第二个阶段为第三个阶段创造条件。”

C 项是马克思对于人类社会发展的五种形态或者五种所有制形式的表述, 即原始社会、奴隶制社会、封建制社会、资本主义社会和共产主义社会。

因此，选择 B 选项。

【拓展】 可空

【标签】 可空

【知识点】 政治-马克思主义哲学-唯物史观

【难度】 中等

49. (单选题) 社会主义初级阶段是不可逾越的，这主要取决于 ()。

- A. 市场经济的不可逾越性
- B. 生产关系发展的不可逾越性
- C. 文化传统的不可逾越性
- D. 生产力发展的不可逾越性

【答案】 D

【解析】 本题属于马克思主义哲学题目。

社会主义初级阶段的社会主义发展阶段首先决定于生产力，其次才是经济运行机制或资源配置方式。

A 项，市场经济属于经济形式，不存在是否被逾越。A 项错误。

B 项，生产关系是可以逾越的，比如中国没有经过资本主义阶段直接进入社会主义阶段。B 项错误。

C 项，文化传统具有历史继承性，不存在是否被逾越。C 项错误。

D 项，生产力决定生产关系，其发展不可逾越。虽然我国目前进入到社会主义，但是决定我国社会主义初级阶段的根本原因就在于生产力不平衡不充分的发展。因此，生产力的不可逾越性是社会主义初级阶段的根本性决定因素。D 项正确。

因此，选择 D 选项。

【拓展】 可空

【标签】 可空

【知识点】 政治-马克思主义哲学-唯物史观

【难度】 中等

50. (单选题) 不属于“唐初四杰”的诗人是 ()。

- A. 王勃
- B. 杨炯
- C. 李贺
- D. 卢照邻

【答案】C

【解析】本题属于人文历史题目。

初唐四杰是指中国唐代初年，文学家王勃、杨炯、卢照邻、骆宾王的合称，简称“王杨卢骆”。

C项，李贺是中唐的浪漫主义诗人，与李白、李商隐称为唐代三李。是中唐到晚唐诗风转变期的一个代表者，不属于“初唐”时期。

因此，选择C选项。

【拓展】可空

【标签】可空

【知识点】人文科技-人文历史-文学常识

【难度】中等

51. (多选题) 公有制的主体地位主要体现在 ()。

- A. 公有资产在社会总资产中占优势
- B. 国有经济在国民经济中的比重不断提高
- C. 国有经济的比重大于集体经济
- D. 国有经济在全国各个地区占有优势
- E. 国有经济控制国民经济命脉，对经济发展起主导作用

【答案】AE

【解析】本题属于社会主义市场经济体制题目。

党的十五大明确指出，公有制经济不仅包括国有经济和集体经济，还包括混合所有制经济中的国有成分和集体成分。公有制的主体地位主要体现在：公有资产在社会总资产中占优势；国有经济控制国民经济命脉，对经济发展起主导作用。

因此，选择AE选项。

【拓展】可空

【标签】可空

【知识点】经济-社会主义市场经济体制-经济体制和制度

【难度】中等

52. 现行《中国人民解放军保密条例》规定，对于是否属于军事秘密和属于何种密级不明确的事项，依照权限规定。具体有 ()。

- A. 秘密级有团级以上单位确定
- B. 机密级由师级以上单位确定

- C.机密级由军级以上单位确定
- D.绝密级由军级以上单位确定
- E.秘密级由营级以上单位确定

【答案】 ABD

【解析】 本题属于军队常识题目。

根据《中国人民解放军保密条例》第十二条：对是否属于军事秘密和属于何等密级不明确的事项，依照下列权限确定：（一）秘密级由团级以上单位确定；（二）机密级由师级以上单位确定；（三）绝密级由军级以上单位确定。ABD 项符合相关表述。

因此，选择 ABD 选项。

【拓展】 可空

【标签】 可空

【知识点】 国防和军队-军队常识-军队安全保密

【难度】 中等

53. (多选题) 核能是一种清洁能源，它的排放物不包括 ()。

- A.水蒸气
- B.烟尘和固体废渣
- C.二氧化碳
- D.二氧化硫
- E.氮氧化物

【答案】 BCDE

【解析】 本题属于科技常识题目。

核能是通过核反应从原子核释放的能量，核能可通过三种核反应之一释放：1.核裂变，2.核聚变，3.核衰变。人类目前核能的主要来源是核裂变，核裂变是指由重的原子核(主要是指铀核或钚核)分裂成两个或多个质量较小的原子的一种核反应形式。在这一反应过程中，不会产生二氧化硫、氮氧化物等大气污染物，也不会产生二氧化碳气体，同时不会产生烟尘或者固体废渣，但是需要水来充当冷却剂，在这一过程中会产生水蒸气。

因此，选择 BCDE 选项。

【拓展】 可空

【标签】 可空

【知识点】 人文科技-科技-其他

【难度】中等

54. (多选题)

19 世纪英法空想社会主义的缺陷有 ()。

- A.没有正确认识社会发展的客观规律
- B.不能揭示资本主义必然灭亡的经济根源
- C.缺少当时统治阶级的大力支持
- D.找不到通往理想社会的现实道路
- E.没有找到埋葬资本主义的社会力量

【答案】ABDE

【解析】本题属于人文历史题目。

空想社会主义产生于 16 世纪初，空想社会主义是早期无产阶级意识和利益的先声。空想社会主义对资本主义旧制度进行了辛辣批判，包含着许多击中要害的见解；对社会主义新制度的描绘，闪烁着诸多天才的火花，但因为缺乏实践基础、缺乏群众基础，只是一种空中楼阁式的思想。

A 项，英法空想社会主义没有从当时的实际情况出发，一味没有正确认识社会发展的客观规律，正确，当选。

B 项，空想社会主义者只看到了资本主义必然灭亡的命运，却未能揭示资本主义必然灭亡的经济根源。正确，当选。

C 项，空想社会主义的缺陷主要强调自身内部的缺陷，而不是强调外部力量；空想社会主义产生时期统治阶层为资产阶级，资产阶级是不会支持空想社会主义思潮的。C 项“缺少当时统治阶级的大力支持”错误，排除。

D 项，空想社会主义只是提出了未来社会的蓝图，但是没有真正揭示到达共产主义社会的途径，它憧憬取代资本主义的理想社会，却找不到通往理想社会的现实道路。

D 项表述正确，当选。

E 项，空想社会主义没有看到无产阶级，要求埋葬资本主义，却看不到埋葬资本主义的力量，憧憬取代资本主义的理想社会，却找不到通往理想社会的现实道路。

E 项表述正确，当选。

因此，选择 ABDE 选项。

【拓展】可空

【标签】可空

【知识点】人文科技-人文历史-世界历史

【难度】中等

55. (多选题) 属于要约失效的是 ()。

- A. 要约人依法撤销要约
- B. 受要约人对要约的内容作出实质性修改
- C. 拒绝要约的通知到达要约人
- D. 承诺期限届满, 受要约人未进行承诺
- E. 在要约到达受要约人之前, 要约人向受要约人发出了要约撤回的通知

【答案】 ABCD

【解析】 本题属于民法题目。

A、B、C、D项, 要约失效即要约丧失其法律效力, 要约人和受要约人均不再受其约束。要约失效的原因有: 1、拒绝要约的通知到达要约人; 2、要约人依法撤销要约; 3、承诺期限届满, 受要约人未作出承诺; 4、受要约人对要约的内容作出实质性变更。故正确, 当选。

E项, 要约撤回是指在要约生效之前, 要约人使要约不发生法律效力的行为。在要约到达受要约人之前, 要约人向受要约人发出了要约撤回的通知属于要约撤回的条件。故错误, 排除。

因此, 选择 ABCD 选项。

【拓展】 可空

【标签】 可空

【知识点】 法律—民法—合同法

【难度】 中等

56. (多选题) 2018年7月, 在国外访问的中共中央总书记、国家主席、中央军委主席习近平对吉林长春长生生物疫苗事件作出重要指示的内容有 ()。

- A. 长春长生生物科技有限公司违法违规生产疫苗行为, 性质恶劣, 令人触目惊心
- B. 以猛药去疴、刮骨疗毒的决心, 完善我国疫苗管理体制
- C. 对一切危害人民生命安全的违法犯罪行为坚决重拳打击, 对不法分子坚决依法严惩, 对监管失职渎职行为坚决严厉问责
- D. 尽早还人民群众一个安全、放心、可信任的生活环境
- E. 坚决守住安全底线, 全力保障群众切身利益和社会安全稳定大局

【答案】 ABE

【解析】本题属于时事政治题目。

A、B、E项，习近平对吉林长春长生生物疫苗案件作出重要指示指出：“长春长生生物科技有限责任公司违法违规生产疫苗行为，性质恶劣，令人触目惊心。有关地方和部门要高度重视，立即调查事实真相，一查到底，严肃问责，依法从严处理。要及时公布调查进展，切实回应群众关切。习近平强调，确保药品安全是各级党委和政府义不容辞之责，要始终把人民群众的身体健康放在首位，以猛药去疴、刮骨疗毒的决心，完善我国疫苗管理体制，坚决守住安全底线，全力保障群众切身利益和社会安全稳定大局。”故正确，当选。

C、D项，国务院总理李克强作出批示要求：国务院立刻派出调查组，对所有疫苗生产、销售等全流程全链条进行彻查，尽快查清事实真相，不论涉及到哪些企业、哪些人都坚决严惩不贷、绝不姑息。对一切危害人民生命安全的违法犯罪行为坚决重拳打击，对不法分子坚决依法严惩，对监管失职渎职行为坚决严厉问责。尽早还人民群众一个安全、放心、可信任的生活环境。故错误，排除。

因此，选择 ABE 选项。

【拓展】可空

【标签】可空

【知识点】政治—时事政治—时事热点

【难度】中等

57. (多选题) 文职人员应当具备的基本条件包括 ()。

- A. 具有中华人民共和国国籍；年满 18 周岁
- B. 具有本地户籍
- C. 符合军队招录聘用文职人员的政治条件
- D. 符合岗位要求的资格条件：身体和心理健康
- E. 法律、法规规定的其他条件

【答案】ACDE

【解析】本题属于其他法律题目。

《中国人民解放军文职人员条例》第二章第九条规定：“(一)具有中华人民共和国国籍；(二)年满 18 周岁；(三)符合军队招录聘用文职人员的政治条件；(四)符合岗位要求的资格条件；(五)身体和心理健康；(六)法律、法规规定的其他条件。”因此，选择 ACDE 选项。

【拓展】可空

【标签】可空

【知识点】法律—其他法律—其他（法律）

【难度】中等

58. (多选题) 关于犯罪中止的说法,正确的有()。

- A.犯罪行为实施完毕,则不可能成立犯罪中止
- B.对于中止犯,没有造成损害的,应当免除处罚
- C.对于中止犯,造成损害的,应当减轻处罚
- D.犯罪中止只可能出现在故意犯罪中
- E.犯罪中止可以发生在犯罪的预备阶段

【答案】BCDE

【解析】本题属于刑法题目。

A项,行为人在实施完毕犯罪行为后、犯罪结果出现之前,自动采取措施有效地避免犯罪结果的发生,成立犯罪中止。故错误,排除。

B、C项,《刑法》第二十四条规定:“在犯罪过程中,自动放弃犯罪或者自动有效地防止犯罪结果发生的,是犯罪中止。对于中止犯,没有造成损害的,应当免除处罚;造成损害的,应当减轻处罚。”故正确,当选。

D项,犯罪中止,是在故意犯罪过程中,自动放弃犯罪或者自动有效地防止犯罪结果的发生。故正确,当选。

E项,犯罪的预备阶段是指实施犯罪创造条件而进行的准备阶段。犯罪中止存在两种情况:一是未实行终了的中止二是实行终了的中止。犯罪中止可以繁盛在犯罪的预备阶段。故正确,当选。

因此,选择BCDE选项。

【拓展】可空

【标签】可空

【知识点】法律—刑法—犯罪概述

【难度】中等

59. (多选题) 习近平新时代中国特色社会主义思想,是()。

- A.对马克思列宁主义、毛泽东思想、邓小平理论、“三个代表”重要思想的继承和发展
- B.马克思主义中国化最新成果
- C.党和人民实践经验和集体智慧的结晶
- D.中国特色社会主义理论体系的重要组成部分

E.全党全国人民为实现中华民族伟大复兴而奋斗的行动指南

【答案】ABCDE

【解析】本题属于中国特色社会主义题目。

2017年10月18日,在中国共产党第十九次全国代表大会上习近平总书记首次提出“新时代中国特色社会主义思想”。2018年3月11日,第十三届全国人民代表大会第一次会议通过《中华人民共和国宪法修正案》,习近平新时代中国特色社会主义思想写入《中华人民共和国宪法》。习近平新时代中国特色社会主义思想,是对马克思列宁主义、毛泽东思想、邓小平理论、“三个代表”重要思想、科学发展观的继承和发展,是马克思主义中国化最新成果,是党和人民实践经验和集体智慧的结晶,是中国特色社会主义理论体系的重要组成部分,是全党全国人民为实现中华民族伟大复兴而奋斗的行动指南,必须长期坚持并不断发展。

因此,选择ABCDE选项。

【拓展】可空

【标签】可空

【知识点】政治—中国特色社会主义—习近平新时代中国特色社会主义思想

【难度】中等

60.(多选题)与第二次世界大战之前相比,当代发达资本主义国家的社会阶层、阶级结构发生了许多新的变化,主要表现在()。

A.知识型和服务型劳动者的数量随着科技革命的不断深入而持续增加

B.资本家由从前的直接生产经营者变成以剪息票为生的食利者

C.职工持股和参与决策使得劳动者成为资本家集团的重要力量

D.高级职业经理成为资本主义社会大公司经营活动的实际控制者

E.“知本家”成为资本家集团产权的完全控制者

【答案】ABD

【解析】本题属于马克思主义政治经济学题目。

A、B、D项,在当代资本主义生产关系中,阶层、阶级结构发生了新的变化:一是资本家的地位和作用发生了很大的变化。资本所有权和经营权发生分离,拥有所有权的资本家一般不再直接经营和管理企业,而是靠拥有的企业股票等有价证券的利息收入为生。二是高级职业经理成为大公司经营活动的实际控制者。三是知识型和服务型劳动者的数量不断增加,劳动方式发生了新变化。故正确,当选。

C项,“职工持股和参与决策”确实是资本主义社会的新变化,但这是劳资关系

的变化，不是阶级结构的变化，并且这并不意味着工人就变成了资本家，工人并不会成为资本家集团的重要力量，两者有本质区别。故错误，排除。

E项，“知本家”是知识型的劳动者，是掌握丰富知识并且拥有创造能力的人。“知本家”是知识经济时代的财富创造者，但并没有成为资本家集团产权的完全控制者。故错误，排除。

因此，选择A、B、D选项。

【拓展】 可空

【标签】 可空

【知识点】 经济—马克思主义政治经济学—资本

【难度】 中等

第二部分 岗位能力

一、言语理解与表达

（请根据题目要求，在四个选项中选出一个最恰当的答案。共15题，每题1分，共15分。）

61.下列各组词语中，没有错别字的一组是（ ）。

- A. 澄澈 重蹈覆撤 震荡 振耳欲聋
- B. 踊跃 始作勇者 优异 怨天尤人
- C. 仓促 沧海桑田 恻隐 侧目而视
- D. 追溯 溯流求源 聪慧 拾人牙慧

【答案】 D

【知识点】 言语理解与表达-语句表达-基础知识

【难度】 中等

【分数】 1

【解析】 本题属于基础知识。

A项“振耳欲聋”的“振”应为“震”，故A错误，排除。

B项“始作勇者”的“勇”应为“俑”，故B错误，排除。

C项“仓促”的“仓”应为“仓”，故C错误，排除。

D项没有错误，故D正确，当选。

故本题的正确答案为D项。

62.翻译时，“直译”偏重于对原文的忠实，“意译”偏重于译文语气的顺畅。

哪种译法最妥当，人们各执己见。依我看，直译和意译的分别根本不应存在，忠

实的翻译必定能尽量表达原文的意思。思想感情与语言是一致的，相随而变的，一个意思只有一个精确的说法，换一个说法，意味就完全不同。所以想尽量表达原文的意思，必须尽量保持原文的语句组织。因此，直译不能不是意译，而意译也不能不是直译。

这段文字中，作者认为（ ）。

- A. 应随原文意思灵活选择翻译方法
- B. 人为划分直译、意译本无必要
- C. 忠实于原文思想是翻译的最高艺术
- D. 翻译时应尽量减少译者个人风格

【答案】B

【知识点】言语理解与表达-片段阅读-态度理解

【难度】中等

【分数】1

【解析】本题属于态度理解。

A项“灵活选择翻译方法”与作者观点“直译和意译的分别根本不应存在”相悖，故A错误，排除。

B项是对作者观点的同义替换，故B正确，当选。

C项“最高艺术”原文并未提及，无中生有，故C错误，排除。

D项“减少译者个人风格”原文并未提及，无中生有，故D错误，排除。

故本题的正确答案为B项。

63.一位长者对一个青年说：“批评和侮辱，就跟泥巴没什么两样。你看，我大衣上的泥点，是刚过马路溅上的。当时擦一定会很糟，所以就等到泥巴干了再去处理。”但是，任何比喻都是蹩脚的，假如泥点变成了油漆，大衣变成了玻璃，再依据上面比喻中的逻辑，就适得其反。生活给我们准备了各种各样的逻辑，他们互不相同，也许还会打架。而我们奉行什么样的逻辑，全取决于自己。

最适合这段文字标题的是（ ）。

- A. 异杂逻辑
- B. 生活中的逻辑不是单一的
- C. 批评与侮辱
- D. 事物具有辩证性

【答案】A

【知识点】言语理解与表达-片段阅读-标题选择

【难度】中等

【分数】

【解析】 本题考查的是标题选择。

文段先讲了一个大衣上溅泥巴的处理逻辑，接着通过“但是”指出这种处理逻辑不一定适用其他情况。最后总结了生活中的逻辑是多样的，有时候会前后矛盾，我们奉行什么样的逻辑，全取决于自己。文段主要围绕“逻辑”这一主体展开，主要说逻辑的多样性，且会相互打架。对比选项，A项中的“异”“杂”概括了逻辑的特点，故A项正确，当选。B项表述没有体现出“杂”，文段不仅提到生活中的多种逻辑，也提到了它们“也许还会打架”，故B项错误，排除。C项是故事中的内容，不是文段重点，故C项错误，排除。D项没有提到文段主体“逻辑”，故D项错误，排除。

故本题正确答案为A项。

64.下列语句中，标点符号使用完全正确的是（ ）。

- A. “他爷爷身体好得很。”小王说，“爬起山来小伙子都跟不上。”
- B. 四大古典名著《红楼梦》《三国演义》《水浒传》《西游记》很畅销。
- C. “我啊！多么想见到你呀！”我告诉他家乡已经变了样啦！他高兴得不得了。
- D. 有的评论家说：“徐悲鸿笔下的马”，“神形兼备，充满生机”，充分表现了对徐悲鸿艺术作品的热爱。

【答案】 B

【知识点】 言语理解与表达—语句表达—基础知识

【难度】 中等

【分数】 1

【解析】 本题属于基础知识。

A项：考查句号放在引号里面还是外面。如果是直接叙述句号在里面；若是转述句号在外面。题干中“爬起山来小伙子都跟不上。”是小王直接叙述的话语，句号应该放在引号外面。A项错误。

B项：书名号和引号之间的并列不需要有顿号隔开，B项正确。

C项：题干中“我告诉他家乡已经变了样啦”是个陈述句，后面不应该用感叹号，即便是表示感叹，感叹号也应该用在句末，不是句中。C项错误。

D项：“徐悲鸿笔下的马”，是整句描述的对象，也不是特指或专有名词，不需要加双引号。D项错误。

故本题正确答案为B项。

65.下列句子中，表意明确、没有歧义的是（ ）。

- A. 我第一次见到他时，也不过才六七岁，如今已长大成人。

- B.华兴公司和威宝公司与数家国有企业签订了合作协议。
C.纵然有这样那样的瑕疵，谁也无法否认《战狼》是部好影片。
D.小李刚到家就接到师里的通知，让他5月20日前去报到。

【答案】C

【知识点】言语理解与表达-语句表达-歧义句辨析

【难度】中等

【分数】1

【解析】本题考查的歧义句辨析。

A项中“也不过才六七岁”存在歧义，不知是“我”六七岁，还是“他”六七岁，排除。

B项存在歧义，可以理解为“华星公司既与威宝公司合作，同时也与数家国有企业合作”，也可以理解为“华星公司与威宝公司同时都与数家国有企业合作”，排除。

C项没有歧义，表述明确，当选。

D项中“5月20日前去报到”中的“前”存在歧义，可以理解为“5月20日之前去报到”，也可以理解为“5月20日当天要去报到”，排除。

故本题的正确答案为C项。

66.下列句子中，没有语病的是（ ）。

- A.在此次少年科技创新大赛中，同学们常围在一起相互鼓励并认真总结得失，赢得的远远不只是比赛的胜负。
B.不管是普及的程度还是比赛的数量和质量，同一些欧美国家相比，中国的盲人足球运动都还相去甚远。
C.生态环境关系到每个人的生存，对于生态环境的破坏，只有减少环境污染，践行低碳环保的生活方式，才能逐渐得到改善。
D.闪闪发光的银块，如果加工成极其细小、只有十分之几微米的银粉时，会变成黑色的，这是为什么呢？

【答案】B

【知识点】言语理解与表达-语句表达-病句辨析

【难度】中等

【分数】1

【解析】本题考查的病句辨析。

A项中“赢得的远远不只是比赛的胜负”表述错误，“赢得胜负”为一面对两面的错误，应该将“胜负”改为“胜利”，排除。

B项没有语病，表述正确，当选。

C项“对于生态环境的破坏……才能逐渐得到改善”中，“改善破坏”搭配不当，应该将“改善”改为“遏制”，排除。

D项缺少主语，去掉“时”，改为“如果加工成……的银粉，会变成黑色的”，排除。

故本题的正确答案为B项。

67. 假若城市的教育资源能够在不同学校之间公平分配，那么就不会出现重点校与普通校的区别，也不会有些教师因教育资源的过度聚集而“暴富”。假如教育资源在地域之间得到公平分配，边远地区的山村学校能获得更多的投入，那么，乡村教育就不会如此艰难。

山村学校能获得更多的投入，那么，乡村教育就不会如此艰难。

不能表明这段文字作者观点和态度的是（ ）。

- A. 教育资源在不同学校之间应该公平分配
- B. 城市教育资源相对集中，乡村教育资源比较匮乏
- C. 教师贫富差距原因在于教师工作投入程度差异
- D. 边远地区的山村学校需要更多的投入

【答案】C

【知识点】言语理解与表达-片段阅读-态度理解

【难度】中等

【分数】1

【解析】文段首句说到假如城市的教育资源在不同学校之间可以公平分配，那么就不会有普通学校和重点学校之分，也不会有些教师因教育资源过度集中而“暴富”。第二句说到假如教育资源在地域之间公平分配，山村的学校可以获得更多投入，那么乡村教育就不会如此艰难。作者从并列的两方面分别谈到了教育资源公平分配的意义。

对比选项，C选项“教师的贫富差距原因在于教师工作投入程度差异”与作者观点不符，作者认为是教育资源过度集中造成了一些教师“暴富”。A、B、D选项均符合作者观点。

故本题正确答案为C项。

68. 将下列5个句子重新排列，语序正确的是（ ）。

- ①他们保存历史的唯一办法是将历史当作传说讲述，由讲述人一代接一代地将史实描述为传奇故事口传下来。
- ②但是，没有人能把他们当时做的事情记载下来。

- ③这些传说是很有用的，因为它们能告诉我们以往人们迁居的情况。
④我们从书籍中可以读到 5000 年前近东发生的事情，那里的人最早学会了写字
⑤但直到现在，世界上仍然有些地方，人们还不会书写。

- A . ①③②④⑤
B . ④①③②⑤
C . ①②③④⑤
D . ④⑤①③②

【答案】D

【知识点】言语理解与表达-语句表达-语句排序

【难度】中等

【分数】1

【解析】本题考查语句排序。

观察选项，确定首句。①句句首出现指代词“他们”，前文应有对应的指代内容，①不适合作为首句，因此 AC 错误，排除。接下来寻找捆绑，④句句尾提到了“写字”，⑤句中同样提到了“书写”，话题一致，因此④⑤捆绑，B 项错误，排除。

故本题正确答案为 D 项。

69.现存最早的密檐塔建于北魏正光四年（532 年），位于河南登封嵩山，称为嵩岳寺塔。塔身呈 12 边形，每个角有砖砌的倚柱，各面的门和龛上都饰有印度式的火焰纹拱券。塔身为 15 层砖墙，排列紧密并富于节奏感。它的创作构思，既摆脱了汉魏传统的楼阁，也不拘泥于印度的形式，而着力表现宗教在人们心中唤起的那种深邃而又神秘莫测的力量。此外，陕西西安的小雁塔，云南大理的崇圣寺塔也属于这一类型。

文中划线处“它的创作构思”中的“它”字指代的是（ ）。

- A . 密檐塔
B . 小雁塔
C . 嵩岳寺塔
D . 崇圣寺塔

【答案】C

【知识点】言语理解与表达-片段阅读-代词指代

【难度】中等

【分数】1

【解析】本题属于代词指代。

本题首先引出了现存最早的密檐塔称为嵩岳寺塔,接下来对嵩岳寺塔的形貌进行了详细的介绍。“它的创作构思”依然是围绕嵩岳寺塔进行介绍。最后指出小雁塔和崇圣寺塔也属于密檐塔这一类型。因此“它的创作构思”中的“它”指代的就是嵩岳寺塔,即C选项。ACD三项均非指代内容,排除。

故本题的正确答案为C项。

70. 唐代诗人元稹《行宫》写道:“寥落古行宫,宫花寂寞红。白头宫女在,闲坐说玄宗。”

不符合这首诗诗意的是()。

- A. 诗歌表现出寂寞、冷清之情景
- B. 诗人感叹人去物非、世事沧桑
- C. 诗人意在抒写人生历史之感
- D. 白头宫女长寿,记忆力颇好

【答案】D

【知识点】言语理解与表达-语句表达-基础知识

【难度】中等

【分数】1

【解析】本题属于基础知识。

元稹的《行宫》是一首抒发盛衰之感的诗,营造了深邃的意境。说的是漫长的岁月里,古行宫已经变得荒败不堪,当年入宫的红颜少女,也在孤独寂寞中苦熬了几十个春秋,如今早已是白发苍颜了。这首诗倾吐了宫女无穷的哀怨之情,寄托了诗人深沉的盛衰之感。

辨析选项,D选项“白头宫女长寿,记忆力颇好”与诗文表达的意思不相符。

A、B、C选项均符合诗意。

故本题正确答案为D项。

71. 在下面文字的横线处,填上与上下文衔接最恰当的句子是()。

只有经济大大发展了,经济实力和综合国力大大增强了,_____。

- A. 国家才能长治久安,人民的生活才能不断改善,我们的腰杆子才能更硬,在国际上说话才更有分量
- B. 国家才能长治久安,我们的腰杆子才能更硬,人民的生活才能不断改善,在国际上说话才更有分量
- C. 人民的生活才能不断改善,我们的腰杆子才能更硬,国家才能长治久安,在国际上说话才更有分量
- D. 人民的生活才能不断改善,国家才能长治久安,我们的腰杆子才能更硬,在

国际上说话才更有分量

【答案】D

【知识点】言语理解与表达—语句表达—语句填空

【难度】中等

【分数】1

【解析】本题考查的是语句填空。

本题中横线处所填的句子须承接上文,体现的是经济发展带来的一系列结果,这些结果之间是层层推进的。“经济实力和综合国力大大增强”是“人民生活改善”的基础,“人民生活改善”是“国家长治久安”的前提,“国家长治久安”是“腰杆子更硬”的条件,“腰杆子硬”了在国际上说话才会“有分量”。D项符合递进关系,当选。

AB两项,“国家长治久安”是“人民生活改善”之后带来的结果,语序应为“人民的生活才能不断改善,国家才能长治久安”,排除。

C项,“国家长治久安”了,才会有“腰杆子硬”的结果,故语序应为“国家才能长治久安,我们的腰杆子才能更硬”,排除。

故本题的正确答案为D项。

72.除了书本上的知识之外,我们更要明白“常识”的重要。只有学问而无常识,与人谈话时,会缺少轻松平易的话题。有你在座,空气即会紧张严肃,你就成为不受欢迎的人物。所谓常识,包罗万象,一切都该去留神知道,才可使你活泼风趣,谈起话来左右逢源。

这段话的主要意思是()。

- A. 没有常识的人是没有价值的人
- B. 常识包括包罗万象
- C. 常识比学问更重要
- D. 缺乏常识的人很难与人交往

【答案】D

【知识点】言语理解与表达-片段阅读-主旨概括

【难度】中等

【分数】1

【解析】本题属于主旨概括。

A项“没有常识的人是没有价值的人”表述过于绝对,故A错误,排除。

B项“常识包括包罗万象”非重点,故B错误,排除。

C项“常识比学问更重要”的表述缺少前提，是在人际交往中，常识更重要，故C错误，排除。

D项表述是文段的主旨意思，故D正确，当选。

故本题的正确答案为D项。

73. 依次填入划横线处的关联词语，最恰当的一组是（ ）。

①上千吨的轮船碰上这样大的风浪也得上下颠簸，_____这么一条小船。

②挖这样的井，占地多，不合算，_____井的四周都是沙土，很容易塌陷。

③改革后，产品质量提高了，款式新颖了，_____包装也精美了，因而更加受到群众的欢迎。

A. 何况 况且 而且

B. 况且 何况 而且

C. 况且 而且 况且

D. 何况 而且 何况

【答案】A

【知识点】言语理解与表达-逻辑填空-虚词辨析

【难度】中等

【分数】

【解析】本题属于关联词的辨析。

第一空前内容是一种对比，拿小船和轮船对比，表示小船更是无法阻挡这样大的风浪。“何况”是指用反问的语气表达更进一层的意思，且有“对比”的意思，突出后者，符合文意。“况且”表示更进一层，多用来补充说明理由，这里关于小船的陈述并非“补充”，排除B项和C项。第二空前说的是“这样的井不合算”，后文是对前文的补充，来论证前文的内容，“况且”用于陈述语气，后句补充交代更重要的理由，符合文意。“而且”表示进一层，并不表示“补充”作用，排除D项。验证第三空，前后内容构成了“进一步”的关系，填入“而且”符合文意。

故本题正确答案为A项。

74. 对中华优秀传统文化，我们要有一种敬畏之心，要为之感到自豪，要坚持“取其精华，去其糟粕”的原则，不断汲取优秀的传统文化来丰富发展当代文化，努力使中华文脉延绵不绝，发扬光大。但是，我们也必须清醒认识到，中华民族优秀传统文化虽然可以丰富发展当代文化，但不可能直接解决当代文化发展问题，解决当代文化发展问题的关键还是创新。

这段文字主要想表达的是（ ）。

- A. 我们要发扬传统文化以丰富发展当代文化
- B. 我们一定要使传统文化源远流长
- C. 发扬传统文化不能解决当代文化发展问题
- D. 当代文化发展需要汲取优秀传统文化，但重在创新

【答案】D

【知识点】言语理解与表达--片段阅读--意图判断

【难度】中等

【分数】1

【解析】本题属于意图判断。

文段先指出我们要敬畏优秀传统文化，并汲取其精华来发展当代文化，紧接着出现转折词“但是”，引导文段重点。之后文段强调的是传统文化不能直接解决当代文化发展的问题，解决当代文化发展问题的关键在于创新，突出的是“创新”的重要性。综上，文段强调的是要汲取优秀传统文化以发展当代文化，更要把创新贯穿到当代文化发展的过程中。对应选项，D项是对文段重点内容的同义替换，故D项正确，当选。

A项，对应文段转折之前的内容，非文段重点，排除。

B项，“使传统文化源远流长”无中生有，排除。

C项，非文段重点，文段要强调的是“创新”的重要性，排除。

故本题的正确答案为D项。

75.央视《全球资讯榜》栏目有段广告：每天，我们只给你介绍三位全球热门人物；只报道最受关注的全球要闻事件；只评选出全球五大上榜公司；只发布全球最新的财经新闻；只介绍最具有想象力的前沿科技。《全球资讯榜》，中央电视台经济频道，每天中午12点。知讯者生存。

对这段文字中“知讯者生存”的理解最准确的是（ ）。

- A. 它的创意源于“只有偏执狂才能生存”，而“偏执狂”已不是“丧失理智的代名词”
- B. 原话中的“偏执狂”是指敢想敢干、敢打敢拼、敢爱敢恨、敢于创新的人
- C. 初听耸人听闻，细品觉得鞭辟入里、精致妥当
- D. 整个节目的品味升至一个境界：提供的是资讯，关注的是生存

【答案】D

【知识点】言语理解与表达--片段阅读--词句理解

【难度】中等

【分数】1

【解析】本题属于词句理解。

定位原文，“知讯者生存”出现在尾句。通过分析上下文语境可知“知讯者生存”是广告语，《全球资讯榜》的广告提供给大家的是“三位全球热门人物”“只报道全球要闻事件”“只介绍最有想象力的前沿科技”……，说明该栏目的作用就是为大家提供最优质的资讯，让大家得到更好的生存和发展。对比选项，D项是对该词正确的理解。A项和B项的“偏执狂”属于无中生有。C项也和该栏目的作用无关。

故本题的正确答案为D项。

二、数量关系

(请根据题目要求，在四个选项中选出一个最恰当的答案。共10题，每题1.5分，共15分。)

76.(单选题)小张收购一台手机，然后转手卖出，赚取了30%的利润。一星期后，客户要求退货。小张和客户达成协议，以当时交易价格的90%回收了这台手机，后来小张又以最初的收购价格将其卖出。小张在这场手机交易中的利润率是()。

- A.27%
- B.20%
- C.17%
- D.13%

【答案】D

【解析】本题属于基本经济利润。

赋值小张收购手机价为100元，则利润为 $100 \times 30\% = 30$ 元，售价为130元；手机回收价格为 $130 \times 0.9 = 117$ 元，卖100元，利润为 $100 - 117 = -17$ 元。所以手机总利润为 $30 - 17 = 13$ 元，利润率为 $13/100 = 13\%$ 。

因此，选择D选项。

【拓展】可空

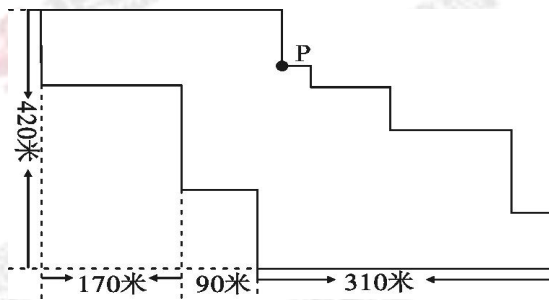
【标签】可空

【知识点】数量关系-数学运算-经济利润问题-基础公式类

【难度】中等

77.(单选题)张先生习惯每天晚饭后出门散步，以下是某天用手机App记录的散步路径，其中P点为起始点和终点。假设张先生每分钟走60米，若中间

不停留，他走一圈需要（ ）。



- A.17 分钟
- B.33 分钟
- C.25 分钟
- D.30 分钟

【答案】 B

【解析】 本题属于几何问题。

张先生走一圈的总路程=纵向总路程+横向总路程=420×2+(170+90+310)×2=840+1140=1980 米，每分钟走 60 米，则走完一圈所需时间为 1980÷60=33 分钟。

因此，选择 B 选项。

【拓展】 可空

【标签】 可空

【知识点】 数量关系-数学运算-几何问题-平面几何类

【难度】 中等

78. (单选题) 在初等数学加、减、乘、除运算的基础上，假设一种新的运算符号“*”。规定 $x*y = (x+y) \div 4$ ，若 $(3*a)-2=10*2$ ，则 a 的值是（ ）。

- A.17
- B.22/3
- C.93
- D.5/3

【答案】 A

【解析】 本题属于基础计算问题。

根据新的运算规定可得： $(3+a) \div 4 - 2 = (10+2) \div 4$ ，解得 $a=17$ 。

因此，选择 A 选项。

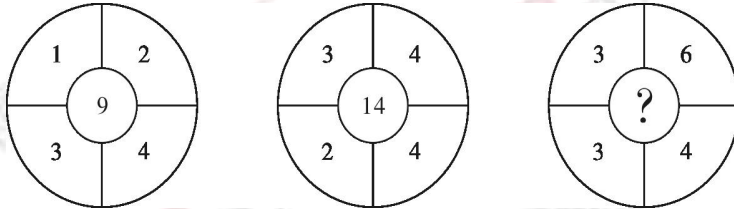
【拓展】 可空

【标签】 可空

【知识点】数量关系-数学运算-基础计算问题

【难度】中等

79. (单选题) 选择最恰当的一项填充空缺处, 使之符合原图表的排列规律, 此项是 ()。



A.13

B.16

C.18

D.19

【答案】D

【解析】本题属于数图推理。

观察发现, 左上 \times 左下+右上+右下=中间, 即: $1\times 3+2+4=9$, $3\times 2+4+4=14$, 所求项= $3\times 3+6+4=19$ 。

因此, 选择 D 选项。

【拓展】可空

【标签】可空

【知识点】数量关系-数学运算-数字推理-数图数推

【难度】中等

80. (单选题) 某城市某年的空气质量统计为优、良、轻度污染和中度污染四类。良的天数是优的天数的 2 倍, 中度污染天数是轻度污染天数的 3 倍, 优的天数的 4 倍与其它 3 类空气质量天数之和相等。那么, 空气良的天数是 ()。

A.中度污染天数与轻度污染天数之和

B.轻度污染天数的 3 倍

C.优的天数与中度污染天数之和

D.中度污染天数的 1.5 倍

【答案】A

【解析】本题属于基础计算问题。

设空气质量优的天数为 x 天, 则良的天数为 $2x$ 天, 设轻度污染的天数为 y 天, 则中度污染的天数为 $3y$ 天, 由“优的天数的 4 倍与其他 3 类空气质量天数

之和相等”可得： $4x=2x+y+3y$ ，化简可得： $x=2y$ ，则 $2x=4y=y+3y$ ，即空气质量良的天数是中度污染天数与轻度污染天数之和。

因此，选择 A 选项。

【拓展】可空

【标签】可空

【知识点】数量关系-数学运算-基础计算问题

【难度】中等

81. (单选题) 现有 80 人进行射击比赛，所有人的总环数均不相同，小李的总环数排名为 61 位，小张的排名为倒数 36 位，小李与小张的排名之间有 () 位。

A.17

B.16

C.15

D.14

【答案】C

【解析】本题考查简单计算。

小李的排名为 61 位，则其倒数排名为 20 位，则小张和小李之间有 $36 - 20 - 1 = 15$ 位。

因此，选择 C 选项。

【拓展】可空

【标签】可空

【知识点】数量关系-数学运算-基础计算问题

【难度】中等

82. (单选题) 水果店运来西瓜和白兰瓜的个数比是 7 : 5。如果每天卖出白兰瓜 40 个，西瓜 50 个，若干天后售完白兰瓜时，西瓜还剩 36 个，那么，水果店运来的西瓜有 () 个。

A.240

B.360

C.476

D.336

【答案】D

【解析】本题属于基础应用题。

设卖出 x 天后白兰瓜卖完，那么西瓜总共有 $50x + 36$ 个，白兰瓜共有 $40x$

个，根据“个数之比为 7 : 5”可列方程 $\frac{50x+36}{40x} = \frac{7}{5}$ ，解得 $x=6$ ，故共有西瓜 $50 \times 6 + 36 = 336$ 个。

因此，选择 D 选项。

【拓展】可空

【标签】可空

【知识点】数量关系-数学运算-基础应用题

【难度】中等

83. (单选题) 公司小张、小王、小李、小陈 4 人在工作日轮流值班，每周五值班员要撰写一周小结。3 月 5 日周五小李值班撰写了小结，下一次小李撰写一周小结的日期是 ()。

A. 4 月 9 日

B. 4 月 2 日

C. 3 月 29 日

D. 3 月 23 日

【答案】B

【解析】本题属于星期日期问题。

小张、小王、小李、小陈四人轮流值班，形成一个周期，3 月 5 日周五小李值班撰写总结，再过 4 周，即 28 天会轮到小李周五值班写总结。3 月总共 31 天，还剩 26 天，4 月还需要 2 天，故小李会在 4 月 2 日周五撰写总结。

因此，选择 B 选项。

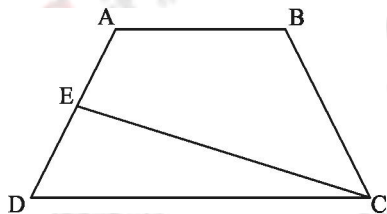
【拓展】可空

【标签】可空

【知识点】数量关系-数学运算-星期日期问题

【难度】中等

84. (单选题) 如下图，ABCD 是一个梯形，E 是 AD 的中点，直线 CE 把梯形分成甲、乙两部分，其面积之比为 5 : 2，那么上底 AB 与下底 CD 的长度之比是 ()。



A. 2 : 5

B.3 : 5

C.3 : 4

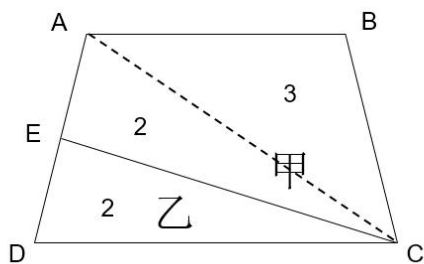
D.4 : 7

【答案】C

【解析】本题属于几何问题。

根据甲、乙面积之比是5 : 2,赋值甲、乙的面积分别为5和2。如图连接CA,根据E为AD“中点”知,△ACE和△CDE等底、等高,令乙的面积为2,则△ACE的面积也为2,△ABC的面积为3。 $\frac{AB}{CD} = \frac{S_{\triangle ABC}}{S_{\triangle ACD}} = \frac{3}{4} = 3:4$ 。

因此,选择C选项。



【拓展】可空

【标签】可空

【知识点】数量关系-数学运算-几何问题-平面几何类

【难度】中等

85. (单选题) 从 19, 20, 21, …… , 98, 99 这 81 个数中, 选取两个不同的数, 使其和为偶数的选法有 () 种。

A.1620

B.1580

C.1540

D.1600

【答案】D

【解析】本题属于排列组合问题。

19, 20, 21, …… , 98, 99, 总共 81 个数字, 其中偶数 40 个 (20, 22, …… , 98), 奇数 41 个 (19, 21, …… , 99), 其和为偶数的情况有两种: 奇数+奇数=偶数, 偶数+偶数=偶数。故共有 $C_{40}^2 + C_{41}^2 = \frac{40 \times 39}{2} + \frac{41 \times 40}{2} = 780 + 820 = 1600$ 种。

因此, 选择 D 选项。

【拓展】可空

【标签】可空

【知识点】数量关系-数学运算-排列组合问题-基础公式类

【难度】中等

三、判断推理

(请根据题目要求,在四个选项中选出一个最恰当的答案。共10题。每题1.5分,共15分。)

86.自由落体运动是指物体只在重力作用下从静止开始下落的运动。这种运动只有在真空条件下才能发生。在有空气时,如果空气的阻力作用比较小,可以忽略不计,则物体的下落可以近似看作自由落体运动。

根据上述定义,可以近似看作自由落体运动的是()。

- A.树上的红枣因树枝被人摇晃从枝头落下
- B.吊铅坠的细绳被磨断,铅坠从屋顶掉下
- C.敌机被我导弹击中坠落
- D.传过来的毽子没被接住,掉在地上

【题型】单选题

【答案】B

【知识点】判断推理--定义判断--单定义

【难度】中等

【分数】1.5

【解析】本题考查的是单定义。

定义关键信息是:只在重力作用下从静止开始下落的运动。即:从静止下落,且不受其他力的影响。

A项,树上红枣被“摇晃”落下,说明受到了外力作用,故A项不符合定义,排除;

B项,细绳被磨断属于“从静止开始下落”,也没有其他力干扰,故B项符合定义,当选;

C项,被导弹“击中”,说明受到了外力作用,故C项不符合定义,排除;

D项,“传过来”的毽子,说明受到了外力作用,故D项不符合定义,排除;故本题的正确答案为B项。

87.下列选项中,最符合事件逻辑顺序的是()。

- 1:勤工俭学攒学费
- 2:母亲患重病,花光积蓄
- 3:被医学院校录取
- 4:父母离异

5:立志学医

A.4-2-1-5-3

B.2-4-3-5-1

C.4-2-5-3-1

D.5-4-2-3-1

【答案】C

【知识点】判断推理--事件排序

【难度】中等

【分数】1.5

【解析】本题考查的是事件排序。

选项首尾不同时，优先考虑首尾事件。本题首项为②④⑤，比较可知：必然先有“母亲患重病”后有“立志学医”，则⑤不能为首句，排除D项；本题尾项为①③，比较可知：“被录取”一定发生在“攒学费”前，则①为尾句，排除A项；BC不同处在于③⑤的顺序，比较可知：“立志学医”一定发生在“被医学院录取”之前，则⑤在③之前，排除B项。

故本题的正确答案为C项。

88.甲、乙、丙、丁同时参加一次数学竞赛。赛后，他们四人预测名次的谈话如下：

甲：“丙第一，我第三”；

乙：“我第一，丁第四”；

丙：“丁第二，我第三”；

丁：没有说话。

最后公布结果时，发现甲、乙、丙三人的预测都只对了一半，则这次竞赛的第一名是（ ）。

A.丁

B.丙

C.乙

D.甲

【答案】C

【知识点】判断推理--逻辑判断--分析推理

【难度】中等

【分数】1.5

【解析】 本题考查的是分析推理。

A 项，代入后，丁第一，乙的前半句为假，则剩下的后半句“丁第四”为真，但是与选项信息“丁第一”冲突，故 A 项错误，排除；

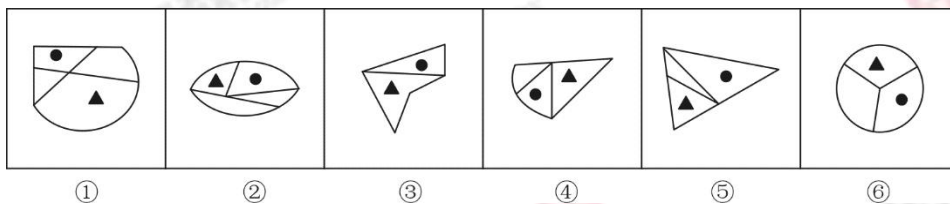
B 项，代入后，丙第一，则甲的前半句为真，后半句“甲第三”为假，说明甲不是第三，乙的前半句“乙第一”为假，说明后半句“丁第四”为真，丙的两句话“丁第二”为假、“丙第三”为假，不符合题目要求一真一假，故 B 项错误，排除；

C 项，代入后，乙第一，甲的前半句“丙第一”为假，“甲第三”为真，乙说“乙第一为真”，则“丁第四”为假，则丁不是第四，丙说“丙第三”为假，则“丁第二”为真，综合为“甲第三、乙第二、丙第四、丁第二”，故 C 项正确，当选；

D 项，代入后，甲第一，甲说的前后两句均为假话，故 D 项错误，排除。

故本题正确答案为 C 项。

89.把下列的六个图形分为两类，使每一个图形都有各自的共同特征或规律，分类正确的是（ ）。



A.①③⑤，②④⑥

B.③④⑤，①②⑥

C.②③⑥，①④⑤

D.①②④，⑤③⑥

【答案】 B

【知识点】 判断推理-图形推理-功能类、数量类

【难度】 中

【分数】 1.5

【解析】 本题考查的是功能类和数量类题目。

所给的图形均有功能信息：黑圆和黑色三角形，观察发现，①②⑥中黑色三角形所在面均由直线和曲线构成，并且功能信息以外图形为两笔画图形，③④⑤黑色三角形所在面均由直线构成，并且功能信息以外图形为一笔画图形。

故本题的正确答案为 B 项。

90.根据逻辑关系上最贴近、相似或匹配的原则，应填入划横线处的一组词语是（ ）。

坐井观天对于_____相当于_____对于对答如流。

- A . 半途而废 前程似锦
- B . 滴水不漏 高瞻远瞩
- C . 异想天开 运筹帷幄
- D . 孤陋寡闻 胸有成竹

【答案】D

【知识点】判断推理-类比推理-内涵关系

【难度】中等

【分数】1.5

【解析】本题考查类的知识点为内涵关系中的因果对应关系。

“坐井观天”比喻眼界狭小，见识有限。“对答如流”形容对问话的内容熟悉，反应敏捷，口才极好。分别将选项代入题干，确定逻辑关系。

A项，“半途而废”指路走到一半停了下来。比喻事情没做完就停止，不能善始善终。与“坐井观天”无明显逻辑关系。“前程似锦”形容十分美好的前途，与“对答如流”无明显逻辑关系，排除。

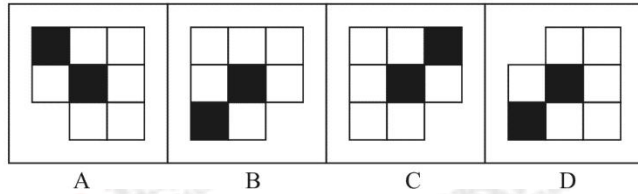
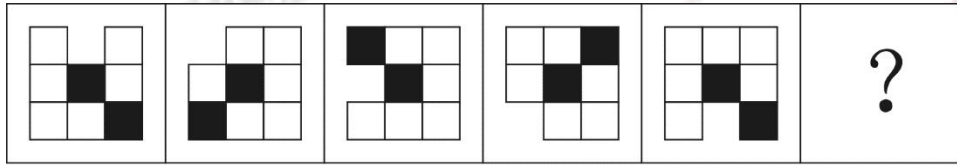
B项，“滴水不漏”比喻说话做事非常周全、严密，没有丝毫漏失，与“坐井观天”无明显逻辑关系。“高瞻远瞩”形容目光远大，与“对答如流”无明显逻辑关系，排除。

C项，“异想天开”比喻凭空的，根本没有的事情，形容想法非常离奇、荒唐，与“坐井观天”无明显逻辑关系。“运筹帷幄”指制定作战策略，引申为筹划、指挥，与“对答如流”无明显逻辑关系，排除。

D项，“孤陋寡闻”指学识短浅，见闻不广，因为“坐井观天”所以才会“孤陋寡闻”，二者为因果对应关系。“胸有成竹”比喻做事情动手之前心里已有主意，有打算或有把握，因为“胸有成竹”所有才会“对答如流”，二者为因果对应关系，前后逻辑关系一致，正确。

故本题正确答案为D项。

91 . 选择最合适的一项填入问号处，使之呈现一定的规律性。此项是（ ）。



【答案】 B

【知识点】 判断推理—图形推理—位置类

【难度】 中等

【分数】 1.5

【解析】 本题考查图形推理中的位置类知识点。

所有图形中均有 2 个黑块和 1 个空白。一条式，从左到右找规律。从左到右，空白依次逆时针移动一格，正中间的黑块不动，外圈的黑块依次顺时针移动 2 格，只有 B 选项符合，当选。

故本题正确答案为 B 项。

92. 与所给词组在逻辑关系上最为贴近、相似或匹配的词组是 ()。

关羽：三国演义：身在曹营心在汉

A. 曹植：洛神赋：翩若惊鸿，婉若游龙

B. 岳飞：满江红：壮志饥餐胡虏肉

C. 孔子：论语：逝者如斯夫，不舍昼夜

D. 杨玉环：长恨歌：回眸一笑百媚生

【答案】 D

【知识点】 判断推理-类比推理-内涵关系

【难度】 中等

【分数】 1.5

【解析】 本题考查类比推理。

题干逻辑关系：“关羽”是“《三国演义》”中的人物，“身在曹营心在汉”用以形容“关羽”的忠肝义胆，三者是历史人物、出处以及典故之间的对应关系。

A 项，“《洛神赋》”是“曹植”创作的辞赋，“翩若惊鸿，婉若游龙”出自“《洛神赋》”，用以形容洛神的美态，而非“曹植”，故 A 项错误，排除。

B项,“《满江红》”是“岳飞”创作的词作,“壮志饥餐胡虏肉”出自“《满江红》”,三者是作者、作品与名句之间的关系,故B项错误,排除。

C项,“《论语》”是“孔子”弟子根据孔子及其弟子的语录编写而成,“逝者如斯夫,不舍昼夜”出自“《论语》”,三者并非历史人物、出处以及典故之间的对应关系,故C项错误,排除。

D项,“《长恨歌》”叙述的是“杨贵妃”的爱情故事,“回眸一笑百媚生”用以形容“杨贵妃”的美丽,故D项正确,当选。

故本题正确答案为A项。

93.为全面建成小康社会,必须全面深化改革开放。只有依靠全面的法制保障,才能确保有效实施改革开放。如果没有党的全面建设从而确保党的坚强领导,是不可能实现有效的依法治国的。由此可以推测得出()。

- A.要想加强党的建设,必须深化改革开放
- B.没有党的全面建设,不可能实现小康社会
- C.落实了全面依法治国,就能建成小康社会
- D.不能全面改革开放,即是没有全面加强党的建设

【答案】B

【知识点】判断推理-逻辑判断-翻译推理

【难度】中等

【分数】1.5

【解析】本题考查翻译推理。

题干可以翻译为:①小康社会→改革开放;②改革开放→全面法治保障;③¬党的全面建设→¬依法治国。命题①、②递推可得④:小康社会→全民法治保障。

A项:翻译为:党的建设→改革开放,“党的建设”是对命题③的否前,否前得不到确定性结论,故A项错误,排除。

B项:翻译为:¬党的全面建设→¬小康社会,“¬党的全面建设”是对命题③的肯前,肯前必肯后,得到¬依法治国,“¬依法治国”是对命题④的否后,可得到:¬小康社会,故B项正确,当选。

C项:翻译为:依法治国→小康社会,“依法治国”是对命题④的肯后,肯后得不到确定性结论,故C项错误,排除。

D项:翻译为:¬改革开放→党的全面建设,“¬改革开放”是对命题②的否前,否前得不到确定性结论,故D项错误,排除。

故本题正确答案为 B 项。

94. 有人说, 工作的时候, 我们要将重要事务放在主要位置。重要事务是必要条件, 关系着一件事情成功与否。重要的事务没做好, 一定不成功。但是, 细节也是很重要的, 细节是成功的充分条件, 同样也与一件事情成功与否相关。一个成功的人是能够协调好重要事务与细节的关系的, 由此可以推理得出 ()。

- A. 成功的前提条件是既要做好重要事务, 又要处理好细节
- B. 如果不成功则说明重要事务没有做好
- C. 成功并不代表着所有细节都处理好了
- D. 虽然处理好了细节, 但没做好重要事务, 也不一定成功

答案】 C

【知识点】判断推理-逻辑判断-翻译推理

【难度】中等

【分数】 1.5

【解析】 本题属于翻译推理题目。

根据题干关联词“是必要条件”“是充分条件”, 确定为翻译推理。

翻译题干: ①成功→重要事务; ②细节→成功; 可以递推得出: 细节→成功→重要事务

比对选项, 进行推理。

A 项, 前提指必要条件, 题干中明确指出成功的必要条件是重要事务, 而不是细节, 排除; B 项, “不成功”对于“成功→重要事务”来说是否前, 否前推不出必然性结论, 所以推不出是否做好重要事务, 排除;

C 项, “成功”对于“细节→成功”来说是肯后, 肯后推不出必然性结论, 所以不能必然推出是否处理好了细节, 即“不代表所有细节都处理好了”, 当选;

D 项, “细节”对于“细节→重要事务”为肯前, 肯前必肯后, 得到“重要事务”一定成立, 即“处理好了细节, 但没做好重要事务”这种情况不存在, 也就无法继续推出结论, 排除。

故本题的正确答案为 C 项。

95. 现在, 不少民意调查都是以在线投票的方式来进行的, 但这种调查往往忽略了没有上网习惯的人群的意见。有研究表明, 没有上网习惯的人群的意见对民意调查的结果有着十分重要的影响, 假设在线投票的人都如实表达了自己的意见, 那么最有可能从上述断定中推出来的是 ()。

- A. 在进行民意调查时, 在线投票这种方式比别的方式更重要

- B.在线投票的结果通常很难完全反映民意
- C.在进行民意调查时，街头访谈，电话调查等方式比在线投票更困难
- D.在线投票的结果一般能够完全反映民意

【答案】 B

【知识点】 判断推理-逻辑判断-归纳推理

【难度】 中等

【分数】 1.5

【解析】 本题属于归纳推理类题目。

根据题干提问方式及题干特征，确定为归纳推理题型。

分析题干关键信息，本题主要讨论目前民意调查的主要形式为在线投票，又指出这种调查的缺点是：忽略掉了没有上网习惯的人群的意见，而这些意见对结果有十分重要的影响。

比对选项。

A项，是在在线调查和其他调查形式之间进行重要性的比较，在题干中没有涉及，话题不一致，排除；

B项，指出在线调查的缺点，结合题干主要内容，缺失了不上网人群的意见，不能完全反应民意，主题一致，正确；

C项，指出街头访谈等调查方式的实现困难程度，题干中没有讨论，话题不一致，排除；

D项，指出在线投票结果可以反应民意，和题干内容不一致，排除。

故本题的正确答案为 B 项。

四、资料分析

(请根据题目要求，在四个选项中选出一个最恰当的答案。共 15 题，每题 1 分)

材料一：(根据所给文字资料回答以下 4 题)

2016 年 A 省外贸进出口总额 2829.73 亿美元，比上年增长 24.4%。其中，进口总额 1390.45 亿美元，增长 22.1%；出口总额 1439.28 亿美元，增长 26.7%。全年国有企业出口 285.98 亿美元，增长 15%；全年民营企业完成出口 162.73 亿美元，比上年增长 40.8%；外商投资企业出口 978.15 亿美元，增长 28.8%。

96.2016 年 A 省国有企业出口额大约占 A 省全年外贸进出口总额的()。

A.20%

B.15%

C.5%

D.10%

96. (复合题)

【答案】D

【知识点】资料分析-比重-现期比重计算-比重

【分数】1

【解析】本题属于现期比重问题。

定位文段“全年外贸进出口总额 2829.73 亿美元”、“国有企业出口 285.98

亿美元”。根据比重 = $\frac{\text{分量}}{\text{整体量}}$ ，列式有 $\frac{285.98}{2829.73} \approx 10\%$ (选项差距较大可直接估算

为 10%)。

因此，选择 D 选项。

【拓展】

【标签】

【知识点】

【难度】中等

97. 下列关于 2016 年 A 省外贸进出口情况的说法中，正确的是 ()。

A. 民营企业的出口额虽不高，但出口额的增速处于领先地位

B. 2016 年 A 省出口总额的增长速度比进口总额增长速度快 3.5 个百分点

C. 外商投资企业的出口额最高，出口额的增长速度最快

D. 2016 年 A 省进口总额占外贸进出口总额的比重大约为 51%

97. (复合题)

【答案】A

【知识点】资料分析-综合分析-综合分析

【分数】1

【解析】本题属于综合分析问题，且需要选出正确的一项。

A 选项，全年国有企业出口 285.98 亿美元，增长 15%；全年民营企业完成出口 162.73 亿美元，比上年增长 40.8%；外商投资企业出口 978.15 亿美元，增长 28.8%。在文段所涉及的企业类型中民营企业出口额不高，但出口额增速较高；正确。

B 选项，2016 年 A 省出口总额的增长速度为 26.7%，进口总额增长速度为 22.1%，前者比后者快 $26.7 - 22.1 = 4.6$ 个百分点；错误。

C 选项，由 A 选项可知民营企业的增长速度最快，而非外商投资企业；错

误。

D 选项，A 省进口总额为 1390.45 亿美元，外贸进出口总额为 2829.73 亿美元，进口总额小于 2829.73 亿美元的一半 1414.865 亿美元，即比重小于 50%；错误。

因此，选择 A 选项。

【拓展】

【标签】

【知识点】

【难度】中等

98.2015 年 A 省的外贸进出口总额为 () 亿美元。

A.1117.73

B.1156.98

C.2274.7

D.2233.41

98. (复合题)

【答案】C

【知识点】资料分析-基期量-基期量计算-基期量

【分数】1

【解析】本题属于基期量问题。

定位文段“2016 年 A 省外贸进出口总额 2829.73 亿美元，比上年增长

24.4%”。根据基期量 = $\frac{\text{现期量}}{1+\text{增长率}}$ ，选项差距非常小，分子取整，分母从左到右

截取前三位列式有 $\frac{2830}{1.24} \approx 2280$ ，与 C 选项最接近。

因此，选择 C 选项。

【拓展】

【标签】

【知识点】

【难度】中等

99.2016 年 A 省除国有企业、民营企业和外商投资企业外的其它类型企业出口额为 () 亿美元。

A.13.42

B.12.42

C.15.35

D.12.52

99. (复合题)

【答案】B

【知识点】资料分析-简单 XX-简单计算-和差类

【分数】1

【解析】本题属于简单计算问题。

定位文段，其他企业出口额等于全部企业减去国有企业、民营企业和外商投资企业的出口额。选项十分接近，需精确计算，列式有 $1439.28 - 285.98 - 162.73 - 978.15 = 12.42$ (亿美元)。

因此，选择 B 选项。

【拓展】

【标签】

【知识点】

【难度】中等

材料二：(根据所给文字资料回答以下 4 题)

在一次阶段测验中，某班级的 3 个学习小组测验成绩记录如下(其中一个数字缺失，用△表示)：

A 组：83、82、90、98、67 (小组平均 84 分)

B 组：82、83、85、82 (小组平均 83 分)

C 组：99、1△、85、90、95 (小组平均 77 分)

100.三个学习小组全体同学测验分数的众数是()。

A.82

B.85

C.90

D.无法计算

100. (复合题)

【答案】A

【解析】本题属于简单比较类。

通过材料可以发现，82 一共出现了 3 次，85 一共出现了 2 次，90 一共出现了 2 次，众数，即出现次数最多的分数是 82。

因此，选择 A 选项。

【拓展】众数：一组数据中出现次数最多的数值

【标签】

【知识点】资料分析-简单 XX-简单比较-读数类

【难度】中等

101.三个学习小组全体同学测验分数的中位数是()。

A.85

B.84

C.83

D.82

101. (复合题)

【答案】B

【解析】本题属于简单计算类。

一共 14 个数，故中位数应该是由高到低排列之后的中间两个数的平均数，即第 7 和第 8。通过材料把数据由高到低排列发现，中间位置的两个数分别是 85 和 83，取平均数是 84。

因此，选择 B 选项。

【拓展】中位数：一组有序数据中居于中间位置的数

【标签】

【知识点】资料分析-简单 XX -简单计算-直接读数

【难度】中等

102.三个学习小组全体同学的平均分大约是()。

A.81.2

B.81.3

C.81.1

D.无法计算

102. (复合题)

【答案】A

【解析】本题属于平均数计算类。

一共三组，知道每组的人数和平均分，故可得到每组的总得分分别为：A 组 $84 \times 5 = 420$ ；B 组 $83 \times 4 = 332$ ；C 组 $77 \times 5 = 385$ 。总得分为 $420 + 332 + 385 = 1137$ ，

总人数为 $5 + 4 + 5 = 14$ ，平均分 = $\frac{\text{总分数}}{\text{总人数}} = \frac{1137}{14} \approx 81.21$ 。

因此，选择 A 选项。

【拓展】

【标签】

【知识点】资料分析-平均数-先平均数计算-单平均数

【难度】中等

103.根据这次测验成绩的实际分布情况,应该把()作为本次测验的整体平均水平。

- A.平均分
- B.中位数
- C.众数
- D.以上三个均可

103. (复合题)

【答案】A

【解析】本题属于简单比较类。

平均数是用于反映现象总体的一般水平,或分布的集中趋势。故此题应用平均数来评价整体平均水平。

因此,选择 A 选项。

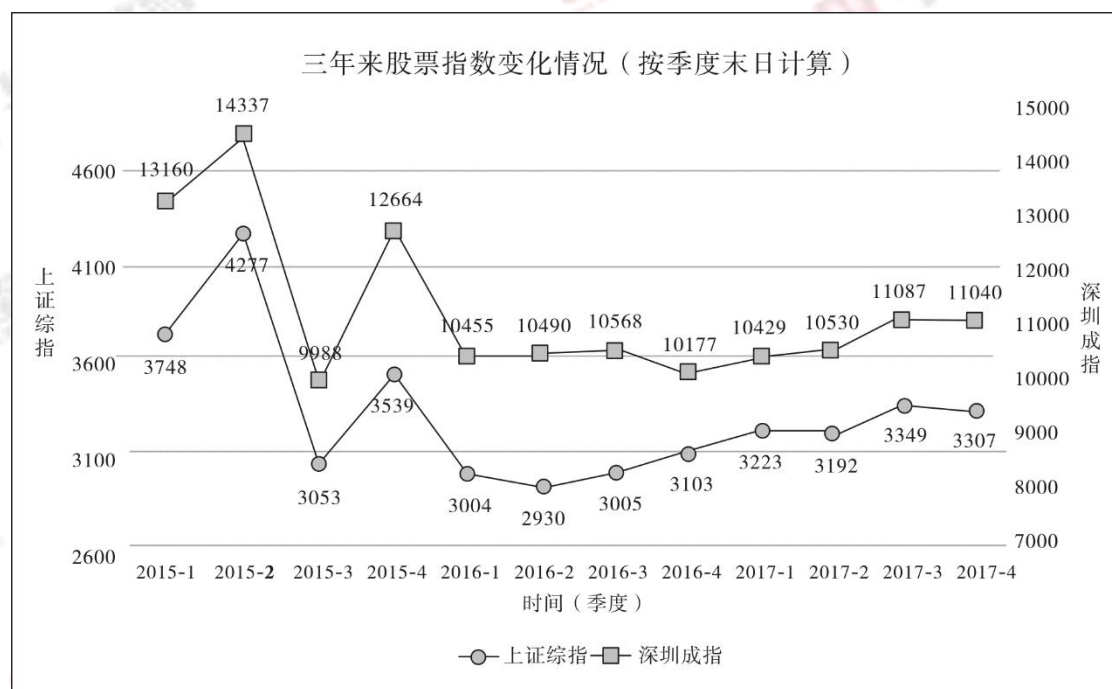
【拓展】平均数是用于反映现象总体的一般水平,或分布的集中趋势。

【标签】

【知识点】资料分析-简单 XX -简单比较-读数类

【难度】中等

材料三:(根据所给图表资料回答以下 4 题)



2015年—2017年上证综指和深圳成指变化情况图

104.深圳成指在近三年各季度收盘价下降的有()个季度。

- A.6
- B.5
- C.4
- D.3

104. (复合题)

【答案】C

【解析】本题属于简单比较。

定位“深圳成指”折线图，近三年各季度与上季度相比，收盘价下降的有2015年3季度，2016年1季度，2016年4季度，2017年4季度。一共有四个季度。

因此，选择C选项。

【拓展】可空

【标签】可空

【知识点】资料分析-简单XX-简单比较-读数类

【难度】中等

105.上证综指2017年各季度收盘价环比增长最快的是()。

- A.第四季度
- B.第三季度
- C.第二季度
- D.第一季度

105. (复合题)

【答案】B

【解析】本题属于增长率比较。

定位上证综指2017年四个季度和2016年4季度数据。增长率

$$= \frac{\text{现期量} - \text{基期量}}{\text{基期量}}$$
，当基期量变化不大时，增长率比较可用增量替代比较，上

升的只有2017年1季度和3季度，与上一季度差值分别为：3223 - 3103 = 120，3349 - 3192 = 157（或观察图中折线点高低差值），环比增长最快的是2017年3季度。

因此，选择B选项。

【拓展】可空

【标签】可空

【知识点】资料分析-增长率-增长率比较-增长率分数

【难度】中等

106.深圳成指和上证综指在 2017 年底同比涨幅分别为 ()。

- A.8.5%和 6.6%
- B.-0.4%和-1.3%
- C.-3.7%和 3.3%
- D.-19.6%和-12.3%

106. (复合题)

【答案】A

【解析】本题属于增长率计算。

解法一：增长率 = $\frac{\text{现期量} - \text{基期量}}{\text{基期量}}$ ，定位图中两种指数在 2017 年年底即 4

季度数据和 2016 年 4 季度数据。发现与去年相比都是上升的，则增长率都为正值，观察选项，只有 A 符合。

因此，选择 A 选项。

解法二：观察选项两种指数对应四个选项的值都不同，则选取一个指数计算即可。定位上证综指，2017 年 4 季度为 3307，2016 年 4 季度为 3103，增长率为 $\frac{3307 - 3103}{3103} = \frac{204}{3103}$ ，直除首位商 6。

因此，选择 A 选项。

【拓展】可空

【标签】可空

【知识点】资料分析-增长率-增长率计算-增长率

【难度】中等

107.根据材料中的内容，可以得到如下结论，正确的一组是 ()。

- (1) 近三年来上证综指变动有升有降，变动幅度较大
- (2) 按照季度收盘价计算，近三年来上证综指和深圳成指总是同升同降
- (3) 深圳成指近三年来一直在 10000 点以上运行
- (4) 按照两个折线的发展趋势，2018 年这两个指数肯定还是震荡向上

- A. (1)
- B. (1) (3) (4)
- C. (1) (2) (4)
- D. (1) (2) (3)

107. (复合题)

【答案】A

【解析】本题属于综合分析。

(1) 观察上证综指折线图, 近三年来变动确实有升有降, 且变动幅度较大, 正确。(或者观察选项都有(1), 则跳过看(2))。

(2) 简单比较, 定位折线图, 两种指数 2016 年 2 季度升降不同, 错误。

(3) 简单比较, 定位折线图深圳成指在 2015 年 3 季度小于 10000 点, 错误。(排除(2)(3), 则只有 A 选项符合。)

(4) 按照近三年来两个指数的发展趋势, 前期震荡明显, 后期趋于平稳, 在 2017 年底两个指数均开始平稳下降, 故预测 2018 年这两个指数不大可能是震荡向上的趋势, 错误。

则正确的只有(1)。

因此, 选择 A 选项。

【拓展】可空

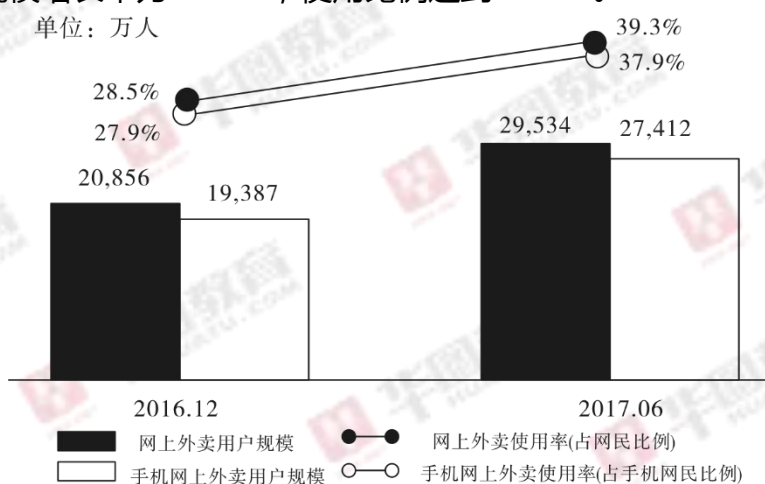
【标签】可空

【知识点】资料分析-综合分析-综合分析

【难度】中等

材料四:(根据所给图表资料回答以下 3 题)

根据 CNNIC《第 40 次互联网发展状况统计报告》的数据显示, 截至 2017 年 6 月, 我国网上外卖用户规模增长率达 41.6%。其中, 我国手机网上外卖用户规模增长率为 41.4%, 使用比例达到 37.9%。



2016.12-2017.06网上外卖/手机网上外卖用户规模及使用率

108. 2017 年 6 月我国手机网上外卖用户达到 () 亿人。

A. 2.0856

B. 2.7412

C.1.9387

D.2.9534

108. (复合题)

【答案】B

【知识点】资料分析-简单 XX-简单计算-直接读数

【分数】1

【解析】本题属于简单计算中直接读数类。

根据柱状图可知，2017年6月我国手机网上外卖用户为27412万人，即2.7412亿人。

因此，选择B选项。

109.2017年6月我国网上外卖用户增长()亿人。

A.0.80

B.0.87

C.0.21

D.0.15

109. (复合题)

【答案】B

【知识点】资料分析-增长量-增长量计算-给现期量、基期量

【分数】1

【解析】本题属于增长量计算问题。

根据柱状图材料，代入公式增长量=现期量-基期量=29534-20856≈8700(万人)=0.87(亿人)。

因此，选择B选项。

110.2017年6月我国手机用户达到()亿人。

A.6.94

B.7.31

C.7.52

D.7.23

110. (复合题)

【答案】D

【知识点】资料分析-比重-现期比重计算-整体量

【分数】1

【解析】本题属于现期比重计算问题中已知部分量和比重求整体量的题目。

根据柱状图和文字,以及公式 $\text{比重} = \frac{\text{部分量}}{\text{整体量}}$, 可得 2017 年 6 月我国手机用

户人数为 $\frac{27412}{37.9\%} \approx 72300^+$ (选项量级一致,可不换算单位), 观察选项,与 D 最为接近。

因此,选择 D 选项。