

绝密★启封并使用完毕前

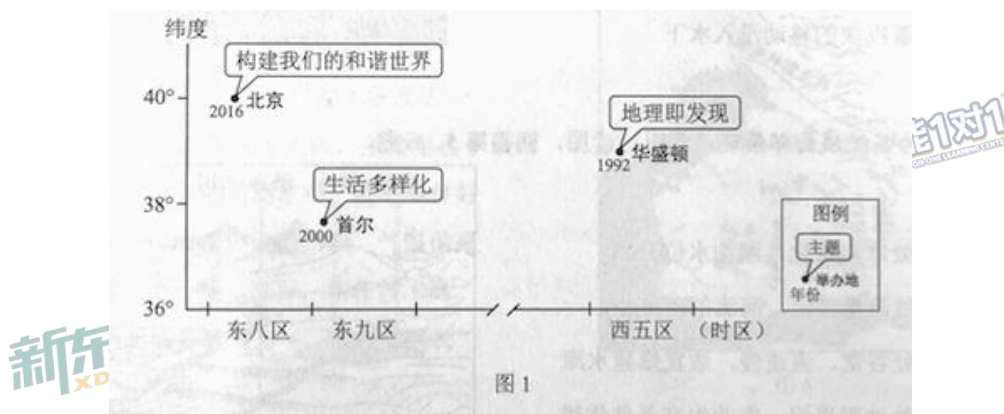
2016年普通高等学校招生全国统一考试 文科综合能力测试（北京卷）

本试卷共24页，共300分。考试时长150分钟。考生务必将答案答在答题卡上，在试卷上作答无效。考试结束后，将本试卷和答题卡一并交回。

第一部分（选择题 共140分）

本部分共35小题，每小题4分，共140分。在每小题列出的四个选项中，选出最符合题目要求的一项。

2016年8月21~25日，第33届国际地理学大会将在北京举办。往届大会曾在华盛顿、首尔等地举办。读图1，回答第1、2题。



1. 本届大会期间，北京

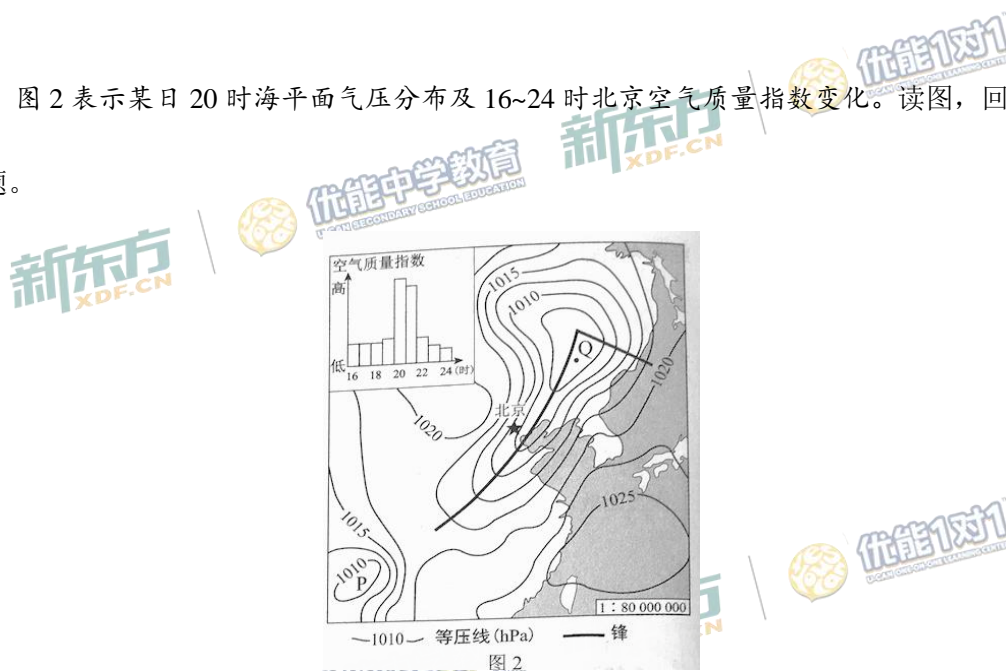
- A. 适逢中国农历处暑节气
- B. 八达岭长城漫山红叶
- C. 比首尔正午太阳高度大
- D. 比华盛顿日出时间晚

2. 图中举办地所在国家

- A. 位于北半球中纬度
- B. 地处环太平洋灾害带
- C. 人口增长模式不同
- D. 南部沿海有寒流经过

图2表示某日20时海平面气压分布及16~24时北京空气质量指数变化。读图，回答第

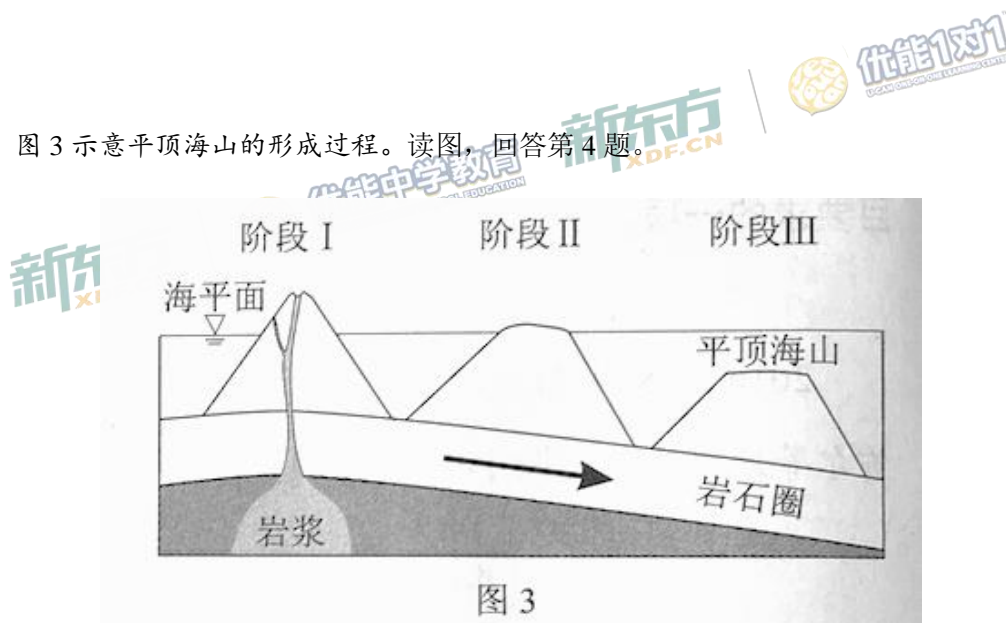
3题。



3. 该日20时

- A. 北京大风扬沙，空气污染加重
- B. 东海海域天气晴朗，风大浪高
- C. 低压天气系统中，P强度最强
- D. Q地位于暖锋锋前，出现降水

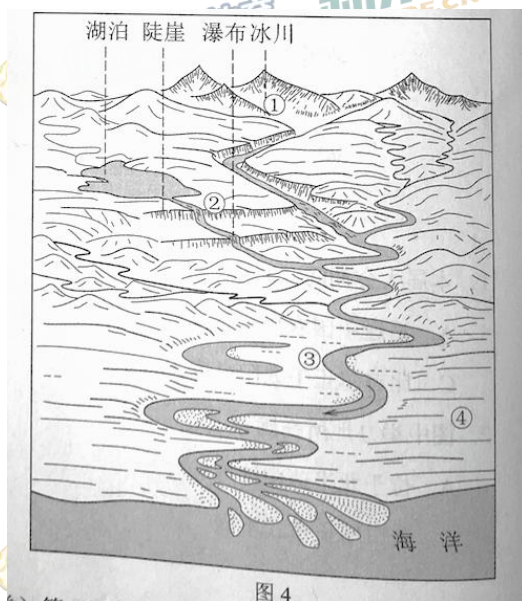
图3示意平顶海山的形成过程。读图，回答第4题。



4. 平顶海山

- A. 为褶皱山
- B. 由沉积岩构成
- C. 顶部形态由内力作用塑造
- D. 随着板块的移动没入水下

图4为某流域局部景观示意图。读图，回答第5、6题。



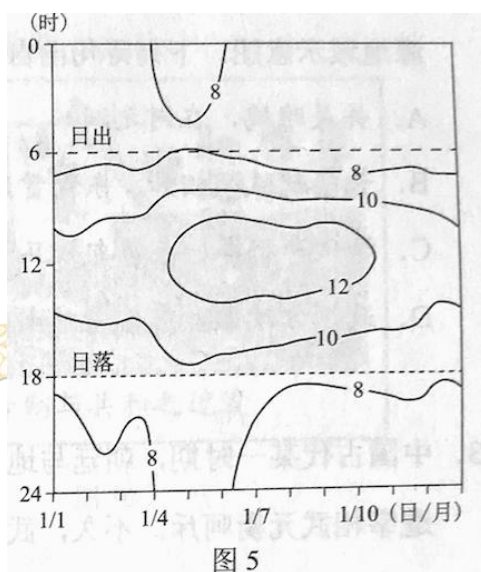
5. 图中

- A. ①处冰川融化，湖泊水位升高
- B. ②处流量稳定，河流的落差小
- C. ③处谷宽、流速慢，适宜修建水库
- D. ④处地形平坦，农业生产条件优越

6. 若该图示意中国某流域，图中

- A. 地物按 1:10 万比例描绘，特征清晰
- B. 冰川地处新疆，覆盖范围沿山脊延伸
- C. 径流季节变化大，存在不同程度水患
- D. 海域位于北回归线以南，港口数量少

图5为某山地气象站一年中每天的日出、日落时间及逐时气温(°C)变化图。读图，回答第7、8题。



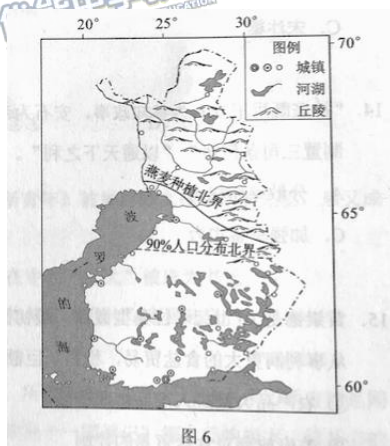
7. 气温日较差大的月份是

- A. 1月 B. 4月 C. 7月 D. 10月

8. 该山地

- A. 冬季受副热带高压带控制 B. 因台风暴雨引发的滑坡多
C. 基带的景观为热带雨林 D. 山顶海拔低于1000米

读图6，回答第9、10题。



9. 芬兰

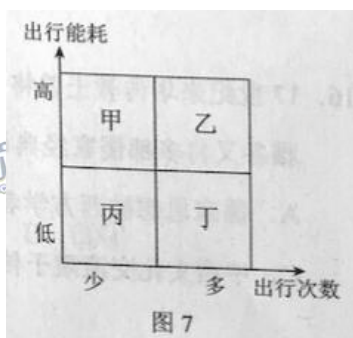
- A. 盛行西风，终年温和多雨
- B. 山区水土流失严重，城镇数量少
- C. 人口稀疏区以大牧场放牧业为主
- D. 森林资源丰富，木材加工业发达

10. 燕麦种植北界呈图示走向，主要是由于该国

- A. 东部地区的河湖密布，灌溉条件好
- B. 西部受暖流、地形影响，气温偏高
- C. 东南部土层较深厚，耕作技术高
- D. 西北部多晴朗天气，日照时间长

城市居民往返于居住地和各功能区之间所耗费的能量总和，即出行能耗。图7示意某大

城市居民月出行次数与出行能耗的组合关系。读图，回答第11题。



11. 据图判断

- A. 甲区多公共服务设施，靠近住宅区
- B. 乙是位于郊区的高新技术产业园区
- C. 丙区商业网点等级低，服务半径小
- D. 丁为中心商务区，能耗昼夜差异大

12. 中国古代有一部文学作品集，图8是其作品来源地域示意图。下列诗句出自这一作品集的是

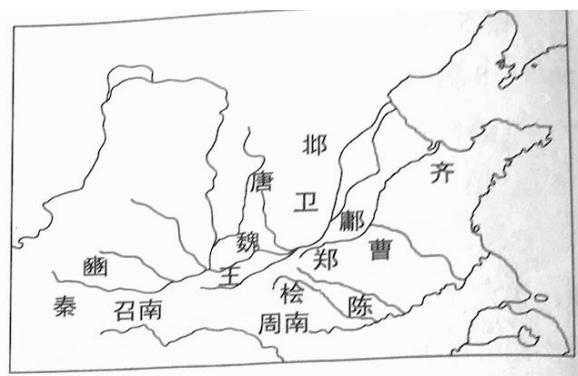


图8

- A. 关关雎鸠，在河之洲
- B. 长门献赋汉相如，东篱赏菊陶元亮
- C. 汉代李将军，夺得匈奴马
- D. 政烦方改篆，愚俗乃焚书

13. 中国古代某一时期，朝廷与地方矛盾尖锐。某节度使派人到中书省办事，因其态度恶劣，遭宰相武元衡呵斥。不久，武元衡在靖安坊的东门被该节度使派人刺杀。此事发生在

- A. 汉长安
- B. 唐长安
- C. 宋汴梁
- D. 元大都

14. “神宗既用王安石为参知政事，安石为帝言天下财利所当开辟敛散者，帝然其说，遂创立制置三司条例司”“以通天下之利”。这说明，王安石变法初期的改革重点在于

- A. 分散宰相权力
- B. 加强皇权
- C. 加强军事实力
- D. 增加财政收入

18. 20世纪一二十年代，一位历史人物因创办《新青年》被誉为新文化运动的先驱，后又成为“五四运动的总司令”。此人

- A. 是中共“一大”上海组的代表
- B. 在中共“一大”被选为书记
- C. 提出“政权是由枪杆子中取得的”
- D. 指挥了“八一”南昌起义

19. “走向世界丛书”于20世纪80年代开始出版，所收著作记录了近代国人亲历西方的见闻感言，如容闳的《西学东渐记》、康有为的《欧洲十一国游记》等，反响极大。该丛书的出版

- ①展现了近代国人走出国门、了解世界的历程
- ②改变了近代中国闭关锁国、盲目自大的局面
- ③为中国改革开放、融入世界提供了历史借鉴
- ④开创了独立自主的和平外交新局面

- A. ①②
- B. ②③
- C. ①③
- D. ②④

20. 有经济史学家估算，16~18世纪，荷兰与英国人均GDP年增长率均高于同时代的其他国家。这一时期荷、英经济的高增长均得益于

- ①资本市场的发展
- ②世界工厂地位的确立
- ③资本主义世界体系的建立
- ④海外殖民掠夺

- A. ①②
- B. ②③
- C. ③④
- D. ①④

21. 图 11 中①②③④代表四个国家，对其历史上发生的改革描述正确的是



图 11

- A. 16 世纪前期在①进行的改革，削弱了教会权力，实现了国家统一
- B. 19 世纪初在②进行的改革，推翻了奥斯曼帝国的统治
- C. 19 世纪中后期在③进行的改革，废除了农奴制，促进了资本主义发展
- D. 20 世纪前期在④进行的改革，建立了君主立宪制

22. 在美国第一届联邦政府中，国务卿杰斐逊和财政部长汉密尔顿在内政外交等问题上出现严重分歧，他们的追随者之间随之发生冲突。1796 年大选中，选民因地域、职业和政治倾向的差异分裂成不同的集团。这是美国一个重要制度的起源。这一制度是

- A. 邦联制
- B. 两党制
- C. 议会制
- D. 共和制

23. 电影往往是社会现实与舆论的一种反映。1943年，好莱坞拍摄了一些歌颂苏联的电影，比如《光荣的日子》《出使莫斯科》等。1948年后，苏联对美国的威胁成为好莱坞电影的重要主题之一，这类影片有《铁幕背后》《红色威胁》等。与这一时期电影主题转变相关的政治背景有

- ①“杜鲁门主义”的提出
 - ②北大西洋公约组织成立
 - ③联合国成立
 - ④不结盟运动兴起
- A. ①② B. ②③ C. ③④ D. ①④

24.



以天津“泥人张”作品为依托，“梦娃”系列公益广告运用三维技术绘制的形象萌动可爱，表达主题所用的童谣朗朗上口，深受大家喜爱。下列认识正确的有

- ①该公益广告是文化传播途径创新的成功案例
 - ②该公益广告是对社会主义核心价值观的生动表达
 - ③该公益广告的成功表明面向人民大众的文化更富有生命力
 - ④该公益广告的成功表明内涵丰富的中华文化是文化创新的动力
- A. ①③ B. ①④ C. ②③ D. ②④


25. “折戟沉沙铁未销，自将磨洗认前朝”，一件经历过战争的铁器，诉说着推动历史前进的必然和偶然；“君看六幅南朝事，老木寒云满故城”，一幅古旧的画卷，描绘出凄清荒凉的六朝时景，令后人触目伤怀……文物是无言的百科全书，承载着珍贵的历史信息。加强文物保护、管理和利用

- ①可以给文物保护部门带来较高的经济效益
- ②是推动我国文化事业发展的一项重要内容
- ③有利于传承和弘扬中华民族优秀传统文化
- ④能够使国家占据世界文化发展的制高点

- A. ①② B. ①④ C. ②③ D. ③④

26. 某国际学术期刊的封面，用中国山水画形象地表现了中国某生物研究组的一项重要研究成果。山顶代表体细胞状态；连接各山顶的桥代表小分子，能够促进各山顶之间的横越；山水中的小舟代表转基因方法，通过不同的路线实现重编程。采用绘画形式表现科学研究成果反映了

- A. 科学与艺术具有相通性
- B. 科学与艺术都来自于创新思维
- C. 科学与艺术都可以提高人的精神素养
- D. 艺术的传播需要借助科学的力量



27. 针对学生群体中的“拖延症”现象，某校学生“创客”社团设计了一款手机应用软件。


该软件具有如下功能：

目标专注：45分钟内，专注于要完成的学习任务，直到铃声响起，
休息5分钟后重新进入学习

任务拆分：将无法一次性解决的复杂学习任务拆分为多个小任务

量化评估：对学习任务的完成情况进行实时统计

同伴激励：同伴各自将学习任务完成情况上传至平台，相互激励



同学们从哲学角度对这一设计进行讨论，下列分析合理的有

- ① “目标专注”强调意识的目的性，能使我心无旁骛，抓紧时间
- ② “任务拆分”把整体分解成部分，避免因任务庞大而畏难不前
- ③ “量化评估”创造了新的规律，督促我有条不紊地完成任
- ④ “同伴激励”强调外部矛盾的作用更为重要，大家会因此不甘落后

- A. ①② B. ①③ C. ②④ D. ③④

跑步正成为许多人青睐的健身方式。回答第28、29题。

28. “奔跑，两腿以最简单的方式交替前行，无数次地重复，但每一步都是新的迈进，最后能成就出一个看似难以企及的跨越。”“奔跑，让我知道自己正在努力，普通可以变得独特，平凡可以变得卓越。”从以上跑步爱好者的感受中，可以领悟到

- A. 人生价值的大小通常来自于个人体验
- B. 生命的意义在于社会对个体的肯定
- C. 人可以在量的积累中获得精神提升
- D. 人的意志不断推动社会发展

29. “跑步热”的兴起，使一些城市的马拉松比赛吸引了众多的爱好者，赛事组织者常常面临报名者众多而参赛名额有限的困难。在解决参赛名额这一稀缺资源配置的难题时

- ①先到先得的排队法能缓解供求矛盾
- ②随机分配的抽签法能实现资源的优化配置
- ③价高者得的拍卖法违背了市场竞争的公平原则
- ④优先本地报名者的做法是采用计划手段配置资源

- A. ①② B. ①④ C. ②③ D. ③④

30. 2016 年中国在部分地区试点“一元券硬币化工程”，用一元硬币替代一元纸币；2015 年丹麦公布了关于“无现金社会”的议案，计划用电子货币代替纸币；长期的恶性通货膨胀导致委内瑞拉货币面值极高，2008 年该国政府发行新的货币，新币与旧币的兑换比例是 1: 1000。上述三个国家的方案和措施都

- ①体现了国家拥有发行货币的权力
- ②改变了用货币衡量的商品价格
- ③可以稳定物价，控制通货膨胀
- ④能方便交易行为，降低货币使用成本

- A. ①③ B. ①④ C. ②③ D. ②④

31. 在封闭经济条件下，某国国内市场土豆价格为每千克 5 元，国际市场土豆价格为每千克 4 元（按该国货币计价）。该国政府决定放开土豆的进出口贸易。假定不考虑国际贸易的成本，以及该国国内土豆供求变化对国际市场土豆价格的影响。在自由贸易条件下，下列说法正确的是

- A. 该国国内市场土豆价格为每千克 4 元，该国为土豆出口国
- B. 当该国政府大力宣传土豆营养价值时，该国土豆产量将会增加
- C. 当该国土豆种植技术有大幅改进时，该国国内市场土豆价格不会发生变化
- D. 当国际市场土豆价格上涨 50%时，该国国内市场土豆价格将为每千克 5 元

32. 汉文帝、汉景帝统治期间，经济恢复，社会稳定，史称“文景之治”。这个时期，朝廷改变了自商鞅以来的全面管制政策，对工商业采取放关津、“弛山泽之禁”的政策，对农业采取“轻徭薄赋”的政策，文帝曾两次“除田租税之半”。关于“文景之治”时期的政策理念，正确的判断有

- ①与斯密和李嘉图共同的政策主张比较接近
- ②与“罗斯福新政”的国家干预模式有相似之处
- ③与深受供给学派影响的“里根经济学”比较接近
- ④与西方现代市场经济的日本模式有相似之处

A. ①② B. ①③ C. ②④ D. ③④

33. 进一步推进依法行政是“十三五”时期的一项重要任务。2015年，北京市某中级人民法院受理了多起以区政府为被告的行政案件，涉及环境保护、社会保障、食品药品安全等重点社会民生问题。许多区政府负责人主动出庭应诉。行政机关负责人主动出庭应诉

- ①表明行政机关积极接受法制部门的内部监督
- ②表明行政机关积极接受司法机关的监督并对其负责
- ③有利于行政纠纷的实质性解决与公共政策的改进
- ④有利于化解矛盾，实现法律效果与社会效果的有机统一

A. ①② B. ①③ C. ②④ D. ③④

34.

某市某区
第五届人民代表大会代表选票
(第10选区)

代表候选人按姓名笔画排列

符号				符号		
候选人姓名	丁某	王某	陈某	另选人姓名		

说明：1. 应选代表2名，多选无效，等于或少选有效。
2. 选票上名单为正式代表候选人名单，同意的请在姓名上方符号栏内画“○”，反对的画“×”，弃权不画任何符号。若另选他人，请在另选人姓名栏内填写姓名，并在姓名上方符号栏内画“○”，不画“○”的无效。

关于这张选票，下列说法正确的是

- A. 根据选票所反映的信息，可判断该选举为间接选举
- B. 根据选票所反映的信息，可判断该选举为差额选举
- C. 根据选票推测，该区人大代表所代表的人口数是农村人大代表的4倍
- D. 在另选人姓名栏内填写自己的姓名，并在上方符号栏内画“○”，该选票无效

35. 某高中生在准备以“现代文官制度的起源与发展”为题的发言时，整理出下列文献资料。从政治学角度看，资料中存在错误的有

①1855年，英国政府颁布了文官制度改革的第一个枢密院令，该法令规定成立不受党派干涉的文官事务委员会，委员由首相奏请国王任命

②1867年，经过议会改革，英国议会共和制进一步加强，新兴工业资产阶级取代土地贵族获得了在下院的主导地位，要求继续推进文官制度改革

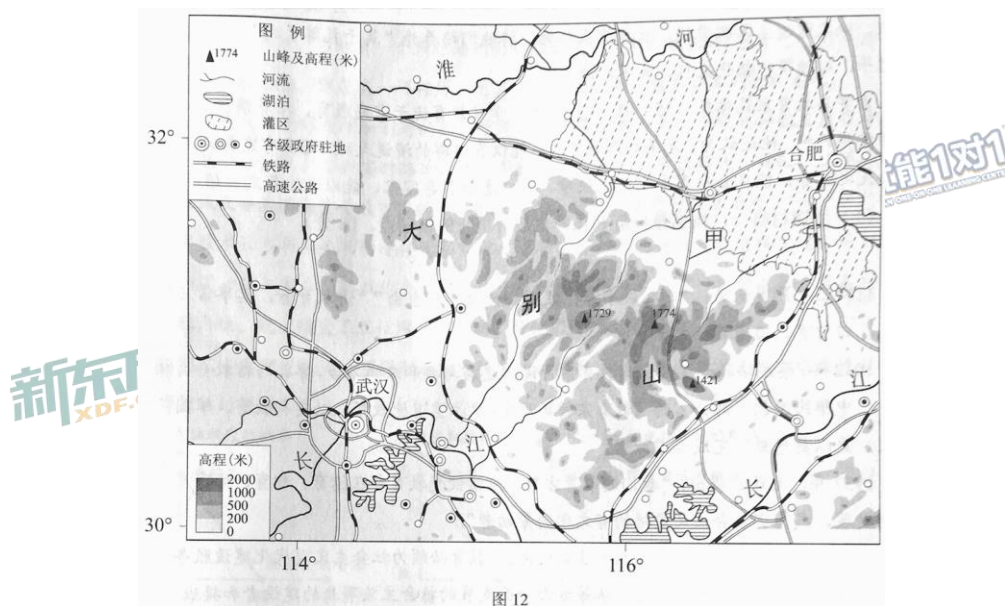
③1829年，安德鲁·杰克逊任总统后，美国交替执政的政党把官职作为战利品，公开进行“政党分肥”，造成政府腐败，民众迫切要求对文官制度进行改革

④1883年，美国总统签署了国会通过的《文官法》，规定成立联邦政府公务员管理机构——文官委员会，委员由总统提名，经众议院同意产生，向国会负责

- A. ①③
- B. ①④
- C. ②③
- D. ②④

第二部分（非选择题 共 160 分）

36.（36分）读图 12，回答下列问题。



古人登上大别山主峰，不禁感叹南北两侧的景色：“山之南山花烂漫，山之北白雪皑皑，

此山大别于他山也！”

(1) 推断古人登山的季节，分析该季节南北景色差异的原因。（8分）

图示灌区是我国高产农田建设的重点区域之一，该区水利工程具有“蓄、引、提、排相结合”的特色。

(2) 简述形成该特色的自然条件，说明灌区水利工程在高产农田建设中的功能。（10分）

(3) 分析甲高速公路施工难度大的原因，概述该公路对大别山区社会经济发展的影响。

（10分）

国家大力推进信息化、工业化协同发展，实施精准扶贫政策，为大别山区农产品加工业发展带来新契机。

(4) 阐述大别山区发展农产品加工业的有利因素。(8分)

37. (36分) “教育是一个民族最根本的事业”——邓小平

材料一 董仲舒按人性把人分为上中下三个等级，占人口多数的“中民”是教育的主要对象。他主张设立各级学校，教授儒家经典，将他们培养为“笃于礼薄于利”“以天下为忧”的君子，以使得“教化大行，天下和洽”。

古罗马教育家昆体良(35~95年)认为，学校教育优于家庭教育，培养演说家是公民教育的重要目标。他还认为，完美的演说家“不能仅有超群的演说天赋，还要有完美的品格”“能尽公民之义务，能在公私事务中完成使命，能以忠告引导国家，能以立法奠定其雄厚基础”。

(1) 阅读材料一，概括董仲舒和昆体良教育主张的相同点。(8分)

材料二 严复认为：“西之教平等，故以公治众而贵自由”“讲教育者，其事常三宗：曰体育，曰智育，曰德育，三者并重”。

1912年，蔡元培批评清政府的教育宗旨说：“忠君与共和政体不合，尊孔与信教自由相违”。同年，中华民国教育部公布的《教育宗旨》规定：“注重道德教育，以实利教育、军国民教育辅之，更以美感教育完成其道德”。

1957年，毛泽东提出：“我们的教育方针，应该使受教育者在德育、智育、体育几方面都得到发展，成为有社会主义觉悟的有文化的劳动者”。

1995年，《中华人民共和国教育法》规定：“教育必须为社会主义现代化建设服务，必

须与生产劳动相结合，培养德、智、体等方面全面发展的社会主义事业的建设者和接班人”。

(2) 阅读材料二，概括中国近现代教育目标的特点；结合时代背景对此进行分析。(10分)

材料三 人文教育是欧洲教育的传统。19世纪，英国知识界对教育的内容展开争论。一派认为，科学（自然科学和应用科学）应该是教育的主体内容，它是文明的基础和核心，是国家富强之所在。教育不能只培养绅士，而是要满足社会的现实需要，但科学在教育中几乎没有获得应有的分量。另一派则认为，古典人文科目（语言、文学、哲学、历史、数学等）仍然应该是教育的核心内容。人文教育不仅追求纯粹知识，还是人类实现美、快乐、自由和道德的途径。类似的争论在近现代很多国家都发生过。

(3) ①概述这一教育争论在英国出现的时代背景。(6分)

②教育内容既受限于历史时代，又对历史发展产生影响。你如何看待上述教育争论中的观点？运用中外历史发展进程中的重要史实加以论述。(12分)

要求：观点明确，史实充分，史论结合，逻辑清晰。

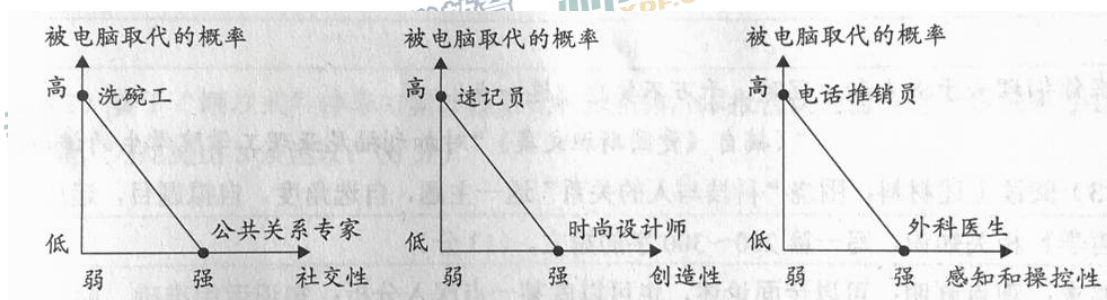
38. (32分) 科技与人的关系是一个历久弥新、引人深思的话题。

材料一 发端于20世纪中叶的数字革命，创造出不断进化的“灵长类机器”。90年代实验室里的超级计算机，占地有一个网球场的面积那么大，成本高达5000万美元；20年后寻常百姓家中的平板电脑，像杂志一样轻薄，运算能力更胜一筹，成本却不到500美元。

数字时代人类能够处理和利用的知识信息实现了爆炸式增长。手机的导航应用程序自动接收车辆的定位信息，分析实时路况，告诉司机到达目的地的最佳路线；健康数据库公司通过可穿戴式设备监测海量普通市民的个人健康状况，协助医生进行精准治疗。

数字技术让人与人之间的连接变得空前广泛和紧密。你的一天可能这样度过：早上用拼车软件叫了一辆私家车顺路载你去上班；中午从短租网站上联系了一位背包客，准备把闲置的房间租给他；晚上接受了五位网友的求助，帮他们修改程序代码。

材料二 有研究认为，不同职业被电脑取代的概率主要取决于其社交性、创造性以及感知和操控性的强弱。



【注】“感知和操控性”指灵敏、协调的操作能力和应付复杂工作环境的能力。

(1) 阅读上述材料，阐述科学技术的进步怎样影响了个人的经济生活。(13分)

材料三 无人驾驶汽车是一种主要依靠车内计算机系统来实现无人驾驶的智能汽车，

这一技术的应用可以减少交通事故、改变城市拥堵状况、节约能源消耗，甚至将影响人们的生活方式和观念。国内外各大汽车制造商和互联网公司纷纷投入巨资开发研制。但是，无人驾驶汽车的发展也面临一些问题。比如，汽车上路的标准是什么？发生交通事故后，汽车制造商、软件开发商和车主，谁来承担责任？黑客入侵带来的安全隐患如何避免？车主的位置信息等隐私如何保护？

(2) 结合材料三，运用《政治生活》相关知识，分析应该如何推进我国无人驾驶汽车的发展。(6分)

材料四 由于技术正在变得强大而廉价——而且更加无处不在，所以越来越多的个人手中都已经掌握了这种力量。掌握这些力量的个人并不都是理智的、意图良好的，如基因组测序领域的突破能够治愈疾病，也能用于生产天花病毒的攻击性版本。

（摘自《第二次机器革命》）

不管是在当今还是在未来，科技都可能造成破坏。但我们的生活受惠于科技变得更好了，这也是真真切切的事实。我想环境可能是个很好的例子。伦敦现在的天气说不上纯净无暇，但也比50年代爆发煤炭烟雾事件那会儿强太多了。人类文明的进步需要依靠持续的技术革新。没有科技，我不认为我们能解决气候变化和贫困问题。

（摘自《人与机器共同进化》）

这样了不起的应用科学，它既节约了劳动，又使生活更加舒适，为什么带给我们的幸福却那么少呢？坦率的回答是，因为我们还没有学会怎样正当地去使用它。

如果你想使你们一生的工作有益于人类，那么，你们只懂得应用科学本身是不够的。关心人的本身，应当始终成为一切技术上奋斗的主要目标；关心怎样组织人的劳动和产品分配这样一些尚未解决的重大问题，用以保证我们科学思想的成果会造福于人类，而不致成为祸害。

在你们埋头于图表和方程时，千万不要忘记这一点！

（摘自《爱因斯坦文集》“对加利福尼亚理工学院学生的讲话”）

(3) 阅读上述材料，围绕“科技与人的关系”这一主题，自选角度，自拟题目，运用《生活与哲学》相关知识，写一篇200~300字的短文。（13分）

要求：观点鲜明；可以全面论述，也可以就某一点深入分析；知识运用准确、贴切；论述合乎逻辑，条理清晰。

39. (12分) 某校开展“我为社区献一策”的社会实践活动，下面是一组同学撰写的调查报告。请在横线处按要求填写内容。

某小区“潮汐式”停车方案调查报告

一、调查背景

某小区建成于20世纪80年代，未规划停车位，且无专门物业管理。近年来，“停车位”成了小区居民头疼的问题。正对这一问题，居委会积极采取应对措施。第一阶段，应部分居民要求，居委会将小区绿化用地改造为停车位，但遭到另一些居民的强烈反对。第二阶段，居委会计划引入外地的“潮汐式”停车经验，与附近不对外开放停车位的写字楼达成协议：夜间，小区居民可以在写字楼付费停车；白天，写字楼里的上班族可以在小区付费停车，利用“错时停车”共享车位，盘活闲置资源。但这一计划公布后，担忧、质疑也随之出现。本调研小组受居委会邀请，对小区“潮汐式”停车方案展开调查。

二、调查过程

(1) 文献查阅

① 相关报道，如其他地区的实践经验。

② _____。(填写一种其他类型的文献资料，1分)

(2) 访谈及问卷调查

访谈对象：居民、_____。(填写其他两类访谈对象，2分)

问卷调查结果:

“潮汐式”停车方案居民意见统计

调查对象	赞成		反对	
	比例	理由	比例	理由
有车居民	70%	缓解停车难	30%	夜间在写字楼停车需要付费
无车居民	40%	缓解小区道路拥堵	60%	存在安全、噪音等问题

三、结论及建议

(1) 本报告对社区居委会第一阶段做法的评价是: (3分)

(2) 鉴于“潮汐式”停车方案涉及多元利益主体, 本报告认为需要进一步完善小区的民主管理, 为此提出3条建议: (6分)



40. (18分) 河南安阳西高穴曹操墓和江西南昌刘贺墓都是近年来的重大考古发现。

	西高穴曹操 (155~220年) 墓	海昏侯刘贺 (前92~前59年) 墓
墓葬位置	只符合部分文献记载 (注: 文献中关于曹操墓位置有多种记载)	与文献记载一致
墓葬形制和结构	与当时王侯级墓类似	符合汉代列侯墓的规制
出土器物	具有汉代特征	具有典型的汉代风格
出土器物上的文字	“魏武王” (注: 包括曹操在内, 这一历史时期曾三位“魏武王”)	“刘贺” “海昏侯臣贺”

目前学术界基本上一致认为海昏侯墓的墓主就是刘贺, 但在西高穴墓的墓主是否为曹操这一问题上还存在争议。

(1) 阅读上表, 对比刘贺墓资料, 说明西高穴墓墓主身份存在争议的原因。(8分)

海昏侯墓将规划建设成国家考古遗址公园。

(2) 列举该遗址公园对当地旅游业发展的影响。(10分)

41. (26分) 中法两国的文化交流源远流长。2016年4月至6月, 第十一届“中法文化之春”在中国举行, 促进了两国之间的友好往来。

法国作家大仲马在《基督山伯爵》中, 对马赛进行了刻画。图13为马赛的地理位置及港区旧貌图。马赛三面被石灰岩山丘所环抱, 气候宜人, 拥有法国最大的海港。读图, 回答第(1)题。

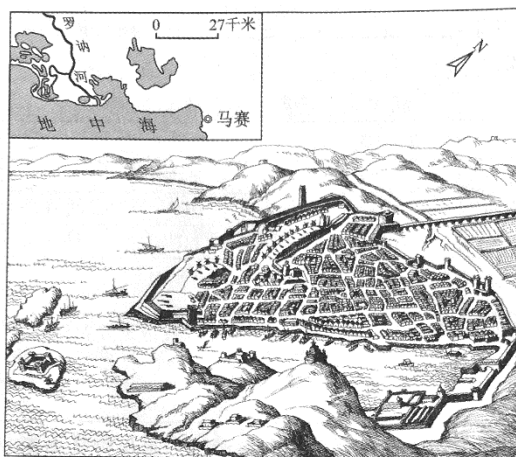


图 13

(1) 简述马赛成为法国天然良港的条件。(10分)

19世纪末20世纪初，孟德斯鸠、卢梭等人的思想被中国资产阶级维新派和革命派广为宣传。《论法的精神》和《社会契约论》也被译成汉语出版。

(2) 概括孟德斯鸠和卢梭的思想，并分析其思想在近代中国广为传播的原因。(8分)

鲁迅和雨果分别是中国和法国的伟大作家，虽然相隔万里，但是他们的思想有很多相通之处。下文为鲁迅文化基金会秘书长、鲁迅长孙周令飞先生在“鲁迅对话雨果”中法文化交流活动中讲话的部分内容。

“雨果在他的《悲惨世界》里说：‘只要本世纪三个问题得不到解决：贫穷使男子潦倒，饥饿使妇女堕落，黑暗使儿童羸弱，换句话说，从更广的意义来说，只要这世界上还存在愚昧和困苦，和本书同一性质的作品都不会是无益的。’鲁迅先生以他高度浓缩的小说、精美绝伦的散文和浩瀚滚烫的杂文，表达了同样的意愿和同样的意志，正如他那首《无题》绝句所言：‘万家墨面没蒿莱，敢有歌吟动地哀。心事浩茫连广宇，于无声处听惊雷。’”

(3) 结合材料，分析“鲁迅对话雨果”交流活动的文化意义。(8分)