



2019 年度国家公务员考试行测真题（副省）

查看完整版请关注微信公众号（kdspx100）

回复“2019 国考行测副省级答案”

第五部分 资料分析

所给出的图、表、文字或综合性资料均有若干个问题要你回答。你应根据资料提供的信息进行分析、比较、计算和判断处理。

(三)

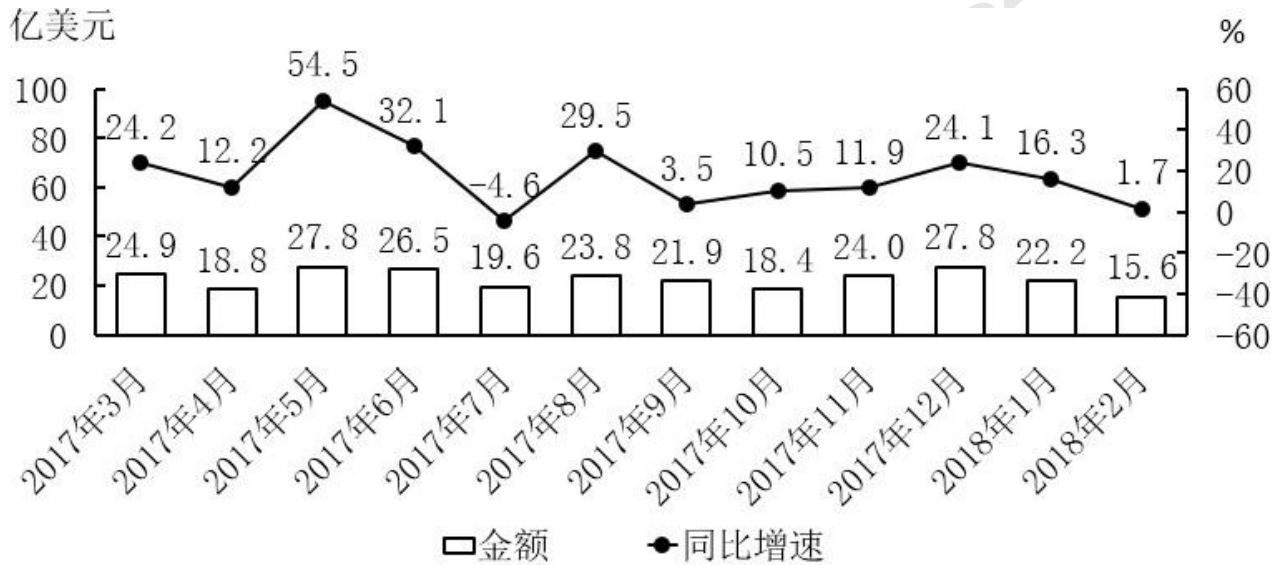


图 2 2017年3月~2018年2月全国进口药品金额及同比增速

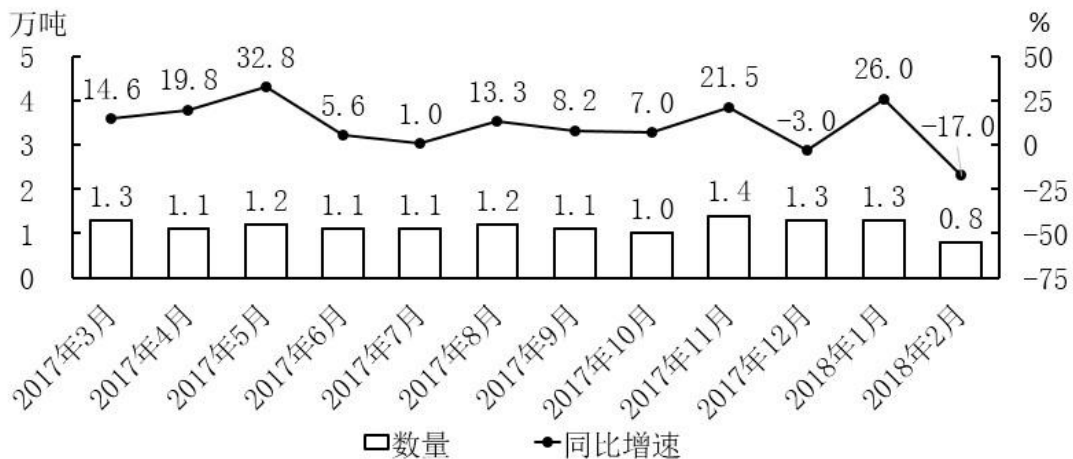


图 1 2017年3月~2018年2月全国进口药品数量及同比增速

请回答 116-120 题

116.2017 年第三季度，全国平均每吨进口药品单价约为多少万美元？

- A.2 B.19 C.8 D.96

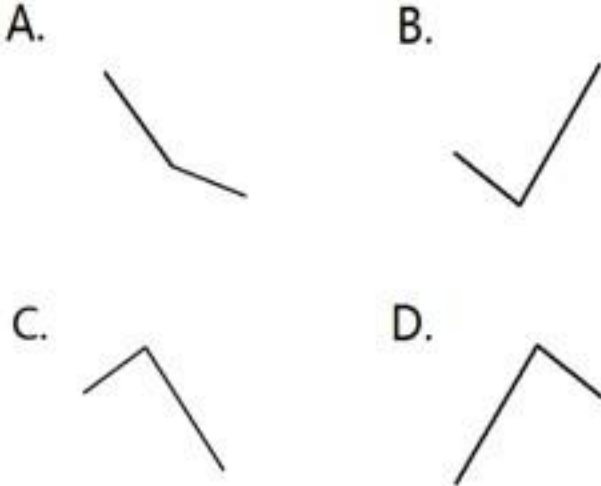
117. 2016年5月, 全国进口药品金额环比增速:

- A. 超过 100% B. 在 40%~100% 之间 C. 在 0%~40% 之间 D. 低于 0%

118. 2017年下半年, 全国进口药品数量同比增速低于上月水平的月份有几个?

- A.2 B.3 C.4 D.5

119. 以下折线图中, 能准确反映 2017年第四季度各月全国进口药品金额环比增长率的是:



- A.A B.B C.C D.D

120. 能够从上述资料中推出的是:

- A. 2016年下半年, 全国进口药品数量低于 1 万吨的月份仅有 2 个
 B. 2017年 11 月, 全国平均每吨进口药品单价低于上年同期水平
 C. 2017年第二季度, 全国进口药品金额超过 75 亿美元
 D. 2017年 1 月, 全国进口药品金额超过 20 亿美元

(四)

2017年全国二手车累计交易量为 1240 万辆, 同比增长 19.3%; 二手车交易额 8092.7 亿元, 同比增长 34%。
 2017年 12 月, 全国二手车市场交易量为 123 万辆, 交易量环比上升 7.1%, 上年同期交易量为 108 万辆。

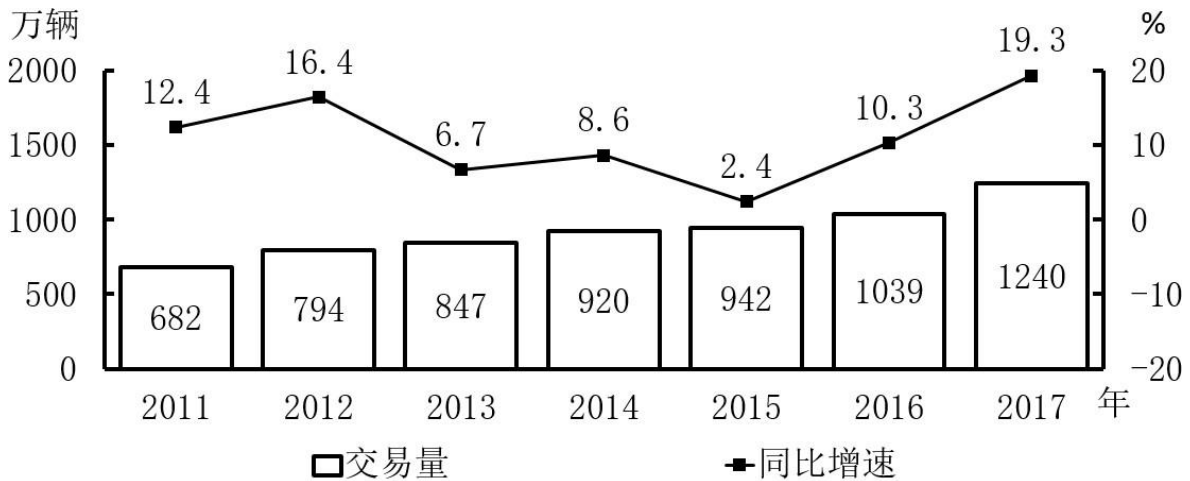


图1 2011~2017年全国二手车交易量及同比增速

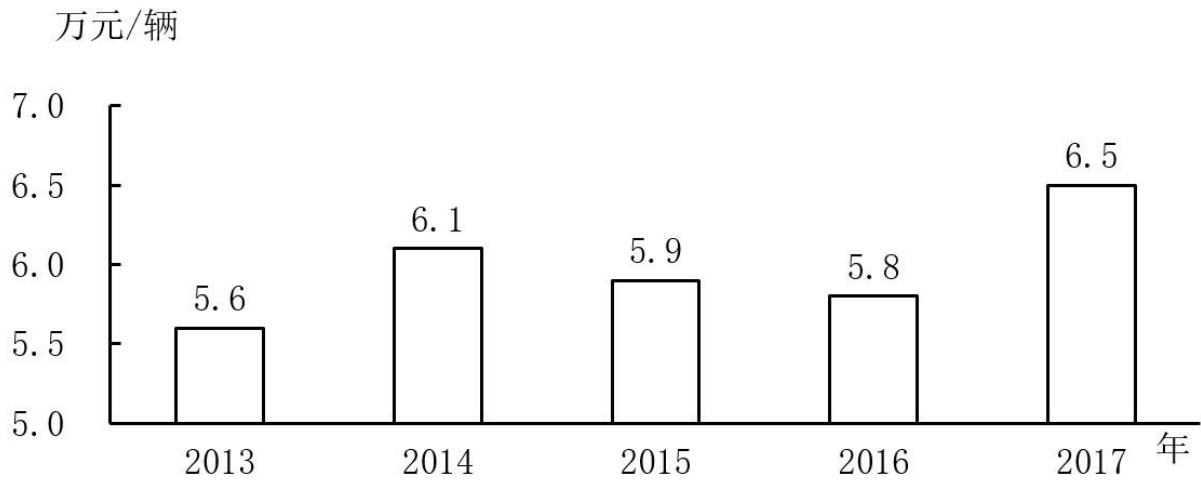


图2 2013~2017年全国二手车平均交易价格

请回答 121-125 题

121.2011~2017 年，全国二手车交易量同比增量低于 80 万辆的年份有几个？

- A.3 B.4 C.5 D.7

122.“十二五”（2011~2015 年）期间，全国二手车总计交易约多少亿辆？

- A.0.46 B.0.50 C.0.38 D.0.42

123.2017 年 1~10 月，平均每月全国二手车交易量约为多少万辆？

- A.100 B.105 C.90 D.95

124.2015 年全国二手车交易总金额比 2014 年：

- A.减少了不到 100 亿元 B.减少了 100 亿元以上 C.增长了 100 亿元以上 D.增长了不到 100 亿元

125.能够从上述资料中推出的是：

- A. 2016~2017 年，全国二手车平均交易价格在 6.1~6.15 万元之间
B. 2011~2017 年，全国二手车交易量同比增速第 4 高的年份，当年二手车平均交易价格高于 6 万元
C. 2011~2017 年，全国二手车交易量同比增长量最高的年份其增长量是最低年份的 9 倍多

1~2017 年，全国二手车交易量同比增速低于 10% 的年份有 4 个

(五)





2017年1月~2018年4月全国钓鱼网站处理情况

时间	处理数量 (个)		处理数量占比 (%)	
	CN域名	非CN域名	支付交易类	金融证券类
2017年1月	42	1870	64.9	34.4
2017年2月	91	860	52.6	45.8
2017年3月	76	2019	80.5	18.9
2017年4月	32	761	49.4	50.3
2017年5月	43	785	60.4	39.6
2017年6月	19	810	66.0	33.3
2017年7月	33	1445	53.0	46.8
2017年8月	58	4675	87.3	12.4
2017年9月	52	2572	83.2	15.9
2017年10月	87	2246	78.2	21.2
2017年11月	40	2626	83.6	13.5
2017年12月	302	2693	79.8	19.1
2018年1月	204	2598	79.3	20.2
2018年2月	58	641	46.6	51.9
2018年3月	254	3230	77.4	22.3
2018年4月	229	1749	73.2	25.8

请回答 126-130 题

126.2018 年第一季度全国处理钓鱼网站总数:

- A.不到 5000 个
- B.在 5000~6000 个之间
- C.在 6001~7000 个之间
- D.超过 7000 个

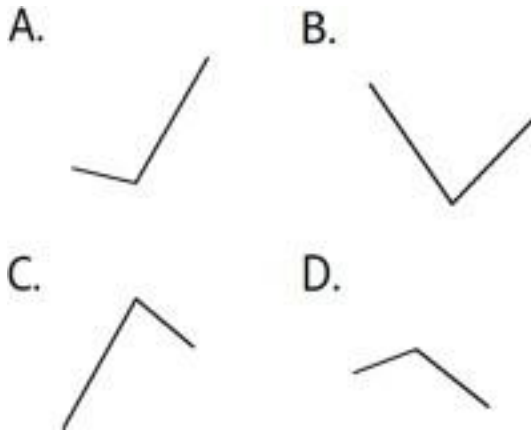
127.2017 年下半年,金融证券类和支付交易类钓鱼网站占当月处理钓鱼网站总数比重最低的月份是:

- A.8 月
- B.9 月
- C.10 月
- D.11 月

128.2017 年,全国处理的支付交易类钓鱼网站数量超过金融证券类钓鱼网站 2 倍的月份有几个?

- A.5
- B.6
- C.7
- D.8

129.下列折线图中,能准确反映 2018 年第一季度 CN 域名钓鱼网站处理数量同比增速变化趋势的是:



- A.A B.B C.C D.D





130. 能够从上述资料中推出的是:

- A. 8年3月全国支付交易类钓鱼网站处理数量超过2500个
- B. 7年第一季度全国CN域名钓鱼网站处理数量占同期钓鱼网站处理总数的一成以上
- C. 8年2月全国支付交易类钓鱼网站处理数量环比下降了不到50%
- D. 7年全国处理的CN域名钓鱼网站中,超过了一半的网站是在12月处理的

(五)

2017年,A省完成邮电业务总量6065.71亿元。其中,电信业务总量3575.86亿元,同比增长32.0%;邮政业务总量2489.85亿元,增长75.8%。

2017年,A省移动电话期末用户1.48亿户,比上年增长3.4%。其中,4G期末用户达1.18亿户,比上年增长9.9%。互联网宽带接入期末用户3128万户,比上年增长13.9%。移动互联网期末用户1.31亿户,比上年增长158.8%,移动互联网接入流量同比增长29.1%。

2017年,全省全年完成快递业务量100.51亿件,同比增长29.3%。其中,同城快递业务量增长33.0%,异地快递业务量增长33.1%,国际和港澳台地区快递业务量增长13.9%。

2017年,A省完成客运总量148339万人次,同比增长5.0%,增幅比前三季度提高0.2个百分点,比上年提高0.5个百分点;完成旅客周转总量4143.84亿人公里,增长7.7%,增幅比前三季度提高0.7个百分点,比上年提高1.8个百分点。

2017年,A省完成高铁客运量17872万人次,旅客周转量474.64亿人公里,同比分别增长62.7%和54.3%,和20.3%、18.1%。高铁客运量和旅客周转量分别占铁路旅客运输总量的62.7%和54.3%,比重比上年分别提高4.3个和3.9个百分点。

请回答126-130题

126.2017年A省邮电业务总量同比增速在以下哪个范围之内?

- A. 低于25% 超过
- B. 25%~50% 之间
- C. 50%~75% 之间
- D. 75% 以上

127.2017年A省快递业务中,业务量占总业务量比重高于上年水平的分类是:

- A. 仅国际和港澳台地区快递
- B. 异地快递、国际和港澳台地区快递





C.仅同城快递

D.同城快递、异地快递

128.2017年前三季度，A省平均每人每次客运旅客运输距离（ $\frac{\text{旅客运输总量}}{\text{客运总量}}$ ）同比：

A.下降了不到
上升了

B.下降了 以上
以上

C.上升了不到

D.

129.2016年，A省高铁客运量约是普铁（除高铁外的铁路）客运量的多少倍？

A.1.4

B.1.7

C.0.8

D.1.1

130.在以下4条关于A省的信息中，能够直接从资料中推出的有几条？

- ①2017年非4G移动电话用户全年增量
- ②2017年移动互联网用户日均增量
- ③2015年客运总量
- ④2017年铁路旅客运输总量占客运总量比重

A.1

B.2

C.3

D.4

