

2017 年江苏公务员考试行测真题
C 卷

公考通网校

www.chinaexam.org



公考通 APP



微信公众平台

2017 年江苏省录用公务员考试

《行政职业能力测验》真题卷（C 类）

注意事项

1. 这项测验共有五个部分，总题量为 130 题，考试时限为 120 分钟。
2. 请用黑色字迹的钢笔或签字笔将姓名与准考证号在指定位置上填写清楚。
3. 当监考人员宣布考试开始时，你才可以开始答题。
4. 当监考老师宣布考试结束时，你应立即停止作答。待监考人员允许离开后，方可离开考场。
5. 在这项测验中，可能有一些试题较难，因此你不要在某一道题上思考太长时间，遇到不会答的题目，可先跳过去。否则，你可能没有时间完成后面的题目。
6. 试题答错不倒扣分。

第一部分 常识判断

（共 20 题，参考时限 15 分钟）

根据题目要求，在四个选项中选出一个最恰当的答案。

1. 党的十八大以来，习近平总书记在强调不断增进中国特色社会主义道路自信、理论自信、制度自信的同时，多次提到文化自信。下列对文化自信理解正确的是（ ）
 - ①文化自信具有鲜明的民族特色和价值色彩
 - ②文化自信是对自身文化传统的深刻认知和高度自觉
 - ③文化自信是对自身文化生命力和影响力所持有的坚定信心
 - ④文化自信是对自身文化身份与价值的充分肯定和积极践行A. ①②
B. ②③④
C. ①②④
D. ①②③④
2. 2013 年以来，每年的中央一号文件都聚焦农业现代化，强调要加快发展现代农业，其根本原因是（ ）
 - A. 农业现代化是目前我国社会主义现代化建设的突出“短板”
 - B. 农业现代化在我国社会主义现代化建设中最重要
 - C. 全面建成小康社会目标的实现取决于农业现代化
 - D. 我国目前已经有了足够的财力支持农业现代化的发展
3. 下列古文中能够体现领导者榜样效应的是（ ）
 - A. 止宿公署，夜则祷于天，昼则出赈饥民，终日无少怠
 - B. 为政以德，譬如北辰，居其所而众星共之
 - C. 其身正，不令而行；其身不正，虽令不从
 - D. 乐民之乐者，民亦乐其乐；忧民之忧者，民亦忧其忧
4. 达尔文观察到，养猫越多的地方，羊也可以养得越多，原因在于“猫—田鼠—花蜂—三叶草—羊”之间存在着生物食物链。这体现的哲学原理是（ ）
 - A. 矛盾具有普遍性和客观性，矛盾是事物发展的源泉和动力
 - B. 联系具有普遍性和多样性，任何事物都处在普遍联系之中

- C. 真理具有绝对性和相对性。绝对真理包含在相对真理之中
- D. 认识具有反复性和无限性，认识是一个辩证运动的过程
5. 我国先秦诸子提出了许多重要主张。下列对应正确的是（ ）
- A. 孔子——道法自然
- B. 墨子——兼相爱，交相利
- C. 老子——夫子之道，忠恕而已矣
- D. 韩非——阴阳者，天地之道也
6. 欧洲一位伟人曾说过：“我的光荣不在于取得四十个战役的胜利，滑铁卢会摧毁这一切，能够永世长存的是我的民法典。”这里所说的“我的民法典”是（ ）
- A. 法国民法典
- B. 德国民法典
- C. 瑞士民法典
- D. 奥地利民法典
7. 下列不符合我国《居民身份证法》规定的是（ ）
- A. 甲是大陆投资、定居的台商，不能申请领取居民身份证
- B. 乙到派出所办理常住户口登记变更手续，应当出示居民身份证
- C. 丙遗失了居民身份证，可办理户籍证明来证明身份并乘坐火车
- D. 丁在码头候船遇警察查验身份时，应向警察出示居民身份证
8. 机场、银行等服务窗口实行“一米线”制，要求等候服务的顾客必须与正在接受服务的顾客之间保持一米距离。这一制度的主要功能是（ ）
- A. 维持服务秩序
- B. 保护顾客隐私
- C. 提升服务质量
- D. 提高道德水准
9. 下列诗句描写的地方都位于长江流域，按照从上游到下游排序正确的是（ ）
- ①猿愁鱼踊水翻波，自古流传是汨罗
- ②白帝城中云出门，白帝城下雨翻盆
- ③昔登江上黄鹤楼，遥爱江中鹦鹉洲
- ④钟山如龙独西上，欲破巨浪乘长风
- A. ①②③④
- B. ①④③②
- C. ②①③④
- D. ①②④③
10. 下列有关世界地理的说法错误的是（ ）
- A. 俄罗斯横跨欧亚大陆，是世界上面积最大的内陆国家
- B. 亚洲是世界上面积最大的洲，也是世界上人口最多的洲
- C. 澳大利亚大陆是最小的大陆，也是只有一个国家的大陆
- D. 南极洲是世界上海拔最高的洲，北冰洋是世界最小的大洋
11. 下列成语与历史人物对应错误的是（ ）
- A. 卧薪尝胆——勾践

- B. 退避三舍——晋文公
- C. 完璧归赵——蔺相如
- D. 纸上谈兵——沈括

12. 党在新民主主义革命时期形成了很多富有时代特色的革命精神，按照形成时间先后排序正确的是（ ）

- ①延安精神
- ②西柏坡精神
- ③井冈山精神
- ④古田会议精神

- A. ①②③④
- B. ②③④①
- C. ③④①②
- D. ④②①③

13. 某厂发生粉尘爆炸事故，造成人员伤亡和财产的严重损失。下列条件的组合会引起粉尘爆炸的是（ ）

- ①粉尘有可燃性且达到一定浓度
- ②天气持续高温
- ③存在火源和助燃物
- ④空间受限

- A. ②③
- B. ③④
- C. ①③④
- D. ①②③

14. 下列关于算盘的说法错误的是（ ）

- A. 算盘是世界上最早的计算工具之一
- B. 算盘能够锻炼人的思维和协调能力
- C. 算盘采取十进制的计数法
- D. 算盘只能进行加减乘除四则运算

15. 下列现象对应的光学原理错误的是（ ）

- A. 汽车后视镜扩大驾驶员视野——折射
- B. 雨夜路灯出现一圈圈的光环——色散
- C. 看立体电影需戴上特殊眼镜——偏振
- D. 使用闪光灯拍照时出现红眼——反射

16. 中国加入世界贸易组织以来，价廉物美的“中国制造”走入国外亿万家庭，走向海外的中国企业贡献卓著，规模庞大的中国市场充满吸引力，数以亿计的中国游客出境旅游。对此，下列说法错误的是（ ）

- A. 中国的发展给全球经济提供巨大动力源泉
- B. 中国与世界各国开始共同分享发展红利
- C. 中国在世界经济体系中拥有绝对的话语权
- D. 中国入世后所作贡献得到了国际社会认可

17. 某企业最近推出的一款指甲钳，在刀口上方装了放大镜，特别适合眼花的老年人使用，卖的很红火。这个事例体现了经济学原理在日常生活中的应用。对此，下列说法正确的是（ ）

- A. 只有精准掌握需求才能推出畅销产品

- B. 市场细分使产品的生产成本有所减少
C. 带有放大镜的指甲钳是剪刀的替代品
D. 装有放大镜的指甲钳改变了使用价值
18. 下列古诗词中，表达作者对友人的思念之情的是（ ）
A. 上邪，我欲与君相知，长命无绝衰
B. 问世间，情为何物，直教人生死相许
C. 曾经沧海难为水，除却巫山不是云
D. 红豆生南国，春来发几枝。愿君多采撷，此物最相思
19. 五禽戏是依据中医基础理论创编的一种传统养生健身拳法。
下列关于五禽戏的说法错误的是（ ）
A. 五禽戏的创编者是华佗
B. 五禽戏对后世医学的发展有重要的影响
C. 五禽戏模仿的是虎、鹿、熊、猿、鸟的动作
D. 五禽戏已经获批国家级物质文化遗产项目
20. 在日常生活和工作中，人们遭受挫折后有时会找理由自我安慰，以降低挫折感，恢复心理平衡，这是心理防御机制中的“合理化”方法，下列不属于采用这种方法进行心理防御的是（ ）
A. 小朱上班途中发现包裹被盗，笑着说破财免灾
B. 小邢的请求被同事拒绝，认为同事肯定有自己的难处
C. 小范竞争上岗未能如愿，心想这个辛苦的岗位不干也罢
D. 小马因工作失误受到批评，感觉领导在利用职权公报私仇

第二部分 言语理解与表达

（共 35 题，参考时限 30 分钟）

一、片段阅读。每道题包含一段文字，要求你从四个选项选出最恰当的一项，你的选择必须与题干要求相符合。

21. 国家机关、政党组织和其他社会成员必须按照特定的规则运行和活动，这是法治的应有之义。在当代中国，规范国家权力运行和社会成员活动的各类规则可谓浩如烟海，但国家法律体系和党内法规体系显然是最有影响力和最为重要的规则体系。十八届四中全会审议通过的《中共中央关于全面推进依法治国若干重大问题的决定》将“形成完备的法律规范体系和完善的党内法规体系”纳入建设中国特色社会主义法治体系，确立了全面推进依法治国的总目标。

这段文字之后作者最有可能阐述的是（ ）

- A. 中国特色社会主义法治体系的建构
B. 依法治国建设全面小康社会的构想
C. 党内法规与国家法律的衔接和协调
D. 建立健全党内法规体系的对应措施

22. 晨练是一种好习惯，但未必人人适合。从人的生理特点来看，早上 6 点左右，人体的血压开始升高，心率逐渐加快，上午 10 点左右达到峰值，如果有冠心病、高血压的人此时锻炼，尤其是进行剧烈运动就有可能发生意外。清晨 6 点到 8 点，人体血小板的凝聚力明显增强，血液相对粘稠，这段时间运动可能会使心脑血管梗塞率增大。

这段文字意在强调（ ）

- A. 晨练总的来说还是弊大于利
- B. 晨练不宜选在 6 至 8 点之间
- C. 晨练应尽可能避免剧烈运动
- D. 晨练时间和强度要因人而异

23. 木器和石器代表了人类历史上的两大类型材料——有机材料和无机材料。但历史的发展很不均衡，数千年中，有机材料除了木器以外，就是毛皮、秸秆这些可以从生物中直接获取的材料，没有什么大的变化。但无机材料发展出了陶瓷、瓷器、金属、玻璃等人造材料，除了石器之外，全是依靠人类智慧使已知物发生化学变化之后创造出的新材料。即使是游离状态的金、银、汞等，人们也都开发了一些利用化学反应进行的提纯方法。

以下概括不符合文意的是（ ）

- A. 有机材料几乎都是直接取之于生物
- B. 石器是无机材料家族的原生态成员
- C. 陶瓷、金属是人类创造的无机材料
- D. 人造材料未来将全面取代有机材料

24. 中国历史上的三大名锦中，蜀锦最有人气，云锦最为贵气，而宋锦尽显文人雅士之韵，有“锦绣之冠”的美名。宋锦，是指具有宋代织锦风格的锦缎，始产于南宋高宗年间，因产地主要在苏州，故又称苏州宋锦。明清以后织出的宋锦称为“仿古宋锦”或“宋式锦”，统称“宋锦”。

以下说法不符合文意的一项是（ ）

- A. 宋锦更富有文人雅士的风采
- B. 宋锦的命名主要与年代相关
- C. 明清后仍有锦缎被称为“宋锦”
- D. 宋锦的工艺水平远高于蜀锦

25. 如今，传统的社会就业观的坚冰在一层层融化，科学的事业发展的阳光在一点点升温，学子们终于豁然开朗，体面和尊严不是外在的虚荣，而在于自己辛勤劳动的成就、事业腾挪的空间。如果乡村同样能够圆梦，有实现人生价值的机会，有事业发展的天地，为什么还要株守于城市的蜗居甘为“蚁族”？

这段文字意在强调（ ）

- A. 乡村也是学子们大展宏图的天地
- B. 学子们的社会就业观已经在发生改变
- C. 不是所有人都适合于在城市发展
- D. 体面尊严并非只在城市才能获得

26. 中国历史上也曾有犀牛栖息。春秋时期气候温暖湿润，长江一代分布有许多苏门答腊犀牛。那时的楚国人捕猎犀牛，用它们的皮制作犀甲，《关尹子》中有一个为后人熟知的成语“犀牛望月”，说的就是犀牛因独角挡住视线而看不到月亮，《墨子·公输》中也有这样的描述：“荆有云梦，犀兕麋鹿满之”。但到了战国以后，气候开始转冷，加上人为捕猎的因素，犀牛一再南迁，最终在中国境内不再有它们的踪迹。

以下叙述不符合文意的是（ ）

- A. 犀牛曾与麋鹿同时在我国生存
- B. 犀牛要在温暖湿润的地方生存
- C. 过度捕猎是导致犀牛南迁的主要因素
- D. 中国古人曾经因为军事用途捕猎犀牛

27. 劳动力总量大、成本低，曾是“中国制造”的比较优势。但随着人口结构的变化，这一优势正在不断

消减。按照联合国的标准，65岁以上的人口比率超过总人口的7%，就被称为老龄化社会；超过14%，就是老龄社会。中国实际上在2001年就已经进入了老龄化社会。近年来东南沿海中小型制造企业的“用工荒”已经凸显出这一人口结构变化带来的问题。

这段文字重在说明（ ）

- A. 老龄化社会与老龄社会的标准如何确定
- B. 老龄化社会将使中国企业劳动力供给不足
- C. 中国东南沿海地区已首先步入了老龄社会
- D. 人口结构变化会影响“中国制造竞争力”

28. 海洋微生物大多是海洋的生产者，参与海洋物质生产、传递、沉降、分解和转化的过程，为海洋植物的生存提供良好的环境和资源。除此之外，多数海洋微生物具有分解有机物质的能力，能将有机物分解成氨、硝酸盐以及二氧化碳等，为海洋植物提供营养物，对海洋无机营养再生起了重要作用。海洋中具有光合作用的微生物能利用简单无机物合成有机物和氧，有利于其他生物生存。

关于海洋微生物的作用，这段文字未涉及的是（ ）

- A. 参与海洋的物质循环
- B. 保护海洋的生态平衡
- C. 促使海洋的富营养化
- D. 维护海洋的食物链

29. 研究发现，人们看待互联网的方式，就像看待交换记忆系统的人类伙伴。人们把记忆分摊给“云端”，就像分摊给家人、朋友一样轻而易举。但是，互联网又跟交互记忆系统的人类伙伴不一样——云端知道得更多，而且能更快提取信息。现今几乎所有信息都能轻易通过快速的网络搜寻取得。互联网不只降低了把信息分享给人类伙伴的必要性，或许也减低了人们想把刚学到的重要事情存进自己大脑记忆库里的渴望。

这段文字意在说明（ ）

- A. 互联网和我们的关系近于亲友伴侣
- B. 互联网正成为我们的外部记忆资源
- C. 互联网带来了云端这样的信息大全
- D. 互联网使得人类不再认为记忆重要

30. 很多疾病的患病风险，除了自身基因以外，还有非常重要的环境因素，所以单由基因来决定疾病的风险也是不负责任的。综合这些原因，美国FDA叫停了这类疾病风险分析服务。作为个人，如何看待“风险分析”的结果是见仁见智的事情。有些人希望了解，从而提前预防，有些人觉得哪怕知道了风险也不会改变自己的生活方式。

美国FDA叫停根据基因做疾病风险分析服务的主要原因是（ ）

- A. 很多疾病患病风险是由环境因素引起的
- B. 根据基因分析患病风险是不负责任的行为
- C. 某种疾病的产生并非单纯由基因决定的
- D. 有人并不希望提前知道自己有患病风险

31. 文字是人类继语言之后的一大发明，如果说，语言的出现使人类实现了由动物到人的转变的话，那么文字的发明，则使人类从原始社会的低级阶段上升到文明社会的高级阶段，从而使人们的生活发生了质的飞跃。

这段文字主要强调的是（ ）

- A. 人类使用的语言和文字不是同时出现的
- B. 文字发明前人类处于原始社会低级阶段

- C. 文字在人类社会发展历史上具有重要作用
- D. 文字是人类社会处于高级阶段的显著标志

32. 改革开放和市场经济扩展了农民的视野和接触空间，但经过潜移默化、世代相传而积淀的心理结构和文化传统并没有变化。大量研究表明，不仅留在农村从事农业生产劳动的农民仍然在延续着以己为中心、以亲情关系为纽带的差序格局，而且进城务工的农民工在很大程度上也保持着乡村社会的行为方式和思维方式。

这段文字意在说明（ ）

- A. 进城务工农民仍然保持着乡村社会生活方式
- B. 农民的乡村社会行为和思维方式很难一下子改变
- C. 留守农民和进城农民的心理结构及文化传统是相同的
- D. 进城务工农民应该尽快转变行为方式和思维方式

33. 说到食品安全的治理，人们首先想到的是，中国依然是一个发展中国家，各个方面的制度建设不够完善。面对现实，人们自然而然地将问题引向法律法规制度、政府监管体系、社会治理机制的完善。这一指向当然是正确的，政府也沿着这些方向做了许多努力。但是这类治理方案的一个问题是，“远水解不了近渴”。

作者引用“远水解不了近渴”想要表达的意思是（ ）

- A. 中国短时期之内无法真正解决食品安全问题
- B. 相关法律及机制建设不是短时间内可以完成的
- C. 作为发展中国家要解决食品安全问题难度极大
- D. 想解决食品安全问题必须做好长期工作的准备

34. 现代经济学作为市场经济制度的基本理论基础，非常注重引入自然科学的研究方法、分析框架来研究社会经济行为和现象，强调从假设到推理到结论的内在逻辑，强调用数学方法和数理模型作为基本逻辑分析工具，强调以数理统计和计量经济学为基础的实证，具有很强的应用性、实证性和自然科学性，与其他人文社会科学有很大的不同。

这段文字主要说明的是（ ）

- A. 现在经济学的研究方法与其他人文社会科学有很大不同
- B. 现代经济学是一门以实证研究为基础的社会科学
- C. 数学方法数理模型在研究经济问题时有重要作用
- D. 自然科学的很多研究方法可以用于人文社会科学研究中

35. ①西汉时期的扬雄就提出了“书为心画”，这个观念深入人心
 ②明代汤显祖写的《牡丹亭》里面，柳梦梅则透过自画像上的题字风格来想象杜丽娘的灵心慧性
 ③元代王实甫的戏剧《西厢记》中，张君瑞曾通过书信的字迹揣摩崔莺莺的心态
 ④在中国，自古以来人们普遍认为字迹就是心迹
 ⑤这两个戏剧情节反映了社会大众对于字迹的普遍认识

将以上5个句子重新排列，语序正确的是（ ）

- A. ①③②⑤④
- B. ④①③②⑤
- C. ④②③①⑤
- D. ①②③⑤④

二、文章阅读。阅读下面文章，回答问题。本题共有五道题，每道题提供四个选项，要求你从中选出最恰当的一项，你的选择必须与题干要求相符合。

从大蒜、生姜，到香蕉、菠萝，在农产品价格的暴跌中，农民很受伤。订单农业作为以销定产的重要手段，

对稳定农产品价格、确保农民合理收益、抵御市场价格风险具有一定的作用。然而，经调查发现，订单农业在实际运行过程中却因为部分农民契约意识差、恶意违约而变得难以推行，这反过来又伤害了商户和农民。

作为抵御农产品价格周期波动的重要机制，订单农业一度被各方寄予厚望。然而近些年的实践表明，这一理想化的风险平抑工具，远远未能发挥预想中的作用。不少农民契约意识 _____，动辄毁约，一次次使得一纸购销合同_____。轮番上演的单方面毁约事件，不仅让相关企业蒙受了巨大损失，也让农民群体本身付出了惨痛代价。

众所周知，农业生产天然存在着滞后性和长周期性，这决定了农民很难及时、准确地安排生产过程。也正因此，农产品价格才会出现“周期怪圈”的现象。而所谓订单农业，其核心逻辑就在于“以销定产”。倘若严格执行，这一模式将有效实现供需平衡，避免由生产不足或过剩而引发价格巨震。令人遗憾的是，现实中一些农民受眼前利益驱动，往往会选择性执行购销合同，这无异于亲手解除了“自我保护”的机制。

现如今，订单农业所面临的困境，很大程度上还是源于“小农心理”作祟。农民群体中的很大一部分人，并不熟悉商品社会的那套契约体系和交易方式，而且对违约行为的性质和后果也缺乏完整的认知。再加上大多数的涉农购销合同，都不具备必要的担保机制和强制执行的可能。一旦农民单方面撕毁合同，企业顾忌于超高的催收成本，往往也只能听之任之。

没有“履约保证金”作保，没有追责索赔渠道兜底，订单农业以及相关产销合同，当然没有任何约束力可言，对此已有学者提出，要加强农村征信体系建设。可是在此之前，我们最先应该做的，还是改变分散化、个性化的农业生产模式：将孤立的农业生产者，吸收进组织化的专业生产合作社中，吸收进金融惠农和科技惠农的扶持体系之内——只有让他们处于更为紧密的人际网络和利益结构之内，其才会更为重视个人诚信的价值。

当反思订单农业所面临的尴尬遭遇时，我们往往将矛头指向农民契约精神的缺失。试问，有没有一套合理的议价机制，能够保证农民可以获得一个相对实惠的合同收购价？又有没有一种动态的博弈平台，来回应农民由短期市场行情所产生的利益关切？相较于培育农民的信用意识，建立真正公平合理的市场定价和交易体制，对于发展订单农业同样至关重要。

36. 依次填入文章第二段画横线部分最恰当的是（ ）

- A. 薄弱 形同虚设
- B. 孱弱 灰飞烟灭
- C. 缺乏 化为乌有
- D. 缺少 徒有虚名

37. 订单农业一度被各方寄予厚望的根本原因是（ ）

- A. 订单农业可使农民与商户谈判时确保收益
- B. 订单工业能帮助解决农业生产不可预期性
- C. 订单农业可使农民预先知道农产品价格
- D. 订单农业可使农产品供需平衡价格平稳

38. 关于订单农业购销合同缺乏约束力的原因，作者特别强调的是（ ）

- A. 农民不熟悉商品社会的契约体系和交易方式
- B. 农民对违约行为的性质和后果没有充分认识
- C. 大部分农民的合同没有保障执行的担保机制
- D. 企业因索赔代价太高放弃追究违约行为

39. 下列选项在文中未涉及的是（ ）

- A. 应将订单农业与金融惠农科技惠农对接
- B. 加强相关培训提升订单农户的契约意识

- C. 破解订单农业困局应该加强农村征信体系建设
D. 改变现有农业生产模式有助于破解订单农业困局

40. 下列最适合做文章标题的是 ()

- A. 订单农业困局伤害了谁
B. 订单农业发展面临多重困难
C. 订单农业困局的真相
D. 如何走出订单农业困局

三、逻辑填空。从题后所给的四个选项中选出最符合文意的一项。

41. 现代白话文与文言文的区别只是语体的不同，但它们使用的象形表意的方块字，作为中华民族文化的独特创造，其中_____的民族精神、民族生命是血脉_____的。

依次填入画横线部分最恰当的一项是 ()

- A. 蕴含 贯通
B. 沉积 相通
C. 呈现 流通
D. 体现 连通

42. 很多体育运动都可以提高民族自豪感，但足球比赛的效果更为_____。在赛场上，有太多国家标志的体现——赛前的国歌、队服的颜色，更不用说看台上_____的球迷阵营。

依次填入画横线部分最恰当的一项是 ()

- A. 明显 黑白分明
B. 突出 泾渭分明
C. 显著 与众不同
D. 明确 标新立异

43. 读书有两种情形，一种是看大意，_____地看故事消磨时间；一种是细细品味，去_____寻找文章的构思，寻找文外的寓意。这就是读书的两种不同的方式和目的。不过，不管是哪一种读书方式都是一种知识的积累。

依次填入画横线部分最恰当的一项是 ()

- A. 走马观花 字斟句酌
B. 囫囵吞枣 字里行间
C. 一目十行 全神贯注
D. 漫不经心 片言只语

44. 统计学家告诉我们，买一张彩票正好中大奖的概率_____——比如说，英国国家彩票的中奖概率大概就只有 1400 万分之一，相当于你连续投 24 次硬币全是正面朝上，远远低于被_____的陨石砸中的可能性。

依次填入画横线部分最恰当的一项是 ()

- A. 微不足道 祸从天降
B. 绝无仅有 不期而至
C. 不可多得 不期而遇
D. 微乎其微 从天而降

45. 当前，在_____、积淀丰厚而又背负着沉重历史包袱的中国文学研究不断面临学科交融、学术创新的_____挑战之际，建立中国文学地理学这一新兴交叉学科，具有重要的理论与实践意义。

依次填入画横线部分最恰当的一项是 ()

- A. 历史悠久 严酷
- B. 源远流长 严峻
- C. 年深日久 严肃
- D. 历久弥新 严厉

46. 人口迁移改变了中国城乡的人口格局，以最_____的方式推动了移民城市的形成，这一城市形态与传统的_____城市在性质上有着本质的区别。

依次填入画横线部分最恰当的一项是（ ）

- A. 直接 地域
- B. 一般 地方
- C. 简单 地区
- D. 基本 区域

47. 以和为贵、_____的精神，贯穿中华民族发展的全部历史，渗透在社会生活的方方面面，使我们不同族群、不同地域的不同文化，不断地相互吸取、相互融合，形成了_____、丰富多彩的中华文化。

依次填入画横线部分最恰当的一项是（ ）

- A. 和睦相处 无与伦比
- B. 谦顺礼让 不绝如缕
- C. 和而不同 博大精深
- D. 守望相助 兼收并蓄

48. 北京有大量历史文化保护区，它们是古都北京的文化_____，而位于北京历史城区中轴线西侧的什刹海区域，更是以宁静而优雅的环境、自然与人文的和谐_____。

依次填入画横线部分最恰当的一项是（ ）

- A. 特色 举世闻名
- B. 特征 远近闻名
- C. 标志 著称于世
- D. 指标 为人称道

49. 自然是神奇美妙的。自然文学的作者_____在读者面前的，是含有风景、声音及心绪的多维画面。这三者相互交织，相辅相成，形成了自然文学的独特之处，也_____出独特的审美情趣和美学价值。

依次填入画横线部分最恰当的一项是（ ）

- A. 展现 引申
- B. 呈现 衍生
- C. 描摹 演化
- D. 描绘 发展

50. 多名全国人大代表提出议案，建议修订我国土地管理法，兼顾土地的资源与资产双重_____，坚持物权平等保护_____，提高_____补偿标准。

依次填入画横线部分最恰当的一项是（ ）

- A. 特征 规定 征用
- B. 要素 法案 征调
- C. 标准 措施 征集
- D. 属性 原则 征收

51. 他们笔下的中国古建筑测绘图，一方面_____了西方建筑学制图手法的西方古典主义美学精神，另一

方面又创造性地_____了中国传统工笔和白描的技巧，更好地呈现出中国古建筑独特的美感，这在世界建筑史经典著作的插图中也可谓_____。

依次填入画横线部分最恰当的一项是（ ）

- A. 秉承 融入 独树一帜
- B. 沿袭 引进 绝无仅有
- C. 接受 发扬 别具一格
- D. 承袭 发挥 可圈可点

52. 人类成为万物之灵的主要条件是发展了语言。语言是最基本的信息_____，文字、传声技术和电脑提高了语言的_____功能，国家共同语和国际共同语扩大了语言的_____范围。

依次填入画横线处最恰当的一项是（ ）

- A. 符号 交际 交换
- B. 手段 形象 使用
- C. 载体 传播 流通
- D. 工具 互动 言说

53. 文学翻译，尤其是经典文学的翻译，是特别专业的事情，需要锲而不舍的_____、旁征博引的考证和_____的付出才能做好。可惜绝大多数读者没有认识到这一点，他们当中有些人甚至对文学翻译有一种_____的傲慢与偏见。

依次填入画横线处最恰当的一项是（ ）

- A. 追求 长年累月 理所当然
- B. 追寻 不离不弃 自以为是
- C. 求索 持之以恒 根深蒂固
- D. 探求 聚精会神 前所未有

54. 哥白尼所发动的这一场天文学革命，_____了中世纪以来的神学权威，_____起科学的理性精神，_____了一整套观察、实验与思考的方法，由此为西方近代科学的产生奠定了基础。

依次填入画横线处最恰当的一项是（ ）

- A. 质疑 成立 发现
- B. 铲除 确立 建成
- C. 挑战 树立 形成
- D. 打破 建立 发展

55. 导演在摄影方法的运用上，_____近景和特写，而采取长镜头、中远景和深焦镜头的拍摄，这种方法的运用，可说是与法国电影理论家巴赞的主张_____的。它不但会使画面气势更加雄伟，同时也使表演区域的造型形象更为清晰和更具真实感，从而使影片每个镜头都好像一幅幅中国画卷，给人们以特殊的美感并留下冷静思考的_____。

依次填入画横线部分最恰当的一项是（ ）

- A. 舍弃 不谋而合 余地
- B. 摒弃 一拍即合 痕迹
- C. 摒除 遥相呼应 余味
- D. 丢弃 一脉相承 轨迹

第三部分 数量关系

(共 15 题, 参考时限 15 分钟)

一、数字推理。给出一个数列, 缺少其中一项, 要求你仔细观察数列的排列规律, 从四个选项中, 选择最合适的一项, 使之符合原数列的排列规律。

56. 23, 1, -5, 5, 31, ()

- A. -11
- B. 47
- C. 73
- D. 83

57. 2, 3, 6, 18, 108, ()

- A. 1944
- B. 1620
- C. 1296
- D. 1728

58. 4.1, 4.3, 12.1, 12.11, 132.1, ()

- A. 120.8
- B. 124.12
- C. 132.131
- D. 132.12

59. $-\frac{7}{2}, -1, -\frac{1}{8}, \frac{1}{8}, \frac{5}{32}, ()$

- A. $\frac{7}{64}$
- B. $\frac{7}{32}$
- C. $\frac{1}{8}$
- D. $\frac{5}{16}$

60. 4, 5, 7, 16, 80, ()

- A. 296
- B. 423
- C. 592
- D. 705

二、数学运算。通过运算, 选择最合适的一项。

61. 小王打靶共用了 10 发子弹, 全部命中, 都在 10 环、8 环和 5 环上, 总成绩为 75 环, 则命中 10 环的子弹数是 ()

- A. 1 发
- B. 2 发
- C. 3 发
- D. 4 发

62. 某一楼一户住宅楼共 17 层, 电梯费按季交纳, 分摊规则为: 第一层的住户不交纳; 第三层及以上的住

户，每层比下一层多交纳 10 元。若一季度该住宅楼某单元的电梯费共计 1904 元，则该单元第 7 层住户一季度应交纳的电梯费是（ ）

- A. 72 元
- B. 82 元
- C. 84 元
- D. 94 元

63. A、B 两个容器装有质量相同的酒精溶液，若从 A、B 中各取一半溶液，混合后浓度为 45%；若从 A 中取 $\frac{1}{2}$ 、B 中取 $\frac{1}{4}$ 溶液，混合后浓度为 40%。若从 A 中取 $\frac{1}{5}$ 、B 中取 $\frac{4}{5}$ 溶液，则混合后溶液的浓度是（ ）

- A. 48%
- B. 50%
- C. 54%
- D. 60%

64. 某单位有 72 名职工，为丰富业余生活，拟举办书法、乒乓球和围棋培训班，要求每个职工至少参加一个班。已知三个班报名人数分别为 36、20、28，则同时报名三个班的职工数至多是（ ）

- A. 6 人
- B. 12 人
- C. 16 人
- D. 20 人

65. 甲、乙两人用相同工作时间共生产了 484 个零件，已知生产 1 个零件甲需 5 分钟、乙需 6 分钟，则甲比乙多生产的零件数是（ ）

- A. 40 个
- B. 44 个
- C. 45 个
- D. 46 个

66. 设正整数 a、b、c，满足 $a < b < c$ ，且 $ab + ac + bc = abc$ ，则 c 的值是（ ）

- A. 4
- B. 5
- C. 6
- D. 9

67. 小车和客车从甲地开往乙地，货车从乙地开往甲地，它们同时出发，货车与小车相遇 20 分钟后又遇客车。已知小车、货车和客车的速度分别为 75 千米/小时、60 千米/小时和 50 千米/小时，则甲、乙两地的距离是（ ）

- A. 205 千米
- B. 203 千米
- C. 201 千米
- D. 198 千米

68. 玻璃厂委托运输公司运送 400 箱玻璃。双方约定：每箱运费 30 元，如箱中玻璃有破损，那么该箱的运费不支付且运输公司需赔偿损失 60 元。最终玻璃厂向运输公司共支付 9750 元，则此次运输中玻璃破损的箱子有（ ）

- A. 25 箱

- B. 28 箱
- C. 27 箱
- D. 32 箱

69. 两公司为召开联欢晚会，分别编排了 3 个和 2 个节目，要求同一公司的节目不能连续出场，则安排节目出场顺序的方案共有（ ）

- A. 12 种
- B. 18 种
- C. 24 种
- D. 30 种

70. 某公司管理人员、技术人员和后勤服务人员一月份的平均收入分别为 6450 元、8430 元和 4350 元，收入总额分别为 5.16 万元、33.72 万元和 5.22 万元。则该公司这三类人员一月份的人均收入是（ ）

- A. 6410 元
- B. 7000 元
- C. 7350 元
- D. 7500 元

第四部分 判断推理

（共 40 题，参考时限 40 分钟）

一、类比推理。本部分共 10 题，包括三种类型的题目。

（一）先给出一组有某种关系的词或词组，请你从四个选项中选出正确的一项，使其关系与题干给出的词或词组的关系最为相似。

71. 兔：青草

- A. 蚕：桑叶
- B. 狗：老鼠
- C. 鱼：河水
- D. 虫：小鸡

72. 中山陵：金陵

- A. 城隍庙：寺庙
- B. 青海湖：青海
- C. 碧云天：青天
- D. 钱塘江：长江

73. 文物：建筑

- A. 烹饪：佐料
- B. 故宫：楼房
- C. 诗人：教授
- D. 皮鞋：布鞋

74. 聪明：耳聪目明

- A. 长安：长治久安
- B. 卑鄙：卑微鄙陋
- C. 悲愤：悲痛愤怒
- D. 辨症：辨别症候

75. 眼睛：鼻子：五官

- A. 西湖：东湖：五湖
- B. 五律：五绝：五言诗
- C. 父子：夫妇：五伦
- D. 五音：五色：五线谱

76. 学生：学霸：学习

- A. 军人：军官：卫国
- B. 房奴：孩奴：还贷
- C. 白领：金领：管理
- D. 女士：护士：护理

（二）请从四个选项中选出正确的一项，使得该项的两个词或词组依次代入题干的括号中，能够最大限度地满足题干所表达的类比关系。

77. 医患关系 之于 () 相当于 师生关系 之于 ()

- A. 理解 原谅
- B. 紧张 活泼
- C. 信任 平等
- D. 医闹 旷课

78. 丝绸之路 之于 () 相当于 万里长征 之于 ()

- A. 敦煌 遵义
- B. 骆驼 草鞋
- C. 沙漠 海洋
- D. 贸易 解放

(三) 请从四个选项中选出正确的一项, 使其特征或规律与题干给出的一串符号的特征或规律最为相似。

79. &\$aaY\$&Y

- A. Y&\$aa\$Y&
- B. \$&Y Yaa\$&
- C. \$&a\$Y&Y Y
- D. aa\$\$Y&aY

80. +-x-÷++

- A. ÷+-+-÷÷
- B. ÷+-+×÷÷
- C. +x-÷-++
- D. x-÷-÷××

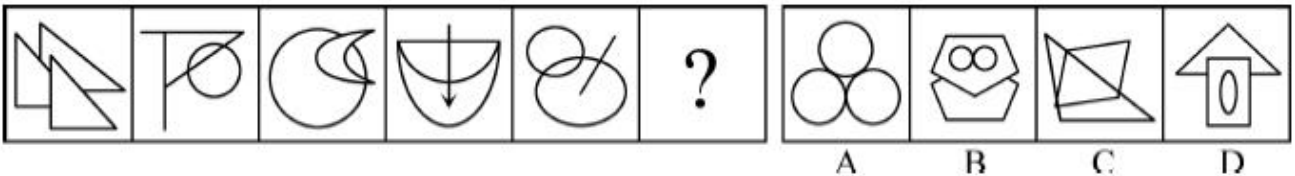
二、图形推理。本部分共 10 题, 包括三种类型的题目。

(一) 每道题在左边的题干中给出一套图形, 其中包括五个图, 这五个图呈现一定的规律性。在右边给出一套图形, 其中有四个图, 从中选出唯一的一项作为保持左边五个图规律性的第六个图。

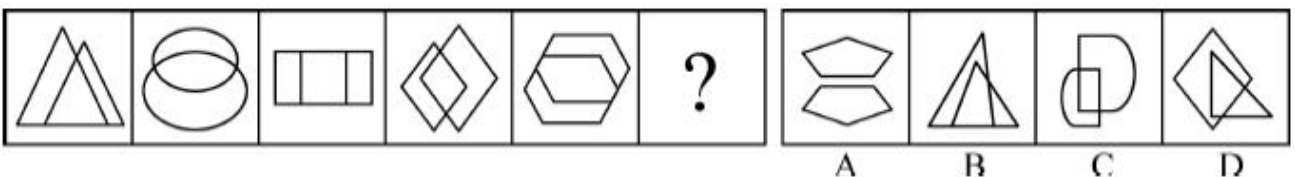
81.



82.

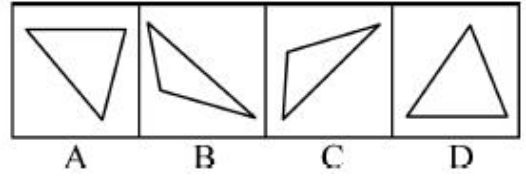
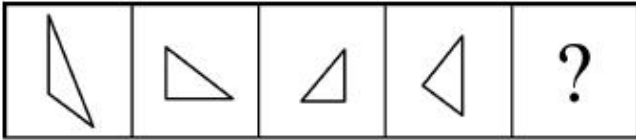


83.

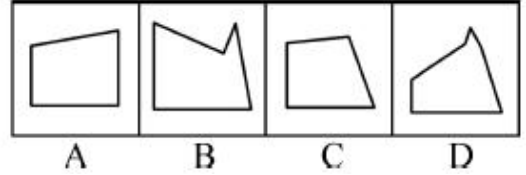
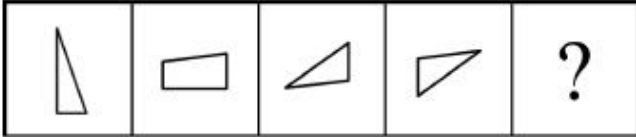


(二) 右边四个图形中, 只有一个是左面的四个图形拼合(只能通过上、下、左、右平移)而成的, 请把它找出来。

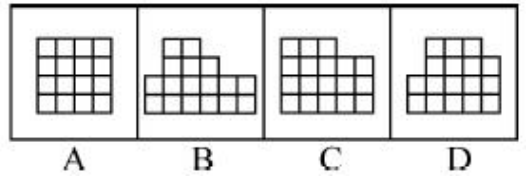
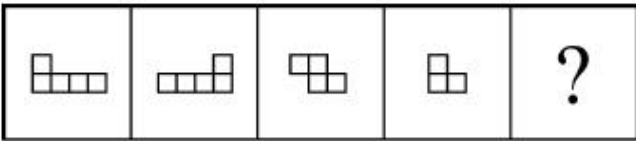
84.



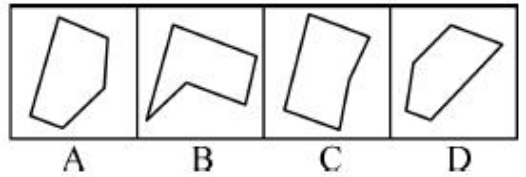
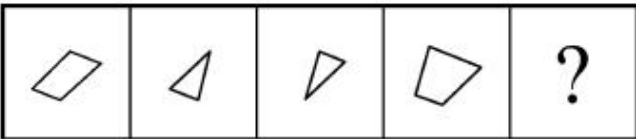
85.



86.

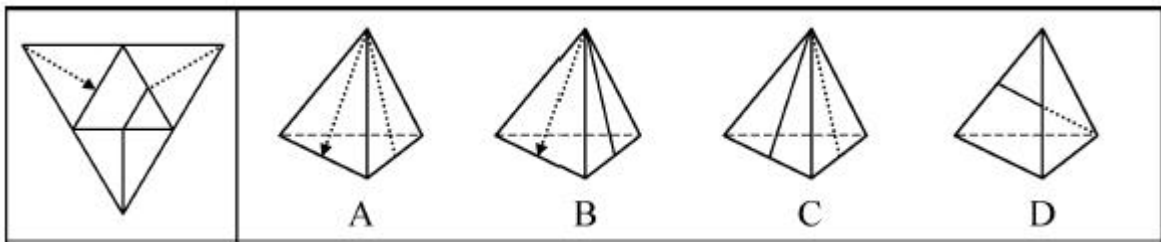


87.

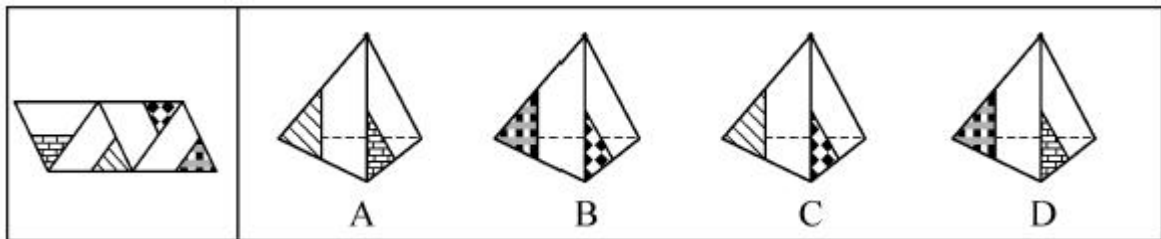


(三) 左边给定的是纸盒外表面的展开图，右边哪一项能由它折叠而成？请把它找出来。

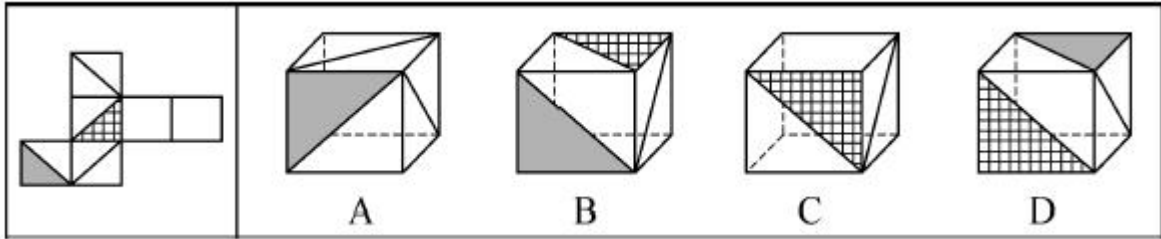
88.



89.



90.



三、逻辑判断。每道题给出一段陈述，假设这段陈述是正确的、不容置疑的。请你根据这段陈述，选择一个答案。注意：正确的答案不需要任何附加说明即可以根据陈述必然推出。

91. 茶叶是中国人喜爱的健康饮品。一般人将茶叶冲泡饮用几次之后，就将喝剩的茶叶倒掉。某专家对此指出，其实茶叶中能够溶解于水的物质是有限的，大量有营养的物质仍然保留在茶叶中，白白倒掉实在可惜，人们应该将喝剩的茶叶吃掉。

以下哪项如果为真，最能反驳该专家的观点（ ）

- A. 茶叶中许多没有营养的物质也不能溶于水
- B. 茶叶中含有茶叶碱和微量元素，可以提神醒脑
- C. 一般人喝茶已成为习惯，并非为了吸收营养物质
- D. 很多人将喝剩的茶叶留下来做茶饼、茶叶蛋等

92. 甲、乙、丙、丁、戊 5 人近期均到一座大型购物美食广场打工。她们打工的商家有家用电器店、服装店、药店、馄饨店、拉面馆，每人各去一家。每人开始打工的时间各不一样，分别是去年的 3 月、4 月、5 月、6 月、7 月。已知：

- (1) 甲是厨师，她在一家小吃店顺利找到工作；
- (2) 乙去了服装店，但她开始打工的时间比甲晚 3 个月；
- (3) 丙与去家用电器店打工的人是同乡，5 人中她开始打工的时间最晚；
- (4) 丁比戊开始打工的时间早，她去的是药店。

根据以上信息，可以得出以下哪项（ ）

- A. 3 月份甲开始到馄饨店打工
- B. 5 月份戊开始到家用电器店打工
- C. 6 月份丁开始到药店打工
- D. 7 月份丙开始到拉面馆打工

93. 将东西方两位戏剧大师的生平经历、文学造诣及身后影响作对比，是一个有趣的话题，有专家认为，将汤显祖称作“东方的莎士比亚”有很大的问题，因为无论是就人格的魅力，还是就文本美感而言，汤显祖都是不逊于莎士比亚的。

以下哪项最可能是上述专家观点所包含的假设（ ）

- A. 汤显祖的人格魅力及其文本的美感均高于莎士比亚
- B. 汤显祖在西方的影响要大于莎士比亚在东方的影响
- C. 汤显祖和莎士比亚都不愿意别人用他人的名字来称呼自己
- D. “东方的威尼斯”是逊色于真正的威尼斯的

94. 对于小李、小王和小苗能否考取研究所，有以下 4 种猜测：

- (1) 小李能考取；
- (2) 要是小王能考取，那么小苗也能考取；
- (3) 或者小王能考取，或者小李能考取；

(4) 小王能考取。

事后证明，这 4 种猜测中只有一种是对的。

根据以上信息，可以得出以下哪项 ()

- A. 小李考取了
- B. 小苗没有考取
- C. 小苗考取了
- D. 小李没有考取

95. 老张：你在这儿摆摊设点属于占道经营！

小王：这儿是中山北路又不是中山北道，我占的什么道？

以下哪项与上述对话方式最为相似 ()

- A. 甲：你这种执法行为一点人情味都没有！
乙：我严格执法是为了保障人民群众的生命财产安全。
- B. 甲：你成天打游戏是在虚度年华！
乙：我只有在游戏中才觉得年华没有虚度。
- C. 甲：你工作时间不能抽烟！
乙：我抽烟时从不工作。
- D. 甲：你这种说法是栽赃陷害！
乙：你这种说法是血口喷人！

96. 某专家对已故诺贝尔经济学奖得主的寿命进行统计，发现他们的平均寿命是 85 岁，其中超过 90 岁的占多数，还有不少过百岁的，去世时年龄最小的也高达 74 岁。该专家由此认为，获得诺贝尔经济学奖能使人长寿。

以下哪项如果为真，最能削弱上述专家的观点 ()

- A. 诺贝尔经济学奖只颁给在世的学者，这一颁奖规则对已经长寿的学者极为有利
- B. 获得诺贝尔奖能带来功成名就的巨大身心愉悦，而愉悦的身心状态可延年益寿
- C. 宏观经济学之父凯恩斯年仅 63 岁就去世了，很遗憾他没有获得诺贝尔经济学奖
- D. 获得诺贝尔物理学奖的学者寿命也很长，但他们都没有获得过诺贝尔经济学奖

97. 某单位的孔、陈、孟、刘 4 人需要分配到甲、乙、丙、丁 4 个村庄开展扶贫工作，每人各去一个村庄。

根据工作需要，分配满足如下条件：

- (1) 若孔去甲村庄，则刘去丁村庄；
- (2) 要么陈去乙村庄，要么孟去丙村庄，两者仅有一项成立；
- (3) 孟去丁村庄。

如果上述条件均得到满足，则可以得出以下哪项 ()

- A. 孔去丙村庄，刘去甲村庄
- B. 孔去甲村庄，刘去丙村庄
- C. 孔去丙村庄，刘去乙村庄
- D. 孔去乙村庄，刘去丙村庄

98~100 题基于以下题干：

暑假到了，父亲、母亲、儿子、女儿一行 4 人驾车去旅行。小汽车前排坐两人（一人当司机），后排也坐两人。4 人各有不同爱好：音乐、体育、摄影、书法，所学专业也各不相同：数学、历史、逻辑、物理。已知：

- (1) 儿子学物理；

(2) 母亲酷爱音乐;

(3) 学逻辑的摄影爱好者与女儿分两排斜向而坐。

98. 如果儿子坐在司机斜后方, 则可以得出以下哪项 ()

- A. 父亲是司机
- B. 母亲是司机
- C. 儿子是司机
- D. 女儿是司机

99. 如果爱好摄影的人坐在前排, 则以下除了哪项其他均是可能的 ()

- A. 父亲是司机
- B. 母亲是司机
- C. 儿子是司机
- D. 女儿是司机

100. 如果学历史的人不爱好音乐, 则可以得出以下哪项 ()

- A. 父亲学历史, 爱好摄影
- B. 母亲学数学, 爱好音乐
- C. 儿子学物理, 爱好体育
- D. 女儿学历史, 爱好书法

四、定义判断。每道题先给出定义, 然后列出四种情况, 要求你严格依据定义, 从中选出一个最符合或最不符合该定义的答案。注意: 假设这个定义是正确的, 不容置疑的。

101. 斜杠青年: 指不满足于从事单一职业, 追求拥有多重职业身份及多元生活方式的年轻人。他们在自我介绍时往往喜欢用斜杠来区分自己的不同身份, 如: 张三, 金牌律师/企划师/专栏作家。

下列属于斜杠青年的是 ()

- A. 最近两三年, 八零后导演黄某先后出演了 10 多次男配角, 去年在一个著名的国际电影节上斩获了最佳男配角奖
- B. 小丁在国外获得博士学位后, 任职于国内一所著名高校, 因科研成就突出, 被破格聘为教授, 并入选省“双百”人才计划
- C. 某公司程序员小陈爱好广泛, 性格温和, 人际关系融洽, 节假日常邀上三五个好友一起登山、打球、游泳
- D. 李总做过保安, 送过快递, 当过安装工, 开过小杂货店, 他经常自豪地向员工讲述自己 30 多年来丰富的职业经历

102. 影子工作: 指消费者使已购商品变为可用物品所付出的任何劳动。

下列属于影子工作的是 ()

- A. 小孙到饭店就餐, 老板告诉他, 这几天大部分服务员都已经放假, 顾客需要自己点餐, 并递给他一支笔和一张菜单
- B. 小李的儿子快出生了, 他赶紧抽时间将同事老王给的婴儿车拿出来修理一番, 车子焕然一新, 十分好用
- C. 经不住软磨硬泡, 爸爸终于答应给小明买两条金鱼, 小明高兴坏了, 连夜在网上收集了十几页的金鱼养殖攻略
- D. 将拼板餐桌从商场运回家后, 老冯忙乎了半天, 对照安装说明, 拆了装, 装了拆, 终于组装成功, 中午就派上了用场

103. 价值自认：指人们常常高估自己行为的价值，并从中获得快乐和美感。

下列属于价值自认的是（ ）

- A. 小张毕业后刚到工作单位，幸运地分到了一套单身公寓。他花了半个月把房间布置得像新房一样，每天一走进去，心里就乐开了花
- B. 小星在校园机器人竞赛中获得一等奖后，他的父亲老吴整天乐呵呵的，逢人就夸儿子多么多么优秀
- C. 谢先生的成名曲一夜走红后，很快就跨入影视圈出演了多部电视剧，虽然观众反响平平，他却一直对自己的演技充满自信
- D. 老赵的作品获得了省书法协会二等奖，同事们纷纷前来向他表示祝贺，他暗下决心：明年一定争取拿到更高的奖项

104. 随机试验：指在同一条件下会出现多种可能结果且可以重复进行的试验；试验的所有可能结果虽预先可知，但每次具体试验的结果却无法预知。

下列属于随机试验的是（ ）

- A. 将一壶淡水加热到沸腾，观察其状态变化的试验
- B. 在狮子身上安装定位设备了解其生活习性的试验
- C. 为检测某辆新款汽车的安全性能所做的撞击试验
- D. 抛一枚硬币观察带有数字的一面朝上次数的试验

105. 临时救助：指家庭或个人遭遇突发事件、意外伤害、重大疾病等变故，基本生活陷入困境时，政府有关部门提供的应急性、过渡性救助。

下列属于临时救助的是（ ）

- A. 80岁的李大爷无儿无女，独自生活，社区工作人员定期到他家中探望，把每月的养老金交到他手上，还时不时地送来一些生活用品
- B. 老张患上了强直性脊柱炎，巨额医疗费花光了积蓄，夫妻名下的房子也变卖了，一家三口只得暂住在街道办为他们租来的小房子里
- C. 地震发生后，社会各界积极响应市政府号召，通过多种渠道捐款捐物，很快就筹集了大批物资并分发了灾民手中
- D. 老赵在几年前的一次车祸中失去了左腿，从那以后再也不能外出工作，每月数百元的低保金就成了家里主要的经济来源

106. 渐进式退休：指员工到了法定退休年龄，用人单位根据实际工作需要对部分人员灵活确定退休时间。

下列属于渐进式退休的是（ ）

- A. 马教授临近退休年龄，因为他是国内最具影响力的学者之一，对学科发展作出了重大贡献，学校决定聘任他为终身教授
- B. 赵先生已经到了退休年龄，但是他主持的重大攻关项目还没有结题，他所在的研究所决定聘用他继续工作，直到项目完成
- C. 近年来，李工程师的身体状况越来越糟糕，还患上了轻度的抑郁症，无法坚持工作，公司领导经过研究，决定让他提前退休
- D. 某研究机构决定，从下半年开始，本单位申请提前退休的职工，初、中级职称不低于54岁，高级职称不低于58岁

107. 创伤后成长：指一个人在经历重大的生活挫折之后发生的积极性改变。

下列属于创伤后成长的是（ ）

- A. 一名车祸幸存者说，事故之后她能更主动地掌控自己的生活

- B. 在多次丢失手机以后，小张照看自己的随身物品比以前细心多了
- C. 在同事突然撒手人寰后，小刘深感生命脆弱，开始坚持健身锻炼
- D. 赴震区考察归来后，王工程师对建筑物防震设计有了更深刻的认识

108. 地块经济：指大量的同质化制造加工小企业集中在一个相对小的区域内，形成比较完整的产业链的区域经济发展模式。

下列不属于地块经济的是（ ）

- A. 义乌小商品闻名遐迩，是国内规模最大的小商品生产和批发基地之一。在那里，各种各样的小商品可以说应有尽有
- B. 桂林一年四季都挤满了来自全国各地的游客，当地的饭店、宾馆、旅游用品商店、出租车公司一个个都赚得盆满钵满
- C. 嵊州堪称“中国领带之乡”，每年生产领带3亿条，出口1.6亿条，在国内、国际市场分别占了90%、60%以上的份额
- D. 亳州素有“药都”的美誉，每天都有无数商家从四面八方来到这里，运送药材的车队常常是一眼望不到头

109. 新乡贤：指长期扎根农村，利用自己的知识、技术、财富为村民热心服务并作出突出贡献，在当地社会生活及民众心目中具有较高威望和影响力的乡村人士。

下列属于新乡贤的是（ ）

- A. 10多年来，老李虽然一直在外经商，但他时时惦念着家乡，每年都会捐出大量资金为家乡修桥铺路，资助家乡的特困大学生完成学业，乡亲们经常千里迢迢地跑来看望他
- B. 小张复员后回到家乡，两三年就成了远近闻名的“养殖大王”，为了带动乡亲们共同致富，他开办了多期培训班，免费传授实用养殖技术和经验，受到了大家的称赞
- C. 20多年来，某市商会会长孙先生利用自己长期积累的丰富经验，为经营各种农副产品的家乡村民牵线搭桥，指导他们寻找商机，被乡亲们誉为贴心的“诸葛亮”
- D. 某乡村小学校长程某退休后，利用自己学生多、关系广的优势，为挖掘家乡历史文化资源、发展乡村文化旅游业积极谋划、东奔西走，被乡亲们传为佳话

110. 咕咚效应：由于谣言传播而导致的集体无意识恐慌蔓延的现象，源自童话《咕咚来了》，讲述木瓜落进湖中后响起的“咕咚”声在动物中以讹传讹引发恐慌的故事。

下列属于咕咚效应的是（ ）

- A. 某市去年房价暴涨，老李看到自己辛苦上班多年还不如别人买一套房一转手赚得多，担心房价继续飙涨，对自己的资产贬值感到恐慌，认为买房可以增值保值，于是忍不住加入到抢房的行列
- B. 英国脱欧公投结果出来后，由于担心一旦脱欧后在英国的金融机构会无法再获得欧盟的“单一护照”，在伦敦设立欧洲总部的银行纷纷计划撤离，不少外资银行开始准备迁往巴黎、法兰克福、柏林等地
- C. 某网络大V杜撰“来自自来水的避孕药”博文，声称由于药物滥用，自来水中的避孕药含量过高，且无法通过常规的净化装置过滤，弄得人心惶惶，许多家庭担心饮水安全，纷纷抢购瓶装水
- D. 网上疯传一则“硅油可致脱发并易致癌”的文章，披露市面上的洗发水九成含有硅油。微商小郑借机在朋友圈推销自制的天然皂角手工皂和茶籽洗发水，受到了推崇健康生活、回归自然者的追捧

第五部分 资料分析

（共20题，参考时限20分钟）

下列给出的文字、表格、图形资料均有五个问题要你回答，你应根据资料提供的信息进行分析、计算、处

理，然后从备选答案中选择一个最恰当的答案。

一、根据以下资料，回答 111~115 题。

2016 年某市一次有关市民邻里关系的调查显示，在受访的 951 位市民中，“没有邻居”的有 6 位。“有邻居”的受访市民中，对邻居表示“了解”的占 55.8%（“了解”分“很了解”和“部分了解”，占比分别为 26.9% 和 28.9%），其余的表示“不了解”；对邻里关系表示“满意”的占 88.4%（“满意”分为“很满意”和“比较满意”，占比分别为 20.1%和 68.3%），“不满意”的占 7.8%，其余不愿表态，对邻里关系感到“满意”和“不满意”的主要原因分别见图 1 和图 2。

图 1 对邻里关系感到“满意”的主要原因（单选）

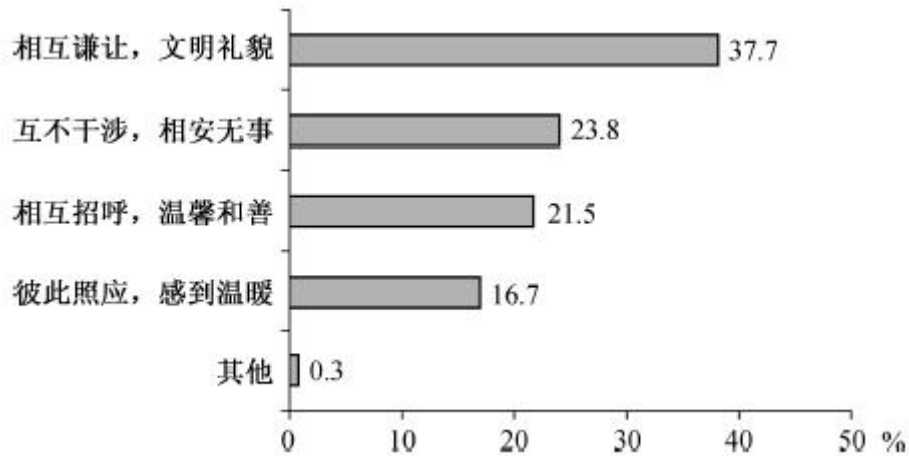
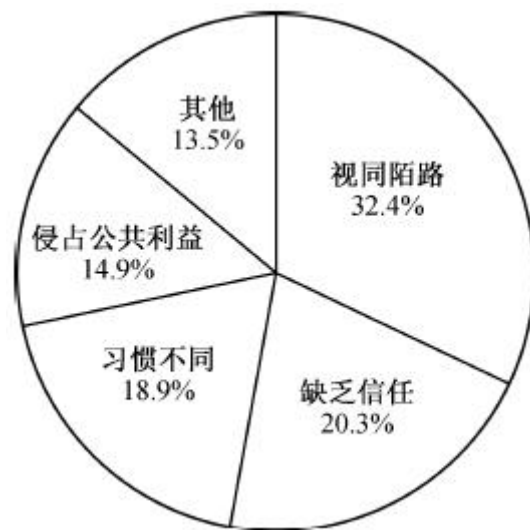


图 2 对邻里关系感到“不满意”的主要原因（单选）



111. 受访市民中，“不了解”邻居的有（ ）

- A. 275 人
- B. 365 人
- C. 412 人
- D. 418 人

112. 对邻里关系感到“不满意”的受访市民中，主要原因是“视同陌路”的占比比“习惯不同”多几个百分点（ ）

- A. 13.5 个百分点
- B. 15.7 个百分点
- C. 17.5 个百分点

D. 18.9 个百分点

113. “有邻居”的受访市民中，感到“比较满意”的人数比“很满意”的多多少人（ ）

- A. 402 人
- B. 455 人
- C. 458 人
- D. 470 人

114. 在感到“满意”的受访市民中，主要原因为“相互谦让，文明礼貌”的受访市民是“彼此照应，感到温暖”受访市民的多少倍（ ）

- A. 1.6 倍
- B. 1.8 倍
- C. 2.3 倍
- D. 3.1 倍

115. 下面判断正确的是（ ）

- A. 有 531 位受访市民“了解”邻居
- B. 超过 20%的受访市民因感到与邻居“缺乏信任”而对邻里关系“不满意”
- C. 对邻里关系感到“很满意”的受访市民数不及“比较满意”市民数的三分之一
- D. 对邻居表示“了解”的受访市民中，对邻里关系感到“很满意”的超过三分之一

二、根据以下资料，回答 116~120 题。

2014~2015 年全国医院病人门诊和住院费用情况

项 目	医 院							
			公立医院					
					三级医院		二级医院	
	2014	2015	2014	2015	2014	2015	2014	2015
次均门诊费用（元）	220.0	233.9	221.6	235.2	269.8	283.7	176.0	184.1
按当年价格上涨（%）	6.6	6.3	6.6	6.1	5.1	5.2	5.9	4.6
按可比价格上涨（%）	1.5	4.9	4.5	4.7	3.0	3.7	3.8	3.2
人均住院费用（元）	7832.3	8268.1	8290.5	8833.0	12100.2	12599.3	5114.6	5358.2
按当年价格上涨（%）	5.2	5.6	5.5	6.5	3.2	4.1	2.9	4.8
按可比价格上涨（%）	3.2	4.1	3.4	5.1	1.2	2.7	0.9	3.3
日均住院费用（元）	811.9	861.8	843.8	903.1	1132.4	1024.6	581.5	605.4
按当年价格上涨（%）	7.4	6.1	7.8	7.0	6.7	6.4	5.2	4.1
按可比价格上涨（%）	5.3	4.7	5.7	5.6	4.6	4.9	3.2	2.7

注：①费用均值按当年价计算；②次均门诊费用指门诊病人次均医药费用，人均住院费用指出院病人住院期间人均医药费用，日均住院费用指出院病人住院期间日均医药费用。

116. 2014 年全国医院次均门诊费用按当年价格计算比 2013 年多（ ）

- A. 13.6 元
- B. 14.5 元
- C. 16.6 元
- D. 18.1 元

117. 2015 年全国公立三级医院人均住院费用比公立二级医院多 ()

- A. 1.1 倍
- B. 1.4 倍
- C. 1.7 倍
- D. 2.0 倍

118. 2014~2015 年全国医院次均门诊费用, “按当年价格上涨” 不同于 “按可比价格上涨” 的幅度, 主要影响因素是 ()

- A. 就诊人数
- B. 统计误差
- C. 计算方法
- D. 通货膨胀

119. 2015 年全国公立二级医院出院病人人均住院天数是 ()

- A. 7 天
- B. 9 天
- C. 11 天
- D. 13 天

120. 下列判断正确的是 ()

- A. 2015 年全国公立二级医院日均住院费用不足公立三级医院的一半
- B. 2014~2015 年全国医院次均门诊费用、人均住院费用和日均住院费用按可比价格计算年增幅均未超过 5%
- C. 2015 年全国公立医院、公立三级医院、公立二级医院日均住院费用按当年价格计算增幅均低于 2014 年
- D. 无论按当年价格还是可比价格计算, 2015 年全国公立三级医院次均门诊费用、人均住院费用和日均住院费用增幅均高于 2014 年

三、根据以下资料, 回答 121~125 题。

2005 年我国 GDP 为 184937 亿元人民币, 主要能源生产总量为 228.9 百万吨标准煤, 主要能源为原煤、原油、天然气和水风核电, 分别生产 177.2 百万吨标准煤、25.9 百万吨标准煤、6.6 百万吨标准煤和 19.2 百万吨标准煤。“十一五” “十二五” 时期我国主要能源生产情况见下表。

2006~2015 年我国主要能源生产情况

单位: 百万吨标准煤

年份	原煤	原油	天然气	水风核电
2006	189.7	26.4	7.8	20.8
2007	205.5	26.7	9.2	22.7
2008	213.1	27.2	10.8	26.4
2009	219.7	26.9	11.4	28.0
2010	237.8	29.0	12.8	32.5
2011	264.7	28.9	13.9	32.7
2012	267.5	29.8	14.4	39.3

2013	270.5	30.1	15.8	42.3
2014	266.3	30.4	17.0	48.1
2015	261.0	30.8	17.7	52.5

121. 2011~2015 年我国主要能源生产总量年增加最少的年份是 ()

- A. 2015 年
- B. 2014 年
- C. 2013 年
- D. 2012 年

122. 自 2016 年起, 若我国水风核电年产量均按 2006~2015 年平均增速增长, 则 2025 年我国水风核电产量将为 ()

- A. 84.2 百万吨标准煤
- B. 85.8 百万吨标准煤
- C. 132.5 百万吨标准煤
- D. 143.6 百万吨标准煤

123. 2015 年我国非原煤主要能源产量之和占主要能源生产总量的比重与 2005 年相差 ()

- A. 4.3 个百分点
- B. 5.3 个百分点
- C. 6.3 个百分点
- D. 7.3 个百分点

124. 2006~2015 年我国原煤产量年增长率超过 10% 的年份个数有 ()

- A. 0 个
- B. 1 个
- C. 2 个
- D. 3 个

125. 下列判断正确的是 ()

- A. 2005 年我国单位 GDP 能耗为 12.38 万吨标准煤/亿元人民币
- B. “十二五”时期, 我国原煤产量比“十一五”时期增长超过 30%
- C. 2015 年我国水风核电产量占主要能源生产总量的比重比上年有所提升
- D. 2011~2015 年我国原油、天然气和水风核电总产量均逐年增加

四、根据以下资料, 回答 126~130 题。

在以 2015 年 11 月 1 日零时为标准时点进行的全国 1% 人口抽样调查中, 江苏最终样本量占全省常住人口总数的 0.94%。调查显示: 2015 年 11 月 1 日零时江苏常住人口为 7973 万人, 同以 2010 年 11 月 1 日零时为标准时点进行的第六次全国人口普查相比, 增加 107 万人, 增长 1.36%。

全省常住人口中, 0~14 岁人口为 1064 万人, 占 13.35%; 15~64 岁人口为 5910 万人, 占 74.13%; 65 岁及以上人口为 999 万人, 占 12.53%。同第六次全国人口普查相比, 0~14 岁人口的比重上升 0.34 个百分点, 15~64 岁人口的比重下降 1.97 个百分点, 65 岁及以上人口的比重上升 1.64 个百分点。

全省常住人口中, 大专及以上学历文化程度人口为 1230 万人, 高中(含中专)文化程度人口为 1356 万人; 初中文化程度人口为 2741 万人; 小学文化程度人口为 1744 万人。

126. 以 2015 年 11 月 1 日零时为标准时点进行的 1% 人口抽样调查中, 江苏最终样本量为 ()

- A. 75 万人
- B. 79 万人

- C. 82 万人
D. 86 万人
127. 2010 年第六次全国人口普查时, 江苏 0~14 岁人口比重比 65 岁及以上人口 ()
- A. 少 0.48 个百分点
B. 少 2.12 个百分点
C. 多 0.48 个百分点
D. 多 2.12 个百分点
128. 两次调查的 5 年间, 江苏常住人口中 65 岁及以上人口增加 ()
- A. 142 万人
B. 107 万人
C. 116 万人
D. 99 万人
129. 2015 年 11 月 1 日零时江苏常住人口中, 高中 (含中专) 及以上文化程度人口占 ()
- A. 15.43%
B. 17.01%
C. 32.43%
D. 41.66%
130. 下列说法不正确的是 ()
- A. 两次调查的 5 年间, 江苏常住人口年平均增加 21 万人
B. 两次调查的 5 年间, 江苏常住人口中 15~64 岁人口下降了 1.97%
C. 两次调查的 5 年间, 江苏常住人口中 65 岁及以上人口的增长率高于其他年龄段
D. 2015 年 11 月 1 日零时江苏常住人口中, 小学文化程度以下 (不含小学) 人口为 902 万人

2017 年江苏省录用公务员考试《行政职业能力测验》真题卷 (C 类) 参考答案与解析

1. 【解析】D。文化自信, 就是一个民族、一个国家以及一个政党对自身文化传统的深刻认知和高度自觉, 是对自身文化身份和价值的充分肯定和积极践行, 是对其文化生命力和影响力所持有的坚定信心。文化自信具有鲜明的民族特色和价值色彩。因此 D 项当选。

2. 【解析】A。A 项, 这些年我国农业现代化虽有长足发展, 但与迅速推进的工业化、城镇化相比仍然滞后, 成为现代化建设的突出“短板”。因此 A 项当选。B 项, 偷换主体, 三农问题是社会主义现代化建设的重中之重, 而不是农业现代化, 且“最重要”表述过于绝对, 错误。C 项, 表述过于绝对, 农业现代化并非实现全面建成小康社会目标的决定因素, 错误。D 项, 足够的财力显然表述不当。

3. 【解析】C。C 项出自孔子《论语·子路》, 意思是: 自身品行端正了, 即使不发布命令, 老百姓也会去实行; 若自身品行不端正, 即使发布命令, 老百姓也不会服从, 体现领导者以身作则, 率先垂范, 发挥模范带头的榜样作用, 正确, 当选。

A 项出自《元史·列传六十二·张养浩传》, 意思是: (张养浩) 一直住在官府, 晚上便向上天祈祷, 白天就出外救济灾民, 一天到晚没有丝毫的懈怠。体现领导者为国为民、鞠躬尽瘁的精神, 错误。

B 项出自《论语·为政》, 意思是: (周君) 以道德教化来治理政事, 就会像北极星那样, 自己居于一定的方位, 而群星都会环绕在它的周围。体现儒家治国采取德治的基本原则, 错误。

D项出自《孟子·梁惠王下》，意思是：执政者如果以顺应民众的快乐为快乐，民众就会为执政者的快乐而快乐；如果把民众的忧苦当做自己的忧苦，民众也会为执政者的忧苦而忧苦。体现执政者要与民众同甘苦共呼吸，才会受到民众的拥护和爱戴，错误。

4. 【解析】B。生物食物链是指各种生物通过一系列吃与被吃的关系（捕食关系）彼此联系起来的序列，这正体现了马克思主义哲学中联系的观点。而“猫—田鼠—花蜂—三叶草—羊”就是一个由于生物之间的捕食关系而彼此联系起来的生物食物链。B项符合，当选。

5. 【解析】B。B项，“兼相爱，交互利”是墨家的核心思想，意思是爱是相互的，利也是相互的。正确，当选。

A项，“道法自然”出自《老子》，为老子的哲学思想，而不是孔子的主张。错误。

C项，“夫子之道，忠恕而已矣”出自《论语》，忠恕之道是孔子及儒家的重要思想。错误。

D项，“阴阳者，天地之道也”出自《黄帝内经·素问·阴阳应象大论》，指以阴阳学说指导医疗的应用和实践。韩非是法家学派的代表人物。错误。

6. 【解析】A。题干中的伟人是指十九世纪法国伟大的军事家、政治家拿破仑，其统治时期共主持制定了举世瞩目的五大法典，包括民法、商法、民事诉讼法、刑法、刑事诉讼法，其中题干中所说到的就是著名的《法国民法典》。因此A项当选。

7. 【解析】A。A项，根据《居民身份证法》第9条规定：“香港同胞、澳门同胞、台湾同胞迁入内地定居的，华侨回国定居的，以及外国人、无国籍人在中华人民共和国境内定居并被批准加入或者恢复中华人民共和国国籍的，在办理常住户口登记时，应当依照本法规定申请领取居民身份证。”不符合规定，当选。

B项，根据《居民身份证法》第14条规定：“有下列情形之一的，公民应当出示居民身份证证明身份：（一）常住户口登记项目变更……”，符合规定。

C项，根据我国铁路部门的规定，旅客购票时或购票后、乘车前因有效身份证件未携带、丢失等原因无法出示有效证件时，可以至车站铁路公安制证口办理临时乘车身份证明。办理时，须符合下列条件之一，并携带一寸照片一张：（1）出具所在地公安机关的户籍证明信……该项符合规定。

D项，根据《居民身份证法》第15条规定：“人民警察依法执行职务，遇有下列情形之一的，经出示执法证件，可以查验居民身份证：……（四）在火车站、长途汽车站、港口、码头、机场或者在重大活动期间设区的市级人民政府规定的场所，需要查明有关人员身份的……”，符合规定。

8. 【解析】B。一米线，其主要功能是维护个人的隐私，兼有维护公共秩序，保持公众距离的作用。而在机场和银行等服务窗口设置一米线主要是防止顾客个人信息或储户密码等被偷看，起到保护顾客隐私的作用。因此B项当选。

9. 【解析】C。①出自唐韩愈的《湘中》，诗中描写的汨罗江在湖南岳阳。②出自唐杜甫的《白帝》，诗中描写的白帝城位于重庆奉节县瞿塘峡口的长江北岸，奉节东白帝山上。③出自唐孟浩然的《鹦鹉洲送王九之江左》，诗中描写的地点位于湖北武汉。④出自明高启的《登金陵雨花台望大江》，诗中描写的地点位于今江苏南京。因此按从上游至下游排序应为②①③④，C项当选。

10. 【解析】A。A项，俄罗斯是世界上面积最大的国家，但并不是内陆国家，世界上面积最大的内陆国家是哈萨克斯坦。说法错误，当选。B项，世界面积最大的洲是亚洲。总面积4400万平方公里，占世界陆地面积的三分之一。同样亚洲也是世界上人口最多的洲，其人口占据世界人口一半以上。正确。C项，澳大利亚大陆面积为769万平方公里，是世界的6个大陆中面积最小的一个，而且只有澳大利亚一个国家。正确。D项，南极洲是世界上平均海拔最高的大洲，平均海拔2350米。世界最小的大洋是北冰洋，面积只有1478.8万平方千米。正确。

11. 【解析】D。纸上谈兵这一典故出自《史记·廉颇蔺相如列传》，战国时赵国名将赵奢之子赵括，年

轻时学兵法，谈起兵事来父亲也难不倒他。后来他接替廉颇为赵将，在长平之战中，只知道根据兵书办，不知道变通，结果被秦军大败。A、B、C 三项均对应正确，D 项当选。

12. 【解析】C。①延安精神：1942 年 12 月由毛泽东正式提出，但其精神内涵形成和发展时期为 1935~1948 年。②西柏坡精神：1949 年 3 月，毛泽东在西柏坡召开的中共七届二中全会上提出。③井冈山精神：诞生于 1927 年土地革命时期的井冈山根据地。④古田会议精神：于 1929 年 12 月在福建省龙岩市上杭县古田召开的第九次党的代表大会上提出。按照时间先后顺序为③④①②。因此 C 项当选。

13. 【解析】C。粉尘爆炸需要可燃性粉尘达到一定浓度、存在充足的氧气等助燃物以及有火源或剧烈震动摩擦三个燃烧的必要条件。此外，空间受限也会加剧粉尘爆炸的危险。正确组合应为①③④，因此 C 项当选。

14. 【解析】D。D 项，算盘不仅可以进行加减乘除四则运算，还可以进行开方乘方。说法错误，当选。

A 项，联合国教科文组织曾介绍说，珠算是中国古代的重大发明，以简便的计算工具和独特的数理内涵，被誉为“世界上最古老的计算机”。正确。

B 项，使用算盘和珠算，除了运算方便以外，还有锻炼思维能力的作用，因为打算盘需要脑、眼、手的密切配合，通过听（看）、拨、说，可以锻炼“五觉”协调能力，是锻炼大脑的一种好方法。正确。

C 项，我国传统算盘为上二下五珠，上面一粒表示“5”，下面一粒表示“1”，在用算盘进行计算时采用“五升十进制”，即每一档“满 5”时便用一粒上珠表示，每一档满“10”时便向前一档“进 1”。正确。

15. 【解析】A。A 项，汽车后视镜利用光的反射原理观察车后情况，同时利用凸面镜对光有发散作用的原理，可以扩大视野，从而更好地注意到后方车辆的情况。错误，当选。

B 项，色散是指在光学中，对于不同的波长，介质的折射率也不同，这令白光在折射时，不同颜色的光线分开。雨天水雾笼罩着路灯，灯光发射出来，被雨雾折射（也就是发生了色散），从而形成五颜六色的光环。正确。

C 项，偏振式 3D 技术是利用光线有“振动方向”的原理来分解原始图像的，这样人的左右眼就能接收两组画面，再经过大脑合成立体影像。正确。

D 项，当人长时间地呆在较黑暗的环境中，瞳孔为适应视觉需要而放大，这时如果闪光灯的位置与人的眼睛一般高低，被摄者又是正面对着镜头。那么在拍摄时，闪光灯的强光就会直射视网膜，其红色的反射光就很有可能进入相机的拍摄视角，从而产生“红眼”。正确。

16. 【解析】C。从总体来看，目前中国在参与规则制定方面还是一个初学者。因此 C 项表述中国在世界经济体系中拥有绝对的话语权是错误的，当选。

17. 【解析】A。A 项，市场经济中，供给与需求相互影响相互制约，如果商家能够精准掌握消费者需求，生产出满足消费者偏好的产品，那么就可以占据较大的市场份额，从而形成卖方市场，使产品成为畅销产品。说法正确，当选。

B 项，市场细分有利于选择目标市场和制定市场营销策略，有利于集中人力、物力投入目标市场等，但是因为针对每个不同的市场要有不同的产品线、不同的宣传营销方式等，市场细分会导致企业的生产成本上升，错误。

C 项，对于两种物品，如果一种物品价格的上升引起另一种物品需求的增加，则这两种物品被称为替代品。装有放大镜的指甲钳的功能依然是修剪指甲，与剪刀的功能并不相同，所以不是剪刀的替代品，错误。

D 项，使用价值是能满足人们某种需要的商品的效用，如粮食能充饥，衣服能御寒。指甲钳装上放大镜，方便老年人使用，但其本质依然是指甲钳，功能是修剪指甲，使用价值并没有发生转变，错误。

18. 【解析】D。D 项，该句出自唐代诗人王维《江上赠李龟年》，为怀念友人之作，正确，当选。A 项，该句出自汉乐府《上邪》，是一首感情强烈，气势奔放的爱情诗，错误。B 项，该句出自金、元之际著名文学家元好问的《摸鱼儿·雁丘词》。全词紧紧围绕“情”字，以雁拟人，谱写了一曲凄恻动人的爱情悲歌，错误。

C项，该句出自唐代诗人元稹的《离思五首》。诗人运用“索物以托情”的比兴手法，以精警的词句，赞美了夫妻之间的恩爱，抒写了诗人对亡妻韦丛忠贞不渝的爱情和刻骨的思念，错误。

19. 【解析】D。五禽戏是中国传统导引养生的一个重要功法，其创编者为华佗。五禽戏是通过模仿虎、鹿、熊、猿、鸟（鹤）五种动物的动作，以保健强身的一种气功功法。2011年6月五禽戏被纳入第三批国家非物质文化遗产名录。因此D项说法错误，当选。

20. 【解析】D。A、B、C三项均属于遭受挫折后找理由降低自身挫败感，符合定义。D项，小马感觉领导利用职权公报私仇并没有降低自身挫败感，也无法恢复心理平衡，不属于“合理化”方法，不符合定义，当选。

21. 【解析】C。文段首先介绍当代中国各类规则浩如烟海的背景，接着通过“但是”提出重点内容，即最重要的规则体系就是“国家法律体系”和“党内法规体系”，最后通过举出十八届四中全会的例子进一步强调“形成完备的法律规范体系和完善的党内法规体系”的重要性，因此后文也必然是围绕文段引出的这两个核心概念进行阐述。A、B两项与尾句重点话题无关，排除。D项仅提到“党内法规体系”，未涉及“国家法律体系”，表述片面，排除。因此C项当选。

22. 【解析】D。文段首先指出未必人人都适合晨练，后文通过并列进行多角度分述，先是提到早上6点到10点，患有冠心病、高血压的人进行剧烈运动可能发生意外，接着又指出清晨6点到8点这个时间段运动可能会使心脑血管堵塞率增大，因此文段强调的是晨练的强度和要因因人而异，对应D项。A项“弊大于利”属于无中生有，排除。B项“6点到8点之间”、C项“剧烈运动”分别对应文段分述的部分，表述片面，均排除。因此D项当选。

23. 【解析】D。A项，由“有机材料除了……从生物中直接获取的材料”可知与文意相符，排除。B项，由“除了石器之外，全是依靠人类智慧使已知物发生化学变化之后创造出的新材料”可知，石器并非新材料，而是原生态材料，与文意相符，排除。C项，由“无机材料发展出了陶瓷、瓷器、金属、玻璃等人造材料”可知，陶瓷和金属是人造的无机材料，与文意相符，排除。D项，文段没有提到人造材料取代有机材料的说法，为无中生有，且“全面取代”表意过重，当选。

24. 【解析】D。A项，根据“宋锦尽显文人雅士之韵”可知，符合文意，排除。B项，根据宋锦“始产于南宋高宗年间”可知，宋锦得名与年代相关，排除。C项，根据“明清以后织出的宋锦称为‘仿古宋锦’或‘宋式锦’，统称‘宋锦’”，可推知明清后仍有锦缎被称为“宋锦”，排除。D项，“宋锦的工艺水平远高于蜀锦”属于无中生有。因此D项当选。

25. 【解析】A。根据文段的第一句话可知，当下学子们的就业观念发生了重大变化，由传统的社会就业观向科学的事业发展观转变。文段的第二句话通过反问的句式重点阐述乡村也应该是未来学子选择就业的重要发展方向。故而，文段意在强调的是乡村同样能够实现学子们的择业梦想，对应A项。B项是文段的背景陈述内容，排除。C、D两项表述不明确，均排除。因此A项当选。

26. 【解析】C。A项，根据“犀兕麋鹿满之”可知正确，排除。B项，由文意可知，温暖湿润的地方分布有许多犀牛，气候转冷犀牛则南迁，所以犀牛要在温暖湿润的地方生存。该项正确，排除。C项，文段中对犀牛南迁的原因指出了两点，分别是气候转冷以及人类捕猎，而C项中只提到了过度捕猎这一原因，并且文段中也无法得出这一原因是犀牛南迁的主要因素，不符合文意，当选。D项，由楚国人捕猎犀牛制作犀甲可知正确，排除。

27. 【解析】D。文段开头提出观点，即人口结构的变化使“中国制造”的优势正在消减，之后进行详细说明，并举例指出人口结构变化对沿海企业的影响，对应D项，当选。A、C两项未体现出老龄化社会这一人口结构变化会带来何种影响，即未体现出文段的重点内容，排除。B项，时态表述为将来式，而文段中最后一句论述“该问题已经凸显”，该项时态表述有误，排除。

28. 【解析】C。A项，由首句可知正确，排除。B项，由文段可知，海洋微生物能够为海洋植物提供环境和资源，利于其他生物生存，所以能够保护海洋生态的平衡。该项正确，排除。D项，由文段可知，海洋微生物能够分解有机物，为海洋植物提供营养物，对海洋无机营养再生起重要作用，所以能够维护海洋的食物链。该项正确，排除。C项，富营养化是一种氮、磷等植物营养物质含量过多所引起的水质污染现象。文段并没有提及海洋微生物能够造成海洋的富营养化。因此C项当选。

29. 【解析】B。文段首先提出人们看待互联网就像看待交换记忆系统的人类伙伴，接着以“但是”提出互联网让信息传递更广泛、快捷，几乎所有信息都能快速通过网络搜寻，即指出互联网降低了信息分享的必要性，也能够帮助人们记忆重要信息，最后进行补充说明，对应B项。A项属于文段转折之前的内容，非文段重点，排除。C项“带来了云端”并非是文段的重点内容，重点内容是“云端”带来的影响，排除。D项说法过于绝对，文段意在说明互联网能够帮助人们记忆信息、成为人们的外部记忆资源，而并非是使人们认为记忆不重要，排除。因此B项当选。

30. 【解析】C。由文段首句“很多疾病的患病风险，除了自身基因以外，还有非常重要的环境因素”可知，美国FDA叫停这一服务的主要原因是疾病的产生并非单纯由基因决定的。因此C项当选。

31. 【解析】C。文段首先指出“文字是人类继语言之后的一大发明”，而后将语言和文字对人类的不同影响进行对比，强调文字对于人类社会的作用：使人类上升到文明社会的高级阶段，从而使人们的生活发生了质的飞跃，对应C项。A项对应首句的表述，非文段重点，文段重在强调文字对于人类社会的作用，排除。B项“文字发明前”非文段重点，文段强调文字发明之后产生的影响，排除。D项“人类社会处于高级阶段”对应尾句“从而”之前的内容，非文段重点，且“显著标志”属于无中生有，排除。因此C项当选。

32. 【解析】A。文段重点在“但”之后，强调的是农民的心理结构和文化传统没有变化，而不是其行为和思维方式，因此排除B、D两项。C项，“留守农民和进城农民”的相同之处不是文段论述的重点，排除。因此A项当选。

33. 【解析】B。这一俗语出现在文段最后一句话，用“但是”引出这类治理方案“远水解不了近渴”。这类治理方案指代前文完善法律制度及相关机制这一解决方案，即说明了相关法律制度和机制建设并非短时间内可以完成，对应B项。A、C、D三项表述不明确，都未涉及“相关法律及机制建设”这种具体解决方式，且A、C两项过于消极，排除。因此B项当选。

34. 【解析】A。文段主要强调的是现代经济学引入了自然科学的研究方法，所以与其他人文社会科学有很大的不同。A项当选。

35. 【解析】B。观察选项，对比首句。④句中“在中国，自古以来”表示范围广、时间跨度大，并以“人们普遍认为”提出观点，为常见首句形式。而①句中提到的“西汉时期”扬雄的观念，恰好是④句中“自古以来”历史长河中的一部分，按照观点+解释说明的顺序，④句应在①句之前，排除A、D两项。观察尾句，由⑤句“这两个戏剧情节”可知，⑤句前要提到两部戏剧，③②两句中的《西厢记》《牡丹亭》恰好为两部著名戏剧，应与⑤句进行捆绑，排除C项。因此B项当选。

36. 【解析】A。第一空，与“意识”搭配，B项“孱弱”意为瘦小虚弱，常搭配“身体”，排除。第二空，文段是在说农民契约意识淡薄，毁约使得合同效力丧失，A项“形同虚设”指形式上虽有，却不起作用，符合文意，当选。C项“化为乌有”指全部消失或完全落空，程度过重，排除。D项“徒有虚名”是指空有名望、有名无实，多是形容人，不能形容合同，排除。

37. 【解析】D。根据第二段中“作为抵御农产品价格周期波动的重要机制，订单农业一度被各方寄予厚望”，以及第三段中“倘若严格执行，这一模式将有效实现供需平衡，避免由生产不足或过剩而引发价格巨震”可知，订单农业一度被各方寄予厚望的根本原因在于其对“农产品价格”的平衡起到重要作用，对应D项。A、B两项均未提到“农产品价格”，排除。C项中“预先知道农产品价格”属于无中生有且脱离客观实际，排除。

因此D项当选。

38. 【解析】C。定位文章第五段“没有‘履约保证金’作保，没有追责索赔渠道兜底，订单农业以及相关产销合同，当然没有任何约束力可言”可知，作者认为合同缺乏约束力最主要的原因是缺乏制度的保障，只有C项提及了担保机制，当选。A、B两项虽在文段当中提及，但并非作者“特别强调”的，排除。D项中这种情况的出现归根结底仍在于“没有保障执行的担保机制”，即制度的不健全更为根本，排除。

39. 【解析】B。A项对应文段“吸收进金融惠农和科技惠农的扶持体系之内”。C项对应文段“加强农村征信体系建设”。D项对应文段“我们最先应该做的，还是改变分散化、个性化的农业生产模式”。B项“加强相关培训提升订单农户的契约意识”为无中生有，当选。

40. 【解析】D。整篇文章采用了提出问题—分析问题—解决问题的思路框架，最终的落脚点放在了“如何走出订单农业困局”上，D项当选。A项“伤害了谁”对应文段第一段的内容。B项“多重困难”对应文段第三段的内容。C项的“真相”为分析原因的部分，均无法概括整个篇章的中心，排除。

41. 【解析】A。第一空，搭配“民族精神、民族生命”，由“其中”可知，民族精神、民族生命是藏在方块字中的。C项“呈现”指事物在眼前显现出来，D项“体现”指某种性质或现象通过某一事物具体表现出来，均指外在的显露，与文意相悖，排除。第二空，搭配“血脉”，说明民族精神与民族生命是一脉相承的。A项“贯通”指连接，通连，强调为同一整体，B项“相通”指彼此沟通、连通，多指两者间联系密切。文段想要强调的是白话文和文言文其本质是一体的，A项更为恰当，当选。

42. 【解析】B。通过分析语境可知，第一空填入的词语强调的是足球比赛的效果比其他体育运动更为特殊，且与“效果”搭配，D项不符合语境，排除。A项的“明显”、C项的“显著”都有明显之意，相较于B项“突出”而言，词义较轻，“突出”强调的是使其比周围其他形象更明确、清晰和与众不同，符合语境。验证第二空，说明的是球迷属于不同的阵营，界线清晰，故用“泾渭分明”。因此B项当选。

43. 【解析】B。通过分析语境可知，填入第一空的词语要表达出粗略的含义，C项“一目十行”指的是阅读速度快，不符合语境，排除。第二空，所填入的词语要能够体现仔细阅读的意思，A项“字斟句酌”指的是说话、写作时的态度谨慎，排除。B项“字里行间”指的是文章的思想感情没有直接说出而是通过全篇或全段文字透露出来，符合语境，当选。D项“片言只语”指的是文字数量少，不符合语境，排除。

44. 【解析】D。第一空，搭配“概率”，横线所填词语应该表达概率“小”的含义，D项“微乎其微”形容非常小或非常少，符合文意。A项“微不足道”指意义、价值等小得不值一提，和“概率”搭配不当，排除。B项“绝无仅有”形容非常稀有，和“概率”搭配不当，排除。C项“不可多得”形容非常稀少，很难得到，多指人才或稀有物品，强调珍贵，和“概率”搭配不当，排除。验证第二空，D项“从天而降”比喻出人意料地突然来临或出现，和“陨石”搭配合理。因此D项当选。

45. 【解析】B。第一空，分析语境可知，所填词语意思要与“积淀丰厚”相似，“积淀丰厚”一词能够体现出一种由少到多的过程，而“历史悠久”“年深日久”强调的仅仅是历史久远，没有体现出“由少到多的过程”，排除A、C两项。D项，“历久弥新”指的是某一事物随着时间的流逝反而更加有活力，不符合文意，排除。将B项代入验证第二空，文段说的是当前中国文学研究面临的形势不容乐观，“严峻”符合文意，因此B项当选。

46. 【解析】A。第一空，搭配“方式”，人口的迁移就是人口在城市间的流动，可以对移民城市的形成产生立竿见影的效果，A项“直接”指不经过中间环节，可以达成显著效果，符合文意。B项“一般”指普通、寻常，C项“简单”指不复杂，D项“基础”指根本，均不符合立刻就能推动移民城市形成的语意，排除。验证第二空，搭配“城市”，应与“移民城市”对应，表意相反，“移民城市”指大多数外来人口移入而形成的城市。A项“地域”指一定的地域空间，具有一定的界限，“地域城市”构成专有名词，强调人口只生活在固定的城市中，与“移民城市”构成反义。因此A项当选。

47. 【解析】C。第一空，横线所填词语应与“以和为贵”构成并列关系，D项“守望相助”指为了对付来犯的敌人或意外的灾祸，邻近各村落互相警戒，互相援助，不符合语境，排除。第二空，横线所填词语应与“丰富多彩”构成并列关系，“丰富多彩”形容内容丰富，“无与伦比”指事物非常完美，不能与“丰富多彩”构成语义一致，且程度过重，排除A项。B项“不绝如缕”形容局势危急或声音细微悠长，不符合语境，排除。C项“博大精深”指广博高深，既和“丰富多彩”形成并列，又与“中华文化”搭配恰当，当选。

48. 【解析】C。第一空，“它们”指代“历史文化保护区”，即横线中所填词语需搭配保护区。“特色”“特征”均指一个事物显著区别于其他事物的风格和形式，文段并未将北京的保护区与其他保护区进行对比，不存在显著的区别，排除A、B两项。C项“标志”是生活中人们用来表明某一事物特征的记号，历史文化保护区是北京的文化记号、文化标志，符合文意。D项“指标”指衡量目标的单位或方法，用来说明总体数量特征的概念，“北京历史文化保护区”无法成为衡量北京文化数量的单位，与文意不相符，排除。验证第二空，C项“著称于世”指在世界上名声很大，符合文意。因此C项当选。

49. 【解析】B。第一空，作为自然文学的作者，所写出来的是文字，因此不能用“描摹”与“描绘”，因为这两个词一般用于作画，排除C、D两项。第二空，所填入的词语应当表示自然文学作者通过对大自然的描写产生出了独特的审美情趣和美学价值。A项，“引申”指的是由原意产生新意，其主体不会改变，排除。B项，“衍生”指的是从一个事物中产生了一个新的事物，符合文意，当选。

50. 【解析】D。第一空，搭配“资源与资产”。“标准”意为衡量的准则，不符合文意，排除C项。B项“要素”指构成事物的必不可少的因素，文中并无构成之意，排除。第二空，搭配“坚持”，D项“坚持原则”为固定搭配，符合文意。A项“规定”，一般搭配为“遵守规定”，排除A项。验证第三空，“土地征收”为固定搭配。因此D项当选。

51. 【解析】A。第一空，搭配“美学精神”，C项“接受”侧重于被动的“承受、采纳”，与“精神”搭配不当，排除。第二空，搭配“技巧”，通过“创造性”可知，这种技巧是之前不常用、新加入的，D项“发挥”意为将原本就有的、内在的东西更好地表现出来，不符合文意，排除。B项“引进”通常指从外地或外国引入，而文段表述的是中国的古建筑绘画运用中国传统工笔白描技巧，不能是“引进”，排除。验证第三空，“独树一帜”意为独特新奇，自成一派，符合文意。因此A项当选。

52. 【解析】C。第一空，由文意可知，横线处所填词语应表达语言能够传递信息，C项“载体”符合文意，指语言可以传递信息。A项“符号”指用于区分某种特征的标识，B项“手段”、D项“工具”指为某种目的采取的方法、措施，均不能体现“语言传递信息”之意，排除。验证后两空，“提高了传播功能”“扩大了流通范围”，均搭配恰当，符合文段语境。因此C项当选。

53. 【解析】C。从第二空突破，搭配“付出”。B项“不离不弃”指永远在身边，不抛弃，不分离；D项“聚精会神”指精神高度集中，均与“付出”搭配不当，排除。第三空，与“傲慢与偏见”搭配，C项“根深蒂固”指基础深厚，不易动摇，形容“傲慢与偏见”的基础牢固，符合文意。A项“理所当然”指按照道理应该是这样，强调根据道理得出结论，与“傲慢与偏见”搭配不当，排除。验证第一空，“锲而不舍的求索”符合文意。因此C项当选。

54. 【解析】C。第一空，与“权威”搭配。由文意可知，横线处所填词语应表达天文学革命对神学权威的影响，A项“质疑”指提出疑问，程度较轻，文段中不仅提出疑问，而且已经发动了革命，排除。B项“铲除”指根除、彻底消灭，程度过重，且与“权威”搭配不当，排除。第三空，由文意可知，横线处所填词语应表达产生了一整套的方法，C项“形成”指变化为某种事物或出现某种情况，侧重于从无到有的过程，符合文意。D项“发展”指事物由小到大、由简单到复杂，文段强调的是从无到有的过程，排除。验证第二空，“树立理性精神”符合文意。因此C项当选。

55. 【解析】A。第一空，搭配“近景和特写”，D项“丢弃”往往搭配实际存在的东西，用于此处搭配

不当，排除。第三空，文段强调这样拍摄的电影能让人们有所思考。B项“痕迹”强调事物留下的印痕或印迹；C项“余味”强调事物的性情未尽。B、C两项均与文段语境不符，排除。将A项代入第二空验证，“不谋而合”意为事先没有商量，彼此的意见、行动却完全一致，符合文意。因此A项当选。

56. 【解析】C。两两作差得：-22，-6，10，26，构成一个公差为16的二级等差数列。则所求项为 $31+(26+16)=73$ ，C项当选。

57. 【解析】A。 $2 \times 3=6$ ， $3 \times 6=18$ ， $6 \times 18=108$ ，……前两项相乘等于下一项，则所求项为 18×108 ，尾数为4，A项当选。

58. 【解析】C。题干出现小数，考虑机械划分。前一项整数部分与小数部分之积为下一项整数部分，前一项整数部分与小数部分之差为下一项小数部分。则所求项整数部分为 $132 \times 1=132$ ，小数部分为 $132-1=131$ ，所求项为132.131。C项当选。

59. 【解析】C。分数数列反约分后得： $\frac{-7}{2}$ ， $\frac{-4}{4}$ ， $\frac{-1}{8}$ ， $\frac{2}{16}$ ， $\frac{5}{32}$ 。分子是公差为3的等差数列，分母是公比为2的等比数列。所求项应为 $\frac{8}{64}=\frac{1}{8}$ 。C项当选。

60. 【解析】D。后项减前项得到新数列：1、2、9、64，出现9和64考虑幂次数列，可将新数列转化为 1^0 、 2^1 、 3^2 、 4^3 ，故新数列的下一项应为 5^4 ，所求项为： $80+5^4$ ，计算尾数为5。D项当选。

61. 【解析】B。设命中10环、8环、5环分别为x、y、z发，列式可得 $\begin{cases} x+y+z=10 \\ 10x+8y+5z=75 \end{cases}$ ，由于10x尾数必为0，要想得到75，5z尾数必为5，即z为奇数。8y尾数必为0，y必须能被5整除。y=5时，符合题意；y≥10时，结果最小也要为80，不符合题意。因此，将y=5代入方程组，解得 $\begin{cases} x=2 \\ z=3 \end{cases}$ 。B项当选。

62. 【解析】D。设二层一季度电梯费为x，则三层电梯费为x+10，以此类推17层电梯费为x+150。则一季度该栋住宅楼某单元的电梯费总和为 $x+(x+10)+\dots+(x+150)=1904$ ，根据等差数列求和公式得到 $\frac{(x+x+150) \times 16}{2}=1904$ ，解得x=44，所以第7层电梯费为 $x+50=44+50=94$ （元）。D项当选。

63. 【解析】C。设A、B酒精溶液的质量均为100g，A中的纯酒精为a克，B中的纯酒精为b克，则根据已知条件可得 $\begin{cases} \frac{\frac{a}{2}+\frac{b}{2}}{50+50} \times 100\% = 45\% \dots \text{①} \\ \frac{\frac{a}{2}+\frac{b}{4}}{50+25} \times 100\% = 40\% \dots \text{②} \end{cases}$ ，由①、②可得：a=30，b=60，则 $\frac{\frac{30}{5}+\frac{60 \times 4}{5}}{20+80} \times 100\% = \frac{6+48}{100} \times 100\% = 54\%$ 。因此C项当选。

64. 【解析】A。三集合问题。设参加两个班的职工数为x人，参加三个班的职工数为y人，可得 $36+20+28-x-2y=72$ 。要使同时报名三个班的职工数y至多，即报名两个班的人数x最少（取0），代入方程得 $84-2y=72$ ，解得y=6（人）。A项当选。

65. 【解析】B。已知“生产1个零件甲需5分钟、乙需6分钟”，甲、乙时间之比为5:6，效率之比即为6:5，即甲每生产6个的同时乙生产5个，因此每合计生产11个，甲就要多生产1个，则 $484 \div 11=44$ ，因此甲比乙多生产44个。B项当选。

66. 【解析】C。特殊值代入法。令a=1，b=2，代入得： $2+c+2c=2c$ ，c=-2，不符合题意。令a=2，b=3，

代入得 $6+2c+3c=6c$, $c=6$ 。C 项当选。

67. 【解析】D。设货车与小车从出发到相遇的时间为 t 小时，总路程为 S 千米。根据迎面相遇模型公式，

$$\text{列式可得} \begin{cases} (75+60) \times t = S \\ (50+60) \times (t+\frac{1}{3}) = S \end{cases}, \text{解得 } S=198 \text{ (千米)。D 项当选。}$$

68. 【解析】A。没有玻璃破损的箱子则需要付 $30 \times 400=12000$ (元)，每有一箱玻璃破损则少付 $30+60=90$ (元)，设此次运输中玻璃破损的箱子有 x 箱，可得 $12000-90x=9750$, $x=25$ (箱)。A 项当选。

69. 【解析】A。要使同一公司的节目不连续，考虑插空法。即在 3 个节目中间形成的两个空里插入另一公司的 2 个节目，安排节目的出场顺序方案有 $A_2^2 \times A_3^3=12$ (种)。A 项当选。

70. 【解析】C。公司管理人员数： $\frac{51600}{6450}=8$ (人)，技术人员数： $\frac{337200}{8430}=40$ (人)， $\frac{52200}{4350}=12$ (人)，则这三类人员的人均收入为 $\frac{51600+337200+52200}{8+40+12}=\frac{441000}{60}=7350$ (元/人)。C 项当选。

71. 【解析】A。对应关系。兔吃青草，蚕吃桑叶。A 项当选。

72. 【解析】B。中山陵位于金陵，金陵是南京的古称，二者为地点的对应关系。A 项，城隍庙是寺庙的一种，二者为种属关系，不符合题干的逻辑关系，排除。B 项，青海湖位于青海，二者为地点的对应关系，符合题干的逻辑关系，当选。C 项，碧云天和青天均指晴天，不符合题干的逻辑关系，排除。D 项，钱塘江和长江为并列关系，都为河流，且钱塘江位于浙江，不符合题干的逻辑关系，排除。

73. 【解析】C。文物和建筑是交叉关系，有的文物是建筑，有的建筑是文物。A 项，烹饪需要佐料，二者为对应关系，排除。B 项，故宫里面有楼房，二者是组成关系，排除。C 项，有的诗人是教授，有的教授是诗人，二者为交叉关系，当选。D 项，皮鞋和布鞋是并列关系，排除。

74. 【解析】C。题干为对应关系。聪明拆开可对应耳聪和目明，指向不同的对象，悲愤拆开可对应悲痛和愤怒，也指向不同的对象。C 项当选。注意 B 项的卑鄙在现代汉语中的词义发生了变化，与卑微鄙陋中的卑鄙含义不同。

75. 【解析】C。题干为组成关系。五官指的就是眉、眼、耳、鼻、口这五种人体器官。五伦，即古人所谓君臣、父子、兄弟、夫妇、朋友五种人伦关系。因此 C 项当选。

76. 【解析】A。题干为对应关系。学生的最主要职责是学习，学霸是学生中能力较强级别较高的；军人的最主要职责是卫国，军官也是军人中级别较高的。因此 A 项当选。

77. 【解析】C。对应关系。医患关系有了信任就会和谐发展，师生关系有了平等也能和谐发展。C 项当选。

78. 【解析】A。A 项，敦煌是丝绸之路的一个途经地点，遵义是万里长征的一个途经地点，前后逻辑关系一致，当选。B 项，万里长征和草鞋之间不存在必然联系，排除。C 项，丝绸之路沿线经过沙漠，但是万里长征没有经过海洋，前后逻辑关系不一致，排除。D 项，丝绸之路的目的是贸易，万里长征的目的是战略转移和北上抗日，而非解放，前后逻辑关系不一致，排除。

79. 【解析】D。A 项第三、四位不相同，排除。B 项第五、六位相同，排除。C 项第三、四位不相同，排除。只有 D 项完全对应，当选。

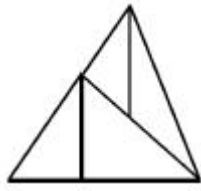
80. 【解析】B。A 项第三、五位相同，排除。B 项完全对应，正确，当选。C 项第二、四位不相同，排除。D 项第三、五位相同，排除。

81. 【解析】B。题干中每个图形均只有一个小孩，B 项对应，当选。

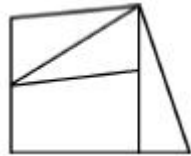
82. 【解析】D。题干中每个图形均有三个封闭区间，只有 D 项符合，当选。

83. 【解析】C。首先题干中每个图形均含有三个封闭区间，排除A项。其次，题干中图形均由两个相似图形交叉重叠组成，排除B、D两项。C项当选。

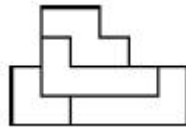
84. 【解析】D。见下图：



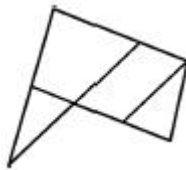
85. 【解析】C。见下图：



86. 【解析】B。见下图：



87. 【解析】B。见下图：



88. 【解析】A。B项，实线面应在箭头面的左边，错误。C项，实线面应在虚线面的右边，错误。D项，虚线面应在实线面的左边，错误。A项当选。

89. 【解析】B。A项，假设左侧面的图案正确，则右侧面中的砖形图案应位于三角形顶部，排除。C项，假设左侧面的图案正确，则右侧面应为砖形面，排除。D项，假设左侧面的图案正确，则右侧面应为斑点面，排除。B项当选。

90. 【解析】B。A项，假设正面和顶面的图案正确，则右侧面应为网格三角形面，排除。C项，假设正面和顶面的图案正确，则右侧面中的斜线方向错误，排除。D项，假设正面和顶面的图案正确，则右侧面中的斜线方向错误，排除。B项正确，当选。

91. 【解析】C。论点：其实茶叶中能够溶解于水的物质是有限的，大量有营养的物质仍然保留在茶叶中，白白倒掉实在可惜，人们应该将喝剩的茶叶吃掉。论据：一般人将茶叶冲泡饮用几次之后，就将喝剩的茶叶倒掉。A项与题干讨论的将喝剩的茶叶吃掉无关，不能反驳，排除。B项没有明确说明这两种元素是否可以溶解于水，是否需要通过吃掉茶叶来吸收，为不明确选项，排除。C项，一般人喝茶只是一种习惯，并非为了吸收营养物质，所以不会将喝剩的茶叶吃掉，可以削弱。D项说明茶叶应该吃掉，为支持项，排除。因此C项当选。

92. 【解析】B。由(2)可知，乙只能是6月或7月，根据(3)可知，丙最迟为7月，则乙为6月，甲为3月，C项错误。根据(4)可知，丁为4月，戊为5月，则甲为3月。根据(1)和(3)可知，甲和丙都不在家用电器店上班，因此戊在家用电器店上班，B项当选。

93. 【解析】D。论点：将汤显祖称作“东方的莎士比亚”有很大的问题。论据：无论是就人格的魅力，还是就文本美感而言，汤显祖都是不逊于莎士比亚的。

A项，指出汤显祖的人格魅力及其文本的美感均高于莎士比亚，是论点的重复表述，不能解释论点与论据间的必然联系，排除。

B项，指出汤显祖在西方的影响要大于莎士比亚在东方的影响，未提到汤显祖在东方的影响力有多大，而论点提到的是“东方的莎士比亚”，属于无关选项，排除。

C项，指出汤显祖和莎士比亚都不愿意别人用他人的名字来称呼自己，属于无关选项，排除。

D项，指出“东方的威尼斯”是逊色于真正的威尼斯的，即冠名为“东方”的人或地方都会逊色于西方，推理出“东方的莎士比亚”是逊色于真正的莎士比亚的，而汤显祖并不逊色于莎士比亚，因此将汤显祖称作“东方的莎士比亚”有很大的问题。在论点与论据间搭桥，当选。

94. 【解析】D。4种猜测只有一种是对的。假设条件(1)是对的，“或”关系中其中一项对，整个“或”关系就为真，因此(3)也是对的，和题干要求矛盾，(1)一定错。既然小李考取为假，那么它的矛盾命题小李没有考取就一定是真的。因此D项当选。

95. 【解析】C。题干对话中小王故意曲解老张的话中“占道经营”的“道”，实际上这里的“道”泛指道路，小王通过混淆概念达到自己强词夺理的目的。

A项，“人情味”与“保障人民群众的生命财产安全”并无冲突，与题干无相似之处，排除。

B项，甲、乙二人对于“打游戏是否虚度年华”理解不同，与题干并无相似之处，排除。

C项，乙故意将甲话中的“工作时间不能抽烟”曲解成为“抽烟的时候不能工作”，混淆概念达到其强词夺理的目的，与题干最为相似，当选。

D项，乙仅仅是在指责甲，指出对方是在冤枉自己，与题干并无相似之处，排除。

96. 【解析】A。论点为：获得诺贝尔经济学奖能使人长寿。论据为：对已故诺贝尔经济学奖得主的寿命进行统计，发现他们的平均寿命是85岁其中超过90岁的占多数，还有不少过百岁的，去世时年龄最小的也高达74岁。

A项，指出并非获得诺贝尔经济学奖使人长寿，而是已经长寿的学者才极有可能获得该奖项，属于因果倒置削弱，当选。

B项，指出获得诺贝尔奖确实能够让人长寿，加强了论点，排除。

C项，凯恩斯在63岁时去世了，且没有获得诺贝尔经济学奖，与论点无关，排除。

D项，获得诺贝尔物理学奖的学者寿命也长，与论点无关，排除。

97. 【解析】A。由题干可知：孔、陈、孟、刘4人分别去甲、乙、丙、丁4个村庄。(1)孔去甲村→刘去丁村；(2)要么陈去乙村，要么孟去丙村；(3)孟去丁村。根据条件(3)(2)可得：孟没有去丙村，陈去了乙村，排除C、D两项。由条件(1)(3)可得：孟去了丁村，刘没有去丁村，孔没有去甲村，排除B项。此4人的情况是：刘去甲村，陈去乙村，孔去丙村，孟去丁村。因此A项当选。

98. 【解析】B。由题意可知：(1)儿子专业是物理；(2)母亲爱好是音乐；(3)父亲专业是逻辑，爱好是摄影；(4)父亲与女儿分两排斜向而坐。如果儿子与司机斜向而坐，由上述条件(4)可知，司机只能是母亲。因此B项当选。

99. 【解析】D。由题干条件(1)(2)(3)可知：爱好摄影的是父亲。如果父亲坐前排，则根据题干条件(3)可知，女儿坐后排，所以女儿一定不可能是司机。本题为选非题，因此D项当选。

100. 【解析】B。由题干条件可知：(1)儿子的专业是物理；(2)母亲爱好音乐；(3)学逻辑专业且爱好摄影的人是父亲。如果学历史的人不爱好音乐，则根据条件(2)可知，母亲不是学历史的，再结合条件(1)(3)可知母亲是学数学的，女儿是学历史的。所以母亲学数学，爱好音乐，B项当选。

101. 【解析】A。定义关键词为：“不满足于从事单一职业；追求拥有多重职业身份及多元生活方式”。

A项，导演黄某先后出演10多次男配角，最终获得了最佳男配角奖，体现了黄某在同一时间扮演了导演和

演员两种不同的身份和职业，符合定义，当选。

B项，小丁获得博士学位后任职于高校，后被聘为教授，从始至终小丁的职业只有教师这一项，没有体现多重职业和多元生活，不符合定义，排除。

C项，小陈经常约朋友一起登山、打球、游泳，只是体现了不同的兴趣爱好，和职业无关，也没体现多重身份，不符合定义，排除。

D项，李总不是年轻人，不符合定义，排除。

102. 【解析】D。定义关键词为：“消费者使已购商品变为可用物品所付出的任何劳动”。

A项，小孙到饭店就餐，因服务员休假只能自己点单，点单说明还没有消费，不存在已购产品，不符合定义，排除。

B项，小李将同事老王送的婴儿车拿出来修理一番后十分好用，送的婴儿车本就是一种可用物品，而且婴儿车的购买者是老王而不是小李，不符合定义，排除。

C项，爸爸答应给小明买两条金鱼，答应买金鱼但是还没买，没有体现出“已购商品”这一概念，不符合定义，排除。

D项，首先拼板餐桌是已购商品，老冯经过劳动使其变为可用物品，符合定义，当选。

103. 【解析】C。定义关键词为：“高估自己行为的价值”“获得快乐和美感”。

A项，小张布置自己分到的单身公寓，没有体现高估自己行为的价值，不符合定义，排除。

B项，小星的父亲是在评估儿子小星的行为，不是评估自己的行为，不符合定义，排除。

C项，观众对谢先生跨界出演的电视剧反响平平，说明其演技未必好，但他仍对自己的演技充满信心，体现了高估自己行为的价值，符合定义，当选。

D项，老赵获奖后并没有高估自己获奖这件事，而是暗下决心继续努力，不符合定义，排除。

104. 【解析】D。定义关键词为：“同一条件下会出现多种可能性结果且可以重复进行的试验”“试验的所有可能结果可预知，但每次具体试验的结果无法预知”。

A项，这种试验可重复进行，但是在同一条件下出现的结果只有一种，即水加热至沸腾后，由液态变成气态，每次具体试验的结果是可以预知的，不符合定义，排除。

B项，同一头狮子可以重复试验，但是狮子的情况和习性都不相同，试验所有的结果是不可预知的，不符合定义，排除。

C项，同一辆汽车的撞击实验是不可以重复进行的实验，同时实验的结果并不具备多种可能性，不符合定义，排除。

D项，此项试验可以重复进行，且每次试验的结果具有两种可能性，一是带有数字的一面朝上，二是带有数字的一面朝下，其试验的所有结果是可以具体得知的，但是每次试验的结果到底是朝上还是朝下却不可预知，符合定义，当选。

105. 【解析】B。定义关键词为：“家庭或个人遭遇突发事件、意外伤害、重大疾病等变故”“基本生活陷入困境”“政府部门提供的应急性、过渡性救助”。

A项，“80岁的李大爷无儿无女，独自生活”没有体现出李大爷遭遇了突发事件、意外伤害或者重大疾病等变故，不符合定义，排除。

B项，“老张患上了强直性脊柱炎”体现了家庭或者个人遭遇重大疾病的变故，“巨额医疗费花光了积蓄、变卖房子”体现了生活陷入困境，“一家人只得暂住在街道办为他们租来的小房子里”，体现了政府提供的应急性和过渡性救助，符合定义，当选。

C项，地震发生后，社会各界响应号召为灾民捐送物资，并非政府有关部门提供的应急性、过渡性救助，不符合定义，排除。

D项，“老赵因车祸失去左腿”体现了遭遇意外伤害等变故，但每月的低保金成为主要经济来源并不是应急性和过渡性的救助，低保金是一种长期的救助，不符合定义，排除。

106. 【解析】B。定义关键词为：“员工到了法定退休年龄”“用人单位根据实际工作需要部分人员灵活确定退休时间”。

A项，马教授临近退休说明还没有到法定退休年龄，不符合定义，排除。

B项，赵先生到了退休年龄，因为他主持的项目没有结题，研究所决定聘用他继续工作，直到项目完成，同时体现了“用人单位根据实际工作需要部分人员灵活确定退休时间”，符合定义，当选。

C项，李工程师提前退休说明还没有到法定退休年龄，不符合定义，排除。

D项，某机构职工申请提前退休说明还没有到法定退休年龄，不符合定义，排除。

107. 【解析】A。定义关键词为：“经历重大的生活挫折”“发生的积极性改变”。

A项，“车祸幸存者”说明经历了车祸这一重大生活挫折，“她更主动地掌控自己的生活”属于积极性改变，符合定义，当选。

B项，“多次丢失手机”不属于经历重大的生活挫折，不符合定义，排除。

C项，同事的去世不是小刘的生活挫折，不符合定义，排除。

D项，王工程师赴灾区考察不是经历生活挫折，不符合定义，排除。

108. 【解析】B。定义关键词为：“大量同质化制造加工小企业集中”。

A项，义乌是国内规模最大的小商品生产和批发基地之一，属于“大量同质化制造加工小企业集中”，符合定义。

B项，当地的饭店宾馆、旅游品商店、出租车公司不符合定义主体“同质化制造加工小企业”，排除。

C项，嵊州是“中国领带之乡”，属于“大量同质化制造加工小企业集中”，符合定义。

D项，亳州是“药都”，属于“大量同质化制造加工小企业集中”，符合定义。

因此B项当选。

109. 【解析】D。定义关键词为：“长期扎根农村”“利用自己的知识、技术、财富为村民热心服务并作出突出贡献”“具有较高威望和影响力的乡村人士”。

A项，老李一直在外经商，并没有长期扎根农村，不符合定义，排除。

B项，小张回来时间只有两三年，不是长期扎根农村，不符合定义，排除。

C项，孙先生为某市商会会长说明没有长期扎根农村，不属于乡村人士，不符合定义，排除。

D项，程某之前在乡村小学当校长为村民服务，退休后挖掘家乡历史文化资源为村民服务，属于长期扎根农村，具有一定的威望和影响力，符合定义，当选。

110. 【解析】C。定义关键词为：“谣言”“集体无意识”“恐慌蔓延”。

A项，房价暴涨不属于“谣言”，选项主体为老李一人未体现“集体”，同时忍不住加入到抢房行列是老李个人有意识而为，不符合定义关键词，排除。

B项，英国脱欧的公投结果不属于“谣言”，不符合定义关键词，排除。

C项，“杜撰‘来自自来水的避孕药’博文”属于“谣言”，“许多家庭担心饮水安全，纷纷抢购瓶装水”体现了“集体无意识”和“恐慌蔓延”，符合定义关键词，当选。

D项，“受到了推崇健康生活、回归自然者的追捧”没有体现出“恐慌蔓延”，不符合定义关键词，排除。

111. 【解析】D。在受访的951位市民中，“没有邻居”的有6位，则“有邻居”的受访市民一共有 $951-6=945$ （位），“有邻居”的受访市民中，对邻居表示“了解”的占55.8%，其余的表示“不了解”。对邻居“不了解”的市民所占比重 $=1-55.8\%=44.2\%$ 。则“不了解”邻居的数量 $=945\times 44.2\%\approx 418$ （人），D项当选。

112. 【解析】A。定位饼状图材料，对邻里关系感到“不满意”的受访市民中，主要原因是“视同陌路”

的所占比重为 32.4%，“习惯不同”的占比为 18.9%。则“视同陌路”所占比重比“习惯不同”多： $32.4\% - 18.9\% = 13.5\%$ 。A 项当选。

113. 【解析】B。在受访的 951 位市民中，“没有邻居”的有 6 位，“有邻居”的有 $951 - 6 = 945$ （位）。“满意”分为“很满意”和“比较满意”，占比分别为 20.1% 和 68.3%，则感到“比较满意”的人数比“很满意”的多 $945 \times (68.3\% - 20.1\%) = 945 \times 48.2\% \approx 455$ （人）。B 项当选。

114. 【解析】C。定位图 1，在感到“满意”的受访市民中，主要原因为“相互谦让，文明礼貌”的受访市民所占比重为 37.7%，原因为“彼此照应，感到温暖”所占比重为 16.7%，则前者是后者的 $\frac{37.7\%}{16.7\%} \approx 2.3$ （倍），C 项当选。

115. 【解析】C。A 项，根据第 121 题可知有 418 人不了解邻居，则有 $945 - 418 = 527$ 人了解，错误。

B 项，由饼状图可知，因“缺乏信任”而对邻里关系“不满意”的市民占“不满意总数”的比重为 20.3%，并非占“受访市民总数”的比重，错误。

C 项，定位文字材料，对邻里关系表示“很满意”和“比较满意”的占“有邻居”受访市民的比重分别为：20.1%、68.3%。 $20.1\% < 68.3\% \times \frac{1}{3} \approx 22.8\%$ ，的确不及三分之一，正确。

D 项，根据材料无从得知。

因此 C 项当选。

116. 【解析】A。2014 年全国医院次均门诊费用 220 元，按当年价格上涨 6.6%，因此比 2013 年多 $\frac{220}{1 + 6.6\%} \times 6.6\% \approx 13.6$ （元）。A 项当选。

117. 【解析】B。2015 年全国公立二级、三级医院人均住院费用分别为 5358.2 元、12599.3 元，因此多 $\frac{12599.3}{5358.2} - 1 \approx 1.4$ （倍）。B 项当选。

118. 【解析】D。可比价格是指计算各种总量指标时所采用的扣除了价格变动因素的价格。可比价格扣除了通货膨胀等价格变动因素的影响，便于对不同时期的指标进行对比，以观察国民经济的运行情况。因此 D 项当选。

119. 【解析】B。2015 年全国公立二级医院出院病人人均住院天数 = $\frac{\text{人均住院费用}}{\text{日均住院费用}} = \frac{5358.2}{605.4} \approx 9$ （天），

B 项当选。

120. 【解析】C。A 项，由表可知，2015 年全国公立二级、三级医院日均住院费用分别为：605.4 元、1024.6 元，公立二级医院日均住院费用大于三级医院的一半。错误，排除。

B 项，由表可知，2014 年全国医院日均住院费用按可比价格计算上涨 5.3%，大于 5%。错误，排除。

C 项，2014 年全国公立医院、公立三级医院、公立二级医院日均住院费用按当年价格计算增幅分别为：7.8%、6.7%、5.2%；2015 年分别为：7.0%、6.4%、4.1%。2015 年各项均小于 2014 年，正确。

D 项，由表可知，按当年价格计算，2015 年全国公立三级医院日均住院费用增幅 6.4% 小于 2014 年增幅 6.7%。错误，排除。

因此 C 项当选。

121. 【解析】A。定位表格数据，2015 年能源生产总量增加量： $(261.0 + 30.8 + 17.7 + 52.5) - (266.3 + 30.4 + 17.0 + 48.1) = 0.2$ （百万吨标准煤）；2014 年能源生产总量增加量： $(270.5 + 30.1 + 15.8 + 42.3) - (267.5 + 29.8 + 14.4 + 39.3) = 7.7$ （百万吨标准煤）；2013 年能源生产总量增加量： $(270.5 + 30.1 + 15.8 + 42.3) - (264.7 + 28.9 + 13.9 + 32.7) = 10.8$ （百万吨标准煤）。增长量最少的为 2015 年，A 项当选。

122. 【解析】D。定位文字材料和表格可得，2005、2015年水风核电生产量分别为19.2、52.5百万吨标准煤。自2016年起，按2006~2015年平均增速增长，2016~2025年与2006~2015年间隔年数相同，则2016~2025与2006~2015年增长率相同，2025年水风核电产量为 $52.5 \times \frac{52.5}{19.2} \approx 143.6$ （百万吨标准煤），D项当选。

123. 【解析】B。非原煤主要能源产量之和占主要能源生产总量的比重

$$= \frac{\text{主要能源生产总量} - \text{原煤生产量}}{\text{主要能源生产总量}} = 1 - \frac{\text{原煤生产量}}{\text{主要能源生产总量}}$$
，代入表格数据，2015年比重为：

$$1 - \frac{261.0}{261.0 + 30.8 + 17.7 + 52.5} = \frac{101}{362} \approx 28\%$$
；代入文字资料数据，2005年比重为： $1 - \frac{177.2}{228.9} \approx 23\%$ ，两者约相差 $28\% - 23\% = 5\%$ ，B项最为接近，当选。

124. 【解析】B。要满足原煤产量年增长率超过10%，则需要（现期量 - 基期量）> 基期量×10%。代入材料可得超过10%的年份只有2011年，B项当选。

125. 【解析】C。A项，单位GDP能耗 = $\frac{\text{能源生产总量}}{\text{GDP}} = \frac{228.9 \text{ 百万吨标准煤}}{184937 \text{ 亿元人民币}} = \frac{22890 \text{ 万吨标准煤}}{184937 \text{ 亿元人民币}} < 1$ 万吨标准煤/亿元人民币，错误。

B项，“十二五”即2011~2015年，原煤产量为：264.7+267.5+270.5+266.3+261.0=1330（百万吨标准煤），“十一五”即2006~2010年，原煤产量为：189.7+205.5+213.1+219.7+237.8=1065.8（百万吨标准煤），增长率为 $\frac{1330 - 1065.8}{1065.8} = \frac{264.2}{1065.8} \approx 25\% < 30\%$ ，错误。

C项，2015年水风核电产量增量为：52.5-48.1=4.4（百万吨标准煤），根据116题计算数据，2015年主要能源生产总量增量为0.2百万吨标准煤，显然部分增速大于总体增速，该部分占总体比重上升，正确。

D项，定位表格数据可得，2011年原油生产量为28.9百万吨标准煤，少于2010年的29.0百万吨标准煤，错误。

因此C项当选。

126. 【解析】A。2015年11月1日零时江苏最终样本量占全省常住人口总数的0.94%，江苏常住人口为7973万人。则江苏最终样本为 $7973 \times 0.94\% = 79.73 \times (1 - 0.06\%) \approx 75$ （万人），A项当选。

127. 【解析】D。2010年11月1日零时第六次人口普查中，0~14岁人口的比重为：13.35%-0.34%=13.01%，2010年11月1日零时65岁及以上人口的比重为：12.53%-1.64%=10.89%，则江苏0~14岁人口比重比65岁及以上人口多 $13.01\% - 10.89\% = 2.12\%$ ，D项当选。

128. 【解析】A。2015年11月1日零时65岁及以上人口为999万人，2010年11月1日零时65岁及以上人口为 $(7973 - 107) \times (12.53\% - 1.64\%) = 7866 \times 10.89\%$ （万人）。因此，两次调查的5年间，江苏常住人口中65岁及以上人口增加为： $999 - 7866 \times 10.89\% \approx 999 - 7866 \times 10.9\% > 999 - 7900 \times 11\% = 130$ （万人），只有A项符合，当选。

129. 【解析】C。2015年11月1日零时，高中（含中专）及以上文化程度人口占常住人口的比重为：

$$\frac{1230 + 1356}{7973} = \frac{2586}{7973} \approx 3\%$$
，C项当选。

130. 【解析】B。A项，两次调查的5年间，江苏常住人口增加107万人，则平均每年增加 $\frac{107}{5} \approx 21$ （万人），正确。


B项，2010年11月1日零时15~64岁人口为 $(7973 - 107) \times (74.13\% + 1.97\%) = 7866 \times 76.1\% \approx 5986$ （万人），下降了 $\frac{5986 - 5910}{5986} \approx \frac{76}{5986} \approx \frac{76}{6000} \approx 1.27\%$ ，错误。

C项，同第六次全国人口普查相比，0~14岁人口的比重上升0.34个百分点，15~64岁人口的比重下降1.97个百分点，65岁及以上人口的比重上升1.64个百分点。65岁及以上人口比重上升幅度大于其他年龄段，说明

其增长率高于其他年龄段，正确。

D项，小学文化程度以下（不含小学）人口为： $7973-1230-1356-2741-1744=902$ （万人），正确。

因此B项当选。



美好的事情即将发生...

something wonderful is about to happen



公考通