

2018 年北京市海淀区初三一模地理考试逐题解析

第一部分 选择题（共 40 分）

本部分共 40 小题，每小题 1 分，共 40 分。在每小题列出的四个选项中，选出最符合题目要求的一项。

二十四节气在国际气象界被誉为“中国的第五大发明”，根据地球在围绕太阳公转轨道上的位置变化而确定。读图 1，完成 1、2 题。

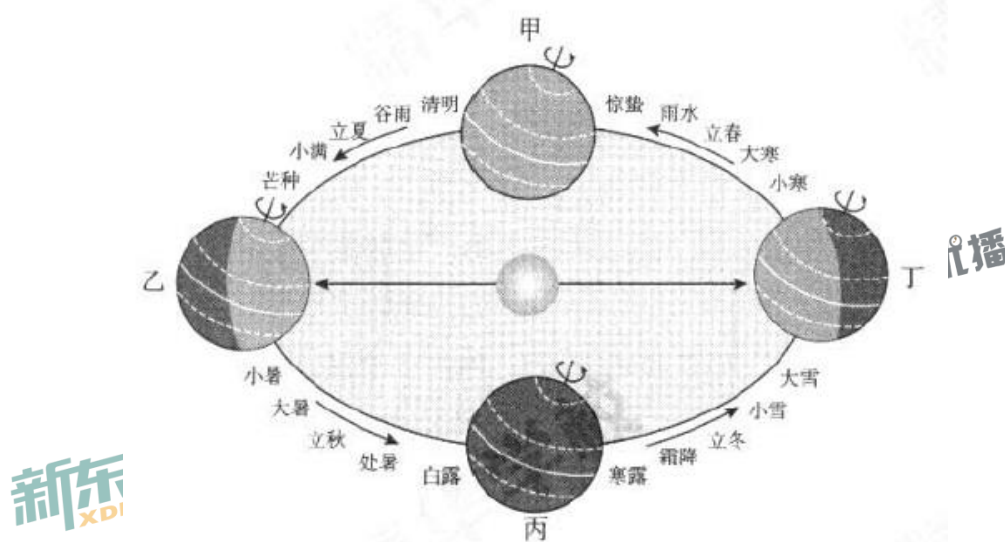


图 1

1. 图中

- A. 甲位置处于春分节气，日期是 9 月 23 日前后
- B. 乙位置处于夏至节气，该日太阳直射赤道
- C. 丙位置处于秋分节气，全球各地昼夜等长
- D. 丁位置处于冬至节气，北极圈内出现极昼

【答案】C

【解析】该题主要考查地球运动的知识点。A 选项，甲位置处于春分节气，日期为 3 月 21 日前后，故 A 选项错误；B 选项，乙位置处于夏至节气，该日太阳直射北回归线，故 B 选项错误；C 选项，丙位置处于秋分节气，春秋分日，太阳均直射赤道，全球昼夜平分，故 C 选项正确；D 选项，丁位置处于冬至节气，该日北极圈内出现极夜，故 D 选项错误。

2. 以下四个节气在北京香山公园可以观赏到

- A. 立春—桃花绽放
- B. 立夏—荷花盛开
- C. 立秋—层林尽染
- D. 立冬—落叶纷飞

【答案】D

【解析】该题主要考查节气的知识点。D 选项，根据图中信息及所学可知，立冬节气处于 11 月 23 日前后至 12 月 22 日前后之间，处于深秋季节，符合落叶纷飞的景象，故 D 选项正确；A、B、C 选项，均不符合题意，故 A、B、C 选项错误。

同学们计划到天坛公园进行社会实践活动，活动中要用到图 2 中甲、乙两图。读图，完成 3、4 题。

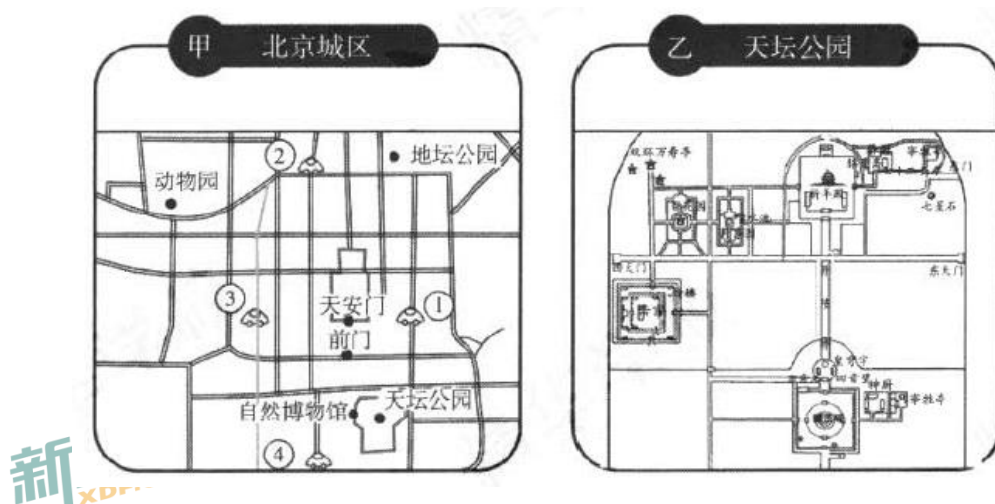


图 2

3. 甲、乙两图图幅相同，则
- 甲图表示的范围比乙图小
 - 乙图的比例尺比较小
 - 甲图表示的内容更加简略
 - 乙图表示的范围较大

【答案】C

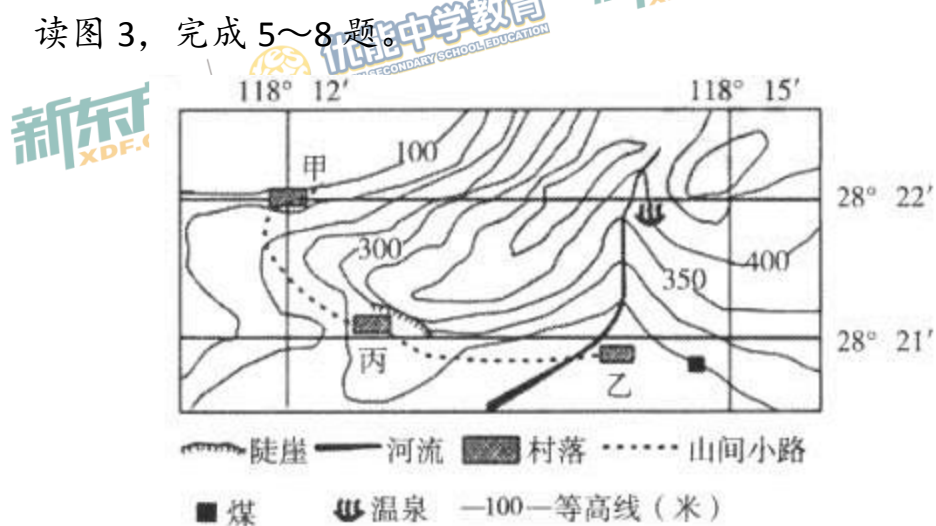
【解析】该题主要考查比例尺的知识点。C选项，结合材料并根据所学可知，图幅相同，甲图所表示的范围比乙图大，因此甲图内容较为简略，乙图所表示的范围小，内容更为详细，故C选项正确；A、B、D选项，均不符合题意，故A、B、D选项错误。

4. 甲图中的序号分别是同学们的出发地点，其中位于天坛公园东北方向的是

- ①
- ②
- ③
- ④

【答案】A

【解析】该题主要考查地图中方向的知识。根据一般定向法可知，①位于天坛公园东北方向，A选项，①符合题意；故A选项正确；B、C、D选项，均不符合题意，故B、C、D选项错误。



5. 甲村的经纬度是

- A. $28^{\circ} 22' N, 118^{\circ} 12' E$
- B. $28^{\circ} 22' N, 118^{\circ} 12' W$
- C. $28^{\circ} 22' S, 118^{\circ} 12' W$
- D. $28^{\circ} 22' S, 118^{\circ} 12' E$

【答案】A

【解析】该题主要考查经纬网判读的知识点。利用经纬网判读规律可知，甲村所处地区应为东经及北纬，A选项，符合题意，故A选项正确；B、C、D选项均不符合题意，故B、C、D选项错误。

6. 图中

- A. 甲村海拔高度约是 260 米
- B. 乙村坐落在谷地
- C. 丙村位于山前盆地
- D. 去往丙村的山间小路均为下坡

【答案】B

【解析】该题主要考查等高线地形图的知识点。A 选项，据题意及图可知，甲村海拔处于 100 米—150 米之间，故 A 选项错误；B 选项，根据等高线判读规律可知，乙地所处位置为山谷，故 B 选项正确；C 选项，根据图中信息可知，丙村位于陡崖前的山坡，故 C 选项错误；D 选项，去往丙村的山间小路既有上坡路又有下坡路，故 D 选项错误。

7. 温泉与煤矿区的相对高度是

- A. 100 米
- B. 150 米
- C. 200 米
- D. 250 米

【答案】B

【解析】该题主要考查相对高度计算的知识点。据图可知，温泉的海拔为 400 米，煤矿区的海拔为 250 米，因此温泉与煤矿区的相对高度为 150 米，故 B 选项正确；A、C、D 选项，均不符合题意，故 A、C、D 选项错误。

8. 乙村最适宜开发的旅游活动项目是

- A. 漂流 B. 攀岩 C. 蹦极 D. 滑雪

【答案】A

【解析】该题主要考查等高线的实际应用。据图可知，乙村处于河流沿岸，适宜开发与漂流有关的旅游活动项目，A选项符合题意，故A选项正确；B、C、D选项所开展的活动，均无法从图中获得相关信息的支持，故B、C、D选项错误。

读北半球年平均气温分布图（图4），完成9、10题。

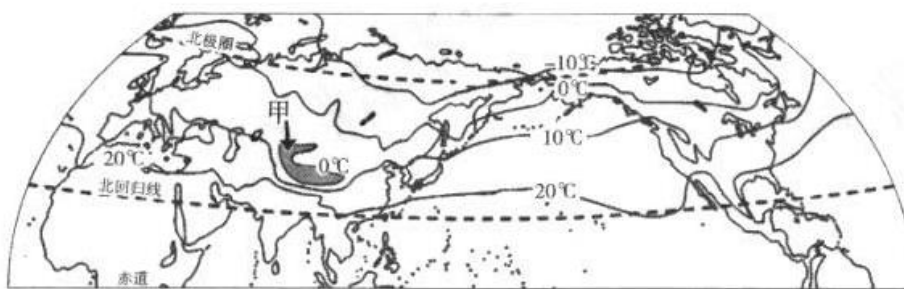


图4

9. 北半球年平均气温

- A. 由低纬向高纬降低
B. 同纬度海洋低于陆地
C. 同纬度大陆东岸均高于西岸
D. 北极圈内均低于 -10°C

【答案】A

【解析】该题主要考查等温线的知识点。A选项，结合所学并根据材料可知，北半球年平均气温由低纬向高纬降低，A选项符合题

意，故 A 选项正确；根据材料可知， B、C、D 选项，均不符合题意，故 B、C、D 选项错误。

10. 甲区域年平均气温较周边地区低的主要影响因素是

- A. 纬度位置 B. 海陆分布 C. 地形 D. 人类活动

【答案】C

【解析】该题主要考查影响气候的因素以及中国地形的知识点。结合材料并根据所学可知，甲地位于青藏高原，受地形地势因素的影响，导致甲区域年平均气温低于周边地区，C 选项符合题意，故 C 选项正确；A、B、D 选项均不符合所学，故 A、B、D 选项错误，答案为 C 选项。

第 22 届和第 23 届冬奥会分别在俄罗斯的索契和韩国著名内陆山城平昌举办。读图 5，完成 11、12 题。

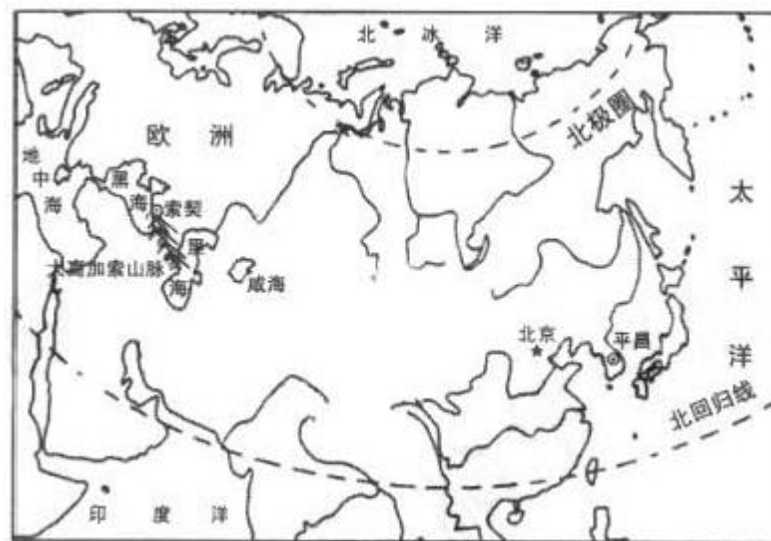


图 5

11. 索契和平昌举办冬奥会的共同有利条件是

- A. 处于温带季风气候区，冬季降雪较多
- B. 位于山区，冬季气温低，冰雪不易融化
- C. 位于高纬度地区，气候寒冷，积雪时间长
- D. 临海，受海洋的影响大，降雪多

【答案】B

【解析】该题将时事与所学地理知识相结合，主要考查学生提取并分析材料的能力。A选项，平昌属于温带季风气候区，根据所学可知，温带季风气候分布与亚欧大陆东岸，所以索契并非属于是温带季风气候，故A选项错误；B选项，据材料可知，平昌为内陆山城，而图中索契东北部为大高加索山脉，故索契及平昌均位于山区，B选项符合题意，故B选项正确；C、D选项均不符合题意，故C、D选项错误；答案为B选项。

12. 第24届冬奥会将在北京举行，它给北京带来的影响是

- ①带动体育产业、旅游业的发展
 - ②促进当地资源开发，大规模发展工业
 - ③推动交通、通信等基础设施建设
 - ④提供大量就业岗位，增加居民收入
- A. ①②③ B. ①②④
- C. ①③④ D. ②③④

【答案】C

【解析】该题将时事与所学地理知识相结合，主要考查学生提取并分析材料的能力。冬奥会的召开有利于带动体育产业，旅游业的发展，同时也有利于加强基础设施建设和提供就业岗位，①③④符合题意，因此①③④正确，故C选项正确。

泰国是目前中国游客赴东南亚旅游的最大目的地国家。读图6，完成13~15题。



图6

13. 泰国

- A. 陆上与中国接壤
- B. 西邻太平洋
- C. 湄南河干流自北向南流

D. 地形以高原和盆地为主

【答案】C

【解析】该题主要考查东南亚的知识点。A选项，结合所学并依据材料可知，泰国没有与中国陆地接壤，故A选项错误；B选项，结合所学并依据材料可知，泰国西临印度洋，故B选项错误；C选项，结合所学可知，中南半岛地势为山河相间，北高南低，南北纵列分布，因此，湄南河干流的流向为自北向南流，C选项符合题意，故C选项正确；D选项不符合所学，故D选项错误。

14. 曼谷的发展依托于湄南河

①沿岸平坦的土地

②充足的水源

③便利的河运

④丰富的水能资源

A. ①②③

B. ①②④

C. ②③④

D. ①③④

【答案】A

【解析】该题主要考察东南亚的知识点。序号①，结合材料及所学可知，曼谷位于湄南河三角洲，沿岸地势平坦，故序号①正确；序号②，曼谷临近湄南河，有充足的水源，故序号②正确；序号③，结合材料及所学可知，曼谷的发展依托于湄南河便利的河运，故序号③正确；序号④，根据材料及所学，水能资源丰富与水量及落差有关，而曼谷位于湄南河三角洲，地势平坦，故序号④错误。因此，本题选择①②③，故A选项正确。

15. 泰国吸引中国游客的主要原因是

- ①浓郁的热带风情 ②丰富的乳畜制品
 ③相近的文化习俗 ④旅游费用相对较低
- A. ①②③ B. ①②④
 C. ①③④ D. ②③④

【答案】C

【解析】该题主要考查地理知识的实际应用。序号①，结合材料及所学可知，泰国绝大部分属于热带季风气候，因此有浓郁的热带风情，故序号①正确；序号②，结合材料及所学，乳畜业发达的地方主要位于欧洲西部，故序号②错误；序号③，结合材料及所学可知，东南亚地区很多国家与中国有相近的文化习俗，故序号③正确；序号④，结合生活实际可知，泰国旅游费用相对较低，故序号④正确。因此，本题选择①③④，故C选项正确。

图7为中东地区石油外运航线示意图。读图，完成16~18题。

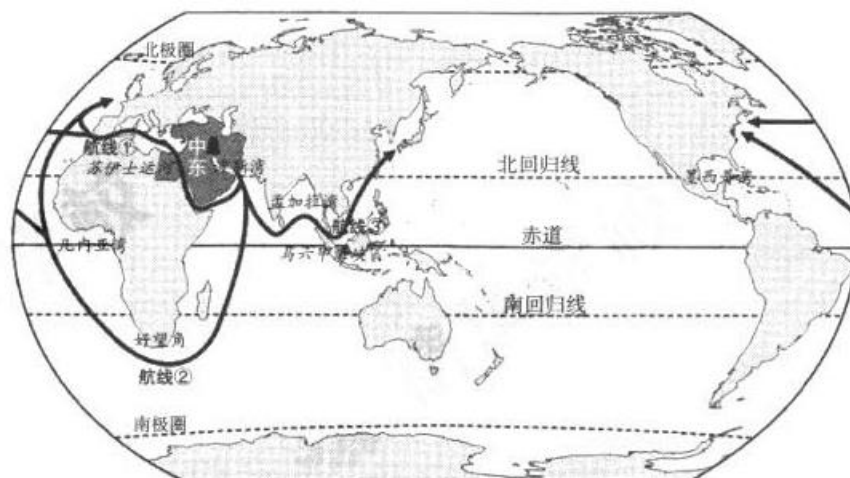


图7

16. 图中石油的输出地区是

- A. 波斯湾 B. 孟加拉湾 C. 几内亚湾 D. 墨西哥湾

【答案】A

【解析】该题主要考查中东石油的相关知识点。由图所知，航线①、航线②、航线③的石油均从波斯湾地区输出，故 A 选项正确。

17. 图中

- A. 航线①经过的苏伊士运河是亚洲和欧洲的分界线
B. 航线②经过好望角通往印度洋沿岸的北美洲各国
C. 航线③经过的马六甲海峡是日本的海上生命线
D. 三条航线都经过了非洲和大西洋

【答案】C

【解析】该题主要考查中东石油的相关知识点。A 选项，航线①经过的苏伊士运河是亚洲和非洲的分界线，故 A 选项错误。B 选项，航线②经过好望角通往大西洋沿岸的北美洲各国，故 B 选项错误。C 选项，航线③经过的马六甲海峡是日本的海上生命线，故 C 选项正确。D 选项，航线③没有经过非洲和大西洋，故 D 选项错误。

18. 中东地区

- A. 位于西半球 B. 全部位于中纬度
C. 范围与西亚相同 D. 地处“五海三洲之地”

【答案】D

【解析】该题主要考查中东的相关知识。A选项，中东位于东半球，故A选项错误。B选项，中东地跨低纬度及中纬度地区，故B选项错误。C选项，中东和西亚是两个不同的地理概念，故C选项错误。D选项，中东地处“五海三洲之地”，故D选项正确。

美国粮食产量居世界第二（全球占比达16%），仅次于中国；美国出口的农产品占全球农产品贸易量的1/4，其中玉米和大豆为美国生产和出口的优势品种。读图8，完成19~21题。



图8

19. 美国

- A. 西临大西洋，国土面积大
- B. 地形为西部高原，中部平原，东部山地
- C. 地势特点是东西高，中部低
- D. 以热带和亚热带气候为主

【答案】C

【解析】该题主要考查的是美国的相关知识。A 选项，美国西临太平洋，故 A 选项错误。B 选项，美国西部为高原、山地，中部为平原，东部为低矮的山地，故 B 选项错误。C 选项，美国地势东西高，中部低，故 C 选项正确。D 选项，美国以温带和亚热带气候为主，故 D 选项错误。

20. 美国的农业

- A. 生产地区专业化，机械化水平高
- B. 乳畜带分布在密西西比河下游地区
- C. 农作物以咖啡、甘蔗为主
- D. 生产目的是为了自给自足

【答案】A

【解析】该题主要考查的是美国农业的相关知识。A 选项，美国农业生产地区专业化，机械化水平高，故 A 选项正确。B 选项，美国乳畜带分布在美国五大湖沿岸地区，故 B 选项错误。C 选项，咖啡和甘蔗是热带经济作物，美国农作物主要以温带与亚热带农作物为主，缺乏热带经济作物的种植，故 C 选项错误。D 选项，美国是世界上重要的农产品出口国，故 D 选项错误。

21. 美国东北部发展工业的有利条件是

- ①铁矿、石油资源丰富
- ②位于山间盆地，地形平坦开阔
- ③河湖众多，水源充足
- ④水陆交通便利，能实现海陆联运

- A. ①② B. ③④ C. ①③ D. ②④

【答案】 B

【解析】 该题主要考查美国工业的相关知识。①，据图可知石油资源主要分布在美国南部，故①错误。②，东北部为低矮的阿巴拉契亚山脉，故②错误。③，河湖众多，水源充足是美国东北部发展工业的有利条件，故③正确。④，水陆交通便利，为美国东北部发展工业的有利条件，故④正确。

目前，中国在南极建成了长城站、中山站、昆仑站和泰山站四个科考站。当地时间 2018 年 2 月 7 日，中国第五个南极科考站—罗斯海新站正式选址奠基。读图 9，完成 22~25 题。

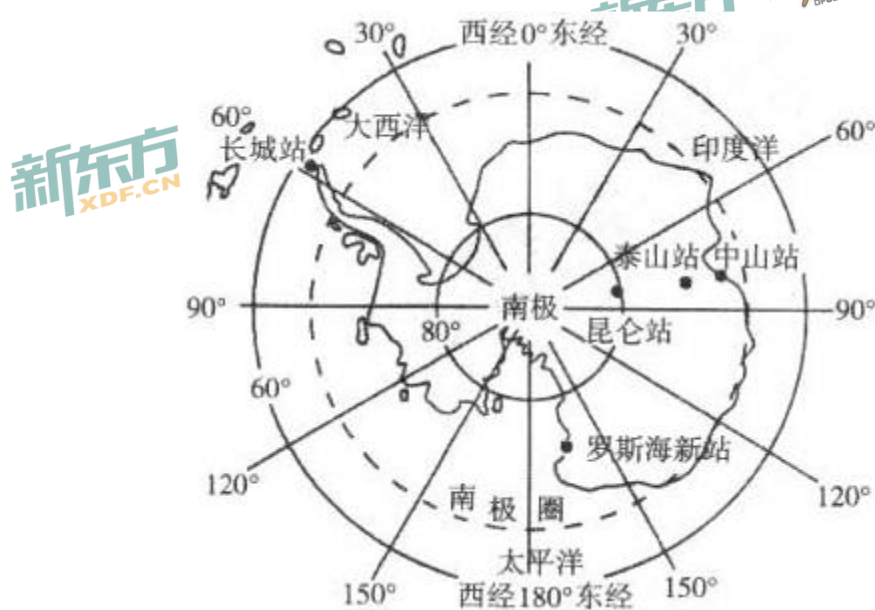


图 9

22. 罗斯海新站

- A. 位于长城站的东南方向

- B. 位于南寒带
- C. 濒临大西洋
- D. 是纬度最高的科考站

【答案】B

【解析】该题主要考查的是两极地区的相关知识。A选项，罗斯海新站位于长城站的西南方向，故A选项错误。B选项，该科考站，位于南极圈以南，位于南寒带，故B选项正确。C选项，该科考站濒临太平洋，故C选项错误。D选项，由图可知，该科考站距南极点较远，并非纬度最高的科考站，故D选项错误。

23. 罗斯海新站选址奠基时

- A. 南极圈上出现极昼现象
- B. 长城站比中山站先迎来日出
- C. 泰山站白昼长黑夜短
- D. 正午时昆仑站人影朝北

【答案】C

【解析】该题主要考查的是地球运动的相关知识。A选项，由材料可知，该科考站选址奠基时，南极圈上不会出现极昼现象，故A选项错误。B选项，由图可知，中山站位于长城站的东部，中山站比长城站先迎来日出，故B选项错误。C选项，由材料可知，该科考站选址奠基时，泰山站白昼长黑夜短，故C选项正确。D选项，由

材料可知，该科考站选址奠基时，正午时昆仑站人影应该朝南，故 D 选项错误。

24. 罗斯海新站附近最可能见到

- A. 北极熊悠然散步
- B. 海面上漂浮着冰山
- C. 冰原上石油钻井林立
- D. 原野上鲜花盛开

【答案】B

【解析】该题主要考查了两极地区的主要知识。A 选项，由材料可知，北极熊主要分布在北极，故 A 选项错误。B 选项，由材料可知，可能见到南极地区海面上漂浮着冰山，故 B 选项正确。C 选项，由材料可知，南极地区自然条件恶劣，开采石油的难度大，故 C 选项错误。D 选项，由材料可知，南极地区自然条件恶劣，无原野上鲜花盛开的景色，故 D 选项错误。

25. 有利于南极地区环境保护的合理建议是

- A. 禁止过度捕杀极地动物，禁止发展观光旅游业
- B. 停止一切科学考察活动保护南极脆弱的自然环境
- C. 在岩石上刻“保护地球上最后一片净土”的标语
- D. 尽量不使用一次性餐具，将垃圾带回国进行处理

【答案】D

【解析】该题主要考查两极地区的主要知识。A 选项，对南极地区的观光旅游业应该进行保护性开发，故 A 选项错误。B 选项，“通知

一切”的描述过于绝对，可适当进行科考，故 B 选项错误。C 选项，在岩石上刻标语不符合环境保护理念，故 C 选项错误。D 选项，尽量不用一次性餐具，符合南极地区环境保护理念，故 D 选项正确。

26. 我国是一个多民族的大家庭，民族文化丰富多彩。图中信息搭配正确的是



- A. ①—蒙—住窑洞，唱信天游
 B. ②—滇—跳孔雀舞，吃竹筒饭
 C. ③—新—参加那达慕大会，骑马、摔跤
 D. ④—吉—全年气候炎热，喜欢跳跷跷板

【答案】B

【解析】该题主要考查中国的行政区划的相关知识。A 选项，由图所知，①省份简称为新，故 A 选项错误。B 选项，由图所知，②省份，简称滇或云，民族文化为跳孔雀舞，吃竹筒饭，故 B 选项正确。C 选项，由图所知，③省份简称为内蒙古，故 C 选项错误。D 选项，由图所知，④省份简称为吉，纬度较高，夏季高温、冬季寒冷，故 D 选项错误。

图 10 为“中国人口增长和人均耕地变化折线图”。读图，完成 27、28 题。

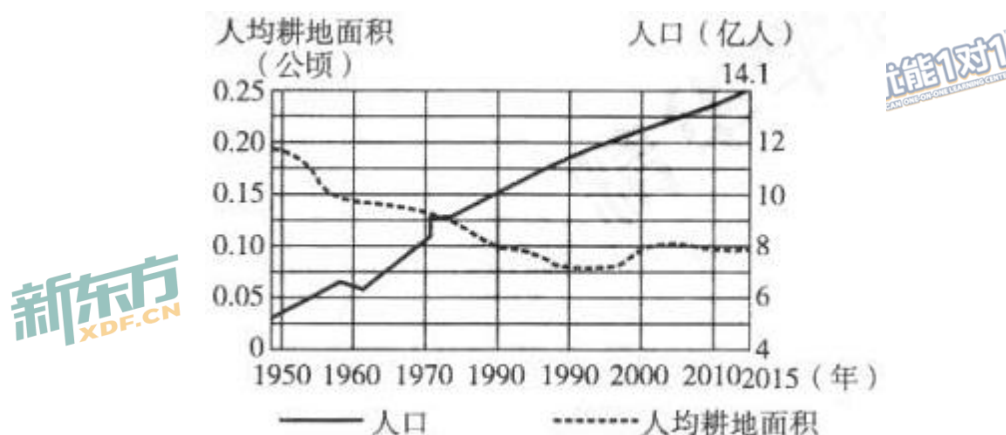


图 10

27. 据图判断

- A. 人口数量 1970 年以后持续增加
- B. 人口自然增长率 1970 年以后持续变大
- C. 人均耕地 1960 年以后持续减少
- D. 耕地总面积在 2000 年后保持不变

【答案】A

【解析】该题主要考查读图能力。A 选项，由图可知，人口数量 1970 年以后持续增加符合题意，故 A 选项正确。B 选项，该图不能体现人口自然增长率的变化，故 B 选项错误。C 选项，由图所知，人均耕地 1960 年后有增有减，故 C 选项错误。D 选项，不符合图示信息，故 D 选项错误。

28. 2016年1月，我国全面实施一对夫妇可生育两个孩子的政策，其主要目的是

- A. 增加人均耕地面积 B. 应对社会老龄化问题
C. 降低人口增长速度 D. 提高人口素质

【答案】B

【解析】该题主要考查的是中国人口的相关知识。由材料可知，我国全面实施一对夫妇可生育两个孩子的政策，其主要目的是缓解人口老龄化，A、C、D选项不符合题意，故B选项正确。

图11为“我国沿北纬30°地形剖面示意图”。读图，完成29、30题。

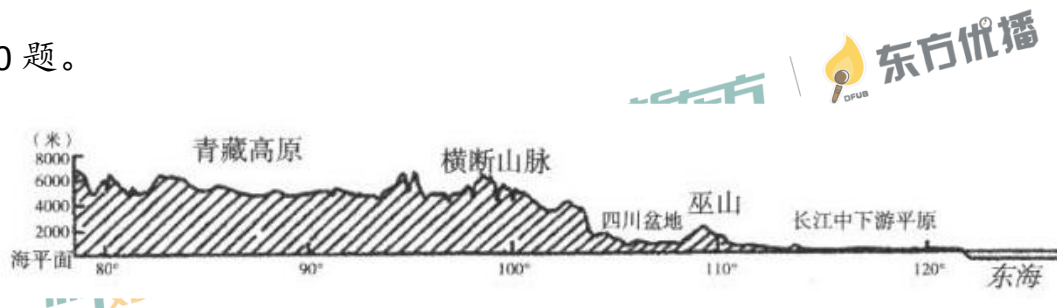


图 11

29. 图中

- ①横断山脉东侧为四川盆地
②青藏高原平均海拔4000米以上
③巫山是地形阶梯的分界线
④长江中下游地区地表崎岖不平

- A. ①②③ B. ②③④ C. ①③④ D. ①②④

【答案】A

【解析】该题主要考查中国地形的相关知识。由图所知，①横断山脉东侧为四川盆地，故①正确。②青藏高原的平均海拔在 4000 米以上，故②正确。③巫山是二、三级阶梯的分界线，故③正确。④长江中下游地区地形平坦，故④错误。因此本题选择 A 选项。

30. 四川盆地夏季时

- A. 晴朗无云，日照强，温差大
- B. 降水多，气候湿热
- C. 海拔高，缺氧
- D. 风沙极大

【答案】B

【解析】该题主要考查中国地形和气候的相关知识。四川盆地夏季时，降水多，气候湿热，A、C、D 选项不符合题意，故 B 正确。

图 12 为“南水北调工程示意图”。读图，完成 31、32 题。



图 12

31. 关于南水北调工程说法正确的是

- A. 西线路线短，工程难度小
- B. 中线引长江干流水补给京津两地
- C. 东线借助京杭运河河道调水
- D. 实施调水工程的目的是沟通五大水系

【答案】C

【解析】该题主要考查中国水资源的知识点。A选项，西线途径长江、黄河上游地区，地势险峻，工程难度大；B选项，中线引长江支流汉江的丹江口水库补给；C选项借助京杭运河河道调水，故C选项正确；D选项，实施调水工程的目的是解决水资源空间分布不均；故A、B、D选项错误。

32. 至2017年6月，“南水”日均入京量达370万立方米。“南水”进京的影响是

- A. 缓解了水资源空间分布不均
- B. 降低了北京城区的地下水位
- C. 彻底解决了北京缺水的问题
- D. 北京可大力发展水稻种植业

【答案】A

【解析】该题主要考查中国水资源的知识点。A选项，南水北调是解决水资源空间分布不均的有效措施之一，故A选项正确；B选项，“南水北调”不会降低北京城区的地下水位；C选项，“南水”进京

并不能彻底解决北京缺水问题；D选项，水稻喜湿热，北京的自然条件不适合大力发展水稻种植；故B、C、D选项错误。

图13为“我国四大地理区域图”。读图，完成33~36题。

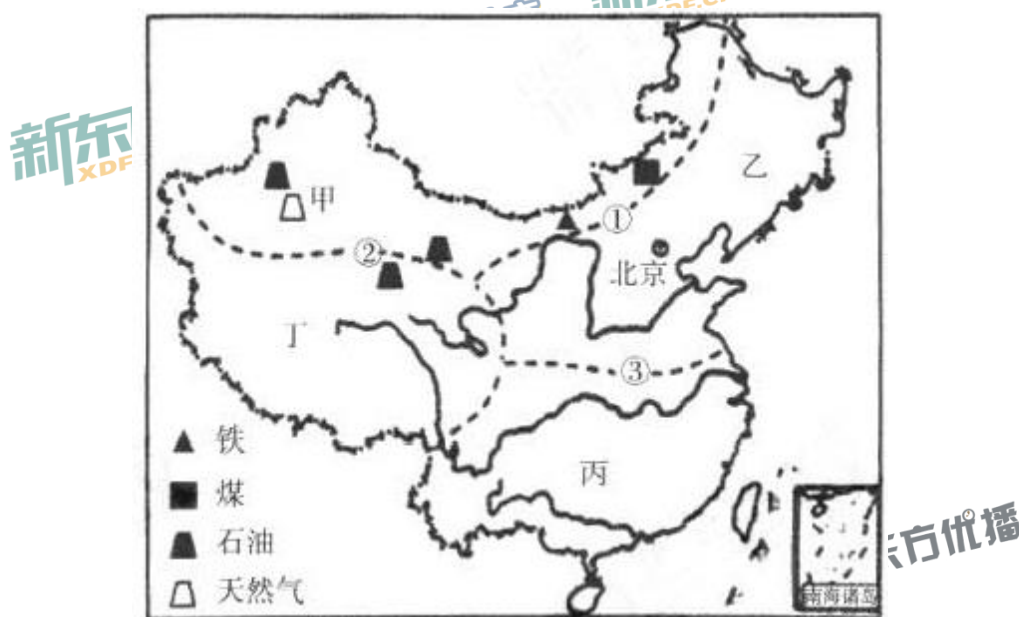


图13

33. “天光夜色两均长，银棉金稻蟹肉香”的景象多发生在

- A. 甲区域 B. 乙区域 C. 丙区域 D. 丁区域

【答案】C

【解析】该题主要考查中国四大地理区域和中国农业的知识点。根据题意，该区域的农作物有棉花和水稻，根据“南稻北麦”的分布原则、棉花的主产区之一——长江中下游地区，以及材料中提及的养殖蟹类，可推断此地多水，所以可以确定该景象多发生在南方地区，故C选项正确。

34. 地理区域划分界线①、②、③的主导因素依次是

- A. 气候、降水、地形 B. 地形、气候、降水
C. 地形、降水、气候 D. 降水、地形、气候

【答案】D

【解析】该题主要考查中国四大地理区域划分的知识点。据图可知，①为北方地区与西北地区的分界线，主要影响因素是降水；②为青藏地区与其他区域分界线，主要影响因素是地形；③是南方地区与北方地区分界线，主要影响因素是气候；故 D 选项正确。

35. 甲区域

- A. 以平原、盆地为主 B. 气候湿润
C. 矿产资源丰富 D. 森林广布

【答案】C

【解析】该题主要考查西北地区的知识点。据图可知，甲区域为西北地区；A 选项，西北地区的地形以高原、盆地为主；B 选项，西北地区大部分地区年降水量在 400 毫米以下，是我国干旱面积最广的地区；C 选项，西北地区矿产资源丰富，故 C 选项正确；D 选项，西北地区森林覆盖率低；故 A、B、D 选项错误。

36. 丁区域

- A. 位于地势第三级阶梯 B. 是大江大河发源地
C. 交通工具多为骆驼 D. 传统民居是竹楼

【答案】B

【解析】该题主要考查青藏地区的知识点。据图可知，丁区域为青藏地区；A选项，青藏地区位于地势第一级阶梯；B选项，青藏地区是长江、黄河、澜沧江等众多大江大河的发源地，故B选项正确；C选项，青藏地区以公路运输为主；D选项，竹楼是南方地区传统民居；故A、C、D选项错误。

读图 14 “我国部分农业区分布图” 及表 1，完成 37、38 题。

表 1

| | 人均耕地面积（公顷） | 谷物年产量（千克 / 公顷） |
|---|------------|----------------|
| 甲 | 0.31 | 4916 |
| 乙 | 0.07 | 12414 |



图 14

37. 关于甲、乙两区描述正确的是

- A. 甲区一年一熟，盛产甘蔗
- B. 甲区人均耕地多，耕地单产高
- C. 乙区一年两熟，盛产大豆和甜菜
- D. 乙区人口稠密，广泛种植水稻

【答案】D

【解析】该题主要考查中国农业的知识点。读图可知，甲是三江平原地区，乙是长江中下游地区；A选项，东北地区的主要糖料作物是甜菜；B选项，不符合表格信息；C选项，长江中下游地区油料作物是油菜，糖料作物是甘蔗；D选项，长江中下游地区人口稠密，主要粮食作物是水稻；故A、B、C选项错误。

38. 与乙区相比，甲区发展成为我国重要商品粮基地的有利条件是
- A. 降水充足，热量条件更优越
 - B. 地广人稀，人均年产谷物多
 - C. 河湖众多，灌溉水源充足
 - D. 山环水绕，地形复杂多样

【答案】B

【解析】该题主要考查中国农业的知识点。A和C选项均为乙区域有利条件，不符合题意；B选项，甲区域地广人稀，人均年产谷物多；D选项，三江平原地形以平原为主；故A、C、D选项错误。

读图 15，完成 39、40 题。

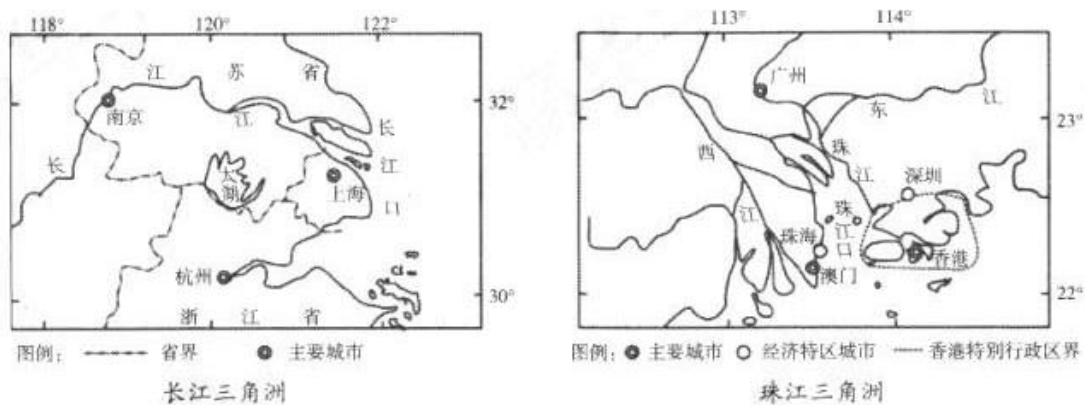


图 15

39. 图中

- A. 两地都位于中纬度沿海地区
- B. 两地均分布有我国重要的工业基地
- C. 长江三角洲的主要城市都是长江沿岸的港口
- D. 珠江三角洲的主要城市均是经济特区

【答案】B

【解析】该题主要考查长江三角洲和珠江三角洲的知识点。A 选项，珠江三角洲位于低纬度地区；B 选项，长江三角洲有沪宁杭工业基地，珠江三角洲有珠三角工业基地，故 B 选项正确；C 选项，杭州不是长江沿岸的港口；D 选项，广州不是经济特区；故 A、C、D 选项错误。

40. 下列关于香港、澳门的叙述，正确的是

- A. 香港以博彩旅游业为主导产业
- B. 香港的经济发展与祖国内地密切相连
- C. 澳门紧邻深圳，香港紧邻珠海

D. 澳门气候温暖湿润，适宜发展农业

【答案】 B

【解析】 该题主要考查港澳地区的知识点。A选项，澳门以博彩旅游业为主导产业；B选项，香港经济发展与祖国内地联系密切，故B选项正确；C选项，澳门紧邻珠海，香港紧邻深圳；D选项，澳门地狭人稠，土地面积小，不适合耕种；故A、C、D错误。

第二部分 综合题（共50分）

41.（14分）地理课程的学习让小华对南美洲的自然风光和风土人情产生了浓厚的兴趣，寒假期间他到南美洲旅行。下面是小华的旅行记录，请你根据图文资料将他的记录补充完整。

出发前的准备：

（1）为了更好地旅行，我查阅了相关资料，了解到南美洲的基本概况：位于南半球和西半球，大部分位于_____带和南温带；西临_____洋，东临大西洋；西部有世界最长的_____山脉，东部平原与高原相间分布。

【答案】 热（1分） 太平（1分） 安第斯（1分）

【解析】 本题主要考查南美洲的纬度位置、海陆位置和主要地形区的分布。要求考生具备良好的理解分析能力和识图能力。需要掌握世界各大洲的地理位置、主要地形区的知识点。

(2) 根据地理位置推测，此次去南美洲旅行我应该多准备 (①/
②) 类衣服，这是因为_____。



图 16

【答案】① (1分) 正值南半球夏季 (或：纬度低) (1分)

【解析】本题主要考查南美洲的自然环境对人类生活的影响。要求学生调动所学知识与生活常识，并与当地现实情况相结合。要求学生重点掌握南北半球的季节差异。

当地行程：

第一站 圣地亚哥

(3) 圣地亚哥是_____ (国家) 首都, 在圣地亚哥我拍摄了很多照片, 右图建筑非常宏伟, 这是_____教的典型建筑。



【答案】智利 (1分) 基督 (1分)

【解析】本题考查世界主要国家的首都与宗教典型建筑的知识点。要求考生具备基本的读图能力和提取地图信息的能力, 要求学生重点掌握世界三大宗教的建筑风格和分布地区。

第二站 玛瑙斯

(4) 我终于来到了期盼已久的世界最大热带雨林分布区, 这里植被繁茂, 空气清新。它所在的地形区是_____, 热带雨林有巨大的生态效益, 如_____ (写出一项), 因此这里设立了自然保护区。但是我发现这里人烟稀少, 是因为_____。导游介绍说巴西与中国有很多经济合作项目, 下列有关两国经济合作叙述正确的是_____ (选择填空)

- ①都属于发展中国家 ②经济合作属于南北对话
③都属于“金砖国家” ④经济合作属于南南合作
- A. ①②③ B. ①③④ C. ②③④ D. ①②④

【答案】亚马孙平原（1分）涵养水源、净化空气、调节大气成分、生物栖息场所等（合理即可）（1分）热带雨林地区气候湿热，（1分）自然保护区限制。（1分）B（1分）

【解析】本题考查南美洲热带雨林的自然环境特点、功能与保护及国家之间的发展与合作。要求考生具备综合分析能力。要求学生需要掌握世界主要植被类型分布区的地形、气候等自然环境特征，并结合题干信息分析区域特征的形成原因；同时要掌握世界主要国家的经济地位，及国家之间的合作关系。

第三站 里约热内卢

（5）这里被称为“狂欢之都”，是巴西的旅游胜地。在街头徜徉，能看到的景象是_____（选择填空）。

- A. 随处有孩子们在空场踢足球
- B. 人们在街边跳着欢快的芭蕾舞
- C. 人们身着奇装异服庆祝开斋节
- D. 街上行人以黄色人种为主

【答案】A（1分）

【解析】本题考查巴西的人文地理知识点。要求考生具备基本的阅读理解能力与判断能力。需要学生掌握世界主要国家的代表性运动、艺术形式、主要节日、人种组成等人文知识。

第四站 乌斯怀亚

（6）这里是世界最南端的居民点。越过其南端的_____海峡就可以到达南极洲。

【答案】德雷克（1分）

【解析】本题考查世界重要海峡的位置及名称。要求考生具备基本的理解分析能力和识图能力。并需要掌握全球海陆分布及各大洲、各大洋之间的分界线。

42. (9分)《旅行青蛙》是一款日本游戏，大家看着这个小青蛙去旅行，等着它的明信片和小礼物……近期旅行蛙去了名古屋和神户，看看它都发现了什么。读图 17、图 18，回答下列问题。

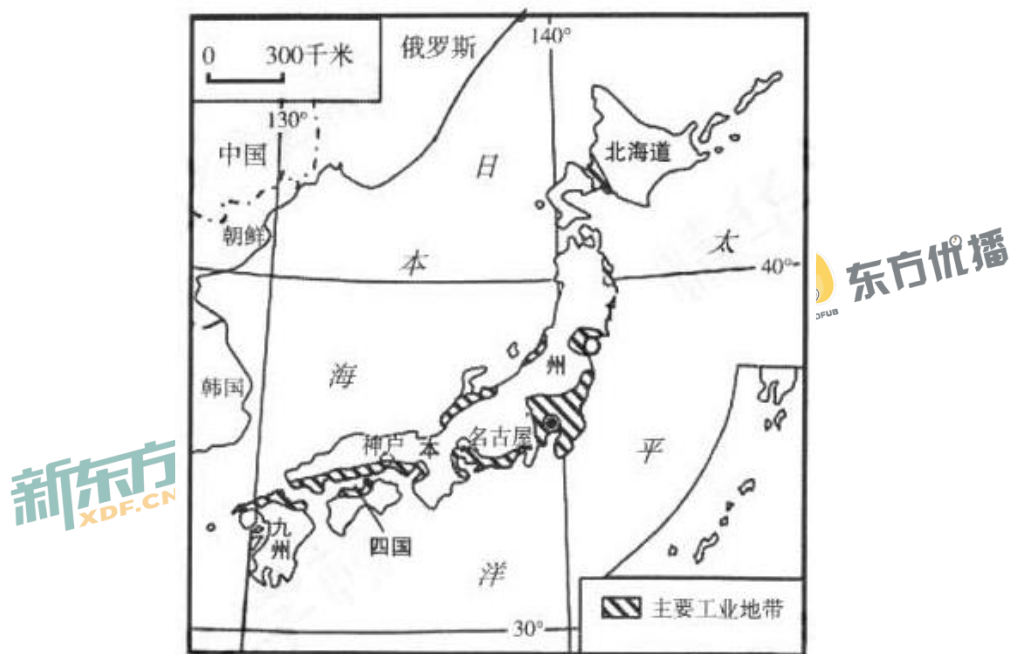



图 17



图 18



明信片 1 有马温泉



明信片 2 名古屋城



明信片 3 JR 中央大厦

(1) 旅行蛙去的名古屋、神户位于日本四大岛中的_____岛。

【答案】本州岛（1分）

【解析】本题考查日本的四大岛屿及主要城市的分布。考查了考生基本的识图能力。需要掌握世界主要国家的领土构成及重要城市的分布位置。

（2）在神户，这只小青蛙竟全然不顾“温水煮青蛙”的警告，去了著名的有马温泉，发回了明信片 1。它研究了六大板块图，发现受_____板块和_____板块_____（挤压/张裂）作用的影响，日本的天然温泉资源丰富；旅行蛙还看到很多工厂，这是因为神户地处日本著名的阪神工业区，位于_____洋和濑户内海沿岸。请你帮助旅行蛙解释日本工业集中分布于此的原因：_____

（至少答出三点）。

【答案】亚欧（1分）太平洋（1分）（可换）挤压（1分）太平洋（1分）

①城市人口集中，是国内最大的消费地；②港口条件优越，巨型船舶可以停靠；③原料、燃料主要依赖进口；④产品主要出口；⑤工厂靠近码头，陆地交通便利；⑥沿海平原集中，填海造陆价格低。

（答出其中 3 点，得 3 分）

【解析】本题主要考查板块运动、日本地理位置及工业知识点。要求考生具备良好的识图能力和综合分析能力。需要掌握世界主要板块交界处的典型区域、世界主要国家的工业区分布及分布原因。

(3) 在名古屋，旅行蛙参观了日本的重要古迹——名古屋城，还参观了 JR 中央大厦，并发回了明信片。从中可以看出日本文化_____ (选择填空)。

- ①深受中国影响 ②东西方兼容
③基督教与佛教兼容 ④传统与现代并存

A. ①②③ B. ②③④ C. ①③④ D. ①②④

【答案】D (1分)

【解析】本题主要考查日本的文化特点。要求考生具备良好的图片信息提取及判读能力。并需要掌握世界主要国家或区域的文化特点。

43. (9分) 学习地理，关注生活。发生在 2018 年寒假的一次寒潮天气过程，让同学们对地理的学习有了更深入的认识。阅读图文资料，回答下列问题。



图 19 影响我国的寒潮路径图

(1) 寒潮是我国冬季危害较大的灾害性天气，它是最高级别的冷空气，寒潮过境可能给当地生产、生活带来的不利影响_____（选择填空）。

- ①减少病虫害 ②低温冻害
③雪灾 ④净化空气
- A. ①② B. ③④
C. ①④ D. ②③

【答案】D（1分）







【解析】本题主要考查了寒潮的特点以及产生的影响，考生需要掌握影响我国的自然灾害的类型、发生时间、分布和影响，并且注意审题，学会分析题目的逻辑。

(2) 在寒潮发生的季节，我国的气温分布特点是_____，其主要影响因素是_____，同时_____加剧了北方的寒冷。

【答案】气温由南向北逐渐降低（1分） 纬度位置（1分） 冬季风（1分）

【解析】本题主要考查了我国冬季气温的分布特点和影响因素，以及冬季风带来的影响。考生需要掌握我国夏冬气温分布的整体特点，学会分析和判读，注意题干所给的时间限定，以及题目含义。

表 2

| | 2月6日 | 2月7日 | 2月8日 |
|-------------------------------|--|--|--|
| 拉萨 (91° 06' E, 29° 36' N) |  气温: -1°C~15°C |  气温: 0°C~16°C |  气温: -1°C~16°C |
| 上海 (121° 47' E, 31° 23' N) |  气温: -2°C~5°C |  气温: 0°C~7°C |  气温: 2°C~6°C |

(3) 从寒潮的影响地区来看: 寒潮的源地位于蒙古—西伯利亚地区, 寒潮路径 A 依次经过我国的_____高原、黄土高原和_____平原; 路径 B 经过新疆的_____盆地、河西走廊, 进而影响到我国南方地区, 其所经过的地区气温普遍下降。

【答案】内蒙古 (1分) 长江中下游 (1分) 准噶尔 (1分)

【解析】本题主要考查了寒潮的影响地区, 以及我国重点地形区的分布, 考生需要具备一定的识图能力和知识调动能力, 把所学知识相结合, 重点掌握我国地形区的名称和位置分布。

(4) 表 2 显示本次寒潮活动期间拉萨和上海的天气状况, 这三日拉萨的日最高气温均比上海_____, 其主要原因是_____。

【答案】高 (1分) 寒潮路径没有经过青藏高原地区, 寒潮影响小。(1分)

【解析】本题通过拉萨和上海的气温对比, 考查了影响拉萨气温的因素, 考生需要具备一定的读表能力和分析理解能力, 注意审题和对题目细节的关注, 重点掌握中国各地区的自然环境特点以及产生的原因。

44. (10分) 为了更好地发挥“一带一路”建设对我国西部地区的带动作用, 2017年12月6日, 西安至成都的高铁通车, 两地间运行时间由原来16小时左右缩短至4小时左右, 千年蜀道进入高铁新时代。读图20, 回答下列问题。

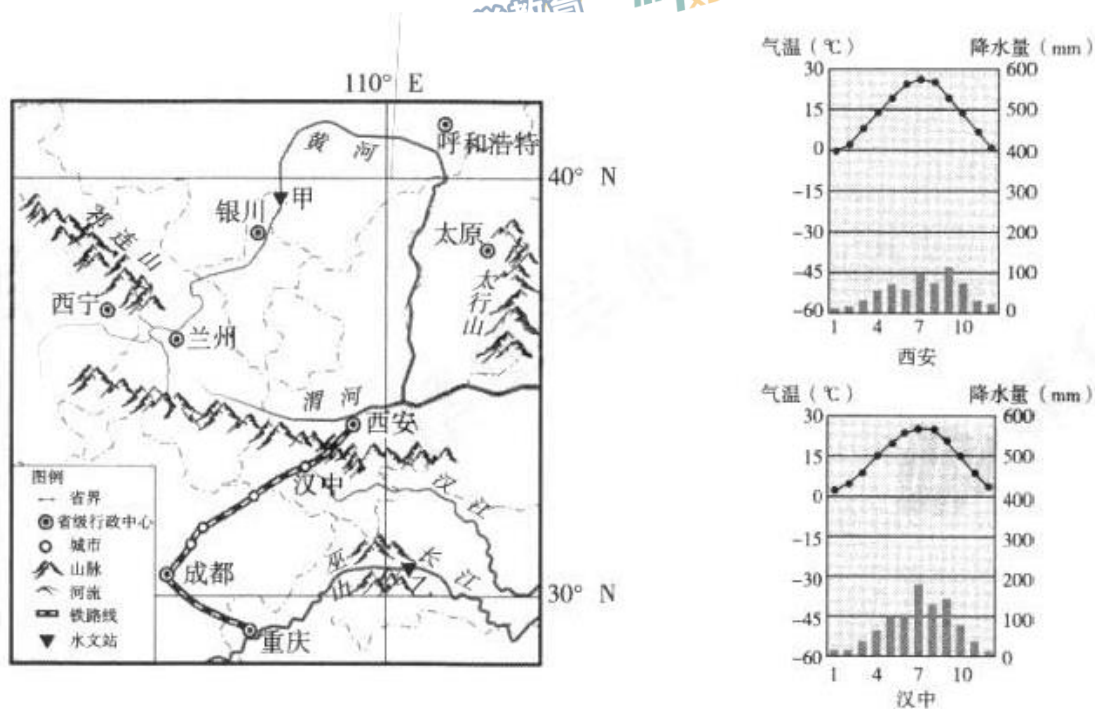


图 20

(1) 西成高铁西安至汉中段穿越了_____ (山脉); 沟通了我国_____ (省级行政区简称) 和川、渝三省市。西成高铁的开通, 加速了沿线地区地域文化与资源的融合, 下列叙述正确的是_____ (双项选择填空)。

- A. 麻辣火锅与羊肉泡馍的邂逅让人大呼过瘾
- B. 三峡的陡峭与兵马俑的气势恢宏让人叹为观止
- C. 加强长江经济带与丝绸之路经济带的联系
- D. 降低沿线各站点城市的土地、房地产价格

【答案】秦岭（1分）陕或秦（1分）A（1分）C（1分）

【解析】本题考查了我国重点地形区的分布、省级行政区的简称以及地域之间的不同文化，重点关注材料图片与题目的结合，学会识图和分析，掌握我国重要铁路线和地形区的位置分布以及我国省级行政区的简称、全称、行政中心、轮廓，并且了解我国各地地域差异和民俗文化。

(2) 据图，汉中属于_____（长江、黄河）流域，图中甲、乙两个水文站可能监测到有结冰期的是_____，流速较快的是_____。

【答案】长江（1分）甲（1分）乙（1分）

【解析】本题考查了我国重要河流的流域、结冰期和流速，需要具备一定的识图能力，并且调动所学知识进行分析，重点掌握河流的水文特征以及相关自然因素对河流的影响。

(3) 汉中一月气温在 0°C 以_____（上/下），年降水量比西安_____（多/少）。这里是温带季风气候向_____气候过渡的地区。

【答案】上（1分）多（1分）亚热带季风（1分）

【解析】本题考查了汉中地区的气候特点，考生需要注意 1 月 0°C 等温线的位置以及对气温曲线和降水量柱状图的判读，学会对各地区的气候差异进行对比，重点掌握我国气候的分布和特点。

45. (8分)《北京城市总体规划(2016年—2035年)》提出了“一核一主一副、两轴多点一区”的城市空间结构。读图21,回答下列问题。

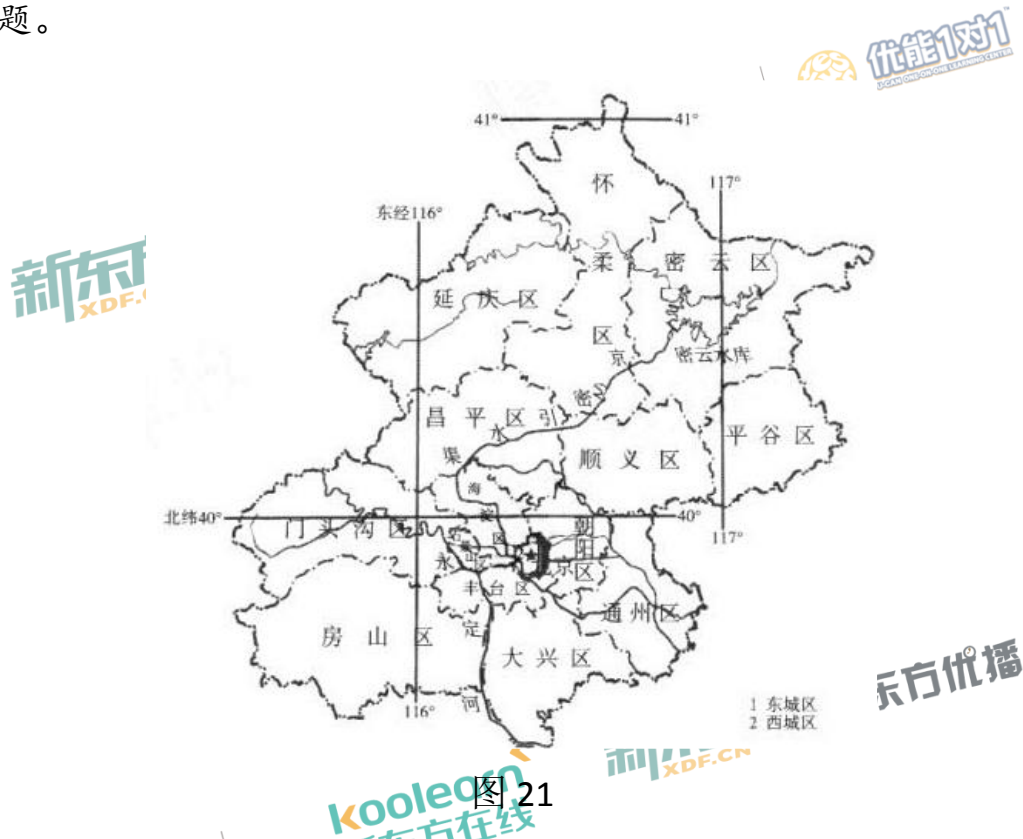


图21

(1)“一区”是指生态涵养区,是北京重要的生态屏障、水源保护地和“大氧吧”,包括门头沟区、平谷区、怀柔区、密云区、延庆区以及昌平区和房山区的部分地区。“一区”的地形类型主要是_____。

【答案】山地(或山区)(1分)

【解析】本题主要考查了北京的地形类型分布,需要考生了解北京的基本自然环境,注意材料的含义以及题目的限定条件,调动所学知识和基本常识,进行分析和运用。

(2)“一主”是中心城区,包括东城区、西城区、朝阳区、海淀区、丰台区、石景山区。其中海淀区的中关村是我国科技创新和人

才资源最为密集的区域，主要发展_____产业，其发展优势条件主要是_____（选择填空）。

- A. 高等院校云集 B. 地形平坦，水源充足
C. 工业基础雄厚 D. 人口稠密，劳动力丰富

【答案】高新技术（1分）A（1分）

【解析】本本题主要考查了北京中心城区的产业类型，需要通过题目内容进行分析梳理，关注题干关键词，重点掌握我国高新技术产业的分布和发展优势条件。

（3）“一核”是指首都功能核心区，故宫和人民大会堂均位于核心区，分别体现出北京是全国的_____中心、_____中心的城市职能。核心区中常见到的传统民居是_____，请结合生活实际谈一谈对该传统民居保护的建议。（至少两条）

【答案】文化（1分）、政治（1分）（可换）四合院（1分）建议合理即可。（2分）

【解析】本题主要考查了北京的城市职能以及北京的传统民居，注意题目含义与北京城市职能的关系，需要具备知识迁移和分析能力，重点掌握北京城市职能的内涵，还有重要聚落的类型、分布地区、对聚落的相关保护措施、以及影响聚落分布的原因。