

2018 年北京市高级中等学校招生考试 历史试卷逐题解析

第一部分 选择题（共 45 分）

本部分共 30 小题，每小题 1.5 分，共 45 分。在每小题列出的四个选项中，选出最符合题目要求的一项。

1. 考古工作者制作完成“北京人头部复原像”（见右图）的主要依据是

- A. 周口店的自然环境
- B. 遗址中的打制石器
- C. 北京人头盖骨化石
- D. 北京人生活想象图



【答案】C

【解析】本题考查中国境内的原始人类相关知识点。所给图片为北京人头部复原像。

- A. 周口店的自然环境，无法复原北京人的头部，故错误；
- B. “打制石器”无法复原北京人的头部，故错误；
- C. 北京人头盖骨化石有助于考古工作者复原北京人头像，故正确；
- D. 北京人生活想象图，缺乏实物依据，故错误。

2. 它上承原始刻绘符号，下启青铜铭文，现代汉字由它演变而来。材料中的“它”是

- A. 甲骨文
- B. 金文
- C. 小篆
- D. 隶书

【答案】A

【解析】本题考查中国古代汉字的演变历程。

A. 本选项为甲骨文，上承原始刻绘符号，下启青铜铭文，已经具备了汉字的基本结构，故正确；

B. 部分青铜器上铸刻的文字被称为金文，所以金文无法下启青铜铭文，故错误；

C.小篆为秦朝统一后的文字，无法上承原始刻绘符号，下启青铜铭文，故错误；

D.隶书流行晚于小篆，无法上承原始刻绘符号，下启青铜铭文，故错误。

3.周灭商以后，封黄帝后代于蓟，蓟城在今西城区广安门一带；封周王室贵族于燕，燕都在今房山区琉璃河镇。材料反映的政治制度是

- A.禅让制 B.分封制 C.郡县制 D.行省制

【答案】B

【解析】本题考查西周分封制相关知识点。题干限定的朝代为周，解题关键句为“封周王室贵族于燕”。

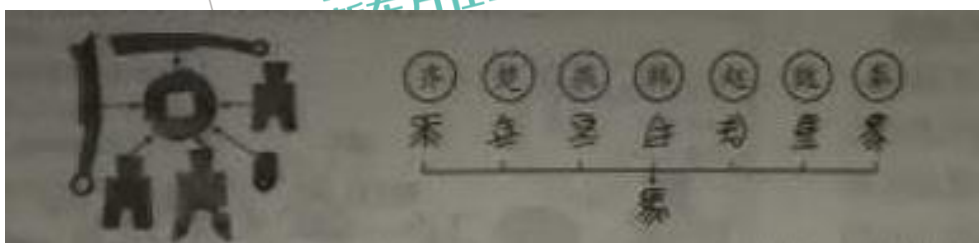
A.禅让制出现于夏朝之前，故错误；

B.分封制为西周时期的政治制度，符合题意，故正确；

C.秦朝实行郡县制，与题干时间不符，故错误；

D.元朝实行行省制，与题干时间不符，故错误。

4.对以下示意图解读正确的是



A.春秋时期的诸侯争霸

B.战国时期的百家争鸣

C.秦朝建立后巩固统一

D.汉武帝加强中央集权

【答案】C

【解析】本题考查秦建立后巩固统一的措施。左图反映货币的统一、右图反映文字的统一，可知为秦朝巩固统一的措施。

A.春秋战国未实现统一，故错误；

B.战国时期百家争鸣属于思想领域，与货币、文字无关，故错误；

C.秦朝建立后统一货币与文字，故正确；

D.本选项汉武帝时间不符，故错误。

5. 右侧地图反映的历史事件的影响是

- A. 为曹操统一北方奠定基础
- B. 为三国鼎立形成奠定基础
- C. 三国鼎立的局面正式形成
- D. 最终结束三国鼎立的局面




【答案】B

【解析】本题考查三国鼎立相关知识点。由图可知孙刘联军在赤壁大破曹操，所给战役为“赤壁之战”，发生于 208 年。

- A. “为曹操统一北方奠定基础” 的战争为官渡之战，故错误；
- B. 赤壁之战为三国鼎立的形成奠定基础，故正确；
- C. “三国鼎立正式形成” 的时间为 222 年，故错误；
- D. “最终结束三国鼎立” 为 280 年司马炎伐吴胜利，故错误。

6. 与以下示意图中①相关的史实是



- A. 北魏改革，民族交融
- B. 定都建康，开发江南
- C. 开凿运河，创立科举
- D. 贞观之治，开元盛世

【答案】D

【解析】本题考查中国古代朝代顺序。根据表中信息“南朝北朝，隋朝”之后，“五代十国”之前，可知①是唐朝。

- A. 北魏改革，民族交融属于南北朝时期，故错误；
- B. 定都建康，开发江南属于南北朝时期，故错误；
- C. 开凿运河，创立科举属于隋朝时期，故错误；
- D. 贞观之治，开元盛世属于唐朝时期，故正确。

7.对以下大事年表解读正确的是

960 年	1005 年	1038 年	1044 年	1125 年	1127 年	1140 年	1141 年
北宋建立	宋辽订立澶渊之盟	西夏建立	宋夏达成和议	金灭辽	金灭北宋	南宋取得郾城大捷	南宋与金签订和约

- A.各民族政权始终处于战争状态
- B.北宋政权存在不超过一百年
- C.辽与南宋维持相对和平的局面
- D.各民族政权并立与力量消长

【答案】D

【解析】本题考查辽宋夏金元时期民族关系发展和社会变化的相关知识。

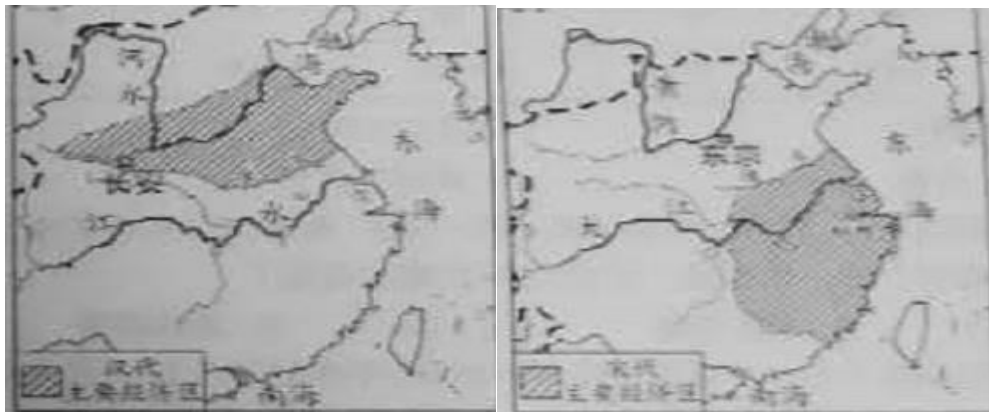
A.北宋和辽签订澶渊之盟后，保持了40多年和平的局面，与选项描述不符，故错误；

B.本选项北宋政权960年建立，到1127年金灭北宋，存在了167年，故错误；

C.本选项辽是与北宋并立的政权，南宋在北宋灭亡之后建立，此时辽已灭亡，故错误；

D.本选项各民族政权并立与力量消长与表格信息相符，故正确。

8.以下两幅示意图反映的变化是



- A.商品经济发展
- B.耕地面积增加
- C.海外贸易兴起
- D.经济重心南移

【答案】D

【解析】本题考查经济重心南移的相关知识。第一幅图片中汉代主要经济区在北部的黄河流域，第二幅图宋代主要经济区转移到了长江流域。

- A.本选项商品经济的发展图片中未体现，故错误；
- B.本选项耕地面积增加在图片中未体现，故错误；
- C.本选项海外贸易的兴起图片中未体现，故错误；
- D.本选项经济重心从黄河流域转移到长江流域，故正确。

9.清朝修建永安寺（位于今北海公园白塔旁），寺内供奉达赖和班禅的塑像，这有利于加强中央政府与某边疆地区的联系。这一地区是

- A.西藏
- B.台湾
- C.新疆
- D.东北

【答案】A

【解析】本题考查明清时期统一多民族国家巩固和发展的相关知识点。根据“供奉达赖和班禅的塑像”可知这一地区为西藏。

- A.本选项西藏与材料中的地区一致，故正确；
- B.本选项台湾与材料中的地区不一致，故错误；
- C.本选项新疆与材料中的地区不一致，故错误；
- D.本选项东北与材料中的地区不一致，故错误。

10.戚继光抗倭和郑成功收复台湾的共同之处是

- A.加强了明朝的对外交往
- B.打破了清朝的闭关锁国
- C.抗击了西方列强的侵略
- D.维护了祖国的海疆安全

【答案】D

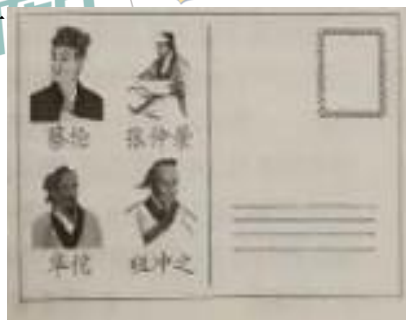
【解析】本题考查明朝的对外关系、明清时期统一多民族国家巩固和发展的相关知识点。

- A.郑成功收复台湾属于清朝时期，与本选项时间不符，故错误；
- B.戚继光抗倭维护了祖国的安全，郑成功使台湾重新回到祖国的怀抱，与清朝闭关锁国政策无关，故错误；

C.本选项戚继光抗倭反抗日本侵略者，日本不属于西方列强，故错误；

D.本选项戚继光抗倭解除了东南倭患，郑成功收复台湾，台湾重回祖国的怀抱，两者都维护了祖国的海疆安全，故正确。

11.某校学生开展中国古代文明系列明信片设计活动，右图明信片设计稿的主题是



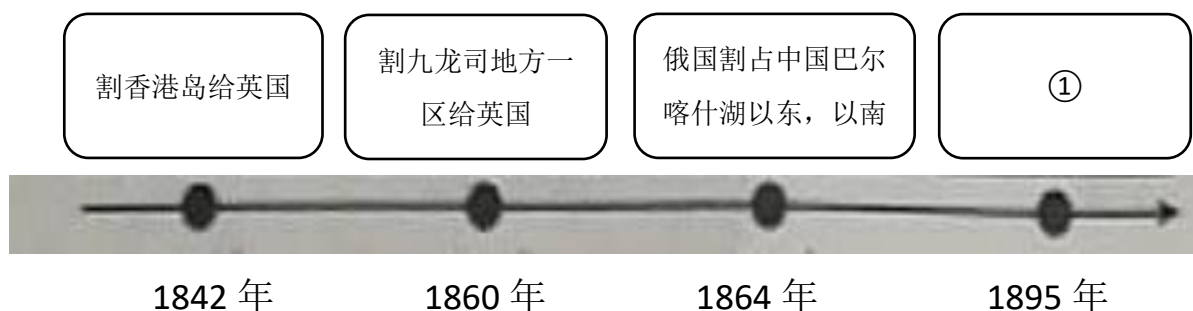
- A.科学技术发达
- B.医学领先世界
- C.手工技艺精湛
- D.绘画成就卓越

【答案】A

【解析】本题考查中国古代的科技文艺。材料中蔡伦改进造纸术；张仲景著有《伤寒杂病论》，被后世称为“医圣”；华佗擅长针灸；祖冲之是数学家。

- A.以上人物的贡献均属于科技方面，故正确；
- B.蔡伦和祖冲之的贡献不属于医学方面，故错误；
- C.张仲景和华佗的贡献属于医学方面，祖冲之的贡献属于数学方面，故错误；
- D.以上人物的贡献均与绘画无关，故错误。

12.以下示意图从某个角度反映了中国近代民族危机的不断加深，其中①应为



- A.俄国割占外兴安岭以南、黑龙江以北
- B.允许日本在通商口岸投资开设工厂
- C.割辽东半岛、台湾、澎湖列岛给日本
- D.允许列强驻守北京到山海关铁路沿线要地

【答案】C

【解析】本题考查中国近代不平等条约相关知识。材料中的内容均从割地角度来反映中国民族危机的不断加深。且①时间为1895年。

- A.1858年中俄《璦琿条约》虽有割地内容，但时间不符，故错误；
- B.本选项不属于割地条款，故错误；
- C.本选项属于1895年《马关条约》中割地内容，故正确；
- D.本选项属于1901年《辛丑条约》中内容，故错误。

13.社会变化反映在人们生活的各个方面，以下是上海白渡桥平均每天通行情况表（单位：次）。材料反映出

时间	人力车	马车	轿子	自行车	汽车	有轨电车
1889年	544	9	11	0	0	0
1926年	14600	0	0	3459	3936	922

- A.等级观念的消失
- B.娱乐方式的多样化
- C.民族工业的发展
- D.交通工具的近代化

【答案】D

【解析】本题考查近代生活的变迁，表格中反映近代交通工具的变迁。

- A.表格中未体现等级观念的变化，故错误；
- B.娱乐方式的多样化包含内容较广，故错误；
- C.民族工业涉及重工业与轻工业的发展情况，与表格内容不符合，故错误；
- D.表格中体现了人力车发展迅速，同时从马车和轿子到自行车、汽车及有轨电车的变化，可以体现交通工具的近代化，故正确。

14.某校排练了一部历史剧，其中一句台词是：请“民主”和“科学”两位先生来救治中国政治上、道德上、思想上的一切黑暗。据此判断在这部历史剧中表现了

- A. 太平天国运动
- B. 辛亥革命
- C. 新文化运动
- D. 北伐战争

【答案】C

【解析】本题考查新文化运动。新文化运动宣扬民主和科学。

- A. 太平天国运动为农民运动，并未提出民主与科学，故错误；
- B. 辛亥革命未涉及到学习西方思想，故错误；
- C. 新文化运动提倡民主与科学，抨击旧道德和旧文化，故正确；
- D. 北伐战争是国民革命运动的高潮，与民主科学无关，故错误。

15.下图反映了红军长征中的一个重大历史事件。《长征组歌》中描述这个历史事件的歌词是



- A. 遵义会议放光辉，全党全军齐欢庆
- B. 昼夜兼程二百四，猛打穷追夺泸定
- C. 雪山低头迎远客，草毯泥毡扎营盘
- D. 陕甘军民传喜讯，征师胜利到吴起

【答案】B

【解析】本题考查中国工农红军长征，依据图片可知涉及内容为飞夺泸定桥。

- A. 本选项遵义会议 1935 年 1 月召开，在飞夺泸定桥之前，故错误；

- B.本选项提及泸定桥，故正确；
- C.本选项翻雪山是飞夺泸定桥之后，故错误；
- D.本选项 1935 年 10 月陕北吴起镇会师是飞夺泸定桥之后，故错误。

16.中国共产党是抗日战争的中流砥柱。以下史实能证明这一结论的有

- ①九一八事变后，中国共产党领导东北抗战
- ②促成国共两党再度合作，团结抗战
- ③建立敌后抗日根据地，开展游击战争
- ④中国与反法西斯国家结盟，共同作战

A. ①②③

B. ①②④

C. ①③④

D. ②③④

【答案】A

【解析】本题考查抗日战争的相关知识。

①项，九一八事变后，中国共产党杨靖宇等人在东北组织游击队，开展抗日游击战争，故正确；

②项，西安事变的和平解决，标志抗日民族统一战线初步形成，故正确；

③项，全国抗战爆发后，中国共产党领导的军队深入敌后，建立抗日根据地，展开群众性的人民游击战争，故正确；

④项，世界反法西斯同盟是同盟国共同反对法西斯侵略，故错误。综上所述，A 选项正确。

17.人民解放军经历 142 天的连续作战，从 277 万人增加到 358 万人；国民党军从 365 万人下降到 204 万人，主力基本被消灭。取得以上战果的是

- A.转战陕北
- B.挺进大别山
- C.三大战役
- D.渡江战役

【答案】C

【解析】本题考查解放战争的相关知识。

A.中共中央和解放军总部转战陕北，粉碎了国民党军队对陕北的重点进攻，并未消灭国民党主力，故错误；

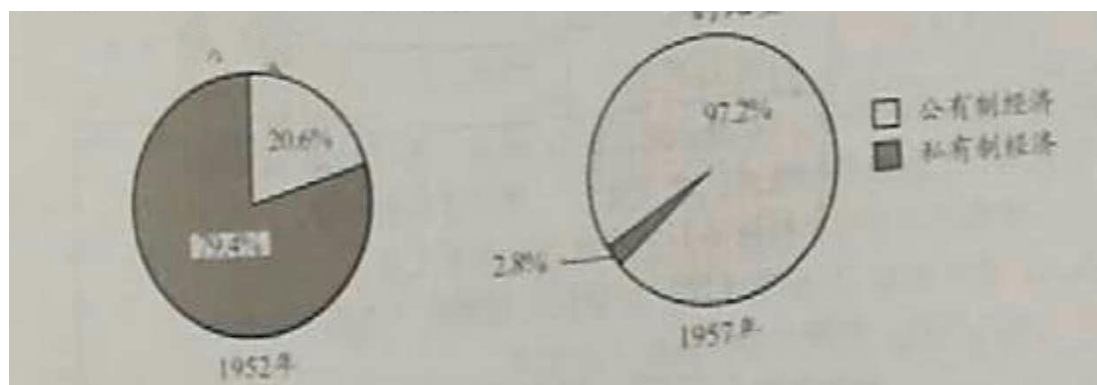
B.挺进大别山揭开了人民解放军战略进攻的序幕，并未消灭国民党主力，故错误；

C.三大战役使国民党军队的主力基本被消灭，故正确；

D.渡江战役结束了国民党在大陆的统治，故错误。

18.下图反映了我国公有制、私有制经济成分比重的变化。导致这一变化的是

公有制经济和私有制经济在国民经济中的比重



- A.进行土地改革
- B.实行三大改造
- C.开展人民公社化运动
- D.推行家庭联产承包责任制

【答案】B

【解析】本题考查三大改造的相关知识。

- A.土地改革在 1952 年完成，与公有制占比无关，故错误；
- B.三大改造基本实现了生产资料私有制向社会主义公有制的转变，故正确；
- C.人民公社化运动时间为 1958 年，与材料不符，故错误；
- D.家庭联产承包责任制是在 1978 年改革开放后，与材料不符，故错误。

19.右图是党中央、国务院、中央军委颁发的功勋奖章，获得这枚奖章的是

- A.邓稼先
- B.王进喜
- C.焦裕禄
- D.袁隆平



两弹一星功勋奖章

【答案】A

【解析】本题考查新中国建设成就及优秀模范人物的相关知识。

- A.邓稼先一生从事原子弹研究，被授予“两弹一星功勋奖章”，故正确；
- B.王进喜被誉为“铁人”，故错误；
- C.焦裕禄被人民颂为“党的好干部”，故错误；
- D.袁隆平被称为“杂交水稻之父”，故错误。

20.下列史实反映的共同主题是

1992 年 11 月，大陆海协会和台湾海基会达成体现一个中国原则的“九二共识”

1997 年 7 月 1 日，中国对香港恢复行使主权

1999 年 12 月 20 日，中国对澳门恢复行使主权

A.祖国统一

B.外交成就

C.军队建设

D.民族团结

【答案】A

【解析】本题考查祖国统一的相关知识。材料给出“九二共识”、香港回归、澳门回归内容，与祖国统一有关。

- A.与材料主题一致，故正确；
- B.港澳及台湾为内政问题，与外交无关，故错误；
- C.材料未提及军队建设，故错误；
- D.材料未涉及民族问题，故错误。

21.右侧漫画反映出古代雅典

- A.通过扩张成为地中海霸主
- B.重视教育并鼓励学术研究
- C.所有居民都有参政的权利
- D.公民大会是最高权力机构



【答案】D

【解析】本题考查雅典民主政治相关知识。读图可知，雅典公民大会是最高权力机关，全体公民行使直接民主权利。

- A.扩张成为霸主与题无关，故错误；
- B.重视教育与题无关，故错误；
- C.本邦成年男性为公民，拥有参政权利，不是所有居民都可以参政，故错误；
- D.公民大会是最高权力机构，故正确。

22.12 世纪初，伦敦市民每年向王室缴纳 300 镑税金，以此获得国王对市民自选市长和市政官的许可。材料反映出中世纪欧洲

- A.封君封臣制度逐步形成
- B.国家税收主要来源于城市
- C.城市获得了部分自治权

D.市民以暴力方式反抗贵族

【答案】C

【解析】本题考查西欧城市兴起的相关知识。

- A.材料并未体现封君封臣，故错误；
- B.本选项未说明市民所交税金为主要来源，故错误；
- C.通过市民选市长和市政官可体现城市获得部分自治权，故正确；
- D.本选项未体现暴力反抗，故错误。

23.1493年，一封发自西班牙的信件中说：“有个叫克里斯托弗·哥伦布的人，航行到了地球另一端，直抵印度附近地区——至少他这么认为。”信中的“地球另一端”实际是

- A.美洲
- B.大洋洲
- C.亚洲
- D.非洲

【答案】A

【解析】本题考查新航路开辟相关知识，哥伦布发现美洲新大陆。

- A.本选项美洲符合史实，故正确；
- B.本选项大洋洲地理位置与题不符，故错误；
- C.本选项亚洲地理位置与题不符，故错误；
- D.本选项非洲地理位置与题不符，故错误。

24.《拿破仑法典》反映了保护私有财产，废除法律面前的阶级差异等原则。这说明拿破仑

- A.领导法国人民推翻封建王朝
- B.维护法国大革命成果
- C.给欧洲各国带来了民族压迫
- D.在法国实行专制统治

【答案】B

【解析】本题考查《拿破仑法典》相关知识。

- A.法国大革命中推翻封建王朝的领导人并不是拿破仑，故错误；
- B.《人权宣言》强调私有财产神圣不可侵犯，与材料表述相符，故

正确；

- C.给欧洲带来民族压迫与材料无关，故错误；
- D.拿破仑帝国对外战争与材料无关，故错误。

25.一位历史学家说：“推翻德川幕府的人一旦掌握政权，他们认为驱逐西方的唯一方法就是学习西方的技术和管理秘诀……为了保卫国家，他们显然要认真地改造国家。”材料中“改造国家”的事件是

- A.大化改新
- B.彼得一世改革
- C.明治维新
- D.俄国农奴制改革

【答案】C

【解析】本题考查明治维新相关知识，依据“推翻德川幕府”，可知题目描述事件为日本明治维新。

- A.本选项与材料描述不符，故错误；
- B.彼得一世改革为俄国改革，故错误；
- C.本选项史实材料，故正确；
- D.俄国农奴制改革为俄国改革，故错误。

26.2018年9月，右图中的纪念碑将在伦敦落成，以纪念十几万中国劳工，他们在100年前支援协约国取得了一场战争的胜利。这场战争是

- A.英国内战
- B.拉丁美洲独立战争
- C.印度民族大起义
- D.第一次世界大战



【答案】D

【解析】本题考查第一次世界大战的相关知识。

- A.英国内战的时间为17世纪40年代，与题中时间不符，故错误；
- B.拉丁美洲独立战争时间为18世纪末19世纪初，与题中时间不

符，故错误；

C.印度民族大起义时间为 19 世纪，与题中时间不符，故错误；

D.一战时间为 1914-1918，符合题中时间，故正确。

27.1933 年美国颁布法规，规定工人的工作时数为每周 35 小时，最低工资为每小时 0.4 美元。与这一法规相关的是

A.战时共产主义政策

B.罗斯福新政

C.马歇尔计划

D.杜鲁门主义

【答案】B

【解析】本题考查罗斯福新政的相关知识。

A.战时共产主义政策发生在苏俄，与美国无关，故错误；

B.罗斯福新政中规定最高工时和最低工资来保护工人权益，故正确；

C.马歇尔计划发生在 1947 年，时间不符，故错误；

D.杜鲁门主义发生在 1947 年，时间不符，故错误。

28.以下示意图呈现了第二次世界大战的主要进程。①应为



A.莫斯科保卫战

B.斯大林格勒战役

C.诺曼底登陆

D.德国无条件投降

【答案】B

【解析】本题考查第二次世界大战的相关知识。

A.莫斯科保卫战爆发于 1941 年 10 月，早于偷袭珍珠港的 1941 年 12 月，故错误；

B.斯大林格勒战役为二战中的转折点，故正确；

C.诺曼底登陆标志着欧洲第二战场的开辟，故错误；

D.德国无条件投降时二战已经进入末期，故错误。

29.某历史公众号准备推送一期专题——亚非拉国家民族独立和振兴。下列各项可以放进专题资源包的是

①论文：《民族认同与德国的重新统一》

②图片：《纳米比亚独立》

③地图：《巴拿马收回运河主权的斗争》

④视频：《苏联的改革》

A. ①③

B. ①④

C. ②③

D. ②④

【答案】C

【解析】本题考查亚非拉国家的独立和振兴的相关知识。

①项，德国是欧洲国家，故错误；

②项，纳米比亚属于非洲国家，故正确；

③项，巴拿马属于拉丁美洲国家，故正确；

④项，苏联本身属于独立国家，故错误。

综上，C选项正确。

30.习近平主席在2018年上合青岛峰会上说：“各国只有加强团结协作，深化和平合作、平等相待、开放包容、共赢共享的伙伴关系，才能实现持久稳定和发展。”以下史实中能印证这一观点的是

①萨拉热窝事件

②北约、华约对峙

③欧盟的建立和发展

④中国加入世界贸易组织

A. ①②

B. ③④

C. ①③

D. ②④

【答案】B

【解析】本题考查战后世界格局的演变的相关知识。本题需要考生选择体现合作，促进发展的选项。

①项，萨拉热窝事件是一战的导火索，故错误；

②项，冷战中两大军事组织的对峙导致了世界局势的紧张与动荡，故错误；

③项，欧盟的建立和发展促进了欧洲的合作和发展，故正确；

④项，中国加入世贸组织进一步深化了对外开放，促进了与各国的经济交流，故正确。

综上，B 选项正确。

第二部分 材料分析题（共 45 分）

31.（12 分）马克思主义是随着实践的发展而发展的科学。

材料一 《宣言》称，“到目前为止的一切社会的历史都是阶级斗争的历史”，资本主义制度的灭亡和无产阶级的胜利是同样不可避免的。马克思和恩格斯相信，未来社会中，资产阶级生产资料私有制和剥削制度将被消灭，因此不再有阶级。未来社会必将创造出高于资本主义社会的生产力。由于马克思、恩格斯以建立一个实现人的自由而全面发展的理想社会为目标，所以他们的思想为人们所向往所追求。

——摘编自刘玉安等《西方政治思想通史》

（1）材料一中的《宣言》是指哪部著作？（1 分）依据材料一，说出马克思和恩格斯构想的未来理想社会的特点。（2 分）

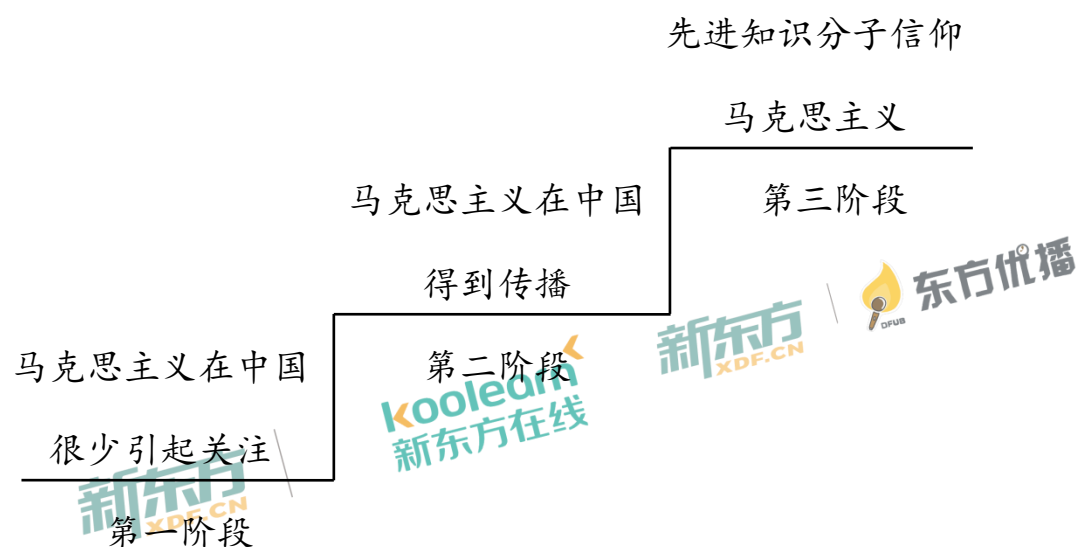
【解析】本题主要考查马克思主义的相关知识，由题干可知，《宣言》的作者是马克思和恩格斯，且通过“无产阶级的胜利是同样不可避免的”可知，《宣言》指的是《共产党宣言》；依据材料可知，马克思和恩格斯认为“未来社会中，资产阶级生产资料私有制和剥削制度将被消灭……创造出高于资本主义社会的生产力”，结合材料和相关知识作答即可。

材料二 俄国革命前，马克思主义在中国很少引起关注。列宁在俄国夺取政权后，李大钊开始在中国传播马克思主义。虽然李大钊接受了俄国革命的主张，陈独秀也注视着俄国革命的局势，但他们还不是严

格意义上的马克思主义者。1919 年的反帝运动期间，李大钊、陈独秀的思想有了重大发展，他们都坚定地站到了马克思列宁主义阵营，并且还有一群学生追随他们。

——摘编自史华慈《中国的共产主义与毛泽东的崛起》

(2) 以下是依据材料二绘制的马克思主义在中国传播过程示意图。依据材料二，说出促成以下各阶段转变的重大历史事件的名称。(2 分)



【解析】 本题以马克思主义在中国的传播为主要考查点，一定程度考查图片的解读和历史史实的识记能力。依据题干及题图可知，促成转变的重大历史事件的时间分别在 1917 年俄国十月革命前后和 1919 年反帝运动期间，结合所学知识可知，在此时间内与马克思主义在中国的传播相关的事件分别是新文化运动和五四运动。

材料三 中国共产党的建立大事年表（部分）：

- ①1920 年，《新青年》成为上海共产党组织的机关刊物。
- ②1920 年，北京的共产党早期组织“共产党小组”在北京大学正式成立。
- ③1921 年，北京共产党小组的邓中夏等人在长辛店给工人开办劳动补习学校。
- ④1921 年，中共“一大”召开，确定党的纲领是“以无产阶级革命军队推翻资产阶级”“采用无产阶级专政，以达到阶级斗争的目的——消灭阶级”。

（3）请用材料三中的史实证明下列观点。（2 分。填写序号即可）

中国的马克思主义思想运动一开始就重视工人教育：_____

中国共产党提出用革命手段实现奋斗目标：_____

【解析】本题主要考查中国共产党建党的相关知识，侧重考查历史史实与观点的匹配能力。由题干可知，“中国马克思主义思想运动一开始就重视工人教育”可从③中“给工人开办劳动补习学校”得到印证；“用革命手段实现奋斗目标”可从④中“以无产阶级革命军队推翻资产阶级”得到印证。

材料四

	革命道路	建议道路
马克思主义 理论	武装斗争夺取政权	发展生产力，实现共产主义
苏俄	国情：主要城市工人阶级力量强大 道路：在中心城市发动武装起义进而夺取全国胜利，建立第一个社会主义国家，这被视为社会主义革命的经典道路	领导人：列宁 政策：① 内容：用粮食税代替余粮收集制；允许多种经济并存，发展商品经济
中国	国情：农民占人口绝大多数；在农村敌人统治力量薄弱 道路：中国共产党建立井冈山革命根据地，走以农村包围城市、最后夺取全国政权的道路	领导人：② 道路：改革开放 内容：农村实行包产到户；城市进行国有企业改革；建立经济特区

(4) 依据材料四，说出苏俄和中国革命道路的共同点。(2分) 将表格中①②补充完整。(2分)

【解析】本题以苏俄和中国的革命道路的相关知识作为主要考查点，侧重考查历史史实的基本识记。根据题目所给出的表格并结合所学知识，寻找共同点作答即可。由题可知，表格中①政策的领导人是列宁，内容是用粮食税代替余粮收集制，故这一政策为新经济政策；表格中②领导人的道路是改革开放，由此可知这位领导人是邓小平。

材料五 社会主义核心价值观的核心价值原则来源于马克思主义价值理论；社会主义核心价值观的思想方法来源于马克思主义的方法论。

中华优秀传统文化、革命文化和社会主义先进文化展现了中华优秀传统文化的内涵。中华优秀传统文化滋养社会主义核心价值观；革命文化熔铸社会主义核心价值观；社会主义先进文化涵育社会主义核心价值观。

——摘编自方晓春《社会主义核心价值观与马克思主义价值理论的逻辑关系》等

(5) 依据材料五，说明社会主义核心价值观与马克思主义理论、中华优秀传统文化的关系。(1分)

【解析】本题主要考查社会主义核心价值观与马克思主义理论、中华优秀传统文化的关系。依据材料并结合所学可知，社会主义核心价值观的核心价值原则和思想方法来源于马克思主义价值理论和方法论，中国优秀文化涵养、熔铸和涵育社会主义核心价值观。结合以上观点作答即可。

32. (11 分) 现代旅游由古代旅行、游历等活动演进发展而来。

材料一

时期	人物	游历及成就	时期	人物	游历及成就
春秋		孔子周游列国， 宣传自己的思想。他思想的核心是 <u>①</u>	西汉		张骞出使西域， 到达了很多国家，加强了汉朝与西域各国的联系
<u>②</u>		玄奘西游天竺， 研习佛法，并将沿途的风土人情等情况介绍到中国	明朝		郑和七下西洋， 到达 30 多个国家和地区。其意义是 <u>③</u>

(1) 将材料一的表格填写完整。(3 分) “一带一路”倡议是对古丝绸之路的传承和提升。以上人物中曾经在丝绸之路留下足迹的有

_____ (1 分)

【解析】 本题考查的是中国古代思想文化与对外交流的相关知识。第一小问要求补充完整表格。由题干可知，①考查的是孔子的核心思想“仁”；②考查的是高僧玄奘西游天竺的朝代，属于唐朝；③考查的是郑和下西洋的意义，应当从对国内经济和对外交流两方面影响来作答。第二小问考查丝绸之路的路线，丝绸之路分为海上丝绸之路和陆上丝绸之路。陆上丝绸之路西出长安，向西经河西走廊出玉门关到达中南亚、欧洲地区。海上丝绸之路从东南沿海港口出发，最远到达非洲东海岸和红海沿岸。人物足迹符合以上即为所选答案。

材料二 英国海滨旅游最初局限于贵族和上流社会人士。工业革命后，随着收入的增加，资产阶级人士也开始参与其中。生产力的提高和工人阶级的不懈斗争，使资本家不得不增加工人的工资并给予他们带薪假日；1840 年以后，铁路的修建使交通费用降低，工人也开始到海滨旅游。海滨旅游在英国逐渐蔚然成风。

新东方
XDF.CN

——摘编自马婕妤《英国工业革命期间的休闲生活》

(2) 依据材料二，说出海滨旅游在英国蔚然成风的背景和条件。(2 分)

【解析】本题考查的是工业革命的相关知识，由材料可以看出，英国社会在阶级、经济和交通等方面出现了新的变化。依据材料二按以上几个方面归纳提炼出背景和条件即可。

材料三 改革开放初期，中国只有少部分人能享受到旅游的乐趣，1984 年中国人均出游仅有 0.2 次，到 2015 年超过 3 次，2017 年则达到 3.7 次。除休闲娱乐外，开阔视野、陶冶性情、学习知识也成为旅游者的追求，旅游已是人们提升幸福指数的重要途径。

——摘编自夏杰长、徐金海《中国旅游业改革开放 40 年：回顾与展望》

(3) 依据材料三，概括中国旅游的变化。(1 分) 结合所学，分析变化的原因。(1 分)

【解析】本题考查的是社会生活的变迁，即改革开放后社会生活的新变化。第一小问按年代划分分层总结即可；第二小问考查的是改革开放对社会各方面的影响，结合材料和改革开放的相关知识即可答出原因。

材料四 历年世界旅游日的主题口号（部分）：

序号	年份	口号
①	2001 年	旅游业：为和平和不同文明之间对话服务的工具
②	2003 年	旅游业：一种消除贫困、创造就业与社会和谐的驱动力
③	2008 年	旅游：应对气候变化挑战
④	2011 年	旅游——连接不同文化的纽带
⑤	2013 年	旅游与水：保护我们共同的未来
⑥	2016 年	旅游促进发展，旅游促进扶贫，旅游促进和平

（4）依据材料四，概括世界旅游日口号体现的 21 世纪的时代课题。

（3 分）

要求：仿照示例，完成表格。

示例：

序号	时代课题
①	世界和平
⑥	

序号	时代课题 1	序号	时代课题 2
	经济发展		

【解析】 本题主要考查学生总结材料主题的能力，新时代的主题主要是和平与发展，细化区分有经济发展、环境保护等方面，结合各课题侧重点进行归纳即可。

33. (12 分) 书籍·阅读·进步

材料一 宋朝印刷业在唐、五代的基础上发展起来，雕版印刷技术进一步提高，又发明了活字印刷术。宋朝政府把出版书籍看作是振兴文教和巩固统治、宣扬国力的一项措施。国子监是全国最高学府，刊印书籍质量精良，不以营利为目的，只收纸墨工本费。宋朝还有大量民间书坊和书店，出版的书籍种类多，数量大，但因节约成本，质量不如政府所印。




——摘编自潘吉星《中国科学技术史：造纸与印刷卷》等

(1) 依据材料一，对以下表述做出判断：直接从材料得出的，在括号内划“√”；违背材料所表达意思的，在括号内划“×”；材料没有涉及的，在括号内划“○”。(4分)

- ①活字印刷技术出现在宋朝。()
- ②宋朝政府重视书籍的印刷和出版。()
- ③活字印刷成为宋朝印制书籍的主要方式。()
- ④宋朝民间刻印的书籍质量好于政府印刷。()

【解析】 本题考查的知识点为中国古代科学技术的相关知识，侧重考查印刷术的出现、特征及其对文明发展的贡献及影响。重点考查学生阅读材料、提取信息、理解信息的能力，要求学生结合材料具体内容进行正确解读。

材料二

			
[意]马可·波罗 《马可·波罗 行纪》 14 世纪	[意]但丁 《神曲》 14 世纪	[美]托马 斯·潘恩 《常识》 1776 年	[美]斯托夫人 《汤姆叔叔的 小屋》 1852 年
内容：介绍了繁 荣富庶的东方	内容：抨击教会 的腐败，肯定人 的尊严	内容：批判英王 的暴政，号召北 美人民脱离英 国统治	内容：揭露了黑 人奴隶制度的 罪恶

(2) 从材料二的书籍中任选其一（《马可·波罗行纪》除外），说出与之相关的历史事件及这一事件的作用。（2分）

示例：书籍：《马可·波罗行纪》

相关事件：新航路开辟

作用：世界开始连成一个整体，促进欧洲资本主义的发展。

【解析】本题考查对世界近代史基本史实及其意义的认知与理解。重点考查学生对世界近代史中文艺复兴、美国独立战争和美国南北战争等重要史实和其所产生影响的认知，要求学生通过材料中有效信息如时间、书籍名称和主要内容介绍等信息识别出相应的历史史实并分析其作用。

材料三 1900—1911 年，中国翻译西方书籍至少 1599 种，超过此前翻译书籍总数的两倍。

晚清时期翻译西方各类书籍比例如下：

时间	社会科学 (政治学、 经济学和 法学等)	自然科学 (物理学、 化学和生 物学等)	应用科学 (医学、机 器制造等)	其他
1860—1899 年	22.16%	29.19%	40.54%	8.11%
1902—1904 年	61.02%	21.09%	10.55%	7.34%

——摘编自熊月之《西学东渐与晚清社会》

(3) 依据材料三，说出 1900 年前后中国翻译西方书籍发生的变化。(2 分) 结合所学，分别分析发生变化的原因。(2 分)

【解析】 本题主要考查对中国近代史发展过程中基本特征的认知和理解。重点考查学生阅读材料、理解和运用信息进行分析的能力，要求学生首先对材料信息内容进行正确解读，其次要求学生结合所学知识分析 1900 年前后中国翻译西方书籍发生变化的原因，以此为基础回答即可。

材料四 近年来，随着网络在线阅读等数字化阅读方式的流行，传统阅读方式正在受到挑战。网络媒体带来大量信息，搜索更加方便；数字化阅读以文字、音像、视频满足着人们的多元阅读需求。但以快餐式、碎片化、跳跃式为特征的“浅阅读”，可能减弱阅读者深入思考和科学思辨的能力，造成读写、表达能力的下降，引起人们的担忧。

——摘编自刘艳妮《数字化阅读对传统阅读的影响研究》等

(4) 依据材料四，结合自己的学习生活，谈谈对阅读方式变化的看法（2分）

【解析】本题重点考查学生阅读材料、提取、理解和运用信息进行分析的能力。要求学生对材料信息内容进行正确解读，并结合自身理解对材料内容要点进行分析，言之有理即可。

34. (10分) 北京中轴线是华夏文明的精彩印记。某历史社团开展了中轴线考察活动。

【路线规划】

材料一 明清时期，北京的中轴线南起永定门，向北依次经过今正阳门、天安门、紫禁城、景山、地安门，最后直抵鼓楼、钟楼，全长 7.8 公里。

(1) 依据材料一和右图，将①②的地点名称填写在相应位置。(2分)


【解析】本题重点考查对材料信息的提取和对图片的判读能力。依据材料“北京的中轴线南起永定门……全长 7.8 公里”可知，①②地点的相应位置，依此回答即可。



明清时期中轴线略图

【文献研究】

材料二 明清北京城市布局继承了唐、宋、元都城的设计思想。宫殿、坛庙都分布在中轴线上或两侧（如右图），越接近中轴线者越尊贵，突出了宫城的雄伟气势和帝王的至尊。中轴线体现的中心、中正观念是中国古代最显著的文化特征，也是中华大一统思想和文化的基础与核心。



（2）依据材料二，说出明清北京城市布局的特点。（2分）

【解析】本题重点考查对材料中相关信息及图片的分析提炼能力。由材料可知明清北京城市布局特点“继承了唐、宋、元都城的设计思想……帝王的至尊”且“中轴线体现的中心、中正观念……基础与核心”依此结合所学作答即可。

【实地考察】

材料三 考察笔记（节选）

- 考察路线图（见右侧手绘图）
- 天安门广场

1949年，开国大典在天安门广场举行。中华人民共和国成立后，在广场中央建立了人民英雄纪念碑。现在广场西侧是人民大会堂，东侧是国家博物馆。人民大会堂是全国人大和全国政协召开会议的地点。

- 奥林匹克公园

奥林匹克公园的建立使古老北京壮美的中轴线从历史延伸到了现代，北京中轴线最终与大自然融为一体。

(3) 依据材料三，概括中华人民共和国建立后，北京中轴线发生的变化。(2分)

【解析】本题重点考查历史信息的提炼及概括总结能力。根据材料“现在广场西侧……东侧是国家博物馆”可知，新中国成立后，北京中轴线发生了变化；从“历史延伸到现代”“与大自然融为一体”可知，新中国建立后，北京中轴线逐渐与大自然融为一体。

【成果运用】

北京中轴线申遗正在筹备。提名列入《世界遗产名录》的价值标准(部分)如下：

序号	内容
标准 1	能为一种已消逝的文明或文化传统提供独特的见证
标准 2	代表一种独特的艺术成就，一种创造性的天才杰作
标准 3	可作为一种建筑或建筑群的杰出范例，展示出人类历史上的重要阶段
标准 4	与具有特殊意义的事件有直接的联系

(4) 从以上所有材料中选取恰当内容，说明北京中轴线符合提名的一项标准的理由。(2分)

示例：标准 1：理由：钟楼、鼓楼在明清北京起报时作用，见证了古代中国人的时间观念和生活方式。

【解析】本题主要考查对材料的判读能力，需选择符合提名的一项标准的理由进行作答，注意答题样式须符合示例，观点明确，符合论从史出，史论结合的要求即可。

(5) 北京中轴线申遗需要同学们的参与，请你提出一项助力申遗的行动建议。(2分)

要求：紧扣中轴线申遗主题，切实可行；说出具体做法。

【解析】本题考查方向较为灵活，着重考查结合史实的表达能力。所提助力申遗的行动建议需紧扣中轴线申遗主题并切实可行，在表达时要求说出具体做法。

新东方
XDF.CN

koolearn
新东方在线

新东方
XDF.CN

东方优播
OPUB