

今日（12日）上午，2014年安徽省公务员考试如期举行。据悉，全省共有15万考生报名参加，今年安徽选拔选调生考试也将同日进行。

为了方便考生查阅，安徽省党校公考培训中心将在第一时间公布2014年安徽公务员行测真题及解析。

2014年安徽省公务员考试行测真题及解析

2014年安徽省公务员考试行测真题

第一部分 数量关系

(共10题，参考时限15分钟)

在这部分试题中，每道题呈现一段表达数字关系的文字，要求你迅速、准确地计算出答案。

请开始答题：

1.

某单位利用业余时间举行了3次义务劳动，总计有112人次参加，在参加义务劳动的人中，只参加1次、参加2次和3次全部参加的人数之比为5：4：1，问该单位共有多少人参加了义务劳动？

A.70 B.80 C.85 D.102

2.环形跑道长400米，老张、小王、小刘从同一地点同向出发，围绕跑道分别慢走、跑步和骑自行车。已知三人的速度分别是1米/秒、3米/秒和6米/秒，问小王第3次超越老张时，小刘已经超越小王多少次？

A.3 B.4 C.5 D.6

3.箱子里有大小相同的3种颜色玻璃珠各若干颗，每次从中摸出3颗为一组，问至少要摸出多少组，才能保证至少有2组玻璃珠的颜色组合是一样的？

A.11 B.15 C.18 D.21

4.一菱形土地的面积为平方公里，菱形的最小角为60度，如果要这一菱形土地向外扩张变成一正方形土地，问正方形土地边长最小为多少公里？

A. B. C. D.2

5.从A市到B市的航班每周一、二、三、五各发一班，某年2月最后一天是星期三，问当年从A市到B市的最后一次航班是星期几出发？

A. 星期一 B. 星期二 C. 星期三 D. 星期五

6.甲乙两辆车从A地驶往90公里外的B地，两车的速度比为5: 6。甲车于上午10点半出发，乙车于10点40分出发，最终乙车比甲车早2分钟达到乙地。问两车的时速相差多少千米/小时？

A.10 B.12 C.12.5 D.15

7.某有色金属公司四种主要有色金属总产量的1/5为铅，1/3为铜，镍的产量是铜和铝产量之和的1/4，而铅的产量比铝多600吨，问该公司镍的产量为多少吨？

A.600 B.800 C.1000 D.1200

8.一个圆形的草地中央有一个与之同心的圆形花坛，在花坛四周和草地四周上各有3个不同的点，安放了洒水的喷头，线用直管将这些喷头连上，要求任意2根喷头都能被一根水管连通，问最少需要多少根水管？(一根水管上可以连接多根喷头)

A.5

B.8

C.20

D.30

9.某市电价为一个自然月内用电量在100度以内的每度电0.5元，在101度到200度之间的每度电1元，在201度以上的每度电2元。张先生家第三季度缴纳电费370元，该季度用电最多的月份用电量不超过用到最少的月份的2倍，问他第三季度最少用了多少电？

A.300

B.420

C.480

D.512

10. 一间房屋的长、宽、高分别是6米、4米、3米，施工队员在房间内表面上画了一条封闭的线，其所画的线正好在一个平面上且该平面正好将房屋的空间分割成2个形状大小完全相同的部分，问其所画的线可能的最长距离和最短距离之间的差事多少米？

A.6

B.6(-1)

C.8

D.4(-2)

11. 在环境问题上，我们所面临的困境不是由于我们_____，而是我们尽力做了，但却无法遏制环境恶化的势头，这是一个信号，把魔鬼从瓶子里面放出来的人类，已经失去把魔鬼再放回去的能力。

A. 无所顾忌 B. 无所不为 C. 无所事事 D. 无所作为

12. 关于如何有效解释两次世界大战的起源和暴行产生的机制，战争史家一直感到_____，他们发现，当落实到细节研究上时，常常_____迭出，譬如马克思主义史家认为经济压力是大战的诱因，但历史事实却是二战爆发在欧洲的经济上扬期，因此许多战争史家不得不有此共识：战争问题并非历史学专业所能解释

A. 尴尬 谬论 B. 困惑 悖论

C. 犹豫 矛盾 D. 沮丧 误解

13. 对于古埃及农民来说，_____尼罗河泛滥的规律是性命攸关的大事，因此他们_____着去计算天数，小心地记录日期，他们把月亮和星星作为日历，当天狼星在夏天升起的时候，古埃及人知道尼罗河就要泛滥了，接着当新月时时候，就是古埃及新一年的开始。依次填入划横线部分最恰当的一项是：

A. 揭示 尝试 B. 遵循 坚持

C. 总结 学习 D. 掌握 摸索

14.在美国这样的商业社会里，无论他们抛出了多少关乎人文、情怀，精神的词藻，几乎所有艺术与技术，_____都是一门生意，即便是教主乔布斯和他的苹果也不例外。但这本身无可指责，也不_____这些公司和这些人缔造一个伟大的时代。

依次填入划横线部分最恰当的一项是：

A自始至终 影响 B归根结底 妨碍

C无庸讳言 干扰 D理所当然 排斥

15.现在很多保健品的广告做的很好，但消费者并不知道自己有没有需要吃这些东西，其实很多保健品在研发后并未做过_____调查，并不知道哪种营养素是大家普遍缺乏的，服用这种未经调查就开发出的保健品，对消费者来说完全是一种_____。

A. 严格 误导 B. 科学 浪费 C. 跟踪 欺骗 D. 实地 伤害

16.

甲骨文是迄今为止在中国所发现的自成体系的一种最古老的文字。可以说是现代汉字的老祖宗。甲骨文已经是一种相当_____的文字。如果认为仰韶、龙山文化的图形符号是汉字的雏形，那么它们与殷墟甲骨文之间，应该还存在_____环节。

A. 成熟 过度 B. 规范 关联

C. 优美 补充 D. 完善 缓冲

17.

中外合拍片对中方和好莱坞电影工厂均有好处，但是由于存在文化环境和审美趣味的差异，中国元素很难真正与好莱坞电影_____。为了照顾全球影迷的哲学口味，好莱坞电影只能减少中国元素的分量，因此，仅针对中国内地市场的“中国特供版”便_____。

依次填入划横线部分最恰当的一项是：

A. 契合 粉墨登场 B. 协调 东山再起

C. 融合 应运而生 D. 匹配 大行其道

18.以鸟类迁徙为话题的纪录片《迁徙的鸟》向我们充分展示了一个自然界的奇迹，虽然大部分地表已经被人类改造得_____。但鸟儿仍是主角，无论雪鹅、野鸭还是云雀，

都自有其尊严，我们需要与自然界和平相处，因为人类不可能_____的生活在地球上，雅克贝汉如是说。

- A. 面目全非 孤单 B. 支离破碎 傲慢
C. 元气大伤 自私 D. 体无完肤 麻木

19. 由于石化能源存在污染及蕴藏量减少的问题，新能源一直被视为重要替代品，其中核能更是各国开发的_____。但日本核事故却引起大家对核能安全的_____，各国政府无不希望在短期内找出更安全、经济的新能源，以减少对石油长期的依赖。

依次填入划横线部分最恰当的一项是：

- A、 热点 疑虑 B、 要点 警觉
C、 重点 忧虑 D、 基点 警惕

20. 自2006年《烟草控制框架公约》在中国正式生效，烟草界与控烟界过招已数百回合，双方_____的是，均将实现集中于青年群体，烟草的形成是一个长期的过程，烟草界企图“从娃娃抓起”，控烟界也将青年时期作为吸烟行为的萌芽阶段，向青少年大力宣传烟草代名。

- A. 秘而不宣 B. 不得而令 C. 一成不变 D. 不言而喻

21. ①草原上大量的事例都证明这样的帝国都是昙花一现

②这些民族在历史上是一股巨大的力量

③这种压力不断地影响着这些地区历史的发展

④世界上的游牧民族大都是生息在欧洲大草原上

⑤他们的历史重要性在于他们向东、向西运动时，对中国、波斯、印度和欧洲所产生的压力，

⑥他们的历史重要性主要不是在于他们所建立的帝国

- A. ①④⑥⑤③② B. ①⑥⑤③④② C. ④②⑥①⑤③ D. ④①⑤⑥②③

22. ①18世纪，茶逐渐成为全民饮品，伦敦工人大约花费家庭收入的5%来购买茶叶

②到1800年，公司每年在茶上投资400万英镑

③中英早期贸易基本上是奢侈品与中草药

④东印度公司不再进口那些只有富人才消费得起的中国商品，转而销售种种人人都负担得起的商品

⑤与中国的贸易成为英国政府的主要税收来源，他们向进口的茶征收100%的货税

⑥茶便是后者之一，它打动了英国人的味觉

将以上6个句子重新排列，排序正确的是：

A.①④③⑥⑤② B.①③⑥②④⑤ C.③⑥①④②⑤ D.③⑥⑤①②④

23.

在没有特别说明的情况下，通货膨胀一般是指消费者价格指数(CPI)，这主要是因为消费者价格指数是根据一国消费者最终消费支出的商品种类和权重编制的价格，该指数最直接影响居民收入的直接购买力。政府从维护居民福利的角度看，没有哪个价格指数比这个指数更合适、更体贴民意了。而食品价格波动主导了中国的消费者价格波动，这不仅是因为食品价格在商品篮子中超过三成以上的比重，更重要的是食品价格本身的剧烈变动。以2008年的通胀为例，仅仅是食品当中猪肉价格的上涨，就足以把中国的CPI推高2~3个百分点。于是，理解食品价格波动成为研究中国通货膨胀的重中之重。

对这段文字概括最准确的是()。

- A. 说明在中国食品价格为何成为研究通胀问题的焦点
- B. 分析控制食品价格波动对中国国计民生的重要意义
- C. 解释食品价格波动如何对消费者价格指数产生影响
- D. 强调提高居民的真实购买力应从控制食品价格入手

24.在中国传统观念中，雕塑一直为被看作是与绘画同等的艺术形式；在中国传统学术中，也只有“画学”

而没有“雕塑学”。历史上的这种不重视，造成19世纪末20世纪初，大量具有极高史料研究价值的石雕作品流失海外。而今天，新兴收藏家们的目光也只停留在艺术品的财富表象上，因此使得元，明，清三代的铜鑿金佛像价格一路飞涨，而面对那些真正体现中国雕塑文化及历史风貌的高古石雕时，他们表现得却有些畏畏缩缩，举棋不定，这难免让人觉得遗憾。

这段文字主要谈论的是：

- A. 观念上重视雕塑艺术的意义
- B. 高古石雕在中国不受重视的原因
- C. 目前雕塑收藏家不成熟的心态
- D. 雕塑收藏品价格与价值背离的状况

25.历史上，语言在世界上的分布反映了世界权利的分配。试用最广泛的语言，如英语，西班牙语，阿拉伯语和俄语，都是或曾是帝国的语言，这些帝国曾积极促进其他民族试用它们的语言权利分配的变化产生了语言使用的变化，英国和法国都曾坚持在其殖民地使用自己的语言，但大多数殖民地独立后，都在不同层度上努力用本土语言代替帝国语言，并取得了不同程度的成功。

这段文字意在说明：

- A. 本土语言是名族独立的忠言标志
- B. 语言使用是政治权利的魔种表现
- C. 利用权力推行语言是无法持续的
- D. 殖民统治对语言分布有深刻影响

26.人类很早就只知道城墙的防御效果，古往今来，不知上演过多少隔墙而战的攻防战役。蒙古人开始征战世界时，善于野战的游牧骑兵团对攻城战束手无策。但蒙古人善于学习，很快就掌握了攻城的战术，并将各地的攻城武器集中起来综合使用，达到了很好的效果，许多固若金汤的城池都被摧毁了。欧洲当时那些较薄的城墙，根本不能抵御蒙古人的攻击，特别是蒙古人开始使用多种威力巨大的火器，更具破坏性。从此以后，由于火炮的火力改进，城墙的作用就逐渐从人类历史中消失了。

这段文字意在说明：

- A. 蒙古兵团是怎样征服欧洲的
- B. 城墙是如何退出历史舞台的
- C. 火器是如何在攻城战中发挥作用的
- D. 蒙古的游牧兵团是如何调整战术的

27.全球变暖是老天爷对人类开出的罚单。便宜且容易利用的矿石燃料，是推动近代经济增长的重要源泉之一，但科学证明这可能带来灾难性的气候变化。目前不得不面对的现实是，人类必须为自己

的排放埋单。如果世界上只有一个国家，此事就相对简单，不管成本多大，最终都有这个国家承担。但问题是，世界上有许多国家，国情历史不大相同，这张巨额罚单究竟在各国间如何分配，就成了关于全球变暖问题谈判最棘手的问题。所有的国家，他们做出的所有减排承诺，最后都会有一张价格标签，承诺越多，价码越高。

这段文字意在说明：

- A. 减排成本份额应按各国的排放量合理分配
- B. 沉重的减排成本有可能拖累全球经济增长
- C. 遏制全球变暖需要支付巨额经济增长
- D. 利益是应对全球变暖问题的最大症结

28.默读电视新闻，广告节目文稿的人，比观看电视节目本身的人能记住和回想起更多信息；你鄙视某杂志的价值原则，认可津津有味的读它，如果电视节目出现这种情况，你就看不下去，赶紧换台。在这种情况下，我们不愿把时间花在不同意的观点上，就不太可能进行反思，实际上对一切东西的质疑都将更为稀少。把两个书面记录摆在一起看，很容易发现不一致处，甚至能辨别出信息之间权威程度的差别；比较两个视频报道就比较麻烦，在被要求从两个互相冲突的电视报道中佳宜选择时，观众要么依靠直觉，要么依靠观看之前所相信的东西。

这段文字意在说明：

- A. 阅读文本比看电视更有助于思考
- B. 信息接收途径影响人的行为习惯
- C. 电视有可能使人形成
- D. 喜欢阅读的人比爱看电视的人更冷静

29.在漫长的进化过程中，食物匮乏一直是人类面临的首要威胁。由于食物供应的不确定性和食物不能长期保存，人类一直过着饱一顿，饿几顿的生活，能够最大限度有效利用食物

的个体具有生存优势。在经历了反复的饥荒选择后，具有生存优势的个体和他们体内的基因，通过自然选择的方式被保留下来。这些基因能在饱餐一顿后刺激大量分泌胰岛素，从而最大限度地转化利用血液中的葡萄糖。虽然这样做的代价是可能导致肥胖，但它对机体的伤害所造成的生存威胁，却直到中年以后会表现出来，而在人类历史的绝大部分时间里，人的平均寿命不到30岁。

这段文字意在说明：

- A. 古人的生存环境与现代人完全不同
- B. 人类的生理结构是自然选择的结果
- C. 食物匮乏是人类长期应对的首要问题
- D. 肥胖与人类生存繁衍的优势基因相关

30. 商标作为一种大众传播的视觉符号，一定要具有特定含义，并且需要以简洁的形象，鲜明的传达它所具有的特性。所以，只具有形象美而不具有丰富内涵的商标是能为“商标”的，充其量只是一种图案或图形。同时，我们也必须明白，每个企业都必然具有多方面的特性，试图用一种形象涵盖所有信息是不可能的，试图在一枚商标中容纳所有特征，也是不可取的。这就需要设计师通过分析和筛选，提炼出对象所具有的独特属性，使其与视觉形象完美融合，从而创造出全新的，具有鲜明指示性的符号标识。

这段文字意在说明：

- A. 商标怎样才能呈现企业的独特属性
- B. 商标应该是形象与内涵的完美统一
- C. 商标的创造过程对设计师的考验
- D. 丰富的内涵是对商标的最基本要求

31. 亚洲国家躲过了近年来的全球大萧条，其中最主要原因是它为被卷入2008年金融危机。然而近日一项调查显示，亚洲的债务水平正在以可怕的速度增长。从某些方面来说，这有部分合理理由。许多国家的超低息政策鼓励贷款，债务增长是财务增长的自然产物。但值得警惕的是，亚洲国家需要借助更大的债务规模来保持经济增长。这个信号说明，亚洲经济健康状况不想GDP增长速度反应的那样良好。亚洲目前的债务水平总体来说低于欧洲，还处在安全范围内，但债务的迅速增长会让经济体更容易遭受冲击。

这段文字意在说明：

- A. 亚洲国家经济增长缺乏后劲
- B. 亚洲国家需警惕陷入债务危机
- C. 盲目追求GDP增长速度后患无穷
- D. 要全面认识超低息贷款政策的利弊

32.自人类在地球蛮荒的原野中诞生，自然地演化就烙上了人类活动的印记。原始文明，先民对大自然顶礼膜拜，人类屈服于宇宙的神奇威力；农业文明，随着治理的发育额对宇宙认知的增加，人类在敬畏自然的基础上开始探索利用自然和改造自然；进入工业文明，人定胜天的骄傲心态侵蚀了人们的神经，人类开始无穷无尽的向自然索取资源，肆无忌惮的向大地倾倒垃圾。人类违背自然的行为，是大自然一次次遭受剧烈的创伤，也使其一次次向人类实施无情的报复。

这段文字意在强调：

- A. 文明进程与人类对大自然的认知水平未必一致
- B. 人类对大自然的错误态度使其陷入目前的困境
- C. 敬畏自然是正确处理人类与大自然关系的前提
- D. 人类应当建立尊重自然，和谐发展的价值理念

33、2005年，世界卫生组织发布了一份名为《预防慢性病：一项至关重要的投资》的报告，其中一个与中国有关的数字庞大得令人吃惊：5580亿美元。这是中国从2005年到2015年由于心脏病、中风和糖尿病导致过早死亡而将损失的国民收入估值(按购买力平价计算)。值得注意的是，统计显示，绝大部分心脏病、中风都与糖尿病有关。在表明问题的严重性后，报告也给出了解决方案：如果可以在今后十年内将慢性病死亡率在现有趋势基础上每年降低2%，将给中国带来360亿美元的累计经济效益。

这段文字意在：

- A、强调重视慢性病防治的必要性
- B、呼吁增加在疾病预防方面的投入
- C、说明突发急症与糖尿病的关联性

D、探索降低慢性病死亡率的有效途径

34、维生素E是一种溶解于油中的维生素，它是一种抗氧化剂，能清除氧自由基，从而保护细胞膜上的脂质，而脂质的氧化与冠心病、癌症、衰老等密切相关。总之，维生素E是人体不可缺少的营养成分。但是“需要”并不意味着越大越好。维生素E缺乏在人群中很少发生，只有几种人可能存在问题：胆汁缺乏或脂肪代谢困难的人；罕见的基因异常导致缺乏维生素E转移蛋白的人；因早产而体重严重不足的婴儿。这些情况在人群中都不易出现。

这段文字所传达的观点是：()

- A、正常人没必要补充维生素E
- B、应该正确认识维生素E的作用
- C、人们对维生素E的认识存在误区
- D、要特别注意可能缺乏维生素E的人

35、传统理论认为，人类祖先由于气候变化、树木减少，被迫离开树栖环境，选择在地面上直立行走。一项最新研究则认为，早期人类直立行走源自现今非洲东部和南部崎岖山脉地区，该地形是上新世时期火山喷发和构造板块移动形成的。人类的祖先被岩石地形和峡谷所吸引，这里可提供很好的庇护栖息地，同时有机会诱捕猎物；这种环境要求早期人类具备直立行走和攀登的能力，因此人类祖先最终逐渐进化为两足直立行走。

下列哪项与最新研究的结论相符？

- A、气候变化导致早期人类选择直立行走
- B、人类祖先选择直立行走是为了更好适应地形环境
- C、地质条件的变化改变了人类早期祖先的行走方式
- D、人类祖先由于食物匮乏被迫离开最初的生活环境

36、据英国每日邮报报道，科学家和心理学家长期以来一直未解开一个谜团——为什么我们会忘记童年发生的事情？这是人生之中最无忧无虑、最快乐的时光。目前，两位科学家认为他们揭开了谜底。他们指出，生命初期大脑记忆中枢的细胞快速生长，这意味着早期存在的大脑记忆细胞之间的关键性链接将被更新替代，因此，人们童年时期的记忆就不太可能恢复。他们认为，这可以解释为什么人类很少有对幼年时期的回忆。实

际上，无法回忆起童年生活的细节也具有一定的好处，它能使人们不会经常回忆起婴儿时期发生的一些不愉快的事件。

根据这段文字，童年回忆缺失的主要原因是：()

- A、大脑记忆细胞快速发育
- B、记忆随时间而模糊消退
- C、生命初期语言能力较低
- D、儿童具有自我保护机制

37、“苍蝇妈妈”是对那些过分关注孩子的家长的称谓，这类家长试图时刻走在孩子前面，提前为他们扫清障碍。美国华盛顿大学的一项相关研究显示，过分关照孩子的父母会妨碍儿童个人能力和独立意识的发展；无微不至的照料会降低儿童的幸福感，并令他们长大后难以正确应对压力。受到父母过度照料的儿童，长大后经常会意志消沉，对生活不满，精神焦虑。为了孩子的身心健康，“苍蝇妈妈”们，-----

填入划横线部分最恰当的一项是：()

- A、请降低对孩子的期望值
- B、请移开你们挡在孩子前面的身体
- C、请先学会不被其他意见影响或左右
- D、请相信你们纠结的事情其实没那么重要

38、从山水画史的观点来看，北宋、南宋皇帝虽然都姓赵，但是画风迥异，通常都被分作两部分来讲；明代是朱元璋的天下，清代姓爱新觉罗，统治者既非一家一姓，时间跨度亦有540余年之久，却常被合在一起讲述。这是因为政治史和美术史并不一定要平行，换言之，明清两代绘画史的主要潮流几乎全在元代画风的影响之下，临摹风盛，创意式微，不像两宋绘画有着显著不同的特色。

下列说法与原文相符的是：()

- A、宋代帝王很少直接干预绘画创作
- B、元代绘画继承了两宋绘画的特色
- C、明清两朝的绘画风格具有相似性
- D、绘画研究中应特别注重时代背景

39、你肯定听过这种理论：左撇子的右脑运作比较活跃，因此更为感性，具有艺术天赋；右撇子则充分锻炼了左脑，因而擅长逻辑思维，性格更为理性。这个观点是如此深入人心，以至于有些父母或教育展煞费苦心地让孩子平衡左右手活动。

接下来作者最有可能谈论的是：()

- A、左右脑为何存在分工
- B、左右脑如何协调工作
- C、左右脑分工不同的例子
- D、左右脑未必存在明确分工

40、人类的选举制度出了问题，其间充斥了太多的金钱和毫无意义的争辩。或许我们应将目光转向大自然，从中找寻选举的内涵，纠结或改善我们的制度。昆虫学家汤姆·西利建议我们应向蜜蜂学习。西利的研究表明，蜂巢是一个真正的民主社会。当蜜蜂需要找个新家时，地点的选择是由许多蜜蜂投票的，比如根据这一地点的大小、湿度和周围鲜花多少等“质量”参数。每只蜜蜂都用舞蹈投票，当跳某种舞蹈的蜜蜂数目足够多时，大多数的意见也就倾向于该舞蹈所代表的地点。蜜蜂不仅投票决定“迁都”，在候选蜂后的决斗中，工蜂也会以某种方式干预“选举”的走向，选择对整个蜂巢的发展最有好处的那位当女王。

下列哪项最合适做这段文字的标题()

- A、聪明的蜜蜂
- B、选举的内涵
- C、蜜蜂的民主
- D、人类的榜样

第三部分 常识判断

(共20题，参考时限20分钟)

根据题目要求，在四个选项中选出一个最恰当的答案

请开始答题

41.下列关于铅的说法错误的是()

- a. 铅笔芯的主要成分是铅
- b. 香烟中是含铅的

- c. 铅在人体内日积月累，不会分解
- d. 汽油中添加铅元素可以起到防爆的作用
- 42.关于四大文明古国及其数学成就，下列对应错误的是()
- a. 古埃及：0的发现
- b. 古印度：阿拉伯数字
- c. 古巴比伦：六十进位制
- d. 古中国：勾股定理
- 43.下列关于火山的表述错误的是()
- a. 喷出的物质有气态，液态和固态三种
- b. 可分为死火山，活火山和休眠火山
- c. 五大连池的形成与火山喷发有关
- d. 页岩是最常见的岩浆岩
- 44.关于天体及其运行，下列表述错误的是()
- a. 天球是为了确定天体位置和运动而假想的圆球
- b. 在火星和木星轨道之间存在一个小行星带
- c. 黄道而是指月球绕地球运行的轨道面
- d. 星座是指在天球投影位置相近的恒星群落
- 45.关于海水及其运动，下列说法错误的是()
- a. 海水的冰点温度比淡水低
- b. 北海道渔场位于寒流与暖流的交汇处
- c. 波罗的海是世界上盐度最高的海域
- d. 波浪，潮汐和洋流是海水运动的主要形式
- 46.下列关于石灰的说法错误的是：()
- a. 生石灰通常可以作为视频干燥剂
- b. 澄清石灰水放置在空气中易变浑浊
- c. 汉白玉与石灰石的只要成分相同
- d."烈火焚烧若等闲"指熟石灰的高温煅烧
- 47.关于中国地理，下列说法错误的是：
- A 九寨沟国家地质公园以雅丹地貌闻名

B 藏羚羊主要生活在可可西里国家级自然保护区

C 张家界国家森林公园处于武陵山脉的腹地

D 三江并流风景名胜已被列入《世界遗产名录》

48 下列哪组不属于夺命“绝症”？

A 肺栓塞、哮喘 B 冠心病、毒品过量 C 脑出血、急性坏死性胰腺炎 D

阑尾炎、腹膜炎

49 下列哪组物品均属可燃固体？

A 香蕉水、酒精 B 面粉、油漆 C 沥青、松香 D 甲烷、乙炔

50 下列哪项不在中国地形的第二级阶梯上？

A 秦岭 B 呼伦贝尔草原 C 鄂尔多斯高原 D 巴颜喀拉山

51 关于农作物，下列说法正确的是：

A 中国是最早栽培大豆的国家

B 玉米是通过丝绸之路传入中国的

C 花生是世界上最主要的油料作物

D 印度是世界上最大的稻米出口国

52 关于下列各组任务说法错误的是：

A 苏格拉底、柏拉图和亚里士多德被称为“古希腊三贤”

B 颜回、曾子都属孔子七十二门徒

C 荀子及其弟子韩非子是法家学派的代表人物

D 康有为、梁启超都是“公车上书”的发起人

53 下列体育人物与其擅长领域对应错误的是：

A 罗尼·奥沙利文；斯诺克台球 B 泰格·伍兹；高尔夫

C 罗杰·费德勒；网球 D 拉菲尔·纳达尔；棒球

54 关于亚洲政坛女性首脑，下列说法错误的是：

A 科拉松·阿基诺夫人是亚洲首位女总统

B 阿罗约曾任菲律宾总统之职

C 朴槿惠的父亲曾任韩国总统

D 英拉·西那瓦是马来西亚总理

55 下列事件与相关人物对应错误的是：

A 三藩之乱：吴三桂，康熙

B 七国之乱：吴王刘濞、汉景帝

C 八王之乱：苻坚、谢玄

D 安史之乱：郭子仪、史思明

56.关于我国公务员制度，下列叙述正确的是：

A. 正在接受纪律审查的公务员不得辞去公职

B. 我国公务员培训基地是党校

C. 公务员对降职不服，可以向人民法院提出申诉

D. 公务员考核的基本内容包括德、能，勤，绩、才

57.下列思想流派与产生时代对应错误的是：

A. 儒学——汉代

B. 玄学——魏晋

C. 理学——宋代

D. 心学——明代

58.关于政治思想，下列表述错误的是：

A. 孟德斯鸠提出三权分立学说

B. 伏尔泰最早提出社会契约论的思想

C. 柏拉图主张建立哲学王统治的国家

D. 让·布丹提出君主主权学说

59.关于我国的农民工现象，下列说法错误的是：

A. 农民工是我国特有的城乡二元体制的产物

B. “新生代农民工”主要指80后、90后，目前农民工群体中占一半以上

C. 从输出地看，中部地区输出农民工最多，西部次之，东部最少

D. 近年来跨省流动农民工所占比重持续下降

60.下列犯罪嫌疑人、被告人中哪个人不适用取保候审？

A. 有证据证明甲犯故意杀人罪，有可能被判十年以上有期徒刑

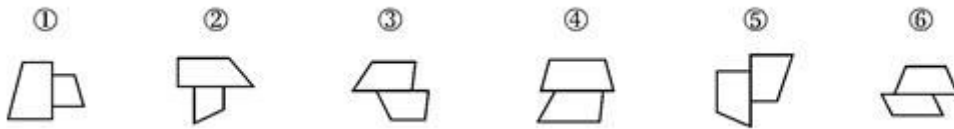
B. 乙在逮捕后侦查羁押期限满仍需继续查证

C. 丙涉嫌侮辱罪被起诉

D. 丁被逮捕后发现其怀孕3个月

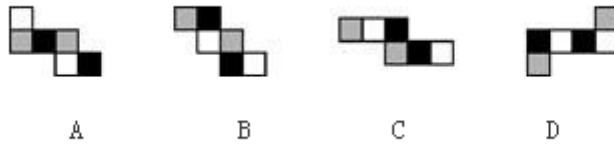
图形推理，请按每道题的答题要求作答，请开始答题

61、把下面的六个图形分为两类，使每一类图形都有各自的共同特征或规律，分类正确的一项是：

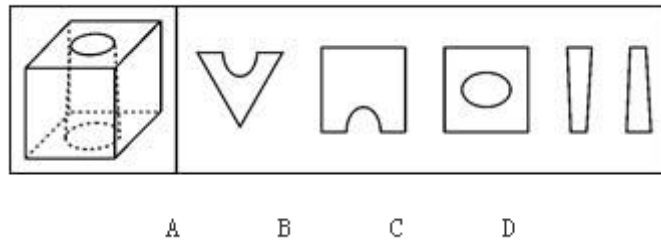


A、123、456 B、124、356 C、125、346 D、134、256

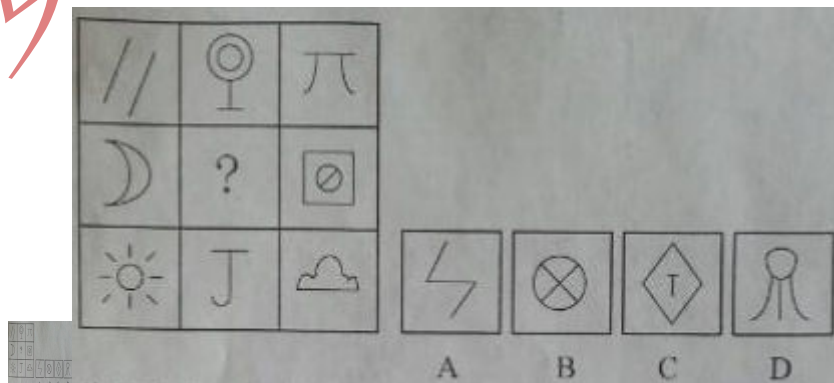
62、如用白、灰、黑三中颜色的油漆将立方体盒子的6个面上色，且两个向对面上的颜色都一样，以下哪一个不可能是该盒子外面的开展图？



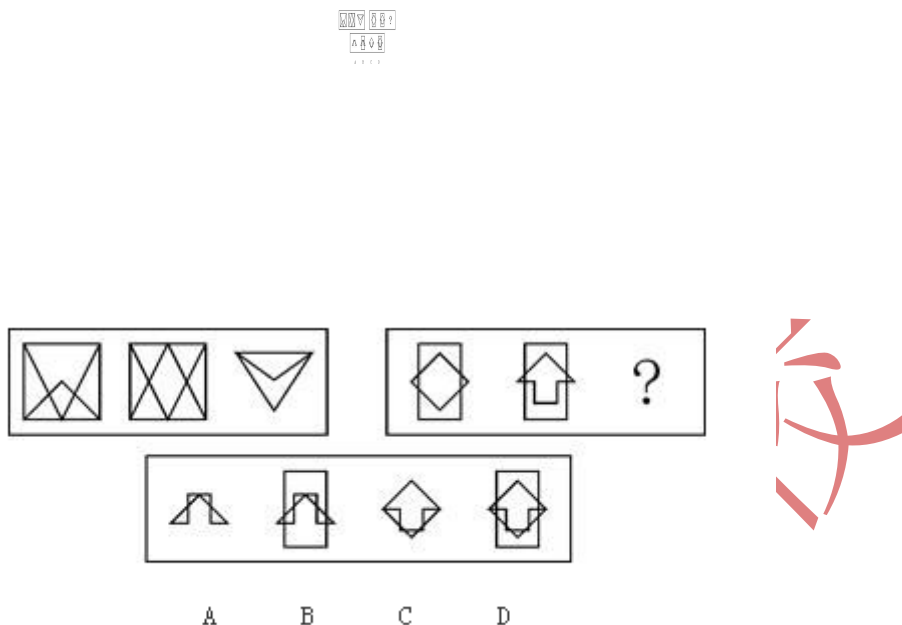
63、下列的立体图形是从立体中控出一个圆锥台孔后形成的，如果任一面对剖开，以下哪一个不可能是立体图形的截面？



64、从所给的四个选项中，选择最合适的一个填入问号，使之呈现一定的规律性：



65.从所给的四个选项中，选择最合适的一个填入问号处，使之呈现一定的规律性：



66.经营性资产是在生产力和流通中能够为社会提供商品或服务，经营性资产的使用单位具有法人地位的企业，其运营要求以追求利益为原则，从会计角度看，主要指因利益目的而持有，实际也具有盈利能力的资产

根据上述定义，下列不属于“经营性资产”的是

- a. 某电视机场中积压的黑白电视机
- b. 建设中尚未投入使用的水利发电机
- c. 某外贸公司用于交纳税金的银行存款
- d. 某重点中学购入的实验室设备和器材

67.风险规避是指通过计划的变更来去除风险或风险发生的条件，保护目标免受风险的影响，风险规避并不意味着完全消除风险，而是规避风险可能造成的损失，一是要降低损失发生的机率，这主要是采取事先控制措施，二是要降低损失程度，这主要包括事先控制，事后补救两个方面

根据上述定义，下列不属于“风险规避”的是()

- a. 某外语培训机构近两年业务的发展，但缺乏配套的资金投入，因此该机构选择通过上市

发行股票这一渠道来筹集资金

b. 某广告公司为减少员工流失，实行许多激励机制，包括提供更多培训机会，加大奖金幅度，增加保险额度与措施

c. 小李业余时间喜欢理财，他在银行选择理财产品涉及多种类型，有债券，基金，有短期，也有长期的他认为这样选择才更稳健

d. 某购物网站有专门的储物仓库，平时供货正常，但过节期间常供不应求，为此公司制定一系列方案来控制货物储备和加强物流管理

68. 选择性接触是指受众在接触大众传播活动之际，并不是不加区别地接待任何媒介和内容，而是更倾向于接触与自己的既有立场，观点，态度一致或接近的加以接触，或有意无意地回避与自己既有倾向相左的媒介或内容。

根据以上定义，下列属于“选择性接触”的是()

- a. 旅游社推出的夕阳红系列游的团体活动受到很多退休老人的欢迎
- b. 减肥产品最畅销的人群是那些正在减肥的人，而不是那些打算减肥的人
- c. 初中政治老师王某每天回家第一件事就是收看新闻联播
- d. 赵总监推荐人性化管理，经常参加人本主义取向的心理学培训课程

69

潜伏需求是指相当一部分消费者对某种商品或服务有强烈的需求，而现有产品或服务又无法使之满足的一种需求状况。

根据上述定义，以下最能体现“潜伏需求”的是：

- A 某市所售楼盘多为三居室大户型，让想在这里安家的工薪阶层望而却步
- B 某药厂推出的中药降糖保健品在部分程度上可以取代药品，常供不应求
- C 目前市场上的防辐射孕妇装抵御电子产品辐射的有效率是多少尚不明确
- D 新型的电动游戏机带有护眼功能，想必可以说服一些学生家长前来购买

70. 喻代是一种建立于比喻基础之上的以喻体代本体的一种修辞方式。即先比喻，后用喻体

代本体。喻代是比喻后的名称代换，喻体作为别名而存在，其比喻的色彩、意味减弱，含蓄表达成为关键。

根据上述定义，下列各项中没有使用喻代这一修辞方式的是：

A

我吃了一吓，却见一个五十岁上下的女人站在我的面前，两手搭在髀间，张着两脚，正像一个画图仪器里细脚伶仃的圆规……然而圆规很不平，显示鄙夷的神色

B

多么熟悉的声音，多么动人的曲子，去年春节文娱晚会上因这支歌而被同学们昵称为“李谷二”，她的声音，我一下子就能听出来

C

他走了，像只风筝，在山坡上摇啊摇，弯弯曲曲的白线越放越长，到底放到头了，那儿是山顶，是和天连着的地方，“风筝”停了，他知道这条白线还拴着一颗心呢

D

那外国人想雇我的驴去游山东，我要五块钱。他嫌贵。你嫌贵，我还嫌你胖呢。胖的像大白熊，别压坏了我的驴。讲来讲去，大白熊答应我的价格，骑着驴去逛了半天

71. 着作人身权，又称着作精神权，指着作权人对其作品所享有的各种与人身相关联系或者密不可分而又无直接财产内容的权利，是作者通过创作表现个人风格的作品而依法享有获得名誉、声望和维护作品完整性的权利。着作财产权，又称着作经济权，是着作人身权的对称，是指着作权人自己使用或者授权他人以一定方式使用作品而获得物质利益的权利。

根据上述定义，下列说法中正确的是：

A. 某知名网络小说作家要求出版社使用其真实姓名出版其作品，则该作家行使的是着作人身权

B. 画家王某将自己的画作以高价卖给了姜某，则姜某获得了该画作的着作财产权

C. 某知名舞蹈家创作的舞蹈深受群众喜爱，不少人纷纷模仿并进行商业演出，该舞蹈家要求停止这一侵权行为，则她行使的是着作人身权

D. 某剧作家创作的电视剧因深受观众喜爱而被翻拍，该剧作家要求电视剧制作方不得修改故事的结局，则他行使的是著作财产权

72. 生产、销售有毒有害食品罪是指在生产、销售的食品中掺入有毒、有害的非食品原料的，或者销售明知掺有有毒、有害的非食品原料的食品的行为。

根据上述定义，下列构成生产、销售有毒有害食品罪的是：

A. 刘某在地下工厂用工业用高纯度酒精加白水来制造大量假酒，并将其销售给商店，获利8万多元

B. 某肉食店加工厂用病死猪肉作原料生产火腿，造成大批消费者中毒

C. 某饮料生产厂家在生产的可乐中添加了食品添加剂——咖啡因，但并未在包装上予以注明，使大量消费者饮用了含咖啡因的可乐

D. 某食品厂在所生产的一款彩虹糖中添加食用色素超标，长期食用会给人体健康造成危害

73. 姑息治疗室指对那些治愈性治疗无望或不能接受治愈性治疗的病人采取的完全的主动的医疗和护理，控制疼痛及有关症状，并对心理、社会和精神问题予以重视。其目的是为了病人和家属赢得最好的生活质量，姑息治疗同样适用于早期肿瘤病人，将姑息治疗与抗肿瘤治疗相结合。

根据上述定义，下列不属于姑息治疗的是：

A. 某患者因病情恶化且年老体衰，无法翻身，身体生了褥疮，口腔也有霉菌感染，护士为其洗澡擦身，并做了口腔清洁

B. 某患者因为癌症晚期，且自身状况差无法进行抗癌治疗，医生认为患者已没有治疗价值，劝患者回家休养

C. 年轻患者刚结婚便被诊断为乳腺癌，情绪非常激动，拒绝接受治疗，医生为其进行心理辅导

D. 某患者手术后严重疼痛，无法入睡，医生给他安置了止疼泵，并给以一定的镇静药，让患者能好好休息。

74. 心理记账是人们在心理上对结果进行分类、编码、估计和预算等过程，消费者在决策时可能根据不同的任务进行相应的心理记账。

根据上述定义，下列不属于典型心理记账的是：

- A. **10元钱的人心理带来的痛苦要比获得10元钱奖金带来的高兴更强烈
- B. 公会发放福利时不再发食物而改发购物卡以使员工有更多的自由选择
- C. 相比丢了10元钱的人，丢了电影票的人更不可能掏钱买电影票去看电影
- D. ****选星级酒店，因它他比宾馆更可能提供免费网络和自助早餐。

75. 诱导运动是一种视知觉，即观察者知觉到某个物体在运动，而实际上该物体没有发生移动，是由于其他物体的运动使得被观察物体看起来好像在运动。

根据上述定义，下列属于诱导运动的是：

- A. 在没有月光的夜晚仰望天空，觉得星星好像在动
- B. 电影院里播放的精彩电影
- C. 月亮在云彩后面穿行
- D. **飞速开过的火车之后，会觉得附近的树木在向相反方向移动

三、类比推理，每道题目先给出一组相关的词，要求你在备选答案中找出与之在逻辑关系上最为贴近、相似或匹配的词

请开始答题：

76. 荆棘，困难

- A. 布衣：学生
- B. 折柳：惜别
- C. 心腹：信任

- D. 桎梏: 束缚
77. 戒烟: 疾病
- A. 酒驾: 事故
- B. 核对: 差错
- C. 过失: 反思
- D. 斟酌: 考虑
78. 照片: 留念()
- A. 文件: 机密 B. 古董: 珍藏
- C. 日记: 记载 D. 书籍: 查阅
79. 药物: 胶囊()
- A. 桌椅: 桌面 B. 电脑: 屏幕
- C. 书本: 封面 D. 物品: 木箱
80. 居住: 居民()
- A. 乞讨: 流浪者 B. 吝啬: 守财奴
- C. 顺从: 独裁者 D. 继承: 继承人
81. 抑制: 热情()
- A. 滋润: 喉咙 B. 分散: 注意
- C. 消除: 声音 D. 反转: 方向
82. 分水岭对于()相当于()对于水稻
- A. 山岭, 大米 B. 地质, 节气
- C. 界限, 作物 D. 回归线, 青稞
83. 计算之于()相当于实验之于()
- A. 推理, 逻辑 B. 物理, 天文
- C. 数学, 化学 D. 大脑, 助手
84. 抵押对于()相当于()对于处罚
- A. 银行, 监狱 B. 担保, 罚款
- C. 房屋, 立法 D. 债务, 刑罚
85. ()对于汽车相当于开关对于()
- A. 轮胎, 电门 B. 汽油, 点灯

C、飞机，电池 D、钥匙，电视

86.噬菌体是一种病菌，它能够捕食细菌，目前随着医疗中植入技术的发展，越来越多的患者接受着诸如导尿管、心脏支架等医学植入装量，但随之也带来了细菌感染的风险，因此，一些研究人员认为如果噬菌体吸附在植入装量材料表面，再将其放入患者体内，就可以避免植入装量引发的感染。以下哪项为真，最能削弱上述的结论？

- A. 对植入医学装量的患者，一般通过服用抗生素来防御细菌感染
- B. 有细菌的场所就可能存在相应噬菌体的存在，只是数量差异
- C. 噬菌体能够攻击治病细菌，但有时也有“捕食”有益的细菌
- D. 一些噬菌体进入机体后，无法适应体液环境，难以保持活性

87.一项新的研究发现，短期摄入高脂食物有益心脏，研究人员在实验后期人工引发老鼠心脏缺血性伤害，类似人心脏病发作时的情况。他们发现，吃高脂食物24小时、1周和2周的老鼠心脏组织受损状况比吃6周高脂食物的老鼠和“吃素”的老鼠轻70%。研究人员认为这是由于短期摄入高脂食品可以使心脏肌肉获得更多能量，增强抵御伤害能力。他们认为，短期摄入高脂饮食或可保护心脏机能。

以下哪项为真，最能支持题干的结论？

- A. 高脂食物中所含有的低密度脂蛋白胆固醇是人体所不可缺少的物质
- B. 高脂食物可以使人体获得进行新陈代谢等活动所必须的物质和能量
- C. 如果让老鼠“吃一天荤”后改“吃素”，它们心脏抵御伤害的能力比一开始就“吃素”的老鼠强
- D. 要想降低患心脏病风险，应注意饮食平衡，适当摄入脂肪和胆固醇

88.随着人们生活和工作逐渐进入高楼大厦，人们接触日光的机会变少，研究发现，日光是合成维生素D的必要条件，而维生素D是促进钙吸收的关键因素，因此有人得出结论：现代人更容易患骨质疏松等因缺钙引起的疾病。以下哪项为真，最能质疑上述结论？

- A. 骨质疏松疾病患者多晒太阳就可以缓解或治愈
- B. 现代人观念结构中的含钙食品比以前丰富很多

- C. 骨质疏松症患者接触日光的时长与其他人无异
- D. 口服维生素D片是加了促吸收剂的合成配方

89.软件用户的调查显示，通常一个软件会有1000个用户采用，如果一个软件每天被下载安装的次数达到55次，这个软件的流行度会急速上升，最多时有1200万个用户采用，大量用户几乎是完全根据其他用户的行为来选择安装这个软件，而很少关注其本身的内在特点，根据以上描述可以退出：

- A. 网站上最流行的软件未必是最实用的软件
- B. 参考别人选择的安装软件是不明智的
- C. 网站上退出的软件未必都是有用的
- D. 用户安装在电脑上的一些软件或许会被删除

90.R医院连续5年在C市举办的“我最满意的医院”调查中高居榜首，该医院负责人表示，这是由于该医院提供了比其他医院更加优质的导诊服务，以下为真，最能支持该医院负责人的观点？

- A.C市各大医院都在导诊服务中投入了大量的精力，力图提高导诊服务质量
- B.C市“我最满意的医院”调查已开展20年，高居榜首的均是公立医院
- C.C市共有200家医院，并将所有医院都参与了此次调查
- D. 与R医院医疗水平相当，但导诊服务不佳的排名不如R医院

91.在地球构造活动频繁时期，环非洲、南美和欧洲的新海洋盆地开始扩展，产生了新的空间，大气中大量二氧化碳与光合作用的生物发生反应，死了的生物随后被埋在海底沉积物中形成了富含碳元素的页岩，大气中的碳被固定下来使得大气中二氧化碳的水平下降，减小了温室效应并降低了全球温度，这对海洋生命来说是非常重要的后果，因此一些科学家认为，全球变冷或变暖后果同样产生。

以下哪项为真，最能支持科学家的判断？

- A.

在全球变冷的200年后，由于频繁的火山爆发使得固化在岩页中的碳以CO₂的形式产生到大气层，部分恢复了温室效应

B.

全球变暖会导致海洋生物危机，科学家发现在26万年前全球变冷的时期，海洋生物发生过类似的危机

C.

大规模生长期的自然变化或由于人类活动而造成全球温室效应在短期内的巨大改变对整个系统来说都是有冲击作用

D.

科学家观察到气候变冷发生超过几百万年而不是几十、或几百年，这还很难和我们迅速变化的现代气候条件联系起来

92.新学期伊始，研究生院发现有新生没有到教务处办理注册手续，若该命题为真，则下列陈述不确定真假的是：

I。所有新生都没有到教务处办理注册手续

II。所有新生都到教务处办理了注册手续

III。有的新生到教务处办理了注册手续

IV。新生小明到教务处办理了注册手续

A. I II III IV

B. II III IV

C. I II III

D. I II IV

93.兄弟姐妹四人，甲、乙、丙、丁；

甲说：丁是最小的妹妹；

乙说：兄弟姐妹中只有哥哥一个男孩；

丙说：我是甲的姐姐；

如果上述都为真，以下推断正确的是：

A. 甲排行第三，是男孩，乙排行第三，是女孩

B. 乙排行第二，是女孩，丙排行第一，是女孩

C. 丙排行第二，是女孩，丁排行最小，是女孩

D. 甲排行第二，是女孩，丙排行第一，是女孩

94. 研究人员认为肥胖和人体内寄生某些能产生特定气体的微生物有关，这些微生物使他们呼出的气体味道更难闻，洛杉矶CS医学中心分析了792位体检者的呼气，发现呼出的甲烷和氢气量高的人的身高体重指数(BMI)比正常人要高2.4点，即属于肥胖人群，根据以上描述，不能推出？

- A. 胖人体内可能寄生某些产生特定气体的微生物
- B. 可以通过气体是否难闻来判定呼气这是否是肥胖症患者
- C. 呼出气体中甲烷和氢气含量高的人群比正常人群更胖
- D. 甲烷和氢气的混合物味道较难闻

95. 低热量食物是指含淀粉、糖类等碳水化合物类较少的食物，因为食用低热量食品可以有效控制能量的摄入量，避免多余能量在体内以脂肪形式储存下来。如果体重较重的人改为食用低热量食品，则可保持饱腹感的同时，达到减肥效果，另外，有许多人认为，低热量食物对于糖尿病患者十分有益。以下哪项为真，最能支持上述推论？

- A. 改食用低热量食物需要逐步进行，否则会引起机体代谢紊乱
- B. 低热量食品可以降低超重或糖尿病患者的体重，但需要补充基本营养
- C. 低热量食品可适量增加进食量，满足饱腹感，享受吃饱的乐趣
- D. 研究表明低热量饮食可减少脂肪在胰脏中的沉积，恢复胰岛素的分泌

行政能力测试

第五部分 资料分析

一. 根据以下资料，回答96-100题

2013年全国1-5月保险业经营状况

	经营状况(亿元)					同比增速
	1月	2月	3月	4月	5月	
保险保费收入	2012	1382	1756	1316	1277	10
1.财产险	612	339	562	530	500	12
2.人身险	1400	1043	1195	785	777	9
(1)。寿险	1255	944	1025	569	655	8
(2)。健康险	106	76	113	76	83	14

(3)。人身意外伤害险	40	23	56	40	39	22
保险赔付支出	501	447	540	505	487	32
1.财产险	281	194	255	254	266	16
2.人身险	220	252	285	252	220	58
(1)寿险	175	224	245	212	180	68
(2)。健康险	36	22	32	31	32	29
(3)。人身意外伤害险	9	7	9	8	8	11
业务及管理费	185	166	195	189	190	21

96.2013年1-5月,保险业平均每月业务及管理费用约为多少亿元?

A.180 B.185 C.190 D.195

97.2013年3月,人身险的三个险种保费收入环比增速排序正确的是:

- A.人身意外伤害险>寿险>健康险
- B.健康险>寿险>人身意外伤害险
- C.健康险>人身意外伤害险>寿险
- D.人身意外伤害险>健康险>寿险

98.以下个月中,哪个月全行业保险赔付支出额与保险收入额的比值最低?

A.1月 B.2月 C.3月 D.4月

99.在寿险,健康险和人身意外伤害险中,有几类险种在2013年5月的保险赔付支出额占全行业保险赔付支出总额的比重高于上年同期水平?

A.0 B.1 C.2 D.3

100.关于2013年1-5月保险业经营状况,能够从上述资料中推出的是:

- A.5月各类险种保费收入均低于4月
- B.4月三个人身险种的收入均高于一季度平均水平
- C.2月各类险种保险赔付支出均低于1月
- D.1月人身意外伤害险收入在保费总收入中的占比不足2%

101-105

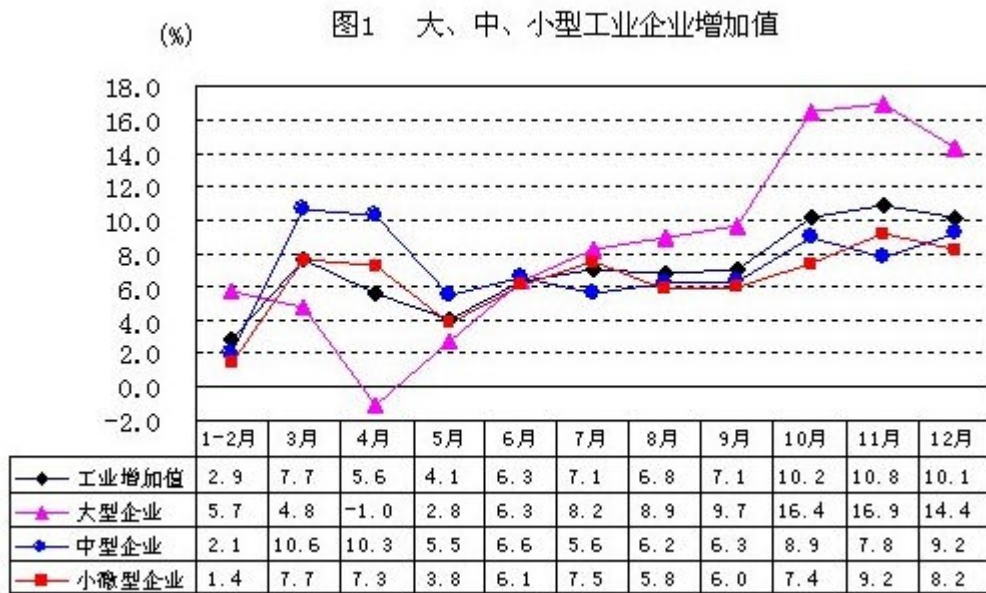
2012某省规模以上工业增加值10875亿元,比上年增长7.1%,年度增速从1-2月的2.9%日升到10-

12月的10%以上。大型、中型和小微型企业增加值分别为3074.3217和4584亿元，比上年增长8.2%、6.8%和6.7%。

2012该省规模以上企业主营业务收入56730亿，比上年增3.5%，增速**同比7.5个百分点，利润总额2900亿，比上年下降6.1%。

2012某省规模以上工业增加值同比增速情况：

折线图：



101. 与2011比，2012年该省规模以上工业增加值增加了多少亿元？

- A.600 B.720 C.840 D.960

102.

2012年3-

10月间中型企业增加值增速和规模以上工业增加值总体增速差异最大的月份

- A.4月 B.6月 C.8月 D.11月

103. 2012年3-10月间三类企业工业增加值同比增速*超过5%的月份有几个

- A.5 B.6 C.7 D.8

104. 与2011年相比，2012年全国规模以上工业企业主营业务收入

- A.下降了4% B.上升了4% C.上升了7.5% D.上升了11%

105.以下关于该省2012年规模以上工业发展状况的描述与资料相符的是：

- A.小微型企业对10~12月的月度同比增速回升拉动作用最大

- B. 全年小微型企业增加值同比增量低于中型企业
- C. 规模以上工业企业主营业务利润高于上年水平
- D. 第三季度大型企业增加值同比增速高于其他同类企业

三、根据以下资料，回答106~110题。

2013年3月末，金融机构人民币各项贷款余额65.76万亿元，同比增长14.9%，增速比上年同期低0.8个百分点。

2013年3月末，主要金融机构及小型农村金融机构、外资银行人民币小微企业贷款余额11.78万亿元，同比增长13.5%，比全部企业贷款余额增速高1.2个百分点。

2013年3月末，主要金融机构本外币工业中长期贷款余额6.46万亿元，同比增长3.2%，其中，轻工业中长期贷款余额6824亿元，同比增长7.6%，重工业中长期贷款余额5.77万亿元，同比增长2.7%，服务业中长期贷款余额16.55亿元，同比增长8.9%。

2013年3月末，主要金融机构及小型农村金融机构、村镇银行、财务公司本外币农村贷款余额15.24万亿元，同比增长18.4%；农户贷款余额3.86万亿元，同比增长16.9%；农业贷款余额2.87万亿元，同比增长12.3%。

2013年3月末，主要金融机构及小型农村金融机构，外资银行人民币房地产贷款余额12.98万亿元，同比增长16.4%，地产开发贷款余额1.04万亿元，同比增长21.4%；个人购房贷款余额3.2万亿元，同比增长12.3%，保障性住房开发贷款余额6140亿元，同比增长42.4%。

106.2013年3月末，金融机构人民币各项贷款余额约是2011年同期的多少倍？

- A.1.1 B. 1.2 C.1.3 D.1.4

107.2014年3月末，Q轻工业中长期贷款余额占工业中长期贷款余额总体的比重与上年相比：

- 约上升0.4个百分点 B. 约上升4个百分点 C. 约下降0.4个百分点 D. 约下降4个百分点

108.2013年3月末，各项贷款余额从高到低排序正确的是：

- A. 农户贷款余额 房地产开发贷款余额 农业贷款余额
- B. 房产开发贷款余额 地产开发贷款余额 轻工业中长期贷款余额
- C. 服务业中长期贷款余额 客户贷款余额 重工业中长期贷款余额
- D. 重工业中长期贷款余额 轻工业中长期贷款余额 房产开发贷款余额

109.2013年3月末，房地产开发贷款余额同比增速约为：

- A.12.3%
- B.14.4%
- C.19.3%
- D.21.4

110.关于2013年3月末贷款余额情况，能够从上述资料中推出的是：

- A. 全部企业贷款余额同比增长了14.7%
- B. 贷款余额比上年同期增长了3万多亿元
- C. 个人购房贷款余额同比增速快于保障性住房开发贷款余额
- D. 服务业中长期贷款余额同比增量超过工业中长期贷款余额的3倍

2014年安徽省公务员行测真题解析

1、【答案】A

【解析】设只参加一次、两次、三次都参加的人数分别为 $5x$ 、 $4x$ 、 x ，那么有：
 $5x+4x \times 2+x \times 3=112$ ，解得 $x=7$ ，因而参加的总人数等于 $10x=70$ 人。

2、【答案】B

【解析】设小王第三次追上小张时需要时间为 T ，有

$$(3-1)T=3S=3 \times 400, \text{ 解得 } T=600s$$

由此可知此时小刘比小王多跑的路程为

$$(6-3) \times 600=1800m, \text{ 是路程的4倍还多, 因此此时小刘已经超越了小王4次。}$$

3、【答案】B

【解析】每次摸出3颗玻璃珠，可能的颜色情况如下：

(1)3颗颜色都一样：有3种可能；

(2)3颗中有两颗颜色一样：有 $3 \times 2=6$ 种可能；

(3)3颗颜色各不相同：只有1种可能

综上，本题的最不利情况是 $3+6+1=10$ 种，也就是说最多挑出来10组结果各不相同，在此基础上再挑一组，一定会出现重复。因此最终的答案是 $10+1=11$ 种。

4、【答案】B

本题考查菱形面积的计算。菱形面积等于两条对角线乘积的一半。如图所示，如果假设菱形边长为 a 的话，由于锐角为 60° ，则两条对角线分别为 a 和：

，解得，那么较长的对角线长度为

当把菱形扩展为正方形时，应以这条较长对角线为正方形的对角线，得到的边长为 x 的话，有，得 $x=$ 。

5、【答案】A

【解析】本题给出某年的2月最后一天是星期三，那么可以知道3月1号必然是星期四。而3月1号到12月31号还有 $365-31-28$ (或 $366-31-29$)= 306 天。 $306\div 7=43\cdots 5$ ，因此该年的12月31号是星期一，恰好是最后一次航班出发的日期。

6、【答案】D

【解析】根据题意，乙比甲晚出发10分钟，却提前2分钟到达，说明甲走完全程比乙多用了12分钟，也就是 $1/5$ 小时。如果设甲的速度为 $5x$ ，乙的速度为 $6x$ ，可以列出方程为：

解得 $x=15$ ，也正是两车之间时速的差距。

7、【答案】A

【解析】根据已知条件，铝占总量的 $1/5$ ，铜占总量的 $1/3$ ，镍占铜铝之和的 $1/4$ ，也就是占总量的 $(1/5+1/3)\times 1/4=2/15$ 。据此，我们不妨假设四种金属的重量之和为 $15x$ ，那么我们可以得到它们各自的重量为：铝 $3x$ ，铜 $5x$ ，镍 $2x$ ，铅 $3x+600$ ，得：

$$3x+5x+2x+3x+600=15x$$

解得 $x=300$ ，因此镍的重量为 $2x=600$ 吨。

8、【答案】B

【解析】思路是让能共存于一条直线的点尽可能的多，那么首先我们可以让4个喷头都处于一条直线上，这样还剩下两个喷头，我们可以让这两个喷头与4个当中的一个共线，这样只需要再增加一根管子就可以了。剩下来我们还需要6条管子把这两个喷头与其他三个连起来就可以了。

综上，最少共需要8根。

9、【答案】C

【解析】根据题意，用电最多的月份的用电量不超过用电最少月份2倍，那么为了让第三季度的整体用电量最少，如果假设用电最多的月份用电量为 $2x$ 的话，最好让剩余的两个月的用电量都为 x ，这样是最好的。

据此我们得到了这样一个数列 $2x, x, x$ 。接下来最为直接有效的方法是代入排除，根据题意用电量越少越好，因此数据从小往大代入。当代入C选项时， $2x=240$ ，需要电费为 $100 \times 0.5 + 100 \times 1 + 40 \times 2 = 230$ ， $x=120$ ，需要电费为 $100 \times 0.5 + 20 \times 1 = 70$ ，而 $230 + 70 + 70 = 370$ ，恰好满足题意。

10、【答案】C

【解析】本题要解决的问题其实很简单，就是确定周长最长和最短的两个面。

首先我们来找周长最短的面，这个比较简单，应该是正好以3和4为边长的长方形，垂直于房屋的地面且正好将底面的长平分两段。它的周长 $= (3+4) \times 2 = 14$ ；

然后我们再来找周长最长的面，有两个选择：面AEGC和面DEFC

面DEFC的周长=；

面AEGC的周长=。

因此本题所问的最长距离和最短距离之差应为 $22-14=8$ 。

11.答案：D

解析：根据关联词连接的句子，“不是由于我们，而是我们尽力做了”，可知横线处填“无所作为”最合适。“无所作为”的意思是没有做出任

何成绩，符合语境意思。“无所顾忌”的意思是没有顾虑、畏惧；“无所不为”的意思是没有不干的坏事都干；“无所事事”意思是闲着什么事都不干，都不合语境。故本题选D。

12.答案：B

解析：“尴尬”的意思是处于两难境地无法摆脱，“犹豫”的意思是做事拿不定主意，这两个词语都不符合第一个语境意思，排除A，C。“误解”的意思是不符合第二个语境意思，排除D，故正确答案是B。

13.答案：A

解析：本题从第二空入手，从“小心地记录日期”可知填“尝试”或“摸索”，排除B，C；再看第一个空，“是性命攸关的大事”可知填“揭示”比较好，故本题选A。

14.答案：B

解析：本题从第一个空入手，通过“几乎所有的艺术与技术”，可知只有“归根结底”符合语境信息，故本题直接选B。

15.答案：C

解析：本题从第一个空，可以知道要想知道保健品的实际效果，应该是“跟踪调查”或“实地调查”，故排除A，B。从第二空来看，“并不知道哪一种营养是大家普遍缺乏的……”可知第二个空填“欺骗”更好，故本题选C。

16.答案：A

解析：本题从第二空入手，通过后面的内容“它们和甲骨文之间，应该还存在一个的环节”可知，填“过渡”最好，故本题选A。

17.答案：D

解析：本题从后面的成语入手，“应运而生”旧指应天命而产生，现指适应时机而产生。通过“为了照顾全球影迷的欣赏口味……因此，仅针对中国内地市场的‘中国特供版’便”，可知填“应运而生”符合语境。故本题选D。

18.答案：A

解析：第一个空，“大部分地表已被人类改造得”填“支离破碎”和“元气大伤”不能搭配，第二个空，从“我们要与自然界和平相处”可知，人类不可能“孤单”地生活在这个地球上更合语境，故本题选A。

19.答案：C

解析：本题第一个空“热点”和“要点”“基点”不能与第一个空前面的词语搭配，排除A，B，D；第二个空，引起大家的“忧虑”可以搭配，故本题选C。

20.答案：B

解析：“秘而不宣”的意思是保守秘密，不肯宣布；“一成不变”的意思是一经形成，不再改变，“不言而喻”的意思是不用说话就能明白，形容道理很明显，这三个成语都不能用来双方对一件事的看法，“不谋而合”的意思是事先没有商量过，意见或行动却完全一致，符合语境信息，故本题选B。

21.答案：C

解析：第1句出现了代词“这些帝国”说明第一句不适合做首句，排除A，B，第4句适合做首句，第2句接着第4句的话题，故正确答案是C。

22.答案：C

解析：第1句与第3句相比，第3句从中英早期贸易说起，第3句适合做首句，排除A，B；C，D的第3句后面都是第6句，第6句说到了茶，第1句接着“茶”的话题，故C正确，排除D项。

23.答案：A

解析：本题通过最后的关联词“更重要的是，”“故而”可知，最后一句是主旨，A是对主旨的同义替换。答案是A。

24.答案：B

解析：通过关联词“因此”后面的话可知，本文主要是在解释高古石雕不受重视的原因，故本题选B。

25.答案：C

解析：分总结构。文段最后一句但是表转折，之后强调的是前殖民地独立努力推行本国语言，言下之意即仅靠权力是无法持续的，同义替换选择C。

26.答案：B

解析：主题一致。文段中探讨的是历史上城墙的防御以及如何退出历史舞台的。选项中ACD三项主题不一致，没有合理引申项，因此答案为B。

27.答案：D

解析：转折之后的重点提出人类要为排放负责，之后“如果”引导的反面论证提出了难点在于利益纠葛，不同的国家责任相互推诿的问题。A选项虽然为呼吁选项，但是这一对策的后半部分没有指出排放量问题，只点到了价格问题，故排除A。因此只有D选项利益是最大正解为选项。

28.答案：A

解析：文段将文本和视频进行比较，通过“津津有味”、“麻烦”等形容词的表达倾向突出了作者肯定阅读对思考的作用。而后半段举的例子书面记录容易看出不一致二视频报道不易对比发现A符合原文意思，D选项是干扰项，文章不是在探讨人，而是在探讨获取信息的方式。

29.答案：D

解析：文段当中探讨的是自然选择对人类基因的影响。B选项虽然说到了自然选择，但是结论是人类的生理结构，不符合文意，D选项提到了基因，而且也有这种改变的结果之一是肥胖，D选项中的肥胖与基因相关和原文的“可能导致肥胖”成都一致，故选D。

30.答案：C

解析：分总结构。最后一句这就“需要”引导对策句：做好商标需要设计师的创作，只有C选项提到了对策的主体。

31.答案：B

解析：文段转折之后用“值得警惕的是”引出重点，最后一句话提到“债务的迅速增长会让经济体更易遭受冲击”与B选项意思符合

32.答案：D

解析：总分总结构。文段的主体是在探讨人类如何处理好与自然的关系，两个表示并列的分号引导出人类与自然关系的演变。最后一句观点句用“创伤”、“无情的报复”等消极倾向的表意说明人类行为的不当。B提到的是言内之意，非意图题首选。C的对策“敬畏自然”不对。D是合理引申项。

33.答案：A

解析：文段讨论慢性病的危害带来的经济损失以及防治好慢性病的经济效益，用两项数据的对比体现出防治慢性病的重要。BCD三个选项与经济效益无关，故选A。

34.答案：A

解析：文段转折之后的重点说明的是只有几种特殊的不易出现的人群才会出现维生素E缺乏，反之正常人没必要补充，故选A。

35.答案：C

解析：文段最后一句话结论类关联词“因此”引导的结论是人类直立行走，而之前使得人直立行走的原因是最新的研究得出的结论：火山喷发和构造板块移动。即地质条件的变化，故选C。

36.答案：A

解析：文段开头用设问提出问题，之后用解释性信息“这意味着”发挥承上启下作用，问题重点是原因：大脑记忆中枢细胞的快速生长，故选A，同义替换

37.答案：B

解析：文段是总分总结构。第一句话提出问题：“苍蝇妈妈”走在孩子前面扫清障碍，中间提出了这样做的危害，而答案需要的是最后一个对策，既然第一句话是挡在“前面”，因此首尾呼应选择“移开挡在面前的身体”，故选B

38.答案：C

解析：文章中分号之后论述在山水画史中，明清皇帝姓氏不同，之后用转折引导明清的画风类似：受到元代的影响，C符合文意。A错误，宋代皇帝直接作画，与选项不符；B只提到了明代受元代的影响，没提到清代；D选项属无中生有

39.答案：D

解析：文段开头用援引观点引出左右脑的平衡，但是之后用“如此深入人心”、“煞费苦心”等消极的表达倾向说明这一理论是否合理科学，只有D选项符合。

40.答案：C

解析：文段通过对人类选举制度的出现的问题引出之后蜜蜂的民主值得学习，重点在探讨在蜜蜂的种群内部是如何解决问题的。故选C

41.【解析】：答案是A。铅笔芯的主要成分是石墨。铅笔的笔芯是用石墨和粘土按一定比例混合制成的。“h”即英文“hard”(硬)的词头，代表粘土，用以表示铅笔芯的硬度。“b”是英文“black”(黑)的词头，代表石墨，用以表示铅笔芯质软的情况和写字的明显程度。

42.【解析】：答案是A。“0”这个数字是由古印度人在约公元5世纪时发明。

43.【解析】：答案是D。页岩是一种沉积岩，具有薄页状或薄片层状的节理，主要是由黏土沉积经压力和温度形成的岩石。岩浆岩是由岩浆喷出地表或侵入地壳冷却凝固所形成的岩石，有明显的矿物晶体颗粒或气孔。

44.【解析】：答案是C。黄道面是指地球绕太阳公转的轨道平面，与地球赤道面交角为23°

26'。

45.【解析】：答案是C。波罗的海是世界上盐度最低的海域，世界上盐度最高的海域是红海。

46.【解析】：答案是D。石灰有生石灰和熟石灰之分。生石灰的主要成分是氧化钙，是将氧化钙含量高的石灰岩在通风的石灰窑中高温煅烧所得。生石灰具有吸水性，可用作干燥剂，我国民间常用以防止杂物回潮。

47.【解析】：答案是A。九寨沟位于四川省北部。九寨沟的地下水富含大量的碳酸钙质，湖底、湖堤、湖畔水边均可见乳白色碳酸钙形成的结晶体；它壮丽的景色因一系列狭长的圆锥状喀斯特溶岩地貌和壮观的瀑布而文明。雅丹地貌是风蚀地貌，中国的雅丹地貌面积约2万多平方公里，主要分布于青海柴达木盆地西北部，疏勒河中下游和新疆罗布泊周围。

48.【解析】：答案是D。常见的夺命“急症”有：冠心病、肺栓塞、哮喘、脑出血、急性坏死性胰腺炎、过敏、毒品、猝死症候群、葡萄球菌性暴发性紫癜。

49.【解析】：答案是C。A项香蕉水、酒精都是液体；B项油漆是液体；D项甲烷是气体，乙炔是液体；C项沥青常温下的沥青呈半固体或液体状态，松香是透明固体物质。

50.【解析】：答案是D。巴颜喀拉山位于青海省中部偏南，海拔为5266米，是位于我国的第一阶梯。

51.【解析】：答案是A。B项玉米原产美洲，哥伦布发现新大陆后传至欧洲、非洲和中东。明嘉靖年间，由去麦加朝圣的回教徒带入中国；C项世界上最主要的油料作物是大豆；D项泰国是最大稻米出口国。

52.【解析】：答案是C。荀子是儒家学派的代表人物。

53.【解析】：答案是D。拉菲尔纳达尔是网球。

54.【解析】：答案是D。英拉·西那瓦是泰国总理。

55.【解析】：答案是D。八王之乱是西晋年间司马氏同姓王之间为争夺中央政权而爆发的混战，这场权利角逐中核心人物有汝南王司马亮、楚王司马玮、赵王司马伦、齐王司马冏、长沙王司马义、成都王司马颖、河间王司马颙、东海王司马越等八王。

56.【解析】：答案是A。B项党校是对党员和党员干部培训的基地；C项公务员[微博]对降职不服可申请复核或者提出申诉；D项公务员的考核的基本内容包括：德、能、勤、绩、廉。

57.【解析】：答案是A。儒学起源于春秋时期。

58.【解析】：答案是B。提出社会契约论的是法国的思想家卢梭。

59.【解析】：答案是D。

60.【解析】：答案是C。取保候审，是指在刑事诉讼公安机关、人民检察院和人民法院等司法机关对未被逮捕或逮捕后需要变更强制措施的犯罪嫌疑人、被告人，为防止其逃避侦查、起诉和审判，责令其提出保证人或者交纳保证金，并出具保证书，保证随传随到，对其不予羁押或暂时解除其羁押的一种强制措施。

刑事诉讼法第六十五条明确规定，人民法院、人民检察院和公安机关对有下列情形之一的犯罪嫌疑人、被告人，可以取保候审：

(一)可能判处管制、拘役或者独立适用附加刑的；

(二)可能判处有期徒刑以上刑罚，采取取保候审不致发生社会危险性的；

(三)患有严重疾病、生活不能自理，怀孕或者正在哺乳自己婴儿的妇女，采取取保候审不致发生社会危险性的；

(四)羁押期限届满，案件尚未办结，需要采取取保候审的。

取保候审、监视居住由公安机关执行。

61、【答案】B

【解析】观察图形特点，两个四边形之间的共线问题，其中1、2和4图，一个四边形的一边

完全在另一个四边形的一边上。3、5和6则不然。

【拓展】热点考点。两个图形还可以相交于点或者是线，或者共于几个点和几条线的问题。

62、【答案】C

【解析】本题考查空间立体图形的相对和相邻关系。根据相对和相邻关系的相关知识点，A、B和D项都是相对面，而C项则是相邻面。

【拓展】考生需要熟知六面体两个面的关系问题。

63、【答案】A

【解析】A项无法得到。其他选项可以。

【拓展】考生需要具备一定的空间想象力来完成这样的截图问题。

64、【答案】A

【解析】观察图形特点，九宫格先横着看，第一行，第一个图形是开放性的。第二个图包含了一个封闭图形。第三个图是开放的。九宫格第二行，第一个图形是封闭的，选A开放性。第三个图形是封闭的。九宫格第三行，第一个图形包含了封闭的图形，第二个图形是开放的。第三个图形是封闭的。

【拓展】考生需要熟练区开放性和封闭性。

65.【答案】D

【解析】观察图形特点，相同的部分去掉，求相异的部分，并且翻转。

【拓展】考生需要熟知样式类题型特点。

定义判断

题序66.

答案：D

考点：经济学类

解析：根据题目“经营性资产的使用单位是具有法人地位的企业”，D中某重点中学不属于企业，故不属于经营性资产的是D。

题序67.

答案：A

考点：经济学类

解析：根据题干“风险规避是指通过计划的变更来消除风险或风险发生的条件”，A中未提到风险，B、C、D都是风险规避。

题序68.

选择性接触

答案：C

考点：社会学类

解析：只有C中电视节目提到了“受众在接触大众传播活动之际”，所以选C

题序69.

答案：B

考点：社会学类

解析：B某药厂推出的中药降糖保健品在部分程度上可以取代药品，常供不应求，也就是降糖保健品有潜伏需求，现有产品跟不上需求状况。

题序70.

喻代

答案：B

考点：其他定义

解析：喻代是“先比喻，后用喻体代本体”A把两脚比作圆规，后“圆规很不平”，用喻体代本体；C把“他走了”后的心情比作“风筝”，D把外国人比作“大白熊”，都有喻代，只有B没有运用比喻

题序71.

答案：A

考点：法律法规类

解析：A符合题干“著作人身权是作者表现个人风格的作品而依法享有获得荣誉、声望……”

”，B应该是画家王某享有着作财产权，C应该是著作财产权，D是著作人身权

题序72.

答案：A

考点：法律法规类

解析：生产、销售有毒、有害食品罪“指在生产、销售的食物中掺入有毒、有害的非食品原料的”，A假酒中工业用高纯度酒精属于非食品原料，所以选B。其他选项都是食品原料。

题序73.

答案：D

考点：其它定义

解析：姑息治疗“指对那些治愈性治疗无望或不能接受治愈性治疗的病人采取完全的主动的医疗和护理”，D是术后验证疼痛，医生给予止痛不属于题干所说“治愈性治疗无望或不能接受治愈性治疗的病人”。

题序74.

答案：B

考点：心理学类

解析：心理记账是“人们在心理上对结果进行分类、编码、估价和预算等的过程”，B里没有心理活动。

题序75.

答案：D

考点：心理学类

解析：诱导行动是“观察者知觉到某个物体在运动，而实际上该物体没有发生空间移动，只有由于其他物体的运动使得被观察物体看起来好像在运动。”D中树木没有动，树木因为火车在动看起来像是在动，符合定义。A中星星和地球都在动，B里电影画面本身就是运动，C里月亮和云彩都在动。

题序75.

答案：D

考点：心理学类

解析：诱导行动是“观察者知觉到某个物体在运动，而实际上该物体没有发生空间移动，只有由于其他物体的运动使得被观察物体看起来好像在运动。”D中树木没有动，树木因为火车在动看起来像是在动，符合定义。A中星星和地球都在动，B里电影画面本身就是运动，C里月亮和云彩都在动。

类比推理

题序76.

答案:D

解析：荆棘引申为困难，桎梏引申为束缚；而B项折柳的含义是惜别；C项心腹是指被信任的人。故答案选D。

题序77.

答案：B

解析：戒烟可以减少疾病，核对可以减少差错。故答案选D。

题序78.

答案：C 日记：记载

解析：拍照片是为了留作纪念，写日记是为了记载事情，故答案选C。

题序79.

答案：D 物品：木箱

解析：胶囊是一种药物，木箱是一种物品，故答案选D。

题序80.

答案：D 继承：继承人

解析：居民是居住在某一地方的人，继承人是依法继承依法继承财产的人。A项乞讨不是流浪者的特点。B项守财奴除了吝啬还非常有钱。C项顺从顺从并不是独裁者的特点。故答案选D。

逻辑判断

题序86.

答案：D

考点：单观点

解析：题干的论点是将噬菌体放入人体内，可以避免植入装置引发的感染。D噬菌体无法适应体液环境，难以保持活性，所以放入体内，也不能捕食细菌，从而就不能起到避免感染的结论，削弱论证过程。A、B无关，C噬菌体能够攻击治病细菌前半句是加强的。

题序87.

答案：D

考点：单观点

解析：题干的论点是火山喷发不会使全球温度上升，还会削弱全球变暖。D具体解释火山喷发如何延缓全球变暖，增加论据。A、B都在说火山喷发会使温度升高，C火山喷发产生酸雨只是短时间内降低火山区气温，后面引起农作物的虫害是无关。

题序88.

答案：C

考点：单观点类

解析：题干论点是现代人更容易患骨质疏松等因缺钙引起的疾病，论据是现在人很少接触日光，日光影响钙吸收，题干的论证过程就是现代人很少接触阳光，所以会得骨质疏松症。C骨质疏松症患者接触日光的时长与其他人无异，也就是骨质疏松症患者和正常人接触日光的时长是一样的，也就是骨质疏松症与日光是无关的，削弱题干的论证过程。A治愈骨质疏松无关话题，B、D也无关。

题序89.

答案：A

考点：主题一致原则

解析：题干中“如果一个软件每天被下载安装的次数达到55次，这个软件的流行度会急速上升，最多时有1200万个用户采用，大量用户几乎是完全根据其他用户的行为来选择安装这

个软件，而很少关注其本身的内在特点”，可以知道题干说的是人们会根据软件流行度来选择安装软件，而不关心软件本身，所以可以得到网站上最流行的软件未必是最实用的软件。

题序90.

答案：D

考点：单观点类

解析：题干论点是R医院提供了比其他医院更加优质的导诊服务，论据是R医院在“我最满意的医院”调查中高居榜首。D选项与R医院医疗水平相当，但导诊服务不佳的排名均不如R医院，意思是R医院比其他医院排名在前，只是因为导诊服务优质，加强了题干论点。A、B、C都不能加强。

题序91.

答案：B

考点：单观点类

解析：题干论点是全球变冷或变暖对海洋生命来说都是非常严重的后果，只有B提到全球变暖和变冷都发生过海洋生物生态危机。A、C、D都只说到了全球变暖或全球变冷。

题序92.

答案：D

考点：矛盾关系

解析：题干“有的学生没有到教务处办理注册手续”，
II所有新生都到教务处办理了注册手续，能够断定真假，且为假，I、III、IV不能断定真假，可能真也可能假。

题序93.

答案：A

考点：分析推理

解析：根据“乙说：兄弟姐妹中只有哥哥一人男孩”和“丁最小，”可以得到乙不是最小，也不是最大，又根据“丙说：我是甲的姐姐”，可以得到丙排行第一，是女的，甲排行老二，

是男的，乙排行老三，是女的。

甲 乙 丙 丁

2 3

1 4

男 女 女 女

题序94.

答案：D

考点：主题一致原则

解析：A通过题干“肥胖症和人体内寄生某些能产生特定气体的微生物有关”可以得到，B通过“这些微生物使他们呼出的气体味道更难闻”可以得到，C通过“这些微生物使他们呼出的气体味道更难闻”可以得到，D得不到。

题序95.

答案：D

考点：单观点类

解析：题干论点是低热量食物对于糖尿病患者十分有益，D低热量饮食可减少脂肪在胰脏中的沉积，恢复胰岛素的分泌，对糖尿病是有益的，增加论据。A、C无关，B论点是说低热量食物对于糖尿病病人有益，不是说可以减轻他们的体重，所以不能加强。

题序：96

答案：B

解析：表格最后一行，1-

5月业务与管理费用求平均即得答案。 $(185+166+195+189+190)/5=185$ ，得答案B

题序：97

答案：D

解析：应用增长率公式：增长率=现期/基期-

1，直接比较三个险种现期/基期值的大小关系即能得到答案。人身意外伤害险为 $56/23 > 2$ ，健康险 $113/76 \approx 1.5$ ，寿险 $1255/944 \approx 1.1$ ，得到答案D

题序：98

答案：D

解析：四个月的支出/收入分别为：A.501/2012、B.447/1382、C.540/1756、D.505/1316，D选项比A、B的分子大、分母小，所以D比A、B都大，然后C与D用插值法或差分法比较得D最大

题序：99

答案：B

解析：5月全行业保险赔付支出增长32%，寿险68%，健康险29%，人身意外伤害险11%；寿险的增速比全行业增速快，所以占比增加，健康险、人身意外伤害险增速比全行业慢，所以占比减少。答案选B。

题序：100

答案：D

解析：简单阅读材料可以得出答案。A选项寿险5月保费收入高于4月，所以错误；B选项寿险收入4月比前三个月都低，显然低于一季度平均，所以错误；C选项寿险支出2月高于1月，所以错误；最终答案选D。

题序：101

答案：B

解析：根据材料第一行，增长值应为

$10875-10875/(1+7.1\%)=10875 \times 7.1\% / (1+7.1\%)=720.9$ ，答案选B

题序：102

答案：A

解析：直接在图表中比较4、6、8月份的增速差别，显然4月最大，所以选A

题序：103

答案：A

解析：直接在图表中比较即可得到6、7、8、9、10共有5个月份增速超过5%

题序：104

答案：D

解析: 根据文字材料第二段, 全国2012年规模以上工业企业主营业务收入增速为
 $3.5\%+7.5\%=11\%$, 选D

题序: 105

答案: D

解析:

A选项, 10-

12月增长率最大的是大型企业, 因此其拉动作用最大, 而不是小微型企业; B选项, 较难计算, 可先看其它选项; C选项, 利润额比上年低, 总额比上年高, 因此利润率比上年低, C选项错误; D选项, 表格中简单比较即可知道其正确。

题序: 106

答案: C

解析: 根据材料第一段, 由间隔增长率计算公式得2013年比2011年的增长率为
 $14.9\%+15.7\%+14.9\%\times 15.7\%=0.33$, 所以2013年约是2011年的1.3倍。答案为C

题序: 107

答案: A

解析: 2013年3月末, 轻工业中长期贷款余额占工业中长期贷款余额总体的比重约为

$6824\text{亿}/6.46\text{万亿}\approx 10\%$, 而轻工业增长率7.6%大于工业增长率3.2%, 因此轻工业占比增加, 又由于轻工业整体占比较少, 只有10%左右, 占比增加不会多达4%, 因此答案选A

题序: 108

答案: B

解析: 直接在根据材料所给数据比较即可, 无需计算。

题序: 109

答案: B

解析:

根据材料最后一段, 地产余额1.04万亿, 同比增长21.4%, 房产余额3.2万亿, 同比增长12.3%, 它们总的增速应该在12.3%与21.4%之间, 因此A、D排除。又房产余额较大, 因此最终平均值应更接近房产增速12.3%而远离低唱增速21.4%, 因此选B

题序: 110

答案: D

解析：A、B选项无法从材料得出，C选项直接在材料最后一段可以比较得出选项错误，因此只能选D。

要公考 到党校