

2019年天津市公务员考试模拟试卷

《行政职业能力测验》

第一部分 常识判断

(共 20 题, 参考时限 15 分钟)

常识判断部分主要考查考生的基本常识和基本经验。根据题目的要求, 在四个选项中选出一个正确的答案。

请开始答题:

1. 习近平同志在十九大报告中指出: “经过长期努力, 中国特色社会主义进入了新时代, 这是我国发展新的历史方位”。下列关于“中国特色社会主义新时代内涵”说法错误的一项是 ()。

- A. 是我国日益走近世界舞台中央、不断为人类作出更大贡献的时代
- B. 是全体中华儿女勠力同心、奋力实现中华民族伟大复兴中国梦的时代
- C. 是决胜全面建成小康社会、进而把我国建设成富强民主文明和谐的社会主义现代化国家的新时代
- D. 是全国各族人民团结奋斗、不断创造美好生活、逐步实现全体人民共同富裕的时代

2. 2018 年元旦、春节是党的十九大后首个元旦和新春佳节, 各地区各部门要深入学习宣传贯彻党的十九大精神, 以 () 为指引, 牢固树立“四个意识”, 统筹做好节日期间各项工作, 确保全国各族人民度过欢乐祥和的节日。

- A. 习近平新时代中国特色社会主义思想
- B. 新时代习近平新时代中国特色社会主义思想
- C. 习近平中国特色社会主义思想
- D. 新时代中国特色社会主义思想

3. 选举权是我国公民的一项基本权利, 下列关于选举权说法不正确的是 ()。

- A. 患有精神病的 35 岁的王某没有行使选举权的能力
- B. 乙因犯危害国家安全罪, 故不可以享有选举权
- C. 按照我国《选举法》的规定, 选民或者选举单位都有权罢免自己选出的代表, 罢免代表采用口头表决方式
- D. 某村村委会换届选举, 贾某发现公布的选民名单中没有自己, 故向选举委员会提出申诉

4. 碳酸饮料中含有大量的色素、添加剂、防腐剂等物质, 长期饮用不益于人的身体健康, 如: 骨质疏松或腐蚀牙齿等。下列不属于碳酸饮料的是 ()。

- A. 酸奶、果汁
- B. 雪碧、可乐
- C. 绿茶、矿泉水
- D. 燕麦片、果酒

5. “同病异治，异病同治”体现的哲学道理是（ ）。
- A. 矛盾具有普遍性和特殊性
 - B. 矛盾的同一性和斗争性关系
 - C. 事物是永恒不变的
 - D. 事物的矛盾是相互转化的
6. 伴随着经济全球化的发展，出现了许多经济名词，下列关于经济名词叙述正确的是（ ）。
- A. 国民生产总值又称 GDP，是衡量我国经济状况的经济指标之一
 - B. 厂房设备租金属于固定资本，企业管理人员的工资是可变资本
 - C. 随着我国经济的发展，家庭的恩格尔系数在下降，说明我国家庭收入水平在下降
 - D. 一种销售产品的增加，相应的会减少其替代品的销售量
7. 下列说法不正确的是（ ）。
- A. 毛泽东在《新民主主义论》中提出了三大法宝：统一战线、武装斗争、党的建设
 - B. 邓小平在十一届三中全会上重新确立了实事求是的思想
 - C. 十五大正式使用“邓小平理论”这一概念，并将其作为党的指导思想写入党章
 - D. 毛泽东在《改造我们的学习》中对“实事求是”这一概念做出了科学解释
8. 2017年12月8日下午，我国第二代极轨气象卫星（ ）D星正式开机，成功回传可见光图像。未来，这颗卫星将用于天气预报等领域。
- A. 风云一号
 - B. 风云二号
 - C. 风云三号
 - D. 风云四号
9. 下列历史事件按照时间顺序排列正确的是（ ）。
- A. 涿鹿之战——齐桓公称霸——烽火戏诸侯
 - B. 巨鹿之战——牧野之战——赤壁之战
 - C. 开元盛世——贞观之治——安史之乱
 - D. 商鞅变法——淝水之战——黄巢起义
10. 关于下列著作，说法不正确的是（ ）。
- A. 《甘石星经》是世界上最早的天文著作之一，书中提及日食，月食是天体相互掩食的现象
 - B. 郭守敬主持编制《授时历》，是我国古代最精确的历法，与现行阴历基本相同
 - C. 司马光主持编写的《资治通鉴》是我国第一部编年体通史
 - D. 唐代张遂是世界上首次实测子午线长度的人，他制定的《大衍历》比较准确地反映了太阳运行的规律
11. 下列各对联与其所涉及的人物对应正确的一项是（ ）。
- A. 青冢有情犹识路，平沙无处可招魂——王昭君
 - B. 安能摧眉折腰事权贵，使我不得开心颜——杜甫
 - C. 苟全性命于乱世，不求闻达于诸侯——曹操
 - D. 此情可待成追忆，只是当时已惘然——李清照

- 12.家用燃气不小心泄漏时，下列做法错误的是（ ）。
- A.立即关闭燃具开关，灶前阀门、及燃气表前阀门
 - B.立即关闭电器，杜绝明火
 - C.迅速疏散家人、邻居、阻止无关人员靠近
 - D.打开门窗，让空气流通，以便燃气散发
- 13.莫斯科时间 15 日上午 7 点，华盛顿时间和北京时间分别是（ ）。
- A.14 日晚上 23 点；15 日中午 12 点
 - B.15 日晚上 23 点；15 日凌晨 5 点
 - C.15 日下午 15 点；15 日凌晨 5 点
 - D.14 日下午 15 点；15 日中午 12 点
- 14.关于我国的地理说法不正确的是（ ）。
- A.新疆维吾尔自治区是我国面积最大的省级行政区
 - B.黄河、长江干流共同流经的省级行政区是青海、四川
 - C.阴山山脉是传统上重要的农业与林业的分界
 - D.我国最大的淡水湖在江西
- 15.对于年龄代称，下列说法不正确的是（ ）。
- A.女子 13、14 岁——豆蔻
 - B.婴儿出生 3 日——汤饼之期
 - C.40 岁——不惑
 - D.77 岁——米寿
- 16“遥知兄弟登高处，遍插茱萸少一人”，描写的是哪个节日（ ）。
- A.清明节
 - B.重阳节
 - C.端午节
 - D.腊八节
- 17.关于中国共产党历史上的重要会议，下列说法错误的是（ ）。
- A.瓦窑堡会议：决定建立最广泛的抗日民族统一战线
 - B.八七会议：确定了土地革命和武装反抗国民党反动派统治的总方针
 - C.古田会议：思想上建军，政治上建党
 - D.遵义会议：确立了以毛泽东为核心的新的党中央的正确领导
- 18.“红娘”现指“媒人”的代称，比喻为各方牵线搭桥、促成恋爱关系、婚姻关系的人或组织。那“红娘”一词出自（ ）。
- A.《西厢记》
 - B.《诗经》
 - C.《梧桐雨》
 - D.《汉宫秋》
- 19.下列关于光现象叙述不正确的是（ ）。
- A.小孔成像是因为光的折射引起的
 - B.日食和月食是由于光的直线传播形成的
 - C.高楼大厦的玻璃幕墙造成的光污染是由于光的镜面反射引起的
 - D.屏幕用白色是因为白色物体可以反射各种色光

20.颜色较深的衣服容易掉色，为了避免掉色可以采取下列哪些措施（ ）。

- A.用 5%的盐水浸泡 10 分钟，然后再洗
- B.用热水浸泡后，用漂白水洗
- C.直接放在洗衣机里洗
- D.浸泡在放入洗衣液的凉水中

*** 第一部分结束，请继续做第二部分！***

第二部分 言语理解与表达

(共 30 题, 参考时限 30 分钟)

本部分包括三种类型的试题:

一、选词填空: 共 10 题。请根据题意, 从所给的词语中选出最恰当的词语填入空格内, 从而使句子的意思表达的最准确。

请开始答题:

21. 近日, 一则新闻让人_____ : 建筑领域农民工欠薪问题有了制度层面的解决, 久拖难治的_____有了根治的希望——全国建筑工人实名制管理平台日前正式上线, 借助这个平台建立工资专户, 实行银行代发工资制, 能有效防止发生欠薪。

依次填入横线处最恰当的一项是 ()。

- A. 大喜过望 痼疾
B. 闻过则喜 通病
C. 大失人望 顽疾
D. 喜极而泣 病痛

22. _____强于亡羊补牢。当下, 健康中国的建设正在蓬勃开展, 健康管理被提到从未有过的高度。

填入横线处最恰当的一项是 ()。

- A. 守株待兔
B. 居安思危
C. 临阵磨枪
D. 未雨绸缪

23. 网络金融引发的这轮金融创新虽然在全球蓬勃发展、_____, 但是在中国对网络金融创新却引发了较大争议。_____在于一些金融创新严重背离支持实体经济的目的。经济决定金融, 有什么样的经济就有什么样的金融。

依次填入横线处最恰当的一项是 ()。

- A. 昙花一现 热点
B. 方兴未艾 焦点
C. 如日中天 基点
D. 炙手可热 热点

24. 江苏“靖江毒地案”的举报者周建刚获得了当地政府 30 万元的奖励, 创下国内环境污染举报奖励的最高纪录。但是, 这 30 万元相对于周建刚遇到的风险和承担的损失来说, 又显得如此_____。

依次填入横线处最恰当的一项是 ()。

- A. 微不足道
B. 沧海一粟
C. 谨言慎行
D. 毋庸赘言

25. “孩子们成长得更好, 是我们最大的心愿。”在虐童事件旋踵而至的现实语境中, 从携程亲子园事件到红黄蓝幼儿园(新天地分园)被指虐童……无不激起公众强烈_____, 各种“劲爆”消息井喷而出, 真真假假, 虚虚实实, 令人_____。

依次填入横线处最恰当的一项是 ()。

- A. 愤慨 一视同仁
B. 愤恨 莫衷一是
C. 愤慨 莫衷一是
D. 感慨 一视同仁

26. 我们必须清醒地认识到, 改革不是_____, 也不是照葫芦画瓢, 改革过程充满着不确定性, 改革与矛盾和问题也是相伴共生的, 因此, 试错式改革在今天同样宝贵。

填入划横线部分最恰当的一项是 ()。

- A. 无往不利
B. 循序渐进

C.按图索骥

D.一蹴而就

27.冰冻三尺非一日之寒，中国奶粉行业想要彻底恢复消费者的信心还需要时间和更积极的努力。农业部此前曾对媒体表示要“从降低生产成本、调整产品结构、提高产品质量、加大宣传引导等多个方面着手”来解决国产奶粉的问题。_____的是，提高产品质量是一切的_____。

填入划横线部分最恰当的一项是（ ）。

A.昭然若揭 根蒂

B.显而易见 根基

C.讳莫如深 根本

D.毋庸讳言 根源

28.体育英雄最初由传媒与民众共同_____,并在名流文化影响下,转化为更具号召力与形象感的体育名流,在因传媒推动作用拔高的同时也因传媒的窥私揭露而降至谷底。作为一种文化现象,体育英雄的堕落似乎已经_____,不足为奇了。

填入划横线部分最恰当的一项是（ ）。

A.打造 无独有偶

B.塑造 司空见惯

C.营造 熟视无睹

D.制造 屡见不鲜

29.有关动画片《小猪佩琦》的争论,正是由于在儿童参与动画片“游戏”,整合自己的体验时,一些比较焦虑的家长刻意避免让孩子体验一些不好的感受,或者说去引导孩子去体验所谓“好的”“正能量的”感受,这反倒可能_____,适得其反,传递给孩子一种回避和_____的态度。

填入划横线部分最恰当的一项是（ ）。

A.欲盖弥彰 粉饰

B.莫衷一是 掩盖

C.无所适从 逃避

D.揠苗助长 敷衍

30.针对当前智能家居设备泄露用户个人隐私的情况,企业应注重研究在智能化道路上如何保护好用户的个人隐私,而不是一味_____甚至夸大功能性。应尽快出台智能家居产品的安全性_____,进一步加强对市面上在售产品的安全性测试,_____建立企业隐私保护的信用机制。

填入划横线部分最恰当的一项是（ ）。

A.强调 规范 探索

B.妄诞 标准 探寻

C.重视 准则 寻求

D.推崇 条例 研讨

二、阅读理解：共 15 题。请根据题目要求，在四个选项中选出一个最恰当的答案。

请开始答题：

31.19 世纪末，英国社会活动家埃比尼泽·霍华德曾给出一个“田园城市”的设想，在霍华德的时代，这还只是一个乌托邦想象。但在后现代社会，已经是一种日常化的小镇生活原型。在中国语境下，小镇的问题十分复杂，也更多层面。中国是现代化的后来者，如何在拥有庞大农业人口的中国实现现代化，是一个历史性课题。谈论小镇，不只是谈论后现代社会的另一种生活方式的选择，更重要的是探寻中国现代化与城镇化进程中更均衡路径的可能性。

这段文字的主旨是（ ）。

A.中国小镇是后现代社会的一种生活方式

B.中国需解决农业人口占比大实现现代化

C.寻求中国现代化与城镇化协调的新途径

D.后现代社会中小镇生活日常化

32.随着受众流失和广告下滑，多数电视台面临着广告收入下降、经营成本增加、核心

人才流失的发展困境。电视台在媒体融合的技术平台、业务流程、用户数据以及服务平台方面严重落后。年轻受众从传统媒体向新媒体快速转移，除中老年受众群体外，电视台和主流受众正渐行渐远，并有逐步“失联”的危险。虽然年轻观众在流失，但不代表电视传播价值的消失，而是对现有电视的单向传播模式、陈旧节目内容以及老套运营方式的抗议与反叛。

这段文字的主旨是（ ）。

- A.媒介融合背景下的“电视之死”
- B.电视受众群体逐渐“老龄化”
- C.电视媒介面临多方面发展困境
- D.电视媒介需转变传播模式并推陈出新

33.近日，央视文化类综艺节目《国家宝藏》火了，这是一个文博探索和普及性节目，更是历史文化的正确打开方式。提起文物，很多人的第一印象是沉寂、高冷。虽然每个省份都有省级博物馆，大部分城市也有博物馆，但总体而言，大部分人对文物也非常隔膜。一方面是博物馆建设不足。美国有 35000 家博物馆，数字远超星巴克和麦当劳，博物馆自然就成了美国人生活的一部分。我国博物馆建设速度不断加快，但总数只有 5000 余家。另一方面是博物馆的服务能力不足。比如不少博物馆陈展缺乏新意、创意不够，观众所能做的只是看看实物、读读说明；不少博物馆常年不更新展品，不搞新展……公众自然对博物馆和文物兴味索然。甚至有的博物馆最后沦为一种摆设，轰轰烈烈“建”、热热闹闹“开”、冷冷清清“守”、无声无息地“关”。

这段文字意在强调（ ）。

- A.博物馆承载国家文化传播的重要意义
- B.博物馆建设不足是使人文隔膜的重要原因
- C.应大力发展建设服务型博物馆
- D.我国博物馆服务建设亟需全面提升

34.新时代的中国纪录片， 必定是具有高度媒体融合属性的，涵盖社会价值、文化价值、产业价值以及新型传播模式的纪录片业态，可以概括为“新创作、新传播、新合作”。新创作，是纪录片创意、选题、语态和技术等领域的全面升级。进一步加强社会现实类选题的挖掘和制作，延续大制作的品牌大片，同时加强小而美的精品节目集群。新传播，就是深度实施“媒体融合”战略。不仅要坚守电视屏幕的传统阵地，更要开拓互联网、电影院等新阵地，探索出一条纪录片媒体融合的“跨屏”新路径。新合作，便是进一步凝聚全行业的力量。实现“内容资源的国际化、传播方式的国际化、人才资源的国际化”，善于用国际化的表达来讲好新时代的中国故事。

这段文字意在强调（ ）。

- A.纪录片创作应与当下时代环境紧密相连
- B.我国纪录片应在媒体融合背景下创新发展
- C.现实题材的纪录片是中国纪录片创作的大势所趋
- D.想要讲好中国故事必须向跨屏模式转变

35.近日，支付宝移动客户端正式启用了人脸登录功能，人脸认证登录是以人脸识别技术作为依托，通过动态扫描来确认使用者的身份。人脸认证功能在简化了移动账户登录的同时，也不禁使人们产生了疑问，用“刷脸”取代密码安全吗？其实，人脸识别技术非常成熟，甚至比传统识别技术更为安全。因为用户必须使用密码登录支付宝才能开通人脸验证服务，而且系统会自动识别非正常操作的行为，同时，支付宝公司为金融行业专门设计 3D 姿态活体检测，可以抵御多种网络欺诈手段。但用户能否真正认可并接受这项新科技，仍需要一个

过程。

以下哪个选项不符合文意（ ）。

- A. 人脸识别技术能够简化账户登录程序
- B. 支付宝能够抵御诈骗
- C. 用户目前还没有真正接受人脸识别技术
- D. 支付宝人脸认证登录安全可靠

36.《人民日报》登载一篇题为“互联网上‘奇葩’险种频现，商家卖‘鹿晗恋爱险’”的报道：不久前，明星鹿晗和关晓彤公布了恋爱消息，粉丝沸腾。网上马上有商家开始销售“鹿晗恋爱险”，每单保费11.11元，承诺如鹿晗关晓彤一年后仍保持恋爱关系，商家便支付双倍金额，不少粉丝竟然投保。

作者对于“鹿晗恋爱险”的态度是（ ）。

- A. 支持
- B. 反对
- C. 反思
- D. 未发表观点

37.有句话说得好，“读书是门槛最低的高贵”。国家立法鼓励学校等机构的图书馆向社会公众开放，就是希望更多图书馆降低门槛，使人们可以借助书籍获得精神上的滋养与升华。而记者调查发现，不少人也都希望能够前往高校图书馆，公众渴求这种开放。不断增强的阅读需求，是公众精神生活得到提升的明显表现，也是公众对于美好生活的现实向往。然而，有人也提出了问题。比如，文献资料不便外借，专业藏书不一定适合通俗阅读，大学生尚且要“抢位”的图书馆难以提供足够大的空间等等。

作者意在表达的是（ ）。

- A. 图书馆等相关部门应制定对策让人民开放阅读
- B. 图书馆应降低门槛对社会公众开放
- C. 文献资料不应随便外借
- D. 国家制定立法增加人民阅读生活

38.先贤有言：“惟有民魂是值得宝贵的，惟有他发扬起来，中国才有真进步。”家庭文明建设，正是一项为百姓立心、为民族铸魂的时代工程。以培育和践行社会主义核心价值观为根本，以文明家庭创建活动为载体，以“注重家庭、注重家教、注重家风”为着力点，唤醒广大家庭崇德向善的道义自觉，我们4亿多个家庭的生活一定会更美满幸福，我们的国家我们的民族一定会更加和谐兴旺。

这段话概括最准确的一项是（ ）。

- A. 民魂才是中国最值得宝贵的财富
- B. 家庭文明则社会文明
- C. 把家庭文明建设作为一项长期任务切实抓好
- D. 应制定全国文明家庭评选表彰活动

39.前段时间，电视剧《小别离》引发一波热议。这部电视剧探讨了中国父母送“00后”初中生出国的问题，恰到好处地反映了这一当下屡见不鲜的社会现象，击中了众多望子成龙的“中国式父母”的心。_____。周恩来、鲁迅、胡适、徐悲鸿、陈岱孙、钱伟长、费孝通……近现代史上有名的人物，当然还有更多无名的人物，都曾卷入这一潮流，留日，留欧，留美，留苏。今天的留学各有各的考虑，而当时的出发点大都是为了共同的目标——救亡图存、启蒙革命。

填入划横线部分最恰当的一句是（ ）。

- A.留学自然是一种个人行为，但在新旧时代交替的关头，成为一种集体意识
- B.留学不是个新问题，至少在一百多年前，中国人就开始将其作为一种“方法”
- C.留学文件考察了那一批身处动荡社会中的人从童年到青年的轨迹
- D.留学生经济、身份歧视、教育差异、礼教冲突等等，都对当下富有启发性

40.近些年常往西北行走，有一物偶尔会在眼前晃荡，一只靴子，陶靴，是古物。它摆在展览橱窗里，可觉得它是那么熟识。这哪里是古物，它分明就是现实生活中女子们脚下的时尚风情——这不就是雪地靴么？其实在中国历史上，早就出现过靴子，种种色色，不可尽言。一般来说，那都是男子的装备，更多的是军士们的行头。不过稍稍寻觅，也还是可以发现女子的足上，出现过那温暖柔软的靴子。唐宋时代的女靴，就这样悄悄隐形在诗人们的眼里。古代中国的女人靴，自然也不仅只风行唐宋。因为汉唐女子多着长裙，在图画与雕塑上不易发现女靴踪影。倒是在楼兰出土的干尸，我们看到了女子双脚蹬着的皮靴，那模样与现代雪地靴，也没有什么明显不同。战国的情形，可以洛阳金村出土的驯鸟铜像为例，一个小女子双手各执一棒，棒头立鸟，她的脚上穿的正是矮筒靴子。

下列说法符合文意的一项是（ ）。

- A.史前的靴子，与现代雪地靴如出一辙
- B.往西北行走常见的古靴其实不是古物
- C.在古代靴子都是男子的装备
- D.汉唐女子不穿靴子

41.近年来，随着广告收入持续走低与新媒体的剧烈冲击，电视走向一直是争论焦点。有人认为“电视已死”，有人反驳“唱衰电视是中国传媒业目前最大的阴谋”，有人说“报纸会不会死我不知道，但电视肯定不会死”，更有人别有用心地提出“一些二三线卫视已经是零收视率”。唱衰和反唱衰的文章经常在朋友圈刷屏，刺激着电视行业的敏感神经，调动了电视人的复杂情绪。其实，“唱衰”和“反唱衰”是一个伪命题，因为衰落的不是电视，而是落后的电视经营模式。

作者对“唱衰”与“反唱衰”的态度是（ ）。

- A.认同
- B.反思
- C.未置可否
- D.否定

42.由文化部、江苏省人民政府主办的第三届中国歌剧节，将于12月16日在南京拉开帷幕。期间，将开展优秀剧目展演、一剧一评、下基层演出、歌剧艺术公益讲座等一系列活动。为推动优秀歌剧作品和人才不断涌现，促进歌剧事业的繁荣兴盛，文化部从2011年开始举办中国歌剧节。迄今为止，已在福建、湖北举办两届，推出了《土楼》、《红河谷》、《彝红》、《大汉苏武》、《运之河》等一批优秀作品，受到社会各界的广泛好评。参演艺术家亦是星光熠熠，指挥祖宾·梅塔、张国勇等，演员阎维文、雷佳、王宏伟、刘丹丽、孙砾等均将在歌剧节期间亮相。

最适合做上面一段新闻标题的是（ ）。

- A.我国歌剧事业取得新成果
- B.中国歌剧节涌现优秀歌剧作品
- C.众艺术家齐聚第三届中国歌剧节
- D.第三届中国歌剧节将在南京开幕

43.“煤改气”“煤改电”等措施，是我国北方地区改善大气质量的有效手段，从长远

来看，也是推广清洁能源、优化环境治理的必由之路。因此，问题的关键不在于“要不要改”，而在于“怎样改”。其实，“煤改气”不仅事关大气污染防治，也牵涉我国能源结构转型升级、完善农村基础设施等深层次问题，不能只见树木不见森林。此次华北局部地区出现“气荒”是多重因素叠加，政策上的一刀切、执行上的操之过急，也是一个原因。因此，_____，除了要算政治账，也不能忽视经济账、供需账，更应把民生摆在突出位置，要想方设法让群众的屋子暖起来、热起来。

填入划横线部分最恰当的一句是（ ）。

- A.推进“煤改气”须统筹兼顾
- B.政府应从实际感受民生温度
- C.要优化公共政策的价值排序
- D.增进民生福祉是发展的根本目的

44.①晚年冯先生全靠口授，助手记录下来，稍作修改即可，基本上出口成章。

②比如他说大学就是自学为主，当研究生等于学游泳，老师把你扔在池子里，游过去你就毕业了。

③做学生都是靠自己闯过来的，你把着他的手，那是教不出来的。

④他教育学生的方法也很有趣。

⑤然而他讲课很有条理，没有废话，因为受过现代逻辑训练，思维清晰。

⑥冯友兰讲课慢条斯理，如果笔记记得快，跟得上他的说话速度，就是一本完整的讲义，可以出版成书。

将以上6个句子重新排列，语序正确的是（ ）。

- A.65①42③
- B.5③2①46
- C.64①52③
- D.5③426①

45.嬉皮士们不把欧洲文化传统视为唯一“正确”的文化，而是主动拥抱来自第三世界国家的传统文化，尤其是以印度和日本为代表的东方文化更是受到欧美嬉皮士们的青睐，其结果就是瑜伽和禅宗在全世界的兴起。事实上，种族歧视之所以在当今世界人人喊打，原因绝不仅仅是种族歧视政策的废除，更是因为广大普通人对于不同文化的宽容度越来越大了，这一思想的根源就来自嬉皮士运动。不过，嬉皮士运动最大的贡献还不是文化观念的解放，而是环保思想的普及。

文章接下来最可能说的是（ ）。

- A.爆发嬉皮士运动的社会原因
- B.嬉皮士心目中的乌托邦理想
- C.嬉皮士运动中对于环保领域的思考
- D.嬉皮士运动如何改变世界

三、阅读文章，回答 46-50 题

请开始答题：

①明弘治 18 年(1505)，刚考上进士的倪宗正，驻足在北京的街头，一阵大风挟带着细粉似的尘土迎面而来，于是他写下了“长安路，长安路，尘埃十丈如烟雾”的诗句。明末，袁中道(1570—1623)在感怀旧事时，也曾有“燕市多飘风，常吹陌上尘。一层尘已去，一层尘又生”的描写。

②万历末年，俞彦回忆起在北京的点点滴滴，作了《忆长安十首》，其第一首即咏道：“长安忆，最忆是灰尘，地有寸肤皆着粪，天无三日不焚轮，并作十分春。”俞彦系南直隶

太仓人，万历 29 年(1601)考上进士，授职兵部主事，后升兵部员外郎，历官至光禄寺少卿。在北京的那段不算短的岁月里，最让他忘不了的，竟是那漫天的风尘。

③根据学者研究，北京地区在明朝 276 年当中，共有 95 个年份出现过春夏时节大风连日、沙土飞扬的风霾天气，即每 3 年就有一次。这些从蒙古草原南下的风霾，有时连续数十日甚至月余。崇祯 13 年(1640)，陈龙正(1585-1645)在家信中谈到：“自二月十九以后，屡大风霾，或连三四日，或间一二日”；三月初三清晨，“黄土弥天”，接着风大作；初五夜，“狂风尤甚，彻旦及申，飞瓦拔树，人马迎风者，皆不能前，且几有吹而倒者”。可以想见风霾之可怕！

④由于天上不时刮着风，地上扬着尘，南方人在北京生活，常深以为苦。明中叶，薛蕙(1489-1541)就曾咏道：“长安城中不可留，风尘日日使人愁。”而对福建长乐人谢肇膺(1567-1624)来说，虽然北京冬季严寒，但他还是“不患寒而患尘”。北京这种无孔不入的风沙，在狂风吹袭之余，常造成室内不论是窗户或是几案，到处都是“飞埃寸余”。而大风一起，“尘沙岂似澜”的情景，“飞沙涩齿牙，雾眼挥酸泪”的滋味，也都在南方文人的诗文中表露无遗。

⑤直至清代，北京的风尘_____。清代后期，《燕京杂记》曾云：“黄河以北，渐有风沙，京中尤甚。每当风起，尘氛埃影，冲天蔽日，靛面不相识，俗谓之刮黄沙。月必数次或十数次，或竟月皆然。”由于风尘可憎，故李慈铭(1829-1894)曾在同治 3 年(1864)说，都中有“三苦多”：“天苦多疾风，地苦多浮埃，人苦多贵官。”在这“三多”之中，除了“贵官多”之外，就是风与尘了。因为这令人苦恼的风与尘，北京住户多半以纸糊窗来防阻沙尘的侵入。此即记载所云：“燕地风沙无微不入，人家窗牖多糊纸以障之。”住在京城的人不太开窗户，窗棂也多用纸糊上，因此室内的空气异常沉闷，常对居住者造成伤害，这是风尘对北京居家生活所造成的另一不良影响。

⑥在明清的北京，人们为了避免强风挟带的风沙对眼睛造成伤害，出门总戴着一种特殊的面纱。此种景况，即徐渭(1521-1593)所谓的“长安街上尘如烟，葛布眼眼风难度”。而王世贞(1526-1590)的《戏为眼罩作一绝》，亦述及了“短短一尺绢，占断长安色；如何眼底人，对面不相识”的情形。另一方面，为了减少街道的灰尘量，清代官方设有“泼水卒”，专责泼洒街道，这也是北京令人记忆的一景。乾隆年间，蒋士铨(1725-1785)在《京师乐府词·泼水卒》中曾云：“城内天街净如拭，老兵泼水有常职。软尘不飞带余润，风伯扬之无气力。汛扫反道见礼经，负土抱瓮兼守更。司寤掌夜比都候，宵行夜游分以星。街心除扫如镜平，驱驰但许官车行。微风细雨真堪乐，坐对军持怕久晴。”这首诗述说了泼水卒的职务与心酸，他们除了平常泼街之外，还得负责整理道路、扫除街心。一般而言，洒水多在黄昏，故《都门竹枝词》中云：“马蹄过处黑灰吹，鼻孔填平闭眼皮。堆子日斜争泼水，红尘也有暂停时。”这个制度，一直至清末犹在。民初，陈师曾(1876-1923)在《北京风俗图》中就画有泼水夫，并系以诗曰：“风伯扬尘起，素衣化为缁。勺水勿嫌少，功泽胜雨师。”

46.下面这段文字最适合放在文中的哪个位置()。

“北京的风尘，大概是所有到过这里的人的共同记忆。”

- A.①和②句之间
- B.②和③句之间
- C.⑥句之后
- D.①句之前

47.填入第⑤段中画横线部分最恰当的一项是()。

- A.阳春白雪

- B. 一如往昔
- C. 今非昔比
- D. 物是人非

48. 下列与清代风沙有关的说法错误的是（ ）。

- A. “泼水卒”类似职位直到现如今一直存在
- B. 人们出门都戴着一种特殊的面纱避免危害
- C. 不开窗户也会对生活造成不良影响
- D. 泼水卒的工作不仅限于平常泼街

49. 下列说法正确的是（ ）。

- A. 俞彦在北京作了《忆长安十首》
- B. 历年共有 95 个年份出现过风霾天气
- C. 明朝时期风霾是从蒙古草原南下而来
- D. 南方文人的诗文对寒冷表露无遗。

50. 下列哪项最适合做本文的标题（ ）。

- A. 古人如何描写北京的风沙
- B. 风沙给人们造成的伤害
- C. 现代学者对于北京地区的研究
- D. 北京的点点滴滴

※※※ 第二部分结束，请继续做第三部分！ ※※※

第三部分 判断推理

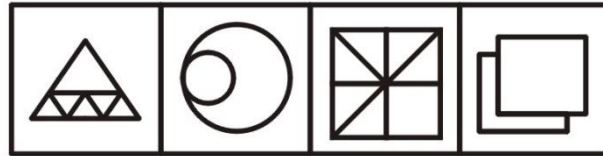
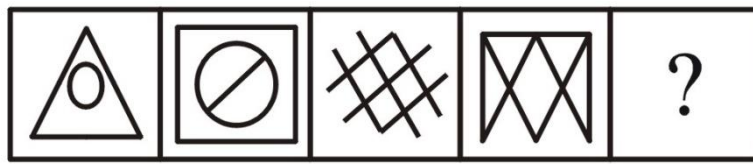
(共 30 题, 参考时限 25 分钟)

本部分包括五种类型的试题:

一、图形推理: 共 5 题。请按每道题的答题要求作答。

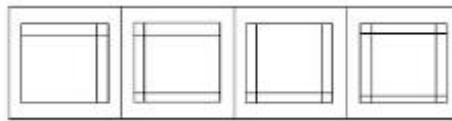
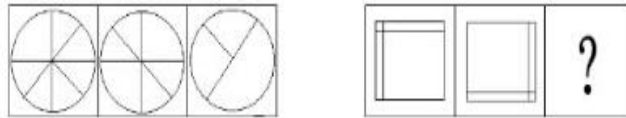
请开始答题:

51. 从所给出的四个选项中, 选择最合适的一项填入问号, 使之呈现一定的规律性 ()。



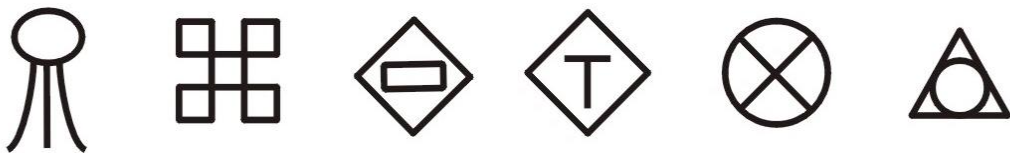
A B C D

52. 从所给的四个选项中, 选择最合适的一个填入问号处, 使之呈现一定的规律性 ()。



A B C D

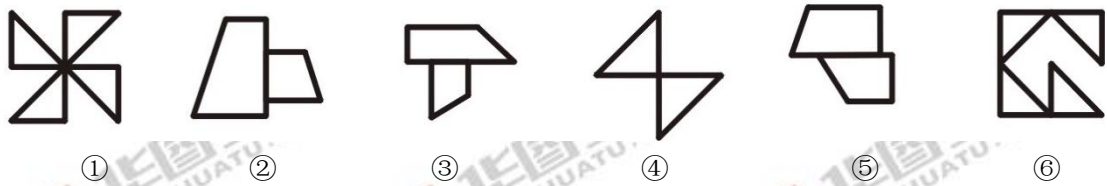
53. 把下面的六个图分成两类, 使每一类图形都有各自的共同特征或规律, 分类正确的一项是 ()。



① ② ③ ④ ⑤ ⑥

- A. ①②③; ④⑤⑥
 B. ①⑤⑥; ②③④
 C. ①③④; ②⑤⑥
 D. ①③⑤; ②④⑥

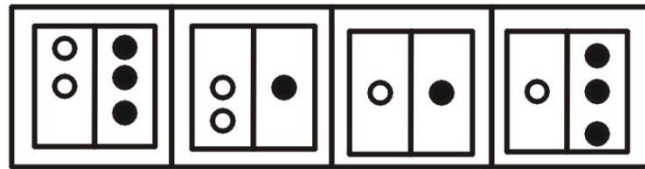

54.把下面的六个图分成两类，使每一类图形都有各自的共同特征或规律，分类正确的一项是（ ）。



- ① ②
A.①②③; ④⑤⑥
C.①③④; ②⑤⑥

- ③ ④ ⑤ ⑥
B.①④⑥; ②③⑤
D.②③⑤; ①④⑥

55.从所给出的四个选项中，选择最合适的一项填入问号，使之呈现一定的规律性（ ）。



- A B C D

二、类比推理：共5题。每道题先给出一组相关的词，要求你在备选答案中找出一组与之在逻辑关系上最为贴近、相似或匹配的词。

请开始答题：

56.陌生：熟悉（ ）

- A.闭塞：开放
B.安定：安心
C.喜欢：欣喜
D.懵懂：费解

57.天真：纯真：孩童（ ）

- A.沧桑：苍老：老人
B.矫健：敏捷：运动员
C.梦想：理想：朗朗
D.怜爱：怜惜：女儿

58.完璧归赵：蔺相如（ ）

- A.一字千金：吕不韦
B.指鹿为马：赵高
C.焚书坑儒：秦始皇
D.围魏救赵：孙臆

59.铅笔：文具（ ）

- A.翅膀：蜻蜓
B.轮胎：汽车
C.羊毛：羊
D.马：动物

60.司机：交警（ ）

- A.警察：青年
B.厨师：法官
C.编剧：诗人
D.军人：医生

三、定义判断：共 5 题。每道题先给出定义，然后列出四种情况，要求你严格依据题目要求作答。注意：假设这个定义是正确的，不容置疑的。

请开始答题：

61.蘑菇管理指的是组织或个人对待新进者的一种管理心态。因为初学者常常被置于阴暗的角落或者不受重视的部门，只是做一些打杂跑腿的工作，受到无端的批评、指责、代人受过，组织或个人任其自生自灭，初学者得不到必要的指导和提携，这种情况与蘑菇的生长情景极为相似。

根据上述定义，下列属于蘑菇管理的是（ ）

A.三国演义里的军师庞统，到孙权刘备那都被认为太丑，没人喜欢，刘备只给安排个县令当

B.卡莉·费奥丽娜从斯坦福大学法学院毕业后，进入一家地产经纪公司做接线员，她每天的工作就是接电话、打字、复印、整理文件

C.韩愈求仕不得志，从而发出“世有伯乐，然后有千里马”的感叹

D.拥有博士学位的小王本以为可以找到一份不错的工作，可是在找工作时却因为学历太高而四处碰壁

62.凡勃伦效应是指消费者对一种商品需求的程度因其标价较高而不是较低而增加。它反映了人们进行挥霍性消费的心理愿望。商品价格定得越高，越能受到消费者的青睐。

根据上述定义，下列不属于凡勃伦效应的是（ ）

A.拍卖会上一件儿童的画作能够卖到 50 万人民币

B.同样的商品，大型商场里的价格比批发市场的价格高出十几倍，但人们往往热衷于去商场购买

C.面对日益高涨的房价，让很多工薪阶层感叹“城市套路深，我要回农村”

D.相比于 iPhone 8 的销售低迷，iPhone X 却抢的火热

63.无因管理之债是指没有法定的或者约定的义务，为避免他人利益受损失而进行的管理或者服务的事实行为，该事实行为所产生的债务，此时管理人有权要求受益人偿付由此而支付的必要费用。不当得利之债是指没有合法根据，或事后丧失了合法根据而被确认为是因致他人遭受损失而获得的利益，应负返还的义务。

根据上述定义，下列属于不当得利之债的是（ ）

A.市民张大妈在菜市场买菜时应付小商贩 7 元钱，她给了 10 元钱，小商贩以为是 100 元，故找了张大妈 93 元钱，事后小商贩要求张大妈返回多找的 90 元钱

B.王老汉在一风景区旅游，见一女子孤身站在山顶悬崖边上，目光异样，即心生疑惑。当女子欲跳崖时，他情急中拉住女子衣服，将女子救上来。在此过程中，随身携带的价值 2000 元的照相机被碰坏，手臂被擦伤，王老汉要求女子赔偿相机损失

C.王某承包村里的鱼塘，经过精心饲养经营，收成看好。就在鱼要大量出塘上市之际，王某不幸溺水而死，而其两个儿子都在外地工作，无力照管鱼塘。同村好友李某便主动担负起照管鱼塘的任务，并雇佣人员将鱼打捞上市出卖。事后，李某要求王某的继承人支付雇佣劳工费用

D.张强见到一名儿童在湖边玩耍时突然落水,便跳入湖中救起该落水儿童,但他救人后由于筋骨受冻,下肢瘫痪,不能行走。两年来花去医药费数近三万元,因此张强向被救儿童家长王某索要医药费

64.矿产资源所有权是指作为所有者的国家依法对矿产资源享有的占有、使用、收益和处分的权利。国家对其领土范围和管辖海域范围内的矿产资源享有主权权利,中央政府代表国家所有者,由国务院行使国家对矿产资源的所有权,不存在地方政府、区社、集体、个人、企业、部门所有。

根据上述定义,下列对于矿产资源所有者判定正确的是()

- A.张某在自家菜园内打水井,无意间发现了深部含有金矿脉,他获得了该金矿的所有权
- B.地质队在李某承包的山林中探测发现小规模铜矿,但李某不允许开采
- C.吉林有色地质勘查局六〇四地质大队在野外勘探过程中发现大型铁矿,向国土资源局申请通过后进行开采
- D.中国黄金集团将吉林省夹皮沟黄金矿业有限公司收购,原夹皮沟金矿归中国黄金集团所有

65.行政处罚是指行政机关或其他行政主体依法定职权和程序对违反行政法规尚未构成犯罪的相对人给予行政制裁的具体行政行为。

根据上述定义,下列不属于行政处罚的是()

- A.城管将违规占道的小商贩的物品没收
- B.安全生产监督管理部门对于没有经营许可证的烟花爆竹零售商进行罚款处理
- C.驾驶拼装的机动车或者已达到报废标准的机动车上道路行驶的,吊销机动车驾驶证
- D.某市委书记因涉嫌贪污受贿等严重违纪行为被“双开”

四、逻辑推理:共 10 道。每道题给出一段陈述,这段陈述被假设是正确的,不容置疑的。要求你根据这段陈述选择一个答案。注意:正确的答案应与所给的陈述相符合,不需要任何附加说明,即可从陈述中直接推出。

请开始答题:

66.还在骂“别抖腿”?美国密苏里大学研究发现,抖腿这种不经意的动作竟能降低心脑血管疾病风险。研究者选取 2 组身体健康的年轻人,一组静坐,另一组按一定频率抖腿,3 小时后,抖动者腿部血管状况要远好于静止者腿部。

以下哪项如果为真,最能反驳上述结论?()

- A.晃动双腿可增加腿部供血,保护血管
- B.抖腿只是短暂地促进静脉血液流动,让血液回流加快,使酸胀感和疲劳感得以缓解
- C.抖腿主要与多巴胺代谢异常和铁缺乏等原因有关,并且有一定的遗传因素
- D.抖腿能够缓解紧张、焦虑的情绪

67.由健身器材测评网站的一项研究显示,健身房内的细菌可能比马桶还多 362 倍!而且超过 70%都是致病细菌,其中最常见细菌是革兰氏阳性球菌,容易导致肺炎和败血症等疾病。所以当务之急应该加大力度整顿清洁健身场所。

由此可以推出 ()

- A.健身房这样的公共场所应该每天消毒,保持器材干净,减少细菌滋生
- B.健身房和卫生间都要时刻注意清洁,保持干净
- C.公园才是人们健身的最佳场所
- D.健身房增加了使用者患眼部、耳部以及呼吸道感染的风险

68.火龙果的果肉中有很多黑色籽粒,这些水果籽大多是纤维类,不能被肠道消化吸收,它们会刺激肠道蠕动,促进肠道内容物更快地排出体外。所以,因日常膳食纤维不足而受便秘困扰的人,就很适合吃火龙果。

以下哪项如果为真,最能反驳上述观点? ()

- A.膳食纤维具有降低血胆固醇、调节血糖、减轻便秘等方面的功效
- B.火龙果中的水果籽不能被肠道吸收,反而会囤积在肠道内,增加肠道负担
- C.火龙果属凉性,寒性体质者不宜多吃
- D.香蕉中的纤维素也可以促进肠道蠕动和吸附水分,有益于缓解便秘

69.麦肯锡近日全球研究院发布报告称,到2030年,全球范围内将有高达8亿位员工会因其岗位被自动化机器人所替代而失去工作。仅美国就有3900万至7300万份的工作会被机器人取代,但失业人数却远远没有想象那么多。有关专家就此表示,技术的发展会创造出更多的工作岗位。

以下哪项如果为真,最能支持上述观点? ()

- A.人工智能会让制造业从业者失去工作,但却会在服务业得到更多的机会
- B.人类会越来越聪明,完全能够使用技术而非被技术征服,即使出现任何问题也都会有解决方案
- C.人工智能的算法都是人类设计的,所以无须担心机器智能越来越多后会把人取代,相反,人的岗位会从低端的生产线转移到相对高端的研发、技术领域
- D.未来中国的快速发展还将持续,技术的发展将会使更多人获益

70.很多人总是在抱怨,自己做生意总是失败,公司晋升的机会总是轮不到自己,生活上不幸福,不如意,觉得自己一事无成……其实你并不知道,成功是有公式存在的,想要幸福的人生,我们必须把全部的注意力转向利他,而不是利己。因为利他是自利的基础,没有利他,自己什么也得不到。

根据以上叙述,不能得到以下哪项结论? ()

- A.一个越是成功的人或者团体,他就会服务越多的人
- B.所有成功的制造商或者研发人员实际上都是在帮助我们提供便利
- C.多数商人一心为了盈利,计较得失,很难真正地获得人生的幸福
- D.当一个人成功的时候他才会想到去帮助别人

71.某高中所有的数学老师都是男性,所有的语文老师都是女性,所有的已婚人士都是语文老师,学校的校长尚未结婚。据此,我们可以知道: ()

- A.校长是男性
- B.已婚人士中有男性
- C.女教师中可能有未婚人士
- D.数学老师中有的已婚人士

72. 甲、乙、丙、丁四人对四个屋内的物品进行预测。

甲：有的屋内没有衣柜；

乙：第一个屋内有电视；

丙：有的屋内有衣柜；

丁：第四个屋内没有电脑。

如果四人的断定中只有一个人猜对了，那么一下哪项一定为真？（ ）

- A. 第一个屋内有电视
- B. 第四个屋内没有电脑
- C. 第一个屋内没有电脑
- D. 第四个屋内有电脑

73. BMC 公共卫生杂志报道了一项关于孕妇在妊娠早期使用手机的研究。这项纳入了 4 万多对母婴的研究表明，孕期用手机的妈妈生出的宝宝不仅没有表现出发育障碍，这些宝宝们在 3 岁时的语言和运动能力还比没有用手机的孕妇的宝宝们要好。

以下哪项如果为真，最能削弱上述结论？（ ）

- A. 孕妇在怀孕初期使用手机，会导致宝宝说话晚
- B. 有些孕妇，在孕期使用手机生出的宝宝一样健康
- C. 孕妇在孕期使用手机，会导致婴儿脑部发育迟缓
- D. 研究表明对三到五岁的孩子在今后几年后会不会出现行为和注意力的异常仍需要进一步的研究

74. 人参在东亚地区具有至高无上的地位，被称为“百草之王”。不过，关于人参的人体研究很多，但是研究质量高的很少，所以对人参健康功能的了解很有限；对于这些研究，美国 NIH 做了一个让人参爱好者和相关产业极度惊讶的总结：目前，没有任何结论性的证据支持人参的任何健康功效，还会带来危害。

以下哪项如果为真，最能支持上述结论？（ ）

- A. 食用人参后会影响食用者睡眠的副作用
- B. 人参中有一些“类激素”物质，大量或者长期服用可能带来一些危害
- C. 有许多人提到的“吃了人参流鼻血”，就被认为是“大补”的反应
- D. 西洋参在植物分类上跟人参同属不同种的近亲，西洋参具有对人体有益功效

75. 姆潘巴在烹饪课上学习制作冰淇淋，首先要把糖和牛奶的混合物在炉子上加热，然后等待混合物变凉再放进冰箱，然而他却发现了一些奇怪的事情：当他直接把热混合物放进冰箱，冰淇淋完成得更快了。因此，如果你把热水和冷水同时放进冰箱，热水会在更短的时间内结冰，这是种奇怪的现象，称作姆潘巴效应。

以下哪项如果为真，最能支持上述结论？（ ）

- A. 研究人员模拟实验将 500ml 冷水和 500ml 热水同时放入冰箱中对比冷冻速度
- B. 有数据显示热水与冷水冻速度几乎相同
- C. 冷却的快慢不是由液体的平均温度决定的，而是由液体上表面与底部的温度差决定的，上表面的温度愈高，从上表面散发的热量就愈多，因而降温就愈快
- D. 人们声称他所观察到的现象其实是测量不准导致的

五、事件排序：共5题。每道题给出五个事件，每个事件是以简短语句表述的，接着给出事件的四种假定发生顺序，请你选择其中最符合逻辑的一种排列顺序。

请开始答题：

76. 下列排序正确的是（ ）。

- (1) 检验测定
- (2) 检验报告
- (3) 样品的采集和保存
- (4) 样品的制备和预处理
- (5) 分析数据处理

A. 1-5-4-3-2

B. 3-4-1-5-2

C. 1-4-3-5-2

D. 3-5-4-2-1

77. 下列排序正确的是（ ）。

- (1) 有人举报某厂家食品不合格
- (2) 核查处置情况并向社会公布
- (3) 依法予以查处
- (4) 对某厂家的食品进行抽检
- (5) 抽检结果大肠杆菌菌落总数超标

A. 1-4-3-5-2

B. 4-1-2-5-3

C. 4-1-2-3-5

D. 1-4-5-3-2

78. 下列排序正确的是（ ）。

- (1) 找到了小朋友的父母
- (2) 父母将小朋友接回家
- (3) 在十字路口遇到一个小朋友在哭
- (4) 在路边陪同小朋友等父母
- (5) 上前询问缘由

A. 3-5-4-1-2

B. 5-3-2-4-1

C. 4-3-5-1-2

D. 1-5-3-4-2

79. 下列排序正确的是（ ）。

- (1) 行人被送到医院抢救
- (2) 路人纷纷打电话叫救护车
- (3) 轿车司机被依法拘留
- (4) 轿车司机酒驾
- (5) 轿车撞一行人

A. 4-2-1-5-3

B. 5-2-3-4-1

C. 5-3-2-4-1

D. 4-5-2-1-3

80. 下列排序正确的是（ ）。

- (1) 法院开具《诉讼费预缴专用凭证》

-
- (2) 法院接受当事人递交诉状
 - (3) 原告向法院起诉
 - (4) 当事人缴纳诉讼费用
 - (5) 经法院审查决定立案排期

A. 2-5-3-1-4

B. 3-2-5-4-1

C. 5-2-3-1-4

D. 3-2-5-1-4

*** 第三部分结束，请继续做第四部分！***

第四部分 数量关系与资料分析

(共 20 题, 参考时限 20 分钟)

本部分包括两种类型的试题:

一、数量关系: 共 10 题。请你仔细观察数字规律及文字表达, 从四个选项中选出你认为最合理的一项来填补空缺, 或者充分利用所给条件, 寻找解决问题的捷径。

请开始答题:

81. 2, 9, 28, 65, ()

A. 123

B. 124

C. 125

D. 126

82. 1, 2, 2, 1, 0, 0, 1, ()

A. 0

B. 1

C. 2

D. 3

83. -3, 0, 5, 12, 21, ()

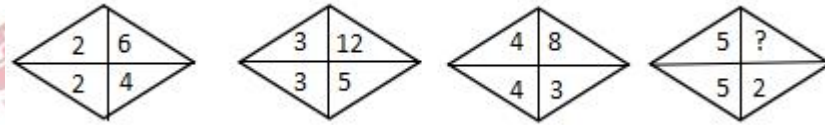
A. 31

B. 32

C. 33

D. 34

84.



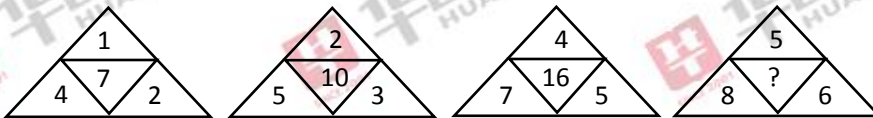
A. 5

B. 4

C. 3

D. 2

85.



A. 16

B. 17

C. 18

D. 19

86. 小王从家到单位是一段上坡路, 上坡速度是 100 米/秒, 从单位返回家时的速度是 300 米/秒, 那么小王从家到单位往返的平均速度是 () 米/秒?

A. 100

B. 150

C. 200

D. 250

87. 小红和小明两人同时从自己的校区出发到对方校区, 两人第一次相遇后继续行走, 到对方校区后立即返回, 两校区相距 600 米, 小红速度是 1 米/秒, 小明速度是 2 米/秒, 那么两人从出发到第二次相遇要 () 分钟?

A. 10

B. 11

C. 12

D. 13

88. 在某场招聘会中, 有 50 人来自食品科学与工程专业, 40 人来自生物专业, 60 人来自车辆工程专业, 35 人来自管理专业, 那么至少招聘到多少人才能保证有 40 人的专业一定

相同? ()

- A.151
- B.152
- C.153
- D.154

89.甲乙两工程队共负责一项市政工程,如果甲工程队单独完成需要12天,如果乙工程队单独完成时需要18天。由于乙工程队另有任务在身就先交由甲工程队单独施工2天,此后两队一起合作完成剩下的工作量,那么还再需多少天可完成这项工程?()

- A.6
- B.7
- C.8
- D.9

90.某单位开展业务能力培优训练,要将40份相同的材料分给5个科室,每个科室至少分5份,那么一共有多少种分配方式?()

- A.500~1000
- B.1000~2000
- C.2000~3000
- D.3000~4000

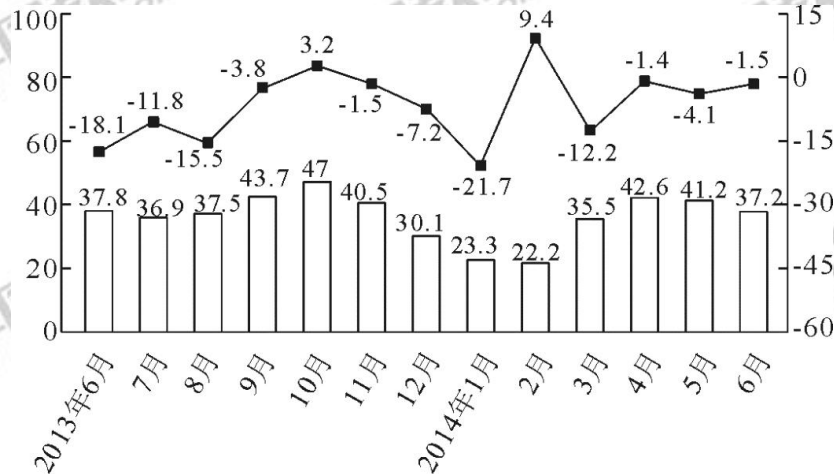
二、资料分析:共10题。你应根据资料提供的信息进行分析、比较、计算、处理。

请开始答题:

根据下面资料回答91-95题。

2014年上半年,北京市接待旅游总人数1.16亿人次,比上年同比增长5.9%;实现旅游总收入1907.2亿元,同比增长8.2%。

上半年,北京市接待国内游客1.14亿人次,比上年同期增长6.2%,实现国内旅游总收入1774.1亿元,增长9.5%。其中,外地来京旅客6891.1万人次,同比增长4.9%,旅游总消费1607.6亿元,增长8.7%,北京居民在京游4543.9万人次,同比增长8.1%,旅游总消费166.5亿元,增长17.1%。



□ 接待入境游客人次 —■— 增速

北京市接待入境游客人次及同比增速

91.2014年上半年,北京市平均接待每人次旅游者创造旅游收入与上年同期相比()。

- A.上升了
- B.不变
- C.下降了
- D.不确定

92.2013年上半年北京市接待外地来京游客占接待国内游客数量的比重为()。

()。

- A.上升了
- B.下降了
- C.不变
- D.不确定

100.关于 2009 年全国旅行社营业状况，从资料中可以推出的是()。

- A.国内旅游业务的毛利率与上年相比有所上涨
- B.入境旅游业务的营业收入比上年增加了
- C.全年促销费用支出减少了
- D.全国旅行社旅游业务的毛利率比全国旅行社的毛利率高

※※※全部测验到此结束! ※※※