

2017—2018 学年度武侯区小学数学一年级（上册）

学业质量测评试题

（时间：60 分钟）

| | | | | | | | | |
|----|---|---|---|---|---|---|---|----|
| 题号 | 一 | 二 | 三 | 四 | 五 | 六 | 七 | 总分 |
| 得分 | | | | | | | | |

一、算一算。

| | | |
|---------|---------|---------|
| $3+1=$ | $5+2=$ | $7+3=$ |
| $0+2=$ | $8-7=$ | $5+4=$ |
| $9-5=$ | $3+9=$ | $14-2=$ |
| $12-1=$ | $6-6=$ | $10-9=$ |
| $4+7=$ | $15-4=$ | $8+6=$ |
| $8-6=$ | $10+1=$ | $17-5=$ |
| $13+4=$ | $4+4=$ | $1+7=$ |

二、填空。

1. 写出右图表示的数：



2. 18 里面有 () 个十和 () 个一。

3. 按规律填数。

| | | | | | | |
|----|--|--|--|----|---|--|
| 14 | | | | 10 | 9 | |
|----|--|--|--|----|---|--|

4. 在○里填上“>”、“<”或“=”。

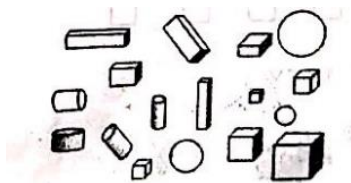
$8 \bigcirc 15$ $6 \bigcirc 4$ $1+3 \bigcirc 7-3$



5. 前 后


- 从前数，第 3 只小动物是谁？（圈一圈）
- 小松鼠在小熊的（前、后）面，小蜜蜂在小兔的（前、后）面。（勾一勾）
- 从前数，小兔排在第（ ），它前面有（ ）只小动物。

三、数数图形的数量。



| | |
|-----|-------|
| 正方体 | () 个 |
| 长方体 | () 个 |
| 圆柱 | () 个 |
| 球 | () 个 |

四、连一连。




1. 10时 6时 4时 12时




五、按要求完成。

1. 在文具用品的下画“√”，在体育用品下画“○”。




2. 葡萄颗数最多的那串下面画“√”。



3. 高的画“√”，矮的画“○”。



4. 重的画“√”，轻的画“○”。



六、画一画，填一填。

例: 例:

$6 + (2) = 8$ $6 - (4) = 2$

1. $8 + () = 10$

2. $6 - () = 1$

七、解决问题:

1. 一共有□颗糖。




□○□=□ (颗)

2. 屋子里有□只兔。



一共有10只。

□○□=□ (只)

3. 还剩□个  没吃。

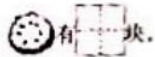
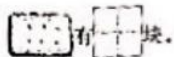




□○□=□ (个)

4. 分饼干。

(1) 数一数，填一填。


动物有 () 只。



(2)  和  一共□块。□○□=□ (块)

(3) 每只动物一块 ，还差□块。□○□=□ (块)

5. 现在还有□只鸟。



原来有 4 只 飞来 2 只 飞走 3 只

□○□○□=□ (只)