

版权所有
复制必究

2019 天津公务员考试模拟试卷

《行政职业能力测验》

重要提示：

为维护您的个人权益，确保公务员考试的公平公正，请您协助我们监督考试实施工作。

本场考试规定：监考老师要向本考场全体考生展示题本密封情况，并邀请2名考生代表验封签字后，方能开启试卷袋。

仅限华图教育内部教学使用！

二〇一九年

条
形
码

请将此条形码揭下，
贴在答题卡指定位置。

注意事项

一、此项测验分为五个部分，120 道题，总时限 120 分钟。各部分不分别计时，但都给出了参考时限，供答题时合理分配时间。

二、请按照要求在答题卡上填写好自己的姓名，涂写好准考证号，严禁折叠答题卡。

三、必须在答题卡上答题。在题本上答题，一律无效。

四、监考人员宣布考试开始时，方可答题，宣布考试结束时，应立即停止答题。

题本、答题卡、草稿纸一律留在桌上，待监考人员确认数量无误，允许离开后，方可离开考场。如果你违反了以上任何一项要求，都将影响你的成绩。

五、在这项测验中，可能有些试题较难，因此你不要在一道题上思考时间太久，遇到不会答的题目可先跳过去，如果有时间再去思考，否则，你可能没有时间完成后面的题目。

六、试题答错不倒扣分。

停！请不要往下翻！听候监考老师的指示。
否则，会影响你的成绩。

第一部分 常识判断

(共 20 题, 参考时限 15 分钟)

根据题目要求, 在四个选项中选出一个最恰当的答案。

请开始答题:

1. 下列成语与反映的哲学原理对应**错误**的是:

- A. 量体裁衣——具体问题具体分析
- B. 白马非马——要抓住事物的主要矛盾
- C. 竭泽而渔——未能以发展的眼光看问题
- D. 讳疾忌医——否认矛盾的客观存在

2. 关于金融机构下列说法**错误**的是:

- A. 金融机构包括银行、证券公司、保险公司和基金管理公司等
- B. 按照是否能接受公众存款, 可划分为存款性金融机构与非存款性金融机构
- C. 残损人民币可以前往任何一家金融机构进行兑换
- D. 金融机构风险主要涉及市场风险、信用风险和操作风险

3. 下列官职机构**不具备**监察职能的是:

- A. 御史大夫
- B. 刺史
- C. 中书省
- D. 都察院

4. 关于下图所示内容的说法**错误**的是:



- A. 是洋务运动的重要成果之一

-
- B. 其办学方针是“中学为体，西学为用”
- C. 是中国近代第一所国立大学
- D. 标志着中国近代国立高等教育的开端
5. 下列古代文明与代表性建筑对应正确的是：
- A. 古印度——空中花园 B. 古巴比伦——阿育王石柱
- C. 古希腊——大斗兽场 D. 古罗马——万神庙
6. 关于我国的地理国情，下列说法**错误**的是：
- A. 我国著名的鹤类栖息地扎龙自然保护区位于齐齐哈尔
- B. 世界文化遗产大足石刻位于成都
- C. “睡佛云中逸，滇池海样宽”所在的城市被称为“春城”
- D. 世界最大的稀土矿床位于包头
7. 关于城市，下列说法**错误**的是：
- A. 拉萨是我国历史文化的名城，素有“日光城”的美誉
- B. 哈尔滨地处东北亚中心地带，属中温带大陆性季风气候
- C. 武汉素有“四面荷花三面柳，一城山色半城湖”的美誉
- D. 成都是既有锦又有绣的城市
8. 小王与某广告公司明确权利义务后，公司决定与小王签订劳动合同，并确定了合同时长、试用期期限及试用期工资。下列符合法律规定的是：
- A. 合同为2年，试用期为6个月
- B. 合同为2年，试用期为2个月
- C. 试用期工资为转正工资的50%
- D. 试用期工资为转正工资的60%
9. 下列做法符合法律规定的是：
- A. 村委会在村委会内部会议上提交了村委会办公楼建设工程承包合同
- B. 村委会与村民张三签订土地承包合同，承包期间，村委会可以随时收回土地
- C. 村里有一座煤矿，村民决定成立煤矿经济合作社，以合作社的名义申请煤矿的采矿许可证
- D. 村里要规划村内农田水利基本建设，经村委会讨论通过后即可实施
10. 下列行为属于犯罪未遂的是：
- A. 小张欲实施银行抢钱，踩点过程中因肚子疼而返回家中

B. 小王为谋取不正当利益，将价值 50 万元的字画送给国家工作人员，但第二天字画被退回

C. 小李是国家工作人员，非法收取他人 20 万现金支票后，尚未到银行提取而被查获

D. 小刘发送诈骗短信，受骗人信以为真汇款 10 万，但因操作失误汇款到无关第三人账户

11. 戏曲起源于原始歌舞，是一种历史悠久的综合舞台艺术样式。下列有关戏曲的说法**错误**的是：

A. 中国的戏曲与希腊悲剧和喜剧、印度梵剧并称为世界三大古老的戏剧文化

B. 京剧、豫剧、越剧、评剧、黄梅戏是我国五大戏曲剧种

C. 越剧最初是从曲艺“落地唱书”发展而成，多以“才子佳人”题材的戏为主

D. 京剧作为我国著名剧种，被誉为“百戏之祖”

12. “生命是一袭华美的袍，上面爬满了虱子”是哪位作家的经典语录？

A. 余华

B. 张爱玲

C. 王朔

D. 丁玲

13. 下列著名诗人及称号对应正确的是：

A. 陈子昂——诗杰

B. 贺知章——诗狂

C. 白居易——诗佛

D. 刘禹锡——诗鬼

14. 下列有关文学常识的说法**错误**的是：

A. 郑燮是“扬州八怪”之一，其诗、书、画均旷世独立，世称“三绝”

B. 元稹倡导了新乐府运动，提出“文章合为时而著，歌诗合为事而作”的创作主张

C. 王勃、杨炯、卢照邻、骆宾王合称为“初唐四杰”

D. 北宋的苏轼与南宋辛弃疾并称为“苏辛”，二人同为豪放词派的代表

15. 以下动物的繁殖方式与其他**不同**的是：

A. 海豚

B. 海龟

C. 鲸鱼

D. 海豹

16. 随着城市进程发展的加快，噪音不断增多。关于噪音下列说法**错误**的是：

A. 为保护睡眠，声音建议在 50 到 70 分贝

B. 禁止鸣笛是在声源处减弱噪音

C. 关上门窗是在传播途径中减弱噪音

D. 噪声可导致听力受损

17. 关于豆腐，下列说法正确的是：

- A. 豆腐相传由汉代刘邦发明
- B. 豆腐的原料是黄豆、绿豆、白豆、豌豆等豆类
- C. 豆腐营养极高，含有丰富的胆固醇供人体需要
- D. 豆腐是将豆浆冷却后加入凝固剂形成的

18. 下列有关混合物和纯净物的说法正确的是：

- A. 由同种元素组成的物质一定是纯净物
- B. 纯净物没有固定的化学式，无固定组成和性质
- C. 冰水混合物是混合物
- D. 空气是一种混合物

19. 关于波的传播方式下列说法**错误**的是：

- A. 地震波按传播方式分为纵波、横波和面波
- B. 声波在气体和液体介质中传播时是一种纵波
- C. 微波是一种电磁波，以横波方式传播
- D. 水波以横波方式进行传播

20. 以下疫苗属于活疫苗的是：

- A. 麻疹疫苗
- B. 百日咳菌苗
- C. 伤寒菌苗
- D. 霍乱菌苗

※※※ 第一部分结束，请继续做第二部分！ ※※※

第二部分 言语理解与表达

(共 35 题, 参考时限 35 分钟)

本部分包括表达与理解两方面的内容。请根据题目要求, 在四个选项中选出一个最恰当的答案。

请开始答题:

21. 投资自身是明智的, 但如果过度透支现在, 就变成给自己挖坑了。有必要提醒一句, 大学生超前消费要_____。消费习惯不仅是花钱多少的问题, 还关系年轻人修身立德的过程。

填入划横线处恰当的一项是:

- A. 张弛有道
- B. 适可而止
- C. 因人而异
- D. 按部就班

22. 在电视中, 在广播里, 在最通行无阻的网络世界中, 普通话是中国人使用最为_____的语言。相比之下, 方言作为一种主流之外的“亚语言”, 传承路径却愈加_____。在逐步失去大众媒体平台的依凭之际, 方言作为一种曾与生活息息相关的陪伴, 正滑入岌岌可危的境地。

依次填入划横线处恰当的一项是:

- A. 普遍 逼仄
- B. 广泛 窘迫
- C. 常见 狭窄
- D. 流行 匮乏

23. 蔡元培说过“要看明日之社会, 先看今日之校园”, 教师要对历史和未来负责, 而不是逢迎当下, _____。

填入划横线处恰当的一项是:

- A. 好高骛远
- B. 随波逐流
- C. 人云亦云
- D. 同流合污

24. 由于互联网和便捷的交通, 年轻人正全面_____全球化带来的好处, 在此过程中_____中国的人伦之道是当下教育和哲学社会科学值得做的工作。作为身份上权威的父母, 似乎更该进行一场人生教育方面的再学习、再启蒙、再讨论, “为爱找方法”, 犹未晚矣。

依次填入划横线处恰当的一项是:

- A. 接受 发扬
- B. 汲取 结合

C. 吸取 融合

D. 吸收 融汇

25. 《生门》展现了生命的可贵，以及面对生命时不同人的不同情绪。生死一线，竟有准家长嚼着口香糖冷漠以对，如此不负责任_____着生命教育的成效。社会发展到今天，一些地方“不生个儿子就抬不起头”的旧观念还_____，在“全面二孩”的大背景下，如何根治观念之弊，是摆在眼前的迫切问题。

依次填入划横线处恰当的一项是：

A. 拷问 根深蒂固

B. 质问 盘根错节

C. 反映 牢不可破

D. 质询 坚不可摧

26. 昔日北大荒人，尤其是农村贫困人家，最原始的过冬习惯是“猫冬”度日。即便“猫”在棉团里，武装到牙齿，也说不清在什么具体情形下，被冻伤了。我的手背、脚背、耳垂、鼻尖，无数次被冻伤过，这对小孩子是_____的事。

填入划横线处恰当的一项是：

A. 微不足道

B. 无足轻重

C. 司空见惯

D. 如数家珍

27. 随着全面二孩政策的实施，本已紧缺的儿科医疗资源更加_____。如果真把基层儿童医疗做好了，需求肯定会很大，能让每个孩子拥有一位值得信任的家庭医生，相信家长们肯定会有更多_____。

依次填入划横线处恰当的一项是：

A. 力不从心 幸福感

B. 左支右绌 安全感

C. 捉襟见肘 获得感

D. 如履薄冰 满足感

28. 《中国画》的作者蒋彝，是一位旅居英国的画家兼诗人。他脚步不停，画笔不停，思想也在中西文化中游走。他如孩童一般_____地观察、发问，有时又像艺术家一样陷入_____的思考，而以上特点同时体现在他的文字和图画里。

依次填入划横线处恰当的一项是：

A. 敏锐 严谨

B. 单纯 深邃

C. 幼稚 深入

D. 简单 周密

29. 终于读完了《带灯》。说“终于”，是因为读得不是很顺畅。《带灯》一改作者以往的写作习惯与情节安排，有了新的叙事方式，因而增加了欣赏_____；有了去故事性的谋篇布局，因而_____了阅读快感。叙事铺陈与细节描写_____，乡村生态与人物枝蔓骨肉相连。

依次填入划横线处恰当的一项是：

- A. 难度 增强 交相辉映 B. 效果 弱化 休戚相关
C. 亮点 提高 相得益彰 D. 障碍 减少 浑然一体

30. 冰冻三尺，非一日之寒。京津冀及周边地区_____形成的产业结构、能源结构和交通格局，让污染物排放远超过环境容量的状况一时难以改变，在这样的背景下，污染治理不可能_____，空气质量改善的过程依旧漫长。

依次填入划横线处恰当的一项是：

- A. 长期 一蹴而就 B. 短期 轻而易举
C. 长久 一挥而就 D. 一时 迎刃而解

31. 在夹娃娃机之后，迷你 KTV、微按摩等各种自助娱乐设备，_____共享、碎片化时间、资本追逐线下流量的快车，悄然泛滥，迅速_____，并从一二线城市向三四线城市转移。不少厂家和投资人对这一领域颇为看好。

依次填入划横线处恰当的一项是：

- A. 乘坐 漫延 B. 依靠 发展
C. 借助 扩散 D. 搭上 蔓延

32. 文物的世界，尘封久远，许多人觉得很_____，只属于一些特定的群体。一般公众接触较多文物的机会是有限的，即便偶尔去博物馆，也是_____，对橱窗里的文物留下太深印象的不会很多，有时可能连简单的说明牌都顾不上看清楚。

依次填入划横线处恰当的一项是：

- A. 陌生 轻描淡写 B. 奇怪 浮光掠影
C. 神秘 走马观花 D. 无趣 浅尝辄止

33. 小小年纪频繁触网，是否会出现“脑子灵活却思考退化”“指尖灵活却手工下降”，是否会对儿童智识发育有影响，学界_____，但可以肯定的是，当小脑袋长时间钻进屏幕，他们的视力和颈椎发育必然面临不可承受之重。而网上信息_____，尚未成年的孩子又缺乏_____和自控能力，沉浸其中风险重重。

依次填入划横线处恰当的一项是：

- A. 各持一端 滥竽充数 约束 B. 莫衷一是 泥沙俱下 甄别
C. 各持己见 错综复杂 辨别 D. 众说纷纭 鱼龙混杂 鉴别

34. “亲子”“母婴”类视频近年来在国内发展迅猛，但其监管却长期不够严格。在一般人看来，给孩子看的视频即便存在搞笑或戏谑的成分，也不会太_____。但显然这样的想

法远远_____了某些商业力量的贪婪，他们为了从孩子身上捞钱可以无所不用。

依次填入划横线处恰当的一项是：

- A. 出格 低估
B. 独特 轻视
C. 逾矩 降低
D. 诙谐 忽视

35. 对于大山里的孩子们而言，《苔》所咏唱的，不仅仅是个体的信心、生命的希望、未来的畅想，也是真实的人生处境。他们生活的_____体现在方方面面，除了物质层面的贫困之外，精神层面的_____往往更令人难熬。而在这样的环境中长大的孩子，精神世界往往也_____足够的丰富和充盈、爱与关切。

依次填入划横线处恰当的一项是：

- A. 艰苦 枯燥 充满
B. 缺乏 萎靡 欠缺
C. 匮乏 单调 缺乏
D. 节俭 需求 缺少

36. 在互联网时代，人们被汹涌而来的海量信息所包围。知识付费的出现使分众化信息交流落实到了具体的个人，是从海量信息中突围的利器。只要利用碎片化时间和少许资金就能获得自己需要的答案，其效率是传统的依靠搜索引擎寻找大路货式的内容所无法比拟的。相关报告显示，2017年我国内容付费用户规模预计达1.88亿人。此外，正版化内容消费习惯的养成也是知识付费能够迅速普及的重要原因。盗版音乐、盗版影视等在政府的严厉打击下日益萎缩。为正版内容买单成为网络用户消费的主流，为知识付费顺理成章。

对于这段文字概括准确的一项是：

- A. 知识付费快速普及的主要原因
B. 知识付费成为网络用户的消费主流
C. 人们渐渐养成正版化内容消费习惯
D. 知识付费使得分众化信息交流落实到具体的个人

37. 正常心脏的跳动每次间隔的时间基本相等。如果出现突然提前的心跳，医学上称为过早搏动（简称早搏）。早搏的危险性是由原发病的严重性以及早搏是否有发展为恶性心律失常的趋势来决定的，而不是由早搏的次数或症状而定。多数早搏患者并无不适症状，仅仅感到心荡了一下、有一次心跳得很重或心脏扭动了一下等。只有频繁的早搏才可能使人感到心悸、胸闷、疲乏等不适。有时，很多早搏特别频繁的人也可能没有任何不适。所以，早搏的多少和症状的轻重与风险没有关系。

这段文字意在强调：

- A. 早搏的危险性由原发病的严重性决定

- B. 有早搏并不等于患有心脏病
- C. 频繁的早搏会让人感到不适
- D. 早搏就是心跳突然提前

38. 对于演员来说，演剧方法固然重要，更重要的是生活积累。胸有丘壑，厚积薄发。北京人艺建院之初并没有马上排戏，剧院做的第一件事是下厂下乡，全院导演、演员、舞美人员分 4 个大组到工厂和农村去。我去的是重工业琉璃河水泥厂，比我年长的刁光覃、田冲，以及焦菊隐先生和我们一起。在这半年中，我们确实做到与工人农民同吃同住同劳动，工作之余，还跟着工人一起欢聚、打球，成为无话不谈的知心朋友。“深厚的生活积累”是北京人艺演剧风格得以形成的重要因素。每排一个戏都要求必须认真深入生活，这一点已经成为大家的自觉习惯。人艺的经典剧目《茶馆》就是体验生活、深入生活的典型作品，创作者在前期进行的准备工作，甚至超过排戏所用的时间和精力。

这段文字主要强调的是：

- A. 做好文艺作品的前期准备工作至关重要
- B. 北京人艺更重视演员的生活积累
- C. 生活积累对于演员的重要性
- D. 经典剧作必须深入反映生活

39. 作为欧洲除俄罗斯外人口最多的国家，德国的垃圾处理和循环经济体系多年来不断发展和成熟，已转变成以废物为资源，获得原料和能源的资源管理系统。特别是在近 30 年里，德国一直在执行循环经济政策，令国民意识到了废物分类和循环利用的重要性，为先进的分类、处理和循环利用技术的引入创造了条件，增加了本国的循环利用能力。如今，德国已拥有全球最高的废物回收利用率，节省了大量的原料和能源，展示了废物回收利用产业对可持续发展的贡献。

下列选项表述符合文意的一项是：

- A. 德国是欧洲人口最多的国家
- B. 德国的废物回收利用率全球最高
- C. 我国正在执行循环经济政策
- D. 提高我国国民废物分类和循环利用的意识很重要

40. 固然，学校并不能存在于真空环境中，难免受到社会上各种文化与风气影响，但学校作为教书育人的场所，承载着育人、培养祖国和民族未来的特殊使命。每项活动的开展，都是教育的实践，都会对学生产生潜移默化的影响。如果个别家长的功利化做法被学生们看

到、效仿，势必会影响他们的主观选择与价值判断，这对于孩子的未来成长、社会风气的营造都是不利的。

这段文字意在说明：

- A. 学校教育应让学生树立正确的价值观
- B. 学校容易受到社会风气的影响
- C. 学校是教书育人的场所
- D. 不能让功利心态侵染校园文化

41. 学术造假“一票否决”很有必要，但不能仅仅止于“一票否决”，还要有“续集”。“一票否决”的目的是铲除学术造假的土壤，营造公平公正的竞争环境，为优秀人才脱颖而出创造条件。而审核把关往往属于事后监督。如何把“亡羊补牢”变成“未雨绸缪”？这就需要健全完善制度，强化制度执行力，挖出学术造假的根源，依法斩断利益链条，形成强大震慑。否则，仅仅止于“一票否决”，很可能“摁下葫芦浮起瓢”。

文段中划线“续集”指的是：

- A. 铲除学术造假的土壤
- B. 健全制度并强化执行力
- C. 对学术的审核把关
- D. 营造公平公正的学术环境

42. 克隆猴这一重大成功得益于中国在科研方面的优势，那就是跟踪、模仿和利用后发优势以及技术优势实现超越。克隆技术发展了 20 年，灵长类动物的体细胞克隆一直进展不顺利。中国科学家通过持续努力和技术攻关突破了细胞遗传物质植入、分离、被植入的卵细胞的遗传机制启动等重大难题，不能不说是一项非常重要的技术突破。但还不能像率先提出克隆理论或者将皮肤细胞分离为多能干细胞那样被称为划时代的科学成果，因为其中没有体现出足够的原创思想。

这段文字主要强调的是：

- A. 克隆猴的成功是一项非常重要的技术突破
- B. 克隆猴虽很成功但仍不具有划时代的意义
- C. 克隆猴是重要的技术突破但原创思维不足
- D. 克隆猴的成功体现了后发优势和技术优势

43. 比胰腺癌更容易让人忽视的是急性胰腺炎。王东表示，急性胰腺炎患者中，20%~30%病情凶险，总体病死率为 5%~10%，重症患者的病死率可达到 30%。急性胰腺炎病因较复

杂，过量饮酒、胆道结石、高脂血症、十二指肠反流等都可能是诱因。其中，过量饮酒及暴饮暴食导致的疾病发作越来越常见。特别是春节等假日，由于饮食无节，急性胰腺炎患者会明显增加，甚至出现数倍增长。北京医院肝胆胰外科主任医师贺修文补充说，在高脂血症导致的急性胰腺炎中，孕妇是一个特殊群体。“临床上见过不少孕妇，因为孕期进补太多而发病。有些时候，长辈准备了太多补品，孕产妇吃不下，老人怕浪费只能自己吃，却因此患上急性胰腺炎。”

这段文字意在说明：

- A. 急性胰腺炎应引起人们注意
- B. 急性胰腺炎病因非常复杂
- C. 春节期间应主要合理膳食
- D. 孕妇在孕期不要进补太多

44. 有人认为，用铁锅炒菜的过程中，铲子勺子会碰到锅壁刮擦下碎铁屑。这些碎屑混入菜肴，会增加菜品的含铁量，同时能够起到预防缺铁性贫血的作用。铁锅炒菜时会有一些铁屑掉下来，这些铁屑接触到食物特别是酸性食物后会变成铁离子，溶于食物中增加铁元素。但是，溶解的铁离子基本是非血红蛋白铁，吸收率不高。含铁量较多的食物包括动物血、红肉、肝脏、蛋黄、乳酪及深绿色蔬菜，平时应适当增加这些铁质丰富食物的摄取量。但是，补铁不能只吃这几样食物，应该食物多样、营养均衡。蔬菜水果中富含维生素C、柠檬酸及苹果酸等，这类有机酸可与铁形成络合物，有利于铁的吸收，大大增加铁的利用度。

适合做这段文字标题的一项是：

- A. 如何预防缺铁性贫血
- B. 如何挑选铁质丰富的食物
- C. 到底该如何补铁
- D. 铁锅炒菜能否补铁

45. 研究表明，媒体报道与公众态度具有很强的关联度。一个国家媒体对中国的负面报道越多，其公众对中国的态度就越负面；一个国家媒体对中国的正面报道越多，其公众对中国的态度就越积极，说明媒体报道在相当程度上左右着公众对报道对象国的认知和态度。从17个国家媒体涉及中国的报道看，环境保护、食品安全是负面报道最多的领域，西方国家的报道几乎是清一色的负面消息，对中国在环保方面的巨大投入和取得的巨大进步几乎只字不提。而正面报道最多的是对中国传统文化的赞赏，比如中国美食、民间手工艺、民族舞蹈等，但对中国当代文化建设很少提及。这种不客观报道，在一定程度上误导了国外民众，是不负责任甚至别有用心行为。

这段文字意在强调：

-
- A. 西方媒体对我国的片面报道误导了国外民众
 - B. 我国媒体应引导西方媒体进行正面报道
 - C. 西方媒体对中国的负面报道很多
 - D. 西方媒体对中国存有先天的偏见

46. 企业家精神，是企业家存在的意义所在，如果一个企业家被认为是伟大的，那么他一定是改善了很多人的生活，创造了很多他人的幸福。而一家企业能够成就伟大，也往往是因为这家企业拥有企业家精神。不少企业负责人以自己企业的盈利与收益作为成功与否的标准，缺少为他人、为社会创造幸福的企业家精神，自然就得不到社会的尊重。

这段文字主要讲的是：

- A. 企业家精神是企业的核心
- B. 企业家成功与否的标准所在
- C. 企业家精神对企业的重要性
- D. 企业家的伟大在于改善了他人生活

47. 憨态可掬的考拉被誉为澳大利亚的国宝，主要分布在昆士兰、新南威尔士、维多利亚和南澳州的低海拔、不密集的桉树林中。考拉在自然界面临的天敌主要有澳洲野犬、狐狸和老鹰等，然而，现在人类越来越成为威胁考拉生命的头号杀手。人类活动导致考拉栖息地丧失和碎片化是考拉种群面临的巨大威胁。澳大利亚沿海地区的城市化进展和内陆地区丛林开垦等人类活动直接导致考拉数量急剧减少。由于栖息地丧失，在过去 15 年至 20 年间，昆士兰州的考拉数量下降了 53%，新南威尔士州的考拉数量下降了 26%。

这段文字意在说明：

- A. 考拉是澳大利亚的国宝
- B. 澳大利亚考拉生存状况堪忧
- C. 澳大利亚考拉的数量不断减少
- D. 澳大利亚可通过立法保护考拉

48. 生活是传统文化的载体，但不是绝对的。比如，今天我们在日常生活中不再使用毛笔，但是学习书法乃至从事书法创作的人群不小，书法这个文化传统一直在继承。这就是说，文化传统一旦形成，就有相对独立性，只要它符合人类对真善美的追求方向，就会不断有人去追求、去传承，传统就会不断发挥作用。再比如当代社会中诗词与生活的相关性和古代不能相比。但是全国各地喜欢写旧体诗词的人很多，特别南方有很多民间诗社。

这段文字作者想表达的是：

-
- A. 传统文化可通过融入日常生活传承
 - B. 古诗词的传承不一定要借助载体
 - C. 生活不是传统文化的绝对性载体
 - D. 传统文化具有相对独立性

49. 社会学家马克斯·韦伯早在上世纪初就断言，纯粹出于兴趣、信仰和爱好的价值理性衰落了，而少投入多回报的工具理性则大行其道。对当代阅读文化而言，韦伯预言也同样有效，越来越多的阅读不再出于纯粹兴趣、信仰和爱好，而是出于各种各样实用功利目标，苏东坡“旧书不厌百回读，熟读深思子自知”的境界踪迹难寻。于是，培养公众阅读价值理性，培养为阅读而阅读的冲动，也是改变当下阅读生态一个可能途径。

这段文字意在强调：

- A. 当下亟需培养公众的阅读价值理性
- B. 当下功利性的阅读生态大行其道
- C. 应该培养公众的阅读兴趣和爱好
- D. 阅读不应该存在实用功利

50. 事实上，经过近 20 年的积累，我国的网络文学在作品数量、读者规模和社会影响力上已经相当可观。最新统计表明，我国网民规模已达 7.51 亿，网络文学用户近 3.53 亿，占网民总数的 46.9%，手机网络文学用户 3.27 亿，占手机网民的 45.1%。这些数据是否就可以证明网络文学已经是“主流文学”了呢？其实不然。

这是一篇文章的引言，接下来最有可能讲述的是：

- A. 网络文学拥有很多的读者
- B. 网络文学的作品数量很多
- C. 网络文学在我国的影响力
- D. 如何使网络文学成为“主流”

51. 癌症，因其难以完全被治愈，“绝症”之称可谓实至名归。在国内常用的“放疗”“化疗”等传统方法效果越来越差之时，免疫疗法这种以激发自身免疫力的新疗法在国外已临床应用多年后，终于有望在 2018 年造福国内患者了。目前一些类型的免疫疗法已经被证明可以有效地对抗癌症，但它们也可能带来不可避免的副作用。一些免疫疗法的主要缺点是，它们让整个身体的免疫系统过载，而不是仅仅集中到癌症部位。虽然副作用不小，但免疫疗法在研究方向上无疑是正确的。

下列选项表述**不正确**的是：

- A. 癌症免疫疗法将在我国临床应用
- B. 免疫疗法已经被证明可以有效治癌
- C. 癌症患者可以通过免疫疗法被治愈
- D. 免疫疗法也可能存在副作用

52. _____。一个时代有一个时代的文艺，进步的文艺总能为它的时代提供积极的精神营养和思想力量，提高人们的精神境界和道德情怀，推动时代进步和社会全面发展。近代以来，文艺始终与中华民族共命运、同忧患，先天下之忧而忧，为民族的救亡图存呼号呐喊。五四新文化运动之后的新文艺，更是肩负起思想启蒙的使命，从个性解放、精神觉醒到民族救亡，始终站在时代前列，引领着民族解放的时代主题。

填入划横线处恰当的一项是：

- A. 文艺应该有精神力量
- B. 文艺发展应百花齐发
- C. 文艺与时代息息相关
- D. 时代推动了文艺的发展

53. 1993年，《科学》杂志发表了荷兰奈梅亨大学的遗传学家汉·布鲁纳的研究报告，这项研究针对一个荷兰家族进行，该家族的很多男性成员都具有一些奇怪的攻击性，如裸露、纵火、强奸等。他们的愤怒阈值似乎非常低，一些常人看来不值一提的挫折和压力都会激起这些人莫名的疯狂，甚至会殴打激怒他们的人。对他们进行遗传分析后，发现这些男性体内缺少编码单胺氧化酶的基因。这项研究表明，_____。

填入划横线处恰当的一项是：

- A. 人体内的某些基因与性格有关系
- B. 后天环境对于人的性格影响不大
- C. 可通过改变基因来改变人的性格
- D. 来自同一家族的人性格会很相似

54. ①姥姥分给我的活是每天早上用扫帚扫霜花

②屋内烧火一升温，没等太阳光临，霜花就化了

③夜里窗纸和玻璃上形成厚厚霜花

④我一手端着簸箕接着，一手拿着小笤帚轻轻地扫，先扫窗纸上的，后扫下面玻璃上的

⑤没入三九天，玻璃上的霜花半透明，花纹十分清晰，美极了，有如天上多变的云，你看它像啥就是啥

⑥入三九后，可就不行了

将以上几个句子重新排列，语句连贯的一项是：

A. ⑤③②⑥①④

B. ③⑤②⑥①④

C. ⑤②⑥③①④

D. ③⑤②①④⑥

55. ①后半生，虽然也是一半，但这一半与上一半无法相比

②青春、美丽、精力，统统都要渐行渐远

③后半生，一定要仔细思考该换一种什么样的姿态前行

④我们的前半生，手里有大把的时光，而且是风华正茂的时光，所以禁得起挥霍，即使奢侈一把也无妨

⑤前半生是在走上坡路，后半生开始走下坡路

⑥后半生，仿佛日子过得捉襟见肘了，颇有几分寒酸的滋味，真的禁不起折腾了

将以上几个句子重新排列，语句连贯的一项是：

A. ①⑥③⑤②④

B. ④⑥①⑤②③

C. ⑤②①⑥③④

D. ④①⑤②⑥③

※※※ 第二部分结束，请继续做第三部分！ ※※※

第三部分 数量关系

(共 10 题, 参考时限 15 分钟)

在这部分试题中, 每道试题呈现一段表述数学关系的文字, 要求你迅速、准确地计算出答案。

请开始答题:

56. 水池里有 2018 吨水, 第 1 次抽掉总量的 $\frac{1}{2}$, 第 2 次抽掉剩下的 $\frac{1}{3}$, 第 3 次抽掉剩下的 $\frac{1}{4}$, 如果按此规律抽水, 抽了 2017 次后水池里还剩多少吨水?

- A. 1
B. $\frac{2016}{2017}$
C. $\frac{2017}{2018}$
D. $\frac{2018}{2017}$

57. 教室里叠放着三摞书, 每本书的厚度相同且都为 2 厘米。第三摞书高度是第一摞书的 2 倍, 若从第二摞里拿出 8 本叠放到第一摞书上面, 则第一摞书高度比第三摞书低 10 厘米, 第二摞书比第三摞书低 12 厘米, 求第二摞书原来有多少本?

- A. 28
B. 20
C. 22
D. 16

58. 乐乐有一套全是长方体 ($1.5 \times 2 \times 5$ 规格) 的积木, 他发现这些积木恰好都是由四种颜色组成, 且相邻两面颜色都不一样, 任何两块积木的涂色方案都不一样, 则这套积木最多有多少块?

- A. 36
B. 60
C. 72
D. 96

59. 一种红木手串由 18 颗直径为 1 厘米的球形珠子组成。现有一瓶注明净含量为 1000 毫升的环保防潮颜料, 对每颗珠子均匀涂上 0.2 毫米厚度的该颜料。在加工损耗率为 10% 的情况下, 大约能加工该手串多少串?

- A. 600
B. 800
C. 1200
D. 1500

60. 箱子里放置着红、橙、蓝、白 4 种颜色的球分别 1、2、3、4 个, 现从中摸出两个球, 则两个球颜色不同的概率为:

- A. $\frac{1}{5}$
B. $\frac{5}{9}$
C. $\frac{7}{9}$
D. $\frac{13}{15}$

61. 一工厂计划为地震灾区人民赶制一批衣服，在完成一半工作量时，发现比计划时间多用了1天，实际平均效率只有计划平均效率的80%，于是马上增加部分工人，使后半个工作量的平均效率达到了1600件/天，最后恰好按原计划时间完成了工作。求该工厂共为地震灾区人民提供了多少件衣服？

- A. 6000 B. 7200
C. 9600 D. 12000

62. 甲乙两人分别步行和开车同时从A地出发前往B地，总距离为20公里，已知乙的开车速度是甲步行速度的15倍，但乙在半途中的服务区办了件事花费了一段时间，因此当甲到达终点时，乙离B地还有2公里。求乙在服务区休息过程中甲所走的路程。

- A. 18公里 B. 18.8公里
C. 12公里 D. 2公里

63. 小亚家里共五口人，今年一家人年龄之和为188岁。5年前一家人年龄之和为165岁。已知今年小亚爷爷与奶奶的年龄相等且都为平方数。小亚爸爸比妈妈年龄大1岁，问小亚妈妈几岁时生下小亚？

- A. 28 B. 25
C. 22 D. 30

64. 公司周末组织甲乙丙三个部门员工加班，加班结束后公司组织顺风车送员工回家，经统计如下：

- (1) 三个部门加班人数分别为25、21、34人；
- (2) 有10%员工在公司附近住宿不乘坐顺风车；
- (3) 公司附近25辆顺风车接单；
- (4) 每辆小轿车接送1~4人。

则最多有几辆顺风车接送2人？

- A. 8 B. 12
C. 14 D. 16

65. 商场里共有A、B两种产品，进价都为每盒20元，A产品以高于进货价的20%出售，B产品以高于进货价的30%出售，一周后A产品的销量比B产品多1倍。若在储藏过程中储存费的费率为销售额的5%，扣除储存费后A产品比B产品净利润多180元。则A产品共卖出多少盒？

- A. 400 B. 300
C. 200 D. 100

※※※ 第三部分结束，请继续做第四部分！ ※※※

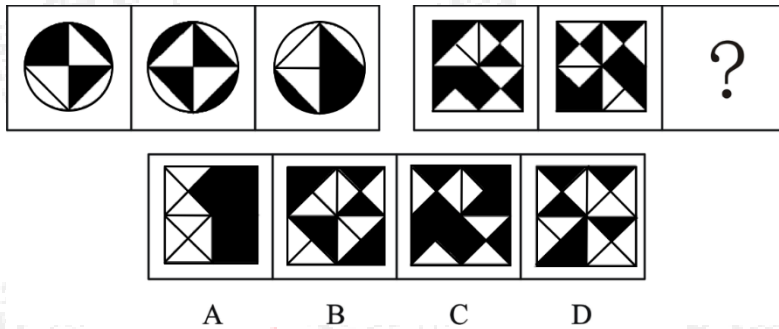
第四部分 判断推理

(共 35 题, 参考时限 35 分钟)

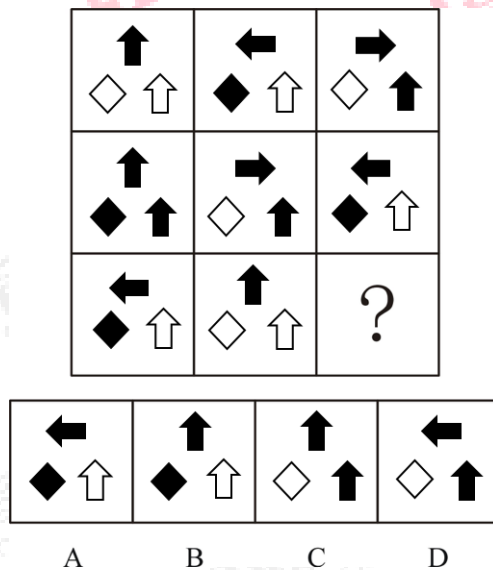
一、图形推理。请按每道题的答题要求作答。

请开始答题:

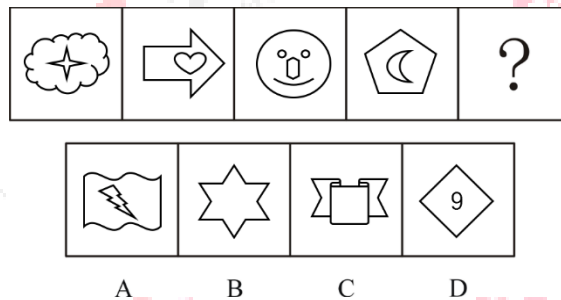
66. 从所给的四个选项中, 选择最合适的一个填入问号处, 使之呈现一定的规律性:



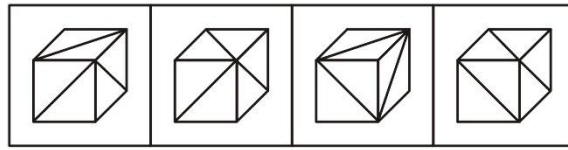
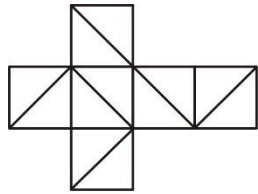
67. 从所给的四个选项中, 选择最合适的一个填入问号处, 使之呈现一定的规律性:



68. 从所给的四个选项中, 选择最合适的一个填入问号处, 使之呈现一定的规律性:



69. 左边给定的是纸盒的外表面, 下列哪一项**不能**由它折叠而成?



A B C D

70. 把下面的六个图形分为两类，使每一类图形都有各自的共同特征或规律，分类正确的一项是：

- ① ② ③ ④ ⑤ ⑥
- WHAT CEO HOW HID DECO MIX
- A. ①③⑥, ②④⑤ B. ①③⑤, ②④⑥
- C. ①②④, ③⑤⑥ D. ①②⑥, ③④⑤

二、定义判断。每道题先给出定义，然后列出四种情况，要求你严格依据定义，从中选出一个最符合或最不符合该定义的答案。注意：假设这个定义是正确的，不容置疑的。

请开始答题：

71. 甜点抗辩是指犯罪人将自己的罪行，归咎于其他非正常的外在因素的狡辩行为。

根据上述定义，下列属于甜点抗辩的是：

- A. 杀人犯张某声称自己因吃了大量的高糖分零食，导致精神失常才杀人
- B. 长期借贷的大学生小李受高利贷成员的威胁对富商王某实施了绑架
- C. 受邪教影响的六位成年人在麦当劳餐厅群殴某女子，致其身亡
- D. 刘经理长期熬夜加班，开车下班途中因神志不清造成行人伤亡

72. 分类数据，是统计数据的一种，指反映事物类别的数据，如人按性别分为男、女两类。分类数据是离散数据，分类属性具有有限个（但可能很多）不同值，值之间无序。

根据上述定义，下列属于分类数据的是：

- A. 全市酒店的星级数数据
- B. 全班学生的成绩统计数据
- C. 某国际学校的国籍统计数据
- D. 某公司员工的工号统计数据

73. 幸存者偏差，是一种常见的逻辑谬论，指人们在得出结论的时候，忽略筛选过程，只看到特例的情况，因而忽略了被筛选的关键信息。

根据上述定义，下列**不属于**幸存者偏差的是：

- A. 某上市公司的老板只是小学毕业，所以读书无用，不如早挣钱
- B. 小强刚开始玩麻将时手气很不错，所以新手玩麻将手气好
- C. 凡是服用了某抗癌药物的癌症患者，病情均有所好转，所以有些癌症可以治愈

D. 《小时代》票房高，但商业化现象严重，情节不佳，所以热门作品无佳作

74. 隔地犯是刑法理论中一个用以概括跨地域犯罪的范畴。从广义上说，凡是行为过程或行为与结果分别跨越两地以上的犯罪，都叫做隔地犯。从狭义的角度来讲，隔地犯就专指行为与结果分别发生在不同地域的犯罪。

根据上述定义，下列涉及隔地犯的是：

- A. 某国际航班被恐怖组织劫持，引起了机上人员的恐慌
- B. 张某抢劫了一位女富商，避免被其认出，当场将其残忍杀害
- C. 赵某在同学聚会上饮酒过量，开车回家的途中闯红灯造成行人受伤
- D. 甲国某厂家将受核辐射影响的海产品销往乙国，却未发现食用者有何不良症状

75. 隐性成本，是厂商本身自己所拥有的且被用于企业生产过程的那些生产要素的总价格。它是一种隐藏于企业总成本之中、游离于财务审计监督之外的成本。

根据上述定义，下列属于隐性成本的是：

- A. 上海大众对某批新帕萨特进行召回，并为其免费更换燃油泵
- B. 某上市公司的董事长亲自参与公司的管理
- C. 开办农场所使用的自家土地
- D. 工厂所有在使用的机械设备的折旧费

76. 暗示效应是指在无对抗的条件下，用含蓄、抽象诱导的间接方法对人们的心理和行为产生影响，从而诱导人们按照一定的方式去行动或接受一定的意见，使其思想、行为与暗示者期望的目标相符合。常见的暗示方式有：语言暗示、动作暗示、表情暗示、自我暗示等。

根据上述定义，下列**未涉及**暗示效应的是：

- A. 台下的教师微笑着注视着正在排练表演的学生，并向其投去赞赏和肯定的目光
- B. 曹操率兵远途跋涉，面对又累又渴的官兵，他指向远方大喊道：“前面有一片梅林”
- C. 一直缺乏自信的小刘每次登台表演节目时都会在心里默念：“别紧张，你可以！”
- D. 某艺术团下乡慰问演出，乡亲们很热情地鼓掌欢迎

77. 互动广告，是指所有互动形式的广告，包括传统媒体中的互动形式的广告，较常见的有情景互动广告和感应互动广告。情景互动广告是指需要广告画面外的物体来参与的广告。感应互动广告是指以计算机视觉和虚拟现实等技术为基础，使普通广告能够根据人体动作而产生相应变化。

根据上述定义，下列**不属于**互动广告的是：

- A. 可口可乐将耳熟能详的歌曲做成“歌词瓶”，并放置了可观看和分享音乐动画的二维码
- B. 观看电视节目时常常会出现一些公益人物及其公益事件的视频
- C. 百度外卖在世界杯期间，利用“刷脸”技术进行用户评分，根据分数赠送相应的优惠券

D. 国内很多旅游公司均推出了 VR 旅行体验，以吸引游客主动了解旅游产品，制定感兴趣的行程计划和攻略

78. 中水，是相对于上水（给水）、下水（排水）而言，是指生活污水经过处理后，达到规定的水质标准可在一定范围内重复使用的非饮用水。中水回用就是指将包括粪便污水在内的各种生活污水进行收集并处理后直接回用，从而达到节约用水，以缓解水资源紧缺问题。

根据上述定义，下列采用了中水回用技术的是：

- A. 西安某高校绿化浇灌水来自处理后的食堂废水
- B. 某工厂引进污水处理装置以减少工业废水对周围环境的影响
- C. 以色列实施含水层蓄水回采计划，提供多年再生水储存，用于干旱年份农业灌溉
- D. 某公司研发的酸洗废水资源化项目可以将污水秒变饮用水

79. 土壤生态系统，是陆地生态系统中的一个亚系统。土壤、生物与周围环境相互作用，以物质流和能流相贯通的土壤—环境的复合体，它具有一定的结构、功能与演变规律。在任何一个土壤环境复合体中生物种群、数量、环境条件同土壤的相互作用构成土壤生态系统的结构，特定的物质和能量的输入、输出与转化，水分与养分的吸收与循环及转化成该系统的功能。

根据上述定义，下列属于土壤生态系统的是：

- A. 湖泊
- B. 森林
- C. 珊瑚礁
- D. 海底热泉

80. 垃圾人定律，来自于某明星对于网络媒体人的回应，形容本身存在很多负面垃圾缠身，需要找个地方倾倒垃圾的人。世界上存在很多负面垃圾缠身的人，他们需要找个地方倾倒，有时候被人刚好碰上了，垃圾就往人身上丢。

根据上述定义，下列**不属于**垃圾人定律的是：

- A. 某人因女友被一群醉汉吹口哨而与其理论，结果被群殴至重伤
- B. 某男孩因阻止满脸横肉的大汉插队而被按在地上一顿暴打
- C. 小王因高考报考志愿与父母无法达成一致进而离家出走
- D. 两名驾车男子因违规停车与某女子发生争执，并将其孩子摔死

三、类比推理。每道题先给出一组相关的词，要求你在四个备选项中找出一组与之在逻辑关系上最为贴近、相似或匹配的词。

请开始答题：

81. 天然气：甲烷

- A. 石油：汽油
- B. 铝合金：氧化铝
- C. 石膏：生石膏
- D. 塑料：树脂

82. 季节：春夏秋冬

- A. 方向：东西南北
B. 调料：柴米油盐
C. 文房四宝：笔墨纸砚
D. 动物：花鸟鱼虫

83. 纸：杯：纸杯

- A. 皮：包：皮包
B. 裤：袜：裤袜
C. 电：灯：电灯
D. 熊：猫：熊猫

84. 鸡飞狗跳：青山绿水

- A. 龙腾虎跃：上蹿下跳
B. 碧海蓝天：手舞足蹈
C. 龙飞凤舞：白草黄云
D. 兔死狗烹：姹紫嫣红

85. 《三国演义》：孙策：大乔

- A. 《西厢记》：梁山伯：祝英台
B. 《傲慢与偏见》：伊丽莎白：达西
C. 《水浒传》：王英：孙二娘
D. 《围城》：钱钟书：杨绛

86. 认真：细心

- A. 鲁莽：勇敢
B. 寒冷：寒风
C. 频繁：反复
D. 优雅：典雅

87. 授课：教师

- A. 手术：医生
B. 演奏：乐器
C. 战争：军队
D. 烹饪：厨师

88. 大海：海草：鲨鱼

- A. 陆地：树木：猴子
B. 天空：太阳：月亮
C. 山脉：藏羚羊：雪莲
D. 湿地：沼泽：水鸟

89. () 对于 酸奶 相当于 足球 对于 ()

- A. 可乐；运动
B. 消化；健康
C. 橙汁；篮球
D. 发酵；体育

90. 发现 之于 () 相当于 隐藏 之于 ()

- A. 真理；事实
B. 蒙蔽；掩盖
C. 情况；侥幸
D. 发觉；阴险

四、逻辑判断。每道题给出一段陈述，这段陈述被假设是正确的，不容置疑的。要求你根据这段陈述，选择一个答案。注意：正确的答案应与所给的陈述相符合，不需要任何附加说明即可以从陈述中直接推出。

请开始答题：

91. 老百姓俗称的“烧抽了”，在医学上叫做“热性惊厥”。这是一种幼儿发烧时常见的

并发症，大多发生在6个月到5岁的儿童身上，让很多家长感到恐慌。近期有专家认为，这与该年龄段的儿童神经系统发育不成熟有关。

以下哪项如果为真，最能**质疑**专家的观点？

- A. 研究发现，直系亲属有热性惊厥史的幼儿更容易发病
- B. 美国某神经疾病研究所表示，大部分热性惊厥无需恐慌
- C. 没有证据显示，短暂性的热性惊厥会对孩子的大脑造成损害
- D. 通过降体温可以避免孩子由于脱水造成惊厥

92. 如果你最好的朋友是只狗，你应该会见过，狗总是舔自己的嘴、鼻子和脸颊。动物行为研究者对狗狗舔嘴这一古怪行为提供了许多解释：压力应对机制，自发的情绪唤起表现，又或者是表达想玩某个玩具或想吃某个零食的方式。但是，巴西圣保罗大学动物行为科学家的一项新研究显示，狗舔自己的嘴其实是在阅读人们的表情并对其作出回应，尤其是愤怒的表情。

补充以下哪项作为前提可以得出上述结论？

- A. 狗舔嘴的行为完全是由视觉信号触发的
- B. 不同物种之间可以通过面部表情识别对方的情绪
- C. 狗舔嘴的行为跟其所接触的物种有关
- D. 人类最好的朋友都具有很高的情商

93. 在牛奶行业各出奇招的一片混战之中，一款“透明袋”牛奶横空出世，迅速成为了“网红牛奶”。然而，仅仅因为一个“网红产品”而将牛奶的包装从纸盒变成透明袋，这无疑是一种科学的倒退。

如果以下各项为真，最能加强上述论证的是：

- A. “透明袋牛奶”的销量居高不下
- B. 牛奶中有些成分在光照下会发生反应，反应产物会破坏牛奶的品质
- C. 不同光照下，“透明袋”牛奶的风味变化差异度不同
- D. 有很多“网红产品”都只是单纯的一个噱头而已

94. 某大学要新设立农业学院或者建筑学院；如果设立农业学院，则建设农田试验基地；如果设立建筑学院，则盖一座新的教学楼；如果没有承包新的土地，则不能建设农田试验基地。已知该大学没能承包新的土地。

由此可以推出：

- A. 该大学设立了农业学院
- B. 该大学建设了农田试验基地
- C. 该大学盖了一座新的教学楼
- D. 该大学没有设立新的学院

95. 据英国某机构对700人进行问卷调查，发现有接近四分之一的人经历过至少一次被

狗咬。在这其中，男性被狗咬的几率比女性高 81%，自评为更冷静或者情绪更稳定的人被狗咬的占比偏小。因而，研究团队认为，男人和焦虑者更容易被狗咬。

如果以下各项为真，最**不能质疑**上述论证的是：

- A. 参与调查的均为英国的成年人，而儿童往往是被狗咬的高风险人群
- B. 养多只狗的人被咬的几率是不养狗的人的 3 倍以上
- C. 由于男性的配合度高，所以调查的人群中，男性的人数远远高于女性人数
- D. 有过被狗咬经历的人，再次遇到陌生狗时会异常焦虑和不冷静

96. 常常看到家长说自己的小孩脾气急躁，譬如“要个东西必须马上要到”，“稍微等一会就不耐烦哇哇叫”，“等个一分钟都等不了的样子”。其实，大人跟小孩的“时间”，并不是一码事，而且双方对于相同时间的感知完全不同。

如果以下各项为真，最**不能支持**上述论证的是：

- A. 对小孩儿发火，会让小孩儿觉得时间流逝得较慢
- B. 小孩儿相较于大人在同样时间内处理的信息较多，因而感觉时间流逝得较慢
- C. 小孩儿体型小、新陈代谢速率高，感觉时间流逝得慢
- D. 父母上班 8 小时，但是在孩子眼里，感觉父母像是离家出走了一整天

97. 蜂王浆在世界很多国家，都被当作“神奇保健品”。它的神奇之处在于：蜜蜂的幼虫如果只吃蜂王浆，就会发育成蜂王，寿命长达几年；如果早早断浆，改吃蜂蜜和花粉，就发育成工蜂，寿命只有几十天。因此，很多保健品机构都宣称，其生产的蜂王浆可以延长人类寿命。

如果以下各项为真，最**不能削弱**保健品机构观点的是：

- A. 蜂王浆的蛋白质不稳定，存放过程中会被降解，进而降低其活性
- B. 蜂王浆对于蜜蜂、果蝇等低等动物作用明显，但对于高等动物效果不佳
- C. 大多数机构生产的蜂王浆并非是蜜蜂所食用的纯蜂王浆
- D. 市面上的蜂王浆往往会添加物质进而延长保质期

98. 螃蟹和鱼一样生活在水中，但螃蟹喜欢吃水中死鱼、死虾等腐败的动物尸体，因此在螃蟹体内就富集了大量的细菌。尤其是河蟹，大多生长在污浊的河塘，蟹体内外有大量的病菌。而当螃蟹一旦垂死或死亡后，螃蟹体内的组氨酸会分解产生组胺，而组胺是一种有毒的物质。随着死亡时间的延长，蟹体积累的组胺就会越来越多，因此毒气也就会越来越大，即使这个时候螃蟹被煮熟了，但它体内的这种毒素也不易被破坏。因此，若人们吃了这样的螃蟹自然就会引起食物中毒。

由此可以推出：

- A. 海蟹死亡后不易引起食物中毒
- B. 如果螃蟹吃了水中的死鱼死虾，人吃了这样的螃蟹就会引起食物中毒
- C. 组胺可能会引起人食物中毒

D. 人只要不吃死亡时间很长的螃蟹，就不会中毒

99. 最近威尔康奈尔医学院对小鼠进行了一项试验，实验组的小鼠长期摄入高盐食物，该高盐食物含有4%或者8%的盐分，是正常食物中的8到16倍，而对照组小鼠长期摄入正常食物。经过数周后对小鼠进行核磁共振检查发现，摄入高盐食物的小鼠的脑血流量明显减少了很多，尤其是在负责学习的大脑皮层，血流量减少了28%，而在负责记忆的海马区，血流量减少了25%。研究人员据此认为，高盐饮食会导致人类出现认知障碍和痴呆。

如果以下各项为真，最能支持上述论证的是：

- A. 减少静息血流向大脑容易引发认知障碍和痴呆
- B. 长期摄入高盐食物的人，更容易患高血压、心脑血管等疾病
- C. 绝大多数的健康机构建议控制食物中的盐摄入量
- D. 不同生物对于高盐食物所产生反应的部位和反应机理均不相同

100. 茶叶中所含的茶多酚具有收敛作用，对胃有一定的刺激作用，在空腹情况下刺激性更强，所以有时候空腹喝茶会感到不适。而红茶是经过发酵烘制而成的，茶多酚在氧化酶的作用下发生酶促氧化反应，含量减少，对胃部的刺激性也随之减小。

由此可以推出：

- A. 茶多酚对人体有害
- B. 人只要吃饱了再喝茶就不会感到不适
- C. 红茶的发酵时间越长，茶多酚的含量就会越少
- D. 有的人空腹喝红茶可能也会感到不适

※※※ 第四部分结束，请继续做第五部分！ ※※※

第五部分 资料分析

(共 20 题, 参考时限 20 分钟)

所给出的图、表、文字或综合性资料均有若干个问题要你回答。你应根据资料提供的信息进行分析、比较、计算和判断处理。

请开始答题:

一、根据以下材料, 回答 101~105 题。

2017 年, 随着浙江省一系列促进鼓励民间投资政策的出台, 增强了民间资本的投资意愿和投资信心, 民间投资增速稳中加快。

1~8 月, 全省民间投资 11577 亿元, 比去年同期增长 14.4%, 增速分别比去年同期和今年上半年提高 11.2 和 1.6 个百分点; 占全部投资的比重为 57.9%, 比去年同期和今年上半年分别提高 2.5 和 0.5 个百分点。

民间投资主要集中在房地产开发投资和制造业两大领域。1~8 月, 房地产开发民间投资 4493 亿元, 同比增长 19.9%。制造业民间投资 4371 亿元, 同比增长 8.3%。民间资本积极参与基础设施和公共服务领域建设, 民间基础投资 1218 亿元, 同比增长 31.4%, 分别比去年全年和今年上半年提高 0.5 和 0.2 个百分点。民间基础设施投资增长较快的分别是文化艺术、电力燃气水、水利环境、交通运输、教育等领域, 分别增长 58.8%、45.1%、32.5%、26.8%和 24.2%。

101. 2017 年 1~6 月, 浙江省全省民间投资增速为:

- A. 3.2%
- B. 14.4%
- C. 16%
- D. 12.8%

102. 2016 年 1~8 月, 浙江省全部投资额约为多少亿元?

- A. 18267
- B. 20897
- C. 10155
- D. 16478

103. 2017 年 1~8 月, 房地产开发民间投资额比去年同期增长了约多少亿元?

- A. 641
- B. 746
- C. 894
- D. 3747

104. 2017 年 1~8 月, 民间基础设施投资增长速度超过 40% 的领域有几个?

- A. 0
- B. 1
- C. 2
- D. 3

105. 根据上述资料, 下列说法正确的是:

- A. 2017 年 1~8 月, 制造业民间投资额是房地产开发民间投资的 1 倍多
- B. 2016 年 1~8 月, 制造业民间投资额为 4766 亿元
- C. 2017 年 1~8 月, 全省民间投资额比 2016 年同期增长了 1667 亿元

C. 2016年1~2月，北京市商业、非公益用房的销售面积为15万平方米

D. 2016年1~2月，北京市写字楼的竣工面积比销售面积要多

三、根据以下资料，回答111~115题。

2017年，全国软件和信息技术服务业完成软件业务收入5.5万亿元，比上年增长14.1%，增速同比提高0.8个百分点，从全年增长情况看，走势基本平稳。

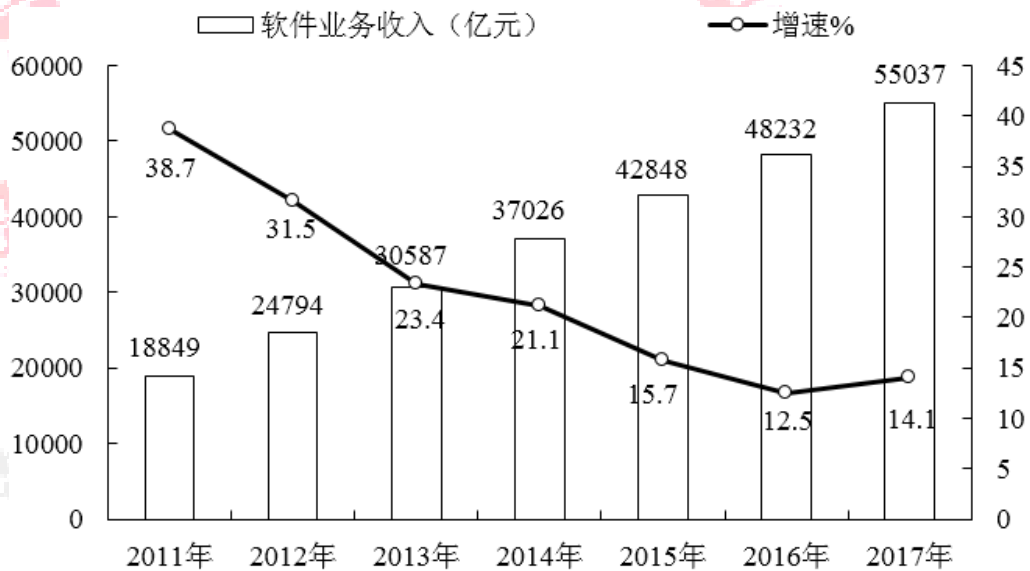


图1 2011~2017年软件业收入及增长情况

2017年，全行业软件业务实现利润总额7020亿元，比上年增长15.8%，比2016年提高2.1个百分点，高出收入增速1.9个百分点。分季度来看，一至四季度利润总额增速分别为9.6%、14.2%、15.6%和21.2%，呈逐步上升态势。

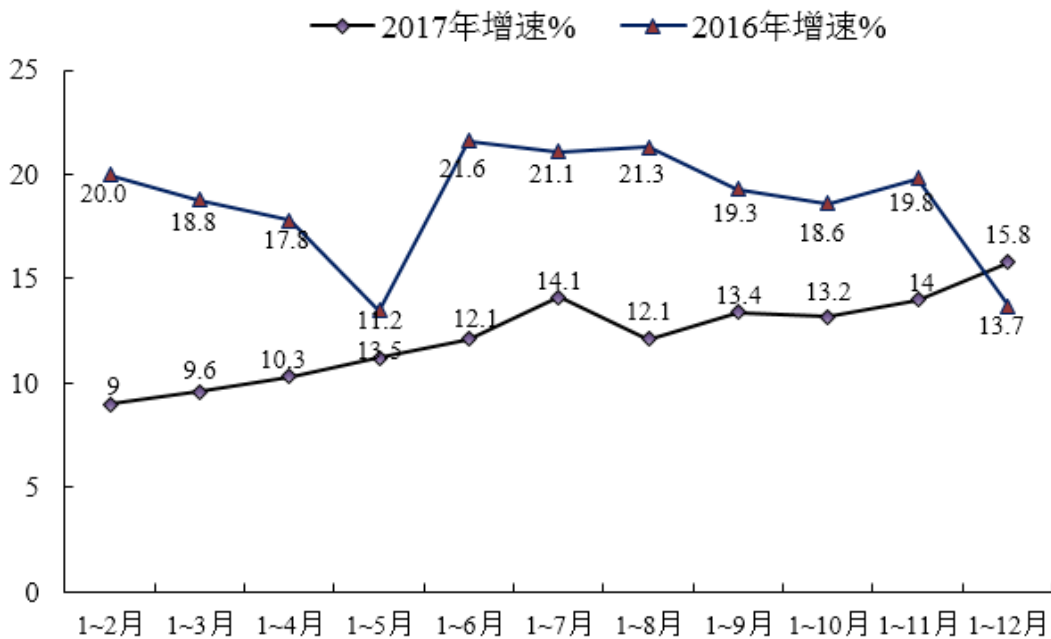


图 2 2017 年 1~12 月份软件业利润总额走势

出口形势仍然低迷，但进入下半年以后情况有所改观。2017 年，全国软件业实现出口 538 亿美元，同比增长 3.4%，增速比上年提高 2.4 个百分点。其中，外包服务出口增长 5.1%，比上年提高 4.4 个百分点；嵌入式系统软件出口增长 2.3%。

111. 以下哪个年份完成的软件业务收入同比增长量最大？

- A. 2017 年
- B. 2012 年
- C. 2013 年
- D. 2011 年

112. 2017 年完成的软件业务收入比 5 年前完成的收入增长了：

- A. 122%
- B. 222%
- C. 22%
- D. 31%

113. 2015 年软件业务实现的营业收入利润率约为：

- A. 12.4%
- B. 9.8%
- C. 22.1%
- D. 16.7%

114. 下列各时间段中，关于软件业利润总额实现的增速情况，说法正确的是：

- A. 2016 年 12 月份的利润总额增速必然大于 13.7%
- B. 2017 年 10 月份的利润总额增速可能大于 19.3%
- C. 2016 年 08 月份的利润总额增速必然大于 22.7%
- D. 2017 年 07 月份的利润总额增速必然大于 14.1%

115. 根据上述资料，下列说法**不正确**的是：

- A. 2016 年，全国软件业实现外包服务出口额实现了小于 1%的略微增长
- B. 2016 年，全国软件业实现出口额的增长率为 1%
- C. 2017 年每个季度利润总额增速都超过 9.5%
- D. 2017 年 1~7 月份软件业务利润总额相对于 2015 年同期的增速为 35%

四、根据以下资料，回答 116~120 题。

2018 年 1 月，全国汽车产销分别完成 268.8 万辆和 280.9 万辆，产销量环比分别下降 11.6%和 8.2%，同比分别增长 13.6%和 11.6%。

表 1 2017 年 2~12 月全国产销量情况

	汽车产量		汽车销量	
	产量(万辆)	同比增长	销量 (万辆)	同比增长 (%)
2 月	215.96	33.77	193.92	22.37
3 月	260.40	3.00	254.30	4.00
4 月	213.80	-1.90	208.40	-2.20

5月	208.70	0.70	209.60	-0.10
6月	216.74	5.42	217.19	4.54
7月	205.94	4.76	197.12	6.15
8月	209.30	4.80	218.60	5.30
9月	267.09	5.54	270.91	5.66
10月	260.40	0.70	270.40	2.00
11月	308.00	2.30	295.80	0.70
12月	304.14	-0.70	306.03	0.10

2018年1月，乘用车产销分别完成233.1万辆和245.6万辆，环比分别下降10.7%和7.4%，同比分别增长12.5%和10.7%，增速低于汽车总体1.1和0.9个百分点。

乘用车四类车型产销情况看，轿车产销同比分别增长10.8%和7.3%；SUV产销同比分别增长22%和22.9%；MPV产销同比分别下降为5.2%和13.4%；交叉型乘用车产销同比分别下降43.8%和30%。

表2 2017年中国乘用车产销量

	乘用车产量		乘用车销量	
	产量(万辆)	同比增长	销量(万辆)	同比增长(%)
2017年2月	184.75	31.50	163.27	18.29
3月	218.80	1.80	209.60	1.70
4月	178.30	-3.30	172.20	-3.70
5月	174.80	-1.80	175.10	-2.60
6月	184.49	3.72	183.18	2.32
7月	175.86	1.97	167.84	4.27
8月	179.00	3.60	187.50	4.10
9月	229.72	2.94	234.26	3.27
10月	222.50	-2.70	235.20	0.40
11月	266.90	1.20	258.90	0.00
12月	260.97	-1.30	265.33	-0.71

116. 2017年1月，全国汽车的产量与销量相比：

- A. 少12.1万辆 B. 多15.1万辆
C. 多2.1万辆 D. 少2.1万辆

117. 2017年2月，全国汽车产量的环比增长率为：

