



公考通

2016 年江苏公务员考试《行测》真题 B 类

(网友回忆版)

公考通网校

www.chinaexam.org



公考通 APP



微信公众平台

第一部分 常识判断

(共 20 题, 参考时限 15 分钟)

根据题目要求, 在四个选项中选出一个最恰当的答案。

1. 党的十八届五中全会通过了《中共中央关于制定国民经济和社会发展第十三个五年规划的建议》。下列对于该建议的理解正确的是 ()
 - A. 《“十三五”规划建议》是针对“两个一百年”奋斗目标收官阶段提出的战略蓝图
 - B. 《“十三五”规划建议》充分论述了继续坚持我国改革开放以来发展方式的必要性
 - C. 《“十三五”规划建议》针对社会主要矛盾的新变化提出了经济社会发展的新方针
 - D. 《“十三五”规划建议》提出并阐释了我国经济社会发展的“五大发展理念”
2. 2015 年 9 月, 国家主席习近平在参加庆祝联合国成立七十周年系列活动期间, 设立“中国—联合国和平发展基金”和“南南合作援助基金”, 为支持联合国工作与发展作出新的贡献。对此, 下列理解正确的是 ()
 - ①中国坚定不移地维护联合国宪章的宗旨和原则
 - ②中国始终是维护世界和平与共同发展的坚定力量
 - ③中国始终把维护发展中国家利益作为外交的首要任务
 - ④中国积极推动构建以合作共赢为核心的新型国际关系
 - A. ①③④
 - B. ①②③
 - C. ②③④
 - D. ①②④
3. 习近平总书记在中央政治局第二十次集体学习时强调, 要增强问题意识。这体现的哲学原理是 ()
 - A. 矛盾具有普遍性和客观性, 矛盾是事物发展的源泉和动力
 - B. 联系具有普遍性和多样性, 任何事物都处在普遍联系之中
 - C. 真理具有绝对性和相对性, 绝对真理包含在相对真理之中
 - D. 认识具有反复性和无限性, 认识是一个辩证运动的过程
4. 下列选项中两组成语蕴含哲理相同的是 ()
 - A. 流水不腐, 户枢不蠹 人无远虑, 必有近忧
 - B. 奢靡之始, 危亡之渐 千里之堤, 溃于蚁穴
 - C. 生于忧患, 死于安乐 城门失火, 殃及池鱼
 - D. 螳螂捕蝉, 黄雀在后 尺有所短, 寸有所长

5. 大学毕业生王某打算在 A 市创业，在申办企业的过程中，恰逢该市大力推进改革，关于此次改革对王某申办企业的影响，下列说法错误的是（ ）
- A. 王某无需提供企业注册场所的证明文件
 - B. 王某可通过线上系统随时了解申办的进展情况
 - C. 王某无需缴纳政府收费清单以外的费用
 - D. 王某可领取“一照一码”的营业执照
6. 下列诗句与其描写的传统节日对应不正确的是（ ）
- A. 总把新桃换旧符——清明节
 - B. 遍插茱萸少一人——重阳节
 - C. 蓦然回首，那人却在灯火阑珊处——元宵节
 - D. 两情若是久长时，又岂在朝朝暮暮——七夕节
7. 《茉莉花》被称为“流传到海外的第一首中国民歌”。下列关于这首民歌的说法，正确的是（ ）
- A. 《茉莉花》的发源地在浙江湖州一带
 - B. 《茉莉花》由波斯商人通过丝绸之路传到欧洲
 - C. 最早记录《茉莉花》的西方著作是《马可波罗游记》
 - D. 《茉莉花》因歌剧《图兰朵》将其作为主题音乐而风靡欧洲
8. 供给侧结构性改革强调从供给、生产端入手，不断解放生产力，提升效率，促进经济发展。下列属于供给侧结构性改革举措的是（ ）
- A. 物价部门开展市场价格检查
 - B. 商业银行上浮企业贷款利率
 - C. 发改委取消部分行政审批事项
 - D. 工商部门限制明星代言广告
9. 预测表明，2020 年到 2050 年，我国 60 岁以上人口占比将从 19.3% 上升到 38.6%。对此，下列说法错误的是（ ）
- A. 我国家庭人口的抚养比逐渐减小
 - B. 我国老龄化社会问题将日益严重
 - C. 推动我国经济发展的人口红利逐步消退
 - D. 养老保险的支付压力将会越来越大
10. 吸收社会资本参与公共产品和服务的供给，有助于实现资源的最佳配置。下列属于社会资本参与公共产品和服务供给的是（ ）
- A. 民营企业对其厂区内的道路进行绿化

- B. 民政部门与企业共同出资建设养老院
- C. 某企业出资冠名体育赛事
- D. 外贸企业经批准开办大型超市
11. 中国军民在抗日战争中取得过一系列重大胜利。下列不属于在抗日战争时期取得的重大胜利是（ ）
- A. 平型关大捷
- B. 昆仑关大捷
- C. 镇南关大捷
- D. 台儿庄大捷
12. 明成祖登基后曾派郑和出使西洋以加强同海外的联系。下列关于郑和下西洋说法正确的是（ ）
- A. 郑和七次下西洋发生于 16 世纪初
- B. 郑和下西洋最远曾抵达地中海
- C. 郑和下西洋比哥伦布发现美洲大陆晚
- D. 郑和的航线从西太平洋穿越印度洋
13. 二维码目前广泛应用于汉字、数学、图片、指纹、声音等信息的存储。下列关于二维码的说法，正确的是（ ）
- A. 中国目前还没有制定二维码的国家标准
- B. “扫一扫”加关注是目前二维码应用的重要方式
- C. 二维码在穿孔、污损引起局部损坏时就无法得到视读
- D. 扫描二维码可能感染病毒是因为二维码本身携带病毒
14. 下列对日常生活现象的解释正确的是（ ）
- A. 自行车在夏天暴晒后容易爆胎，是因为橡胶在高温下变软了
- B. 夏天从冰箱里取出的冷饮瓶表面有小水滴，是因为冰箱湿度大于室内
- C. 赤脚站在瓷砖上比站在棉被上凉爽，是因为瓷砖的温度比棉被的温度低
- D. 热水瓶的内胆镀银是为了减少热辐射
15. 我国山脉众多，给自然与人文地理环境带来深刻影响。对此，下列说法错误的是（ ）
- A. 秦岭山脉是我国南北方的重要地理分界线
- B. 祁连山脉融雪是河西走廊绿洲农业的主要水源
- C. 喜马拉雅山脉是世界上最年轻最高大的山脉
- D. 阴山山脉是传统上重要的农业与林业的分界线
16. 下列自然保护区与主要保护的珍稀动物对应错误的是（ ）

- A. 卧龙自然保护区——大熊猫
B. 扎龙自然保护区——丹顶鹤
C. 喀纳斯自然保护区——金丝猴
D. 可可西里自然保护区——藏羚羊
17. 大学生李某的一项发明获省级科技竞赛一等奖，为防止该项发明被他人非法利用，依法申请了专利。李某的做法所体现的法的作用是（ ）
- A. 指引作用
B. 评价作用
C. 教育作用
D. 强制作用
18. 某公司非法占用公路堆放建筑材料，交通主管部门对其做出了行政处罚。在处罚前，交通主管部门向该公司告知了作出处罚决定的事实、理由及依据，并告之依法享有的权利。这一做法体现的行政法基本原则是（ ）
- A. 合法行政原则
B. 合理行政原则
C. 高效便民原则
D. 程序正当原则
19. 赵某以要债为名驾车堵住甲公司的大门，致使甲公司的车辆无法进出。辖区派出所派警察孙某前去处理。孙某以扰乱企业生产秩序为由，对赵某处以 150 元的罚款。下列关于该行政处罚的说法，错误的是（ ）
- A. 该处罚决定书可当场制作并交付赵某
B. 该处罚决定书应按预定格式填写
C. 该处罚决定书须加盖公安机关印章
D. 该处罚决定必须报公安机关备案
20. “周瑜打黄盖，一个愿打一个愿挨。”这句俗语所蕴涵的法律原则是（ ）
- A. 原告自认
B. 受害人同意
C. 过错责任
D. 契约自由

第二部分 言语理解与表达

（共 35 题，参考时限 30 分钟）

一、片段阅读。每道题包含一段文字，要求你从四个选项中选出最恰当的一项，你的选择必须与题干要求相符合。

21. 随着现代化的推进，传统文化与当代人的距离正在拉大，恢复传统文化，绝不是简单地盖座仿古建筑，或穿上汉服、行几个跪拜之礼就足矣。从历史角度来看，琴棋书画，诗香茶花都是日常生活的重要内容，是生活美学、生命态度与生活方式构筑而成的有机整体。因此，传统文化只有与现代生活相融合，其复兴才有意义。

这段文字意在强调（ ）

- A. 传统文化与现代生活相融合的必要性
- B. 传统文化与现代生活相融合的可能性
- C. 传统文化与现代生活相融合的途径
- D. 传统文化与现代生活相融合的前景

22. 一张照片中的场景是这样的：夜幕降临，各种灯光开始勾勒出城市的轮廓，高低错落的楼宇林立，道路上车流的灯光划出流光溢彩的轨迹。如果时空真的能够穿越，让古人穿越到这里，他们一定不会对眼前的景色陌生，因为古人喜欢将楼阁依水依河而建，喜欢登楼观水。这道路不就是高楼“峡谷”中蜿蜒流淌的河流吗？

根据文意，这张照片拍摄的角度是（ ）

- A. 仰视
- B. 俯视
- C. 平视
- D. 侧视

23. 中国钢琴音乐经过百年的探索和积淀，已经形成蔚为大观的自身传统，其中确乎涌现出无愧于时代和民族的杰作，向世界乐坛发出中国的独特声音。但略显遗憾的是，某些出色的作品还没能得到更广泛的认可和传播，不仅公开演出率过低，而且在教学运用、批评研究、宣传出版等方面尚未得到应有的关注与重视。

这段文字接下来最有可能讨论的话题是（ ）

- A. 钢琴音乐发展的百年历史
- B. 中国钢琴音乐与世界音乐的关系
- C. 钢琴音乐的既有成就与影响
- D. 中国钢琴音乐发展中存在的问题

24. 天然气（主要成分是甲烷）和水混合时产生的晶体物，外貌极似冰雪，点火即可燃烧，故称之为“气冰”或“固体瓦斯”。它在自然界的分布十分广泛，已探明的储量是化石能源（包括煤、

石油、天然气等)的两倍。“气冰”可视为被高度压缩的天然气资源,每立方米能分解释放出 160~180 标准立方米的天然气。

根据文意,以下表述不正确的是()

- A. “气冰”的得名主要基于其外形
- B. “气冰”是水和天然气的混合物
- C. “气冰”分解释放以后才可以燃烧
- D. “气冰”探明储量多于化石能源

25. 网络用语从一开始就不是交际语言,文字和语言的性质是不一样的,语言本质上是用声音符号做物质外壳的,文字则是用来记录有声语言的。世界上大多数语言并没有文字,这些语言也就不会有网络用语。文字有记录、保存语言的功能,并能远距离传送,网络主要利用文字来实现即时的远距离交流。文字有这样的优点,但是它不能取代语言。

网络用语之所以不是交际语言是由于()

- A. 网络用语本质上是用文字符号记载的语言
- B. 网络语言主要用来实现即时的远距离交流
- C. 虽能远距离传送但不能取代交际语言
- D. 即使再发达也不可能是交际语言

26. ①同一,是因为所有的现代人都是大约二十万年前从同一个人群繁衍下来的

②分布各地的各个所谓种族也彼此杂居、通婚

③遗传学家们早就意识到,人类的生物学特征是既同一又多样的

④因此,将人类划分为几个种族,只有社会、文化意义,没有生物学意义

⑤处于这个连续谱带两端的群体,比如东亚人、北欧人、南非人,他们的特征差异是明显的,但是中间还存在着大量的难以划分的族群

⑥因此人类身体特征的变异,并不具有明显的界限,而是一条连续的谱带

将以上 6 个句子重新排列,语序正确的是()

- A. ③①②⑥⑤④
- B. ③①⑥②④⑤
- C. ⑥⑤②①③④
- D. ⑥①②④⑤③

27. 蓝藻本身没有多少危害,就怕蓝藻上浮形成水华。蓝藻形成水华时,一方面将严重抑制浮游植物利用光合作用产生氧气,另一方面也阻隔空气中的氧进入水体,导致水体中溶解氧严重不足,造成生态失衡。长期以来人们对水资源的不合理开发与利用,导致大量含有氮、磷营养元素的污

染物质不断排入海洋、江河、湖泊和水库等水体，造成严重的水体富营养化状态，为蓝藻的爆发提供了得天独厚的条件。

这段话意在强调（ ）

- A. 谨防蓝藻上浮形成水华阻隔氧气进入水体
- B. 蓝藻爆发会影响生态平衡以及水资源开发
- C. 治理水体污染是控制蓝藻爆发的根本措施
- D. 适当引种蓝藻吸收氮、磷元素以优化水环境

28. 文化产业学科作为一门新兴学科，源于对文化作为产品的生产和流通领域进行研究，是从产业角度对文化进行研究。这正是原有文化创意学科群中相对薄弱甚至相对忽略的，是仅依靠原有知识体系和研究方法难以支撑的研究领域，也是当下文化产业发展急需学科建设支撑的领域。

这段话意在说明（ ）

- A. 建立文化产业学学科的必要性
- B. 文化产业学将取代文化创意学
- C. 原有文化创意学科群相对薄弱
- D. 发展文化产业学所面临的困难

29~35. 暂缺

二、文章阅读。阅读下面文章，回答问题。本题共有五道题，每道题提供四个选项，要求你从中选出最恰当的一项，你的选择必须与要求相符合。

为什么要保护自然？近年来，关于这个问题的争论实质上已经变成两种观点之间的辩论。一些人认为保护自然是为了自然本身，即自然的内在价值；另一些人则认为保护自然是为了人类自己的利益，即自然的使用价值。

自然使用价值的支持者们认为，为了本身的利益而保护自然并不能有效阻止物种灭绝的趋势，自然环境的保护应当通过和产业界合作产生最大化的影响，通过让人们更直接地关注和生活紧密相关的问题（如食品和饮用水安全），进一步扩大人们对环境保护的支持。而内在价值的倡导者们则坚持认为，关于保护自然的伦理道德论据已然充分，和产业界合作会将环境保护工作出卖给环境问题的始作俑者，而且社会已经非常关注环境保护了。

然而不幸的是，这一开始时尚且理性温和的辩论，逐渐沦为一场在大学、研究机构、环境保护组织、学术会议以至媒体中广泛进行的尖酸刻薄的个人论战。这种情况可能在扼杀有益的言论，影响环境保护的经费筹措并使实践层面的环保工作停滞不前。

另一个问题的存在有一点，那就是争论由少数人主导，且几乎都是男性。这说明了一个更大的问题：性别和文化的偏见，也在不断阻碍实际的环境保护工作开展。

环境保护时常会遇到现实世界中各种观点和价值观的挑战。为了处理和吸纳这些观点和价值观，在描绘这一领域的未来时，需要科学家和实践工作者更加包容的态度以及处理环境问题更加包容的方式。

在对环境保护科学家的科研训练中，应当更加精确地描绘这一领域悠久的、全球的、共同参与的历史进程，介绍数个世纪以来人类珍爱自然、保护自然的各种方法，还需要在会议和媒体上举办更多的论坛，让人们听到不同性别不同文化背景的环境领域的科学家和实践工作者的声音。同时，要动员环保科学家及实践工作者积极参与媒体的相关活动，使得媒体报道能够反应全面真实的观点，而非少数人的一家之言。环境保护组织和科学家们应当欢迎所有的环境保护执行机构，无论是公司，政府机关，还是宗教组织，有志之士，无论有功利目的的，还是纯公益的，和衷共济地将环境保护工作推向前进。不要让环境保护停留在学理辩论的层面，而是对工作的有效性进行严格的评价，从而建立起能容纳不同性别，不同文化、不同年龄、不同价值观的环境保护规范。

36. 填入文章中画横线处最恰当的一项是（ ）

- A. 迫在眉睫
- B. 雪上加霜
- C. 不寒而栗
- D. 不吐不快

37. 下列选项中，不属于两派论争的问题是（ ）

- A. 是否可以为筹措经费而与产业界合作
- B. 是否应当进一步强化环保的社会关注
- C. 是否需要进一步加大吸引民众的力度
- D. 是否为改变性别失衡而鼓励女性参与

38. 文中所说“将环境保护工作出卖给环境问题的始作俑者”，“始作俑者”指的是（ ）

- A. 制造了环境问题的企业
- B. 各类自然环境的破坏者
- C. 自然使用价值的支持者
- D. 自然内在价值的倡导者

39. 文中作者担心的最主要问题是（ ）

- A. 倡导者们在保护环境的目的问题上存在分歧
- B. 观点不同者之间的争论逐渐演变为相互攻击
- C. 不正确的沟通方式影响实际的环境保护工作
- D. 恶性争论可能会导致有创建性的观点被遮蔽

40. 下列选项中,属于作者为改变自然保护现状提出的对策是()

- A. 对公众进行科普宣传,让其了解环境保护的历史和各种工作方法
- B. 通过会议和媒体举办论坛,倾听来自不同性别不同文化的公众声音
- C. 环境保护组织和科学家们应接纳所有环境保护执行机构共同参与
- D. 鼓励专业人士进一步展开论争,以提升环境保护认识的理论高度

三、选词填空。从题后所给的四个选项中选出最符合文意的一项。

41. 在全面深化改革的进程中,谋事不实,蓝图再好也不过是_____ ; 创业不实,梦想再美也是黄粱一梦; 做人不实,立身之本必定_____。

依次填入画横线处最恰当的一项是()

- A. 缘木求鱼 空中楼阁
- B. 画饼充饥 荡然无存
- C. 纸上谈兵 一无是处
- D. 闭门造车 子虚乌有

42. 盯着名利干事,难免_____,欲速则不达; 盯着责任干事,“不闻掌声”而_____,才能最终赢得掌声。

依次填入画横线处最恰当的一项是()

- A. 斤斤计较 心无二用
- B. 急公好义 心怀大局
- C. 患得患失 心胸开阔
- D. 急功近利 心无旁骛

43. 书法是中国艺术体系中最重要艺术形式之一。它以汉字为_____,通过具有情韵的汉字形象的_____,表现艺术家的思想情感。

依次填入画横线处最恰当的一项是()

- A. 代表 创新
- B. 载体 创造
- C. 材料 表现
- D. 工具 再现

44. 大自然慷慨的_____,使人类得以繁衍滋息,创造文明。人类理应顺应自然。但人类的历史,反倒常常是_____与辜负大自然美好情意的历史。

依次填入画横线处最恰当的一项是()

- A. 赐予 轻慢

- B. 分享 挥霍
- C. 奉献 嘲弄
- D. 供给 忽略

45. 每个时代都有自己的流行语，网络热词则是互联网时代最普遍的副产品。与以往不同，网络热词的更替速度令人_____，“来得快，去得更快”成为网络热词的集体_____。

依次填入画横线处最恰当的一项是（ ）

- A. 目不暇接 宿愿
- B. 眼花缭乱 宿命
- C. 顾此失彼 结局
- D. 不堪重负 命运

46. 经典的魅力是多方面的，而其中有一点就在于，_____故事淡忘了，仍会有些东西留在你心间。这种留在心间的东西，就是_____的影响，就是熏陶。

依次填入画横线处最恰当的一项是（ ）

- A. 即使 潜移默化
- B. 假使 悄无声息
- C. 即便 耳濡目染
- D. 假如 润物无声

47. 生命在进化过程中要经历自然选择，也就是达尔文提出的“适者生存”。病毒感染对于生命来说就是一种选择压力，在病毒面前_____的个体会被淘汰掉，病毒因而成了生物进化的强大驱动力，它们_____和保留下免疫力强大的个体，由此推动生命的_____。

依次填入画横线处最恰当的一项是（ ）

- A. 娇生惯养 挑选 进化
- B. 弱不禁风 筛选 演化
- C. 节节败退 精选 进展
- D. 不堪一击 甄选 延续

48. 在创业大潮席卷下，创业领域呈现一派_____的景象。创投机构扎堆，创业项目井喷。创业者更是受到社会热烈关注，其中不少人成了_____的创业明星。在资金和各路人马_____的同时，也出现了一些浮夸和造假的现象。

依次填入画横线处最恰当的一项是

- A. 生机勃勃 炙手可热 抢滩
- B. 热火朝天 万众瞩目 搏杀

C. 欣欣向荣 你争我抢 杀人

D. 万马奔腾 家喻户晓 争抢

49. 大数据以量取胜，孤立的单个数据几乎没有商品价值，故而多数被记录主体容易 自己的数据产权。但是一个个数据 ，便是宝藏。而大型数据集的处理使用，须借助复杂的分析算式与大功率计算机，普通人和小公司 。

依次填入画横线处最恰当的一项是（ ）

A. 忽视 集腋成裘 难以问津

B. 忽略 积少成多 难以为继

C. 遗忘 日积月累 望而却步

D. 遗弃 接踵而至 望洋兴叹

50~55. 暂缺

第三部分 数量关系

（共 15 题，参考时限 15 分钟）

一、数字推理。给出一个数列，缺少其中一项，要求你仔细观察数列的排列规律，从四个选项中，选择最合适的一项，使之符合原数列的排列规律。

56. 18, 20, 16, 24, 8, ()

A. 40 B. 36 C. 28 D. 32

57. $\sqrt{2}$, 2, 3, $\sqrt{17}$, $2\sqrt{7}$, ()

A. 6 B. 7 C. $\sqrt{42}$ D. $4\sqrt{3}$

58. 4.2, 5.2, 8.4, 17.8, 44.22, ()

A. 125.62 B. 85.26 C. 99.44 D. 125.64

59. 7, 14, 33, 70, 131, ()

A. 264 B. 222 C. 230 D. 623

60. $\frac{1}{2}$, $\frac{3}{5}$, $\frac{7}{10}$, $\frac{13}{17}$, $\frac{21}{26}$, ()

A. $\frac{31}{47}$ B. $\frac{5}{7}$ C. $\frac{65}{97}$ D. $\frac{31}{37}$

二、数学运算。通过运算，选择最合适的一项。

61. 有两瓶质量均为 100 克且浓度相同的盐溶液，在一瓶中加入 20 克水，在另一瓶中加入 50 克浓度为 30% 的盐溶液后，它们的浓度仍然相等，则这两瓶盐溶液原来的浓度是（ ）

A. 36% B. 64% C. 50% D. 60%

62. 若买 6 个订书机、4 个计算器和 6 个文件夹共需 504 元，买 3 个订书机、1 个计算器和 3 个文件夹共需 207 元，则购买订书机、计算器和文件夹各 5 个所需的费用是（ ）

A. 465 元 B. 475 元 C. 485 元 D. 495 元

63. 甲、乙、丙三人共同完成一项工程，他们的工作效率之比是 5:4:6，先由甲、乙两人合作 6 天，再由乙单独做 9 天，完成全部工程的 60%，若剩下的工程由丙单独完成，则丙所需要的天数是（ ）

A. 10 B. 12 C. 9 D. 15

64. 小王以每股 10 元的相同价格买入 A 和 B 两只股票共 1000 股。此后 A 股票先跌 5% 再涨 5%，B 股票先涨 5% 再跌 5%。若在此期间小王没有再买卖过这两只股票，则现在这 1000 股股票的市值是（ ）

A. 10250 元 B. 9975 元 C. 10000 元 D. 9750 元

65. A、B、C 三个厂家生产同一种乒乓球，不合格率分别为 1%、2% 和 4%。现将三个厂家的产品按 6:3:1 的比例均匀混合后装入集装箱，从该箱中随机抽出 1 只乒乓球进行检测，若检测结果为不合格，则该只乒乓球是 B 厂生产的概率是（ ）

A. 0.3 B. 0.375 C. 0.4 D. 0.425

66. 某学校举办知识竞赛，共设 50 道选择题，评分标准是：答对 1 题得 3 分，答错 1 题扣 1 分，不答的题得 0 分。若王同学最终得 95 分，则他答错的选择题最多有（ ）

A. 12 道 B. 13 道 C. 14 道 D. 15 道

67. 甲、乙、丙三人定期到某棋馆学围棋，甲每隔 3 天去一次，乙每隔 4 天去一次，丙每隔 5 天去一次。若 2016 年 2 月 10 日三人在棋馆相遇，则下次三人在棋馆相遇的日期是（ ）

A. 2016 年 4 月 8 日 B. 2016 年 4 月 11 日

C. 2016 年 4 月 9 日 D. 2016 年 4 月 10 日

68. 将所有由 1、2、3、4 组成且没有重复数字的四位数，按从小到大的顺序排列，则排在第 12 位的四位数是（ ）

A. 3124 B. 2341 C. 2431 D. 3142

69. 某单位举办设有 A、B、C 三个项目的趣味运动会，每位员工三个项目都可以报名参加。经统计，共有 72 名员工报名，其中参加 A、B、C 三个项目的人数分别为 26、32、38，三个项目都参加的有 4 人，则仅参加一个项目的员工人数是（ ）

A. 48 B. 40 C. 52 D. 44

70. 如图，边长为 1 米的正方形棋盘上有 100 个大小一样的小方格，点 O 为棋盘的中心，将一个

- A. 小学：中学：教育 B. 手表：码表：导航
 C. 导弹：核弹：武器 D. 楷书：黑体：书写

(二) 请从四个选项中选出正确的一项，使得该项的两个词或词组依次代入题干的括号中，能够最大限度地满足题干所表达的类比关系。

77. 风气 之于 () 相当于 文献 之于 ()

- A. 风格 图书 B. 风尚 典籍
 C. 精神 文化 D. 弘扬 传承

78. 医院 之于 () 相当于 学校 之于 ()

- A. 诊治 教学 B. 实验 手术
 C. 医生 学生 D. 查房 课程

(三) 请从四个选项中选出正确的一项，使其特征或规律与题干给出的一串符号的特征或规律最为相似。

79. 嘀 诶 嘀 诶 微微 滴 诶

- A. 滴 微微 滴 微微 诶 诶 嘀 微 B. 诶 嘀 诶 诶 微微 滴 滴
 C. 嘀 嘀 诶 微微 诶 微微 滴 D. 嘀 微微 嘀 微微 诶 诶 滴

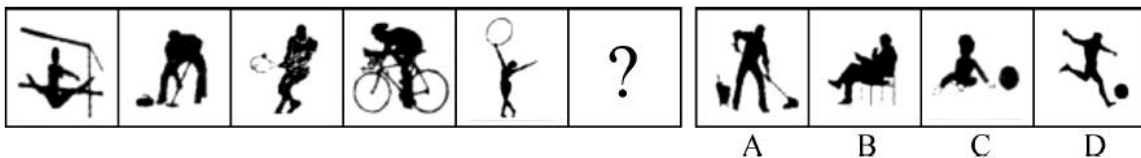
80. $\cap \infty \downarrow \rightarrow \cap \Sigma \rightarrow$

- A. $\downarrow \cap \rightarrow \infty \downarrow \rightarrow \Sigma$ B. $\infty \downarrow \cap \Sigma \infty \rightarrow \Sigma$
 C. $\cap \downarrow \infty \Sigma \rightarrow \cap \Sigma$ D. $\rightarrow \infty \cap \downarrow \rightarrow \Sigma \rightarrow$

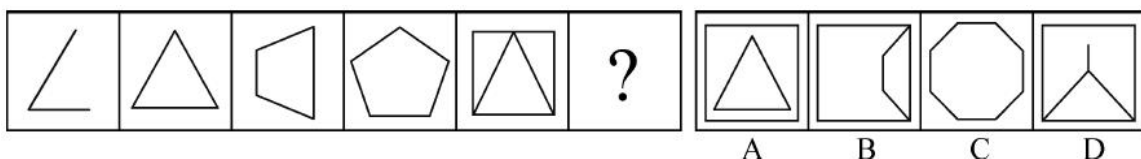
二、图形推理。本部分共 10 题，包括三种类型的题目。

(一) 每道题在左边的题干中给出一套图形，其中包括五个图，这五个图呈现一定的规律性。在右边给出一套图形，其中有四个图，从中选出唯一的一项作为保持左边五个图规律性的第六个图。

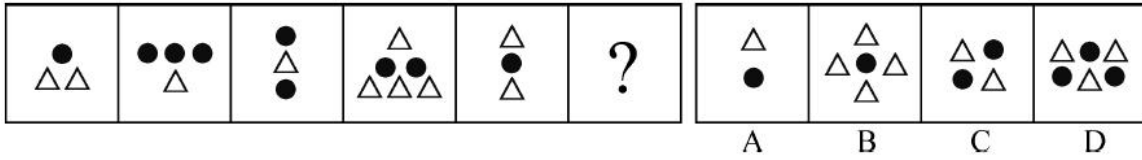
81.



82.




83.




(二) 右边四个图形中，只有一个是左边四个图形拼合（只能通过上、下、左、右平移）而成的，请把它找出来。


84.



85.

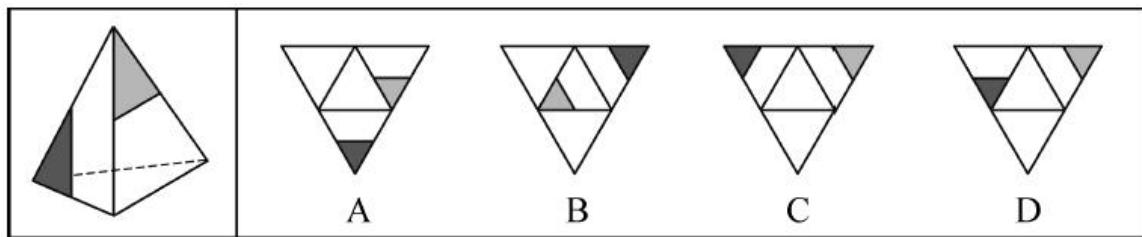


86.

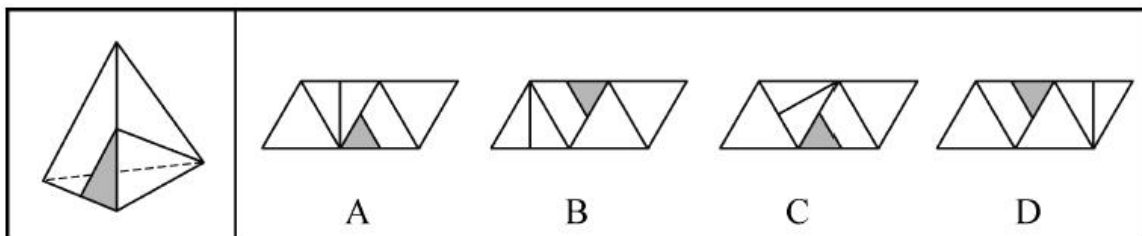


(三) 所给图形可以由下列哪项外表面展开图折叠而成？请把它找出来。

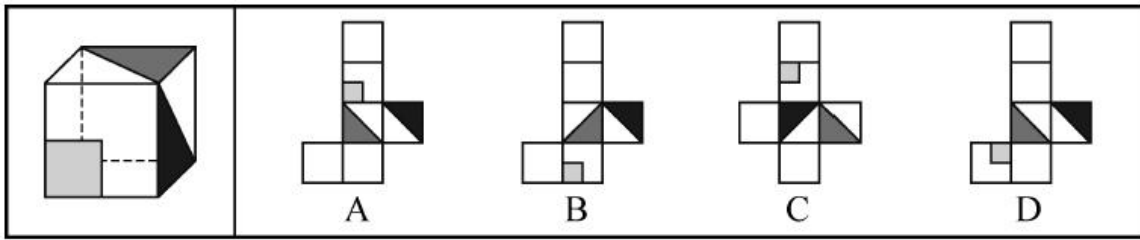
87.



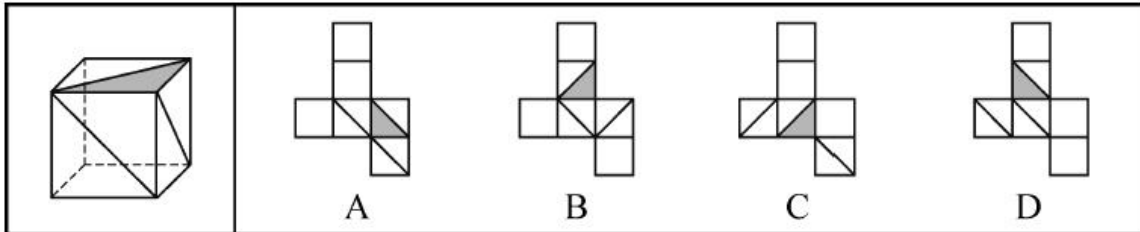
88.



89.



90.



三、逻辑判断。每道题给出一段陈述，这段陈述假设是正确的、不容置疑的。请你根据这段陈述，选择一个答案。注意：正确的答案不需要任何附加说明即可以根据陈述必然推出。

91. 在某单位，老李非常尊重同事大张，而大张非常尊重新入职的技术员小陈。老李是单位的领导之一，职位比小陈高。

根据以上陈述，可以得出以下哪项（ ）

- A. 大张的职位比老李高
- B. 老李的职位比大张高
- C. 有人尊重比自己职位低的人
- D. 有人尊重比自己职位高的人

92. 当一辆疾驰的汽车需要马上刹住时，几毫秒的反应时间是非常关键的。有时，区区几米的距离就决定着人的生死。最近有研究者利用模拟驾驶系统、眼球追踪技术等手段，让五组受试者面对动感不同的交通标志，然后测试他们作出反应的速度。结果发现，动感较强的交通标志确实能让受试者更快地作出反应。由此，他们建议有关部门，应该将原有的交通警告标示牌全部置换为动感较强的标示牌，以便提高司机的反应速度。

以下哪项如果为真，最能表明上述研究者的建议难以实现预期目标（ ）

- A. 置换原有的交通警告标示牌是一项庞大、繁琐的工程，需要投入巨额成本
- B. 在研究者选取的五组受试者中，有的人驾龄并不长，有的人甚至还不会开车
- C. 当司机了解到动感较强的交通警告标示牌的现实意义后，其反应速度又会降到从前的水平
- D. 如果画面上的人看起来在跑，就容易让人联想到行人急匆匆从你车前经过的画面

93. 考入蓝天外国语学校的学生，一般都被认为是学霸级人物。虽然聪明、勤奋的同学未必都能成为蓝天外国语学校的学生，但是蓝天外国语学校的学生多半聪明或勤奋。

根据以上陈述，可以得出以下哪项（ ）

- A. 有的聪明、勤奋的同学必然不会成为蓝天外国语学校的学生
- B. 有的聪明、勤奋的同学可能不会成为蓝天外国语学校的学生
- C. 大多数蓝天外国语学校的学生既聪明又勤奋
- D. 有少数蓝天外国语学校的学生既聪明又勤奋

94. 甲、乙、丙、丁、戊 5 支球队进行小组循环赛。比赛规定，每队胜一场得 3 分，平一场得 1 分，负一场得 0 分，积分前两名出线。比赛结束后发现，没有积分相同的球队，乙队胜 3 场，另一场与甲队战平，戊队有 3 场平局。

根据以上信息，可以得出以下哪项（ ）

- A. 甲队战胜了丁队
- B. 甲队战胜了丙队
- C. 丙队战胜了丁队
- D. 丙、丁两队没有战平

95. 荷兰画家梵·高在一家精神病院里创作了著名的绘画作品《星空》。这幅画作中的“漩涡”引起了人们长期的争论，许多心理学家认为，“漩涡”是梵·高当时脆弱心理状态的延伸和表现。欧洲航天局近日发布了一幅根据“普朗克”卫星探测绘制的星空图，神奇的是，这幅图与《星空》有惊人的相似之处。有艺术家认为，自然的星空正是梵·高创作的灵感来源。

以下各项如果为真，则除了哪项均能支持上述艺术家的观点（ ）

- A. 梵·高的创作灵感一般均有明显的现实来源
- B. 《星空》的创作年代要远早于卫星绘制星空图的年代
- C. 梵·高具有超越常人的视觉观察能力与想象能力
- D. 卫星绘制的星空图和《星空》的画面大体是一致的

96. 某金融机构计划在欧洲和亚洲分别设立一个办事处，候选城市有 6 个，亚洲的吉隆坡、香港和首尔，欧洲的苏黎世、伦敦和法兰克福。该机构的两名工作人员就办事处的设立城市进行了如下猜测：

张经理：亚洲办事处一定会设在吉隆坡，绝不会设在首尔；

陈经理：欧洲办事处一定会设在伦敦，绝不会设在苏黎世。

事后得知，两人的猜测都只有一半是正确的。

根据以上信息，以下哪项是错误的判断（ ）

- A. 亚洲办事处设在香港
- B. 欧洲办事处设在法兰克福
- C. 亚洲办事处如果不设在香港，就会设在首尔

D. 欧洲办事处如果不设在伦敦，那么也不会设在法兰克福

97. 一项研究选取 80 名 13 岁到 25 岁出现精神分裂症早期症状的年轻人作为被试对象，随机选取其中一半人服用鱼油片剂 3 个月，另一半人服用安慰剂 3 个月。研究人员对受试者跟踪考察 7 年后发现，在服用鱼油片剂组中，只有 10% 的人罹患精神分裂症；而在服用安慰剂组中，罹患这种疾病的人则高达 40%。由此，研究人员得出结论：服用鱼油片剂有助于青少年预防精神分裂症。

以下各项如果为真，则除了哪项均能质疑上述研究人员的结论（ ）

- A. 被试对象的数量仍然偏少，且每个被试者在 7 年中的发展差异较大
- B. 被试对象的年龄跨度较大，实验开始时有人可能已是青年而非少年
- C. 鱼油片剂曾被尝试用来治疗成年精神分裂症患者，但实验发现没有效果
- D. 被试对象服用鱼油片剂的时间较短，不足以形成稳定、明显的疗效

98. 学校操场有 6 条环形跑道，从外向内分别为 1 至 6 道，王伟、李明、刘平、张强、钱亮、孙新 6 人分别占据其中一道。已知：

- (1) 王伟的两侧是单数跑道，张强的两侧是双数跑道；
- (2) 李明与张强隔着两个跑道，钱亮在王伟和李明中间的那个跑道；
- (3) 刘平在单数跑道，孙新在双数跑道；
- (4) 王伟不在第二跑道；
- (5) 如果张强在第三跑道，那么王伟不在第四跑道。

根据以上陈述，可以得出以下哪项（ ）

- A. 在刘平和孙新之间隔着 4 个跑道
- B. 在钱亮和张强之间隔着 2 个跑道
- C. 在钱亮和孙新之间隔着 3 个跑道
- D. 在刘平和王伟之间隔着 1 个跑道

99~100 题基于以下题干：

某校组建篮球队，需要从甲、乙、丙、丁、戊、己、庚、辛 8 名候选者中选出 5 名球员，为求得球队最佳组合，选拔需满足以下条件：

- (1) 甲、乙、丙三人中必须选出两人；
- (2) 丁、戊、己三人中必须选出两人；
- (3) 甲与丙不能都被选上；
- (4) 如果丁被选上，则乙不能被选上。

99. 如果添加前提“如果庚被选上，则辛也被选上”，则可以得出以下哪项（ ）

- A. 甲和乙能被选上

- B. 丁和戊能被选上
- C. 乙和庚能被选上
- D. 己和辛能被选上

100. 如果添加前提“如果戊被选上，则甲不能被选上”，则可以得出以下哪项（ ）

- A. 甲和乙能被选上
- B. 乙和丙能被选上
- C. 乙和丁能被选上
- D. 丁和庚能被选上

四、定义判断。先给你一个概念的定义，然后给出一组典型例证，要求你从中选出最符合题意的一项。注意假设这个定义是正确的、不容置疑的。

101. 条件承诺：指在社会活动中，一方对另一方做出附带条件的承诺。

下列属于条件承诺的是（ ）

- A. 小琴考上了重点高中，老爸奖励她到国外旅游一周
- B. 某公司老总答应给考核优秀的员工每人每月加薪 200 元
- C. 陈某对女儿说：“老妈将一如既往支持你报考研究生。”
- D. 小雨为自己立规，不减肥 5 斤，就拒绝参加朋友聚会

102. 趋同感应：指在社会交往过程中，一方能够把握另一方的心理状态，并且能够设身处地体验对方心理。

下列属于趋同感应的是（ ）

- A. 天下谁人不识君
- B. 天生我材必有用
- C. 同是天涯沦落人
- D. 一片冰心在玉壶

103. 路怒症：指机动车驾驶者在行车过程中因焦躁、愤怒情绪而产生的攻击性行为。

下列不属于路怒症的是（ ）

- A. 在路口等红灯时，小张感觉汽车被碰了一下，下车一看，果然是后车刹车不及时追尾了，小张猛踢后车车轮，大声责怪其司机并且索要赔偿
- B. 妻子开车送老陈去上班，一辆小汽车突然窜到了面前，险些撞到他的车，老陈下车拦住那辆车，把司机痛斥一顿
- C. 小李开了 8 年车，技术高超，每次被人超车，都忍不住狂踩油门飚上一把，直到反超并羞辱对方一番才罢休

D. 小王正在赶路，旁边车子中突然飞出一个纸团落在他的挡风玻璃上，小王十分生气，他猛按喇叭，嘴里骂个不停

104. 有我之境：指审美过程中包含客体性的自然景物，蕴藏审美者的主观感受。即作为观察对象的客观事物染上观察者的主观色彩。

下列最能体现有我之境的是（ ）

- A. 明月松间照，清泉石上流
- B. 星垂平野阔，月涌大江流
- C. 片云天共远，永夜月同孤
- D. 明月出天山，苍茫云海间

105. 自然淘汰育种法：指在良种筛选过程中，减少人为干预，尽量通过被筛选对象的自然生长确定所需良种的育种方法。

下列属于自然淘汰育种法的是（ ）

- A. 甲鱼养殖场为了选育出抗病力强的种鱼，在甲鱼接近死亡的情况下，不施加任何药物而任其发展，存活到最后的则作为种鱼
- B. 锦鲤养殖户从幼鱼开始分拣最有经济价值的鱼苗，经过三次人工选鱼后，最终只有不到 10% 的幼鱼成了精品锦鲤
- C. 石斛养殖户爬上人迹罕至的悬崖峭壁采集野生石斛，挑选其中的一部分作为种苗，精心培育出多个新品种
- D. 生长在同一片山坡上的某种植物，有些长势茂盛，有些则弱小枯黄，泾渭分明，这正是“物竞天择”的形象说明

106. 隐性就业：指没有通过传统就业渠道获取固定职业、处于相关部门就业统计范围之外的工作状态。

下列不属于隐性就业的是（ ）

- A. 颜某辞去工作后，一边带孩子一边经营一家奶粉网店
- B. 某教授受多家培训学校之邀，在工作之余常去指导授课
- C. 小陈离开公司后专门为电商店铺提供平台搭建和维护服务
- D. 热爱写作的小王，大学毕业后成了一家报社的自由撰稿人

107. 平行竞争：指各家厂商提供不同种类的产品以满足顾客同一需求而形成的竞争。

下列属于平行竞争的是（ ）

- A. 冬天还没到，电器商场就摆满了各种取暖用品，空调、油汀、热风扇、电热毯应有尽有，价格有高有低，款式或经典或新潮

- B. 为了扩大市场份额，某公司新近推出了一款平板电脑，硬盘容量有 64G、128G 和 256G 三种规格，供不同层次的消费者选择
- C. 只要走进地下商城，马上就会有一群人把你团团围住，卖服装的、卖玩具的、卖食品的……都迫不及待地要把你拉到自己的摊位上
- D. 小李拿到了 1 万多元年终奖，准备好好奖励自己，现在正纠结于出国旅游、买笔记本电脑还是黄金首饰

108. 新农人：指具有科学文化素质、掌握现代农业生产技能，以农业生产、经营、服务作为职业的劳动者。

下列不属于新农人的是（ ）

- A. 蔡某大学毕业后，利用自己学到的新技术培育种植出了方形南瓜、彩色辣椒等，销路很好
- B. 回乡创业的程某，几年来致力于推广无土瓜，圆了全村不少家庭的致富梦
- C. 小李高考落榜后，在政府政策扶持下，在自己家乡养起来了猪，10 多年下来，已经走上了富裕路
- D. 小朱在部队掌握了养牛技术，转业回乡后自办奶牛场，建起了一个直销网站，为客户提供周到服务

109. 社会概称意识：指人们对某一社会群体所持有的比较固定的、概括而笼统的看法。

下列属于社会概称意识的是（ ）

- A. 某民族认为狼都是凶残、贪婪的
- B. 非洲某部落视天狼星为其幸运星
- C. 不少年轻人认为养宠物的人最有爱心
- D. 南方人认为北方人是不怕冷的

110. 优势反应：指熟练程度极高、遇到某种刺激时不加思考就做出来的习惯性动作。

下列不属于优势反应的是（ ）

- A. 中国人遇到多年未见的朋友时，一般都伸出右手去和对方握手
- B. 在街上听到有人喊自己名字，人们总会循着声音方向去寻找
- C. 人们无意之中把手伸进滚烫的开水，瞬间就会把手缩回
- D. 小丽在家看小说时，一碰到不认识的字就会下意识地去查字典

111. 粉丝文化：指个人或者群体出于对某一特定对象的追捧心理，所引发的过度崇拜、过度消费、无偿付出等社会文化现象。

下列不属于粉丝文化的是（ ）

- A. 某位学者在电视台成功地举办了讲座，从此以后，他上课的教室外边常常挤满了慕名而来请求

签名、合影的学生

B. 为了让歌手小杨在选秀节目中获胜,许多陌生的年轻人自发组织起来,天天台前幕后地拉选票、拉赞助,忙得不亦乐乎

C. 小张是一家娱乐类杂志的记者,他的主要任务是报道演艺圈动态消息,有时为了追踪一个明星,甚至连饭都顾不上吃

D. 小丽是《舌尖上的中国》的忠实粉丝观众,她把每一期节目都下载到电脑中反复观看,经常到废寝忘食的地步

112~115. 暂缺

第五部分 资料分析

(共 20 题,参考时限 20 分钟)

下列给出的文字、表格、图形资料均有五个问题要你回答,你应根据资料提供的信息进行分析、计算、处理,然后从备选答案中选择一个最恰当的答案。

一、根据以下资料,回答 116~120 题。

表 2015 年前 7 个月中国对主要贸易伙伴进出口总额

国家或地区	金额(亿元)				同比增长(%)			
	进出口	出口	进口	贸易差额	进出口	出口	进口	贸易差额
欧盟	19753.4	12180.2	7573.2	4607.0	-7.6	-4.4	-12.4	12.5
美国	19242.8	13973.8	5269.0	8704.8	2.7	7.2	-7.5	18.6
东盟	16226.2	9680.0	6546.2	3133.8	1.3	7.9	-7.2	63.5
香港	10609.6	10270.9	338.7	9932.2	-10.3	-10.2	-13.5	-10.1
日本	9767.0	4710.6	5056.4	-345.8	-11.1	-11.1	-11.1	-11.1
韩国	9461.7	3494.3	5967.4	-2473.1	-5.0	-0.7	-7.3	-15.3
台湾	6574.3	1593.1	4981.2	-3388.1	-2.8	0.8	-3.9	-6.0
澳大利亚	4049.0	1341.8	2707.2	-1365.4	-18.0	4.0	-25.8	-42.1
巴西	2579.4	1073.7	1505.7	-432.0	-18.4	-9.7	-23.6	-44.7
印度	2493.4	2006.3	487.1	1519.2	1.2	9.6	-23.0	26.*

116. 2015 年前 7 个月,中国对其贸易顺差同比增长最快的主要贸易伙伴是 ()

A. 香港 B. 东盟 C. 台湾 D. 巴西

117. 2015 年前 7 个月,中国对其贸易逆差同比减少的主要贸易伙伴有 ()

A. 3 个 B. 4 个 C. 5 个 D. 6 个

118. 2014 年前 7 个月,中国对澳大利亚的出口额是 ()

A. 1290.2 亿元 B. 1341.8 亿元
C. 1395.5 亿元 D. 3648.5 亿元

119~135. 暂缺

2016年江苏省录用公务员考试《行政职业能力测验》真题卷(B类)参考答案与解析

1. 【解析】D。《“十三”规划建议》指出，“十三五”时期经济社会发展的基本理念，即实现“十三五”时期的发展目标，必须牢固树立“创新、协调、绿色、开放、共享”的发展理念。因此D项正确。
2. 【解析】D。中国始终把维护我国的利益作为外交的首要任务，因此③表述错误，D项当选。
3. 【解析】A。习近平总书记强调要增强问题意识，坚持问题导向。就是要承认问题进而解决问题，即承认矛盾的普遍性和客观性，认识矛盾，进而解决矛盾，才能推动事物的发展。说明矛盾是事物发展的源泉和动力。
4. 【解析】B。A项，“流水不腐，户枢不蠹”意思是流动的水不会发臭，经常转动的门轴不会腐烂。比喻经常运动的东西不易受侵蚀。体现的哲学原理为运动是事物的本质属性和存在方式。“人无远虑，必有近忧”意思是人没有长远的考虑，一定会出现眼前的忧患。体现的哲学原理为要用联系的、发展的眼光看问题。B项，“奢靡之始，危亡之渐”是说奢侈和浮华意味着危险和灭亡会渐渐来临，“千里之堤，溃于蚁穴”比喻小事不慎将酿成大祸。两者体现的哲学原理都是量变引起质变，B项当选。C项，“生于忧患，死于安乐”体现了矛盾双方的相互转化。“城门失火，殃及池鱼”体现了事物是普遍联系。D项，“螳螂捕蝉，黄雀在后”告诉我们在考虑问题、处理事情时，不要只顾眼前利益，即联系是普遍的，要学会用联系的观点看问题。“尺有所短，寸有所长”比喻人或事物各有其长处和短处，体现的哲学原理为矛盾是可以相互转化的。
5. 【解析】A。王某作为申请人，需要提供企业注册场所的证明文件，因此A项错误。
6. 【解析】A。A项出自王安石的《元日》，对应的是春节。B项出自王维的《九月九日忆山东兄弟》，重阳节有登高，插茱萸的习俗。C项出自辛弃疾的《青玉案·元夕》，对应的是元宵节。D项出自秦观的《鹊桥仙·纤云弄巧》，对应的是七夕节。因此A项错误。
7. 【解析】D。A项，《茉莉花》起源于江苏南京六合一带，A项错误。B项，《茉莉花》是由英国的马戛尔尼使团出访中国期间带回欧洲的，B项错误。C项，《茉莉花》最早在1768年（清乾隆三十三年）法国哲学家卢梭的《音乐辞典》中就有收录，而曲谱则是在英国地理学家约翰·巴罗于1804年出版的《中国旅行记》一书中被记录下来的，C项错误。D项，意大利歌剧作曲家普契尼在歌剧《图兰朵》中采用了中国民歌《茉莉花》，《茉莉花》由此风靡欧洲。D项正确，当选。
8. 【解析】C。供给侧结构性改革，是从提高供给质量出发，用改革的办法推进结构调整，更好

满足广大人民群众的需要，促进经济社会持续健康发展。C项发改委取消行政审批事项是从源头供给处进行改革，符合定义。因此C项当选。

9. 【解析】A。抚养比又称抚养系数，是指在人口当中，非劳动年龄人口对劳动年龄人口数之比。题干中提到“2020年到2050年，我国60岁以上人口占比将从19.3%上升到38.6%”。因此，非劳动年龄人口比例上升，抚养比上升，A项说法错误。其他选项均符合我国老龄化社会带来的各种问题。

10. 【解析】B。B项，民政部门与企业共同出资建设养老院，是社会资本参与公共产品和服务供给的体现，符合定义。A项中的对厂区道路绿化，C、D两项中的体育赛事和大型超市均不属于公共产品和服务供给，错误。因此B项当选。

11. 【解析】C。镇南关大捷是1885年（清光绪十一年）3月，在中法战争中，清军在广西镇南关（今友谊关）大败法国侵略者取得重大胜利的著名战役。因此C项当选。A项，发生在1937年9月的山西大同，中共八路军配合友军阻挡日军，取得胜利。B项，起始时间为1939年12月18日~1940年1月11日，是桂南会战国民革命军投入最强规模部队的抗日战役。D项，发生在1938年山东台儿庄附近，它是抗日战争以来中国人民取得的最大胜利。

12. 【解析】D。A项郑和七次下西洋发生于15世纪初。B项，郑和下西洋没有到达地中海，最远到达东非、红海。C项，郑和下西洋比哥伦布发现美洲大陆早了87年。D项，郑和下西洋航线为西太平洋经马六甲海峡至印度洋到达非洲。因此D项当选。

13. 【解析】B。A项，中国已经制定二维码的国家标准。C项，二维码在穿孔、污损引起局部损坏时也可以得到视读。D项，扫描二维码可能感染病毒不是因为二维码本身携带病毒，而是其载体可能带有病毒。A、C、D三项说法均不正确，因此B项当选。

14. 【解析】D。A项的原理是车胎内的空气热胀冷缩。B项的原理是高温空气遇到低温的冷饮产生的液化现象。C项的原理是瓷砖的导热性比棉花的强。D项的原理是镀银层可以减少热辐射，防止热量散失。只有D项解释正确，当选。

15. 【解析】D。A项正确，秦岭—淮河一线是我国南北地理分界线。B项正确，祁连山的融雪丰富，灌溉了河西走廊。C项正确，喜马拉雅山脉平均海拔超过6000米且形成时间在6500万年前。D项，阴山山脉是传统上重要的农业和牧业的分界线。D项错误，当选。

16. 【解析】C。金丝猴的自然保护区位于秦岭山区的周至、太白、佛坪、洋县等县境内，C项对应错误，当选。

17. 【解析】A。法的指引作用是指法通过规定人们在法律上的权利和义务来指引人们的行为，授予人们一定权利；规定一定义务，要求人们必须做什么；通过禁止性规定不允许人们做什么，使人们承担不作为的义务来保障权利人的权利。本题体现的是法的指引作用，因此A项当选。

18. 【解析】D。题干中提到处罚前，行政机关告知了作出处罚决定的事实、理由及依据，并告知当事人依法享有的权利，此做法体现了程序正当的原则，因此D项当选。
19. 【解析】C。《治安管理处罚法》第100条规定，违反治安管理行为事实清楚、证据确凿，处警告或者200元以下罚款的，可以当场作出治安管理处罚决定。第101条规定，当场作出治安管理处罚决定的，人民警察应当向违反治安管理行为人出示工作证件，并填写处罚决定书。处罚决定书应当当场交付被处罚人；有被侵害人的，并将决定书副本抄送被侵害人。前款规定的处罚决定书，应当载明被处罚人的姓名、违法行为、处罚依据、罚款数额、时间、地点以及公安机关名称，并由经办的人民警察签名或者盖章。当场作出治安管理处罚决定的，经办的人民警察应当在24小时内报所属公安机关备案。本案中，事实清楚，且处以150元罚款，可以适用简易程序，当场处罚，并送达处罚决定书，处罚决定书应当按预定格式填定，由经办人民警察签章，并24小时内报所属公安机关备案。因此C项为错误。
20. 【解析】B。本题主要体现了民法中的自愿原则。因此B项当选。
21. 【解析】A。意图判断题。文段最后一句话“传统文化只有与现代生活相融合，其复兴才有意义”强调其必要性。因此A项当选。
22. 【解析】B。文段中把“道路”比喻成“河流”，把“高楼”比喻成“峡谷”，道路在高楼“峡谷”中蜿蜒流淌，只有高处俯瞰才能呈现此景。另外，古人登上依水而建的楼阁，所观之景与此相似，其视线是由高处往下的。因此B项当选。
23. 【解析】D。结语推断题。文段谈论主体是中国钢琴音乐，由“但……应有的关注与重视”可知，接下来谈论的主体应为中国钢琴音乐中存在的问题。因此D项当选。
24. 【解析】C。细节理解题。由文段中“点火即可燃烧”可知，C项描述与此不符。其他项在文段中均可找到依据。因此C项当选。
25. 【解析】A。由“语言本质上是用声音符号做物质外壳的，文字则是用来记录有声语言的”“网络主要利用文字来实现即时的远距离交流”可知，网络用语的本质是用文字记载的语言。A项当选。
26. 【解析】A。⑥是结论性的语句，不适合作为首句，因此排除C、D两项。A、B两项末句分别为④和⑤，④由“因此”引导，为结果，⑤为原因，因此⑤应在④之前。A项当选。
27. 【解析】C。文段主要谈论的是蓝藻形成水华带来的危害以及蓝藻爆发的原因——水体污染，因此文段意在强调的是如何控制蓝藻爆发。C项“治理水体污染是控制蓝藻爆发的根本措施”与之相符，当选。A项主要谈论的是蓝藻上浮带来的危害，不是文段强调的内容，排除。文段指出“人们对水资源的不合理开发与利用……为蓝藻的爆发提供了得天独厚的条件”，B项因果关系倒置，排除。D项文段未提及相关内容，排除。

28. 【解析】A。文段首先指出文化产业学是一门新兴学科，是从产业角度对文化进行的研究，接着通过介绍当下文化创意学科群面临的困境来说明文化产业学学科存在发展的必要性。B、D两项在文中未提及，属于无中生有，C项非文段主旨所在，均可排除。因此A项当选。

29~35. 暂缺

36. 【解析】B。由横线后面的“少数主导”“几乎”“更大的问题”等提示词可知，此处应填入表示程度加重的成语，“雪上加霜”常用来比喻接连遭受灾难，损害愈加严重，符合句意，当选。

37. 【解析】D。两派争论的问题主要集中在第二段，由两派不同的支持观点可知，A、B、C三项均为争论所涉及的问题。D项与两派争论的问题无关，当选。

38. 【解析】A。“始作俑者”比喻首先做某件坏事的人，表达破坏的方面，排除C、D两项。由第二段最后一句中的“和产业界合作会将环境保护工作出卖给环境问题的始作俑者”可知，“始作俑者”指“产业界”，即“制造了环境问题的企业”，A项当选。B项范围过于广泛，排除。

39. 【解析】C。由第三段中“理性温和的辩论，逐渐沦为……个人论战。这种情况……使实践层面的环保工作停滞不前”，以及承上启下的第五段“环境保护……需要科学家和实践工作者更加包容的态度以及处理环境问题更加包容的方式”可知，C项“不正确的沟通方式会影响世界的环保工作”是作者担心的最主要问题。

40. 【解析】C。由最后一段“应当更加精确地描绘这一领域悠久的、全球的、共同参与的历史进程”以及“环境保护组织和科学家们应当欢迎所有的环境保护执行机构”可知，作者提出的对策是C项。B项倾听的不是公众声音，应是环境领域科学家和工作者的声音。

41. 【解析】B。第一空，“缘木求鱼”比喻方向或办法不对头，不可能达到目的。“画饼充饥”比喻用空想来安慰自己。“纸上谈兵”比喻空谈理论，不能解决实际问题；也比喻空谈不能成为现实。“闭门造车”比喻脱离实际，只凭主观办事。A、D两项不符合语义。第二空，“立身之本”与“荡然无存”搭配恰当，因此B项当选。

42. 【解析】D。第一空，由“盯着名利干事”可知，“急功近利”最恰当，且两者也都包含关键字“利”。第二空，由“不闻掌声”可知，“心无旁骛”最恰当。因此D项当选。

43. 【解析】B。第一空，根据语境，书法艺术是以汉字为传播途径的一种形式，故用“载体”。验证第二空，语句通顺，符合语义。因此B项当选。

44. 【解析】A。第一空，与“慷慨”搭配，“赐予”最恰当。“分享”“供给”程度不够。“奉献”指恭敬地交付，献出，主要是为别人默默付出，心甘情愿，不图回报。验证第二空，“轻慢”符合语义。因此A项当选。

45. 【解析】B。第一空，“不堪重负”“顾此失彼”与“网络热词的更替速度”搭配不当，排除C、D两项。第二空，“宿愿”指平素的愿望，一向怀着的愿望，与题意不符；“宿命”是指命运

的归宿，是人们无法摆脱的必然趋势，符合题意。因此 B 项当选。

46. 【解析】A。根据语境，第一空需要填入表示假设的让步关系的连词，排除 B、D 两项。“这种留在心间的东西……的影响，就是熏陶”，说明不自觉的就受到了影响，故用潜移默化。A 项当选。

47. 【解析】B。第一空，“娇生惯养”指从小就被溺爱、娇养惯了，显然不符合语义，排除 A 项。第二空，“甄选”在审查的基础上进行选择，“精选”指认真地把一类事物中具有代表性的挑选出来，不符合语义，排除 C、D 两项。验证第三空，“推动生命的演化”搭配恰当，语句通顺。因此 B 项当选。

48. 【解析】A。第一空，“热火朝天”形容群众性的活动情绪热烈，气氛高涨，就像炽热的火焰照天燃烧一样；“万马奔腾”形容群众性的活动声势浩大或场面热烈，均多形容“场面”，排除 B、D 两项。再看第三空，“抢滩”商业上指抢占市场，填在此处最恰当。验证第二空，代入“炙手可热”符合语义。因此 A 项当选。

49. 【解析】A。第一空，“遗忘”“遗弃”均不符合语义，排除 C、D 两项。再看第三空，“难以问津”比喻很少有人来探问、尝试或购买，符合语义；“难以为继”指难于继续下去。验证第二空，“集腋成裘”比喻积少成多，符合语义。因此 A 项当选。

50~55. 暂缺

56. 【解析】A。

18 20 16 24 8 (40) 后项减前项



2 -4 8 -16 (32) 构成公比为-2 的等比数列

因此 A 项当选。

57. 【解析】C。2= $\sqrt{4}$ ，3= $\sqrt{9}$ ，2 $\sqrt{7}$ = $\sqrt{28}$ 。只看底数：

2 4 9 17 28 (42) 后项减前项



2 5 8 11 (14) 再次作差






3 3 3 3 构成常数列

因此括号中的数是 $\sqrt{42}$ ，C 项当选。

58. 【解析】A。整数部分作差得 1，3，9，27，(81)，构成等比数列，因此未知项的整数部分为 44+81=125。各项整数部分与小数部分之间具有如下关系：4=2×2，5=2×2+1，8=4×2，17=8

$\times 2+1$, $44=22 \times 2$, $125=62 \times 2+1$ 。答案为 125. 62, 因此 A 项当选。

59. 【解析】B。三次作差。

7	14	33	70	131	(222)	后项减前项
						
7	19	37	61	(91)		再次作差
						
12	18	24	(30)		再次作差	
						
6	6	6	构成常数列			

因此正确答案是 222, B 项当选。

60. 【解析】D。分子部分作差得 2, 4, 6, 8, (10)。分母部分作差得 3, 5, 7, 9, (11)。

因此最后一个数的分子为 31, 分母为 37, 括号中的数为 $\frac{31}{37}$, D 项正确, 当选。

61. 【解析】D。解法一: 设原来的浓度为 x , $100x \div 120 = (100x + 50 \times 30\%) \div 150$, 解得 $x=60\%$ 。

解法二: 50 克浓度为 30% 的溶液可以分解成 20 克水和 30 克溶液两部分, 此时 30 克溶液浓度为 $50 \times 30\% \div 30 = 50\%$, 与另一瓶加了 20 克水后的溶液浓度应相等, 说明原有溶质为 $120 \times 50\% = 60$ (克), 则原来的浓度就是 $60 \div 100 = 60\%$ 。D 项正确, 当选。

62. 【解析】D。设订书机为 x 元, 计算器为 y 元, 文件夹为 z 元, 列方程组得
$$\begin{cases} 6x + 4y + 6z = 504 \\ 3x + y + 3z = 207 \end{cases}$$
,

①式减②式得 $3x + 3y + 3z = 297$, 解得 $x + y + z = 99$ 。因此 $5x + 5y + 5z = 495$, D 项正确。

63. 【解析】A。令甲、乙、丙的效率分别为 5, 4, 6, 则已完成的工程量为 $6 \times (5+4) + 4 \times 9 = 90$, 占 60%, 说明还剩 $90 \div 60\% - 90 = 60$ 的工作量, 由丙单独做, 则需要的天数为 $60 \div 6 = 10$ (天), A 项当选。

64. 【解析】B。1000 股股票的市值是: $10 \times 1000 \times (1-5\%) \times (1+5\%) = 10000 \times (1-5\%+5\%-5\% \times 5\%) = 9975$ (元), 因此 B 项当选。

65. 【解析】B。假设 A、B、C 三个厂分别取 600、300、100 个乒乓球混合, 则其中不合格的球数为 $600 \times 1\% + 300 \times 2\% + 100 \times 4\% = 6+6+4=16$, B 厂不合格的球有 6 个, 所以概率为 $\frac{6}{16} = 0.375$ 。B 项正确, 当选。

66. 【解析】B。假设 50 题都答对, 应得 150 分, 现只得 95 分, 少得 55 分, 每答错一题少得 4 分, 不答少得 3 分, $55 \div 4 = 13 \cdots 3$, 余数 3 正好可以看成有一题不答少得了 3 分, 所以最多有 13

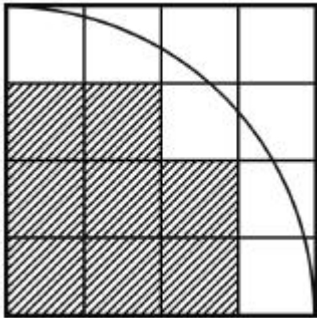
道答错。B项正确，当选。

67. 【解析】D。“每隔3天去一次”意思是“每4天去一次”。因此4, 5, 6最小公倍数为60, 60天之后三人再次相遇。2016年2月是闰月, 有29天, 3月31天, 下一次相遇即为4月10号。D项当选。

68. 【解析】C。当千位数字是1时有 $A_3^3=6$ (种)四位数, 当千位数字是2时也有 $A_3^3=6$ (种)四位数, 因此排在第12位的就是千位数字为2的最大四位数, 即2431, C项正确。

69. 【解析】C。三集合容斥问题, 根据公式“ $A \cup B \cup C = A + B + C - A \cap B - B \cap C - A \cap C + A \cap B \cap C$ ”求解。设只参加两个项目的有x个人, $26 + 32 + 38 - x - 2 \times 4 = 72$, $x = 16$ 。只参加两个项目的有16人, 只参加一个项目的就是 $72 - 16 - 4 = 52$ (人)。

70. 【解析】A。如下图所示, 四分之一圆能完全覆盖的小方格有8个, 因此共有 $8 \times 4 = 32$ (个)小方格能完全覆盖在圆内。



71. 【解析】D。南京包含于江苏, 并且是江苏省省会, 江苏与北京为并列关系, 都是省级行政区。D项最为类似, 广州包含于广东, 并且是广东省省会, 广东与贵州为并列关系。A、B、C三项与题干关系不相符。

72. 【解析】C。法律是一种社会行为规则, 小说是一种文学体裁。A项创新发展是一种发展, D项人生理想是一种目标, 均为前后词语顺序颠倒, B项工会应是一种社会组织而非社会关系。

73. 【解析】B。上网是微信交流的必要条件, 学习是增长知识的必要条件, B项当选。跳舞是锻炼身体的方式之一, 自驾是旅游度假的一种方式, 均不符合。法庭审判和实验之间没有明确的逻辑关系。

74. 【解析】C。农民在农田中种植水稻, 电商在网络上销售货物。。D项中捕鱼的词性与题干不一致。

75. 【解析】D。时间先后关系。先规划, 再实施, 最后验收。A项中取证应先于诉讼, B项中宣传、生产一般在销售前。C项中招标应为最先。

76. 【解析】A。动车、高铁均具备运输功能, 小学和中学均有教育功能。B项中一般情况下手表不具有导航的功能, C项中“武器”的词性与题干不一致。D项中楷书是书法的一种, 黑体是一种

字体。

77. 【解析】B。风气与风尚，文献与典籍均为近义词，而且风尚和典籍均含有褒义。

78. 【解析】A。医院的主要功能是诊治病人，学校的功能是进行教学。

79. 【解析】A。题干中第一个字与第三个字一致，第二、四、八三个字一致。

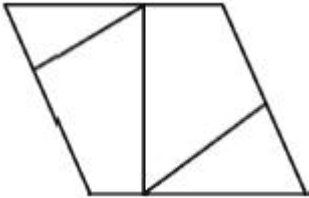
80. 【解析】B。第一个与第五个字符一致，第四个与第七个一致，其余字符均不同。

81. 【解析】D。题干中所有人均在从事运动项目。

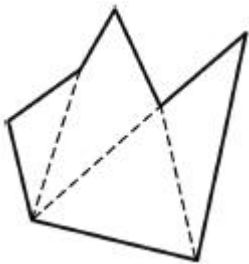
82. 【解析】B。线条的特性十分清晰，题干各图分别包含有 2、3、4、5、6 条线，但是选项中 A、B、D 三项均为 7 条线，因而无法直接进行选择。深入辨析可知各图在进行线条数变化的同时还保持着一笔画的特征，因此 B 项当选。

83. 【解析】B。每个图形中圆和三角形的个数均不相等，只有 B 项符合。

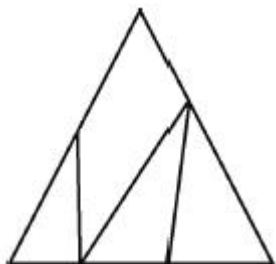
84. 【解析】B。如下图所示：



85. 【解析】D。如下图所示：



86. 【解析】B。如下图所示：



87. 【解析】D。A 项，灰色小三角形应位于中间大三角形的左下角，排除。B 项，灰色小三角形应位于中间大三角形的右下角，排除。C 项，灰色小三角形应位于中间大三角形的顶角位置，排除。D 项当选。

88. 【解析】D。设中线所在的面与黑色三角形所在的面相交于边 AB，则中线与 AB 相交于 AB 的中点位置。观察发现只有 D 项符合条件。

89. 【解析】C。A项，灰色三角形所在的面应位于小正方形所在的面之上；B、D两项，灰色三角形不应与小正方形所在的面有公共边。
90. 【解析】D。A、B两项，两个有对角线的面的对角线不应有交点，排除；C项，两个有对角线的面与有灰色三角形的面应分别以灰色三角形的两条直角边为公共边，排除。因此D项当选。
91. 【解析】C。由题干可知，老李是单位领导之一，而大张是不是领导不确定，所以老李和大张的职位孰高孰低无法确定，因此排除A、B两项。而大张的职位有两种选择，①领导，②职员。如果大张是①领导，那么由“大张非常尊重新入职的技术员小陈”可知，有人尊重比自己职位低的人；如果大张是②职员，那么由“老李非常尊重同事大张”可知，有人尊重比自己职位低的人，因此C项当选。
92. 【解析】C。研究者的预期目标是：将交通警告标示牌全部置换为动感较强的标示牌，可以提高司机反应速度。而题目要求削弱此预期目标，即交通警告标示牌全部置换为动感较强的标示牌，不能提高司机反应速度。C项说明动感标示牌没有效果，直接削弱，当选。A项讨论的是成本的问题，削弱力度不如C项，排除。B项说明还是有效果的，不能削弱，排除。D项属于无关选项，排除。
93. 【解析】B。由题干中“聪明、勤奋的同学未必都能成为蓝天外国语学校的学生”可知，“未必都”就是“并非都”的意思，“并非都”等于“有的不”，因此B项当选。
94. 【解析】D。由题干可知比赛情况为：甲、乙平，乙胜丙，乙胜丁，乙胜戊，戊、甲平，戊、丙平，戊、丁平，所以此时可知甲得2分，乙得10分，丙得1分，丁得1分，戊得3分，剩下3场比赛是甲对丙，甲对丁，丙对丁。观察选项，假设丙、丁平，那么此时丙、丁、甲的分数都是2分，而甲对丙，甲对丁无论胜负如何一定会出现相同分数，与题干矛盾，所以丙、丁不能平，因此D项当选。
95. 【解析】B。艺术家的观点是：自然的星空正是梵·高创作的灵感来源。A、C、D三项均可加强艺术家的观点，因此均排除。B项所述与梵·高创作的灵感来源并无关系，属于无关选项，符合题干要求，当选。
96. 【解析】D。假设两人的猜测都是前对后错，那么亚洲办事处既设在吉隆坡又设在首尔，欧洲办事处既设在伦敦又设在苏黎世，这与题干条件矛盾，所以两人的猜测都是前错后对，从而推出亚洲办事处设在香港，欧洲办事处设在法兰克福，A、B、C三项均正确，D项错误。
97. 【解析】C。A项说明题干中的论据不可靠，B项说明由论据得不出论点，属于拆桥，D项直接否定论据，三项均可以削弱研究人员的结论。C项说的是成年患者治疗，而论据强调的是青少年预防，论题不一致，属于无关选项，当选。
98. 【解析】A。由（1）可知王伟的跑道为2或者4；张强的跑道为3或者5；由（4）可知王伟

在 4 跑道，再结合（5）可推知，张强在 5 跑道；由（2）可知李明在 2 跑道，钱亮在 3 跑道；由（3）可知刘平在 1 跑道，孙新在 6 跑道。因此 A 项当选。

99. 【解析】D。由（1）和（3）可知乙一定入选；由（4） $丁 \rightarrow \neg 乙$ ，可知丁不选；由（2）可得出戊和己一定入选。而甲和丙里还要选一个，那么庚和辛必定只能选一个，由“如果庚被选上，则辛也被选上”，可知只能选辛，所以一定有的是乙、戊、己和辛，D 项当选。

100. 【解析】B。由（1）和（3）可知乙一定入选；由（4） $丁 \rightarrow \neg 乙$ ，可知丁不选；由（2）可得出戊和己一定入选。由“如果戊被选上，则甲不能被选上”可知不选甲，又因为（1）“甲、乙、丙三人中必须选出来两人”，所以一定要选丙，因此 B 项当选。

101. 【解析】B。“条件承诺”的定义要点：①一方对另一方；②附带条件的承诺。A、C 两项不符合②，D 项不符合①，均排除。因此 B 项当选。

102. 【解析】C。“趋同感应”的定义强调“一方把握另一方的心理状态，设身处地体验对方心理”。只有 C 项符合定义，当选。

103. 【解析】B。“路怒症”定义要点为：①机动车驾驶者；②行车过程中；③因焦躁、愤怒产生攻击性的行为。B 项老陈并不是机动车驾驶者，不符合定义要点①。因此 B 项当选。

104. 【解析】C。“有我之境”的定义强调“客体性的自然景物蕴藏审美者的主观感受”。A、B、D 三项都未体现“审美者的主观感受”，只单纯描写自然景物，均排除。C 项诗意为“心情像空中的白云飘向远方，身体像长夜的月亮一样孤独”，从“共”“同”可以看出，诗人把内在的感情融入到外在的景物当中，因此 C 项当选。

105. 【解析】A。“自然淘汰育种法”的定义强调“在良种筛选过程中，减少人为干预”，只有 A 项符合定义要点。B、C 两项有人工干预选种。D 项并没有提到筛选良种。

106. 【解析】B。“隐性就业”的定义要点为：没有通过传统就业渠道获取固定职业。B 项的教授是有固定职业的，只是在固定职业之外还兼职其他工作。

107. 【解析】A。“平行竞争”的定义要点为：①厂商提供不同种类的产品；②满足顾客同一需求。B 项“一款平板电脑”不符合①，排除。C 项不是同一需求，D 项小李不是顾客，都不符合②，C、D 两项均排除。因此 A 项当选。

108. 【解析】C。“新农人”的定义强调“有科学文化素质、掌握现代农业生产技能，以农业生产、经营、服务作为职业”。只有 C 项没有体现“现代农业生产技能”，当选。

109. 【解析】D。“社会概称意识”的定义强调“人们对社会群体持有固定的看法”，只有 D 项体现了“人们”对“社会群体”的看法。A 项中的“狼”，B 项中的“天狼星”，C 项中的“养宠物的人”都不是“社会群体”，均排除。

110. 【解析】C。“优势反应”的定义要点为：①熟练程度极高；②遇到某种刺激；③习惯性动

作。而 C 项只是条件反射，没有体现熟练程度高。

111. 【解析】C。小张是因工作需要，而非过度崇拜。

112~115. 暂缺

116. 【解析】B。贸易顺差是指一国出口额大于进口额，实现贸易顺差的有欧盟、美国、东盟、香港、印度，其中实现顺差增速最快的是东盟，B 项当选。

117. 【解析】C。中国对其贸易逆差的贸易伙伴有日本、韩国、台湾、澳大利亚和巴西，这 5 个的贸易逆差额均同比有所减少，C 项当选。

118. 【解析】A。2014 年前 7 个月，中国对澳大利亚的出口额为 $1341.8 \div (1+4\%)$ 。观察算式可得计算结果略小于 1341.8 亿元，只有 A 项符合。

119~135. 暂缺



美好的事情即将发生...

something wonderful is about to happen



公考通