

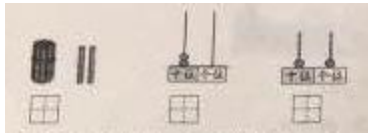
2017—2018 学年度（上）期末教学测评
小学一年级数学

一、我会算。（共 24 分）


$18-8=$	$2+4=$	$9-6=$	$7+6=$
$3-0=$	$7+3=$	$12+3=$	$10-3=$
$10+2=$	$14-3=$	$8-5=$	$3+9=$
$6+6=$	$7-7=$	$17-10=$	$5+8=$
$0+8+2=$	$8-2+4=$	$10-5-2=$	$4+3-4=$

二、我会填（共 30 分）

1、看图写数。



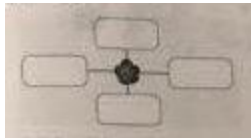
2. 18 的十位上是（ ），个位上是（ ）。
3. 16 里面有（ ）个一和（ ）个十。
4. 数一数，填一填。



5. 在○里填上“>”“<”或“=”。

$10 \bigcirc 9$	$18-8 \bigcirc 8$	$9+2 \bigcirc 9+3$
$7 \bigcirc 17$	$5+7 \bigcirc 12$	$7+4 \bigcirc 4+7$

6. 按要求画一画，在 左边画“○”，上面画“□”，右边画“△”，下面画“○”。



7. 宝物在几号盒子里？



- (1) 宝物放在 3 号盒的上面，宝物可能放在（ ）号盒子或（ ）号盒子里。
- (2) 宝物不在最上面，宝物放在（ ）号盒子里。

8. 在□里填上合适的数。

$9 < \square$	$15 > \square$	$\square + 5 = 13$	$\square - \square = 7$
---------------	----------------	--------------------	-------------------------

9. 你能看懂吗？

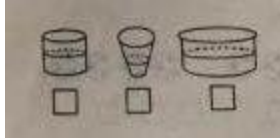
计算 $8+5$ ，

先算 $8+（ ）=（ ）$ 。


再算 $10+（ ）=（ ）$ 。

三、我会比一比。（共 4 分）

1. 水最多的画√，水最少的画○。



2. 高的画√，矮的画○。



四、我会选一选，在会飞的下面画“√”。（4分）

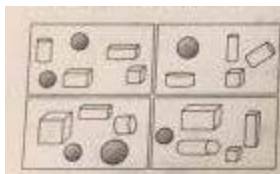


五、我会连一连。（共6分）



六、我会数一数。（共4分）

左上图有（ ）个长方体，
左下图有（ ）个正方体，
右上图有（ ）个圆柱，
右下图有（ ）个球。




七、我会看图写算式。（共3分）




$\square + \square = \square$ $\square - \square = \square$

八、我会解决问题（共25分）

1. 一共有多少只？  $\square \bigcirc \square = \square$

2.  $\square \bigcirc \square = \square$

3. 还剩下几个？  $\square \bigcirc \square = \square$

4. 一共有多少枝?



$$\square \bigcirc \square \bigcirc \square = \square$$

5.



$$10 - \square - \square = \square$$

附加题：（每题 10 分，共 20 分。）

1. 在重的一边画“√”。



2. 把 1, 3, 5, 7 分别填入 \square , 在每个式子里每个数只能用一次。

$$\square + \square - \square = \square \quad \square + \square - \square = \square$$