

# 目 录

第一篇 18 年考情分析及 19 年备考建议	1
第一章 考情分析	1
第二章 19 年备考建议	6
第一节 基本知识	6
第二节 岗位能力	8
第二篇 19 年高频考点分析	11
第一章 基本知识	11
第一节 政治知识	11
第二节 经济知识	19
第三节 文史科技知识	23
第四节 法律知识	29
第二章 岗位能力	38
第一节 数量关系	38
第二节 资料分析	44
第三节 判断推理	53



吉林文职人员考试信息, [jlwzryks](http://jlwzryks)

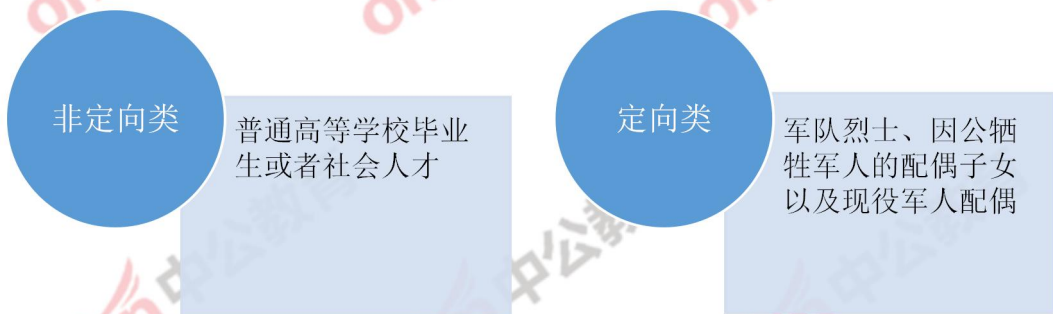
# 第一篇 18年考情呈现及19年备考建议

## 第一章 18年考情分析

全军面向社会公开招考文职人员考试（简称军队文职考试），根据18年公告看主要测查应试者与拟招考文职人员岗位要求密切相关的基本素质和能力要素，对基本知识的掌握程度，运用有关基本理论、基本知识、基本方法分析问题和解决问题的能力。

### 一、公告要点拾遗（2018年节选）

#### 1. 招考对象



#### 2. 招考条件:



### 3. 重要考试信息一览

重要考试信息一览表	
报名时间	2018年7月12日8:00至22日12:00
笔试科目	公共科目和专业科目
笔试时间	2018年8月26日 公共科目考试时间: 2018年8月26日9:00-11:00; 专业科目考试时间: 2018年8月26日14:00-16:00。

面试和体检时间	10月中旬-11月底
确定预选对象	全军统一考试的公共科目、专业科目和面试成绩满分均为100分，总成绩按百分制折算。其中，公共科目、专业科目、面试成绩分别占30%、30%、40%
确定拟录用对象	12月中旬前，对政审考察合格的预选对象，用人单位按照总成绩排名确定拟录用对象名单

## 二、报考军队文职的优势及待遇

### 1、报考优势

① 福利好：文职人员福利待遇跟军官相同（包括在职人员可以租住用人单位的公寓住房或者宿舍、医疗补助、子女优先入学等）

② 工资高：各行业薪资水平中排名靠前（一般来说军官>文职人员>当地公务员>事业单位）

③ 门槛低：不限户籍，不限身份，不限毕业年限

④ 专业性：专业对口能够发挥所学

⑤ 竞争小：文职的平均竞争比为1:10，国考的平均竞争比1:55

⑥ 灵活性强：文职人员享受正常假期，下班可回家居住。

### 2、文职人员待遇

军队建立与国家公务员和事业单位工作人员制度相衔接、具有比较优势的文职人员管理、保障制度和机制。

**工资待遇：**军队建立统一的文职人员工资制度。文职人员工资包括基本工资、津贴、补贴等。

基本工资由岗位工资、级别工资和工龄工资组成。岗位工资区分管理岗位和专业技术岗位，按照岗位等级分别设置岗位工资标准，每个岗位工资标准不同。级别工资是同一岗位由于学历、工作年限的不同，又可分为若干个级别。工龄工资是每在军队服务1年，工龄工资标准按20元计发。

基本津贴补贴由工作性津贴、生活性补贴和军队服务津贴组成。管理岗位和专业技术岗位津贴补贴有所区分，每个岗位等级的津贴补贴标准也是不一样的。等级越高，津贴补贴越高。特殊津贴补贴根据相应的地区、相应的岗位、执行任务的不同，特殊津贴补贴标准是不一样的。

**奖励工资：**符合享受奖励工资条件的文职人员，当年工作时间超过半年的，奖励工资标准为本人 1 个月工资收入；当年工作时间半年以内的，奖励工资标准为本人半个月的工资。

考核结果为称职以上的，按照奖励工资标准的全额发放；考核结果为基本称职的，按照奖励工资标准的一定比例发放；考核结果为不称职的，不予发放。

**住房保障：**文职人员住房实行社会化、货币化保障政策，住房公积金、住房补贴和房租补贴参照现役军官政策确定的标准执行。符合规定条件的人员，军队可以增发住房补助。文职人员可以租住用人单位的宿舍，符合规定条件的可以租住公寓住房。

**社会保险：**用人单位及其文职人员应当按照国家规定参加所在地职工基本医疗保险、失业保险、生育保险，缴纳保险费。参加养老保险、工伤保险的办法另行制定。军队根据国家有关规定，为文职人员建立补充保险。

**福利抚恤：**文职人员探亲休假、交通补助、健康体检和子女入托等，按照军队有关规定执行。军队对文职人员给予医疗补助。文职人员参加军事训练、非战争军事行动和作战支援保障任务期间的医疗保障，实行军队免费医疗。文职人员的伤亡抚恤，按照国家工作人员有关规定执行。文职人员的优待办法另行制定。文职人员因参加军事训练、非战争军事行动和作战支援保障任务伤亡的抚恤优待，参照《军人抚恤优待条例》的有关规定办理。

### 三、公共科目和专业科目考试大纲节选（2018 年）

#### 1. 公共科目考试大纲

公共科目为招考管理岗位和专业技术岗位文职人员的共同考试科目，测查范围包括基本知识和岗位能力两部分。**基本知识部分：**主要包括政治、经济、法律、人文与社会、科学技术、国防和军队。**岗位能力部分：**主要包括言语理解与表达、数量关系、判断推理、资料分析。

#### 2. 专业科目考试大纲

专业科目考试大纲分为哲学、经济学、法学、教育学、文学、外国语言文学、历史学、理工学、农学、医学、图书档案学、艺术学、管理学等 13 类 44 个专业。

### 三、2018 年军队文职人员招聘考试《公共科目》

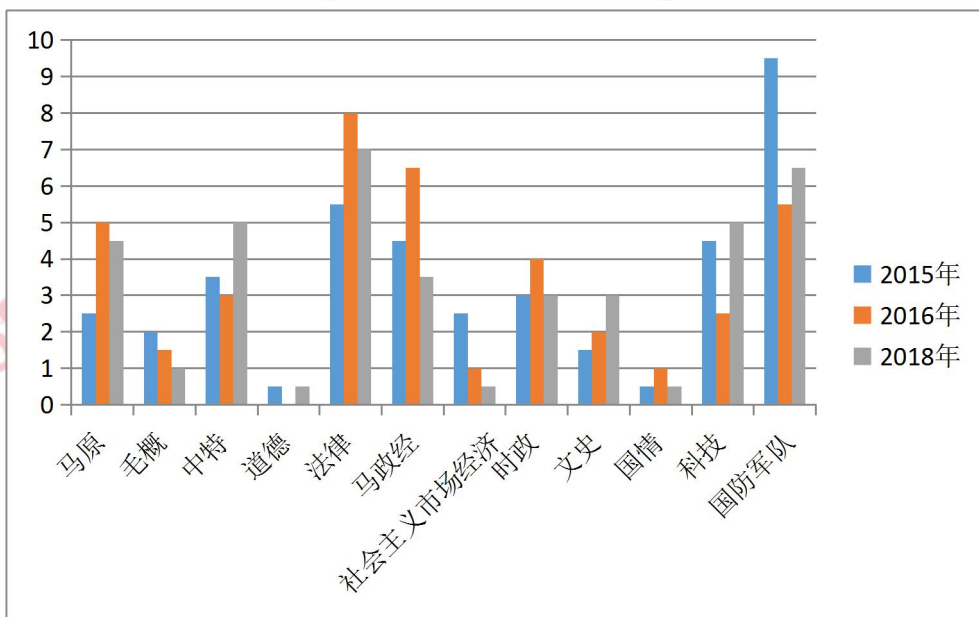
科目	题型	题量	分值	占比
基本知识(公基)	一、单选题	50	$50 \times 0.5 = 25$	40%
	二、多选题	10	$10 \times 1.5 = 15$	
岗位能力(行测)	一、言语理解与表达	15	$15 \times 1 = 15$	60%
	二、数量关系	10	$10 \times 1.5 = 15$	
	三、判断推理	10	$10 \times 1.5 = 15$	
	四、资料分析	15	$15 \times 1 = 15$	
	总计	110	100 分	100%

## 第二章 19 年备考建议

### 第一节 基本知识



#### 2015、2016、2018 三年各科目分值变化



#### 备考战略

从考纲来看，基本知识（公共基础知识）考试内容包括：政治、经济、法律、人文与社会、科学技术、国防和军队。其中政治、法律、人文与社会考查较多，国防和军队、经济、科学技术次之。

可以看出，从宏观上来说，基本知识的备考难度在于所涉及面之广泛，如就单拿人文知识来说，就包括古代文学、近代文学、外国文学、军事文学等，其中古代文学从先秦时期一直考查到明清时期，内容非常庞杂。需要有很强的知识沉淀才能顺利过关，所以军人文职考试的备考不是也不可能是一蹴而就的，是需要掌握正确的学习方法、在准备把握考点的基础上持久战的结果。但是从长远的复习战略上来说，我们并不是要用一个标准、一套方法来突破所有科目的分数。



在这里我们可以将这几门科目按其考查能力的侧重可划分为两类，即一类是理解性能力的科目，一类是识记性能力的科目。

**对待侧重考查理解性能力的科目**，比如马克思主义基本原理、法律、经济这些科目需要考生完成复习过程的两次蜕变，第一次是完成理论知识的系统化学习，第二次是通过大量接触题目来实现“举一反三”、“触类旁通”的复习效果！

**对待侧重考查识记性能力的科目**，比如毛概和中特、公民道德修养等科目，这一类型科目的复习除了需要考生重视日常性的积累，还更需要考生对具体的考试考情了解的情况下，来实现有针对性的记忆，进而提高复习的高效性！

## 备考战术

从具体的复习方法上来说：

**第一步：制定详细的复习计划。**基本知识考试内容庞杂，制定复习计划、合理安排复习时间是取得高分的关键。

**第二步：对基本知识的各科目建立整体的知识框架。**知识框架的建立，就好比航行在大海上船只的船舵，具有系统化学习理论知识、整体把握考试内容和复习方向的重要作用。

**第三步：有的放矢的对待考点。**“无所不备，则无所不寡”，我们不能打无准备的仗，但是这并不意味着所有考点板块，都要用同等的力气、相同的复习时间来对待。因此，在建立了整体的知识框架之后，考生一定要认真分析考情，把握好复习的重点和难点。

## 第二节 岗位能力

### 数量关系

分析近几年真题，数量关系题型题量稳定，每年均考查 10 题，包括数字推理和数学运算两种题型。数字推理常考等差数列、多次方数列、新题型等；数学运算考点涉及计算问题、行程问题、工程问题、排列组合问题、利润问题、几何问题等，与此同时，强调整除、特值、比例、方程等技巧性方法的使用。从历年真题来看，方法和考点的综合考查是命题趋势。数量关系知识点多且难度较大，需要同学们在系统掌握常考知识点的基础上，再进行大量的专项题目练习才能取得好的效果。

### 资料分析

从近几年真题来看，全国军队文职考试资料分析部分保持在 4 篇材料，15 道题，每篇材料 2~5 道题不等，题目整体难度中等偏下。考点主要侧重增长、比重两大常考概念，除了对基础概念公式考查外，平均数、倍数考查较少，同时也有不少查找分析类题目和多考点结合题目，另外 2018 年真题中涉及了统计术语考查，如求众数、中位数。学员在备考的时候需要充分掌握基础概念的常考类型，如求/比较增长率（量）、求/比较基期值、求/比较比重、基期比重、计算比重变化量、倍数、平均数相关概念等，同时也需要对一些简单统计术语有所了解。在学有余之后了解一些拓展性概念，如恩格尔系数、贡献率、拉动……增长……百分点；同时熟练运用几种常用解题方法，特征数字法、有效数字法、观察比较法和同位比较法。谙熟概念为前提，巧用方法为保障，为成“公”保驾护航！

## 判断推理

分析近几年真题，判断推理部分每年 10 题，考查逻辑判断、图形推理、类比推理、定义判断和事件排序五种题型。

逻辑判断每年 4 题，包括必然性推理和可能性推理两部分内容。必然性推理是考查的重点，涉及朴素逻辑、假言命题、直言命题和复言命题综合推理等，其中朴素逻辑、假言命题考查频繁。掌握各种推理规则和解题方法是快速解题的关键；可能性推理题目每年考 1 道，历年考查过结论型、加强型和评价型-相似推理，学会分析题干、把握各种题型的解题方法是攻克可能性推理题目的关键。

图形推理每年 2-3 题，主要涉及类比型、九宫格型和分类分组型。考点涉及位置关系、求同求异和组合叠加。其中位置关系重点考查翻转和移动、求同求异重点考查元素分布。

类比推理每年 1-2 题，是考查学生分析、比较给定词项间关系的能力。历年考查过近义关系、反义关系、文学历史常识和地理常识。这部分题目虽然难度不大，但是若想不丢分，则需要考生注重日常知识的积累，还要掌握好类比推理的解题技巧。

定义判断每年 1-2 题，均为单定义，主要考查学科有心理学、社会学、逻辑学、物理学，可见考查学科范围较为广泛。考生可在备考期间多增加相关学科背景知识，这对快速解题大有裨益。军队文职考试中定义判断虽然题干不长，难度不大，但是要精准做题，需要结合定义判断题目解题方法，以不变应万变。

事件排序每年 1 题，考查较多的是逻辑顺序，其次是时间顺序。此类题目需注重掌握首尾排序、排除法排序等常用解题方法，找准规律，快速做题。

## 言语理解与表达

纵观全国军队文职考试近几年真题，言语理解与表达均位于第二部分岗位能力中，题量为 15 题，考查题型包括选词填空、语句表达和片段阅读三种。

选词填空的考点包括语境分析和词语辨析。语境分析主要考查根据上下文关系寻找呼应点的能力，词语辨析重点考查常用实词、成语的含义及细微差别的辨别。语句表达主要考查语句排序、语句衔接、病句辨析、语义理解和标点符号，错别字辨析、诗句理解也有少数年份考查。片段阅读考查考生迅速、准确理解和把握文字材料内涵的能力，常考题型包括主旨观点题、细节判断题、文意推断题、细节查找题、承接叙述题、标题添加题、道理启示题、词句理解题，这几种题型中以主旨观点题为主。

在考前充电的过程中，考生要注意明确复习方向，首先要广泛积累各种成语含义与用法，对实词的使用做好辨析，同时加强片段阅读各种题型的训练，见多识广，掌握各种题型的解题方法，也要适当练习各类语句表达的题目，培养语言表述方面连贯、通顺的敏感。这样，就能在考试中灵活应对各类题型，自信发挥。

## 第二篇 19 年高频考点分析

### 第一章 基本知识

#### 第一节 政治知识

##### 【考点 1】实践与认识的辩证关系

###### 1. 实践决定认识

###### (1) 实践是认识的来源

就一个人的知识来说，一部分是通过亲身实践得来的，即来源于直接经验；另一部分是从书本和他人那儿学到的间接经验。直接经验和间接经验都是通过实践得到的，实践是认识 and 知识的唯一源泉。

###### (2) 实践是认识发展的动力

第一，社会实践不断提出新的需要、新的研究课题，推动认识的发展。

第二，社会实践为认识不断提供新的经验和新的观察、研究的物质手段。

第三，社会实践推动人的思维能力的发展。社会实践的发展推动人的认识能力的提高。

###### (3) 实践是认识的目的和归宿

###### (4) 实践是检验认识是否具有真理性的唯一标准

###### 2. 认识对实践的反作用

认识对实践的反作用具有两重性：正确的认识对实践起着积极的促进作用，错误的认识则对实践起消极的阻碍作用，甚至导致实践的失败。

##### 【典型例题】

(多选) 实践在认识中的决定作用表现在：

- A. 实践提出了认识的课题
- B. 实践创造出必要的物质条件和手段，使认识成为可能
- C. 实践是认识的唯一来源
- D. 实践是检验认识是否具有真理性的唯一标准
- E. 实践使认识得以产生和发展

【试题难度】☆☆

【技巧点拨】此题属于记忆性考查，熟练掌握实践与认识的辩证关系即可。

【中公答案】ABCDE。解析：实践是认识发展的动力表现在：社会实践不断提出新的需要、新的研究课题，推动认识的发展；社会实践为认识不断提供新的经验和新的观察、研究的物质手段；社会实践推动人的思维能力的发展。社会实践的发展推动人的认识能力的提高，所以 AB 符合题意；又因为实践是认识的来源；实践是检验认识是否具有真理性的唯一标准，CDE 符合题意。故本题答案为 ABCDE。

【名言名句】实践决定认识

1. “你要知道梨子的滋味，你就得变革梨子，亲口吃一吃。”——毛泽东
2. “故不登高山，不知天之高也；不临深溪，不知地之厚也。”——荀子

## 【考点 2】科学社会主义的直接思想来源——空想社会主义

### 1. 空想社会主义的三个发展阶段

第一，16—17 世纪早期空想社会主义；

第二，18 世纪的空想平均共产主义；

第三，19 世纪初期批判的空想社会主义。

### 2. 空想社会主义的优缺点

(1) 优点

以三大空想社会主义者为代表的空想社会主义学说，在理论上致力于社会制度的分析。他们对资本主义旧制度的辛辣批判，包含着许多击中要害的见解；对社会主义新制度的描绘，闪烁着诸多天才的火花。空想社会主义是早期无产阶级意识和利益的先声，反映了早期无产阶级迫切要求改造现存社会、建立理想的新社会的愿望。

## (2) 缺点

“空想社会主义既不会阐明资本主义制度下雇佣奴隶制的本质，又不会发现资本主义发展的规律，也不会找到能够成为新社会的创造者的社会力量”。空想社会主义虽然“提供了启发工人觉悟的极为宝贵的材料”，但并不是科学的思想体系。

3. 社会主义从空想到科学的客观条件——无产阶级队伍不断壮大

4. 社会主义从空想到科学的理论基础——唯物史观和剩余价值学说

5. 社会主义从空想到科学的伟大飞跃——科学社会主义学说

## 【典型例题】

(多选) 19世纪英法空想社会主义的缺陷包括哪些？

A. 没有正确认识社会发展规律

B. 不能揭示资本主义必然灭亡的经济根源

C. 缺少当时统治阶级的大力支持

D. 找不到通往理想社会的现实道路

E. 没有找到埋葬资本主义的社会力量

【试题难度】☆

【技巧点拨】此题考查英法空想社会主义的缺陷，属于记忆性题目，难度较易。

【中公答案】ABDE。解析：19世纪英法空想社会主义的缺陷包括没有正确认识社会发展的客观规律；不能揭示资本主义必然灭亡的经济根源；没有找到埋葬资本主义的社会力量；找不到通往理想社会的现实道路。故本题答案为ABDE。

【考点拓展】空想社会主义的开山之作

1516 年英国人托马斯·莫尔写作的《乌托邦》被称为空想社会主义的开山之作。托马斯·莫尔是空想社会主义的创始人。

### 【考点 3】毛泽东思想活的灵魂

1981 年党的十一届六中全会通过的《中国共产党中央委员会关于建国以来党的若干历史问题的决议》指出：贯穿于毛泽东思想各个组成部分的立场、观点和方法，是毛泽东思想的活的灵魂，它们有三个基本方面，即**实事求是，群众路线，独立自主**。

#### （一）实事求是

实事求是，就是一切从实际出发，理论联系实际，坚持在实践中检验真理和发展真理。毛泽东指出：“‘**实事**’就是客观存在着的一切事物，‘**是**’就是客观事物的内部联系，即规律性，‘**求**’就是我们去研究。”**实事求是**是毛泽东思想的精髓。

#### （二）群众路线

##### 1. 群众路线的内涵

群众路线，就是一切为了群众，一切依靠群众，从群众中来，到群众中去，把党的正确主张变为群众的自觉行动。

##### 2. 群众路线的地位和本质

群众路线都是我们党的生命线和根本工作路线，是我们党永葆青春活力和战斗力的重要传家宝。

群众路线本质上体现的是马克思主义关于人民群众是历史的创造者这一基本原理。

#### （三）独立自主



## 【典型例题】

( 单选 ) 下列关于实事求是思想路线的理解，不正确的是：

A.“**实事**”就是客观存在的一切事物

B.“**是**”就是客观事物内部联系，即规律性

C.“**求**”就是我们去研究，将主观判断结果作为我们行动的指南

D.坚持实事求是的思想路线，要一切从实际出发，做到理论与实际的统一

【试题难度】☆

【技巧点拨】属于一般识记性题目。

【中公答案】C。解析：毛泽东在《改造我们的学习》中指出：“**实事**”就是客观存在着的一切事物，“**是**”就是客观事物的内部联系，即规律性，“**求**”就是我们去研究。毛泽东认为，“**是**”就是事物的规律，“**求是**”就是认真追求、研究事物的发展规律，找出周围事物的内部联系，作为我们工作的向导。坚持实事求是的思想路线，要一切从实际出发，做到理论与实际的统一。故 ABD 正确，C 选项，我们不能将主观判断结果作为我们的行动指南，而是应该从客观实际出发，故本题答案选 C。

【考点拓展】党的思想路线

一切从实际出发，理论联系实际，实事求是，在实践中检验真理和发展真理。

## 【考点 4】社会主义初级阶段基本经济制度的内容

社会主义初级阶段的基本经济制度是**公有制为主体、多种所有制经济共同发展**。

## (一) 公有制经济

公有制经济包括**国有经济和集体经济**，还包括**混合所有制经济中的国有成分和集体成分**。

坚持公有制经济的主体地位，是社会主义的一条根本原则。坚持公有制为主体是社会主义制度的基本要求，坚持公有制为主体，能更好地发展社会生产力。

公有制经济的主体地位主要体现在两个方面：**公有资产**在社会总资产中占优势；**国有经济**控制国民经济的命脉，对经济发展起**主导作用**，国有经济起主导作用，集中体现在其对国民经济的**控制力**上。

在社会主义市场经济体系下，**股份制**是公有制的主要实现形式。

## （二）非公有制经济

非公有制经济包括**个体经济、私营经济、外资经济、混合所有制经济**中的**非公有制成分**等。

非公有制经济是我国社会主义市场经济的**重要组成部分**，**必须毫不动摇地鼓励、支持和引导**非公有制经济发展。这是社会主义初级阶段生产关系适应生产力发展水平的客观要求，也是发展社会主义市场经济的客观要求。

### 【典型例题】

（多选）公有制与市场经济结合曾是世界性难题，所有制理论创新对于社会主义国家而言更需极大的政治勇气。提出并坚持“两个毫不动摇”，彰显了中国共产党人既实事求是、又与时俱进的执政智慧。其中，毫不动摇地发展非公有制经济的原因有：

- A. 非公有制经济对加强社会主义市场经济体制建设方面有着重要作用
- B. 非公有制经济在发展社会生产力中占据着主导作用
- C. 非公有制经济在发展社会生产力中有着不可替代的地位和作用
- D. 非公有制经济是我国社会主义市场经济的重要组成部分
- E. 非公有制经济在社会主义市场经济中控制国民经济命脉

【试题难度】☆☆☆

【技巧点拨】此题属于理解性题目，需要考生清楚理解公有制经济、非公有制经济的区别和作用，特别是国有经济与非公有制经济的作用。

【中公答案】ACD。解析：非公有制经济是我国社会主义市场经济的重要组成部分，是发展社会主义市场经济的内在要求，在社会生产力发展中有着不可替代的地位和作用。其次，非公有制经济已经成为我国吸纳就业人口的主力军，尤其是第三产业已经成为吸纳就业人口的主导力量，可知 ACD 符合题意。在社会主义市场经济中“起主导作用”、“控制国民经济”命脉的是国有经济，BE 说法错误。故本题答案选 ACD。

【考点拓展】混合所有制经济

混合所有制经济是指财产权分属于不同性质所有者的经济形式。我国存在的混合所有制主要有三大类型：公有制和私有制联合组成的混合所有制企业；公有制与个人所有制联合组成的混合所有制企业；公有制内部国有企业与集体企业联合组成的混合所有制企业。

### 【考点 5】全面推进国防和军队现代化的战略安排

党的十九大对全面推进国防和军队现代化作出新的战略安排：

到 2020 年，国防和军队建设要基本实现**机械化**，信息化建设取得重大进展，战略能力有大的提升；

到 2035 年，基本实现国防和军队**现代化**；

到**本世纪中叶**，把人民军队全面建成**世界一流军队**。

【典型例题】

( 单选 ) 十九大报告指出，国防和军队建设要适应世界新军事革命发展趋势和国家安全需求，提高建设质量和效益，确保到\_\_\_\_\_基本实现机械化，信息化建设取得重大进展，战略能力有大的提升。

A.2030

B.2035

C.2022

D.2020

【试题难度】☆

【技巧点拨】此题属于记忆性题目，需要考生牢记十九大对全面推进国防和军队现代化作出新的战略安排的时间节点。

【中公答案】D。解析：十九大报告指出，国防和军队建设要适应世界新军事革命发展趋势和国家安全需求，提高建设质量和效益，确保到二〇二〇年基本实现机械化，信息化建设取得重大进展，战略能力有大的提升。故本题答案为 D。

【考点拓展】建设世界一流军队的要求

1. 牢固树立战斗力这个唯一的根本的标准
2. 坚持政治建军、改革强军、科技兴军、依法治军
3. 构建中国特色现代军事力量体系

### 【考点 6】掌握道德修养的正确方法

#### 1. 学思并重

学思并重的方法，即通过虚心学习，积极思索，辨别善恶，学善戒恶，以涵养良好的德性。

#### 2. 省察克治

省察克治的方法，即通过反省检验以发现和找出自己思想与行为中的不良倾向，并及时对它们进行抑制和克服；在日常生活中，我们要经常在自己内心深处用道德标准检查、反省，找出那些坏毛病、坏思想、坏念头并加以纠正。

#### 3. 慎独自律

慎独自律的方法，即在无人知晓、没有外在监督的情况下，坚守自己的道德信念，自觉按道德要求行事，不因无人监督而恣意妄为。

#### 4. 知行合一

知行合一的方法，即把提高道德认识与躬行道德实践统一起来，以促进道德要求内化为个人的道德品质，外化为实际的道德行为。强调知行合一也是儒家修身思想的重要特征。

#### 5. 积善成德

积善成德的方法，即通过积累善行或美德，使之巩固强化，以逐渐凝结成优良的品德。

### 【典型例题】

( 单选 ) “从我做起，从小事做起，从身边做起”所体现的道德修养方法是：

A. 实践躬行，积善成德

B. 见贤思齐，修心养性

C. 省察克治，防微杜渐

D. 学思结合，知行统一

【试题难度】☆☆☆

【技巧点拨】此题属于理解性题目，需要牢固掌握道德修养的正确方法。

【中公答案】A。解析：“从我做起，从小事做起，从身边做起”强调了实践活动，同时也体现了量变到质变的原理，也就是“积善成德”。“实践躬行”强调亲身实践或体验，A项符合题意；“见贤思齐”指见到有才德的人就想着与他齐平，B项不合题意；“省察克治”指自觉不断地反省检查、克制约束私欲，C项不合题意；“学思结合”指学习与思考相结合，D项不合题意。故本题答案选A。

【考点拓展】量变与质变的辩证关系

①量变是质变的必要准备。

②质变是量变的必然结果，量变达到一定的程度必然引起质变。

③量变和质变相互渗透。在质变中有量的扩张，在总的量变过程中包含着阶段性和局部性的部分质变。

## 第二节 经济知识

### 【考点1】货币的职能

货币的职能是由货币的本质决定的，又是货币本质的具体体现。货币具有五大职能：

(1) **价值尺度**：是指以自身价值作为尺度来衡量其他商品的价值。货币执行价值尺度职能，不需要现实的货币，只需要观念上的货币。

(2) **流通手段**：是指货币充当商品交换的媒介。货币充当流通手段，必须是现实的货币，但不一定要足值货币。

(3) **支付手段**：是指在发生赊购赊销的情况下，货币用于清偿债务所执行的职能。货币作为支付手段，已被广泛运用于缴纳租金、税金和发放工资等方面。

(4) **贮藏手段**：是指货币退出流通领域，被人们当作社会财富的一般代表加以贮藏。货币作为贮藏手段，必须是足值的金属货币或金属条块。

(5) **世界货币**：是指货币在世界市场上作为一种购买手段、支付手段和社会财富的代表所发挥的作用。货币执行世界货币的职能是随着国与国之间的商品交换以及其他贸易活动的发展而发展起来的，它实际上是货币职能越出国界而在世界范围的延伸和应用。

**【典型例题】**

( 单选 ) 2018 年元旦，美国游客汤姆在中国某珠宝店看中了一只标价为 8000 元的玉镯，经过讨价还价，汤姆实际支付 5600 元买下这只手镯。材料中货币执行的职能有：

- A. 价值尺度和流通手段
- B. 价值尺度和世界货币
- C. 支付手段和世界货币
- D. 流通手段和贮藏手段

**【试题难度】**☆☆☆

**【技巧点拨】**此题要求考生理解价值尺度和流通手段的内涵。

**【中公答案】**A。解析：标价 8000 元，表现和衡量了玉镯的价值，货币执行的是价值尺度功能；支付 5600 元购买手镯，说明货币充当了商品交换的媒介，货币执行的是流通手段的职能。故本题答案选 A。

**【考点拓展】**

价值尺度和流通手段是货币的两个最基本职能，其他三种职能是在这两种基本职能的基础上派生和发展出来的。

**【考点 2】剩余价值的生产方法**

资本家剥削工人的具体办法是多种多样的，但概括起来有两种基本方法：绝对剩余价值生产和相对剩余价值生产。

(1) **绝对剩余价值**是指在必要劳动时间不变的条件下,通过延长工作时间所获得的剩余价值。

(2) **相对剩余价值**是指在工作时间不变的条件下,由于缩短必要劳动时间而相对延长剩余劳动时间所生产的剩余价值。相对剩余价值是各个资本家追逐超额剩余价值而实现的。

### 【典型例题】

(单选) 相对剩余价值的获得靠:

- A. 全社会劳动生产率的提高
- B. 个别企业提高劳动生产率
- C. 必要劳动时间不变的情况下提高劳动强度
- D. 延长工作日增加剩余劳动时间

【试题难度】☆☆☆

【技巧点拨】此题属于理解性题目,要求考生弄清楚绝对剩余价值、相对剩余价值、超额剩余价值之间的区别和联系。

【中公答案】A。解析:相对剩余价值生产是以社会劳动生产率提高为条件的。社会劳动生产率提高,生活资料的价值便会下降,劳动力的价值也随之下落,再生产劳动力价值的必要劳动时间便会缩短,剩余劳动时间则相应延长,从而生产出相对剩余价值。故本题答案为A。

【考点拓展】超额剩余价值

超额剩余价值是指单个资本家通过提高劳动生产率使商品的个别价值低于社会价值而比一般资本家多得的那部分价值。

### 【考点3】企业

企业一般是指以盈利为目的,运用各种生产要素(土地、劳动力、资本、技术和企业家才能等),向市场提供商品或服务,实行自主经营、自负盈亏、独立核算的法人或其他社会经济组织。

### 1.企业的组织形式

#### (1) 个人业主制

由个人出资经营的企业。出资者就是企业主，掌握企业的全部业务经营权力，独享企业的全部利润和独自承担所有的风险，并对企业的债务负无限责任。它不是法人，全凭企业主的个人资信对外进行业务往来。

#### (2) 合伙制

合伙制企业是指由两人以上按照协议投资，共同经营、共负盈亏的企业。合伙制企业财产由全体合伙人共有，共同经营，合伙人对企业债务承担连带无限清偿责任。

#### (3) 公司制

公司一般是指依法设立的，全部资本由股东出资，以营利为目的企业法人。其两种主要形式为有限责任公司和股份有限公司。公司以其全部财产对公司的债务承担责任。

### 2.现代企业制度

#### (1) 现代企业及现代企业制度的含义

现代企业是拥有产权，能够自主经营、自负盈亏的市场主体和法人实体。

现代企业制度，是指符合社会化大生产要求，适应市场经济需要的“产权清晰、权责明确、政企分开、管理科学”，依法规范的公司制企业制度。**建立现代企业制度，是发展社会化大生产和市场经济的必然要求，是公有制与市场经济相结合的有效途径，是国有企业的改革方向。**

#### (2) 现代企业制度的基本特征

现代企业制度的基本特征是：**产权清晰、权责明确、政企分开、管理科学。产权清晰是前提和条件，权责明确是核心，政企分开是关键，管理科学是基础。**

#### 【典型例题】

( 多选 ) 现代企业制度的主要形式有 :

A.个人业主制

B.合伙制企业

C.股份有限公司

D.有限责任公司

E.集体制企业

【试题难度】☆



【技巧点拨】此题属于记忆性题目，难度较小。

【中公答案】CD。解析：现代企业制度的典型形式是公司制，其主要形式有两种：有限责任公司和股份有限公司。故本题答案选 CD。

【考点拓展】企业文化

企业文化是在一定的条件下，企业生产经营和管理活动中所创造的具有该企业特色的精神财富和物质形态。它包括文化观念、价值观念、企业精神、道德规范、行为准则、历史传统、企业制度、文化环境、企业产品等。其中价值观是企业文化的核心。

### 第三节 文史科技知识

#### 【考点 1】田园诗——陶渊明

陶渊明（365~427），是东晋时期，同时也是整个魏晋南北朝时期最杰出的文学家。他 40 岁时出任彭泽县令，仅八十多天就不愿“为五斗米折腰”而弃官归隐，从此过着躬耕自资的田园生活。陶渊明归隐田园之后，参加农业劳动，接触劳动人民，他的作品大都反映了当时的田园生活，被后人称为田园诗。他开创的田园诗这种新的题材，在古典诗歌发展史上树立了一座里程碑。

【典型例题】

（单选）我国文学史上第一位田园诗人是：

A.屈原

B.陶渊明

C.王维

D.白居易

【试题难度】☆☆☆

【技巧点拨】此题属于记忆性题目，希望考生重点掌握文学史上的“第一”。

【中公答案】B。解析：陶渊明，字元亮，后改为潜，号“五柳先生”，私谥“靖节先生”（死后由朋友私下起的，并非朝廷颁布，故称私谥），浔阳柴桑（今九江市星子县）人，出身于破落仕宦家庭。大约生于东晋哀帝兴宁三年（365 年）。曾祖父陶侃，是东晋开国元勋，军功显著，官至大司马，都督八州军事，荆、江二州刺史、封长沙郡公。祖父陶茂、父亲陶逸都做过太守。曾任江州祭酒，建威参军，镇军参军，彭泽县令等，后弃官归隐。他是中国第一位田园诗人。后世称靖节先生，田园诗派第一人。有《陶渊明集》。被称为“千古隐逸之宗”。故本题答案为 B。

**【考点拓展】陶渊明“不为五斗米折腰”**

年轻时的陶渊明本有“大济于苍生”之志，可是，在国家濒临崩溃的动乱年月里，陶渊明的一腔抱负根本无法实现。加之他性格耿直，清明廉正，不愿卑躬屈膝攀附权贵，因而和污浊黑暗的现实社会发生了尖锐的矛盾，产生了格格不入的感情。在其做彭泽县令时，有一次，县里派督邮来了解情况。有人告诉陶渊明确说：那是上面派下来的人，应当穿戴整齐、恭恭敬敬地去迎接。陶渊明听后长长叹了一口气：“我不愿为了小小县令的五斗薪俸，就低声下气去向这些家伙献殷勤。”说完，就辞掉官职，回家去了。陶渊明当彭泽县令，不过八十多天。他这次弃职而去，便永远脱离了官场。

**【考点 2】隋唐的社会经济**

**1.开凿大运河**

为加强南北交通，巩固隋朝对全国的统治。公元 605 年，开始开凿大运河。

大运河以洛阳为中心，北至涿郡，南到余杭，从北到南分永济渠、通济渠、邗沟、江南河四段，沟通了海河、黄河、淮河、长江、钱塘江五大水系。大运河分段开凿，前后历时五年，全长两千余公里，是世界著名的伟大工程之一。

**2.租庸调制**

唐朝实行租庸调制。成年男子每年向官府缴纳一定的谷物，叫“租”；缴纳定量的绢和布，叫“调”；服徭役的期间内，不去服役的可以纳绢或布代役，叫“庸”。

**3.两税法**

天宝年间，土地买卖和兼并之风盛行，780 年，唐德宗接受宰相杨炎的建议，实行两税法。规定每户按资产和田亩交税，取消一切杂税、杂役；一年分夏季和秋季两次收税。

**【典型例题】**

( 单选 ) 唐代诗人皮日休有诗云：“尽道隋亡为此河，至今千里赖通波。”“此河”

指的是：

- A.黄河                      B.大运河                      C.淮河                      D.渭河

**【试题难度】☆☆☆**

**【技巧点拨】**此题属于应用题。需要考生熟悉隋朝历史，并对诗词有所涉猎。诗词与史实相结合的考察方式在近些年的考试中比较常见，日渐成为一种趋势。

【中公答案】B。解析：“尽道隋亡为此河，至今千里赖通波”出自皮日休的《汴河怀古二首》第二首。汴河，即通济渠，是隋唐大运河的首期工程。“此河”指的是大运河。故本题选B。

【考点拓展】隋朝大运河



### 【考点3】文艺复兴

#### 1.但丁（1265—1321）

意大利诗人，现代意大利语的奠基者，其代表作为《神曲》，他的作品首先以含蓄的手法批评和揭露中世纪宗教统治的腐败和愚蠢，被视为“文艺复兴的先驱”。

#### 2.彼特拉克（1304—1374）

彼特拉克是意大利诗人，近代诗歌的创始人，提出以“人的思想”代替“神的思想”，被称为“人文主义之父”。

#### 3.乔万尼·薄伽丘（1313—1375）

意大利文艺复兴运动的杰出代表，人文主义者。代表作《十日谈》批判宗教守旧思想，主张“幸福在人间”，被视为文艺复兴的宣言。

#### 4.达·芬奇（1452—1519）

意大利文艺复兴时期最负盛名的美术家、雕塑家，被称为“文艺复兴时期最完美的代表人物”。壁画《最后的晚餐》、祭坛画《岩间圣母》和肖像画《蒙娜丽莎》是他一生的三大杰作。

5.拉斐尔（1483—1520）

意大利画家，他的一系列**圣母画像**，和中世纪画家所画的同类题材不同，都以母性的温情和青春健美而体现了人文主义思想。其中最有名的是《带金莺的圣母》《草地上的圣母》《花园中的圣母》和《西斯廷圣母》等。

6.米开朗基罗（1475—1564）

意大利文艺复兴时期伟大的绘画家、雕塑家和建筑师，文艺复兴时期雕塑艺术最高峰的代表。1501 年，完成了举世闻名的《大卫》。

**【典型例题】**

（单选）被称为“人文主义之父”的是：

- A.但丁                      B.彼特拉克                      C.薄伽丘                      D.莎士比亚

**【试题难度】** ☆

**【技巧点拨】** 识记性题目，也需要考生重点记忆选项中人物的主要著作。

**【中公答案】** B。解析：彼特拉克被称为“人文主义之父”。故本题答案为 B。

**【考点拓展】** 文艺复兴前三杰

但丁、彼特拉克、薄伽丘是文艺复兴的先驱者，被称为“文艺复兴的三颗巨星”，也称为“文坛三杰”。

**【考点 4】中国古代的四大发明**

**（一）造纸术**

1.西汉先后出现絮纸和麻纤维纸。**甘肃天水放马滩出土的绘有地图的纸，是目前世界上所知最早的纸。**

2.东汉宦官蔡伦于 105 年改进造纸术，制造植物纤维纸。

**（二）印刷术**

1.隋唐已有雕版印刷的佛经、日历和诗，**现存世界上最早的雕版印刷品是 868 年我国印制的《金刚经》卷子。**

2.宋代雕版印刷业很发达，刻印的书，字体工整，装订精美。11世纪中叶，**北宋**  
**毕昇发明活字印刷术，比欧洲早400年。**

### (三) 指南针

- 1.**战国**时期发现磁石指南特性，发明“司南”。
- 2.**北宋**已会使用磁针指南，后来把磁针装在罗盘上，**制成指南针用于航海**。
- 3.南宋时指南针传到印度、阿拉伯、波斯等国，促进了各国航海事业发展，并为新航路的开辟和实现环球航行提供了重要条件。

### (四) 火药

- 1.唐朝时《真元妙道要略》一书最早提到了火药，**唐末火药开始用于军事**。
- 2.北宋时火药已广泛在军事上使用，东京设立“广备攻城作”，制造火药和火器；宋仁宗时成书的《武经总要》记载了许多火器的制作方法。
- 3.**南宋时发明了“突火枪”**，管形火器的出现，开创了人类作战史的新阶段。

英国哲学家弗兰西斯·培根指出，印刷术、火药、指南针“这三种发明已经在世界范围内把事物的全部面貌和情况都改变了：第一种是在学术方面，第二种是在战事方面，第三种是在航行方面；并由此又引起难以数计的变化来：竟至任何教派、任何帝国、任何星辰对人类事务的影响都无过于这些机械性的发现了。”

#### 【典型例题】

(多选) 我国古代的四大发明：

- A.指南针                      B.火药                      C.造纸术                      D.印刷术

【试题难度】☆

【技巧点拨】此题属于识记性题目，比较容易，同时需要考生掌握“四大发明”产生的朝代以及相关人物。

【中公答案】ABCD。解析：四大发明是关于中国科学技术史的一种观点，是指中国古代对世界具有很大影响的四种发明，是中国古代劳动人民的重要创造，是指造纸术、指南针、火药及印刷术。故本题选ABCD。

**【考点拓展】四象**

中国古代将天空分成东、北、西、南、中区域，称东方为苍龙象，北方为玄武象，西方为白虎象，南方为朱雀象，是为“四象”。

**【考点 5】石墨烯**

石墨烯是一种由碳原子组成六角型呈蜂巢晶格的二维碳纳米材料。实际上石墨烯本来就存在于自然界，只是难以剥离出单层结构。

**1. 石墨烯的发现**

海姆和诺沃肖洛夫于 2004 年制备出石墨烯，由此获得 2010 年诺贝尔物理学奖。

**2. 石墨烯的性质**

(1) **厚度**：石墨烯是目前世界上最薄的材料。

(2) **导热性**：作为热导体，石墨烯比目前任何其他材料的导热效果都好。

(3) **强度**：石墨烯是已知强度最高的材料之一，同时还具有很好的韧性，且可以弯曲。

(4) **光学特性**：石墨烯具有非常良好的光学特性，其透光率大约是 97.7%。

**3. 石墨烯的应用**

石墨烯在传感器、晶体管、柔性显示屏、新能源电池、海水淡化、储氢材料、航空航天、感光元件、复合材料生物等领域都广泛应用。

**【典型例题】**

( 单选 ) 以下关于石墨烯材料，说法正确的是：

- A. 石墨烯是目前世界上最薄的材料
- B. 石墨烯的导热效果虽然不如硅材料，但其坚固性比目前任何其他材料都好
- C. 石墨烯是由海姆和诺沃肖洛夫制备出的，并使其于当年获得诺贝尔物理学奖
- D. 石墨烯为粒子物理学的研究提供了很好的平台

**【试题难度】☆☆☆**

**【技巧点拨】**此题虽属于记忆性题目，但由于距离生活较远，所以相对较为抽象。建议考生在复习时抓住重点进行重复记忆。

【中公答案】A。解析：作为热导体，石墨烯比目前任何其他材料的导热效果都好。因此B项错误。海姆和诺沃肖洛夫于2004年制备出石墨烯，由此获得2010年诺贝尔物理学奖。因此C项错误。石墨烯的出现为相对论量子力学的研究提供了很好的平台，而在这之前科学家们只能在高能宇宙射线或高能加速器中对该理论进行验证。因此D项错误。故本题答案选A。

【考点拓展】几种常见物质的主要构成材料

汽车轮胎——合成橡胶；涤纶衣服——合成纤维；纯棉线衣——天然纤维

## 第四节 法律知识

### 【考点1】中国法的正式渊源

法的正式渊源主要指以规范性法律文件形式表现出来的成文法，如立法机关或立法主体制定的宪法、法律、法规、规章和条约等。

- 1.宪法：宪法由**国家最高权力机关**经由特殊程序制定和修改的。
  - 2.法律：法律是由**全国人大及其常委会**制定、修改、补充、废止的规范性法律文件。全国人民代表大会制定和修改刑事、民事、国家机构的和其他的基本法律；全国人民代表大会常务委员会制定和修改除应当由全国人民代表大会制定的法律以外的其他法律。
  - 3.行政法规：行政法规由我国最高行政机关即**国务院**依照法定的权限和程序制定。
  - 4.地方性法规：制定主体为**省、自治区、直辖市的人民代表大会及其常务委员会**，以及设区的市、自治州的人民代表大会及其常务委员会。
  - 5.自治法规：**民族自治地方的人民代表大会**有权依照当地民族的政治、经济和文化的特点，制定自治条例和单行条例。
  - 6.规章：规章包括部门规章和地方人民政府规章。**国务院各部、委员会、中国人民银行、审计署和具有行政管理职能的直属机构**制定的称为部门规章；**省、自治区、直辖市和设区的市、自治州的人民政府**制定的，称为地方政府规章。
- 另外，经济特区法规、国际条约和国际惯例也是我国法的正式渊源。

【典型例题】

( 单选 ) 下列国家机关中\_\_\_\_\_可以制定基本法律。

- A.全国人大      B.最高法院      C.国务院      D.全国政协

【试题难度】☆☆☆

【技巧点拨】此题属识记性题目，考查基本法律的制定主体。

【中公答案】A。解析：《中华人民共和国立法法》第七条规定，“全国人民代表大会制定和修改刑事、民事、国家机构的和其他的基本法律。”故本题答案选 A。

【考点拓展】法的效力层次

1.宪法效力最高，一切法律、行政法规、地方性法规、自治条例和单行条例、规章都不得同宪法相抵触。

2.法律效力次之，效力高于行政法规、地方性法规、规章。

3.行政法规效力高于地方性法规、规章。

## 【考点 2】民族区域自治制度

### 1.概念

民族区域自治制度，是指在国家统一领导下，各少数民族聚居的地方实行区域自治，设立自治机关，行使自治权的制度。我国民族自治地方包括自治区、自治州、自治县。

### 2.自治机关

(1) 自治机关是自治区、自治州、自治县的人民代表大会和人民政府。

(2) 自治区主席、自治州州长、自治县县长由实行区域自治的民族的公民担任。

(3) 民族自治地方的人大常委会中应当有实行区域自治的民族的公民担任主任或者副主任。

### 3.自治权力

(1) 立法权：制定自治条例和单行条例；

(2) 变通权：上级国家机关的决议、决定、命令和指示，如有不适合民族自治地方实际情况的，自治机关可以报经该上级国家机关批准，变通执行或者停止执行；

(3) 治安权：民族自治地方的自治机关经国务院批准，可以组织本地方维护社会治安的公安部队。



**【典型例题】**

(多选) 为贯彻民族区域自治制度, 有关部门决定在某省设立某民族自治县。依照我国法律规定, 以下哪些人员必须由实行区域自治的民族公民担任:

- A. 自治县人民代表大会常务委员会的主任或副主任
- B. 自治县党委书记
- C. 自治县人民法院院长
- D. 自治县县长
- E. 自治县人民检察院检察长

**【试题难度】**☆☆

**【技巧点拨】**此题为识记性题目, 考察民族自治地方的领导担任问题。

**【中公答案】**AD。解析: 根据《中华人民共和国民族区域自治法》, 自治区、自治州、自治县的人民代表大会常务委员会中应当有实行区域自治的民族的公民担任主任或者副主任; 自治区主席、自治州州长、自治县县长由实行区域自治的民族的公民担任。故本题答案选AD。

**【考点拓展】**特别行政区制度

特别行政区, 是指在我国主权所及的领土范围内, 根据宪法和法律的规定, 对某一地区实行不同于一般行政区域的政治、经济和法律制度, 该地区不拥有独立的主权, 但却有特殊的法律地位。

特区政府享有高度自治权。主要有行政管理权、立法权、独立的司法权和终审权, 但是不拥有外交权和防务权。

**【考点3】正当防卫**

## 1. 概念

《刑法》第 20 条第 1 款规定：“为了使国家、公共利益、本人或者他人的人身、财产和其他权利免受正在进行的不法侵害，而采取的制止不法侵害的行为，对不法侵害人造成损害的，属于正当防卫，不负刑事责任。”

### 2.一般正当防卫构成条件

(1) 防卫起因：存在**现实**的不法侵害，包括犯罪与违法。

(2) 防卫时间：防卫时，不法侵害**已经开始尚未结束**。不得事前防卫或者事后防卫。

(3) 防卫意图：具有防卫的意识。某些行为，从形式上看似符合正当防卫的客观条件，但主观上不具备防卫意图。

(4) 防卫对象：**针对不法侵害人本人**实行防卫。

(5) 防卫限度：没有明显超过必要限度，并造成重大损失。

《刑法》第 20 条第 2 款规定：“正当防卫明显超过必要限度造成重大损害的，应当负刑事责任，但是应当减轻或者免除处罚。”

### 3.特殊正当防卫——无限防卫权

《刑法》第 20 条第 3 款规定：“对正在进行**行凶、杀人、抢劫、强奸、绑架以及其他严重危及人身安全的暴力犯罪**，采取防卫行为，造成不法侵害人伤亡的，不属于防卫过当，不负刑事责任。”

#### 【典型例题】

(单选) 某甲听到路边树林里有呼救声，遂抄起一根木棍赶去，见一男子正对一妇女进行强奸，便用木棍向该男子头上打去。妇女被救，该男子却因甲打击过重而死亡，某甲的行为应认定为：

A. 防卫过当，应负刑事责任

B. 正当防卫，不负刑事责任

C. 防卫过当，但应从轻处罚

D. 防卫过当，但应减轻处罚

【试题难度】☆☆☆☆

【技巧点拨】此题考察无限防卫权，考查难度较大，需要考生掌握无限防卫权的含义和适用罪名。

【中公答案】B。解析：为了使国家、公共利益、本人或者他人的人身、财产和其他权利免受正在进行的不法侵害，而采取的制止不法侵害的行为，对不法侵害人造成损害的，属于正当防卫，不负刑事责任。对正在进行行凶、杀人、抢劫、强奸、绑架以及其他严重危及人身安全的暴力犯罪，采取防卫行为，造成不法侵害人伤亡的，不属于防卫过当，不负刑事责任。本题某甲是为了施救妇女而制止不法侵害，属于正当防卫。故本题答案选B。

#### 【考点拓展】紧急避险

紧急避险，是指为了使国家、公共利益、本人或者他人的人身和其他权利免受正在发生的危险，不得已而采取的损害另一较小的合法权益，以保护较大的合法权益的行为。紧急避险行为造成损害的不负刑事责任。

### 【考点4】主刑

主刑是指只能独立适用的主要刑罚方法。主刑只能独立适用，不能附加适用。我国的主刑有五种，**管制、拘役、有期徒刑、无期徒刑、死刑**。

#### 1.管制

管制，是指对犯罪分子不实行关押，依法实行社区矫正，限制其一定自由的刑罚方法。被判管制的罪犯可以自谋生计，在劳动中与普通公民**同工同酬**。判处管制，可以根据犯罪情况，同时禁止犯罪分子在执行期间从事特定活动，进入特定区域、场所，接触特定的人。

#### 2.拘役

拘役，是剥夺犯罪分子短期人身自由，就近实行强制劳动改造的刑罚方法。拘役是一种短期自由刑。拘役的期限为**1个月以上6个月以下**。数罪并罚时，最高不得超过1年。判决以前先行羁押的，羁押1日折抵刑期1日。

#### 3.有期徒刑

有期徒刑，是剥夺犯罪分子一定期限的人身自由，实行强制劳动改造的刑罚方法。

有期徒刑的期限为**6个月以上15年以下**。判决执行以前先行羁押的，羁押1日折抵刑期1日。

#### 4.无期徒刑

无期徒刑是剥夺犯罪分子终身自由，并强制劳动改造的刑罚方法。被判无期徒刑的犯罪分子，在监狱或者其他场所执行；凡是有劳动能力的，都应当参加劳动，接受教育和改造。

### 5.死刑

死刑是剥夺犯罪分子生命的刑罚方法。死刑是刑罚体系中最严厉的惩罚手段。

犯罪的时候不满 18 周岁的人和审判的时候怀孕的妇女，不适用死刑；审判的时候已满七十五周岁的人，不适用死刑，但以特别残忍手段致人死亡的除外。

#### 【典型例题】

( 多选 ) 以下选项属于我国刑法主刑的有 :

- A. 罚款
- B. 管制
- C. 拘役
- D. 剥夺政治权利
- E. 没收财产

【试题难度】☆☆☆

【技巧点拨】此题为识记性题目，考察主刑的种类。

【中公答案】BC。解析：《中华人民共和国刑法》规定刑罚分为主刑和附加刑。主刑，是对犯罪分子适用的主要刑罚，它只能独立使用，不能相互附加适用。主刑分为以下五种：管制、拘役、有期徒刑、无期徒刑和死刑。A 罚款属于行政处罚。D 剥夺政治权利、E 没收财产属于附加刑。故本题选择 BC。

【考点拓展】附加刑

附加刑，是补充主刑适用的刑罚方法。附加刑既可以附加于主刑适用，又可以独立适用。附加刑有四种：罚金、剥夺政治权利、没收财产、驱逐出境。

### 【考点 5】产品责任

#### 1. 产品责任的概念

产品责任，是指产品生产者、销售者因生产、销售缺陷产品造成他人的损害，应当承担损害赔偿责任的特殊侵权责任。

#### 2. 产品责任的承担

产品责任由产品的生产者或销售者承担。产品缺陷致人损害，受害人可以向产品的生产者要求赔偿，也可以向产品的销售者要求赔偿。如果产品的运输者、仓储者对产品质量不合格负有责任的，产品生产者、销售者在向受害者赔偿后有权向运输者、仓储者要求赔偿。

产品责任适用于无过错责任原则。即不以当事人主观上存在过错为条件，只要受害人能够证明损害事实是由该产品缺陷引起的，生产者和销售者就应当承担赔偿责任。

### 【典型例题】

(多选)孙女士于2004年5月1日从某商场购买一套化妆品，使用后皮肤红肿出疹，久医不愈花费巨大，2005年孙女士多次交涉无果，将商场诉讼至法院，下列说法正确的是：

- A.孙女士可以要求商场承担违约责任
- B.孙女士可以要求商场承担侵权责任
- C.孙女士可以要求商场承担缔约过失责任
- D.孙女士可以要求撤销合同
- E.孙女士只能就侵权责任和违约责任择一请求

【试题难度】☆☆☆☆

【技巧点拨】此题考察产品侵权责任，考生需掌握产品责任的承担主体以及侵权责任与违约责任竞合的情况。

【中公答案】ABE。解析：不适当履行是实际违约的一种，不适当履行包括瑕疵给付和加害给付。加害给付是指不适当履行造成对方履行利益之外的其他损失。本题中，孙女士因在商场购买的化妆品导致皮肤受损，商场构成不适当履行，且构成侵权行为，也即成立加害给付。其中，销售者（商场）是违约责任、侵权责任主体，但不是缔约过失责任主体，因为缔约过失责任的前提是合同不成立或者无效，本题无此前提。本题题干未出现构成《合同法》第54条可撤销合同的情形。故C、D项不选。上

面分析违约、侵权责任的构成，但就其承担而言，《合同法》第 122 条规定，因当事人一方的违约行为，侵害对方人身、财产权益的，受损害方有权选择依照本法要求其承担违约责任或者依照其他法律要求其承担侵权责任。这一规定确立的选择机制决定了孙女士可以要求商场承担违约责任或者侵权责任。故本题答案选 ABE。

#### 【考点拓展】违约责任与侵权责任的竞合

侵权责任与违约责任的竞合，是指某一违反民事义务的行为，同时具备侵权责任和违约责任的构成要件，从而导致侵权责任与违约责任并存和相互冲突的现象。

因当事人一方的违约行为，侵害对方人身、财产权益的，受损害方有权选择依照本法要求其承担违约责任或者依照其他法律要求其承担侵权责任。可见，二者竞合的情况下，受损害方只能任择其一，而不能同时行使两个请求权。

#### 【考点 6】试用期的期限

《劳动合同法》第 19 条规定了试用期的期限：（一）劳动合同期限 3 个月以上不满 1 年的，试用期不得超过 1 个月；（二）劳动合同期限 1 年以上不满 3 年的，试用期不得超过 2 个月；（三）3 年以上固定期限和无固定期限的劳动合同，试用期不得超过 6 个月。

上述 1 年以上包括 1 年，3 年以上包括 3 年。

同一用人单位与同一劳动者只能约定一次试用期。

以完成一定工作任务为期限的劳动合同或者劳动合同期限不满 3 个月的，不得约定试用期。

试用期包含在劳动合同期限内，劳动合同仅约定试用期的，试用期不成立，该期限为劳动合同期限。

## 【典型例题】

( 单选 ) 根据《中华人民共和国劳动法》的规定，劳动合同可以约定试用期，但试用期最长不得超过：

- A.3 个月                      B.6 个月                      C.1 年                      D.2 年

【试题难度】☆☆☆

【技巧点拨】此题为识记性题目，考察试用期的期限。

【中公答案】B。解析：按照《劳动法》的规定，劳动合同中可以约定不超过六个月的试用期。劳动合同期限在六个月以下的，试用期不得超过十五日；劳动合同期限在六个月以上一年以下的，试用期不得超过三十日；劳动合同期限在一年以上两年以下的，试用期不得超过六十日。试用期包括在劳动合同期限内。试用期适用于初次就业或再次就业时改变工作岗位或工种的劳动者，用人单位对工作岗位没有发生变化的同一劳动者只能试用一次。故本题答案选 B。

【考点拓展】试用期工资

劳动合同法规定，劳动者在试用期的工资不得低于本单位相同岗位最低档工资或者劳动合同约定工资的 80%，并不得低于用人单位所在地的最低工资标准。

## 第二章 岗位能力

### 第一节 数量关系

#### 一、巧设特值解题

特值思想的核心：在计算复杂时，用特值代替未知量来计算

特值思想的常见应用：所求为乘除关系，对应量未知

1. 某工厂新进一批钢材，如果全部供给第一车间，可以用 30 天，全部供给第二车间，可以用 15 天。现在给第一、二和三车间供给两天的量，恰好用去全部钢材的四分之一，剩下的钢材全部用来供给第三车间，还可以用（ ）。

- A. 40 天                      B. 30 天                      C. 25 天                      D. 5 天

1. 【答案】B。解析：设全部钢材有 30 份，则第一车间每天用 1 份，第二车间每天用 2 份，第三车间每天用  $[30 \div 4 - (1+2) \times 2] \div 2 = 0.75$  份，故剩下的钢材还够第三车间用  $30 \times \frac{3}{4} \div 0.75 = 30$  天。

2. 有两种蚊香，长短一样，第一种 4 小时燃完，第二种 3 小时燃完。如果同时点燃两种蚊香，要使一种蚊香的剩余长度是另一种蚊香剩余长度的 3 倍，则需要同时点燃蚊香后多少小时？

- A.  $\frac{8}{3}$                       B.  $\frac{12}{5}$                       C.  $\frac{16}{7}$                       D. 2

2. 【答案】A。解析：由题意可设蚊香的长度为 12，所求时间为 x，则第一种蚊香每小时燃烧 3，第二种蚊香每小时燃烧 4，因此第一种比第二种蚊香燃烧慢。因此可列方程： $12 - 3x = 3(12 - 4x)$ ，解得  $x = \frac{8}{3}$ 。

3. 某钢铁厂生产一种特种钢材，由于原材料价格上涨，今年这种特种钢材的成本比去年上升了 20%。为了推销该种钢材，钢铁厂仍然以去年的价格出售，这种钢材每吨



的盈利下降 40%，不过销售量比去年增加了 80%，那么今年生产该种钢材的总盈利比去年增加了多少？

- A.4%                      B.8%                      C.20%                      D.54%

3.【答案】B。解析：根据总盈利=每吨的盈利×销售量，可设去年这种钢材每吨盈利为 1，则今年为 0.6。令去年的销售量为 1，则今年销售量为 1.8，因此今年的盈利比去年增加了  $\frac{0.6 \times 1.8 - 1 \times 1}{1 \times 1} \times 100\% = 8\%$ ，选择 B。

## 二、利用比例思想快速解题

比例思想的核心：份数思想，用份数代替实际量来计算

比例思想的常见应用：

- (1) 题干中给出比例关系，并给出与前面比例相关的实际值
- (2) 题干中包含  $M=A \times B$  关系，且存在不变量（正反比）

1.吴先生开车从甲地去乙地开会，去时每小时行 80 千米。会议结束后，他急着返回处理其他事务，返回时每小时行 100 千米，吴先生往返开车共用了 4.5 小时，那么甲乙两地的距离是多少千米？

- A.180                      B.200                      C.220                      D.240

1.【答案】B。解析：往返路程一定，则所用时间之比等于速度的反比， $80:100=4:5$ ，则时间之比为  $5:4$ ，返回所用时间为  $4.5 \div (4+5) \times 4 = 2$  小时，所以甲乙两地的距离是  $100 \times 2 = 200$  千米。

2.某企业原有职工 110 人，其中技术人员是非技术人员的 10 倍，今年招聘后，两类人员的人数之比未变，且现有职工中技术人员比非技术人员多 153 人。问今年新招非技术人员多少人？

- A.7                          B.8                          C.9                          D.10

2.【答案】A。解析：原有非技术人员：原有技术人员=1：10，由题意知，现有技术人员比非技术人员多 9 份，多 153 人，则现有非技术人员  $153 \div 9 \times 1 = 17$  人，故今年新招非技术人员  $17 - 10 = 7$  人。

3.某鞋业公司的旅游鞋加工车间要完成一出口订单，如果每天加工 50 双，要比原计划晚 3 天完成，如果每天加工 60 双，则要比原计划提前 2 天完成，这一订单共需要加工多少双旅游鞋？

- A.1200                      B.1300                      C.1400                      D.1500

3.【答案】D。解析：前后的效率之比=50：60，则工作时间之比=6：5，时间相差 1 份，1 份=3+2=5 天，则效率为 50 时，所需时间为 6 份=5×6=30 天，则总量=30×50=1500 双。

### 三、行程问题

基本公式：路程=速度×时间

基本方法：特值、方程

1.某人驾车以每小时 60 公里的速度行驶一段路程后，再以每小时 40 公里的速度原路返回。请问他在上述往返行程中的平均时速是多少？

- A.45                              B.46                              C.48                              D.50

1.【答案】C。解析：设往返路程为 240 公里，行驶时间  $t = \frac{120}{60} + \frac{120}{40} = 5$  小时。平

均时速  $v = \frac{240}{5} = 48$  公里/小时。

2.从 A 地到 B 地只有一条路。甲骑自行车，乙步行从 A 到 B，丙从 B 骑摩托车接乙。三人同时出发。甲骑自行车 16 千米/小时，丙 30 千米/小时，甲、丙两人经过 60 分钟相遇，再过 20 分钟丙接到乙。乙步行了（ ）千米。

- A.5                                      B.6                                      C.10                                      D.12

2.【答案】B。解析：A、B 两地的路程为  $(16+30) \times 60 \div 60 = 46$  千米，则乙步行了  $46 - 30 \times (60+20) \div 60 = 6$  千米。

3.“六一”儿童节，某海洋公园到检票时间有许多家长和儿童在门口等候，假定每分钟到的游客人数一样多。从开始检票到等候的队伍消失，若同时开 3 个检票口需 40 分钟，若同时开 5 个检票口需 20 分钟，那么同时开 6 个检票口需（ ）分钟。

- A.10                                      B.12                                      C.15                                      D.16

3.【答案】D。解析：设每个检票口每分钟通过的人数为1，则每分钟新增人数为 $(3 \times 40 - 5 \times 20) \div (40 - 20) = 1$ ，则原有人数为 $3 \times 40 - 40 \times 1 = 80$ 。若开6个检票口，需要 $80 \div (6 \times 1 - 1) = 16$ 分钟，选择D。

#### 四、多者合作问题

基本公式：工作量=工作时间×工作效率

基本方法：特值、比例

1.一项工程，甲一人做完需30天，甲、乙合作完成需18天，乙、丙合作完成需要15天。甲、乙、丙三人共同完成该工程需：

A.8天                      B.9天                      C.10天                      D.12天

1.【答案】C。解析：设工作量为30，则甲的工作效率为1，乙、丙效率和为2，三人效率和是 $1+2=3$ 。故三人共同完成工程需要 $30 \div 3 = 10$ 天。

2.甲、乙二人单独去做一件工作，如果甲工作效率提高20%，则可提前2天完工；如果乙工作效率降低25%，则要延后2天完工。若二人合作几天能完成？

A.3天                      B.4天                      C.5天                      D.6天

2.【答案】B。解析：甲前后效率比为1:1.2，时间比为效率的反比6:5。甲改变效率可提前2天完成，则原本用时12天。乙前后效率比为1:0.75，时间比为3:4，

则乙原本6天可完成。二人合作效率为 $\frac{1}{12} + \frac{1}{6} = \frac{1}{4}$ ，需要4天。

3.一件工作甲先做6小时，乙接着做12小时可以完成。甲先做8小时，乙接着做6小时也可以完成。如果甲先做3小时后，再由乙接着做，还需要多少小时完成？

A.16                      B.18                      C.21                      D.24

3.【答案】C。解析：方法一，甲做6小时的量+乙做12小时的量=甲做8小时的量+乙做6小时的量，则甲做2小时的量=乙做6小时的量，可设乙的效率为1，则甲的效率为3，则总工作量为 $6 \times 3 + 1 \times 12 = 30$ ，甲做3小时后乙接着做还需要 $(30 - 3 \times 3) \div 1 = 21$ 小时。

方法二，比较可知甲做 $8 - 6 = 2$ 个小时的工作量，乙要做 $12 - 6 = 6$ 小时，即甲1小时的工作量相当于乙3小时的工作量，则这项工作乙一个人要花 $6 \times 3 + 12 = 18 + 12 = 30$ 小时完成；甲先做3小时后，剩下的工作量乙还需要做 $30 - 3 \times 3 = 30 - 9 = 21$ 小时。

## 五、数字推理

常考数列：等差数列，和数列，倍数数列，积数列，多次方数列，分式数列，组合数列，新题型等

解题原则：数字敏感和数列敏感

1. 5, 7, 10, 15, 22, ( )

A.28                                      B.30                                      C.33                                      D.35

1. 【答案】C。解析：相邻两项之差依次是 2、3、5、7、(11)，为连续质数，应填入  $22+11= (33)$ 。

2. 61, 60, 40, 41, 23, ( )

A.22                                      B.24                                      C.26                                      D.28

2. 【答案】C。解析：相邻两项之和依次是 121、100、81、64、(49)，依次为 11、10、9、8、(7) 的平方，应填入  $49-23= (26)$ 。

3. -4, 0, 24, 80, ( )

A.120                                      B.158                                      C.132                                      D.180

3. 【答案】D。解析：可将数列依次改写成  $(-4) \times 1$ 、 $0 \times 3$ 、 $4 \times 6$ 、 $8 \times 10$ 、 $(12 \times 15)$ ，第一个乘数是公差为 4 的等差数列，第二个乘数为二级等差数列，作差依次得到 2、3、4、(5)，所以  $12 \times 15= (180)$ 。

4. 3, 2, 4, 4, 12, 36, ( )

A.264

B.396

C.480

D.600

4.【答案】B。解析：(第一项-1)×第二项=第三项， $(12-1) \times 36 = (396)$ 。

5. 1, 32, 81, 64, 25, ( )

A.4

B.6

C.8

D.10

5.【答案】B。解析：多次方数列。数列各项依次可转化为 $1^6$ 、 $2^5$ 、 $3^4$ 、 $4^3$ 、 $5^2$ 、 $(6^1)$ 。

6. 1, 3, 9, 15, 25, ( ), 49, 63, 81

A.34

B.37

C.36

D.35

6.【答案】D。解析：间隔组合数列。奇数项1、9、25、49、81分别是1、3、5、7、9的平方；偶数项3、15、(35)、63分别是2、4、6、8的平方减1。

7. 1, 2, 9, 121, ( )

A.210

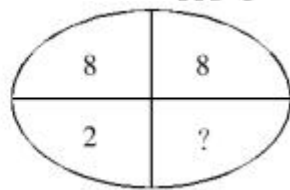
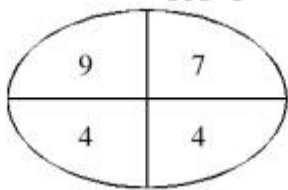
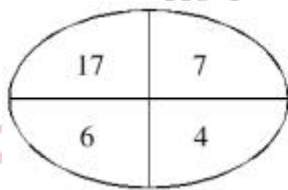
B.16900

C.289

D.25600

7.【答案】B。解析：前两项和的平方等于第三项， $9=(1+2)^2$ ， $121=(9+2)^2$ ， $( )=(121+9)^2=16900$ ，故答案选B。

8.



A.4

B.5

C.9

D.8

8.【答案】D。解析：每个图形中，上面两个数的和等于下面两个数的乘积。 $8+8=2 \times (8)$ 。

## 第二节 资料分析

### 一、必考概念之增长

$$\text{增长率} = \frac{\text{增长量}}{\text{基期值}} \times 100\% = \frac{\text{现期值} - \text{基期值}}{\text{基期值}} \times 100\%$$

(增长率的求解与比较考查频率均较高, 根据不同的已知条件列式是关键。)

$$\text{基期值} = \frac{\text{现期值}}{1 + \text{增长率}}$$

(除基期值的求解与比较外, 求基期值的和(差)也有考查。)

$$\text{增长量} = \text{现期值} \times \frac{\text{增长率}}{1 + \text{增长率}}$$

(增长量的求解需注意观察数字特征。)

1. 2006 年至 2011 年全年我国农村居民人均纯收入分别为 3587 元、4140 元、4761 元、5153 元、5919 元、6977 元; 城镇居民人均可支配收入分别为 11759 元、13786 元、15781 元、17175 元、19109 元、21810 元。

问题: 2011 年我国城镇居民人均可支配收入比 2008 年大约增加了:

- A.18%      B.38%      C.58%      D.85%

1. 【答案】B。解析: 2008 年我国城镇居民人均可支配收入为 15781 元, 2011 年为 21810 元, 比 2008 年增加了  $(21810 - 15781) \div 15781 = 6029 \div 15781 \approx 6029 \div 15800 = 3X\%$ , 选 B。

2. 2011 年广告收入 89.38 亿元, 占总创收的 46.32%。有线网络收入 53.18 亿元, 占总创收的 27.55%。其他创收收入 50.42 亿元, 占总创收比重达 26.13%, 同比增速达 51.12%。

问题: 2010 年广电产业其他创收收入约为多少亿元?

- A.17      B.33      C.50      D.68

2. 【答案】B。解析: 2010 年广电产业其他创收收入为  $50.42 \div (1 + 51.12\%) \approx 50.42 \div 1.5 = 3X$ , 选择 B。

3. 2012年,某省规模以上工业增加值10875亿元,比上年增长7.1%,月度增速从1-2月的2.9%回升到10-12月的10%以上。大型、中型和小微型企业增加值分别为3074、3217和4584亿元,比上年分别增长8.2%、6.8%和6.7%。

问题:与2011年相比,2012年该省规模以上工业增加值约增加了多少亿元?

A.600 B.720 C.840 D.960

3.【答案】B。解析:2012年该省规模以上工业增加值10875亿元,比上年增长7.1%,

则所求为  $\frac{10875}{1-7.1\%} \times 7.1\% \approx 10875 \times \frac{1}{14} \left(1 - \frac{1}{14}\right) \frac{10875}{15} \approx 725$  亿元,最接近的是B。

## 二、必考概念之比重

比重  $\frac{\text{部分值}}{\text{整体值}} \times 100\%$

(比重的求解常会考查三者之和的占比,比重比较、基本公式变形的运用需重点关注。)

判断比重变化:

部分增长率 > 整体增长率, 现期比重比基期比重大, 即比重上升;

部分增长率 < 整体增长率, 现期比重比基期比重小, 即比重下降;

部分增长率 = 整体增长率, 现期比重与基期比重相等, 即比重不变。

(根据增长率判断比重变化的题目考查频率较高,考法灵活多变。)

计算比重变化: 现期比重  $\frac{\text{部分增长率} - \text{整体增长率}}{1 - \text{部分增长率}}$

(注意观察选项与(部分增长率-整体增长率)的大小关系可快速选出答案。)

1. 2014年,全国汽车产销分别为2372万辆和2349万辆,同比增长7.3%和6.9%。汽车销量排名前十位的企业集团销量合计为2107.7万辆,比上年同期增长8.9%,高于全行业增速2个百分点。

问题:2014年汽车销量排名前十位的企业集团销量占汽车销售总量的:

A.89.7% B.88.9% C.73.4% D.67.5%

1.【答案】A。解析:2014年全国汽车销售量为2349万辆,汽车销量排名前十位的销量合计为2107.7万辆,故其所占比例为  $\frac{2107.7}{2349} \frac{2107.7}{2350} \approx 89.X\%$ ,因此答案选A。

2.2011 年,我国规模以上电子信息制造业主营业务成本占主营业务收入的比重达到 88.7%,比 2010 年提高 0.6 个百分点。行业中亏损企业 2497 个,同比增长 36.7%,企业亏损面达 16.6%;亏损企业亏损额同比增长 52.9%。

问题:2011 年,我国规模以上电子信息制造企业数量约为多少万家?

- A.1                      B.1.5                      C.2                      D.2.5

2.【答案】B。解析:所求为  $2497 \div 16.6\% \approx 2500 \div \frac{1}{6} = 2500 \times 6 = 15000$  家 = 1.5 万家,

选择 B 项。

3.

表 2010 年人民法院审理婚姻家庭、继承一审案件收结案情况

项目	收案		结案(件)			
	数量(件)	增长率(%)	合计	调解	判决	其他
合计	1423180	3.15	1428340	698900	387185	342255
婚姻家庭	1374136	2.47	1379463	673749	373883	331831
离婚	1164521	1.92	1168810	567374	321316	280120
赡养纠纷	26648	-7.74	26704	11237	6838	8629
抚养、扶养关系纠纷	50499	2.65	50547	31082	9584	9881
抚养费纠纷	24020	-6.27	24269	11502	6902	5865
其他	108448	14.47	109133	52554	29243	27336
继承	49044	26.85	48877	25151	13302	10424
法定继承	28439	25.45	28285	15935	6861	5489
遗嘱继承	4054	21.38	4076	1790	1439	847
其他	16551	30.81	16516	7426	5002	4088

问题:以下案件类型中,2010 年收案数占当年婚姻家庭类案件总收案数比重比上年有所提升的是:

- A.离婚类案件                      B.赡养纠纷类案件  
C.抚养、扶养关系纠纷案件                      D.抚养费纠纷案件

3.【答案】C。解析:求某案件类型占总收案数比重较上年提升,只需找出分量增长率高于总量增长率的案件类型即可,2010 年婚姻家庭类案件总收案数的增长率为 2.47%,只有 C 项增长率 2.65% > 2.47%,满足题意。







A.1 : 0.346

B.6 : 1

C.1 : 2

D.2 : 3

2. 【答案】C。解析：根据材料可知，2016年年末全国艺术表演团体平均从业人员数为  $\frac{33.27 \times 10^4}{12301}$ ，各级文化部门所属艺术表演团体的为  $\frac{11.52 \times 10^4}{2031}$ ，则所求为  $\frac{33.27 \times 10^4}{12301} \div \frac{11.52 \times 10^4}{2031} = \frac{33.27}{11.52} \times \frac{2031}{12301} \approx \frac{34 \times 2000}{12 \times 12000} \approx 0.47 \approx \frac{1}{2}$ ，故本题选 C。

## 五、必会技巧之观察（同位）比较法

根据列式特点，利用分数性质比较，多用于比较类题目中。

1. 我国 2013 年全年研究生招生 61 万人，在学研究生 179 万人，毕业生 51 万人。普通本专科招生 700 万人，在校生 2468 万人，毕业生 639 万人。中等职业教育招生 698 万人，在校生 1960 万人，毕业生 678 万人。普通高中招生 823 万人，在校生 2436 万人，毕业生 799 万人。

问题：2013 年，毕业生与招生人数之比最低的是：

A. 研究生

B. 普通本专科

C. 中等职业教育

D. 普通高中

1. 【答案】A。解析：2013 年研究生毕业生与招生人数之比为  $\frac{51}{61} < 90\%$ ，普通本专科为  $\frac{639}{700} > 90\%$ ，中等职业教育为  $\frac{678}{698} > 90\%$ ，普通高中为  $\frac{799}{823} > 90\%$ ，选 A。

2.

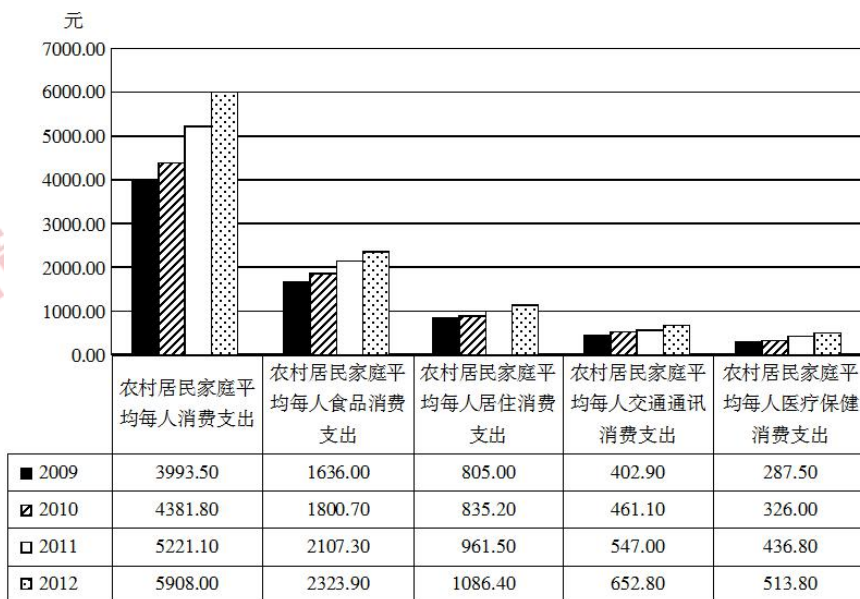


图 2009~2012 年中国农村居民家庭人均消费支出

问题：2010~2012 年，同比增长最快的是（ ）

- A.2012 年交通通讯消费支出
- B.2011 年医疗保健消费支出
- C.2011 年交通通讯消费支出
- D.2011 年居住消费支出

2. 【答案】B。解析：由材料可知，2012 年交通通讯消费支出同比增速为

$$\frac{652.8}{547} - 1 = \frac{105.8}{547} = 19.3\%$$

2011 年医疗保健消费支出同比增速为  $\frac{436.8}{326} - 1 = \frac{110.8}{326} = 33.9\%$ ，

2011 年交通通讯消费支出同比增速为  $\frac{547}{461.1} - 1 = \frac{85.9}{461.1} = 18.6\%$ ，2011 年居住消费支出同

比增速为  $\frac{961.5}{835.2} - 1 = \frac{126.3}{835.2} = 15.1\%$ ，比较可知，答案选 B。

3.

表 重庆五大功能区 2014 年 1 季度产业增加值情况统计表



## 六、基础统计知识

某班中六名学员《线性代数》课程的成绩分别是：73 分，77 分，74 分，75 分，64 分，74 分

问题①：这六名学员《线性代数》课程成绩的中位数是（ ）

- A.72.85 分                      B.75 分                      C.74 分                      D.73 分

①【答案】C。解析：把数字从小到大排列 64、73、74、74、75、77 中位数是中间两个数的平均值为 74，选择 C 选项。

问题②：这六名学员《线性代数》课程成绩的平均数是（ ）

- A.71 分                      B.72 分                      C.73 分                      D.74 分

②【答案】C。解析：平均分为  $(73+77+74+75+64+74) \div 6 \approx 72.83$  所以选择 C 选项。

问题③：在《线性代数》课程成绩中，众数是（ ）

- A.74                      B.73                      C.75                      D.64

③【答案】A。解析：74 在该数列中出现了 2 次，众数是 74。

问题④：将六名学员《线性代数》课程的成绩进行递增排序，排序的结果为（ ）

- A.64、73、74、74、75、77  
 B.73、77、74、75、64、74  
 C.77、73、74、64、75、74  
 D.77、75、74、74、73、64

④【答案】A。解析：增序排列数据从小到大排列，所以这个正确的为 A 选项。

### 第三节 判断推理

#### 一、逻辑判断

##### (一) 复言命题推理

假言命题推理：“ $A \rightarrow B$ ”成立，则“非 $B \rightarrow$ 非 $A$ ”也成立。

选言命题推理： $A$ 或 $B$ 为真， $A$ （ $B$ ）为假 $\rightarrow B$ （ $A$ ）为真。

联言命题推理： $A$ 且 $B$ 为假， $A$ （ $B$ ）为真 $\rightarrow B$ （ $A$ ）为假。

1. 近期猪肉价格有所回落，但不能因此减少对生猪饲养的关注，要保证猪肉价格的稳定就必须在其价格最低的时候下功夫，只有在这时保护养殖户的积极性，让其不退出生产，才能最终保持猪肉价格稳定。

据此，可以推出：

- A. 只有关注生猪，就能保护养殖户们的生产积极性
- B. 如果养殖户们退出生产，那么就不能保证猪肉价格不上涨
- C. 只要关注生猪饲养，那么就能保证猪肉价格不上涨
- D. 只有在猪肉价格最低的时候，保护养殖户们的生产积极性才最有效

1. 【答案】B。解析：题干“只有在猪肉价格最低的时候保护养殖户的积极性，让其不退出生产，才能最终保持猪肉价格稳定”是一个必要条件假言命题，否定前件则否定后件，B项正确；A、C、D三项无法由题干内容推出。故答案选B。

2. 某教研室要选派一些教师参加一个国际学术研讨会。根据工作安排，必须满足下列几个条件：

- (1) 如果赵老师或者钱老师去，那么孙老师也应该去；
- (2) 负责科研的宗主任必须去；
- (3) 如果钱老师不去，那么李老师去，但是周老师不能去；
- (4) 如果宗主任去，那么周老师也应该去。

由此可见：

- A. 钱老师、孙老师应该去
- B. 钱老师、孙老师都不应该去
- C. 钱老师应该去，孙老师不应该去
- D. 孙老师应该去，钱老师不应该去

2.【答案】A。解析：考查复言命题推理。由（2）宗主任必须去，（4）如果宗主任去，那么周老师也应该去，可推出周老师去。再根据（3）如果钱老师不去，那么李老师说去，但是周老师不能去，可推出钱老师去，再根据（1）如果赵老师或者钱老师说去，那么孙老师也应该去，可推出孙老师也去。本题正确答案是 A。

## （二）排除法解朴素逻辑

**题型特征：**当题干给出条件众多，且条件均非常确定，选项也全面且确定时，可使用排除法快速排除一些选项甚至直接得出答案。

1.李赫，张岚，林宏，何柏，邱辉五位同事，近日他们各自买了一辆不同品牌小轿车，分别为雪铁龙，奥迪，宝马，奔驰，桑塔纳。这五辆车的颜色分别与五人名字最后一个字谐音的颜色不同。已知李赫买的是蓝色的雪铁龙。

以下哪项排列可能以此对应张岚，林宏，何柏，邱辉所买的车？

- A.灰色的奥迪，白色的宝马，黑色的奔驰，红色的桑塔纳
- B.黑色的奥迪，红色的宝马，灰色的奔驰，白色的桑塔纳
- C.红色的奥迪，灰色的宝马，白色的奔驰，黑色的桑塔纳
- D.白色的奥迪，黑色的宝马，红色的奔驰，灰色的桑塔纳

1.【答案】A。解析：题干已知，每人所买车的颜色都与其名字的最后一个字谐音的颜色不同。于是，张岚不能买蓝色、林宏不能买红色、何柏不能买白色、邱辉不能买灰色，再分别将张岚、林宏、何柏、邱辉对应各个选项即可得出答案。D项意味着邱辉买了灰色，排除；C项意味着何柏买了白色，排除；B项意味着林宏买了红色，排除。

2.有三户人家，每家有一孩子，他们的名字是：小梅（女）、小媚（女）、小明（男）；孩子的爸爸是老王、老张和陈；妈妈是刘蓉、李玲和方丽。对于这三家人，已知：（1）老王家和李玲家的孩子都参加了少女舞蹈队；（2）老张的女儿不是小媚；（3）老陈和方丽不是一家人。

根据以上条件，可以确定以下哪项是正确的？

- A.老王、刘蓉和小梅是一家
- B.老张、李玲和小媚是一家
- C.老王、方丽和小媚是一家
- D.老陈、方丽和小明是一家

2.【答案】C。解析：排除法。由（1）可知，老王和李玲不是一家，且两家的孩子都是女的；进而由（2）可知，老张的女儿是小梅，且老张和李玲是一家，排除 A、B 两项；由（3）可排除 D 项。故答案选 C。



### (三) 可能性推理之“已知事实得因果”

题干特点：经过调查研究发现两个事实，然后认为它们之间存在因果关系。

加强方式：排除他因，解释因果。

削弱方式：另有他因，因果倒置。

1. 有一项科学实验，设置两个实验组，第一组实验者摄取大量维生素 C，第二组实验者没有摄取维生素 C。结果发现，摄取大量维生素 C 的人比没有摄取维生素 C 的人对于流感有更强的抵抗力。这一实验表明，维生素 C 会影响人对流感的抵抗力。

以下哪项为真，最能支持上述结论？

- A. 两组被实验者的人数相等
- B. 两组被实验者对流感的抵抗力在实验前是相当的
- C. 第一组被实验者摄取的维生素 C 大大超出日常生活摄取的量
- D. 这项研究是在流感高发季节做出的

1. 【答案】B。解析：题干通过对比实验得出：维生素 C 会影响人对流感的抵抗力。要使实验结论可靠，控制除摄取维生素 C 以外的其他实验条件保持一致是必要的。A、B、D 三项都能支持结论，但相较而言，B 项最能支持题干结论。因为如果两组被实验者对流感的抵抗力在实验前不同，那么实验结论的可靠性会受到很大的质疑，所以 B 项最能支持题干结论。

2. 低密度脂蛋白胆固醇，属于胆固醇的一种。研究发现，冠心病、心肌梗死等心脏疾病患者的体内低密度脂蛋白胆固醇的含量比正常人高。因此，研究人员认为，人体内低密度脂蛋白胆固醇含量升高是导致冠心病、心肌梗死等心脏疾病的原因。

以下哪项如果为真，最能削弱上述论证？

- A. 低密度脂蛋白胆固醇实际是人体在心脏病发作后应激产生用以抵御伤害的物质
- B. 身体虚弱和经常参加体育锻炼的人体内也会含有过高的低密度脂蛋白胆固醇
- C. 所有人体内都含有低密度脂蛋白胆固醇，它是人体新陈代谢所必需的
- D. 人体内低密度脂蛋白胆固醇升高易导致糖尿病

2. 【答案】A。解析：题干认为低密度脂蛋白胆固醇含量升高是心脏疾病的原因。A 项指出是由于心脏疾病引起人体内低密度脂蛋白胆固醇的含量升高，即题干论证是“因果倒置”，最能削弱。故答案选 A。

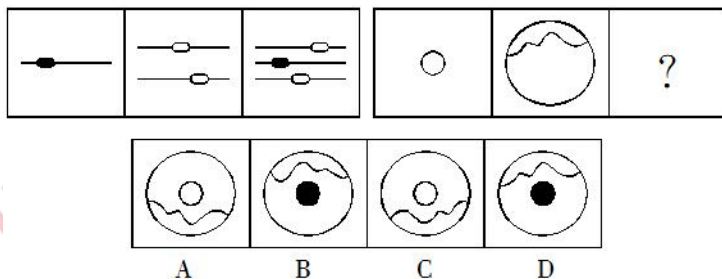
## 二、图形推理

### (一) 组合叠加

图形特点：题干图形间相似度较高。

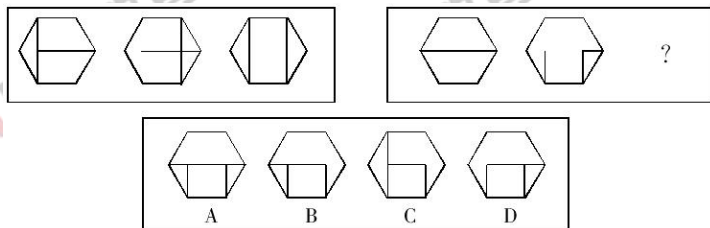
主要考查：直接叠加、去同存异、去异存同。

1. 从所给的四个选项中，选择最合适的一个填入问号处，使之呈现一定的规律性：



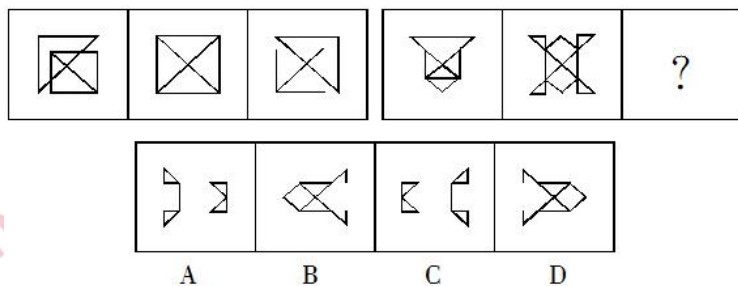
1. 【答案】A。解析：第一组图形中，第二个图形上下翻转后与第一个图形叠加，组成第三个图形。第二组图形也遵循这一规律，答案选择 A 项。

2. 从所给的四个选项中，选择最合适的一个填入问号处，使之呈现一定的规律性：



2. 【答案】B。解析：每组前两个图形叠加，外框不变，内部去同存异，得到第三个图形。

3. 从所给的四个选项中，选择最合适的一个填入问号处，使之呈现一定的规律性：



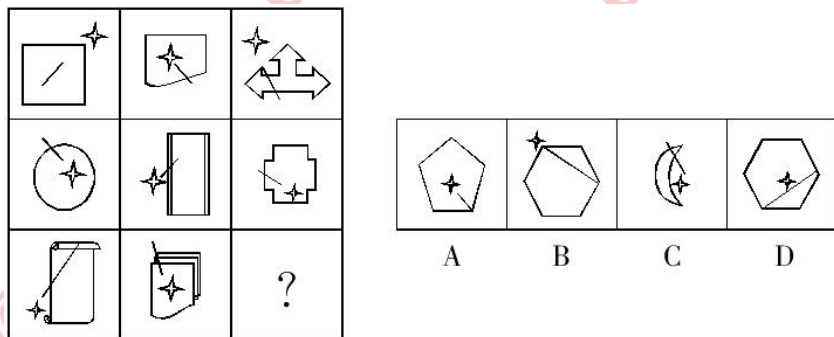
3. 【答案】B。解析：每组前两个图形叠加去异存同，然后顺时针旋转 90 度得到第三个图形。

## (二) 元素分布

图形特点：题干图形相似度较低且元素个数相对固定。

主要考查：图形间上、下、左、右、内、外位置，相交、相接、相离等。

1. 从所给的四个选项中，选择最合适的一个填入问号处，使之呈现一定的规律性：



1. 【答案】C。解析：每一列，从上到下，星星在其他图形的外部 and 内部间隔排列，所以排除 A、D。再看小线段和星星的相对位置，第一行中，星星都位于小线段上方；第二、三行中，星星都位于小线段下方。

2. 把下面的六个图形分为两类，使每一类图形都有各自的共同特征或规律，分类正确的一项是：



A.①③⑥, ②④⑤

B.①②④, ③⑤⑥

C.①③⑤, ②④⑥

D.①⑤⑥, ②③④

2.【答案】B。解析：图形①②④中内部小图形相离，图形③⑤⑥中内部小图形有包含。故选 B。

### 三、类比推理

#### 言语关系

主要考查：近义词、反义词。

1.指鹿为马：颠倒黑白

A.不以为然：不屑一顾

B.目无全牛：鼠目寸光

C.师心自用：固执己见

D.不孚众望：众望所归

1.【答案】C。解析：题干两词为近义词，指鹿为马比喻故意颠倒黑白，混淆是非；C 项两词也为近义词，师心自用形容自以为是，固执己见，不肯接受别人的正确意见。故答案选 C。

2.未雨绸缪：临阵磨枪

A.曲高和寡：阳春白雪

B.忠贞不渝：朝三暮四

C.瑕不掩瑜：差强人意

D.今非昔比：物是人非

2.【答案】B。解析：未雨绸缪和临阵磨枪是反义词；忠贞不渝和朝三暮四是反义词。

### 四、定义判断

#### 核心成分分析法

方法应用：通过寻找题干的成分来确定正确答案。

核心成分：包括主体、客体、目的、方式、条件、原因、结果、性质等。

1.电子政务是指政府机关运用现代信息技术,通过政府网站将大量频繁的行政管理 and 日常事务按设定的程序在网上实施,从而打破时间、空间以及部门分割的制约,全方位地为社会和公民提供高效公开的政府服务。

根据以上定义,下列选项不属于电子政务的是:

- A.上下级政府之间的电子公文流转
- B.企业与企业之间通过网络银行实现转帐支付
- C.企业通过政府税务网完成税务登记和税款缴纳
- D.建立电子交通网站对司机进行管理和服务

1.【答案】B。解析:电子政务的定义主体是政府机关。B项中的企业与企业通过网络银行转账支付,很显然不是政府机关的行为,答案为B。

2.情感营销,就是把消费者的个人情感差异和需求作为企业品牌营销战略的中心,通过借助情感包装、情感促销、情感广告、情感口碑、情感设计等策略来实现企业的目标,它主要是和顾客、消费者之间的感情互动。

根据上述定义,下列属于情感营销的是:

A.某医院的主任医师经常受电视台邀请在电视节目中为广大市民讲解健康养生的方法

B.某楼盘在开盘前,某开发商通过让有意购房者登记、交诚意金、张榜公布销售情况等方式,形成临时性缺货或只剩少数存量现象,造成楼市恐慌

C.某火锅店专注于服务细节,让每个顾客从进门到出门都体会到“五星级”的贴心服务,这种服务方式深深地打动了每个顾客

D.某企业在西部地区通过“对原住民儿童的关怀教育”和“部落孩童助学计划”等公益活动,大大提高了自己的知名度和美誉度,树立了良好的企业形象

2.【答案】C。解析:情感营销的定义要点是:①把消费者的个人情感差异和需求作为企业品牌营销战略的中心;②通过借助情感包装、情感促销、情感广告、情感口碑、情感设计等策略来实现企业的目标;③主要是和顾客、消费者之间的感情互动。A项不涉及营销,B、D两项不符合要点①②③,C项符合定义要点。故答案选C。

## 五、事件排序

### 首尾排序法

题型特征：这类题目描述的事件的起因和结果非常确定，根据这一特点可以快速解题。

1. (1) 试运行 (2) 全线铺通  
 (3) 加速该地区的经济发展 (4) 正式运营  
 (5) 修建高速公路

- A. 2—3—1—5—4 B. 1—3—5—4—2  
 C. 5—2—1—4—3 D. 2—1—5—4—3

1. 【答案】C。解析：由题干可知 5 个事件中，(5) 是事件的逻辑起点，开始修高速公路才会发生其他事件，而 (3) 是这些事件发生之后的结果，所以答案是 C。

2. (1) 实行平均分配 (2) 企业陷入困境  
 (3) 工人积极性提高 (4) 企业得到蓬勃发展  
 (5) 改革分配制度，实行按劳分配

- A. 1—2—4—3—5 B. 1—2—5—3—4  
 C. 5—3—4—1—2 D. 2—1—5—3—4

2. 【答案】B。解析：由题干可知是围绕企业发展发生的 5 个事件，事件 (1) 是缘起，也就是逻辑起点，是所有事件发生的原因。排除 C、D 两项。事件 (4) 是结果，是事件的逻辑终点，正确答案是 B。

## 第四节 言语理解与表达

### 一、选词填空

#### (一) 解释关系

题型特点：上下文呈解释说明关系。

**判定标志：**指代词、同义互换词、归纳总结词、冒号、破折号等。

**具体运用：**理解概括空前、空后句义或段义；寻找呼应点的互解词。

看起来生活好像总是如此不公平。但即便是这样，没有谁因此占了谁的便宜，每一个人都感觉自己是不公平的受难者。也就是说，刻薄的世界\_\_\_\_\_，厚待的人生\_\_\_\_\_。

填入划横线部分最恰当的一项是：

A.屈指可数 指日可待

B.广阔无垠 回头是岸

C.比比皆是 遥遥无期

D.寥寥无几 遥不可及

【答案】C。解析：第一空，由“每一个人都感觉自己是不公平的受难者”可知，此处强调的是“刻薄的世界”之普遍，“屈指可数”“寥寥无几”与文意相悖，排除A、D。第二空，与“刻薄的世界”普遍相对应，“厚待的人生”应是少见，难得。“回头是岸”比喻只要悔改就有出路。与句意不符，排除B。本题选C。

## （二）反对关系

**题型特点：**上下文呈相反或相对的关系。

**判定标志：**转折词、对照词、变化词等。

**具体运用：**找呼应点的反义词或背离词。

非物质文化遗产总是在变化发展中传承的，许多传统剧种的形成也并非\_\_\_\_\_，而是经过数代人在传承过程中，根据社会发展变化和大众审美需求，不断地进行着或大或小的适应性调适、创新、完善乃至重构。

填入划横线部分最恰当的一项是：

A.一蹴而就

B.一脉相承

C.一成不变

D.一帆风顺

【答案】A。解析：根据文段中的“并非……而是……”可知，空缺处所填词语应与后文构成反对关系。分析可知，后文说的是传统剧种形成的复杂性，即形成并非轻而易举。与此对应，“一蹴而就”最恰当。其他三项均与句意不符，排除。故本题答案为A。

## （三）递推关系

**题型特点：**上下文为递进、因果、假设、顺承等关系。





C.平面化 骨感

D.机械化 贫瘠

【答案】D。解析：第一空应填与“日复一日”意思相近的词语，第二空应填与“丰饶”意思相反的词语，综合四个选项，D项最契合句意。

## 二、语句表达

### (一) 语句连贯

#### 语句衔接

**话题一致：**话题一致是保持语言连贯的基本要求。句群内只有话题和陈述的角度一致，中心才会明确，语义才能贯通。

**思路一致：**从总体上看，句群小层次一般呈现出相并（并列、对照）、相承（顺接、层进）、相属（总分关系）的关系。

从局部看，句与句之间往往呈现出并列、承接、解说、对比、递进、转折、因果、总分等逻辑关系。

1.人生就是这样坎坎坷坷，曲曲折折，有直，就会有曲，谁的人生，都不会一帆风顺。痛苦是常有的，遗憾是常见的。有的人，于平凡中含着伤痛；有的人，于痛苦中带着微笑；不同的人，有着不同的情形。生命总是眷恋着坚定，厌倦着沉沦。告诉自己，\_\_\_\_\_。

填入划横线部分最恰当的一项是：

A.生活并不完美，心灵需要修炼

B.人生就是选择，生活就要珍惜

C.快乐是生理的，幸福是精神的

D.命运在于自己，未来在于现场

1.【答案】A。解析：分析可知，空缺处所填句子为文段的总结句。由“谁的人生，都不会一帆风顺。痛苦是常有的，遗憾是常见的”可知，生活并不完美；由“生命总是眷恋着坚定，厌倦着沉沦”可知，不能因为生活的不完美而沉沦，要坚定乐观地走下去。选项中只有A项契合主题。故本题选A。

#### 语句排序

**抓逻辑起点：**以下类型的句子不能做逻辑起点——含指代词的句子；以“然而”、“但是”、“事实上”、“因此”、“所以”、“而且”、“即”等开头的句子；并列句的后句；含有总结性词语的句子；具体分析、描述性的句子。

抓标志性词语：关联词、指代词、重复词、顺序词、总结词。

抓行文脉络：议论文的句序，常常把观点句放在前面，把材料句放在中间，把总结句放在后面，结构形式或总分、或并列、或对照、或递进。说明文同议论文一样，往往把事理句放在前面，把材料句放在后面，因为材料是用来说明事理的，材料的内部又遵循一定的顺序（时间、空间、逻辑）。

①上海海纳百川、兼容并蓄的特征也开始初露端倪

②历史上的上海，处于传统江南文化的边缘地位

③来自各地的商帮，如浙江的宁波帮、绍兴帮，湖南的洞庭商帮，广东潮州帮，福建泉州漳帮等活跃在上海

④从经济地理角度而言，上海距离素称“鱼米之乡”的苏杭尚有相当距离，在以农耕文明为主体的传统社会中自然不占突出位置

⑤在这样的历史条件下，作为政治、经济、文化三重边缘的上海，尚无法在以苏杭为代表的江南主流文化方面有什么建树

⑥虽然在文化上处于边缘地位，但由于优越的地理条件，上海在明清时期已经成为江南重要的商业市镇之一

将以上 6 个句子重新排列，语序正确的是：

A.④②⑤⑥①③

B.①⑤④③②⑥

C.⑥③②④⑤①

D.②④⑤⑥③①

【答案】D。解析：分析可知，③句中的“来自各地的商帮……等活跃在上海”是对⑥句中“上海在明清时期已经成为江南重要的商业市镇之一”的具体说明，因此③应紧跟在⑥之后，排除 A、B 两项。⑥句中的“虽然在文化上处于边缘地位”，对应于⑤句中的“尚无法在以苏杭为代表的江南主流文化方面有什么建树”，因此⑥应紧跟在⑤后，排除 C 项。故本题答案为 D。

## （二）其它题型

1.下列各句中，没有语病的一项是：

A.全国总工会紧急拨款 100 万元，慰问遇难矿工及家属。

B.丰富语言不是一件孤立的事情，它同思想的提高，知识的充实，生活经验的积累，关系非常密切。

C.近年来，我国专利申请持续增长，表明社会公众专利意识在不断提高。

D.看看这些胡同的照片，不禁使人产生怀旧情绪，甚至有些伤感。

1.【答案】B。解析：A项，“慰问遇难矿工”不合事理，可将“及家属”改为“的家属”；C项“专利意识”与“提高”不搭配，可将“提高”改为“增强”；D项“看看这些胡同的照片”的主语是人，而“不禁使人产生怀旧情绪”的主语是照片，偷换了主语，可将“不禁使人产生”改为“人们不禁产生”。故本题答案选B。

2.下列句子中，标点符号使用正确的一句是：

A.身体温暖，微循环才会正常，所以清早起来第一口食物最好选择温热的，例如热粥、热牛奶和热豆浆……等，可以配着吃蔬菜、面包、水果。

B.新浪中国好书榜是由新浪网友大众评书团与专家评委共同参与选出的，张爱玲的遗作“小团圆”得到了一致好评，获得了第一名。

C.备受诟病的“免检牌”被摘除后，“国家免检”食品企业不仅失去了“光环”，而且要支付高昂的日常抽检费用。

D.近几年的名人故里之争，真是令人眼花缭乱。正如一网友所言，“伏羲东奔西走，黄帝到处安家，女娲遍地开花，诸葛四处显灵。”

2.【答案】C。解析：A项，省略号和“等”不能同时使用，可删除省略号。B项，“小团圆”为图书作品，应该用书名号，而不是双引号。D项，最后的句号应置于引号以外。故本题选C。

3.下列词语中，没有错别字的一组是：

A.寒暄 谙熟 阔绰 羁绊 B.幡然 蜚声 辗碎 刻画

C.演绎 塘塞 萎靡 托付 D.遒劲 磋商 诚恳 慈祥

3.【答案】D。解析：A项“羁绊”为“羈絆”，B项“辗碎”为“碾碎”，C项“塘塞”为“搪塞”。

4.下列各句中，所引诗词最符合语境的一项是：

A.“明月别枝惊鹊，清风半夜鸣蝉。”夏夜的西湖边，热闹的不仅是那些可爱的小生灵，更有璀璨的华灯和络绎的游人。

B.“疏影横斜水清浅，暗香浮动月黄昏。”到现在我才知道，原来桂花的风骨，在于它的孤傲；桂花的品格，在于它的清幽。

C.“女娲炼石补天处，石破天惊逗秋雨。”高亢的乐声响彻苍穹，回荡在黄沙漫漫的高原上，也打动了他那颗布满伤痕的心。

D.“云中谁寄锦书来？雁字回时，月满西楼。”在异乡忙于追梦的游子，又怎能体会到母亲在故乡牵挂和守望呢？

4.【答案】C。解析：“明月别枝惊鹊，清风半夜鸣蝉”意思是：明月渐渐升起，像是渐渐离开自己曾经悬挂的枝头，这小小的动作惊起了树上的鹊儿，半夜清风习习，仍可听得到蝉儿的鸣叫。诗句描写的是一个非常安静的月夜，A 项引用来形容“热闹”的情景不合适，排除。

“疏影横斜水清浅，暗香浮动月黄昏。”出自林逋的《山园小梅》，描写的是梅花，B 项用来形容桂花，不符合，排除；

“女娲炼石补天处，石破天惊逗秋雨。”意思是：乐声传到天上，正在补天的女娲听得入了迷，竟然忘记了自己的职守，结果石破天惊，秋雨倾泻。形容乐声高亢激越，有惊天动地之势。C 项用来形容“高亢的乐声响彻苍穹”符合语境。

“云中谁寄锦书来？雁字回时，月满西楼。”写的是女词人翘首盼望空中归来的大雁能带来自己夫君的消息。D 项用来形容母亲对游子的思念，不合语境，排除。故答案选 C。

### 三、片段阅读

#### (一) 主旨观点题之主题词筛选法

含义：依照文段主题词对选项进行筛选。

应用方法：寻找材料中出现的高频词语；寻找关键句中的主要成分。

无论从事何种产业，只要专注于一种产品、一个细分的市场、一个特定的领域，都有可能成就一番大事业。在一个巨大的市场中，哪怕开发一种极其个性化的产品，也不怕没有足够的客户。著名经济学家保罗·克鲁格曼说过，巨大的市场会使产品多样化，多样化更接近个性化，从而就更具有市场价值，这种价值不仅可以带来更多财富，而且可以给国际竞争力带来优势。

这段文字意在表明：

- A.对规模经济应予以更多关注
- B.个性化产品具有较强竞争优势
- C.多元化是未来经济发展的趋势
- D.产品的开发应以市场需求为导向

【答案】B。解析：“个性化”在文中多次出现，为高频词语，是文段论述的重点。分析选项，只有 B 项表述与此相关，故本题答案为 B。

## (二) 主旨观点题之行文脉络分析法

含义：作者写作时谋篇布局的思路。

方法：1.分析句意和句间关系；2.归类每句；3.分析每类句子作用。

常考结构：转折、总分、分总、并列等。

1.全球变暖是老天爷对人类开出的罚单，便宜且容易利用的矿石燃料，是推动近现代经济增长的重要源泉之一，但科学证明这可能带来灾难性的气候变化。目前不得不面对的现实是，人类必须为自己的排放埋单。如果世界上只有一个国家，此事就相对简单，不管成本多大，最终都由这个国家承担。但问题是，世界上有许多国家，国情历史大不相同，这张巨额罚单究竟在各国间如何分配，就成了关于全球变暖问题谈判最核心的问题。所有的国家，他们做出的所有的减排承诺，最后都会有一张价格标签，承诺越多，价码越高。

这段文字意在说明：

- A.减排成本份额应按各国的排放量合理分配
- B.沉重的减排成本有可能拖累全球经济增长
- C.遏制全球变暖需要支付巨额经济成本
- D.利益是应对全球变暖问题的最大症结

1.【答案】D。解析：文段强调的是“但问题是”后的内容，即如何分配巨额经济成本是全球变暖问题谈判最核心的问题，即最终的核心问题还是利益。只有D项符合此意，当选。B、C两项是文段部分内容，不是重点。文段并未具体讨论如何分配减排份额，排除A项。本题答案为D。

2.人们对说话者意思的判断，55%来自对说话者举止的识别，即说话者看起来想要表达一层什么意思，也就是视觉判断。一些人是天生的交际家，十分活跃，善于建立良好的人际关系。例如，有些人说话时会配合手势，但其他人只会用嘴。如果你的说服对象坐着，你也应坐下；如果他们交叉双腿而你抱着胳膊，你就是在传递一个接近他们的信号。

这段话的主要意思是：

- A.说话是一门艺术
- B.说话的方式非常重要
- C.成功的说话取决于态度
- D.正确地选择说话的对象

2.【答案】B。解析：文段首句提出观点：人们对说话者意思的判断主要来自说话者举止的识别，也就是视觉判断。后文具体论述恰当的举止对交际的作用。“配合手势”

“坐下”“抱着胳膊”等讲的都是举止问题，对此概括最恰当的是 B 项的“说话的方式”。A 项表述过于笼统，C、D 两项均非文段重点。故本题选 B。

3. 政府采购作为公共财政管理的一项重要制度安排，本义是规范政府购买行为、节约财政资金、从源头上防止腐败。采购部门不从价格上把关，便违背了制度的初衷。中国社科院公布的一份调研显示，一些地方政府在采购办公用品过程中，有近八成的商品高于市场价格。这反映了两个方面的问题，一方面是采购需求的不合理，只求贵的不求对的；另一方面则是政府采购招标环节中存在猫腻。政府采购谁来监督一直是采购制度的软肋所在，采购招标在没有阳光的空间操作，反而导致了“逆市场竞争”的乱象。

这段文字意在强调：

- A. 政府采购制度的初衷是防止腐败
- B. 政府采购需要在相关监督下进行
- C. 采购需求的不合理导致政务腐败
- D. 政府采购中存在大量的违规行为

3. 【答案】B。解析：文段先指出政府采购的本义是规范政府购买行为，防止腐败；接着指出，采购部门不从价格上把关，违背了制度的初衷，主要表现在采购需求不合理、招标环节存在猫腻两个方面；最后指出，谁来监督一直是政府采购制度的软肋所在，采购招标没有监督导致了“逆市场竞争”的乱象。故文段意在说明政府的采购行为需要监督。B 项正确，当选。

4. 由于现今大学对自身职能以及职能履行的认识存在一定偏差，大学内部制度中缺乏教学的价值体现，教师在教学方面的努力、贡献难以得到应有的承认，这样就桎梏了教师的教学热情，直接影响教学质量与大学的社会公信力。另外，大学及教师群体对“学术”内涵的窄化理解使得教学与科研相对立，未将教学上升到学术的层面加以理解。在大学中广泛存在着对专业科研的学术认同，而作为知识传播的教学则难以进入学术之列。

这段文字主要强调的是：

- A. 大学应提高对自身职能的认识
- B. 大学教学质量有待进一步提高
- C. 大学必须提高对教学价值的认识
- D. 大学内部应对教学与科研一视同仁

4. 【答案】C。解析：文段首先讲大学内部制度中缺乏教学的价值体现，桎梏了教师的教学热情，影响了教学质量；接着指出大学中未将教学上升到学术层面来理解，对教学的认识不准确。综合起来，即大学对教学价值的认识有待提高。C 项准确地概括了文段的主旨。A、B 项未提及“教学”的价值，D 项“一视同仁”的表述不准确。故本题选 C。